

# التصحيح النموذجي

فرض محروس في مادة التكنولوجيا فرع : الهندسة الميكانيكية

الاسم و اللقب : ..... القسم : .....

السؤال الأول :

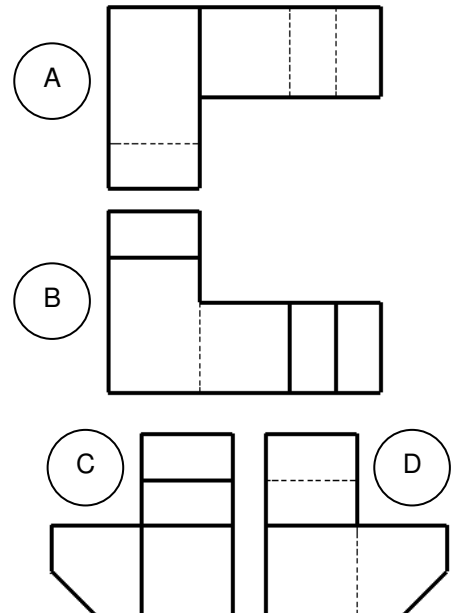
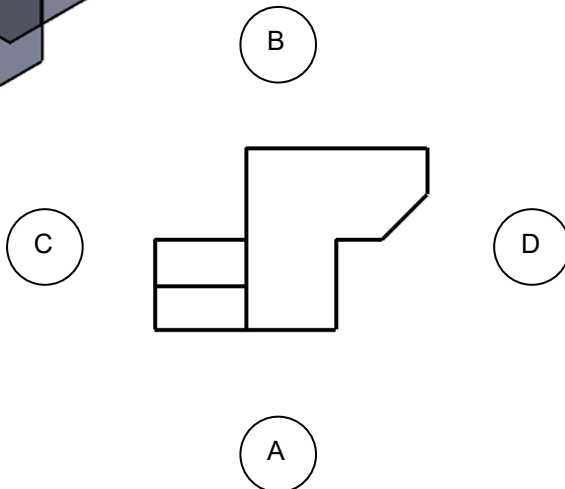
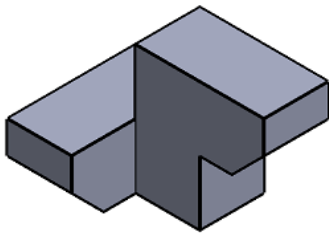
اجب بوضع علامة (x) في المكان المناسب :

- | خاطئ                                | صحيح                                |   |
|-------------------------------------|-------------------------------------|---|
| <input type="checkbox"/>            | <input checked="" type="checkbox"/> | ● يبدأ المسعى التكنولوجي بالتعبير عن الاحتياج و ينتهي بتلبية الاحتياج |
| <input checked="" type="checkbox"/> | <input type="checkbox"/>            | ● نقوم بتمثيل المسقط العلوي فوق المسقط الأمامي حسب الطريقة الأوروبية  |
| <input checked="" type="checkbox"/> | <input type="checkbox"/>            | ● تصنف المؤسسات حسب النوع الى مؤسسات كبيرة و صغيرة و ذات أسهم         |
| <input checked="" type="checkbox"/> | <input type="checkbox"/>            | ● تتم دراسة و انجاز و مراقبة المنتج في المصلحة التجارية               |
| <input checked="" type="checkbox"/> | <input type="checkbox"/>            | ● الرسم التقني وسيلة اتصال جميع العاملين في مجال التجارة العالمية     |

السؤال الثاني : أتمم الجدول التالي

| المقياس | نوع المقياس | البعد الحقيقي | البعد المرسوم |
|---------|-------------|---------------|---------------|
| 1:5     | تصغيري      | 10            | 50            |
| 1:10    | تصغيري      | 500           | 50            |
| 2:1     | تكبير       | 100           | 200           |

السؤال الثالث : ضع الحرف المناسب في المكان المناسب لتحصل على توزيع المساقط الصحيح



السؤال الرابع : اعتمادا على منظور القطع اتمم رسم المساقط

