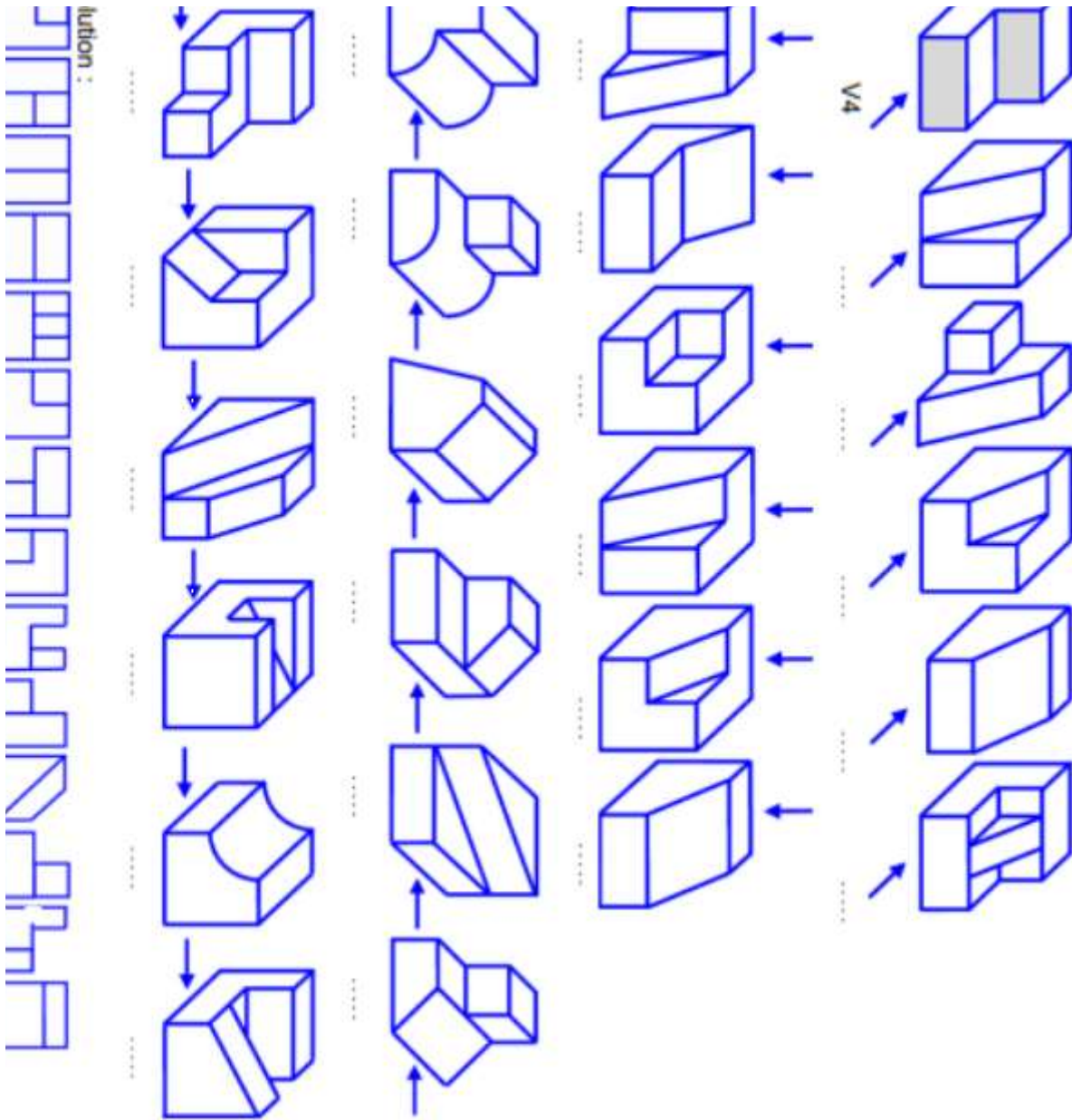


7- ماهي أنواع الخطوط المستعملة في الرسم ؟ استعمل الجدول التالي .

| الرقم | التسمية | التمثيل | الاستعمال |
|-------|---------|---------|-----------|
| 01 | | | |
| 02 | | | |
| 03 | | | |
| 04 | | | |

8 - اليك الأشكال التالية حيث أن المشاهد (الملاحظ) يقف حسب اتجاه السهم. 8

و المساقط V_1 V_2 V_3 V_{14} . هي الأوجه التي تم مشاهدتها . اختر لكل شكل المسقط المناسب .

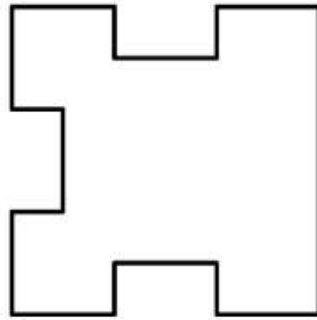
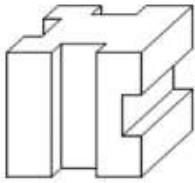
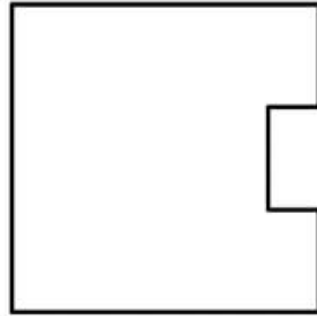



ج- أتم المساقط الناقصة .

- أكتب أسماء المساقط .


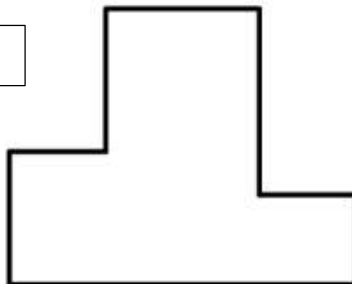
.....

.....



.....
.....

.....



.....
.....

