

1- ماهي مختلف الرسومات التي تنجز هذا الجهاز ؟ .

..... -

..... -

..... -

..... -

..... -

2- الى ماذا تشير الحروف A ; B ; C ; D . E مع شرح مختصر

..... : A

..... : B

..... : C

..... : D

..... : E

3- ما هو عدد القطع لهذا الجهاز ؟

..... -

4- ما اسم الرسم الممثل في الشكل -01- .

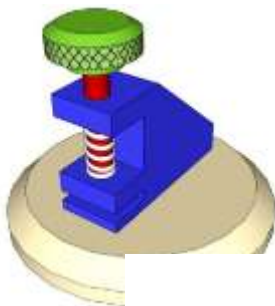
5- ما اسم الرسم الممثل في الشكل -02- .....

- عرفه :

6. عرف مؤسسة . ثم أتمم الجدول .

الشكل -01-

الشكل -02-



الشكل -02-

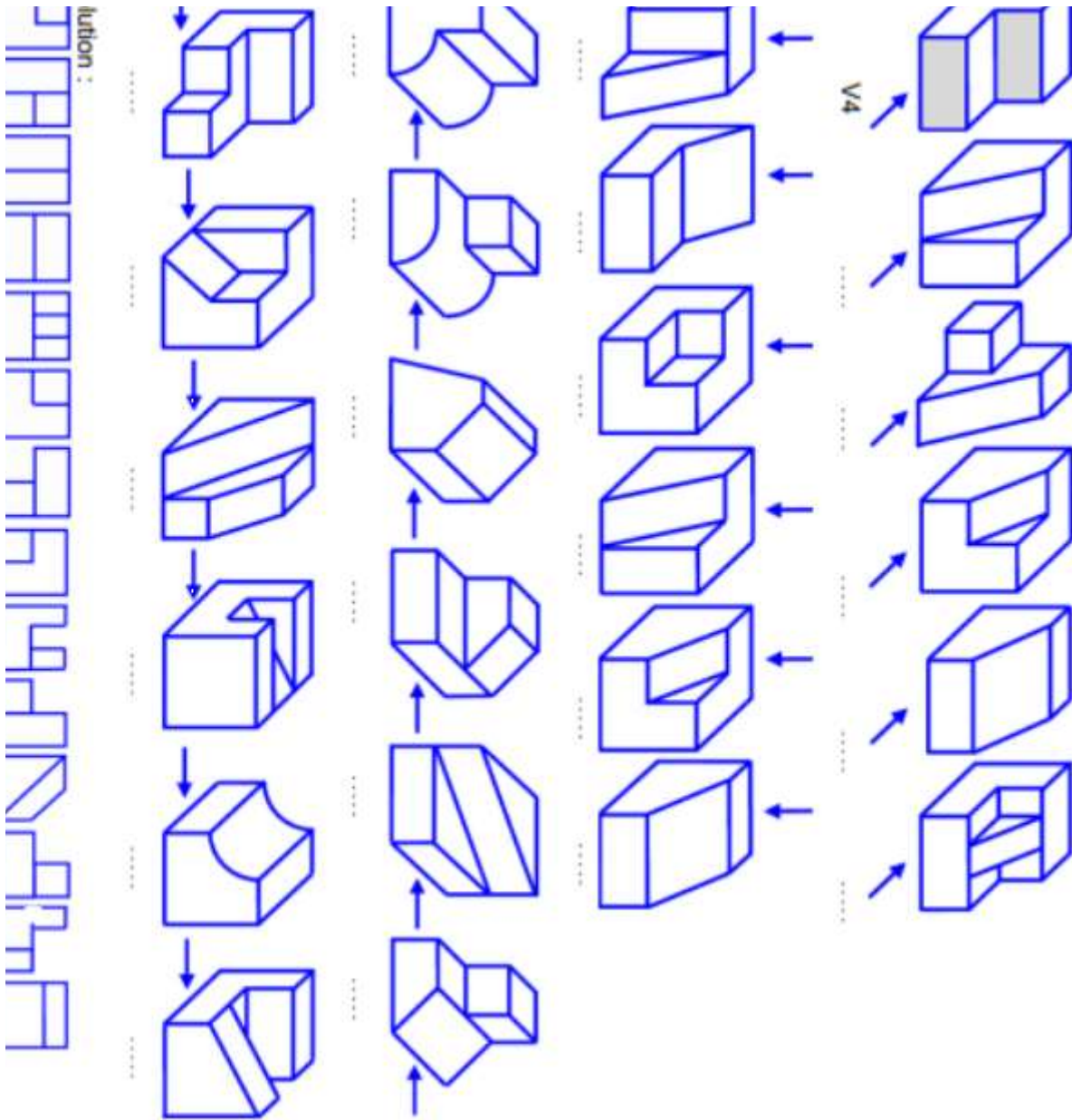
أمثلة	أصناف المؤسسة

7- ماهي أنواع الخطوط المستعملة في الرسم ؟ استعمل الجدول التالي .

الرقم	التسمية	التمثيل	الاستعمال
01			
02			
03			
04			

8 - اليك الأشكال التالية حيث أن المشاهد (الملاحظ) يقف حسب اتجاه السهم. 8

و المساقط  $V_1$   $V_2$   $V_3$  .....  $V_{14}$  . هي الأوجه التي تم مشاهدتها . اختر لكل شكل المسقط المناسب .

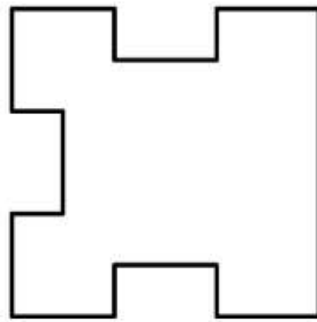
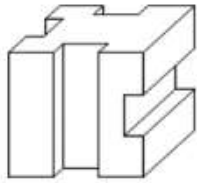
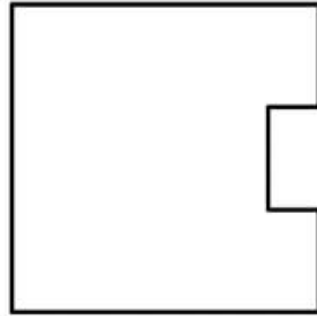



ج- أتم المساقط الناقصة .

- أكتب أسماء المساقط .

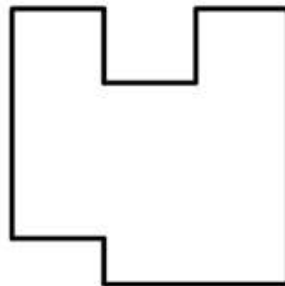
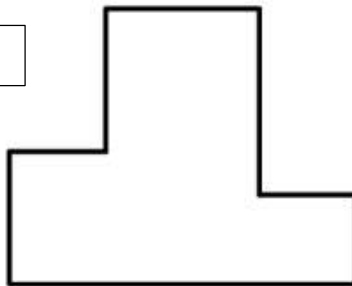
.....

.....



.....  
.....

.....



.....  
.....

