

الجمهورية الجزائرية الديمقراطية الشعبية
وزارة التربية الوطنية

مديرية التربية لولاية تبسة
ثانوية حردي محمد
المدة ساعة

السنة الدراسية 2020-2019
المستوى 1ع تك 1 و 2 و 3 و 4 و 5
تاريخ الاختبار 2020/02/26
اساتذة المادة: ل م - ع ن

الاسم واللقب :
القسم :

اختبار الفصل الثاني في مادة التكنولوجيا - اقتصاد -

الجزء الأول (06 ن)

1. ضع علامة X في الخانة المناسبة

حسب معيار النشاط			حسب المعيار القانوني		
خدمية	تجارية	انتاجية	مختلطة	خاصة	عامة
		X	X		
X					X
	X			X	
		X			X
X					X
X					X

الجزء الثاني: (06 ن)

أ- قامت مؤسسة النجاح الانتاجية المتخصصة في إنتاج مآزر الاطفال بعمليات التالية خلال شهر جانفي 2020

1. اشترت ماقيمته 60000 دج مواد اولية من المورد علي
 2. باعت 6000 علبة ب 25 دج للعلبة لزبون مؤسسة الأمل التجارية
 3. دفعت 35000 دج لمؤسسة الصيانة من اجل اصلاح عطب الة انتاجية
- ب- مؤسسة النجاح تتكون من المديرية العامة و من المصالح التالية:

- مصلحة التمويل، مصلحة الشراء، مصلحة الإنتاج، مصلحة التوزيع
- و أن مصلحة الإنتاج تتكون من ورشتين هما ورشة التفصيل و ورشة الخياطة
- أما مصلحة التوزيع فتضم مصلحتين هما مصلحة البيع و مصلحة ما بعد البيع

العمل المطلوب

1. حدد مفهوم ماتحته خط
2. ضع مخطط لكل عملية توضح فيه نوع التدفقات التي تمت بين مؤسسة النجاح ومتعاملها
3. انجز الهيكل الوظيفي لمؤسسة النجاح

قامت " مؤسسة النجاح" بعملية جرد ممتلكات احد موظفيها قبل تعيينه مديرا لمؤسستها بتاريخ 2019/05/01 فوجدت ما يلي:

- ✍ منزل قيمتهدج.
- ✍ سيارة قيمتها 65000دج.
- ✍ مبلغ في صندوق التوفير و الاحتياط 15000دج.
- ✍ دين عليه تسديده لأحد التجار الذي باع له أدوات كهربائية بمبلغ 50000دج.
- ✍ أثاث المنزل قيمته 160000دج.
- ✍ حاسوب اشتراه بالتقسيط بمبلغ 60000دج ,دفع ثلث المبلغ
- ✍ قرض من احد البنوك لتمويل عملية بناء مسكن فردي بلغ القرض 20000دج.
- ✍ الأرض قيمتها 4000000دج.
- ✍ قدرت الكتب التي توجد في مكتبته الشخصية بمبلغ 70000دج.

المطلوب

- (1) بعد تحديد مفهوم الذمة المالية قم بتحدد عناصرها في جدول ،
- (2) إذا علمت أن صافي الذمة المالية لهذا المدير هو 5460000دج فما هي قيمة المنزل ؟

التصحيح النموذجي اختبار الفصل الثاني في مادة التكنولوجيا - اقتصاد -

الجزء الأول (06 ن)

2. ضع علامة X في الخانة المناسبة

حسب معيار النشاط			حسب المعيار القانوني			
خدمية	تجارية	انتاجية	مختلطة	خاصة	عامة	
		X	X			مؤسسة سوناطراك
X					X	مؤسسة السريع الوطنية للنقل البري
	X			X		مركز تسوق ابو اياد
		X			X	مؤسسة الاسمنت بتبسة
X					X	الخطوط الجوية الجزائرية
X					X	بنك التنمية المحلية

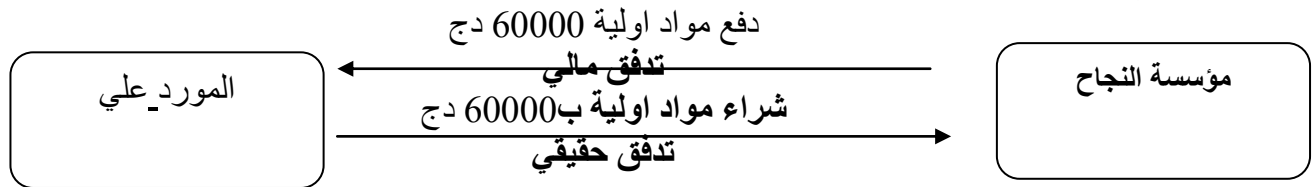
الجزء الثاني: (06 ن)

1- تحديد مفهوم ما تحته خط

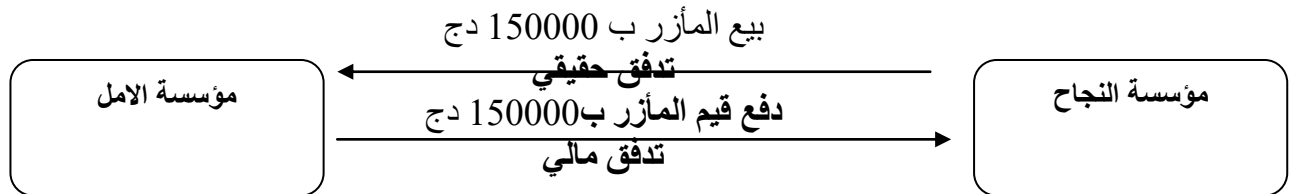
الموردون: هم الأشخاص الذين تشتري منهم المؤسسة مختلف احتياجاتها من سلع أو خدمات.
الزبائن: هم الأشخاص الذين تتبع لهم المؤسسة منتجاتها أو السلع أو تقدم لهم خدماتها.

2- مخطط التدفقات للعمليات الاقتصادية

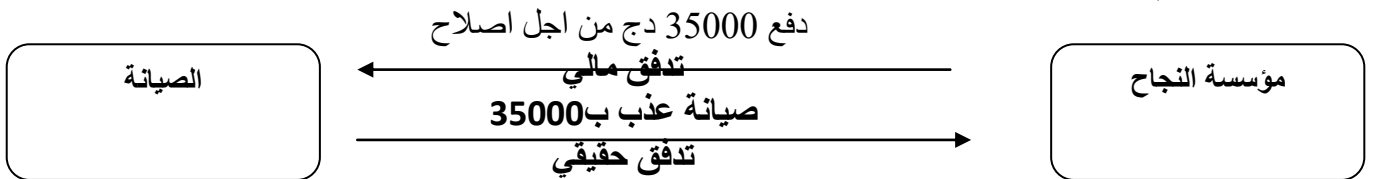
العملية رقم 1



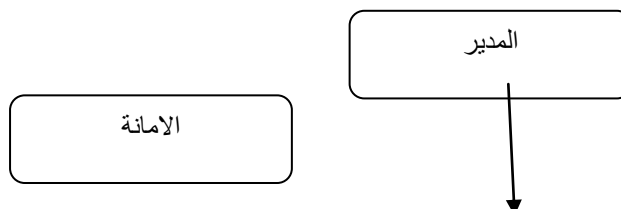
العملية رقم 2

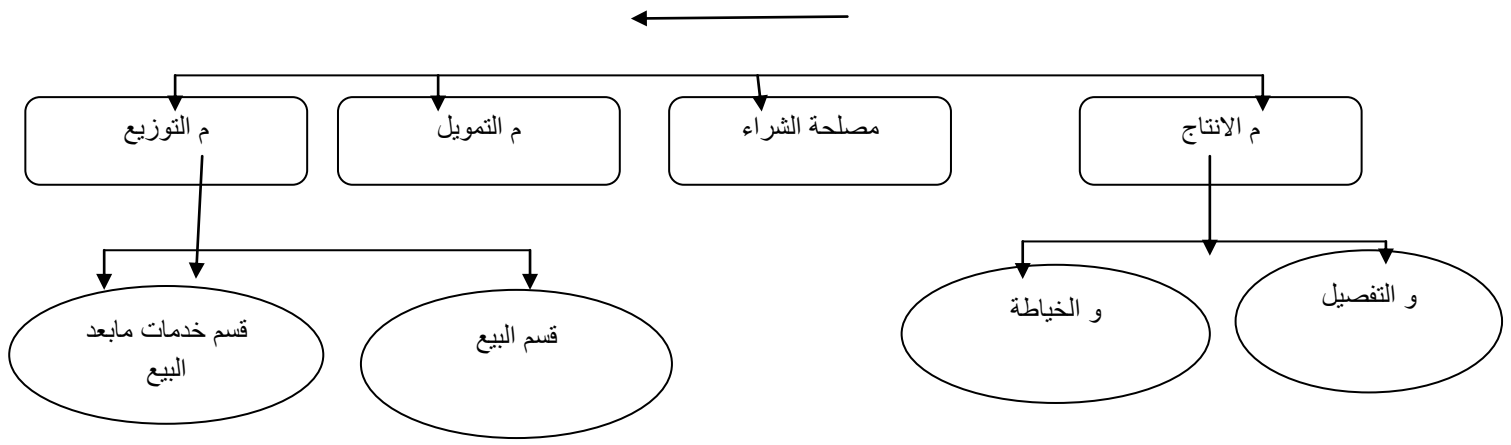


العملية رقم 3



3- الهيكل الوظيفي لمؤسسة النجاح





الجزء الثالث (08 ن)

1- تعريف الذمة المالية:

هي مجموع ما يمتلكه الشخص وما عليه من ديون. ممتلكات الشخص هي العناصر الايجابية وديونه هي العناصر السلبية.

2- حساب قيمة المنزل

المبالغ	الديون	المبالغ	الممتلكات
50000	- دين عليه تسديده؟	- منزل
40000	- دين متبقي من	- سيارة
20000	الحاسوب	65000	- مبلغ في الصندوق
	- قرض من احد البنوك	15000	- حاسوب
		60000	- أراضي
		4000000	- الكتب
		70000	- أثاث منزل
		160000	
110000	المجموع	5505000 ج + x	المجموع

حساب قيمة المنزل: نرسم لمبلغ السيارة ب x

صافي الذمة المالية = مجموع الممتلكات - مجموع الديون

$$110000 - (x + 4370000) = 5460000$$

$$4260000 + x = 5460000$$

$$X = 1200000 \text{ دج}$$