

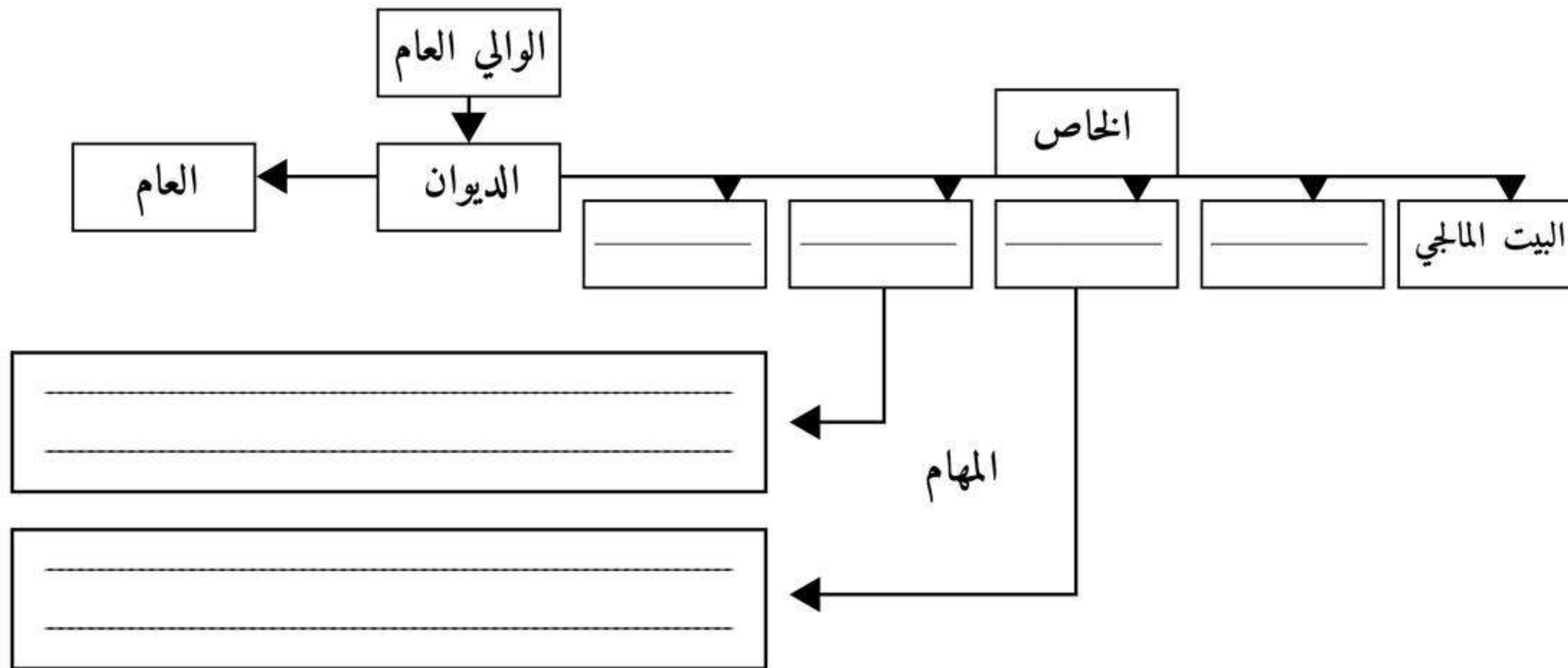


التاريخ: الجزء الأول 1- اشرح المصطلحات التالية: 2 ن

معاهدة سايكس بيكو :

الرجل المريض :

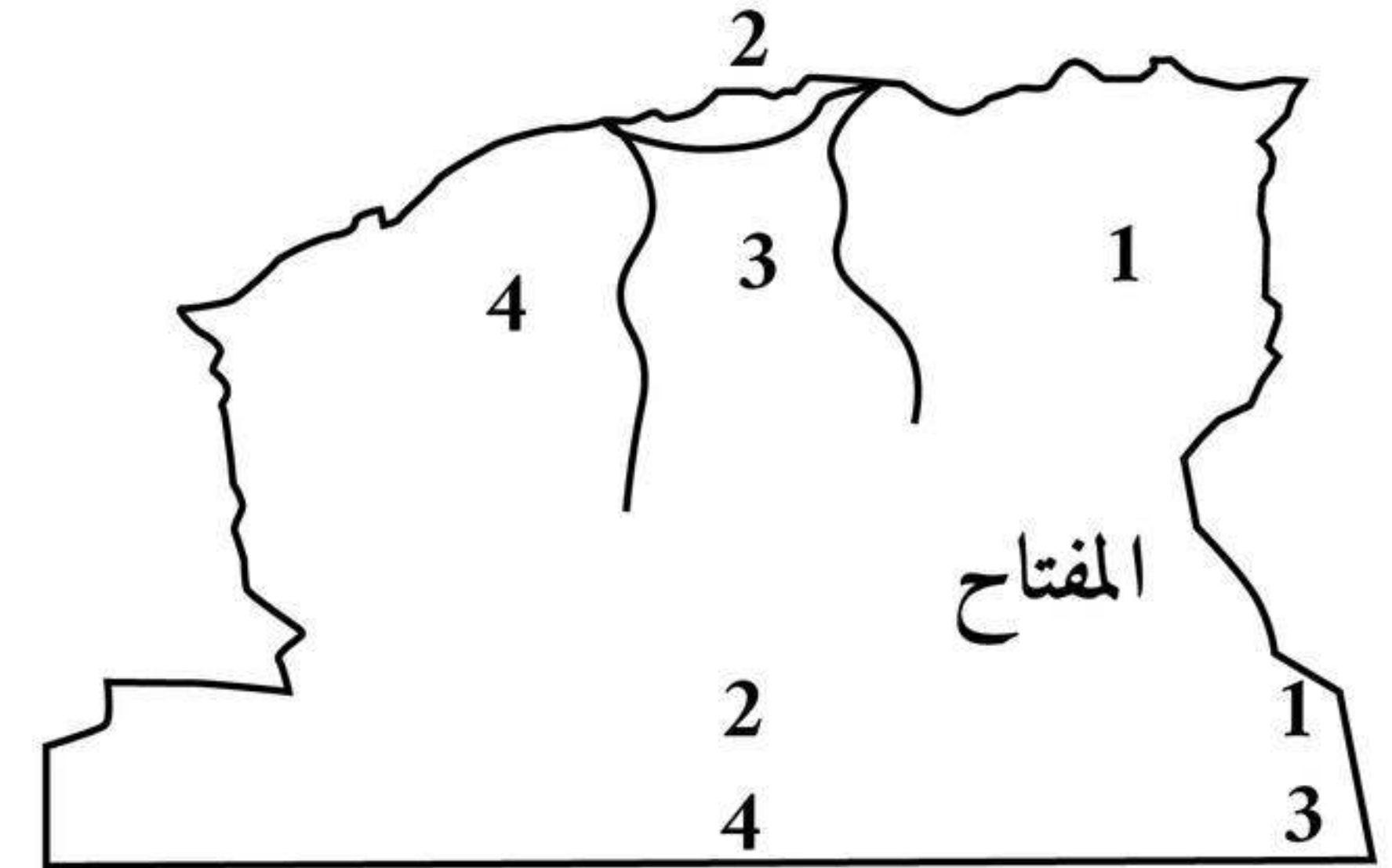
3- أكمل الفراغات في المخطط الذي يمثل جهاز الحكم في الجزائر خلال العهد العثماني مبيئنا اسم منصب الحكم و مهامه حسب المخطط ؟ 2 ن



2- أكمل الفراغات في الجدول التالي مبيئنا الحدث و تاريخه ؟ 2 ن

التاريخ	الحدث
1236 م	
	استنجد أعيان جيجل و حاكم الجزائر بالإخوة بربروس

4- أكمل مفتاح خريطة التنظيم الإداري للجزائر في العهد العثماني ؟ 2 ن



3- ما هي العلاقة التي تربط بين المخطط في السؤال 3 و الخريطة في السؤال 4 ؟ 2 ن

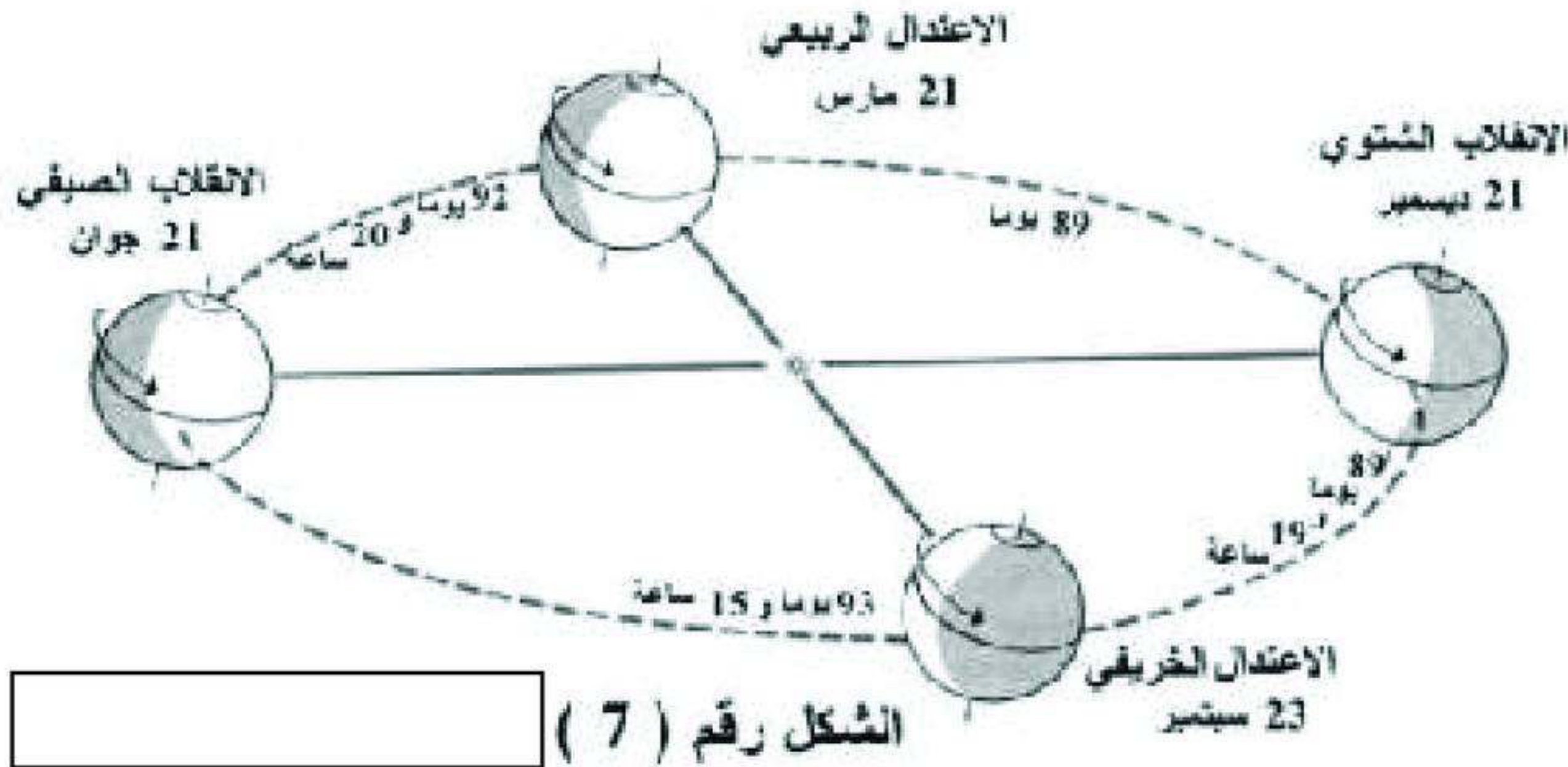


الجغرافيا : - اشرح المصطلحات التالية: 2 ن

البيئة الباردة :

الحركة الانتقالية للارض :

2 - ما هو العنوان المناسب للشكل رقم 7 المقابل وماهي النتائج المترتبة عنه ؟ 4 ن (اذكر 4 نتائج)



3 - علق على المدرج التكراري التالي ؟ 4 ن

