

الاختبار الأول في مادة العلوم الفيزيائية

التمرين الأول:

جسم صلب (S) كتلته $m=0.1\text{kg}$ ينزلق على الطريق ABC الشكل المقابل حيث:

AB: مستوي مائل أملس، A نقطة تقع على ارتفاع h من المستوي الأفقي الذي يشمل النقطة B.

BC: طريق أفقي طوله 2.2m .

الجزء الأول:

نترك الجسم (S) ينحدر بدون سرعة ابتدائية من النقطة A ليصل B بسرعة $v_B=10\text{m/s}$.

1. مثل الحصيلة الطاقوية للجملة (جسم) بين الموضعين A و B.

2. اكتب معادلة انحفاظ الطاقة للجملة بين الموضعين السابقين.

3. اوجد الارتفاع h .

4. احص ومثل القوى المطبقة على الجسم (S) خلال المسار AB.

5. ما طبيعة حركة الجسم (S)؟ علل.

الجزء الثاني:

بعد قطعه للمسافة AB يواصل الجسم حركته على المسار BC في وجود قوة احتكاك ثابتة.

1. مثل القوى المؤثرة على الجسم (S) خلال هذا المسار.

2. إذا علمت أن الجسم (S) يصل إلى النقطة C بسرعة معدومة.

1.2 احسب شدة قوة الاحتكاك \vec{f}

2.2 احسب عمل الثقل.

الجزء الثالث:

يسقط الجسم (S) من النقطة C شاقولياً بدون سرعة ابتدائية فيلتحم بالناض ثابت مرونته $K=500\text{N/m}$ فيضغطه.

باعتبار الجملة (الجسم (S)+ناض).

1. اكتب معادلة انحفاظ الطاقة بين الموضعين C و D'.

2. احسب السرعة التي يصطدم بها الجسم (S) بالناض.

3. ما هو أقصى انضغاط يعانیه الناض بإهمال عمل الثقل؟

يعطى $g=10\text{N/Kg}$

التمرين الثاني:

I. يمثل الشكل المقابل خزانين، الخزان (1) حجمه $V_1=20\text{ l}$ و الخزان (2) حجمه $V_2=5\text{ l}$

موصولان بأنبوب مُرَوِّد بصمام. الخزانان موجودان في نفس درجة الحرارة $t = 30^\circ\text{C}$.

نضع في الخزان (1) غاز تحت ضغط $P_1 = 2 \cdot 10^5\text{ Pa}$ و نضع في الخزان (2)

كمية من غاز آخر قدرها $n_2 = 0,8\text{ mol}$. نعتبر الغازان مثاليين.

1. ما هي كمية مادة الغاز الأول؟

2. ما هي قيمة الضغط P_2 في الخزان (2)؟

3. نفتح الصمام بين الخزانين فيمتزج الغازين و نترك الجملة تتوازن عند نفس درجة الحرارة السابقة. احسب الضغط الجديد للغازين الممزوجين.

II. نرفع في درجة حرارة الغرفة الموجود فيها الخزانين إلى غاية الدرجة 50°C .

1. هل تتغير قيمة الضغط؟

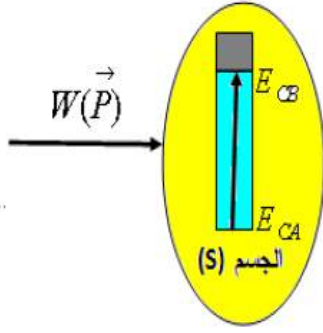
2. إذا كانت الإجابة نعم قم بحساب الضغط الجديد؟

يُعطى $R=8,31\text{ J}/(\text{K}\cdot\text{mol})$

يجب أن تثق بنفسك.. وإذا لم تثق بنفسك فمن ذا الذي سيثق بك.

حل التمرين الأول:

الجزء الأول :



1/ تمثيل الحصيلة الطاقوية للجملة المختارة بين الموضعين A و B. أنظر النموذج....

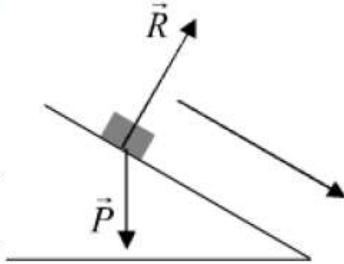
2/ كتابة معادلة إنحفاظ الطاقة للجملة بين الموضعين السابقين:

$$E_{CA} + W(\vec{P}) = E_{CB} \rightarrow W(\vec{P}) = E_{CB} \quad (v_A = 0 \rightarrow E_{CA} = 0)$$

3/ إيجاد الارتفاع h :

$$W(\vec{P}) = E_{CB} \rightarrow mgh = \frac{1}{2}mv_B^2 \rightarrow \boxed{h = 5m}$$

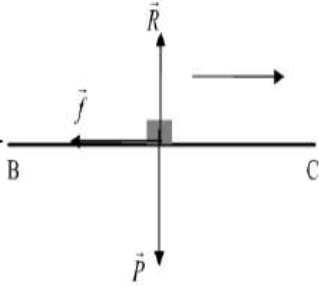
4/ إحصاء القوى وتمثيلها :



تمثيل أنظر الشكل المقابل : \vec{P} : قوة ثقل الجسم \vec{R} : فعل المستوي على الجسم.....

5/ طبيعة الحركة : المسار مستقيم و الطاقة الحركية في تزايد هذا يكافئ أن الحركة مستقيمة متغيرة

الجزء الثاني :



1/ تمثيل القوى خلال هذا المسار: أنظر الشكل المقابل :

2-1/ حساب شدة قوة الاحتكاك : الجملة الجسم الصلب (S) :

حسب معادلة إنحفاظ الطاقة بين الموضعين B و C فإن :

$$E_{CB} + W(\vec{f}) = E_{CC} \rightarrow f \cdot BC \cdot \cos(180^\circ) = \frac{1}{2}mv_C^2 - \frac{1}{2}mv_B^2 \rightarrow \boxed{f = \frac{\frac{1}{2}mv_C^2 - \frac{1}{2}mv_B^2}{-BC} \approx 0.23N}$$

2-2/ حساب عمل قوة النقل :

$$W(\vec{P}) = P \cdot BC \cdot \cos(90^\circ) = 0$$

الجزء الثالث :

1/ كتابة معادلة إنحفاظ الطاقة بين الموضعين C و D' :

باعتبار الجملة الجسم :

$$E_{CC} + W(\vec{P}) = E_{CD'} \rightarrow W(\vec{P}) = E_{CD'} \quad (v_C = 0 \rightarrow E_{CC} = 0)$$

2/ سرعة اصطدام الجسم بالنايظ عند الموضع D' :

$$ph = \frac{1}{2}mv_D'^2 \rightarrow v_D'^2 = \frac{2mgh}{m} \rightarrow \boxed{v_D' = 4.47m/s}$$

3/ أقصى انضغاط يعانیه النايظ: (الجسم (S) + نايظ):

حسب معادلة إنحفاظ الطاقة بين الموضعين D و D' يكون :

$$E_{CD'} = E_{peD} \rightarrow x = \sqrt{\frac{mv_D'^2}{K}} \rightarrow \boxed{x = 0.06m}$$

حل التمرين الثاني:

١٠. سري
كمية مادة الغاز الأول .

$$n_1 = \frac{P_1 V_1}{RT} = \frac{2 \times 10^5 \times 20 \times 10^{-3}}{8,31 \times 303} = 1,58 \text{ mol} \text{ ومنه } P_1 V_1 = n_1 RT$$

(2) قيمة الضغط P_2 في الخزان (2) .

$$P_2 = \frac{n_2 RT}{V_2} = \frac{0,8 \times 8,31 \times 303}{5 \times 10^{-3}} = 4,02 \times 10^5 \text{ Pa} \text{ ومنه } P_2 V_2 = n_2 RT$$

(3) الضغط الجديد للغازين الممزوجين .

$$\text{وبالتالي } P(V_1 + V_2) = (n_1 + n_2)RT$$

$$P = \frac{(n_1 + n_2)RT}{(V_1 + V_2)} = \frac{2,38 \times 8,31 \times 303}{25 \times 10^{-3}} = 2,4 \times 10^5 \text{ Pa}$$

