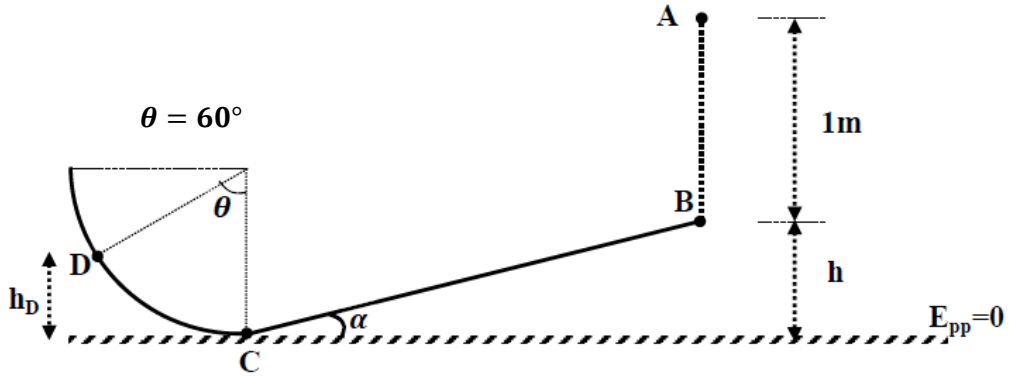


اختبار الفصل الأول في مادة العلوم الفيزيائية

التمرين الأول : (8 نقاط)

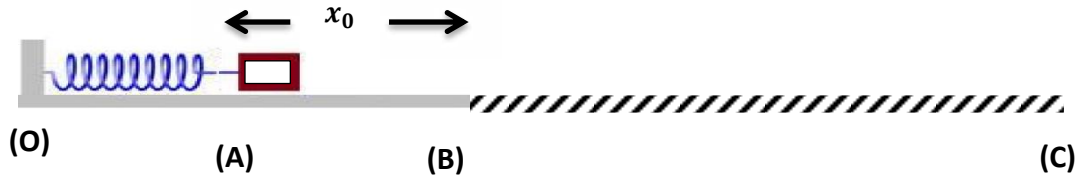
نترك كرة فولاذية كتلتها ($m = 800g$) تسقط سقوطا حرا (أي تحت تأثير ثقلها) دون سرعة ابتدائية من الموضع (A) الذي يقع على ارتفاع $1m$ من الموضع (B) ، الذي يمثل بداية مستوي خشن مائل عن الأفق بزاوية ($\alpha = 30^\circ$) ، بعد قطعها مسافة $BC = 1m$ على هذا المستوي ، تصعد الكرة الفولاذية مسارا دائريا أملسا نصف قطره (R)



- 1 - مثل الحصيلة الطاقوية للجملة (كرة) بين الموضعين (A) و (B) .
- 2- اكتب معادلة انحفاظ طاقة الجملة بين الموضعين (A) و (B) ، ثم احسب سرعة الكرة عند الموضع (B) .
- 3 - تصل الكرة إلى الموضع (C) بسرعة $V_C = 5m/s$:
 أ / مثل القوى المطبقة على الكرة أثناء حركتها وفق المستوي المائل BC .
 ب / مثل الحصيلة الطاقوية للجملة (كرة + أرض) أثناء الانتقال من (B) إلى (C) .
 ت / باستعمال مبدأ انحفاظ الطاقة احسب شدة قوة الاحتكاك f .
 ث / ما هي شدة قوة الاحتكاك f حتى تكون حركة الكرة مستقيمة منتظمة وفق الجزء BC .
- 4 - اكتب معادلة انحفاظ طاقة الجملة (كرة + أرض) بين الموضعين (C) و (D) .
- 5 - أوجد نصف قطر المسار الدائري R ، علما أن الكرة تصل إلى الموضع (D) بسرعة $V_D = 4,14m/s$.

التمرين الثاني : (12 نقطة)

نثبت على طاولة أفقية ، في نقطة (O) نابضا مرنا حلقاته غير متلاصقة ، ثابت مرونته K و نضغط نهايته الأخرى من الموضع (B) إلى الموضع (A) فيكون مقدار التشوه (الانضغاط) $x_0 = AB = 10cm$ ، نضع امام النهاية المضغوطة جسما كتلته $m = 0,1kg$ ، ثم نحرر النهاية المضغوطة فينطلق الجسم من النقطة (A) إلى (B) ليكمل حركته على سطح الطاولة إلى النقطة (C) أين يتوقف و تنعدم سرعته .



الجزء الأول :

1 - باعتبار الجملة (جسم + نابض) ، مثل الحصيلة الطاقوية لهذه الجملة بين النقطتين (A) و (B) .

2 - اعتمادا على مبدأ انحفاظ الطاقة ، أوجد عبارة v_B^2 بدلالة كتلة الجسم m ، مقدار التشوه x_0 و ثابت مرونة النابض K .

3 - قمنا بتصوير حركة الجسم على الطاولة ، ثم عالجنا الفيديو ببرمجية خاصة ، دراسة حركة الجسم في الجزء الخشن BC من الطاولة

مكنتنا من الحصول على البيان الممثل في الشكل 1 - حيث d المسافة المقطوعة من طرف الجسم و v سرعته في الموضع المرافق .

أ / اكتب معادلة انحفاظ طاقة الجسم بين الموضعين (B) و موضع كفي من الجزء BC.

$$v^2 = v_B^2 - \frac{2f}{m} \cdot d$$

حيث v هي سرعة الجسم في موضع كفي و d المسافة المقطوعة

عند بلوغه هذا الموضع .

ت / اكتب معادلة البيان الممثل في الشكل 1 -

ث / اعتمادا على السؤالين (3 - ب) و (3 - ت) أجد ما يلي :

1 - v_B سرعة الجسم عند الموضع (B) .

2 - K ثابت مرونة النابض .

3 - f شدة قوة الاحتكاك .

ج / استنتج المسافة BC

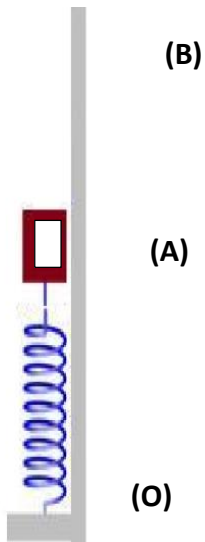
(C) 4 - في رأيك كيف يكون شكل البيان في حالة الجزء BC أملس ؟ مثله على ورقة الإجابة مع التعليل .

الجزء الثاني :

1 - نعيد نفس التجربة السابقة لكن الحركة تكون شاقولية نحو الأعلى

جد أقصى ارتفاع h يمكن للجسم ان يبلغه .

المعطيات : $g = 10N/Kg$



فاتو فسق و السد