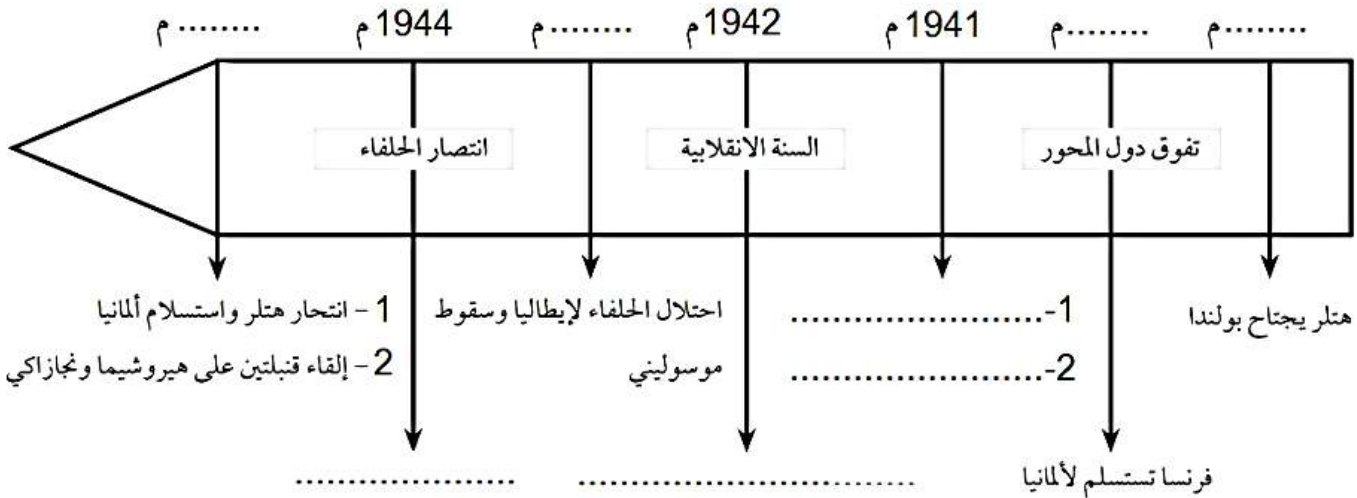


**التاريخ:**

**الجزء الأول: (6 نقاط)**

"...في ظل التوتر الداخلي وتفاقم مشاكل أوروبا وخلافاتها تزايد التنافس بين الدول الأوروبية حول مناطق النفوذ بين روسيا والنمسا في البلقان من جهة، وفرنسا وألمانيا في المغرب من جهة ثانية، والذي غذته رواسب مشكلة الألزاس واللورين وحرص بريطانيا على خلق التوازن وضمان المصالح..".  
المرجع: تاريخ العالم المعاصر صفحة 155

1. اشرح ما تحته خط في النص.
2. عرّف بالشخصيات التالية: فرانسوا فرديناند - بينيتو موسوليني - أدولف هتلر.
3. أعد رسم السلم الزمني الآتي ثم أكمل الفراغ بما يناسب من تواريخ وأحداث:  
مخطط زمني للحرب العالمية الثانية



**الجزء الثاني: (4 نقاط)**

عرفت القارة الأوروبية خلال العقود التي سبقت 1914م شعوراً بالخوف وفقداناً للأمن بين الدول حتى صارت كل دولة تراقب تحركات الدول الأخرى نظراً لاحتدام الصراعات الاستعمارية التي غذتها الروح الوطنية الضيقة والنزعة العسكرية والدعاية الإعلامية التي أدت كلها إلى تفجير الحرب العالمية الأولى.

**المطلوب:** انطلاقاً من الفقرة وما درست، أكتب مقالاً تاريخياً تبيّن فيه:

1. عوامل المواجهة العسكرية الأوروبية الأولى (الظروف والأسباب).
2. الأزمات الناتجة عن المواجهة العسكرية الأوروبية الأولى.

**الجغرافيا:**

**الجزء الأول: (6 نقاط)**

1. عرّف المصطلحات الآتية: **التهيئة الإقليمية - التنمية - الانجراف**.
2. يعتبر التصحر مشكلاً خطيراً بالنسبة للقطاع الفلاحي في الجزائر وله سببان الأول يعود للظروف الطبيعية والثاني يتعلق بالنشاط البشري. أذكر الأسباب وأعط نبذة مختصرة عن المشروع الذي قامت به الدولة الجزائرية في عهد الرئيس الراحل هواري بومدين من أجل وقف التصحر.
3. إليك جدول توزيع المساحة والسكان حسب النطاقات الطبيعية الثلاثة.

النطاقات الطبيعية	المساحة	السكان
التل	%04	%70
الهضاب العليا	%09	%20
الصحراء	%87	%10

المرجع: كتاب الجغرافيا السنة الثانية ثانوي صفحة 49

**المطلوب:**

- أ. مثل نسب الجدول بدائرتين نسبيتين المقياس: (نصف القطر = 4 سم).
- ب. علق على الجدول.

**الجزء الثاني: (4 نقاط)**

تمتاز الجزائر بمناطق جغرافية مختلفة ومتنوعة، تحتوي على أنماط مميزة من الظواهر الطبيعية والاقتصادية والبشرية التي أدت إلى تباين اقليمي واضح بين شمالها ووسطها وجنوبها.

**المطلوب:** انطلاقاً من الفقرة وما درست، أكتب مقالا جغرافياً تبين فيه:

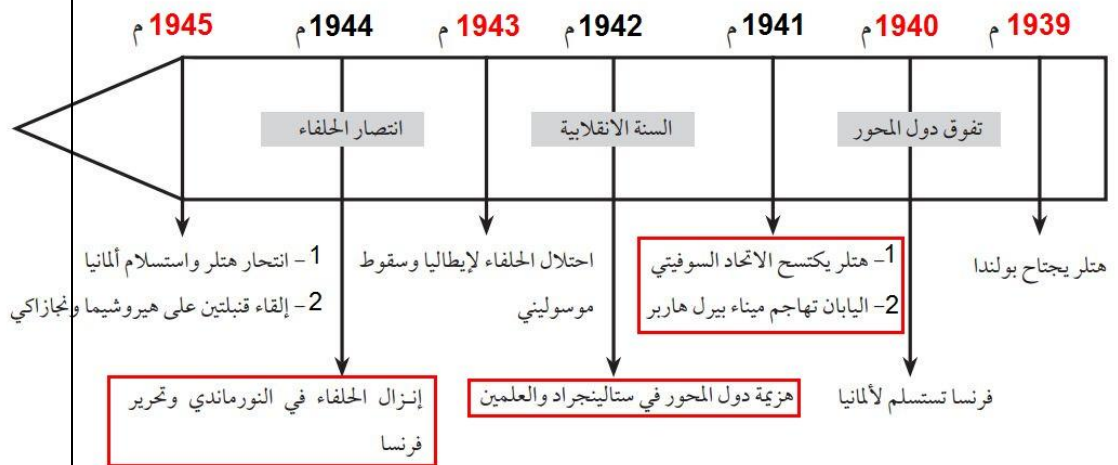
1. التقسيم الاقليمي للمناطق في الجزائر مع مؤهلات كل اقليم.
2. مشاكل الاقليم (التلوث - الانجراف - التصحر).

العلامة	عناصر الاجابة
	<p><b>التاريخ:</b> <b>الجزء الأول:</b> <b>1-المصطلحات:</b></p>
0,5	<p><b>-البلقان:</b> هي منطقة جغرافية تمثل الجزء الجنوبي الشرقي لأوروبا وتضم ألبانيا وبلغاريا واليونان والقسم الأوروبي من أراضي تركيا، والبوسنة والهرسك ومقدونيا وأجزاء من كرواتيا وسلوفينيا ويوغوسلافيا .وتبلغ مساحتها نحو 466,000 كم<sup>2</sup>.....</p>
0,5	<p><b>-مناطق النفوذ:</b> وهي البلاد التي تتغلغل فيها المصالح الاقتصادية والمالية بحيث يصبح من الصعب مقاومة نفوذ الدول الكبرى.....</p>
0,5	<p><b>-الألزاس واللورين:</b> الألزاس واللورين إقليم في الشمال الشرقي من فرنسا، على الحدود الألمانية الفرنسية، يغطي حوالي 31,828 كم<sup>2</sup> وقد ظلت الألزاس واللورين لفترة طويلة منطقة نزاع بين فرنسا وألمانيا.....</p>
0,5	<p><b>2-الشخصيات:</b> <b>-فرانسوا فرديناند (1863-1914م):</b> أرشيدوق النمسا وولي عهدها تم اغتياله وزوجته من طرف قوميين صربيين وسبب اغتياله اندلاع الحرب العالمية الأولى.....</p>
0,5	<p><b>-بينيتو موسوليني (1883-1945م):</b> سياسي إيطالي أسس الحركة الفاشية وحكم إيطاليا 21 عامًا تقريبًا. حاول أن يجعل من إيطاليا إمبراطورية كبرى، ولكنه بدلاً عن ذلك، ترك جيوش الدول الأخرى تحتلها وقد خفّض من نسبة البطالة في إيطاليا وحسّن من خدمات السكك الحديدية.....</p>
0,5	<p><b>-أدولف هتلر (1889-1945م):</b> زعيم ألمانيا النازية. حكم ألمانيا حكمًا دكتاتورياً من عام 1933م إلى عام 1945م. حوّل ألمانيا إلى آلة حرب قوية وأشعل نار الحرب العالمية الثانية عام 1939م. هزمت قواته معظم أوروبا قبل هزيمتها هي عام 1945م. وأشاع هتلر الرعب بشكل لم يفعله أحد في التاريخ الحديث.....</p>

## 2- السلم الزمني:

مخطط زمني للحرب العالمية الثانية

3 نقاط



## الجزء الثاني:

المقال التاريخي يراعى فيه:

4 نقاط

- .....مقدمة.....
- 0,5
- 1,5
- 1,5
- 0,5
- .....خاتمة.....

## الجغرافيا:

### الجزء الأول:

#### 1-المصطلحات:

- 0,5 -التهيئة الاقليمية: وهي عملية استصلاح منطقة ما ووضع نسيج عمراني واقتصادي ملائم مع توفير الهياكل القاعدية الضرورية لذلك.....
- 0,5 -التنمية: وهي التطور والتغير الجذري الذي يطرأ في بلد معين في مختلف الميادين الاقتصادية والثقافية.....
- 0,5 -الانجراف: وهو انتقال طبقات التربة من المنحدرات إلى المنخفضات أو البحر نتيجة ارتفاع معدل التساقط.....
- 0,5

2- التصحّر:

أ. الأسباب:

ظروف طبيعية:

3×0,25

- تكرار فترات الجفاف.....
- هبوب الرياح القارية الجافة.....
- الفرق الكبير في المدى الحراري اليومي.....

ظروف بشرية:

2×0.25

- تدهور الغطاء النباتي بسبب الاستثمار غير المناسب مثل الرعي الجائر وقطع الأشجار.....
- الاستغلال المفرط للتربة وعدم احترام التوازن الدوري مما يؤدي إلى استنزافها.....

0.5

المشروع العظيم الذي قامت به الجزائر أيام الرئيس هواري بومدين هو:

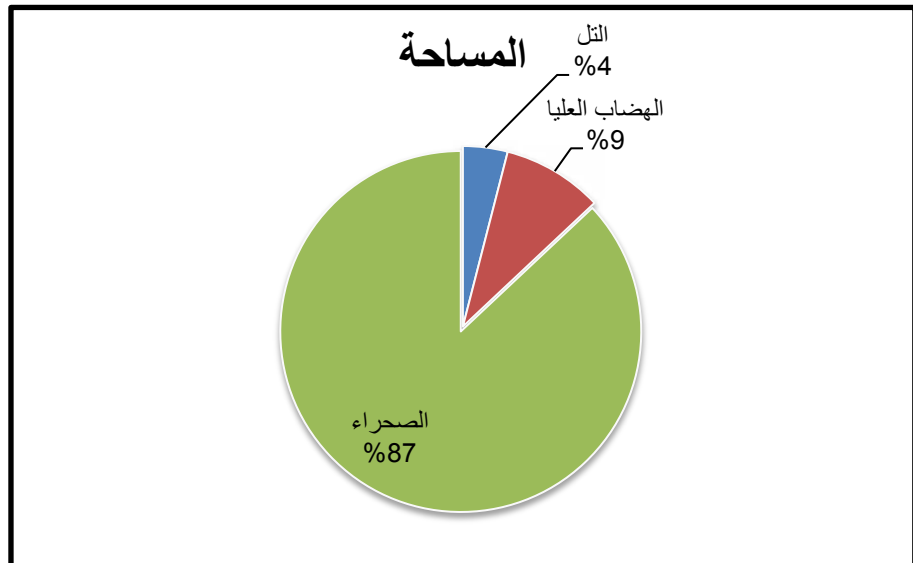
..... السد الأخضر

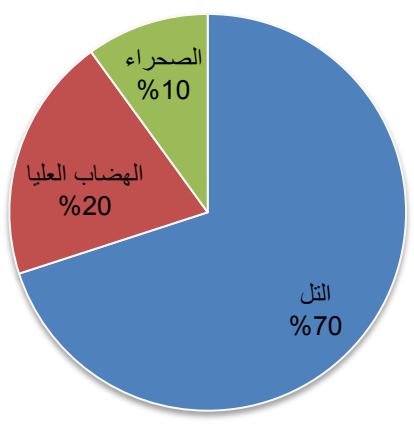
وقد تقرر انجازه السد الأخضر على امتداد 1500 كلم طولا بحيث يصل بين الحدود الجزائرية المغربية من جهة الغرب والحدود الجزائرية التونسية من جهة الشرق ويتراوح متوسط عرضه بين 15 إلى 20 كلم وقد شرع في إنجازه رسميا في 14 أوت 1974م وأسندت هذه المهمة إلى شباب الخدمة الوطنية.....

1

3- الدائرتان النسبيتان:

0.5



0.5	<p style="text-align: center;"><b>السكان</b></p>  <table border="1"><thead><tr><th>المكان</th><th>النسبة المئوية</th></tr></thead><tbody><tr><td>التل</td><td>70%</td></tr><tr><td>الهضاب العليا</td><td>20%</td></tr><tr><td>الصحراء</td><td>10%</td></tr></tbody></table>	المكان	النسبة المئوية	التل	70%	الهضاب العليا	20%	الصحراء	10%
المكان	النسبة المئوية								
التل	70%								
الهضاب العليا	20%								
الصحراء	10%								
0,75	<p style="text-align: right;">.....: <b>التعليق:</b></p> <p style="text-align: right;"><b>الجزء الثاني:</b></p> <p style="text-align: right;">المقال الجغرافي يراعى فيه:</p> <p>.....مقدمة</p> <p>.....التقسيم الاقليمي للمناطق في الجزائر مع مؤهلات كل اقليم</p> <p>.....مشاكل الاقليم (التلوث - الانجراف - التصحر).....</p> <p>.....خاتمة</p>								
4 نقاط	<p>0,5</p> <p>1,5</p> <p>1,5</p> <p>0,5</p>								

