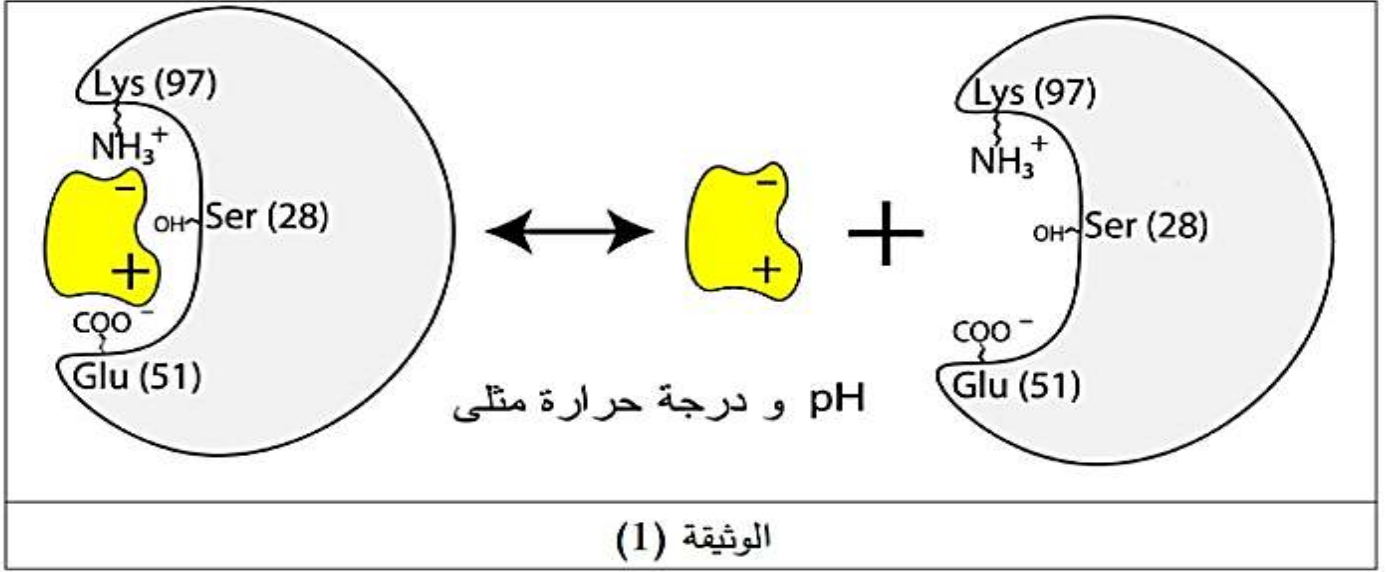


الموضوع

التمرين الأول:

تعتبر الإنزيمات من الجزيئات البروتينية الحيوية والتي تقوم بوظائف هامة حيث نقصها أو غيابها يؤدي الى خلل في العضوية وهذا الدور راجع الى خصائص مختلفة تميزها ومن أجل هذه الدراسة نقدم اليك الوثيقة (1).



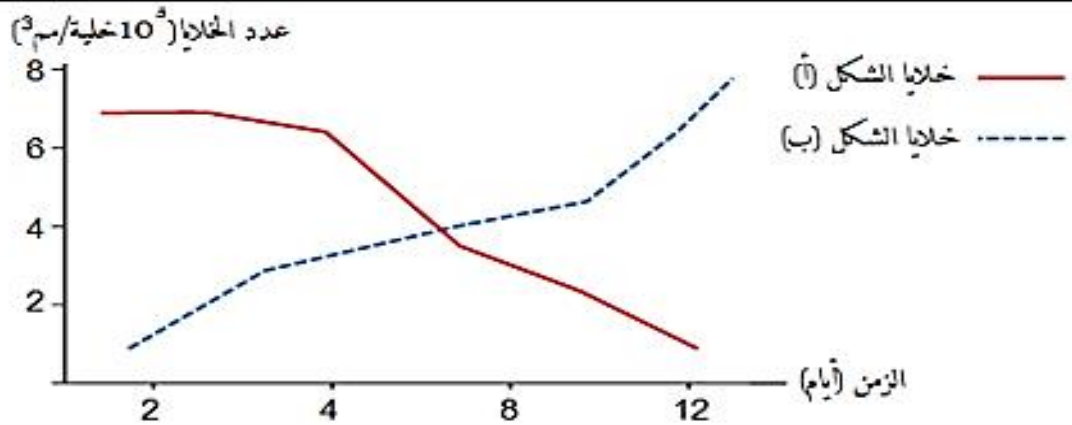
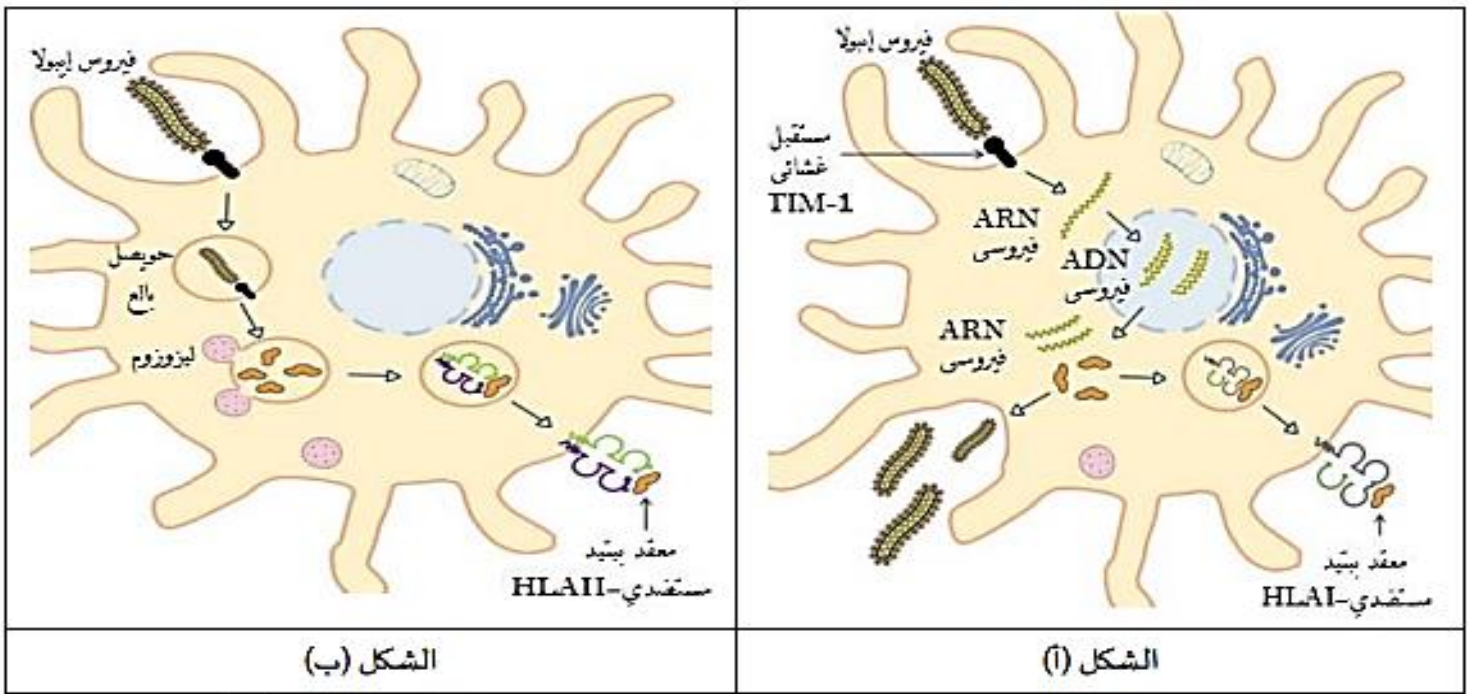
1- حدد الخاصية الإنزيمية الموضحة في الوثيقة (1) مع التعليل.

2- انطلاقا من نفس الوثيقة وضح في نص علمي العوامل المؤثرة في هذه الخاصية.

التمرين الثاني: (07 نقاط)

الحمى النزفية مرض يسببه فيروس إيبولا (Ebola(EBOV) الذي يسبب دخوله إلى العضوية عجزا مناعيا. لفهم الآليات التي يستعملها هذا الفيروس والتي تسمح له بالتطور داخل العضوية تقدم الدراسة التالية:

الجزء الأول: سمحت الملاحظات المجهرية للخلايا البالعة على مستوى طحال أحد الأشخاص المصابين بفيروس إيبولا EBOV بإنجاز الرسومات التخطيطية الممثلة في شكلي الوثيقة(01)، كما تم في نفس الوقت تقدير عدد الخلايا البالعة الممثلة في الشكل (أ) والخلايا البالعة الممثلة في الشكل (ب). النتائج ممثلة في منحنى الشكل (ج) من نفس الوثيقة



الشكل (ج)

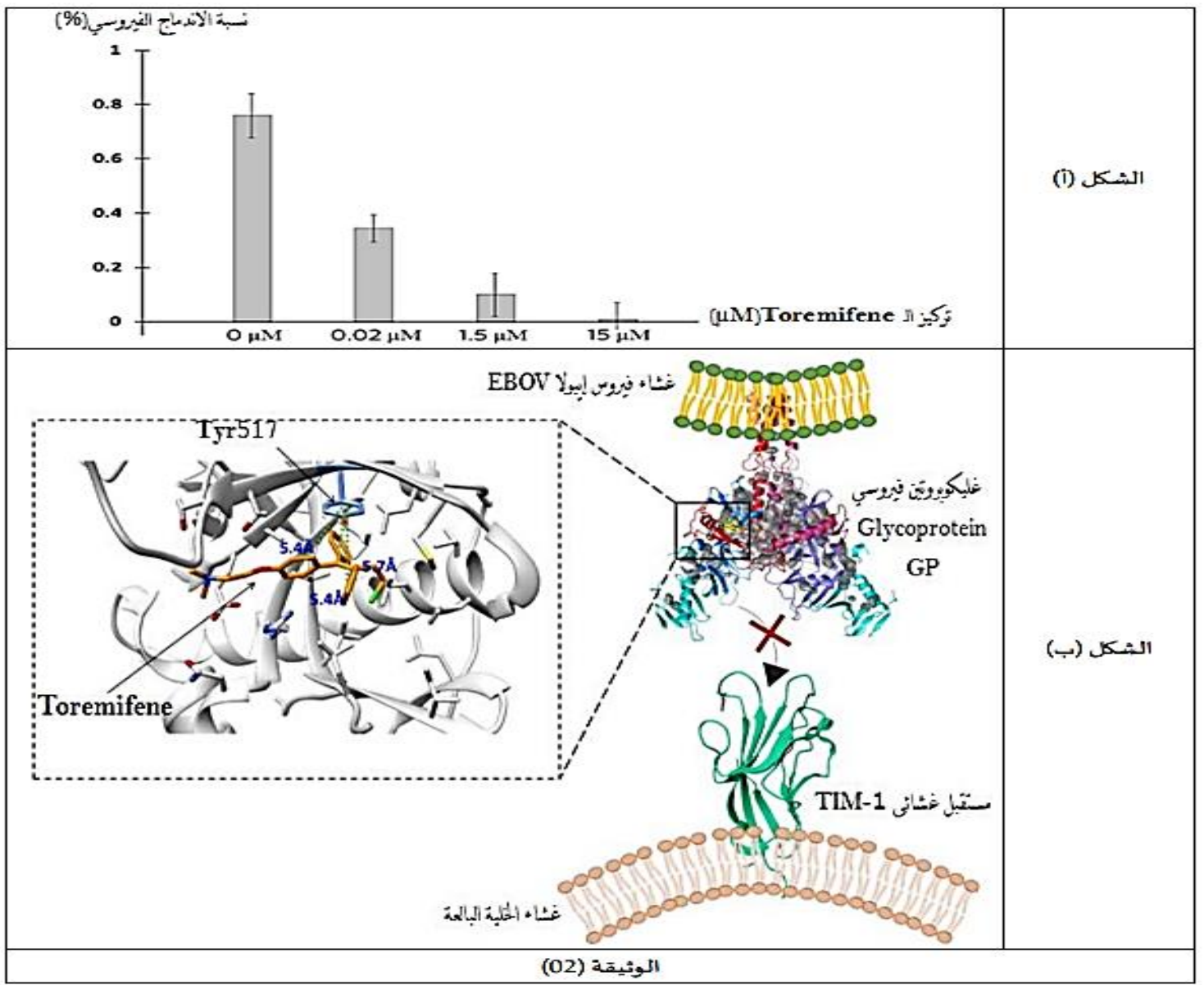
الوثيقة (01)

1) حدد المعلومات المستخرجة من الشكلين (أ) و(ب)

2) فسر سبب العجز المناعي الذي يسببه فيروس إيبولا EBOV الذي يؤدي إلى الحمى النزفية من خلال استغلال الشكل (ج).

الجزء الثاني - :

من أجل التعرف على طريقة علاجية ضد فيروس إيبولا EBOV المتمثلة في دواء Toremifene تقدم المعطيات التالية - : تم حقن دواء Toremifene في جسم شخص مصاب بالحمى النزفية بتركيز متزايدة ثم تم قياس نسبة الاندماج الفيروسي على مستوى الخلايا المستهدفة من طرف فيروس إيبولا EBOV النتائج ممثلة في الشكل (أ) من الوثيقة (02) -  
يمثل الشكل (ب) من نفس الوثيقة رسماً تخطيطياً يوضح آلية تأثير دواء Toremifene .



1) **وضح** آلية تأثير دواء Toremifene على فيروس إيبولا EBOV الذي يؤدي إلى عالج الحمى النزفية من خلال استغلال شكلي الوثيقة (02) .

### التمرين الثالث :

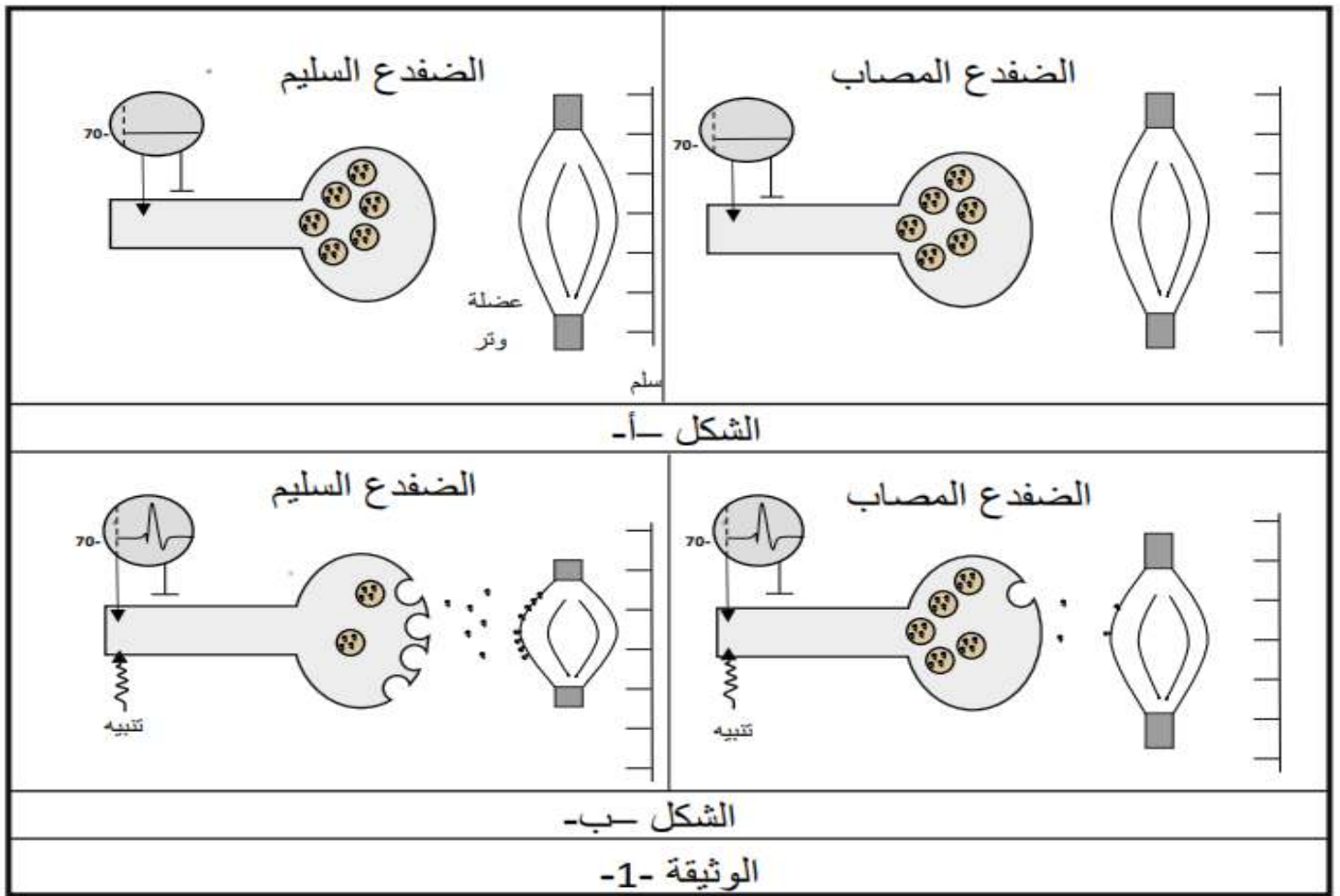
متلازمة لامبرت ايتون (LE SYNDROM MYASTHENIQUE DE LAMBERT-EATON) SLE مرض نادر تتمثل أعراضه أساسا في وهن عضلي ، نريد في هذه الدراسة معرفة أسباب هذا المرض .

### الجزء الأول :

نقوم بعزل عضلة مرفقة بعصبونها المحرك خاصة بضعدين أحدهما سليم والآخر مصاب بمتلازمة لامبرت ايتون (SLE) ونقوم بتنبية العصبون المحرك لكلا الضفدين بنفس الشدة فنحصل على النتائج التجريبية الموضحة برسومات تخطيطية في الشكل ب من الوثيقة 1 ، بينما يمثل الشكل أ حالة اللوحة المحركة أثناء الراحة .

**ملاحظة 1:** الوتر عضو يربط العضلة بالعظم

**ملاحظة 2:** اللوحة المحركة هي مشبك عصبي-عضلي



1) باستغلال الوثيقة 1- اقترح فرضيتين تفسر بهما سبب متلازمة لامبرت إيتون.

الجزء الثاني :

من أجل التحقق من إحدى الفرضيات المقدمه نقترح عليك الوثائق التالية :

- نقوم بعزل جزء من الغشاء الهولي للزر النهائي لكلا الضفدعين بتقنية patch clamp الذي يتوصل تلقائيا ثم نضعه في وسط فزيولوجي يحتوي على تركيز عالي من الكالسيوم المشع ثم نجري تنبيهها فعلا على الغشاء ، نتائج متابعة الاشعاع موضحة في الوثيقة 2 .

تمثل الوثيقة 3 نتائج معاملة الزر النهائي للعصبون المحرك بأجسام مضادة مفلورة ضد قنوات الكالسيوم المبوبة كهربائيا ، حيث الشكل أ يمثل العصبون المحرك للضفدع السليم والشكل ب يمثل العصبون المحرك للضفدع المصاب .

تمثل الوثيقة 4 نتائج اختبار الكشف عن الأجسام المضادة ضد القنوات الفولطية للكالسيوم في مصلى الضفدعين.

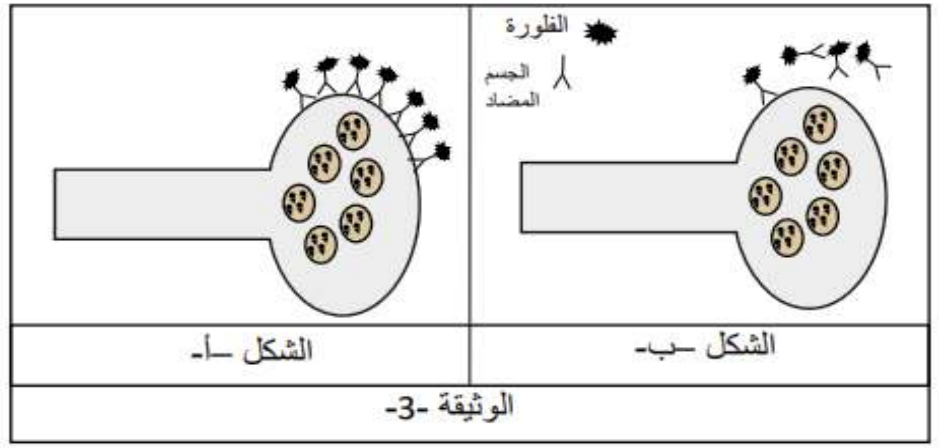
بعد التنبيه		بداية التجربة		
الإشعاع داخل الحويصل	الإشعاع في الوسط	الإشعاع داخل الحويصل	الإشعاع في الوسط	
+++	+++++	-	+++++++	الضفدع السليم
+	+++++++	-	+++++++	الضفدع المصاب

الوثيقة 2-

الضفدع المصاب	الضفدع السليم
+++++	-

الوثيقة -4-

- غياب  
+ وجود



1) باستغلالك لوثائق الجزء الثاني ومكتسباتك فسر سبب وأعراض متلازمة لامبرت إيتون وتحقق من صحة إحدى الفرضيات .

الجزء الثالث :

أنجز رسماً تخطيطياً وظيفياً توضح فيه آلية انتقال الرسالة العصبية في اللوحة المحركة لشخص سليم وآخر مصاب بمتلازمة لامبرت إيتون.

## الاجابة النموذجية للموضوع

التنقيط	التمرين الأول 05 نقاط
01	1- الخاصية الموضحة في الوثيقة: الأنزيم نوعي اتجاه مادة التفاعل. التعليل: وجود تكامل بنيوي بين الموقع الفعال والركيزة بسبب
01	تشكل روابط انتقالية شاردية بين جذور ال AA الحرة للموقع الفعال (Lys 97، Glu 51) والوظائف الكيميائية الموجودة في الركيزة.
	2- النص العلمي:
0.5	مقدمة : الأنزيمات وسائط حيوية مسؤولة عن تسريع التفاعلات الحيوية في العضوية وعملها يتعلق أساسا بتشكيل المعقد ES إلا أن هذه العملية قد تتأثر بعوامل، فما هي هذه العوامل المؤثرة في هذه الخاصية؟ العرض:
0.5	- العوامل المؤثرة على تشكيل معقد ES: درجة الحرارة: عند درجة الحرارة المثلى المقدره عند الإنسان 37م يكون نشاط الأنزيم أعظما بسبب التكامل البنيوي بين الركيزة والآنزيم بفضل المجموعات الكيميائية في الموقع الفعال مع وظائف الركيزة فيتشكل المعقد ES ثم تنشط التفاعل.
0.5	عند تغير درجة الحرارة : تتخرب الأنزيمات بفضل كسر الروابط الكيميائية خاصة الموجودة على مستوى الفعال وبالتالي فقدان البنية الفراغية للآنزيم وصعوبة ارتباطه بالركيزة ومنع حدوث التفاعل.
0.5	- درجة PH : عند قيمة مناسبة لـ PH (وسط معتدل) يكون نشاط الأنزيم مثالي تسمح بتشكل روابط انتقالية بين الركيزة والموقع الفعال (الشحنة الإجمالية لجذور ال AA للموقع الفعال مستقرة) وحدث التفاعل.
0.5	عند تغير قيمة ال PH: يفقد الأنزيم نشاطه لأن حموضة الوسط تؤثر على الشحنة الإجمالية للآنزيم خاصة الموقع الفعال فيمنع تثبيت الركيزة وبالتالي لا يتم التفاعل.
0.5	- غياب الطفرات المؤدية إلى تشوه الموقع الفعال. - خلو الوسط من مثبطات تمنع ارتباط الركيزة بالموقع الفعال. الخاتمة: إن نشاط الأنزيم يتم في ظروف ملائمة للحياة من ال PH ودرجة الحرارة.

03.75		<p><b>الجزء الأول:</b></p> <p>1/ المعلومات المستخرجة من الشكلين (أ) و(ب):</p> <p><b>من الشكل (أ):</b></p> <p>- الخلية البالعة لها القدرة على اقتناص فيروس إيبولا EBOV و بلعمته بفضل أرجلها الكاذبة.</p> <p>0.25</p> <p>- تهضم الخلية البالعة فيروس إيبولا EBOV هضما جزئيا بفضل إنزيمات الليزوزيم ثم عرض محدد على غشائها مرتبطا بجزء HLAI</p> <p>0.25</p> <p>- تعرض الخلية البالعة على غشائها المعقد محدد المستضد-HLAI لتتعرف عليه الخلية LT4</p> <p>0.25</p> <p><b>من الشكل (ب):</b></p> <p>- يستهدف فيروس إيبولا EBOV الخلية البالعة بفضل ارتباطه بمستقبلها الغشائي TIM-1.</p> <p>0.25</p> <p>- يتكاثر فيروس إيبولا EBOV داخل الخلية البالعة فتصبح خلية مصابة.</p> <p>0.25</p> <p>- تعرض الخلية البالعة المصابة على غشائها محدد المستضد مرتبطا بجزء HLAI لتتعرف عليه الخلية LT8.</p> <p>0.25</p> <p>2/ تفسير سبب العجز المناعي الذي يسببه فيروس إيبولا EBOV:</p> <p><b>من الشكل (ج):</b> يمثل الشكل تغيرات عدد الخلايا من الشكل (أ) والتي تمثل الخلايا البالعة العارضة وخلايا الشكل (ب) والتي تمثل الخلايا البالعة المصابة حيث نلاحظ ثبات عدد الخلايا البالعة العارضة في 7.10 خلية/مم<sup>3</sup> حتى اليوم الرابع يرافقه ارتفاع عدد الخلايا البالعة المصابة حتى 1.10 خلية/مم<sup>3</sup> في نفس اليوم. ينخفض عدد الخلايا</p>	الثاني
-------	--	--	--------



### الجزء الأول :.....(3)

أثناء الراحة : نسجل كمون الراحة على جهاز راسم الذبذبات المهبطي عند الضفدعين كما نلاحظ تواجد عدد كبير من الحويصلات التي تحتوي على الأستيل كولين ، كما تكون العضلة مرتخية .

عند إجراء التنبيه عند الضفدعين بنفس الشدة:

عند السليم : نسجل كمون عمل على الأوسيلوسكوب وتناقص كبير في حويصلات المبلغ الكميائي فتكون كمية الأستيل كولين المفرزة في الشق المشبكي كبيرة ويكون تثبت الأستيل كولين على غشاء الخلية العضلية كبيرا فيتسبب ذلك بتقلص كبير للعضلة. ....(0.75).

عند المصاب : نسجل كمون عمل على الأوسيلوسكوب وتناقص قليل في حويصلات المبلغ الكميائي فتكون كمية الأستيل كولين المفرزة في الشق المشبكي ضئيلة ويكون تثبت الأستيل كولين على غشاء الخلية العضلية قليلا فيتسبب ذلك بتقلص ضعيف للعضلة.....(0.75).

نستنتج إذا أن الضفدع المصاب لا يتمكن من تحرير كمية كافية من المبلغ العصبي .....(0.5).

وعليه :

الفرضية 1 : قنوات الكالسيوم غير وظيفية / قليلة لا تسمح بدخول الكالسيوم .....(0.5).

الفرضية 2 : قنوات الكالسيوم وظيفية لكن لا يوجد تدرج كافي في تركيز الكالسيوم (تيار داخلي ضعيف جدا لا ينشط هجرة الحويصلات) .....(0.5).

### الجزء الثاني :.....(4)

من الوثيقة 2 :

في بداية التجربة : يكون الإشعاع كبيرا في الوسط وغائبا داخل الحويصل عند السليم والمصاب.

في نهاية التجربة :

عند السليم : يتناقص الإشعاع في الوسط ويظهر إشعاع داخل الحويصل دليل على انتقال الكالسيوم المشع من الوسط إلى داخل الحويصل .....(0.25)

عند المصاب : تناقص قليل في الإشعاع في الوسط يصاحبه ظهور إشعاع قليل داخل الحويصل دليل على انتقال كمية أقل من الكالسيوم المشع من الوسط إلى داخل الحويصل. ....(0.25)

ومنه نستنتج أن نفاذية غشاء المصاب لشوارد الكالسيوم أقل من نفاذية غشاء السليم.....(0.5)

من الوثيقة 3 :

ظهور فلورة كبيرة على غشاء الزر النهائي عند السليم مقارنة بالفلورة القليلة عند المصاب دليل على تثبت الأجسام المضادة ضد القنوات الفولطية للكالسيوم .....(0.25)

ومنه نستنتج أن عدد القنوات الفولطية للكالسيوم عند المصاب أقل من السليم .....(0.5)

من الوثيقة 4 :

نلاحظ وجود أجسام مضادة ضد القنوات الفولطية للكالسيوم في مصل الضفدع المصاب وغيابها عند السليم....(0.25)

ومنه نستنتج أن الضفدع المصاب يولد استجابة مناعية نوعية ضد قنواته الفولطية الخاصة بالكالسيوم .....(0.5)

## التركيب :.....(1.5)

يعود سبب متلازمة لامبرت إيتون إلى مرض مناعة ذاتية أين يهاجم المصاب قنواته الفولطية بإنتاج أجسام مضادة (0.25) نوعية فيتناقص عدد القنوات الوظيفية (0.25) في نهاية الزر فتتناقص نفاذية الكالسيوم بالرغم من وصول موجة زوال الإستقطاب إلى الزر النهائي ، تسمح كمية الكالسيوم الضئيلة (0.25) التي دخلت إلى هيولى الخلية قبل المشبكية بتنشيط عدد قليل من الحويصلات على الهجرة والإلتحام مع الغشاء الهيولى ما يؤدي إلى طرح كمية غير كافية من المبلغ الكميائي الأستيل كولين (0.25) والذي يؤدي تثبتها على غشاء العضلة إلى فتح عدد قليل من القنوات الميوبة كميائيا (0.25) والتي تسمح بدخول كمية قليلة من الصوديوم ومنه استجابة ضعيفة (0.25) للليف العضلي (تقلص ضئيل).

## الجزء الثالث :.....(1)

