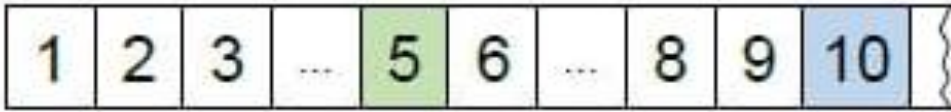


أكمل الشريط العددي بوضع الأعداد في مكانها المناسب



ألون طريق الفأر للوصول الى الجبن باتباع الاعداد من 1 الى 19



	0	6	7	8	1	
1	5	5	12	9	5	
2	3	4	3	10	11	
6	5	8	1	7	12	
8	9	10	15	14	13	
	19	18	17	16	3	2



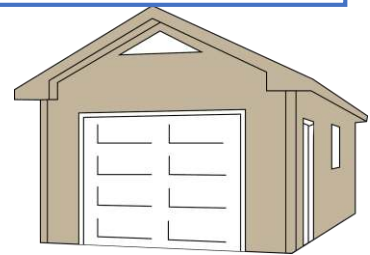
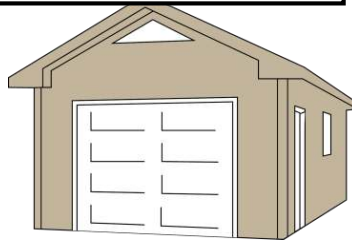
أربط كل سيارة بالمرآب المناسب



سَبْعَةَ عَشَرَ

سِتَّةَ عَشَرَ

تِسْعَةَ عَشَرَ



أكتب العدد المناسب




ألون 12 بقعة من بقع الزرافة



والونه



ابحث عن العدد 13



ألون العدد سبعة عشر



☆ 17	☆ 77	☆ 7
☆ 07	☆ 71	☆ 71
☆ 17	☆ 15	☆ 70

أصل الأرقام بالترتيب وألون الرسم المتحصل عليه

