

إعداد وتصميم: الأستاذ محمد

التجميع والاستبدال

1 التجميع



2 الاستبدال

3 العشرات

4 الأعداد




أَقُومُ بِالتَّجْمِيعِ ثُمَّ أَكْمِلُ



يُوجَدُ حِزْمٌ مِنْ عَشْرَةٍ وَ أَزْرَارٍ مُنْفَرِدَةٍ


أُسَاعِدُ عِصَامَ فِي رَسْمِ الكُرَيَاتِ المُبَيَّنَةِ فِي الجَدُولِ



أَضَعُ العِبَارَاتِ المُنَاسِبَةَ مَكَانَ النُّقْطِ:

عَشْرَاتٍ

وَحَدَاتٍ

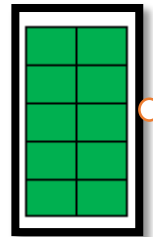


.....






.....

أَرْبِطُ بِمَا يُنَاسِبُ



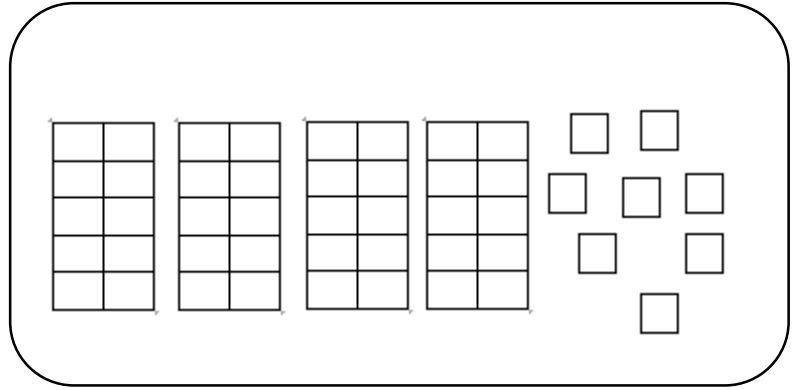
أَحْوَطُ الْمَجْمُوعَاتِ مِنْ 10 ثُمَّ أَكْمِلُ الْجَدُولَ



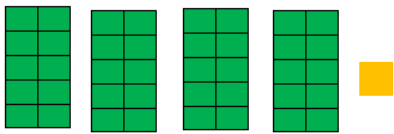
 عَشْرَات	 وَحَدَات

يُوجَدُ ... عَشْرَاتٍ وَ ... وَحَدَاتٍ


أَسَاعِدُ أَمِينَةَ فِي تَلْوِينِ الكَمِيَّةِ المَوْجُودَةِ عَلَى السَّبُّورَةِ



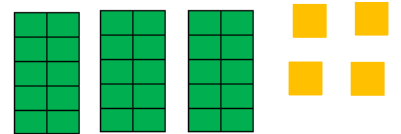
اَكْتُبْ عَدَدَ الوَحَدَاتِ وَعَدَدَ العَشْرَاتِ



... وَ ... ع



... وَ ... ع



... وَ ... ع

ألون كل بطاقة بما يناسبها



سِتُّون

أَرْبَعُونَ

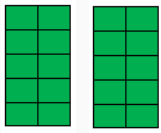
خَمْسُونَ

تِسْعُونَ

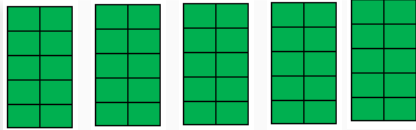
عِشْرُونَ

سَبْعُونَ

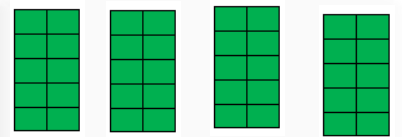
اكتب العدد المناسب



.....



.....



.....

أَسَاعِدُ خديجة في إيجاد العدد الذي تشير إليه البطاقات



10

10

10

10

10

10

10

.....



أكمل

80 هي عَشْرَاتٍ و وَحَدَاتٍ

خَمْسُونَ هي عَشْرَاتٍ و وَحَدَاتٍ

كم نجمة تملك بسمة؟



	
عشرات	وحدات

تملك بسمة نجمة

أربط كل بطاقة بما يناسبها

9 وحدات و 7 عشرات

3 وحدات و 8 عشرات

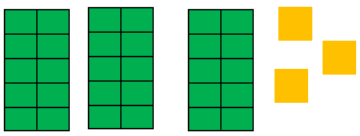
5 وحدات و 6 عشرات

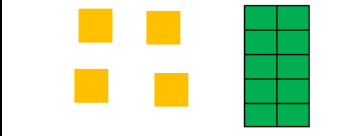
65


79

83

أختار العدد المناسب والونه

		
63	30	33

		
42	14	41

		
24	12	21

اكتب بالرموز

واحد وخمسون

سبعة وأربعون

ثلاثة وستون

تسعون

للمزيد من الأعمال والملفات يرجى زيارة صفحتنا على الفيس بوك

<https://www.facebook.com/2340870549287201-الاستاذ-محمد->

مع تحيات الاستاذ محمد