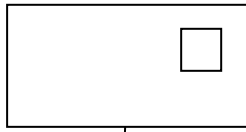


## التمرين 1:

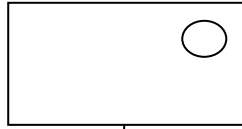
ألون النجمة الموجودة أسفل الخط باللون الأخضر وأون النجمة الموجودة فوق الخط باللون الأصفر




## التمرين 2 : ألاحظ العدد وأكمل الرسم :



2




3




4

## التمرين 3:


أعد الدجاج و ألون العدد المناسب :




1 2 5




3 1 2



1 4 3





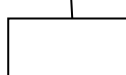
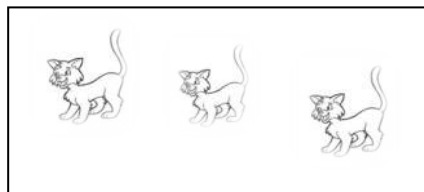


4 2 1



2 3 4

## التمرين 4:

أكتب في كل بطاقة عدد القطط:



التمرين 5:

4	.....	.....
---	-------	-------

2	.....	.....
---	-------	-------

3	.....	.....
---	-------	-------

4
.....
.....

1	.....	.....
---	-------	-------

5	.....	.....
---	-------	-------

التمرين 6:

أكمل كتابة الأعداد مرتبة في الشريط

1	.....	.....	.....	5
---	-------	-------	-------	---

التمرين 7:

ألون الإجابة الصحيحة :



اليسار

اليمين

السهم متجه إلى



اليسار

اليمين

السهم متجه إلى

إعداد : زماموش نورة



ع	آ
.	.
.	.
.	.
.	.

التمرين السادس : أحسب العمليات الآتية :

-  $20 + \dots = 23$

-  $50 + 6 = \dots$

-  $10 + \dots = 18$

-  $30 + 2 = \dots$