

# تمارين الدعم الأعداد من 0 إلى 69 قراءة وكتابة /الوحدات والعشرات/ تفكيك جمعي

## إتمام عدد إلى العشرة المئوية

1 أقرأ العدد المكتوب بالحروف ثم لَوْن خانة العدد المناسب.

اِثْنَانِ وَثَلَاثُونَ

وَاحِدٌ وَأَرْبَعُونَ

سِتَّةٌ وَسِتُّونَ

ثَلَاثَةٌ وَخَمْسُونَ

42

32

23

14

21

41

16

66

36

53

35

43

2 أَكْتُبُ الأَعْدَادَ بِالأَرْقَامِ، أَوْ بِالحُرُوفِ.

• سِتَّةٌ وَأَرْبَعُونَ

• اِثْنَانِ وَعِشْرُونَ

• خَمْسُونَ

• خَمْسَةٌ وَثَلَاثُونَ

• ثَلَاثُونَ

• سَبْعَةٌ وَأَرْبَعُونَ

• ثَمَانِيَةٌ وَسِتُّونَ

• سِتُّونَ

• خَمْسَةٌ وَخَمْسُونَ

..... 62

..... 42

..... 33

..... 67

..... 44


..... 37

..... 69

..... 58

..... 40

3 أرتب الأعداد تصاعدياً (من الأصغر إلى الأكبر). 58 ، 49 ، 32 ، 55 ، 40 ، 64 ، 36



4 أَكْتُبُ العددَ الَّذِي يَسْبِقُ وَالَّذِي يَلِي.






5 حوِّط رَقَمَ الْوَاحِدَاتِ فِي كُلِّ عَدَدٍ مِمَّا يَأْتِي.



6 حوِّط رَقَمَ الْعَشْرَاتِ فِي كُلِّ عَدَدٍ مِمَّا يَأْتِي.



7 لَوِّنِ الْبَطَّاقَةَ الصَّحِيحَةَ.

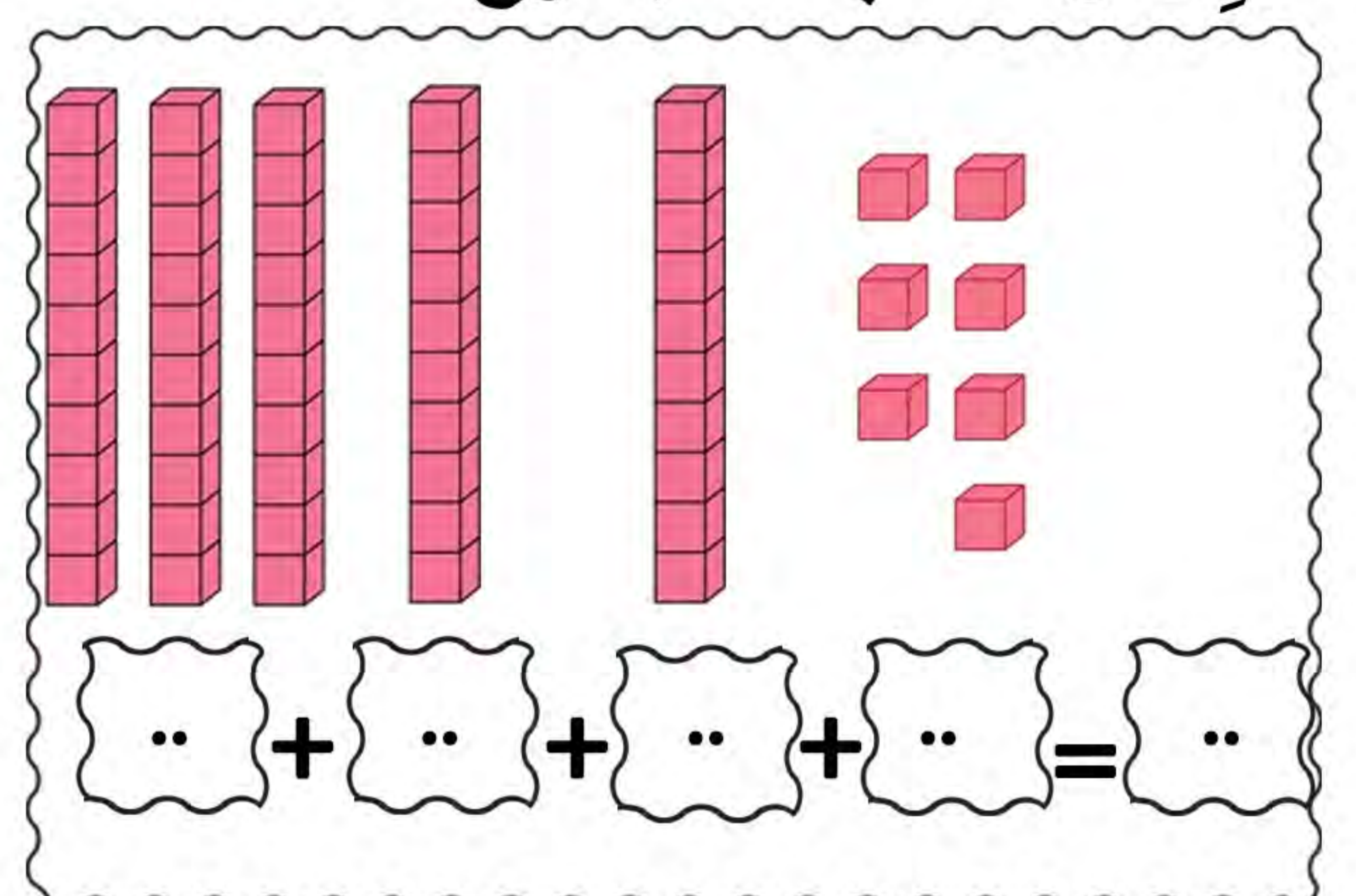
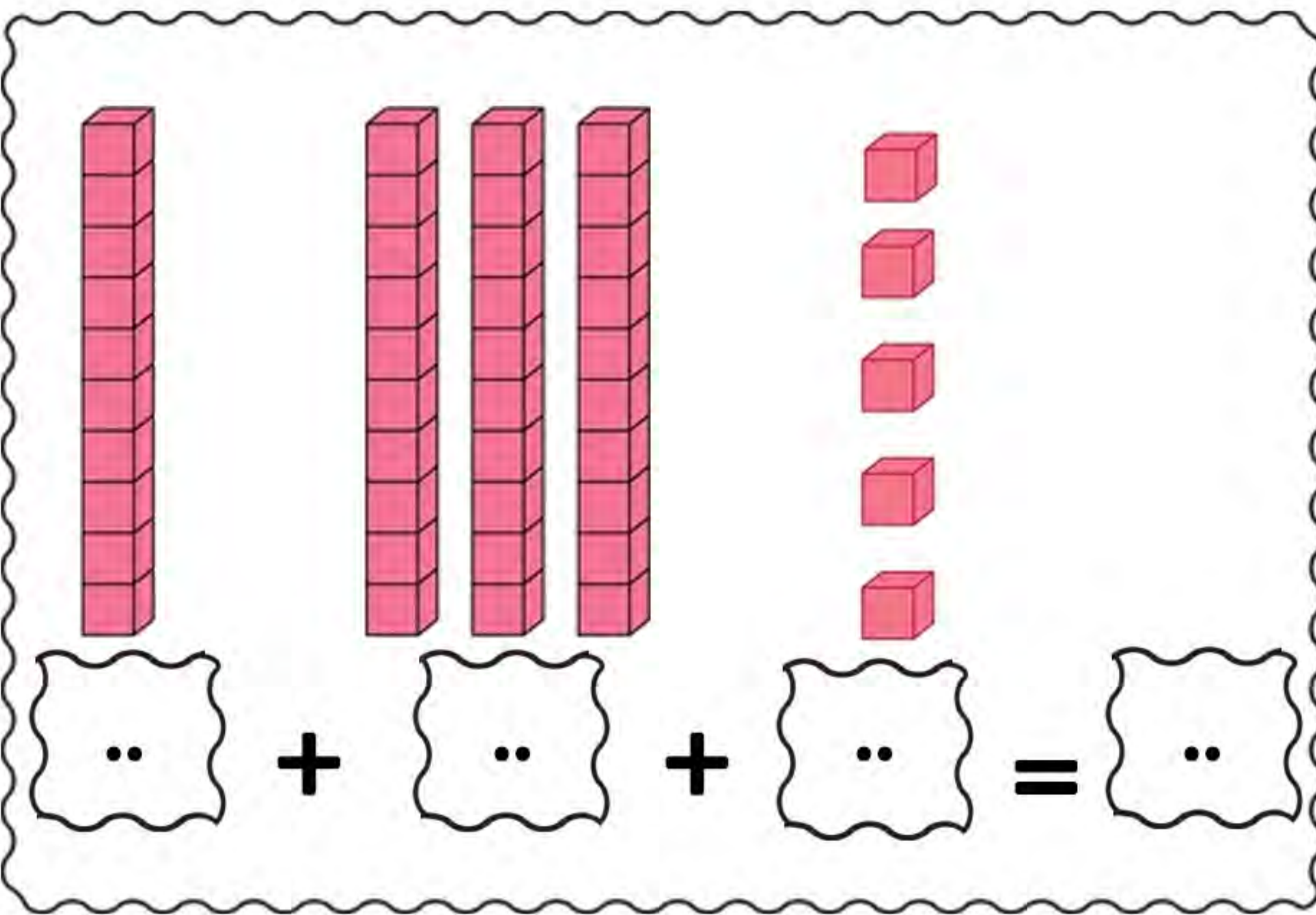


8 مَنْ أَنَا؟

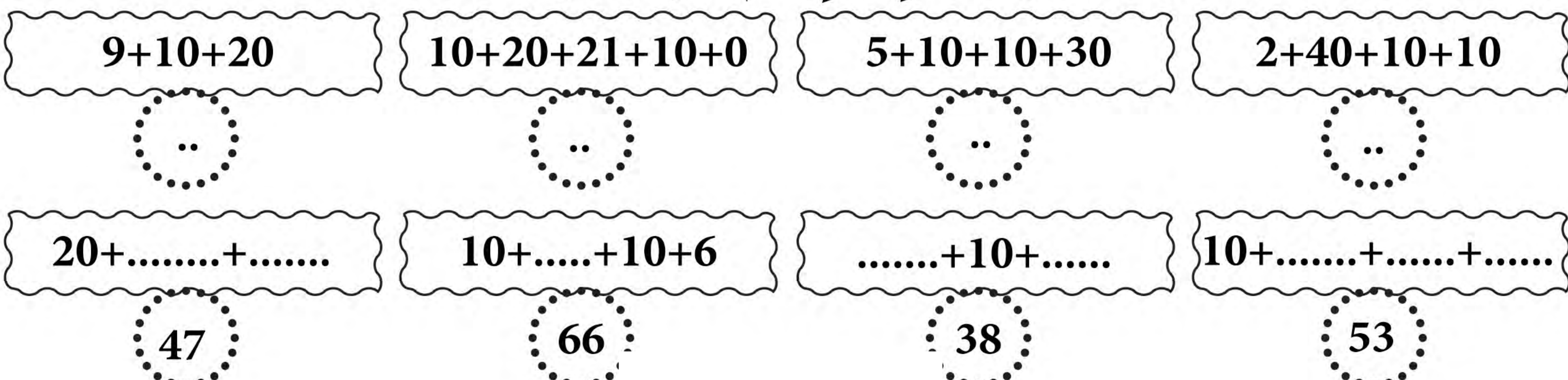
- أنا رَقَمًا وَحَدَاتِي وَعَشْرَاتِي مُتَسَاوِيَانِ وَأَقَعُ بَيْنَ الْعَدَادَيْنِ (50 و 60).  
.....
- أنا رَقَمٌ وَحَدَاتِي 3 وَرَقَمٌ عَشْرَاتِي هُوَ الْعَدَدُ. الْفَرْدِي الَّذِي يَلِي الْعَدَدَ 3 مُبَاشَرَةً.  
.....
- أنا رَقَمٌ عَشْرَاتِي 4 وَرَقَمٌ وَحَدَاتِي هُوَ الْعَدَدُ. الزَّوْجِي الَّذِي يَلِي رَقَمٌ عَشْرَاتِي مُبَاشَرَةً.  
.....

[/https://saidaalg.blogspot.com](https://saidaalg.blogspot.com)

9 أَكْمِلْ وَأَحْسِبِ الْمَجْمُوع.



10 أَكْتُبِ الْأَعْدَادَ الْمَوْجُودَةَ دَاخِلَ كُلِّ بَطَّاقَةٍ، ثُمَّ أَكْمِلِ النَّاقِصَ.



## || اكمل الجدول.

الواحدات	العشرات			
8	4	48	40+8	10+10+10+10+8
.	.	56	...+...	...+...+...+...+...+..
.	.	.	30+7	...+...+...+..
.	.	65	...+...	...+...+...+...+...+...+..

## 12 ألون خانة العدد المتمم إلى العشرة الموائية.

46	28	59	17
3 4 5 6	2 8 7 1	2 5 1 9	4 5 8 3

13 تسلم مدير مدرسة 53 كتاباً لمادة الرياضيات للسنة الثانية من مركز توزيع الكتب المدرسية. يبلغ عدد تلاميذ السنة الثانية 60 تلميذاً.

- ما عدد الكتب التي يطلبها المدير من المركز ليكمل عدد الكتب اللازمة؟
- لون العدد المناسب مما يأتي، واكتبه في الفراغ لإتمام المساواة: (7) (8) (5) (4)

العملية:  $60 = \dots + 53$

الجواب: عدد الكتب التي يطلبها المدير من المركز.....كتب.

## 14 احسب كل مجموع بالإتمام إلى العشرة الموائية حسب المثال:

$$27+9=27+3+6=30+6=.....$$

$$34+8=...+...+...=...+...=.....$$

$$49+5=...+...+...=...+...=.....$$

$$26+7=...+...+...=...+...=.....$$

