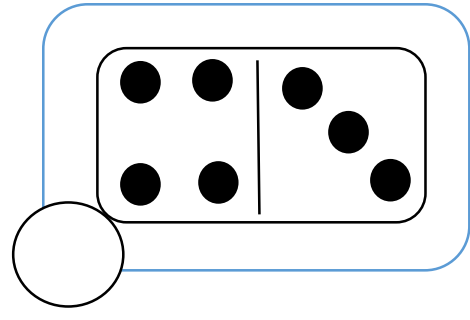
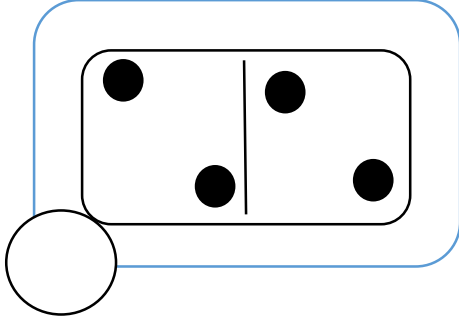






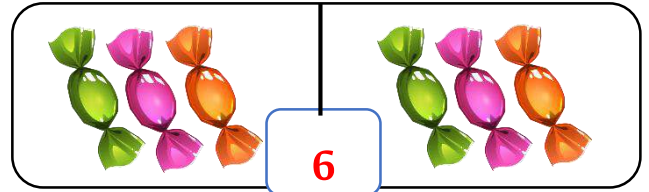
• أَلَوْنُ مَا يُعَبِّرُ عَنِ النِّصْفِ



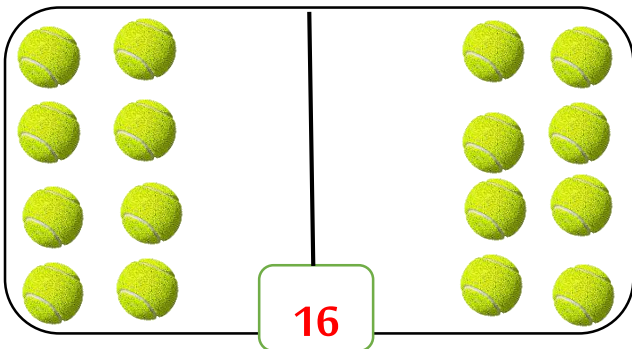
• الْأَحْظُ وَأُكْمِلُ




نِصْفُ 8 هُوَ ...



نِصْفُ 6 هُوَ ...



نِصْفُ 16 هُوَ ...



نِصْفُ 12 هُوَ ...

• أَلَوْنُ الْإِجَابَةِ الصَّحِيحَةِ

نِصْفُ 10

5

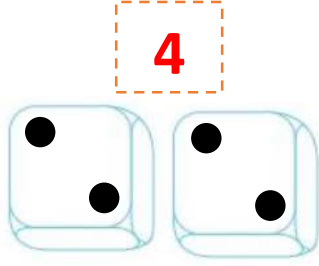
4

6




• أَرْسُمُ دَوَائِرَ عَلَى زَهْرَتِي النَّرْدِ بِالتَّسَاوِي لِأَتَحَصَّلَ عَلَى المَجْمُوعِ ثُمَّ أَكْمِلُ كَمَا فِي المِثَالِ

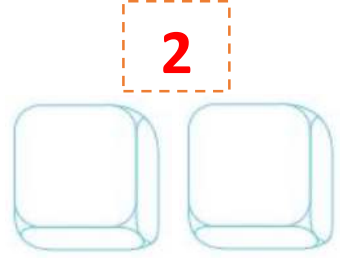
$4 = 2 + 2$   
2 هُوَ نِصْفُ 4




$8 = \dots + \dots$   
... هُوَ نِصْفُ 8



$2 = \dots + \dots$   
... هُوَ نِصْفُ 2



• يُرِيدُ الفَأْرَانِ اِقْتِسَامَ قِطْعِ الجُبْنِ بِالتَّسَاوِي، أَحْوَطُ الجُبْنَ الَّذِي يَأْخُذُهُ كُلُّ فَأْرَتَيْنِ أَكْمِلُ



يَأْخُذُ كُلُّ فَأْرَتَيْنِ جُبْنَ

• أَكْمِلُ الجَدْوَلَ

16	14	12	10	8	6	العدد
...	...	...	...	...	...	نصفه



للمزيد من الأعمال والملفات يرجى زيارة صفحتنا على الفيس بوك

<https://www.facebook.com/2340870549287201-الاستاذ-محمد->

مع تحيات الاستاذ محمد