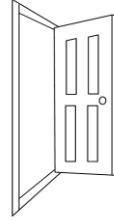


واجب منزلي رقم 01

أولاً: اللغة العربية

1- أربط كل صورة بالكلمة المناسبة:



•

•

•

•

•

•

•

•

•

•

مَدْرَسَةٌ

تُفَّاحَةٌ

دُبٌّ

دَارٌ

بَابٌ

2- كتابة:

ثانياً: الرياضيات

1- حوِّط حول خانة العدد الأكبر:

1	7
---	---

3	0
---	---

2	4
---	---

5	8
---	---





9	6
---	---

2- رتب الأعداد من الأصغر إلى الأكبر : 8 -6 -5 -10 -9 -2 -7 -4 -3 -1-0

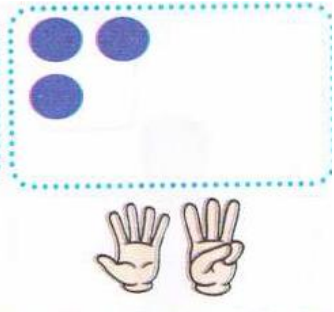
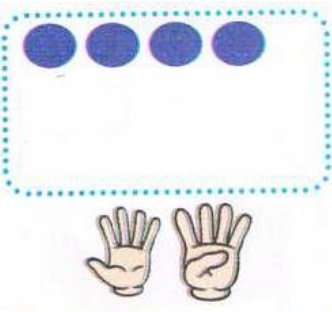
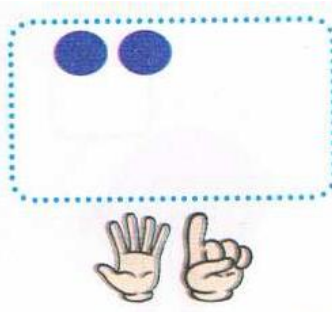
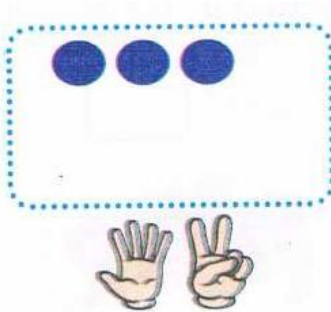


0
---	-------	-------	-------	-------	-------	-------	-------	-------	-------	-------

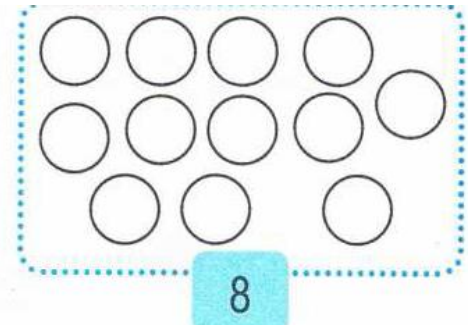
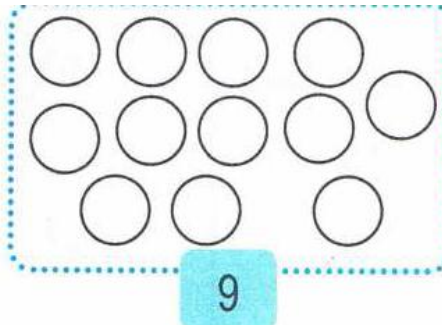
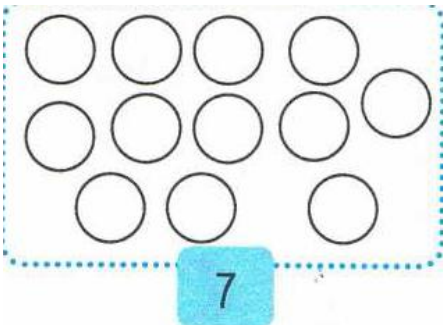
3 -حوِّط العدد المناسب كما في المثال:



4 -أكمل رسم القرصات الناقصة:




5 -لون القرصات حسب العدد:



واجب منزلي رقم 02أولاً: اللغة العربية

1- أرِبْطُ كُلِّ صُورَةٍ بِالْكَلِمَةِ الْمُنَاسِبَةِ:



•

•

•

•

•

•

•

•

•

•

•

•

شَجَرَةٌ

حَمَامَةٌ

هَاتِفٌ

جَمَلٌ

أَسَدٌ

عَلَمٌ

2- أضع الحرف المناسب أول الكلمة:

بَ

تُ

هَ

حَ

مَ

عَ



مَامَةٌ



نَبٌ



فَاحَةٌ



اتِفٌ



وَزٌ



طَيِّخٌ

1- رَتِّبِ الْكَلِمَاتِ لِتَتَّحَصَلَ عَلَى جُمْلَةٍ مُفِيدَةٍ ثُمَّ اكْتُبْهَا :

تَسْقِي


الْأَزْهَارَ

الْأُمَّ




ثانياً: الرياضيات

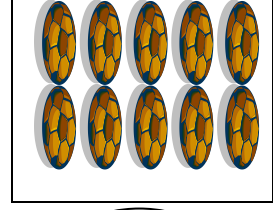
1- اُكْتُبْ عَدَدَ عَنَاصِرِ كُلِّ مَجْمُوعَةٍ:



.....



.....



.....

2- اِحْسُبْ عَمَلِيَّاتِ الْجَمْعِ:

$$2 + 1 = \dots\dots\dots$$

$$6 + 4 = \dots\dots\dots$$

$$4 + 1 = \dots\dots\dots$$


3- اِحْسُبْ عَمَلِيَّاتِ الطَّرْحِ:

$$3 - 1 = \dots\dots\dots$$

$$5 - 2 = \dots\dots\dots$$

$$4 - 3 = \dots\dots\dots$$

4- اَرْبِطْ كُلَّ عَرَبِيَّةٍ بِالرَّقْمِ الْمُنَاسِبِ:



واجب منزلي رقم: 03أولاً: اللغة العربية

1 - قَطِّعِ الكَلِمَاتِ التَّالِيَةَ كَمَا فِي المِثَالِ:

.....	حَ	مَا	مَ	ة	حَمَامَةٌ
.....	صُورَةٌ
.....	شَجَرَةٌ
.....	عُشْبٌ	عُشْبٌ
.....	ضِرْسٌ

2 - أَضَعِ الحُرْفَ المُنَاسِبَ أَوَّلَ الكَلِمَةِ:


عَ	مَ	حَ	هَ	تَ	بَ
فَاحَةٌ	تَلْبٌ	فَاحَةٌ	فَاحَةٌ	فَاحَةٌ	فَاحَةٌ
طَيْخٌ	وَزٌ	طَيْخٌ	طَيْخٌ	طَيْخٌ	طَيْخٌ

3 - رَتِّبِ الكَلِمَاتِ لِتَتَحَصَّلَ عَلَى جُمْلَةٍ مُفِيدَةٍ ثُمَّ اكْتُبْهَا :


الأم	الأزهار	تسقي
		
<p>.....</p> <p>.....</p> <p>.....</p> <p>.....</p>		

ثانياً: الرياضيات

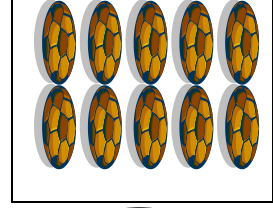
1- اكتب عدد عناصر كل مجموعة:



.....



.....



.....

2- لون بطاقة العملية الصحيحة:

10-3		9-3	
6+4		9+3	
10-4		4+1	

3- احسب عمليات الجمع و الطرح:

$$2 + 1 = \dots\dots\dots$$

$$8 + 2 = \dots\dots\dots$$

$$6 + 3 = \dots\dots\dots$$

$$3 - 1 = \dots\dots\dots$$

$$10 - 2 = \dots\dots\dots$$

$$9 - 3 = \dots\dots\dots$$

4- اكمل بالعدد المناسب:

$$2 + \dots\dots\dots = 10$$

$$\dots\dots\dots + 3 = 9$$

$$6 + \dots\dots\dots = 7$$

$$3 = 2 + \dots\dots\dots$$

$$9 = \dots\dots\dots + 5$$


$$8 = 6 + \dots\dots\dots$$

5- لون طريق اللبوة للعودة لصغيرها:




ثانياً: الرياضيات


1- أكمل رسم القرصات الناقصة:



19




17




14


2- اكتب العدد في كل بطاقة:



.....



.....



.....

3- احسب عمليات الجمع:

$$2 + 1 = \dots\dots\dots$$

$$5 + 5 = \dots\dots\dots$$

$$4 + 2 = \dots\dots\dots$$

$$3 + 2 = \dots\dots\dots$$

4- احسب عمليات الطرح:

$$2 - 1 = \dots\dots\dots$$

$$3 - 1 = \dots\dots\dots$$

$$8 - 2 = \dots\dots\dots$$

$$10 - 2 = \dots\dots\dots$$

5- رتب الدببة من الأكبر إلى الأصغر:



.....



3



.....



.....