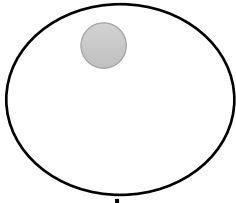


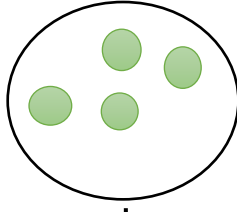
كل عسير إذا
استعنت بالله فهو
يسير

مراجعة رقم 02 في الرياضيات للسنة الأولى ابتدائي

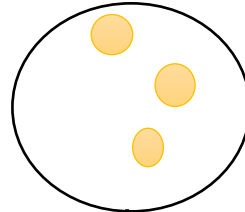
(1) لاحظ البطاقات وأكمل رَسْمَ القَرِيصَات:



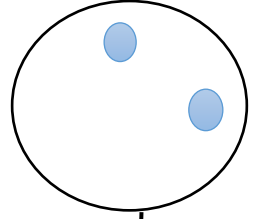
7



9



8




6

(2) لَوْنِ الأشْكَالِ بِمَا يُنَاسِبُ العَدَدَ فِي كُلِّ سَطْرٍ:

	5
	8
	9
	7
	6


(3) أخْصِبْ ثَمَّ لَوْنِ خَانَةِ العَدَدِ المُنَاسِبِ:



8

7


6



8

9


7



9

6

8



6

4

9





(4) ابْحَثْ عَنِ الرِّقْمِ 8 وَلَوْنِهِ:

4	1	8	3	6
8	2	0	9	
	3	8	7	5
	0	1	8	

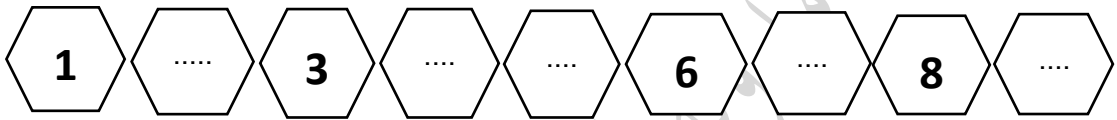
(4) ابْحَثْ عَنِ الرِّقْمِ 6 وَلَوْنِهِ:

9	6	3	1
9	4	6	0
1	6	1	8
7	8	3	9

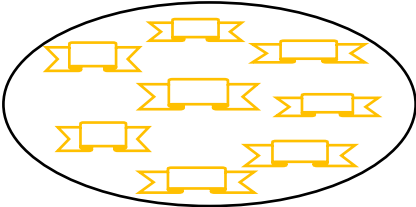
5) اكتب عدد النجوم في كل بطاقة:



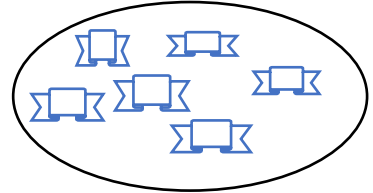
6) اكمل الشريط العددي:



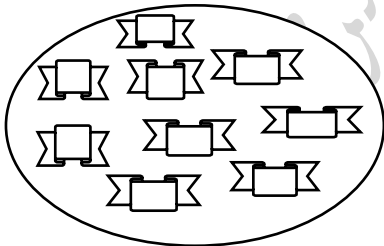
7) اربط بسهم:



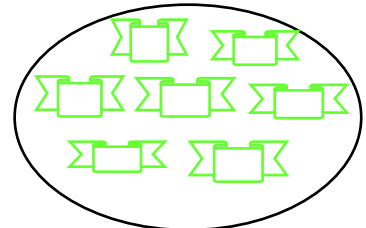
9



7



6



8

8) اكتب:

6	6	6	6	6	6	6	6
7	7	7	7	7	7	7	7
8	8	8	8	8	8	8	8
9	9	9	9	9	9	9	9

إن أحسنت فمن الله وإن أسأت أو أخطأت فمن نفسي والشيطان