
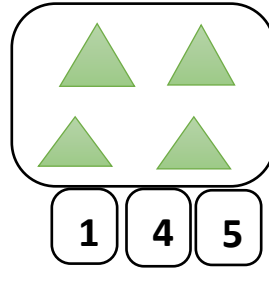

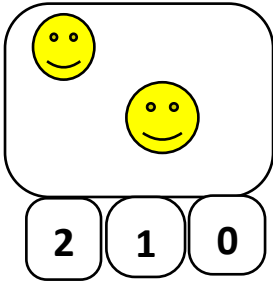
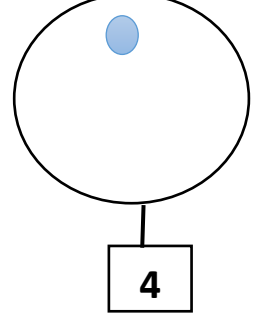
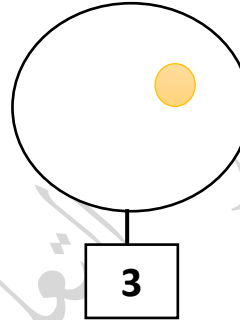
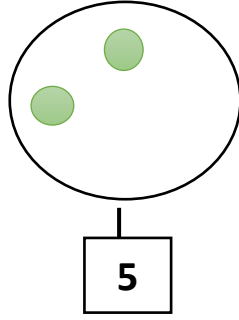
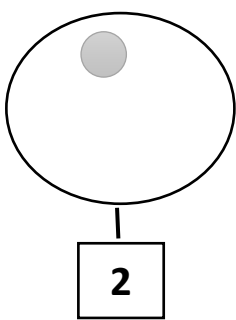


مراجعة رقم 01 في الرياضيات
للسنة الأولى ابتدائي


(1) أحسب وألون العدد الصحيح:



(2) أرسم القرصيات الناقصة:



(3) أربط بينهم كل عدد بما يناسبه:



3

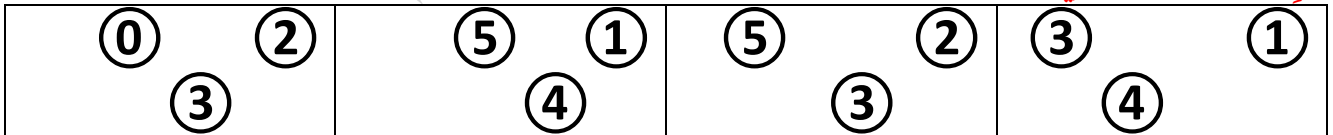
5

2

4

1

(4) ألون العدد الأكبر في كل مجموعة:



(5) أكتب:

						1	1	1
						2	2	2
						3	3	3
						4	4	4
						5	5	5