

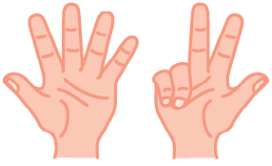


$$5 + \dots = 10$$

أكمل إلى 10



$$6 + \dots = 10$$



$$8 + \dots = 10$$



$$7 + \dots = 10$$

$$\textcircled{7} + \textcircled{3} + 6 =$$

أحسب

$$\textcircled{5} + 3 + \textcircled{5} =$$

$$\textcircled{6} + \textcircled{4} + 2 =$$

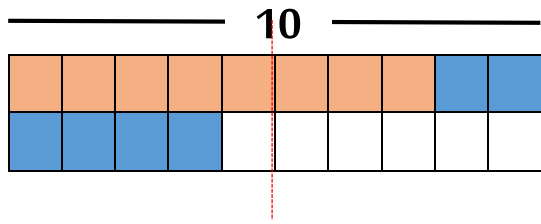
أحسب

$$\textcircled{9} + \textcircled{1} + 5 =$$

أضع $\textcircled{}$ حول العددين اللذين يشكلان عشرة ثم اجد

$$4 + 7 + 3 =$$

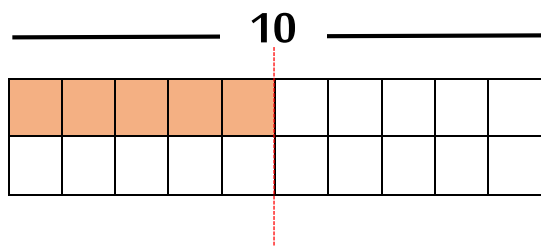
$$8 + 3 + 2 =$$



$$8 + 6 = 8 + 2 + \dots$$

10

.....

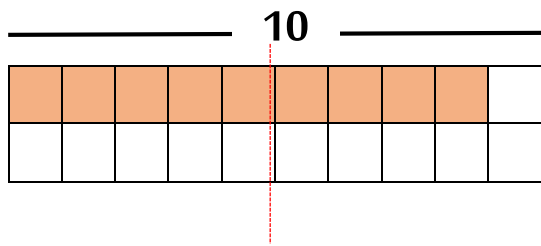


ألون ثم أحسب

$$5 + 7 = 5 + \dots + \dots$$

10

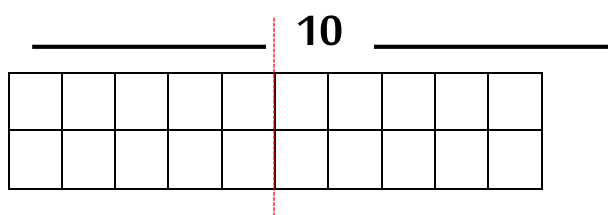
.....



$$9 + 4 = \dots + \dots + \dots$$

10

.....



$$7 + 8 = \dots + \dots + \dots$$

10

.....

للمزيد من الأعمال والملفات يرجى زيارة صفحتنا على الفيس بوك

<https://www.facebook.com/2340870549287201-الاستاذ-محمد->

مع تحيات الاستاذ محمد