



أحسننت وبارك  
الله فيك يا بني

## مراجعة رقم 03 في الرياضيات للسنة الأولى ابتدائي


(1) شَطِّبْ عَلَى الْأَشْيَاءِ الزَّائِدَةَ فِي كُلِّ مَجْمُوعَةٍ :



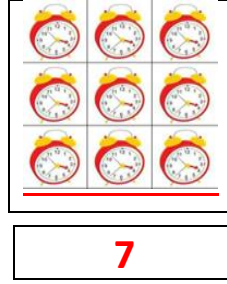
8



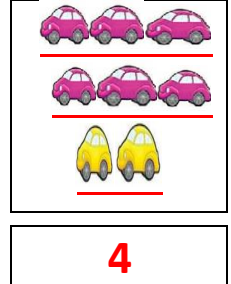
5



0



7



4

(2) لَوِّنْ (فَوْقَ) أَوْ (تَحْتَ) :

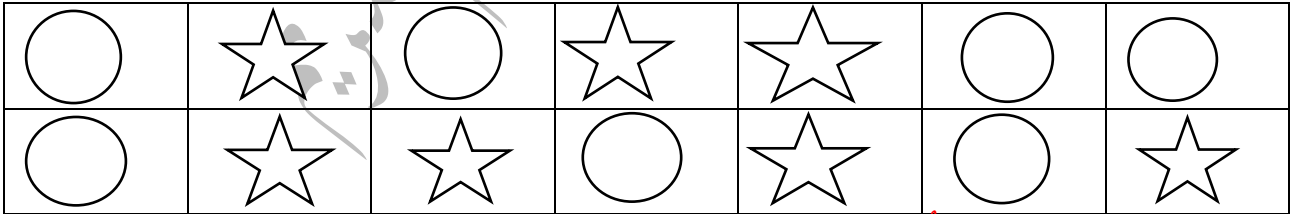
|              |        |        |                  |   |
|--------------|--------|--------|------------------|---|
| الطَّائِلَةُ | تَحْتَ | فَوْقَ | الْمَرْهَبَةُ    | ✓ |
| الطَّائِلَةُ | تَحْتَ | فَوْقَ | الْقَلَمُ        | ✓ |
| الطَّائِلَةُ | تَحْتَ | فَوْقَ | الْكُرَّةُ       | ✓ |
| الطَّائِلَةُ | تَحْتَ | فَوْقَ | الْكِتَابُ       | ✓ |
| الطَّائِلَةُ | تَحْتَ | فَوْقَ | الْقَطُّ         | ✓ |
| الطَّائِلَةُ | تَحْتَ | فَوْقَ | حَوْضُ السَّمَكِ | ✓ |

(3) اَرَسِّمْ فَرَاشَةَ أَمَامَ الْبَيْتِ وَوَرْدَةَ وَرَاءَهَا



(4) لَوِّنْ بِالْأَحْمَرِ الْأَقْرَاصَ الْمَوْجُودَةَ فِي أَعْلَى الْبِطَاقَةِ وَبِالْأَخْضَرِ الْأَقْرَاصَ الْمَوْجُودَةَ فِي أَسْفَلِهَا:


✓ لَوِّنْ بِالْأَضْفَرِ النُّجُومَ الْمَوْجُودَةَ فِي أَعْلَى الْبِطَاقَةِ وَبِالْأَزْرَقِ الْمَوْجُودَةَ فِي أَسْفَلِهَا:




(5) اَحْسِبْ عَدَدَ الْأَشْكَالِ ثُمَّ اَكْتُبْهُ فِي الْجَدْوَلِ

|  |         |       |
|--|---------|-------|
|  | الاشكال | العدد |
|  | ★       |       |
|  | ●       |       |
|  | ▲       |       |
|  | ■       |       |

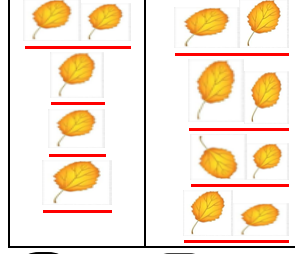
(6) اكْمَلِ الْبَطَاقَاتِ وَقَارِنِ الْأَعْدَادَ ثُمَّ لَوِّنْ خَانَةَ الْإِجَابَةِ الصَّحِيحَةَ :



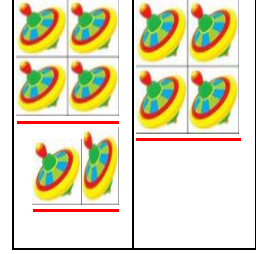
أكبر من  
أصغر من  
يساوي



أكبر من  
أصغر من  
يساوي





أكبر من  
أصغر من  
يساوي

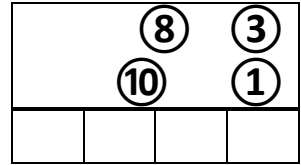
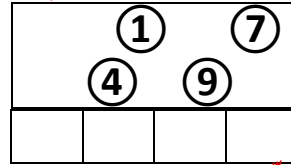
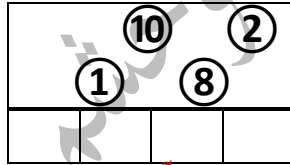
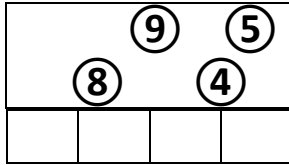


أكبر من  
أصغر من  
يساوي

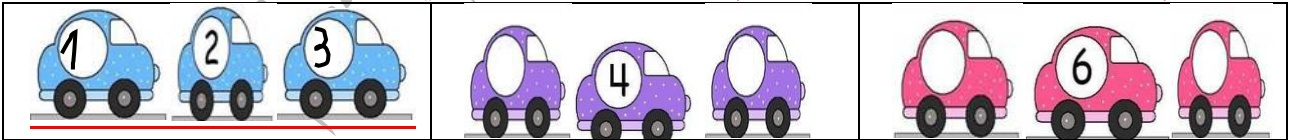
(7) رَتِّبْ أَشْجَارَ النَّخِيلِ مِنَ الْأَقْصَرِ إِلَى الْأَطْوَلِ :



(8) لَاحِظْ وَرَتِّبْ الْأَعْدَادَ مِنَ الْأَكْبَرِ إِلَى الْأَصْغَرِ :



(9) اكْتُبْ عَنِ الْيَسَارِ الْعَدَدَ الَّذِي يَسْبِقُ وَعَنِ الْيَمِينِ الْعَدَدَ الَّذِي يَلِي (لاحظ المثال):



(10) أَحْسِبْ مَا يَلِي :

$4 + 1 = \dots$

$8 + 1 = \dots$

$6 + 4 = \dots$

$5 + 3 = \dots$

$7 + 2 = \dots$

$9 + 0 = \dots$

$9 - 2 = \dots$

$2 - 1 = \dots$

$10 - 0 = \dots$

$8 - 5 = \dots$

$7 - 6 = \dots$

$3 - 2 = \dots$

$5 + 1 = \dots$

$7 + 3 = \dots$

$9 + 1 = \dots$

$8 - 8 = \dots$

$9 - 7 = \dots$

$6 - 4 = \dots$

إن أحسنت فمن الله وإن أسأت أو أخطأت فمن نفسي والشيطان