



أكتب طول كل رسم




..... مساسيك

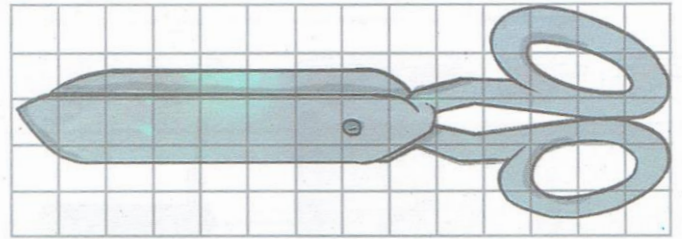
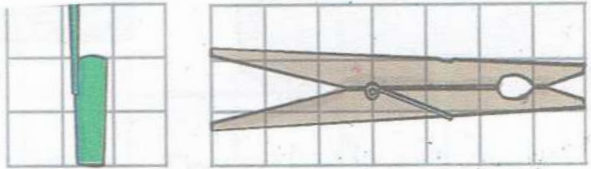


..... مساسيك

أشطب المساسيك الزائدة



أكتب طول كل وسيلة باستعمال المربعات





..... مربعات

..... مربعات

..... مربعات

ساعد أمينة في مقارنة طول الطاولتين باستعمال وختين مختلفتين

ألون



أستطيع المقارنة

لا أستطيع المقارنة