

أجدُ النَّاتِجَ




$$3 - 2 = \dots$$

أجدُ النَّاتِجَ



$$6 - 3 = \dots$$

أشطَّبُ وأجدُ النَّاتِجَ




$$4 - 2 = \dots$$

أكْمِلُ ثمَّ أجدُ النَّاتِجَ




$$8 - \dots = \dots$$

أشطَّبُ وأجدُ النَّاتِجَ



$$6 - 4 = \dots$$

أكْمِلُ ثمَّ أجدُ النَّاتِجَ



$$7 - \dots = \dots$$

أضع العملية وأجدُ النَّاتِجَ



$$\dots - \dots = \dots$$

أضع العملية وأجدُ النَّاتِجَ



$$\dots - \dots = \dots$$

أحْسِبُ

$$8 - 4 = \dots$$

$$5 - 4 = \dots$$

$$6 - 3 = \dots$$