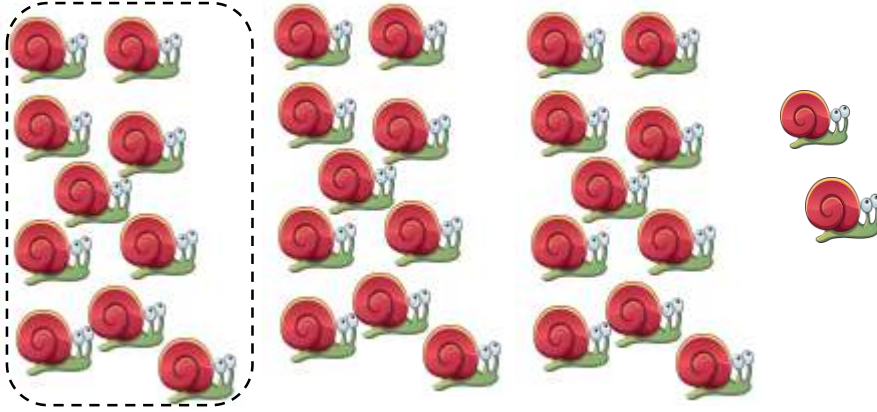


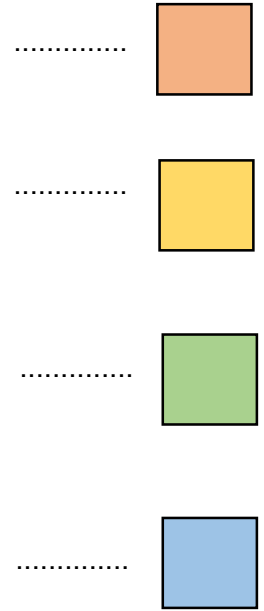
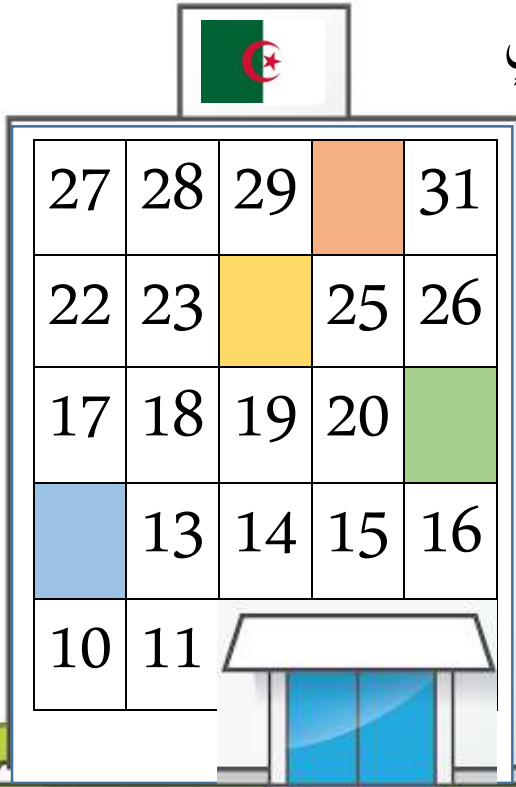


1. أَحْوَطُ الْعَشْرَاتِ ثُمَّ أَكْتُبُ عَدَدَ الْحَلْزُونَاتِ



يُوجَدُ حَلْزُونًا

2. أَكْتُبُ الْأَعْدَادَ الْمُوَافِقَةَ لِكُلِّ لَوْنٍ



الأستاذ محمد

3. أَكْمِلُ الْجَدْوَلَ كَمَا فِي الْمَثَالِ

$30+4$	أَرْبَعَةٌ وَثَلَاثُونَ	34
.....	39
.....	وَاحِدٌ وَثَلَاثُونَ
$30+5$

4. أرتب من الأصغر إلى الأكبر

27 - 9 - 18 - 35

.....

5. أحسب

23+5=...

36-4=...


5+7=5+... + ...

.....

.....

.....

أرسم عقارب الساعة




أكمل



الساعة

.....

ألون الكريات التي على استقامة واحدة مع الكريات الحمراء



ألون نجوم التمارين التي وفقت في حلها

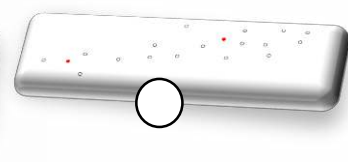

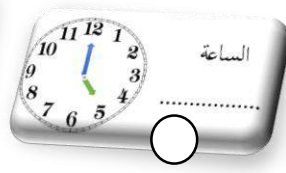
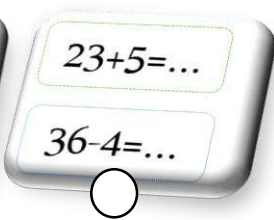
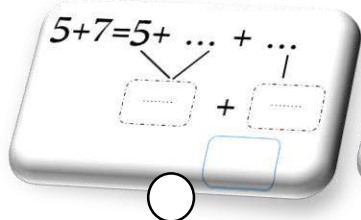
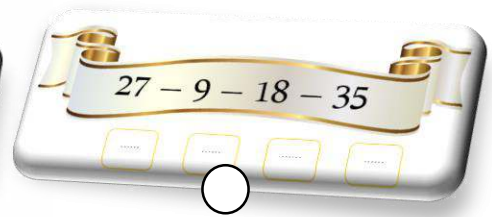
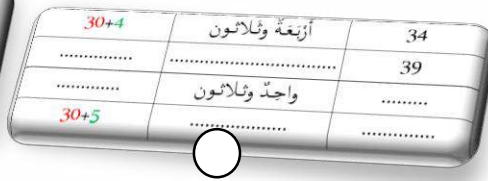

☆	التجميع وتشفير كمية	1
☆	الشريط العددي ومنتالية الأعداد	2
☆	قراءة، كتابة وتفكيك	3
☆	ترتيب الأعداد	4
☆	الجمع بالمرور على 10	5
☆	جمع عدد برقمين مع عدد برقم	6
☆	طرح عدد برقم من عدد برقمين	7
☆	أكتب التوقيت انطلاقا من عقارب الساعة	8
☆	أضع عقارب الساعة لأشير الى توقيت معطى	9
☆	اتحقق وأحدد نقاط على استقامية واحدة	10



• كم نجمة تحصلت؟

الأستاذ محمد

• أين أخطأت؟



للمزيد من الأعمال والملفات يرجى زيارة صفحتنا على الفيس بوك

<https://www.facebook.com/2340870549287201-الاستاذ-محمد->

مع تحيات الاستاذ محمد