

Mon fichier
de numération n°4

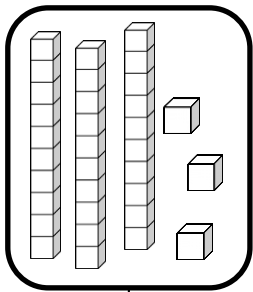
Les nombres de 0 à 40

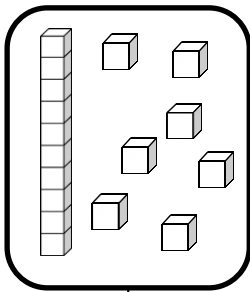


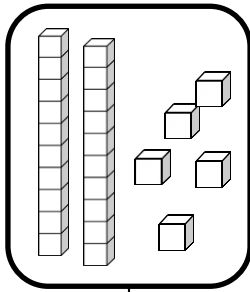
Nombres et quantités : de 0 à 40

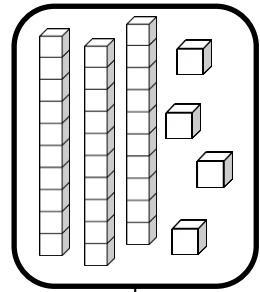


1 Complète avec le bon nombre :










2 Complète la bande numérique:



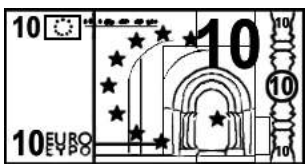


Nombres et quantités : de 0 à 40

1 Complète le tableau des nombres

0	1	2		4	5	6	7		9
10		12	13	14	15	16	17	18	
	21	22	23	24			27	28	29
30	31		33		35	35		38	


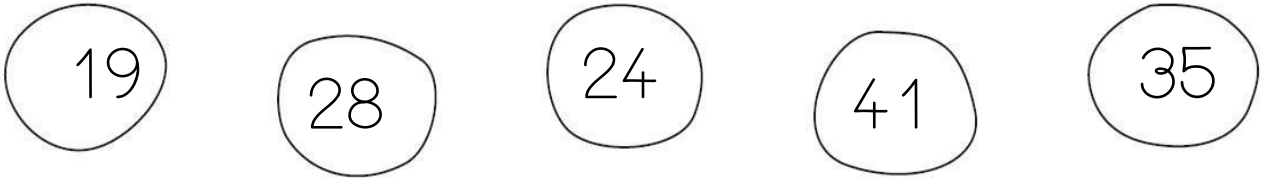
2 Trouve combien Arthur a d'argent dans sa tirelire :



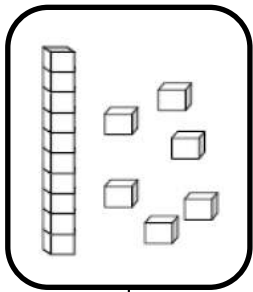
Nombres et quantités : de 0 à 40




1 Relie les nombres à leur place sur la droite graduée




2 Dessine le nombre en barres




16



36



34

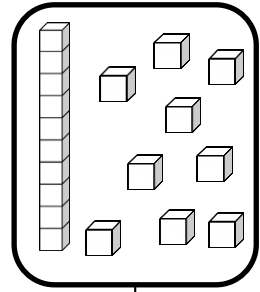
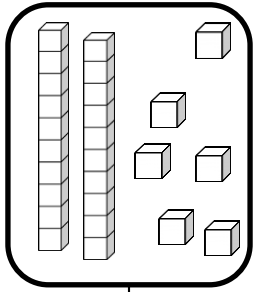
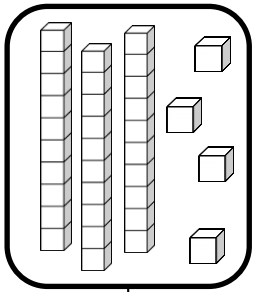
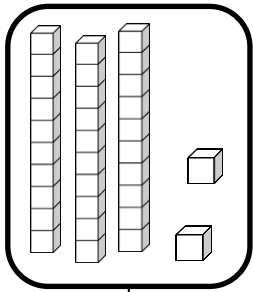


33


Nombres et quantités : de 0 à 40



1 Complète avec le bon nombre :



2 Complète la bande numérique:



Nombres et quantités: de 0 à 40




1 Aide-toi des étiquettes pour écrire les nombres

36	
28	
32	


- deux
- six
- huit
- vingt
- trente


2 Complète



Nombres et quantités: de 0 à 40

1 Compte en faisant des paquets de 10





Nombres et quantités: de 0 à 40



1 Aide-toi des étiquettes pour écrire les nombres

35	
29	
33	

- trois
- cinq
- neuf
- vingt
- trente

2 Ecris les nombres dans l'ordre décroissant, du plus grand au plus petit:

36 - 15 - 31

34 - 23 - 27

Three empty rounded rectangular boxes for writing the numbers from the first set.

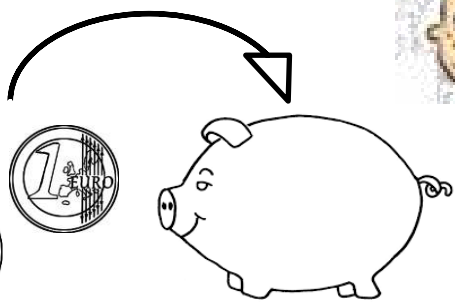



Three empty rounded rectangular boxes for writing the numbers from the second set.

Nombres et quantités : de 0 à 40

1 Complète le tableau des nombres

0	1		3	4	5	6	7	8	
	11			14	15	16	17	18	19
20	21	22			25	26	27		29
30		32	33	34				38	39

2 Trouve combien Arthur a d'argent dans sa tirelire :



Nombres et quantités : de 0 à 40



1 Relie les nombres à leur place sur la droite graduée


12

27


21

36

31



2 Complète



Nombres et quantités : de 0 à 40

1 Aide-toi des étiquettes pour écrire les nombres

32	
17	
39	

deux

sept

neuf

dix

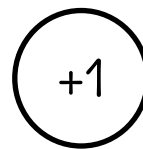

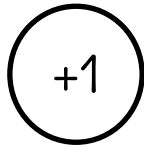

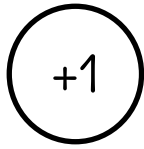
trente

2 Ecris les nombres dans l'ordre croissant, du plus petit au plus grand:

39 - 19 - 25 - 14 - 26

Nombres et quantités: de 0 à 40

1 Fais avancer la grenouille. Colorie le chemin de son parcours et entoure sa case d'arrivée.




0	1	2	3	4	5	6	7	8	9
10	11		13	14	15	16	17	18	19
20	21	22	23	24	25	26	27	28	29
30	31	32	33	34	35	36	37	38	39

Nombres et quantités: de 0 à 40

1 Relie



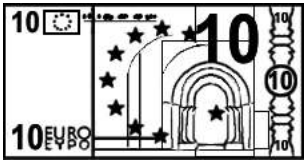


2 Complète

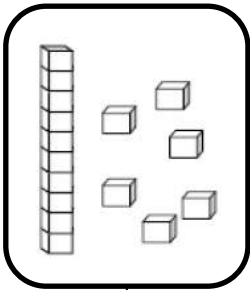


Nombres et quantités: de 0 à 40


1 Trouve combien Arthur a d'argent dans sa tirelire :




2 Dessine le nombre en barres




16



32



26



37

Nombres et quantités : de 0 à 40



1 Colorie de la même couleur ce qui est identique:

33

$30+7$

trente-trois

trente-sept

$30+5$

35

39

$30+3$

trente-cinq

31

$30+9$

37

$30+1$

trente-neuf

trente-et-un

Nombres et quantités: de 0 à 40



1 Ecris les nombres dans l'ordre décroissant, du plus grand au plus petit:

23 - 32 - 27

□ □ □

24 - 34 - 13

□ □ □

2 Trouve le nombre qui vient avant et celui qui vient après

□	39	□
□	32	□
□	26	□


□	35	□
□	24	□
□	17	□

Nombres et quantités : de 0 à 40

1 Fais avancer la grenouille. Colorie le chemin de son parcours et entoure sa case d'arrivée.



○ +1 ○ +10 ○ +10 ○ +10 ○ +1

0	1		3	4	5	6	7	8	9
10	11	12	13	14	15	16	17	18	19
20	21	22	23	24	25	26	27	28	29
30	31	32	33	34	35	36	37	38	39

Nombres et quantités : de 0 à 40



1 Colorie de la même couleur ce qui est identique:

34

$30+8$

trente-quatre

trente-huit

trente-deux

$30+4$

36

39

$30+9$

trente-six

32

$30+2$

$30+6$



38

trente-neuf

Nombres et quantités: de 0 à 40



1 Compte en faisant des paquets de 10



Nombres et quantités : de 0 à 40

3



15

1 Complète avec $<$, $>$ ou $=$:

22 28

31 13

36 23

29 20

27 35

39 30

2 Ecris les nombres dans l'ordre croissant, du plus petit au plus grand:

37 - 17 - 27

12 - 31 - 21

Nombres et quantités: de 0 à 40



1 Trouve le nombre qui vient avant et celui qui vient après

— 38 —

— 34 —

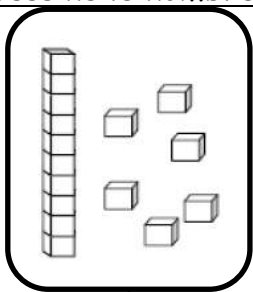
— 31 —

— 33 —

— 35 —

— 36 —

2 Dessine le nombre en barres



16

35

37

38

Nombres et quantités : de 0 à 40



1 Relie les nombres à leur place sur la droite graduée


16

24


34

39

33



2 Complète



Nombres et quantités : de 0 à 40

3  15

1 Complète avec $<$, $>$ ou $=$:

39 $30 + 8$

$30 + 3$ 39

36 $30 + 3$

$30 + 4$ 35

37 $30 + 5$

$30 + 7$ 36

2 Ecris les nombres dans l'ordre croissant, du plus petit au plus grand:

34 - 26 - 30 - 18 - 24

Five empty rounded rectangular boxes for writing the numbers in ascending order.