

أكمل كتابة عدد العناصر الإضافية



10 و.....

13

ثَلَاثَة  
عَشْرَة

10 و.....

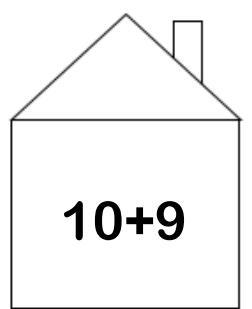
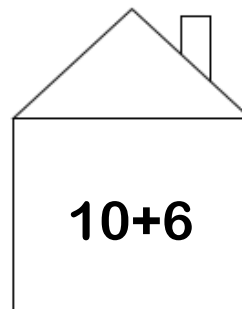
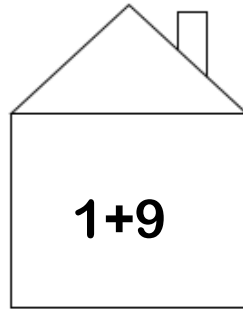
15

خَمْسَة  
عَشْرَة

أكتب العدد المناسب



ألون البيت المناسب للعدد الذي تحمله الفتاة



أكمل



$18 = \dots + 8$

$17 = \dots + 7$

$12 = 10 + \dots$

$11 = 10 + \dots$

