

ط ا ك ق ص ض

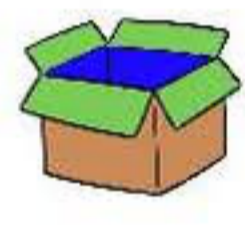
النص

أنا إسمي طارق، أمارس رياضة كرة القدم، أما صديقي صهيب فهو يجيد السباحة على ظهره.

الوضعية 1  
إستخرج من النص كلمات تحتوي الحروف التالية

ظ	ط	ض	ق	ص	ك
.....	.....	.....	.....	.....	.....

الوضعية 2  
إربط بما يناسب



صَبْعٌ

طَائِرَةٌ



بَطَّةٌ

ظَرْفٌ

كُرَّةٌ

صُنْدُوقٌ

الوضعية 3  
أكمل بالحرف الناقص



.....بِطُّ

.....ارُوخُ

.....نْفَذُ

ق.....ارُ

الوضعية 4  
أستعمل الصيغ: هَذَا - هَذِهِ - هُوَ - هِيَ

.....تَلَعَبُ مَعَ صَدِيقَتِهَا.

.....الْوَلَدُ حَزِينٌ .

.....يُرْجِعُ دُرُوسَهُ .

.....الْبِنْتُ جَمِيلَةٌ .

احسب العمليات التالية

الوضعية 1

$10 + 1 = \dots$

$29 + 1 = \dots$

$19 + 1 = \dots$

$9 + 1 = \dots$

$40 - 1 = \dots$

$29 - 1 = \dots$

$19 - 1 = \dots$

$10 - 1 = \dots$

اكتب العدد الذي يسبق والذي يلي

الوضعية 2

.....

22

.....

.....

15

.....

.....

8

.....

.....

29

.....

.....

27

.....

.....

35

.....

أكمل الحساب كما في المثال

الوضعية 3

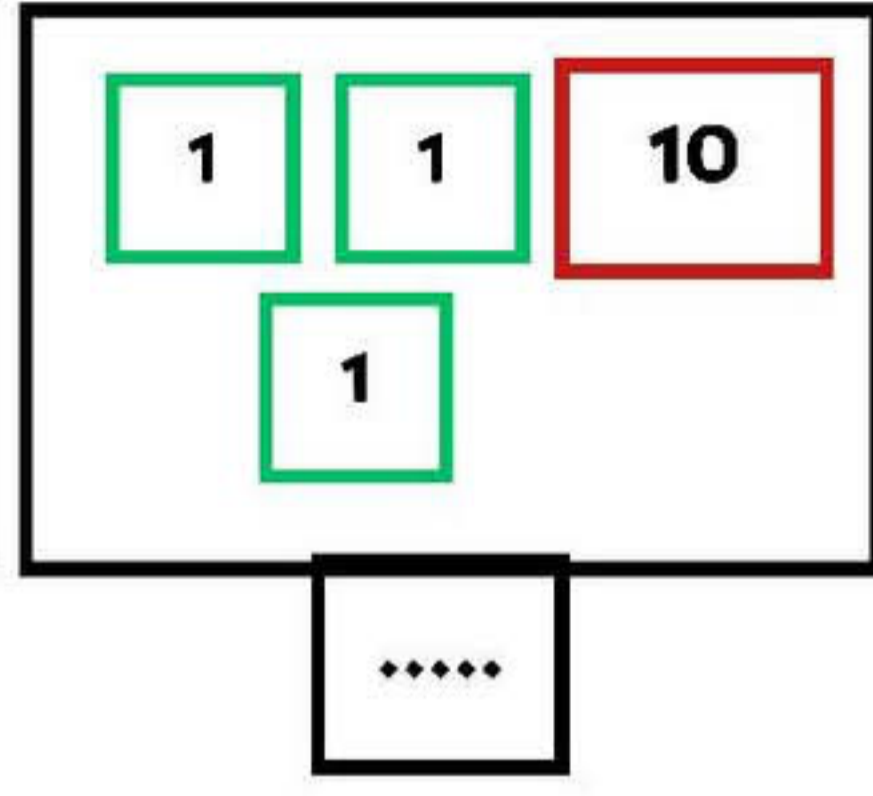
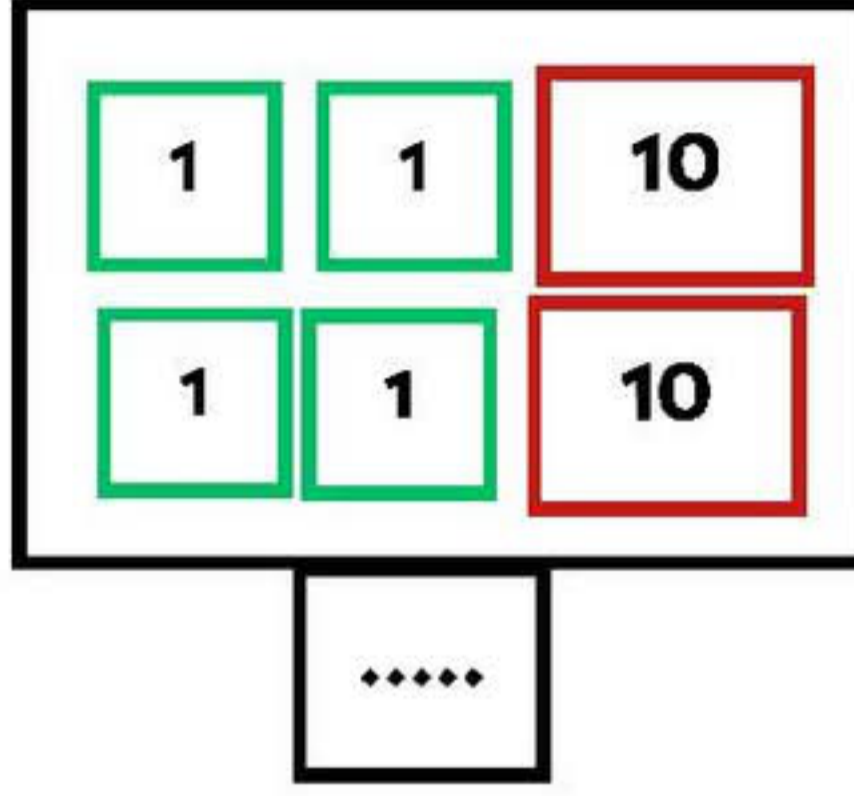
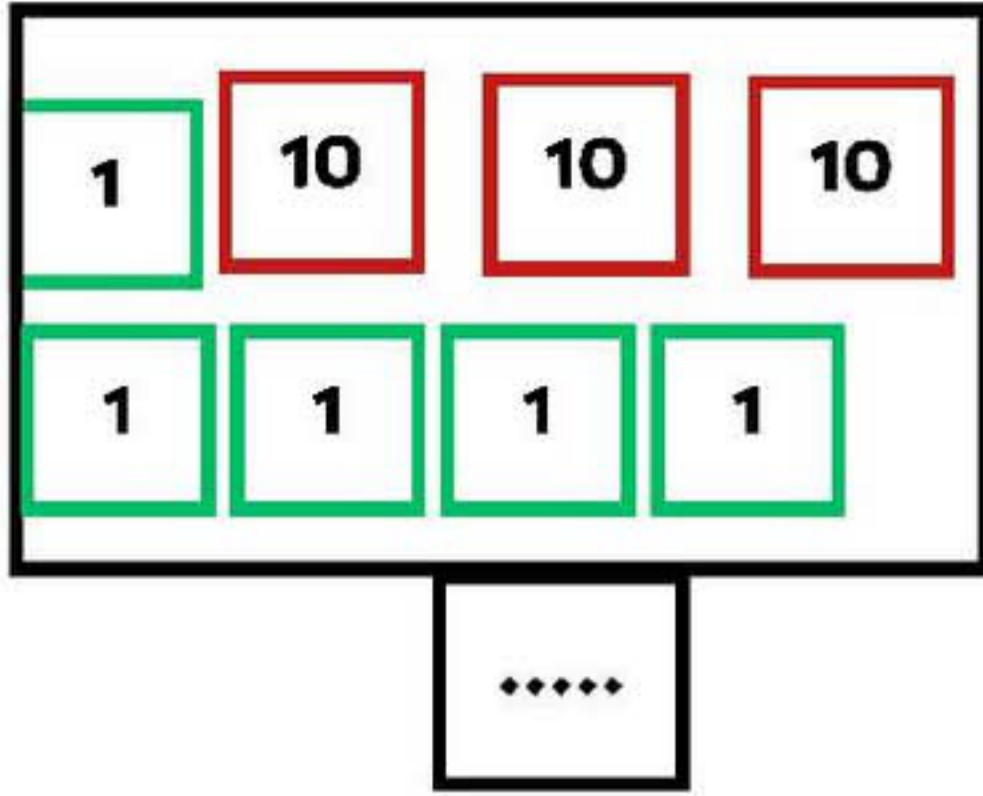
$17 + 6 = 17 + 3 + 3 = 20 + 3 = 23$

$29 + 4 = \dots + 1 + 3 = \dots + 3 = \dots$

$33 + 3 = \dots + 3 + 3 = \dots + 6 = \dots$

اكتب العدد المناسب

الوضعية 1

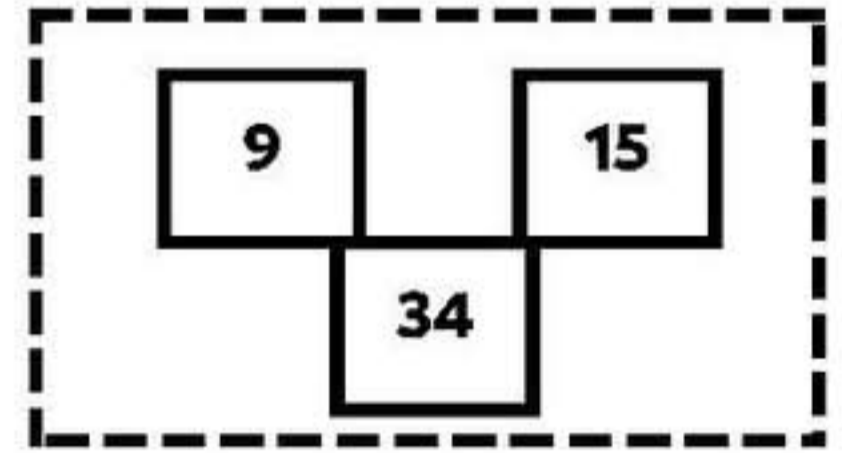
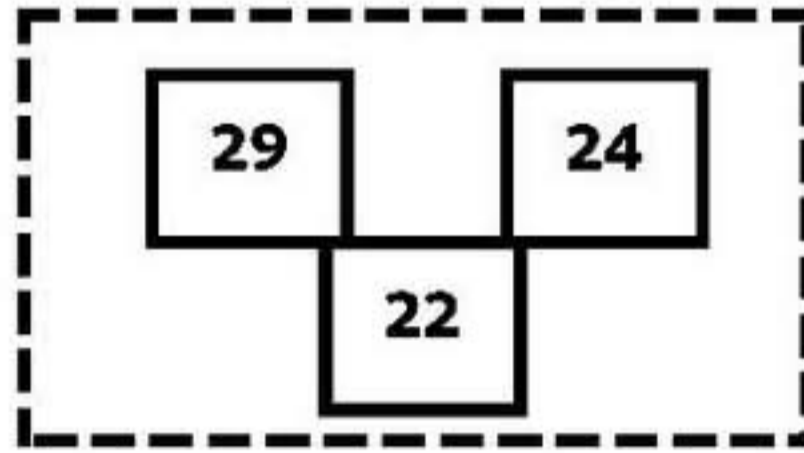
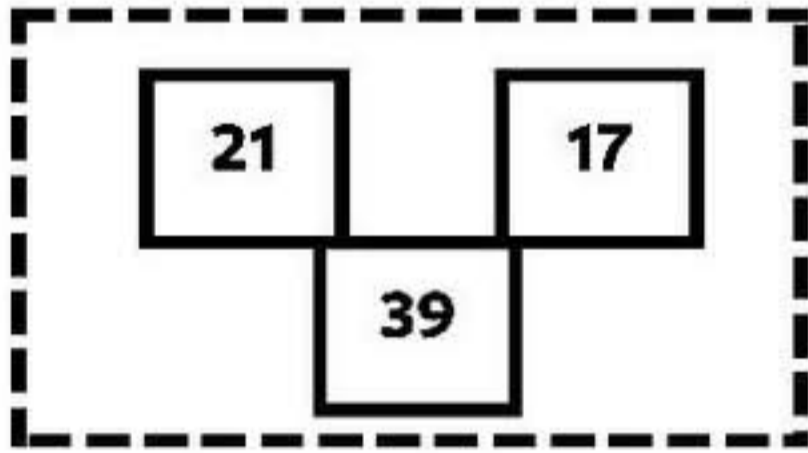


رتب الاعداد التالية من الأكبر الى الأصغر 20 ، 8 ، 13 ، 36 ، 25

..... ، ..... ، ..... ، ..... ، .....

لون العدد الكبير الاحمر والعدد الصغير بالاخضر في كل مجموعة

الوضعية 2



عين الاعداد التي تسبق و التي تلي او المحصورة بين عددين

الوضعية 3

