

امتحانات الفصل 2 الثاني

السنة 2 الثانية

التربية العلميّة



السؤال الأول : أكمل بـ : الوسط ، الماء ، جذوره ، الأخضر 2 ن



يَمْتَصُّ النَّبَاتُ ..... مِنْ .....  
الَّذِي يَعِيشُ فِيهِ ، بِوَاسِطَةِ ..... ثُمَّ يُورِّعُهُ إِلَى كُلِّ  
أَجْزَائِهِ .

السؤال الثاني : أصنّف في الجدول 2 ن

| أكلات اللحم | أكلات العشب |
|-------------|-------------|
| .....       | .....       |
| .....       | .....       |
| .....       | .....       |

السُّلْحَفَاءُ - الْحِصَانُ  
الثَّعْلَبُ - الْغَزَالَةُ  
النَّمِرُ - الْقِطُّ  
الْفِيلُ - الزَّرَافَةُ

السؤال الثالث : اربط كل حيوان بالأنثى التي تناسبه 2 ن



الوضعية / لاحظ الرزنامة ثم أجب : 3 ن

عدّد أيام شهر مارس هو ..... يوماً

عدّد الأسابيع الكاملة في شهر مارس هو ..... أسابيع

ينتهي شهر مارس يوم .....

1 ن التنظيم وحسن الخطّ

مارس 2022

| السبت | الأحد | الاثنين | الثلاثاء | الأربعاء | الخميس | الجمعة |
|-------|-------|---------|----------|----------|--------|--------|
| 4     | 3     | 2       | 1        |          |        |        |
| 11    | 10    | 9       | 8        | 7        | 6      | 5      |
| 18    | 17    | 16      | 15       | 14       | 13     | 12     |
| 25    | 24    | 23      | 22       | 21       | 20     | 19     |
|       | 31    | 30      | 29       | 28       | 27     | 26     |

للأستاذة : شيراز عبد الرزاق

العلمة : 2021-2022

التلميذ : .....


إمضاء الولي : .....

العلامة :       
10

السنة : الثانية 2 ابتدائي امتحان الفصل 2 الثاني في التربية العلمية



السؤال الأول : أكمل بـ : الوسط ، الماء ، جذوره ، الأخضر 2 ن



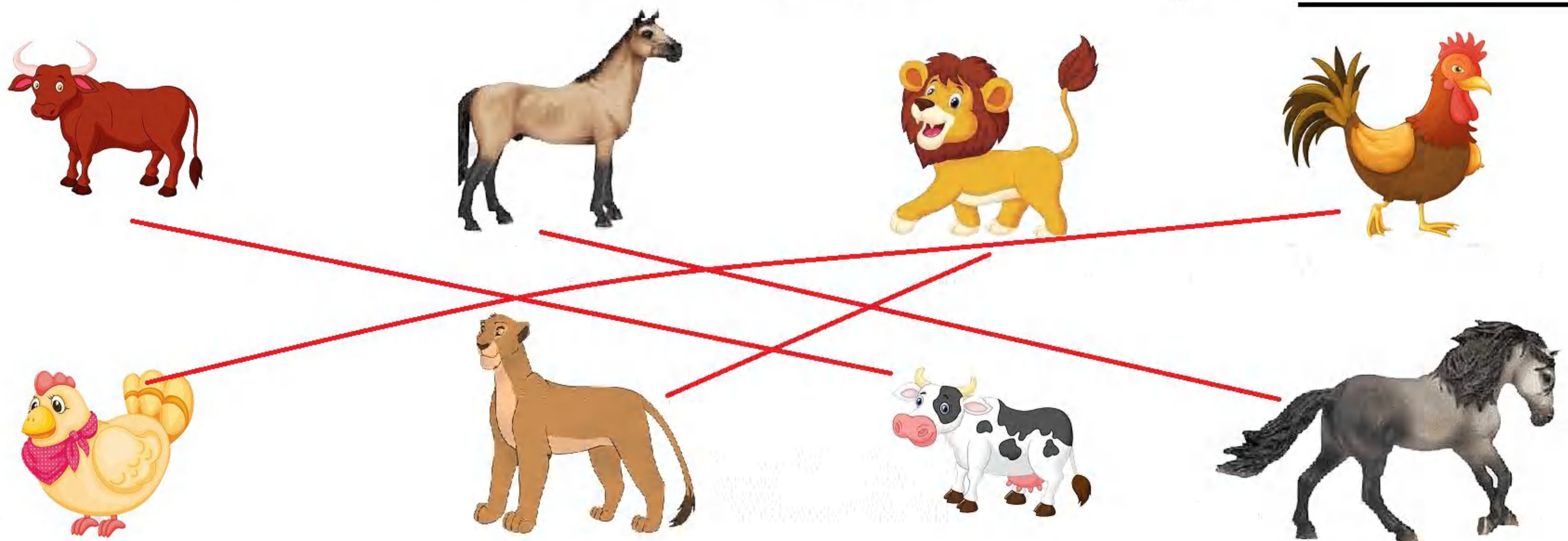
يَمْتَصُّ النَّبَاتُ .....الأخضر..... من .....الماء..... من .....الوسط.....  
الَّذِي يَعِيشُ فِيهِ ، بِوَأَسِطَةِ .....جذوره... ثُمَّ يُورِّعُهُ إِلَى كُلِّ  
أَجْزَائِهِ .

السؤال الثاني : أصنّف في الجدول 2 ن

| أكلات اللحم | أكلات العشب      |
|-------------|------------------|
| الثعلب      | السلاحف          |
| النمر       | الزرافة - الحصان |
| القط        | الفيل - الغزالة  |

السُّلْحَفَاءُ - الْحِصَانُ  
الثَّعْلَبُ - الْغَزَالَةُ  
النَّمْرُ - الْقِطُّ  
أَلْفِيلُ - الزَّرَافَةُ

السؤال الثالث : اربط كل حيوان بالأنثى التي تناسبه 2 ن



الوضعية / لاحظ الرزنامة ثم أجب : 3 ن

عدد أيام شهر مارس هو .....31 يومًا

عدد الأسابيع الكاملة في شهر مارس هو .....3 أسابيع

ينتهي شهر مارس يوم .....الخميس

1 ن التنظيم وحسن الخط

مارس 2022

| السبت | الأحد | الاثنين | الثلاثاء | الأربعاء | الخميس | الجمعة |
|-------|-------|---------|----------|----------|--------|--------|
| 4     | 3     | 2       | 1        |          |        |        |
| 11    | 10    | 9       | 8        | 7        | 6      | 5      |
| 18    | 17    | 16      | 15       | 14       | 13     | 12     |
| 25    | 24    | 23      | 22       | 21       | 20     | 19     |
|       | 31    | 30      | 29       | 28       | 27     | 26     |

التلميذ : .....

إمضاء الولي : .....

العلامة :  $\frac{\quad}{10}$ 

السؤال الأول : أجب بـ : صح أو خطأ (3 ن)

يَمْتَصُّ النَّبَاتُ الْمَاءَ بِوَأَسِطَةِ جُذُورِهِ ..... ، أَكَلَاتُ الْعُشْبِ تَعْتَشِبُ .....

الزَّرَافَةُ مِنْ أَكَلَاتِ اللَّحْمِ ..... ، الرُّزْنَامَةُ تُسَاعِدُنَا فِي حِسَابِ الزَّمَنِ .....

يَنْتَقِلُ الْمَاءُ مِنَ الْجُذُورِ إِلَى الْأَوْزَاقِ ..... ، الْأَحْدَاثُ الْمُتَعَاقِبَةُ مُتَتَابِعَةٌ .....

السؤال الثاني : أصنّف في الجدول (2.5 ن)

| أَكَلَاتُ اللَّحْمِ | أَكَلَاتُ الْعُشْبِ |
|---------------------|---------------------|
| .....               | .....               |
| .....               | .....               |
| .....               | .....               |

الدَّيْكَ - الْفَأْرُ

الثَّوْرُ - اللَّبْوَةُ

السِّنْجَابُ - الْبَقْرَةُ

الْقُنْفُذُ - الذِّئْبُ

السؤال الثالث : أصنّف في الجدول (2 ن)

| أَحْدَاثٌ مُتَزَامِنَةٌ | أَحْدَاثٌ مُتَعَاقِبَةٌ |
|-------------------------|-------------------------|
| .....                   | .....                   |
| .....                   | .....                   |
| .....                   | .....                   |

الْفُصُولُ الْأَرْبَعَةُ

نَرْفَعُ الْعِلْمَ وَنُنْشِدُ النَّشِيدَ الْوَطَنِيَّ

إِحْتَفَلْتُ بِعِيدِ مِيلَادِي وَتَحَصَّلْتُ عَلَى الْهَدَايَا

أَرْسُمُ ثُمَّ أُلَوِّنُ

الْوَضْعِيَّةُ / قَرَأْتُ فِي جَرِيدَةِ وَالِدِي تَارِيخَ الْيَوْمِ الْمُوَافِقِ لِيَوْمِ الْاِثْنَيْنِ 7 مَارِسَ 2022

فَتَذَكَّرْتُ أَنَّ يَوْمَ الْغَدِ هُوَ عِيدُ الْمَرْأَةِ فَقَرَّرْتُ شِرَاءَ هَدِيَّةٍ لِامِّكَ ، وَطَلَبْتُ مِنْهَا إِيقَاضَكَ بَاكِرًا

- مَتَى عِيدُ الْمَرْأَةِ ؟

- مَا هِيَ الْوَسِيلَةُ الَّتِي سَتَسْتَعْمِلُهَا الْأُمُّ لِتُوقِظَكَ

0.5 ن التّنظيم و سن الخطّ





السؤال الأول : أجب بـ : صح أو خطأ (3 ن)

- يَمْتَصُّ النَّبَاتُ الْمَاءَ بِوَسِطَةِ جُذُورِهِ ... صح .  
 أكلات العُشْبِ تَعْتَشِبُ ... صح .  
 الزَّرَافَةُ مِنْ أَكِلَاتِ اللَّحْمِ ... خطأ .  
 الرُّزْنَامَةُ تُسَاعِدُنَا فِي حِسَابِ الزَّمَنِ ... صح .  
 يَنْتَقِلُ الْمَاءُ مِنَ الْجُذُورِ إِلَى الْأُورَاقِ ... صح .  
 الْأَحْدَاثُ الْمُتَعَاقِبَةُ مُتَتَابِعَةٌ ... صح .

السؤال الثاني : أصنّف في الجدول (2.5 ن)

| أكِلَاتُ اللَّحْمِ | أكِلَاتُ الْعُشْبِ |
|--------------------|--------------------|
| اللبؤة             | الديك              |
| الذئب              | الثور              |
|                    | البقرة             |
|                    | القنفذ             |

- الديك - الفأر  
 الثور - اللبؤة  
 السنجاب - البقرة  
 القنفذ - الذئب

السؤال الثالث : أصنّف في الجدول (2 ن)

| أحداث متزامنة                         | أحداث متعاقبة  |
|---------------------------------------|----------------|
| نرفع العلم وننشد النشيد الوطني        | الفصول الأربعة |
| احتفلت بعيد ميلادي وتحصلت على الهدايا | أرسم ثم ألون   |

الفصول الأربعة  
 نرفع العلم وننشد النشيد الوطني  
 احتفلت بعيد ميلادي وتحصلت على الهدايا  
 أرسم ثم ألون

الوضعية / قرأت في جريدة والديك تاريخ اليوم الموافق ليوم الاثنين 7 مارس 2022  
 فتذكرت أن يوم الغد هو عيد المرأة فقررت شراء هدية لأمك، وطلبت منها إيقاضك باكراً

- متى عيد المرأة؟ عيد المرأة يوم الثلاثاء 8 مارس 2022



- ماهي الوسيلة التي ستستعملها الأم لتوقظك ستوقظني مستعملة الساعة

أو المنبه

0.5 ن التنظيم وسن الخط

التلميذ : .....

إمضاء الولي : .....

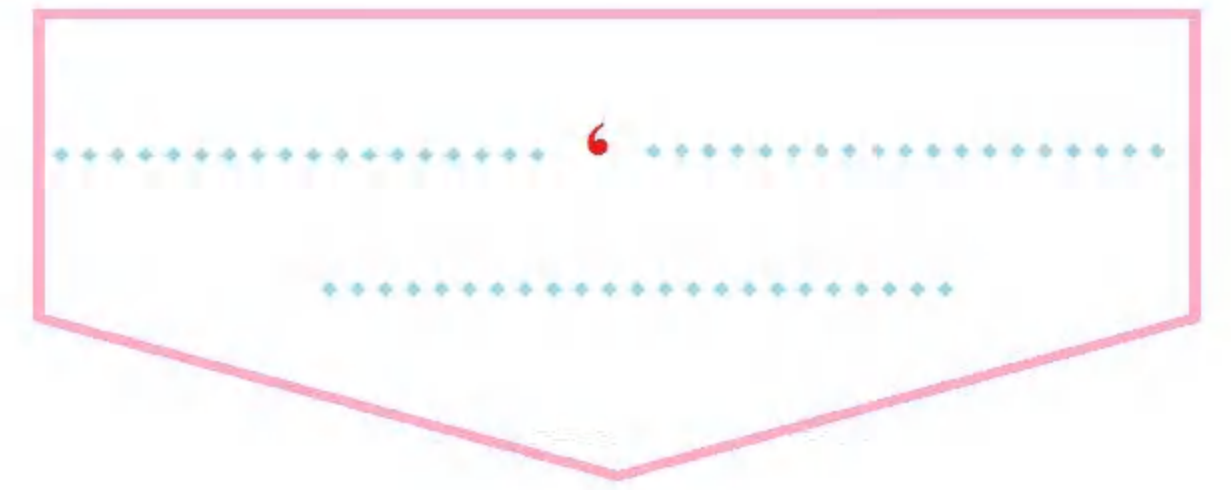
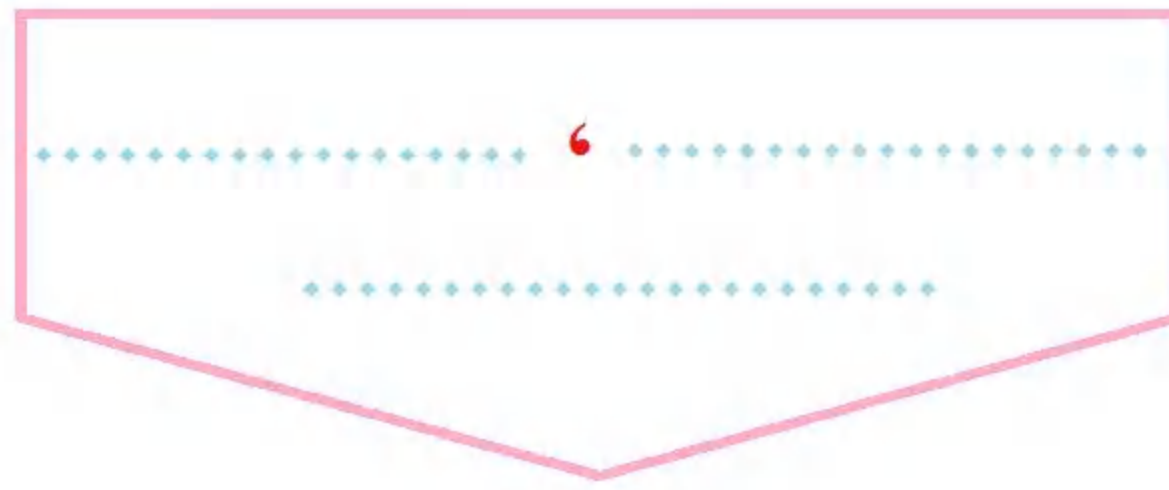
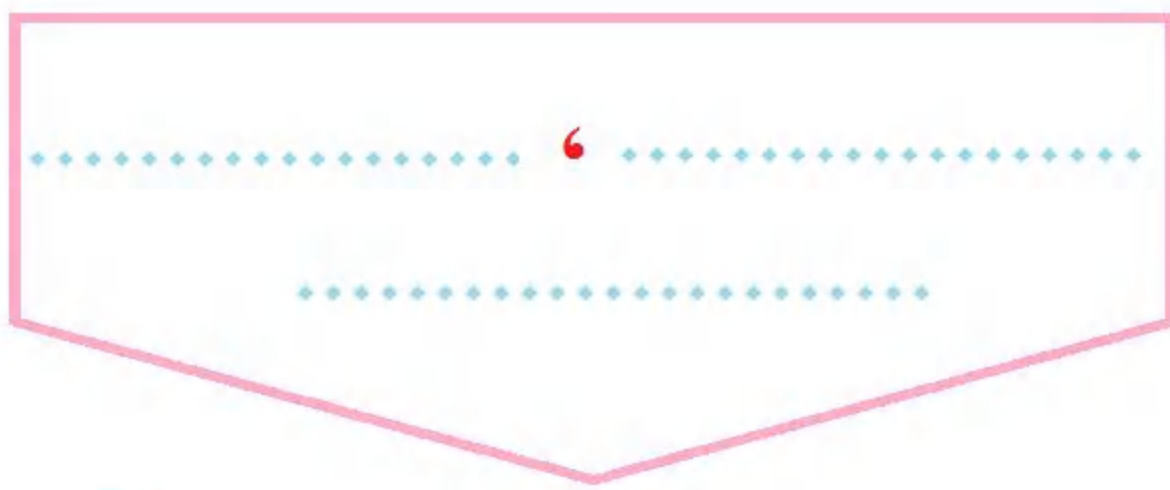
العلامة :  $\frac{\quad}{10}$ 

## السؤال الأول : أربط بين شطري الجملة (3 ن)


- عدد فصول السنة
- عدد أشهر السنة
- عدد أيام الشهر
- الأحداث المتتالية
- الأحداث المتزامنة
- احتفل بعيد ميلادي
- أحداث تقع في نفس الزمن
- مرة كل سنة
- أحداث تقع في أزمنة متتالية
- ثلاثون يومًا
- اثنا عشر شهرًا
- أربعة

## السؤال الثاني : أجمع أفراد العائلة داخل حيز واحد (3 ن)

صُوصٌ - أسدٌ - الثورُ - الدجاجةُ - لبؤةٌ - بقرةٌ - شبلٌ - عجلٌ - الديكُ




## السؤال الثالث : اكتب أمام الصورة : متتالية أو متزامنة (1.5 ن)



أحداث



أحداث



أحداث

## الوضعية : أجب بما يناسب (2 ن)

يَمْتَصُّ النَّبَاتُ الْمَاءَ مِنَ الْوَسْطِ الَّذِي يَعِيشُ فِيهِ

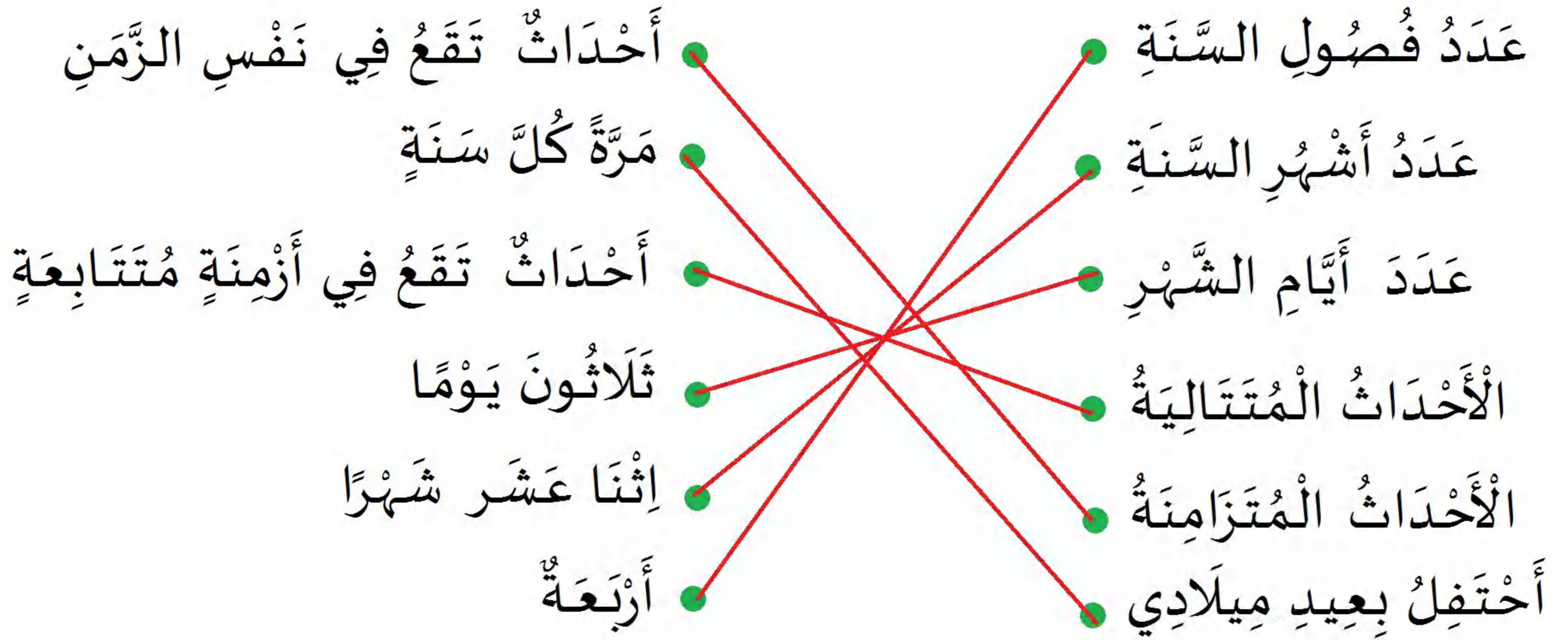
مَاذَا يَفْعَلُ النَّبَاتُ بِالْمَاءِ

عِنْدَ غِيَابِ الْمَاءِ مَاذَا يَحْدُثُ لِلنَّبَاتِ

(0.5 ن) التّنظيم وحسن الخطّ



## السؤال الأول : أربط بين شطري الجملة (3 ن)



## السؤال الثاني : أجمع أفراد العائلة داخل حيز واحد (3 ن)


صُوصٌ - أَسَدٌ - الثَّورُ - الدَّجَاجَةُ - لَبُوءَةٌ - بَقْرَةٌ - شِبْلٌ - عِجْلٌ - الدِّيكُ

الثَّورُ ، بَقْرَةٌ  
عِجْلٌ

أَسَدٌ ، لَبُوءَةٌ  
شِبْلٌ

الدِّيكُ ، دِجَاجَةٌ  
صُوصٌ


## السؤال الثالث : أكتب أمام الصورة : متتالية أو متزامنة (1.5 ن)



أَحْدَاثٌ ..متتالية...



أَحْدَاثٌ ..متزامنة...



أَحْدَاثٌ ..متتالية...

## الوضعية : أجب بما يناسب (2 ن)

يَمْتَصُّ النَّبَاتُ الْمَاءَ مِنَ الْوَسْطِ الَّذِي يَعِيشُ فِيهِ

مَاذَا يَفْعَلُ النَّبَاتُ بِالْمَاءِ يوزع النبات الماء على جميع أجزاء النبات

عِنْدَ غِيَابِ الْمَاءِ مَاذَا يَحْدُثُ لِلنَّبَاتِ ..عند غياب الماء يبلى النبات ويموت...

0.5 ن التنظيم وحسن الخط

التلميذ : .....

إمضاء الولي : .....

العلامة :  $\frac{\quad}{10}$ السؤال الأول : اكتب : **مُتَزَامِنَةٌ - مُتَعَاقِبَةٌ** (2 ن)

أحداثٌ مُتتالِيَةٌ : هي أحداثٌ ..... تحدثُ في أزمَنَةٍ مُتتَابِعَةٍ

أحداثٌ ..... : هي أحداثٌ تحدثُ في نفسِ الزَمَنِ

السؤال الثاني / أَمَلِّ الأَفْرَاقَ بِمَا يُنَاسِبُ : 7 - 12 - 28 - 4 (2 ن)

في السَّنَةِ ..... شَهْرًا

في الأَسْبُوعِ ..... أَيَّامٍ

في شَهْرِ فِيفْرِ ..... يَوْمًا

في السَّنَةِ ..... فُصُولٍ

السؤال الثالث : ضَعْ عَلامَةَ (X) فِي الخَانَةِ المُنَاسِبَةِ (2 ن)

| عُشْبِيٌّ | لَاحِمٌ | نَوْعُهُ | الْحَيَوَانُ |
|-----------|---------|----------|--------------|
|           |         |          | النِّسْرُ    |
|           |         |          | النَّاقَةُ   |
|           |         |          | الْقِرْدُ    |

السؤال الرابع : اكتبُ ذَكَرَ الحَيَوَانَاتِ التَّالِيَةِ (3 ن)

الدَّجَاجَةُ ..... ، الفَرَسُ ..... ، النَّاقَةُ .....  
 اللَّبْؤَةُ ..... ، النَّعْجَةُ ..... ، البَقْرَةُ .....

الْوَضْعِيَّةُ : صَحِّحِ الخَطَأَ (1 ن)

يَحْتَفِظُ النَّبَاتُ الأَخْضَرُ بِالمَاءِ فِي جُذُورِهِ .....

أَكَلَاتُ اللَّحْمِ تَعْتَشِبُ وَ أَكَلَاتُ العُشْبِ تَفْتَرِسُ .....

السؤال الأول : اكتب : **متزامنة - متعاقبة** (2 ن)أحداث متتالية : هي أحداث **متعاقبة** ... تحدث في أزمنا متتابعةأحداث **متزامنة** ... : هي أحداث تحدث في نفس الزمنالسؤال الثاني / أملأ الفراغ بما يناسب : 4 - 28 - 12 - 7 (2 ن)في السنة **12** شهراًفي الأسبوع **7** أيامفي شهر فيفري **28** يوماًفي السنة **4** فصولالسؤال الثالث : ضع علامة (X) في الخانة المناسبة (2 ن)

| نوعه    | لحيم | عشبي |
|---------|------|------|
| الحيوان |      |      |
| النسر   | X    |      |
| الناقة  |      | X    |
| القرد   | X    | X    |

السؤال الرابع : اكتب ذكر الحيوانات التالية (3 ن)الدجاجة ..... **الديك** ، الفرس ..... **الحصان** ،اللبؤة ..... **الأسد** ، النعجة ..... **الكبش** ،الناقة ..... **الجمل** .....البقرة ..... **الثور** .....الوضعية : صحح الخطأ (1 ن)يحتفظ النبات الأخضر بالماء في جذوره **لا** يحتفظ النبات بالماء في جذوره بل يوزعه

أكلات اللحم تعشب و أكلات العشب تفترس

و أكلات العشب تعشب

## السؤال الأول : املأ الجدول بالحيوانات المناسبة (3 ن)

| حيوانات تفترس | حيوانات تعشب |
|---------------|--------------|
| 1             | 1            |
| 2             | 2            |
| 3             | 3            |

## السؤال الثاني : أربط كل حيوان بسلوكة في فترة التكاثر (2 ن)

- التقرب من الأنثى
- الثغاء بصوت مرتفع
- المواء دون توقف
- الصهيل وكثرة الحركة أمام الأنثى

الحصان

القط

الديك

الخروف

## السؤال الثالث : اكتب أمام كل حدث كلمة : متعاقبة أو متزامنة (2 ن)

- المعلمة تشرح الدرس و التلاميذ يستمعون ← أحداث
- أتناول طعامي ثم أغسل أسناني ← أحداث
- يأتي فصل الشتاء ثم يليه فصل الربيع ← أحداث
- أتوضأ ثم أصلي ← أحداث

## الوضعية / لاحظ الرزنامة ثم أجب : (3 ن)

| مارس 2022 |       |         |          |          |        |        |
|-----------|-------|---------|----------|----------|--------|--------|
| السبت     | الأحد | الاثنين | الثلاثاء | الأربعاء | الخميس | الجمعة |
|           |       | 1       | 2        | 3        | 4      |        |
| 5         | 6     | 7       | 8        | 9        | 10     | 11     |
| 12        | 13    | 14      | 15       | 16       | 17     | 18     |
| 19        | 20    | 21      | 22       | 23       | 24     | 25     |
| 26        | 27    | 28      | 29       | 30       | 31     |        |

يوافق 14 مارس يوم

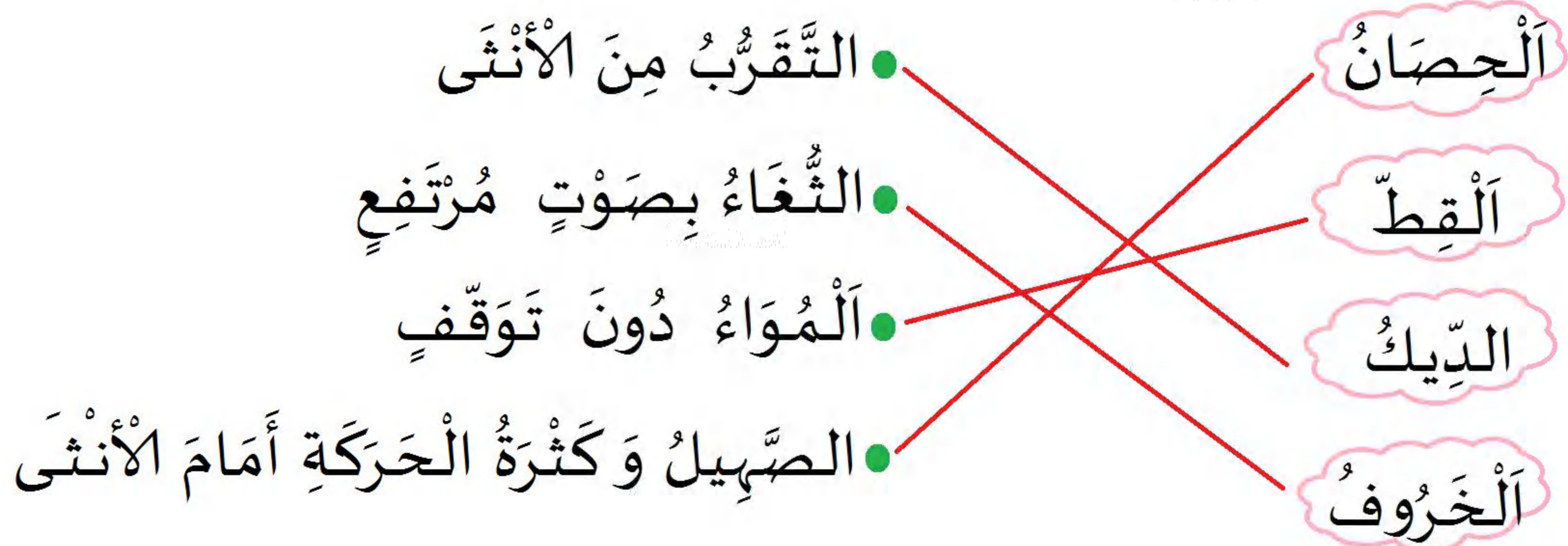
يوافق عيد المرأة 8 مارس يوم

تذهب سجي يوم 25 مارس 2022 في رحلة وتعود في اليوم  
المقبل ، اكتب تاريخ عودتها

## السؤال الأول : املأ الجدول بالحيوانات المناسبة (3 ن)

| حيوانات تفترس | حيوانات تعشب |
|---------------|--------------|
| 1 الأسد       | 1 البقرة     |
| 2 النمر       | 2 الفيل      |
| 3 الصقر       | 3 الخروف     |

## السؤال الثاني : اربط كل حيوان بسلوكة في فترة التكاث (2 ن)



## السؤال الثالث : اكتب أمام كل حدث كلمة : متعاقبة أو متزامنة (2 ن)

- المعلمة تشرح الدرس و التلاميذ يستمعون ← أحداث متزامنة
- أتناول طعامي ثم أغسل أسناني ← أحداث متعاقبة
- يأتي فصل الشتاء ثم يليه فصل الربيع ← أحداث متعاقبة
- أتوضأ ثم أصلي ← أحداث متعاقبة

## الوضعية / لاحظ الرزنامة ثم أجب : (3 ن)

| مَارِس 2022 |       |         |          |          |        |        |
|-------------|-------|---------|----------|----------|--------|--------|
| السبت       | الأحد | الاثنين | الثلاثاء | الأربعاء | الخميس | الجمعة |
|             |       |         | 1        | 2        | 3      | 4      |
| 5           | 6     | 7       | 8        | 9        | 10     | 11     |
| 12          | 13    | 14      | 15       | 16       | 17     | 18     |
| 19          | 20    | 21      | 22       | 23       | 24     | 25     |
| 26          | 27    | 28      | 29       | 30       | 31     |        |

يوافق 14 مارس يوم الاثنين

يوافق عيد المرأة 8 مارس يوم الثلاثاء

تذهب سجي يوم 25 مارس 2022 في رحلة وتعود في اليوم المقبل ، اكتب تاريخ عودتها السبت 26 مارس 2022