




مراجعة للرياضيات فصل أول سنة ثانية ابتدائي

أعد الأشكال، ثم أكمل الجدول



...

مجموع الأشكال كلها هو:

$$... + ... + ... + ... = ...$$

أقارن باستخدام أحد الرمزین < أو > :

..

..

..

..

..

أرقم الأشكال من الأكبر إلى الأصغر:

.	.	.	.

اكتشف القاعدة ثم أكمل متتالية الأعداد:



اكتب الأعداد المخصوصة بين العنین العشرين 60 و 70




أكمل:

عدد رقم وحداته 5 و رقم عشراته يساوي $2 + 7$ هو	97 هو وحداته و عشراته
عدد رقم وحداته 9 و رقم عشراته 4 هو	58 هو وحداته و عشراته
عدد رقم وحداته 3 و رقم عشراته يساوي $3 - 9$ هو	22 هو وحداته و عشراته
عدد رقم وحداته يساوي رقم عشراته و مجموعهما يساوي 4 هو	60 هو وحداته و عشراته



أحط كل عشرة وحدات، ثم أكمل:



عَدُّ الوَحَدَاتِ
عَدُّ العَشْرَاتِ



عَدُّ العَشْرَاتِ
عَدُّ الوَحَدَاتِ

قَارِنْ بَيْنَ العَدَّيْنِ

		مِنْ.....		
عَشْرَات	وَحَدَات		عَشْرَات	وَحَدَات
..

أحسب عدد الوحدات و العشرات، ثم أكمل الجدول:

...
و ع	و ع	و ع

أكمل برسم الوحدات و العشرات

66	19	54
و ع	و ع	و ع



أَحْسِبْ عَدَدَ الْوَحَدَاتِ وَالْعَشْرَاتِ، ثُمَّ أَفَكِّكُ الْعَدَدَ عَلَى النُّحُوِّ الَّذِي اخْتَارَ:

	$.. = .. + 5$ $.. = .. + .. + 5$ $.. = .. + .. + .. + 5$ $.. = .. + .. + .. + .. + 5$
	$.. = .. + 9$ $.. = .. + .. + 9$ $.. = .. + .. + .. + 9$ $.. = .. + .. + .. + .. + .. + 9$
	$.. = .. + ..$ $.. = .. + ..$ $.. = .. + .. + ..$ $.. = .. + .. + .. + .. + ..$

أَتِمِّنْ إِلَى الْعَشْرَةِ الْمَوْالِيَةِ:

.. 78

.. 61

.. 29

.. 45

.. 36

أَكْتُبِ الْعَدَدَ الَّذِي يَسْبِقُ وَالْعَدَدَ الَّذِي يَلِي:

.. 77 ..

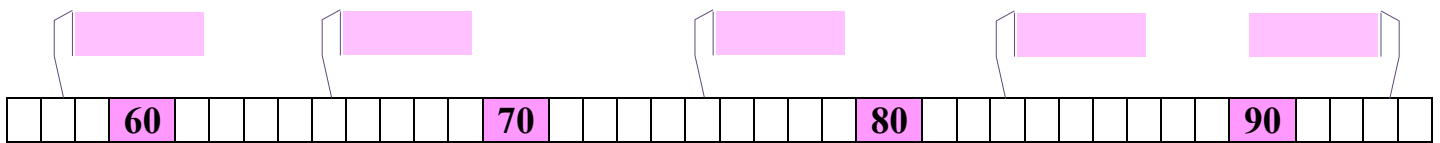
.. 68 ..

.. 81 ..

.. 20 ..

.. 15 ..

أَتِمِّنْ بِالْعَدَدِ الْمُنَاسِبِ:



أَرِبْطُ بَيْنَ الْإِجَابَاتِ الْمُتَشَابِهَةِ:

- | | | | | |
|--------|---|----------------------------|---|------------------------|
| 80 + 9 | * | 5 وَحَدَاتٍ و 7 عَشْرَاتٍ | * | ثَلَاثَةٌ وَ تِسْعُونَ |
| 90 + 3 | * | 9 وَحَدَاتٍ و 8 عَشْرَاتٍ | * | خَمْسَةٌ وَ سَبْعُونَ |
| 60 + 4 | * | 3 وَحَدَاتٍ وَ 9 عَشْرَاتٍ | * | أَرْبَعَةٌ وَ سِتُونَ |
| 70 + 5 | * | 4 وَحَدَاتٍ وَ 6 عَشْرَاتٍ | * | تِسْعَةٌ وَ ثَمَانُونَ |



أَلِحِظْ الصُّورَةَ ثُمَّ اكْمِلْ بِمَا يَلِي { عَلَى يَمِينٍ، عَلَى يَسَارٍ، خَلْفَ، فَوْقَ، أَمَامَ }



تُورُ لِين تَقِفُ..... الشَّجَرَةَ.

تَجْلِسُ أَسِيلٌ..... الشَّجَرَةَ.

يَقِفُ يُوْسُفُ..... مَرَامَ.

العُصْفُورُ يُحَلِّقُ..... الشَّجَرَةَ.

الكَرَّةُ..... يُوْسُفُ.

اسْتَخْرِجْ مِنَ الْجَنُودِ الْمُعْطِيَاتِ:

تُصَلِّي صَلَاةَ الْفَجْرِ عَلَى السَّاعَةِ.....


تُصَلِّي..... عَلَى السَّاعَةِ 12:34

تُصَلِّي صَلَاةَ الْمَغْرِبِ عَلَى السَّاعَةِ.....

تُصَلِّي..... عَلَى السَّاعَةِ 19:04

الوقت	الصلاة
6:01	الفجر
12:34	الظهر
15:15	العصر
17:34	المغرب
19:04	العشاء

أَسْتَعْمِلُ الْوَحْدَةَ ■■■ لِقِيَاسِ طُولِ كُلِّ شَرِيْطٍ



طُولُ الشَّرِيْطِ الْأَزْرَقِ..... وَحَدَاثُ

طُولُ الشَّرِيْطِ الْأَخْضَرِ..... وَحَدَاثُ

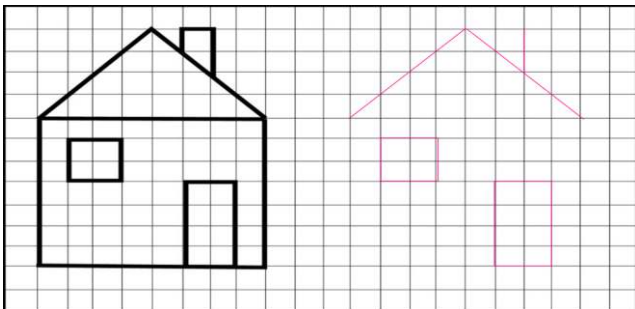
طُولُ الشَّرِيْطِ الْوَرْدِيِّ..... وَحَدَاثُ

طُولُ الشَّرِيْطِ الْبِنْفَسَجِيِّ..... وَحَدَاثُ

طُولُ الشَّرِيْطِ الْأَصْفَرِ..... وَحَدَاثُ

رَقْمُ الْأَشْرِطَةِ مِنَ الْأَطْوَلِ إِلَى الْأَقْصَرِ

أَعِدْ رَسْمَ الْمَنْزِلِ عَلَى الْمَرْصُوفَةِ



لَوْنِ الدَّجَاجَاتِ الثَّلَاثِ الَّتِي تُوجَدُ عَلَى إِسْتِقَامِيَّةٍ وَاحِدَةٍ

