



مراجعة شاملة للفصل الثالث في الرياضيات للسنة الثانية ابتدائي

1) لاحظ الاعداد التالية :

213 - 357 - 911 - 263 - 621 - 235

➤ احصر أكبر عدد بين عشرين متتاليتين

➤ احصر أصغر عدد بين مئتين متتاليتين

➤ رتبها تصاعديا مستعملا الرمز المناسب

.....

➤ العدد الذي رقم وحداته 3 هو :

➤ العدد الذي رقم عشراته 5 هو :

➤ اكتب العدد الذي رقم مئاته 9 بالحروف

.....

➤ فكك العدد الذي رقم عشراته 6

2) اكتب العدد الذي يسبق والعدد الذي يلي :

	154	
--	-----	--

200		
-----	--	--

		950
--	--	-----

	324	
--	-----	--

		658
--	--	-----

	458	
--	-----	--

3) اكمل الحساب :

$12 \times 10 = \dots\dots$	$54 \times 10 = \dots\dots$	$87 \times 10 = \dots\dots$
$31 \times 10 = \dots\dots\dots$	$0 \times 10 = \dots\dots\dots$	$10 \times 10 = \dots\dots\dots$

4) انجز العمليات التالية عموديا :

$329+145=$	$92-45=$	$24 \times 4=...$	$57 \times 3=$

5) احسب ما يلي حسب المثال :

$4 \times 3 = 4+4+4= 12$	$6 \times 3 =$
$5 \times 4 =$	$2 \times 8 =$
$3 \times 7 =$	$4 \times 5 =$

6) اكمل كتابة الجداء في كل مساواة حسب المثال :

$4+4 = 4 \times 2 = 8$	$7 +7+7+7=.....$
$5+5+5 =$	$3+3+3+3+3+3++3+3=.....$

7) احسب :

$1 \times 1 =$	$7 \times 2 =$	$5 \times 8 =$	$5 \times 5 =$
$0 \times 9 =$	$4 \times 3 =$	$2 \times 9 =$	$9 \times 1 =$

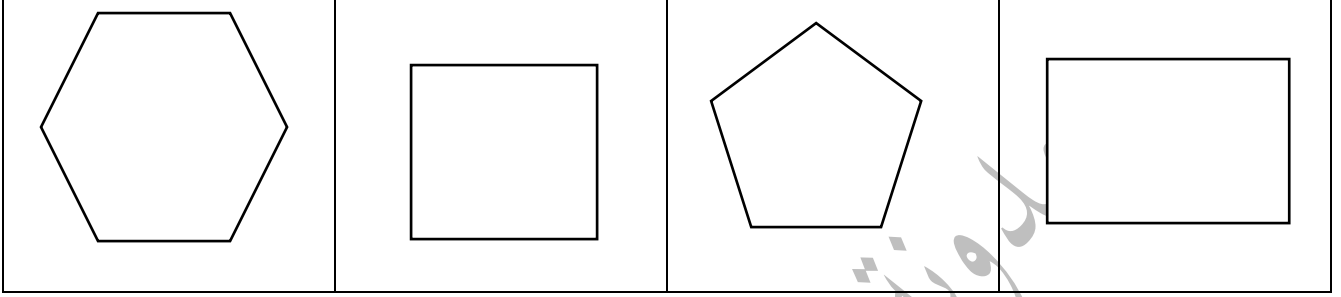
8) اكمل الجدول :

التفكيك	رقم المئات	رقم العشرات	رقم الوحدات	الكتابة بالحروف	الكتابة بالأرقام
					354
				مئة وثمانية وخمسون	
					697

9) ضع الرمز المناسب (> ، < ، =) :

354.... 154	310....31x10	951.....591	837.....873
315.....531	4x3.....14	601.....606	012.....120



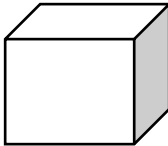
10) عين محور تناظر واحد في كل شكل مما يلي :



11) أكمل بالعدد المناسب:

ساعتين =دقيقة	أسبوع =يوم	شهر =يوم
يوم =ساعة	ساعة =دقيقة	نصف ساعة =دقيقة

12) اتعرف على المجسمات ثم اكمل الجدول:

			
			الاسم
			عدد الوجود
			عدد الرؤوس
			عدد الاحرف

13 اكمل بالعبارة المناسبة : أثقل من - أخف من

	
وزن البطيخ وزن التفاح	وزن البرتقال وزن الاجاص

14 لاحظ هذا البيان الذي يمثل عدد التلاميذ والمأكولات المفضلة لهم

<p>المأكولات المفضلة لدى التلاميذ</p> 	<p>1- ما هو عدد التلاميذ الذين يفضلون الفطائر؟..... 2- ما هو عدد التلاميذ الذين يفضلون الخبز؟..... 3- ما هي الاكلة التي يفضلها اقل عدد من التلاميذ؟.....</p>
--	--

15 لاحظ المثال وأتمم:

$$42 \times 4 = 40 \times 4 + 2 \times 4 = 160 + 8 = 168$$

$$21 \times 3 = \dots\dots\dots$$

$$38 \times 2 = \dots\dots\dots$$

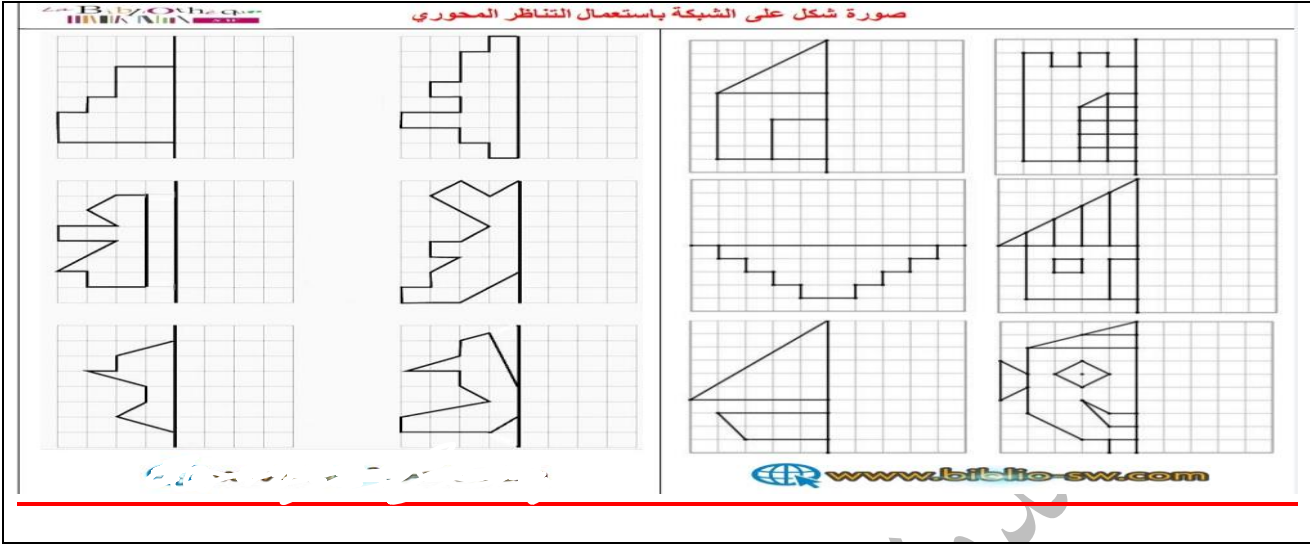
$$14 \times 9 = \dots\dots\dots$$

16 اكمل الشريط العددي:

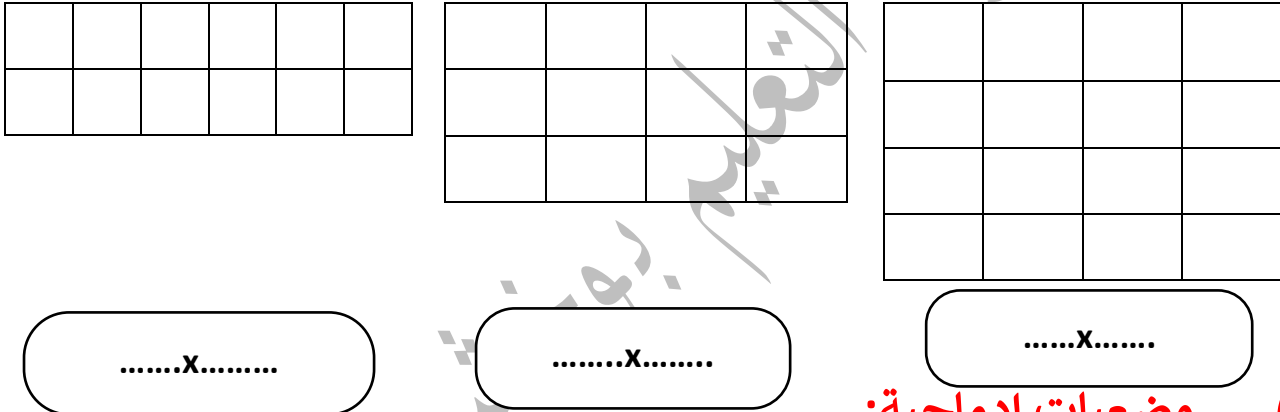
342	346
-----	-----	------	-------	-------	-------	-------	-------

.....	283	285
-------	-----	-----	-------	-------	-------	-------	-------

17) اكمل رسم الاشكال التالية مستعينا بمحور التناظر:



18) احسب الجذاءات باستعمال المرصوفات



19) وضعيات ادماجية:

<p>2 تملك مريم 545 دينارا. اشترت 5 قصص ب 64 دينارا للقصة الواحدة - ما هو ثمن القصص؟ - كم دينارا بقي معها؟</p>	<p>1 لمكتبة المدرسة 8 أرفف . كل رف يحتوي على 25 كتابا. - ما هو عدد الكتب الموجودة في المكتبة؟</p>
<p>4 - غرس فلاح 31 شجيرة تفاح و 72 شجيرة برتقال - كم شجيرة غرس الفلاح؟ - سقى كل شجيرة ب 7 لترات من الماء. - ماهي كمية الماء التي استعملها لسقي كل الشجيرات؟</p>	<p>3 - اشترت الام 3 أطباق من البيض في كل طبق 30 بيضة . - ما هو عدد البيض الذي اشترته الام؟ - بعد صنع الحلوى لم يبقى من البيض إلا 18 بيضة. - ما هو عدد البيض الذي استهلكته الام في صنع الحلوى؟</p>

إن أحسنت فمن الله وإن أسأت أو أخطأت فمن نفسي والشيطان

الحلول

01) لاحظ الاعداد التالية :

213 - 357 - 921 - 362 - 621 - 236

➤ احصر أكبر عدد بين عشرين متتاليتين $920 < 921 < 930$

➤ احصر أصغر عدد بين مئتين متتاليتين $200 < 213 < 300$

➤ رتبها تصاعديا مستعملا الرمز المناسب

$213 < 236 < 357 < 362 < 621 < 921$

➤ العدد الذي رقم وحداته 6 هو : 236

➤ العدد الذي رقم عشراته 5 هو : 357

➤ اكتب العدد الذي رقم مئاته 9 بالحروف

تسعمئة وواحد وعشرون

➤ فكك العدد الذي رقم عشراته 6 : $362 = 300 + 60 + 2$

02) اكتب العدد الذي يسبق والعدد الذي يلي :

153	154	155
-----	-----	-----

200	201	202
-----	-----	-----

948	949	950
-----	-----	-----

323	324	325
-----	-----	-----

656	657	658
-----	-----	-----

457	458	459
-----	-----	-----

03) اكمل الحساب :

$12 \times 10 = 120$	$54 \times 10 = 540$	$87 \times 10 = 870$
$31 \times 10 = 310$	$0 \times 10 = 0$	$10 \times 10 = 100$

04) انجز العمليات التالية عموديا :

$$\begin{array}{r} 329+145= \\ 3\overset{1}{2}9 \\ + 145 \\ \hline = 474 \end{array}$$

$$\begin{array}{r} 92-45= \\ 9\overset{1}{2} \\ - 45 \\ \hline =47 \\ 8\overset{9}{1}2 \\ -45 \\ \hline =47 \end{array}$$

$$\begin{array}{r} 24 \times 4 = \dots \\ 24 \\ \times 4 \\ \hline =96 \end{array}$$

$$\begin{array}{r} 57 \times 3 = \\ 57 \\ \times 3 \\ \hline = 171 \end{array}$$

05) احسب ما يلي حسب المثال :

$4 \times 3 = 4+4+4= 12$	$6 \times 3 = 6+6+6=18$
$5 \times 4 = 5+5+5+5=20$	$2 \times 8 = 2+2+2+2+2+2+2+2=16$
$3 \times 7 = 3+3+3+3+3+3+3=21$	$4 \times 5 = 4+4+4+4+4=20$

06) اكمل كتابة الجداء في كل مساواة حسب المثال :

$4+4 = 4 \times 2 = 8$	$7 + 7 + 7 + 7 = 7 \times 4 = 28$
$5+5+5 = 5 \times 3 = 15$	$3+3+3+3+3+3+3+3 = 3 \times 8 = 24$

07) احسب :

$1 \times 1 = 1$	$7 \times 2 = 14$	$5 \times 8 = 40$	$5 \times 5 = 25$
$0 \times 9 = 0$	$4 \times 3 = 12$	$2 \times 9 = 18$	$9 \times 1 = 9$

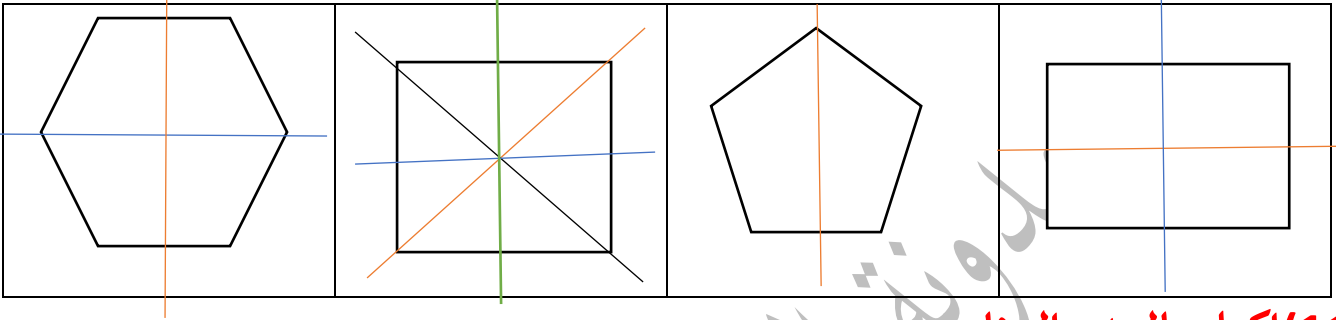
08) اكمل الجدول :

التفكيك	رقم المئات	رقم العشرات	رقم الوحدات	الكتابة بالحروف	الكتابة بالأرقام
$300+50+4$	3	5	4	ثلاثمئة وأربعة وخمسون	354
$100+50+8$	1	5	8	مئة وثمانية وخمسون	158
$600+90+7$	6	9	7	ستمئة وسبعة وتسعون	697

09) ضع الرمز المناسب (> ، < ، =) :

$354 > 154$	$310 = .31 \times 10$	$951 > 591$	$837 < 873$
$315 < 531$	$4 \times 3 < 14$	$601 < 606$	$012 < 120$

10) عين محور تناظر واحد في كل شكل مما يلي :



11) اكمل بالعدد المناسب:

شهر = 30 يوم	أسبوع = 7 يوم	ساعتين = 120 دقيقة
نصف ساعة = 30 دقيقة	ساعة = 60 دقيقة	يوم = 24 ساعة


12) اتعرف على المجسمات ثم اكمل الجدول:

البلاطة القائمة	الأسطوانة	المكعب	الاسم
6	2	6	عدد الواجهه
8	0	8	عدد الرؤوس
12	0	12	عدد الاحرف

13) اكمل بالعبارة المناسبة : أثقل من - أخف من

	
وزن البطيخ أثقل وزن التفاح	وزن البرتقال أخف وزن الاجاص

14) لاحظ هذا البيان الذي يمثل عدد التلاميذ والمأكولات المفضلة لهم

<p>المأكولات المفضلة لدى التلاميذ</p> 	<p>01) ما هو عدد التلاميذ الذين يفضلون الفطائر 25 تلميذ</p> <p>02) ما هو عدد التلاميذ الذين يفضلون الخبز؟ 20 تلميذ</p> <p>03) ما هي الاكلة التي يفضلها اقل عدد من التلاميذ؟..... الحساء</p>
--	--

15) لاحظ المثال وأتمم:

$$42 \times 4 = 40 \times 4 + 2 \times 4 = 160 + 8 = 168$$

$$21 \times 3 = 20 \times 3 + 1 \times 3 = 60 + 3 = 63$$

$$38 \times 2 = 30 \times 2 + 8 \times 2 = 60 + 16 = 76$$

$$14 \times 9 = 10 \times 9 + 4 \times 9 = 90 + 36 = 126$$

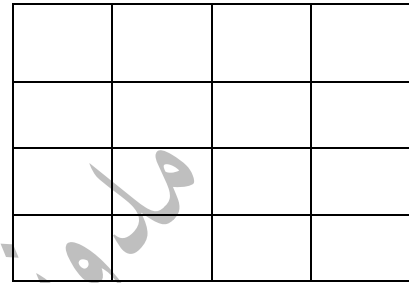
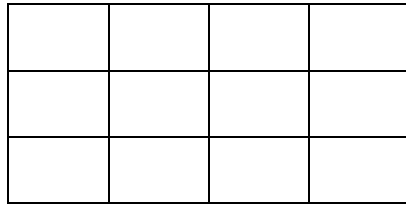
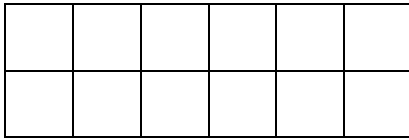
16) اكمل الشريط العددي:

342	346	350	354	358	362	366	370
-----	-----	------------	-----	-----	-----	-----	-----

281	283	285	287	289	291	293	295
-----	-----	-----	-----	-----	-----	-----	-----

17) اكمل رسم الاشكال التالية مستعينا بمحور التناظر:

18) احسب الجداءات باستعمال المرصوفات



2x6

3x4

4x4

19) وضعيات ادماجية:

<p>2</p> <p>$64 \times 5 = 320$ 320 دينار : ثمن القصص $545 - 320 = 225$ 225 دينار : بقي مع مريم</p>	<p>1</p> <p>$25 \times 8 = 200$ 200 كتابا : عدد الكتب الموجودة في المكتبة</p>
<p>-4</p> <p>$31 + 72 = 103$ 109 شجيرة : غرس الفلاح $103 \times 7 = 721$ 721 لترا : كمية الماء التي استعملها الفلاح هي</p>	<p>-3</p> <p>في صنع الحلوى؟ $30 \times 3 = 90$ 90 بيضة : عدد البيض الذي اشترته الام: $90 - 18 = 72$ 72 بيضة : عدد البيض الذي استهلكته الام:</p>

إن أحسنت فمن الله وإن أسأت أو أخطأت فمن نفسي والشيطان