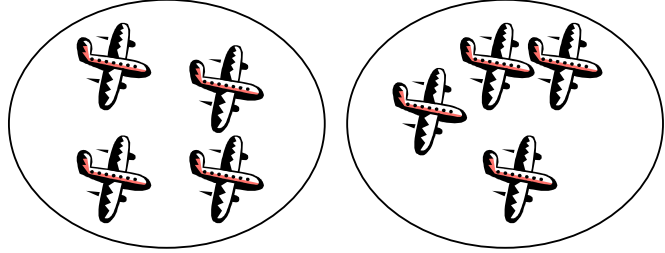



الضرب

صل كل مجموعه بالبطاقه المناسبه:


5×2




3×4




12×1



4×2



هيا يا صغيري لنجد حلا لهذه
المسائل معا





كم جناح لستة فراشات؟

كم مستطيل احمر اللون في عشرة اعلام؟




كم رجلا لخمسه جمال؟

ذهب حمد الى المكتبه و قام بشراء عشرة دفاتر, و ثمن كل واحد منها
درهمان ما ثمن الدفاتر العشرة؟



كم رجلا لسبعة عنكب؟



$14 = \square \times 7$

$24 = \square \times 4$

$4 = \square \times 2$

$\square = 11 \times 4$

$\square = 7 \times 8$

$\square = 9 \times 2$

$\square = 2 \times 3$

$12 = 6 \times \square$

$20 = 4 \times \square$

$25 = 5 \times \square$

$70 = 10 \times \square$



$\boxed{5+5} \times 5 = 10 \times 5$

$5 \times 5 + 5 \times 5 =$

$\square + \square =$


$\square =$

$\boxed{4+3} \times 4 = 7 \times 4$

$4 \times 4 + 3 \times 4 =$

$\square + \square =$

$\square =$



$0 \times 2 \quad \square \quad 2 - 0$

$4 \times 4 \quad \square \quad 4 - 7$

$5 \times 2 \quad \square \quad 10 \times 1$

$10 \times 3 \quad \square \quad 2 \times 11$


$9 \times 4 \quad \square \quad 7 \times 5$

$6 + 6 \quad \square \quad 2 \times 6$

$7 \times 4 \quad \square \quad 3 \times 3$

$5 \times 8 \quad \square \quad 8 \times 8$

نواتج عمليات الضرب في التسعة والمرآة



$$\begin{aligned} 18 &= 2 \times 9 \\ 81 &= 9 \times 9 \end{aligned}$$



$$\begin{aligned} 09 &= 01 \times 9 \\ 90 &= 10 \times 9 \end{aligned}$$

$$\begin{aligned} 36 &= 4 \times 9 \\ 63 &= 7 \times 9 \end{aligned}$$

$$\begin{aligned} 27 &= 3 \times 9 \\ 72 &= 8 \times 9 \end{aligned}$$

$$\begin{aligned} 45 &= 5 \times 9 \\ 54 &= 6 \times 9 \end{aligned}$$



عزيزي الدارس انبيه!

$$\begin{aligned} 9 &= 0+9 \leftarrow 09 = 1 \times 9 \\ 9 &= 1+8 \leftarrow 18 = 2 \times 9 \\ 9 &= 2+7 \leftarrow 27 = 3 \times 9 \\ 9 &= 3+6 \leftarrow 36 = 4 \times 9 \\ 9 &= 4+5 \leftarrow 45 = 5 \times 9 \\ 9 &= 5+4 \leftarrow 54 = 6 \times 9 \\ 9 &= 6+3 \leftarrow 63 = 7 \times 9 \\ 9 &= 7+2 \leftarrow 72 = 8 \times 9 \\ 9 &= 8+1 \leftarrow 81 = 9 \times 9 \\ 9 &= 9+0 \leftarrow 90 = 10 \times 9 \end{aligned}$$

اجيبي و لوني



3×1	4×6	2×10	8×8
5×0	10×11	5×2	9×9
9×4	6×8	2×2	2×7

لون التعبير الذي يعطي
ناتجا اصغر من 40

ضع الرمز المناسب في الفراغ

$$35 = 5 \text{ () } 7$$

$$16 = 8 \text{ () } 8$$

$$99 = 11 \text{ () } 9$$

$$5 = 9 \text{ () } 4$$

$$12 = 6 \text{ () } 6$$

$$12 = 4 \text{ () } 3$$

ذهب عمر الى سوق الخضار و كان معه 30 درهم و


اشترى ما يلي:

تفاحتان بـ 3 دراهم

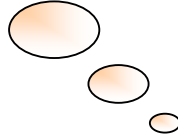

5 قطع من البرتقال بـ 10 درهم

10 قطع من الخيار بـ 5 دراهم


بكم درهم اشترى عمر و كم بقي معه؟



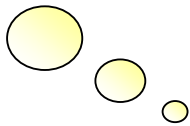

مرحبا يا اصدقائي
هيا بنا نقفز فوق السحاب




$$6 \times 4$$



$$2 \times 7$$



$$10 \times 3$$



$$5 \times 9$$



5 دراهم



10 دراهم



2 درهم

ما ثمن 4 دمي؟

ما ثمن 6 أقلام؟

ما ثمن دمية و علبة الالوان؟

ما ثمن أربعة علب من الألوان و خمسة أقلام؟


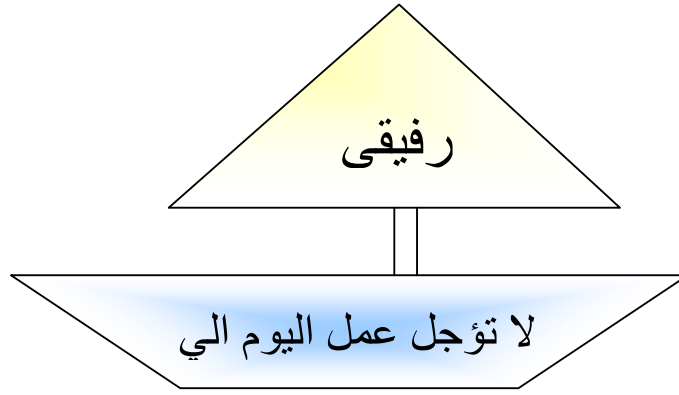
لديك 50 درهم هل يمكنك شراء:

- | | | | | | |
|---------------------------|--------------------------|-----|--------------------------|----|--------------------------|
| عشرة أقلام؟ | <input type="checkbox"/> | نعم | <input type="checkbox"/> | لا | <input type="checkbox"/> |
| 7 علب من الالوان؟ | <input type="checkbox"/> | نعم | <input type="checkbox"/> | لا | <input type="checkbox"/> |
| 3 دمي و 4 علب من الالوان؟ | <input type="checkbox"/> | نعم | <input type="checkbox"/> | لا | <input type="checkbox"/> |

اكمل الجدول التالي

9	8	7	6	5	4	3	2	1	×
									1
									2
									3
									4
									5
									6
									7
									8
									9





فكري.... ابحتي... تشاوري مع زميلتك ثم اجيبي...

نظمه مدرسه الرحبة رحله لجميع صفوف الثالث الابتدائي حيث يبلغ عدد الصفوف 5 و عدد التلاميذ في كل صف هو 25

ما هو مجموع الطلاب الذين ذهبوا الي الرحله؟

اقامت نوره حفلة في منزلها بمناسبة نجاحها في الصف الثاني الابتدائي بتفوق و قامت بطلب مجموعه من الاطعمه و هي كالتالي:



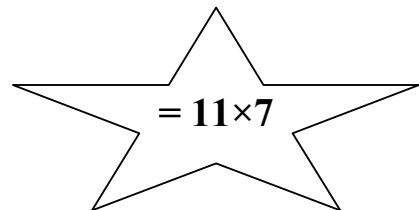
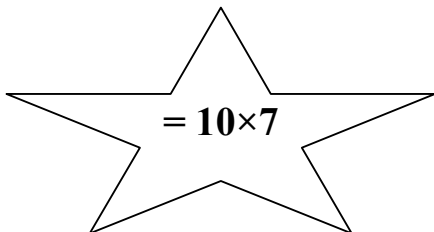

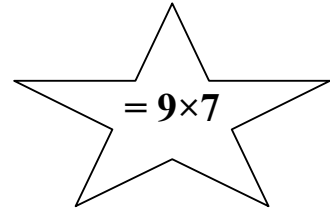
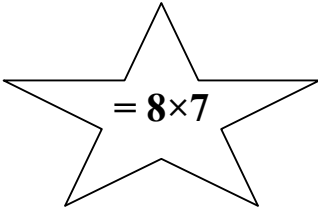
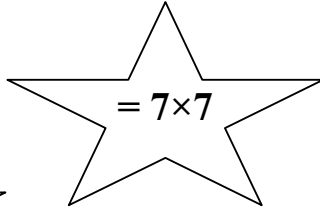
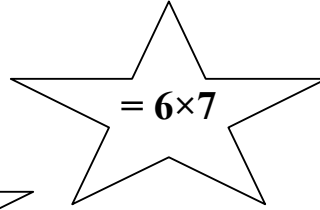
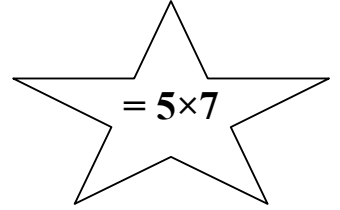
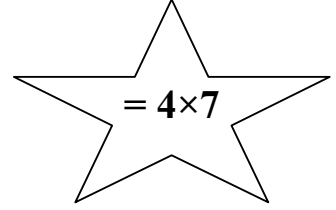
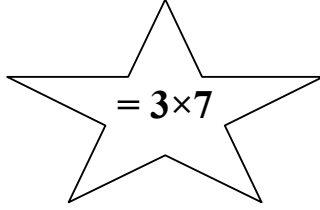
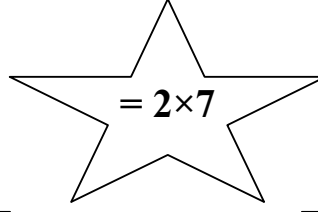
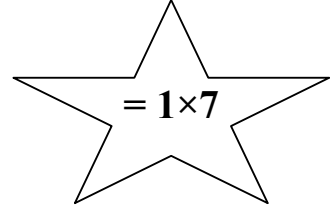

- ✓ كعكة كبيره بـ 100 درهم
- ✓ 3 صناديق من عصير البرتقال بـ 80 درهم
- ✓ 4 اكياس من البلونات بـ 20 درهم
- ✓ ملاعق و شوك بـ 10 دراهم

و تبقي لديها 50 درهم

1. ما هو المبلغ الذي كان مع نوره؟


2. و ما هي تكلفه هذه الاشياء؟

هيا يا صغيراتي نجمع النجوم قبل شروق الشمس






هيا نلعب مع جدول الضرب لعبة الالوان

هيا لوني باللون الاحمر التعبير الذي يعطي ناتجا اصغر من 40
و اللون الازرق للتعبير الذي يعطي ناتجا اكبر من 40



$5+15$	6×7	3×1	8×3
$20-64$	3×9	$60-90$	6×9
2×8	4×5	$15-52$	7×7
$50-72$	9×5	$27-80$	2×9





لعنكبوت واحد 8 ارجل

$$\bigcirc + \bigcirc = \text{لعنكبوتين}$$

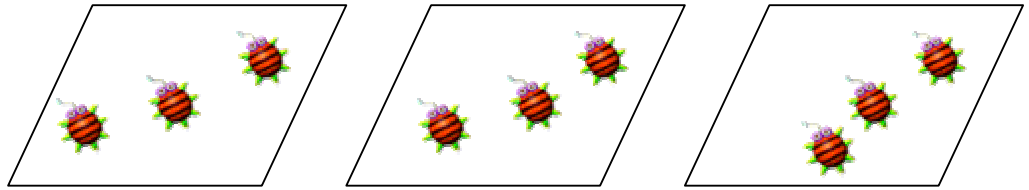
$$\times \bigcirc = \bigcirc$$

$$\bigcirc \times \bigcirc = \bigcirc + \bigcirc \text{ لثلاثة عنكب}$$

$$\bigcirc \times \bigcirc = \text{لاربعة عنكب}$$

$$\bigcirc \times \bigcirc = \text{لخمسة عنكب}$$

اوجدني ناتج ما يلي:



$$\begin{array}{l} \square + \square = \text{عدد العناصر} \\ \square + \square = \end{array}$$



اكملني:

$$9 = \text{☆} \times 3$$

$$\text{☆} = 5 \times 4$$

$$6 = 2 \times \text{☆}$$

$$3 \times \text{☆} = 2 \times 3$$

$$4 \times \text{☆} = 5 \times 4$$

$$12 = 3 \times \text{☆}$$

$$\begin{array}{r} 7 \\ 7 \end{array} \times \begin{array}{r} 4 \\ \text{☆} \end{array} = \begin{array}{r} \text{☆} \\ 16 \end{array}$$

$$\begin{array}{r} \text{☆} \\ 5 \end{array} \times 5 = 50$$

$$\begin{array}{r} 5 \\ \text{☆} \end{array} \times 5 = 10$$

$$\begin{array}{r} 3 \\ 5 \end{array} \times \text{☆} = \text{☆}$$

$$\text{☆} \times 6 =$$

	2
	8
	9
	6
	0

$$3 \times$$

3	1
	4
6	
	5
33	



ذهبت هناء إلى السوق و قامت ببيع 10 بطات و رجعت باثنتين

كم عدد البطات التي كانت مع هناء؟

إذا باعت هناء البطة الواحد ب 5 دراهم

ما هو المبلغ الذي حصلت عليه هناء؟



فكر مع دبدوب

أراد دبدوب شراء هديه لوالديه
بمناسبة العيد و ثمن الهدية الواحدة هو
12 درهم



فكم درهما يحتاج دبدوب ليشتري
الهديتين؟

.....

اوجدي ناتج كل مما يلي:



+ 5

$$\times 2 = 7 \times 2$$

$$\square \times 2 + 5 \times 2 =$$

$$\square + \square =$$

$$\square =$$

$$\square + 5 \times 3 = 9 \times 3$$

$$\square \times 3 + \square \times 3 =$$

$$\square + \square =$$

$$\square =$$

$$\square + 5 \times 5 = 8 \times 5$$

$$\square \times 5 + \square \times 5 =$$

$$\square + \square =$$

$$\square =$$

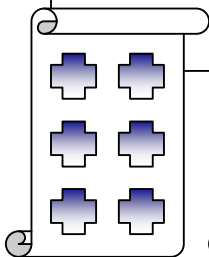
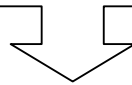
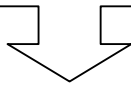
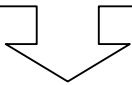
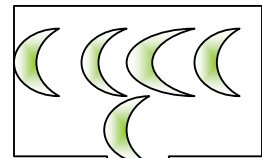

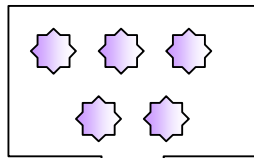
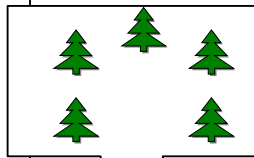



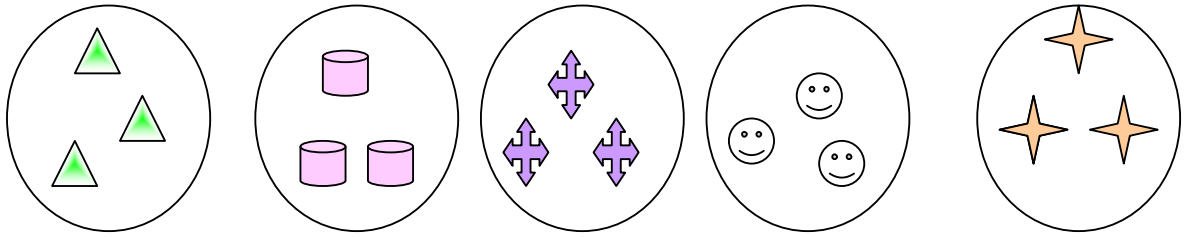
بسم الله الرحمن الرحيم

تم تحميل الملف من شبكة النجم التعليمية

www.stardz.com/forum

مع تحيات

QuEeN_DZ



ج ح
ب ن ع
ق ص و
ظ ذ

