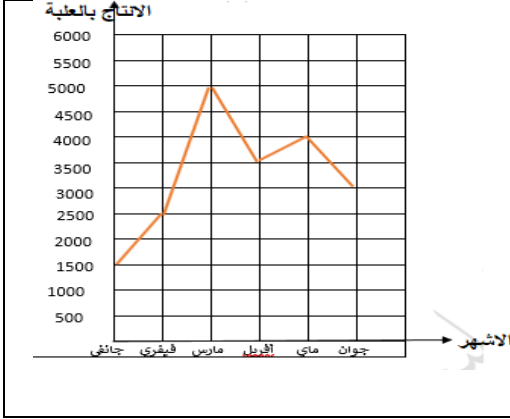


أحسن وسيلة للتغلب على الصعاب هي اختراقها.

مراجعة رقم 02 في الرياضيات للسنة الرابعة ابتدائي

التمرين 01:



يبين الرسم البياني التالي إنتاج مصنع الحلويات خلال الأشهر الستة الأولى .

- 1- اكتب الشهر الأكثر إنتاجا ←
- 2- اكتب الشهر الأقل إنتاجا ←
- 3- رتب الأشهر الستة من الأقل إنتاجا الى الأكثر إنتاجا

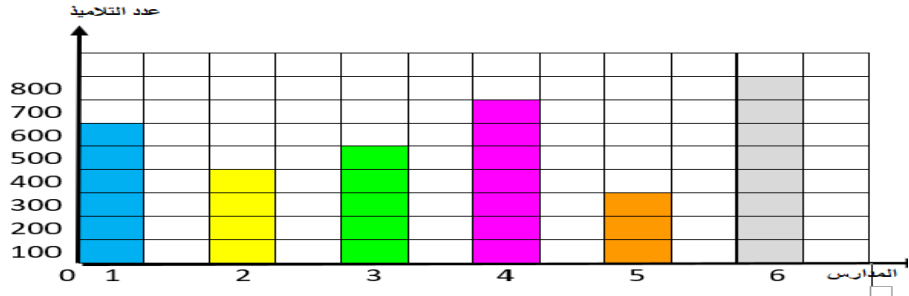
.....

التمرين 02:

➤ تمثل معطيات الجدول التالي عدد تلاميذ ست مدارس لهذا الموسم الدراسي

المدرسة	1	2	3	4	5	6
عدد التلاميذ	600

➤ يمثل هذا المخطط معطيات الجدول السابق .



✓ اتمم الجدول انطلاقا من المخطط

✓ قارن بين عدد التلاميذ الذين يزاولون دراستهم في كل من المدرستين (1) و (5)

.....

✓ رتب المدارس من (1) الى (6) ترتيبا تنازليا حسب عدد التلاميذ.

.....

التمرين 03:

D				😊	
C	▲				
B		♥			
A			★		
	1	2	3	4	5

1- أكتب ثنائية كل خانة محددة

♥ (.....,.....) / ★ (.....,.....)

😊 (.....,.....) / ▲ (.....,.....)

2- لون الخانات المنتسبة لهذه الثنائيات

بالوردي (A, 5) / بالازرق (C, 4) / بالاخضر (B, 2)

التمرين 04:

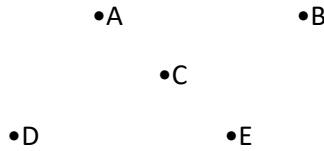
E	ج			ل		
D					ئ	
C		ا				
B	ز					
A			ر			
	1	2	3	4	5	6

قامت المعلمة بتشفير حلول كلمة لعبة السر كما يلي : (اكمل الجدول لتتعرف على كلمة السر)

الحرف	الحرف	الحرف	الحرف	الحرف	الحرف	الحرف
7	6	5	4	3	2	1
(4.A)	(6 ;D)	(3 ;C)	(2 ;B)	(1 ;E)	(5 ;E)	(3 ;C)
.....

التمرين 05:

➤ لاحظ النقط التالية ، ثم ارسم المستقيمات التي على استقامة واحدة وتشمل ثلاث نقاط
➤ ارسم النقطة F حتى تكون في استقامة مع النقطتين B و E



التمرين 05:

اختر العمليات الصحيحة وانجزها

$\begin{array}{r} 3241 \\ +624 \\ +12 \\ \hline = \end{array}$	$\begin{array}{r} 2974 \\ + 321 \\ \hline = \end{array}$	$\begin{array}{r} 64 \\ +3214 \\ +354 \\ \hline = \end{array}$	$\begin{array}{r} 6247 \\ -325 \\ \hline = \end{array}$	$\begin{array}{r} 9854 \\ - 680 \\ \hline = \end{array}$
--	--	--	---	--

التمرين 06:

اتمم الفراغات التالية :

$\begin{array}{r} . 7 . . \\ + 1 9 7 4 \\ \hline = 5 6 9 6 \end{array}$	$\begin{array}{r} 8 3 2 8 \\ + . . . \\ \hline = 8 6 8 5 \end{array}$	$\begin{array}{r} 1 0 8 . \\ + 3 . . 0 \\ \hline = 5 0 5 9 \end{array}$	$\begin{array}{r} 6 2 . 1 \\ + . . 1 9 \\ \hline = 9 8 0 0 \end{array}$
---	---	---	---

$\begin{array}{r} 6 4 7 5 \\ - . 4 . 7 \\ \hline = 3 0 1 8 \end{array}$	$\begin{array}{r} 6 8 7 . \\ - . . 2 7 \\ \hline = 3 6 4 8 \end{array}$	$\begin{array}{r} 8 0 9 2 \\ - 5 3 . 8 \\ \hline = . . 4 4 \end{array}$	$\begin{array}{r} 7 9 2 1 \\ - 5 . 1 . \\ \hline = . 3 . 1 \end{array}$
---	---	---	---

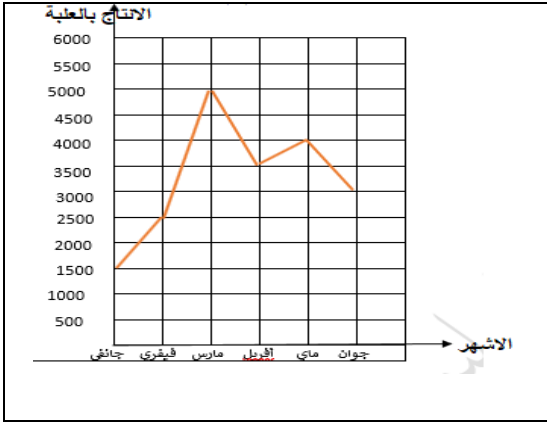
وضعية ادماجية :

اشترى أبي ثلاثة كتب ، ثمن الكتاب الأول 1250 دينارا ، والثاني يزيد ثمنه عن الأول ب 399 دينارا . أما الثالث فينقص عن الأول ب 187 دينارا
- اذا علمت أنه بقي معه 650 دينارا ، أحسب المبلغ الذي كان بحوزته .

(العمليات العمودية اجبارية)

الحلول

التمرين 01:



يبين الرسم البياني التالي إنتاج مصنع الحلويات خلال الأشهر الستة الأولى .

4- اكتب الشهر الأكثر إنتاجا ← **مارس**

5- اكتب الشهر الأقل إنتاجا ← **جانفي**

6- رتب الأشهر الستة من الأقل إنتاجا الى الأكثر إنتاجا

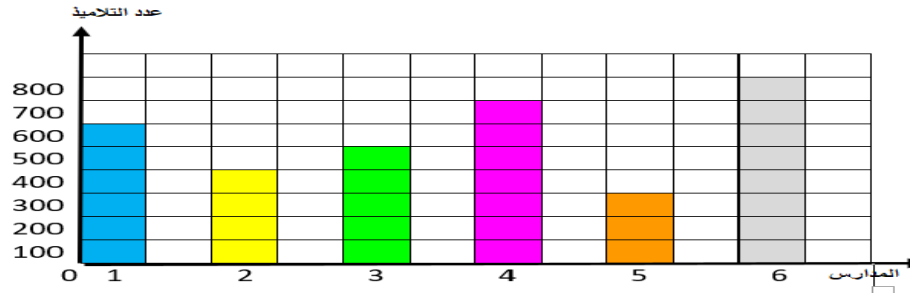
جانفي - فيفري-جوان - أفريل -ماي - مارس

التمرين 02:

تمثل معطيات الجدول التالي عدد تلاميذ ست مدارس لهذا الموسم الدراسي

المدرسة	1	2	3	4	5	6
عدد التلاميذ	600	400	500	700	300	800

يمثل هذا المخطط معطيات الجدول السابق .



✓ اتمم الجدول انطلاقا من المخطط

✓ قارن بين عدد التلاميذ الذين يزاولون دراستهم في كل من المدرستين (1) و (5)

عدد التلاميذ الذين يزاولون دراستهم في المدرسة (1) أكبر من عدد التلاميذ الذين يزاولون دراستهم في المدرسة (5) $600 > 300$

✓ رتب المدارس من (1) الى (6) ترتيبا تنازليا حسب عدد التلاميذ.

$6 > 4 > 1 > 3 > 2 > 5$

التمرين 03:

D					😊
C	▲			■	
B		■	♥		
A			★	■	
	1	2	3	4	5

1- أكتب ثنائية كل خانة محددة

♥ (3,B) / ★ (4,A)

😊 (5,D) / ▲ (1,C)

2- لون الخانات المنتسبة لهذه الثنائيات

بالوردي (5, A) / بالازرق (4, C) / بالاخضر (2, B)

التمرين 04:

E	ج				ل	
D						ئ
C			ا			
B		ز				
A				ر		
	1	2	3	4	5	6

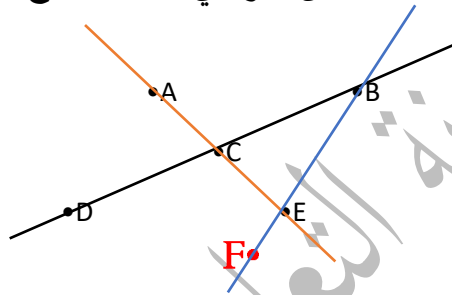
قامت المعلمة بتشفير حلول كلمة لعبة السر كما يلي : (اكمل الجدول لتتعرف على كلمة السر)

الحرف	الحرف	الحرف	الحرف	الحرف	الحرف	الحرف
7	6	5	4	3	2	1
(4.A)	(6;D)	(3;C)	(2;B)	(1;E)	(5;E)	(3;C)
ر	ئ	ا	ز	ج	ل	ا

كلمة السري : الجزائر

التمرين 05:

➤ لاحظ النقط التالية ، ثم ارسم المستقيمات التي على استقامة واحدة وتشمل ثلاث نقاط
➤ ارسم النقطة F حتى تكون في استقامة مع النقطتين B و E



التمرين 05 :

اختر العمليات الصحيحة وانجزها

3241 +624 +12 =	2974 + 321 = 3295	64 +3214 +354 =	6247 -325 =	9854 - 680 = 9174
--	-------------------------	--	--------------------------------	-------------------------

التمرين 06:

اتمم الفراغات التالية :

3 7 2 2 + 1 9 7 4 = 5 6 9 6	8 3 2 8 + 3 5 7 = 8 6 8 5	1 0 8 9 + 3 9 7 0 = 5 0 5 9	6 2 8 1 + 3 5 1 9 = 9 8 0 0
-----------------------------------	---------------------------------	-----------------------------------	-----------------------------------

6 4 7 5 - 3 4 5 7 = 3 0 1 8	6 8 7 5 - 3 2 2 7 = 3 6 4 8	8 0 9 2 - 5 3 4 8 = 2 7 4 4	7 9 2 1 - 5 6 1 0 = 2 3 1 1
-----------------------------------	-----------------------------------	-----------------------------------	-----------------------------------

وضعية ادماجية :

1250 + 399 = 1649 / ثمن الكتاب الثاني : 1649 دينار
1250 - 187 = 1063 / ثمن الكتاب الثالث : 1063 دينار
1250+1649+1063=3962 / ثمن الكتب الثلاثة : 3962 دينار
3962+650=4612 / المبلغ الذي كان مع الاب : 4612 دينار

إن أحسنت فمن الله وإن أسأت أو أخطأت فمن نفسي والشيطان