



# الجمهورية الجزائرية الديمقراطية الشعبية وزارة التربية الوطنية



المركز الوطني للوثائق  
التربوية

مخططات حصص التّعلم لمادتي التاريخ والجغرافيا لمستوى

السّنة الخامسة من التّعليم الابتدائي



2020





الجمهورية الجزائرية الديمقراطية الشعبية  
وزارة التربية الوطنية



5

مخططات حصص التّعلم

# التاريخ والجغرافيا

السنة الخامسة من التعليم الابتدائي

## أعضاء المشروع

ورشة السنة الخامسة ابتدائي

بيدري لعيد – أستاذ

التعليم الابتدائي

بن عبد القادر عبد الصمد – أستاذ

التعليم الابتدائي

رئيس المجموعة

عدو كمال – مفتش التعليم الابتدائي

رئيس الورشة

خير الدين بابا احمد – مفتش التعليم الابتدائي

رئيس المشروع

مبروك بوحركات – مفتش التعليم الابتدائي

## كلمة أعضاء المشروع:

نضع بين أيدي أساتذتنا الكرام خاصّة الجدد منهم في السنّة الخامسة من التّعليم الابتدائي هذه الباقة من المخططات لخصص تعليمية مختلفة في مادتي التّاريخ والجغرافيا ، تسهيلا وتبسيطا للموارد المعرفية والمنهجية الواردة في المنهاج حتى تمكنهم من توظيف استراتيجيات التّعلم النشط واستغلال التوجيهات المقترحة ، والتّحكم أكثر في أدوات التنفيذ البيداغوجية المرتبطة بتخطيط الأنشطة المتضمنة فيها ، قصد الوصول بهم إلى تحقيق الكفاءات المستهدفة المشار إليها في المنهاج .

هذه المخططات موجهة للأساتذة على سبيل الاستئناس ، بإمكانهم التّصرف فيها بالزيادة أو النقصان .

وأخيرا وليس آخرا نسأل الله العليّ القدير أن يلقى هذا العمل القبول .

فريق العمل

# قسم التاريخ



## التاريخ :

### ملح التخرج من مرحلة التعليم الابتدائي :

في نهاية مرحلة التعليم الابتدائي يكون المتعلم قادرا على ربط الصلة بين الأحداث التاريخية لوطنه للتعبير عن اعتزازه بهويته وانتمائه الوطني .

### ملح التخرج من الطور الثاني :

في نهاية الطور الثاني يكون المتعلم قادرا على تنظيم نشاطه ، والانضباط مع الوقت المخصص له ، وفهم التسلسل التاريخي .

الكفاءة الشاملة	في نهاية السنة الثالثة من التعليم الابتدائي يكون المتعلم قادرا على التموقع في الزمن من خلال ترتيب الأحداث التاريخية على خط زمني تبعا لتعاقبها قصد فهم التسلسل التاريخي
الميادين	الكفاءات الختامية
أدوات ومفاهيم المادة	يتمرس على بناء مفاهيم تخص الزمن ، الحدث ، السلم الزمني ، الآثار ، مصادر المعلومة التاريخية
التاريخ العام	يتعرف على آثار الانسان القديم في شمال افريقيا تعزيزا لبعدي الأصالة والانتماء الوطني .
التاريخ الوطني	ينطلق من المصادر التاريخية لاستخلاص معلومات تخص جانبا من تاريخه المحلي .

المقطع	الميدان	الحجم الساعي التقديري للميدان
الأول	أدوات ومفاهيم المادة	09 ساعات

الأهداف التعليمية	المحتويات المعرفية	مركبات الكفاءة	الكفاءة الختامية
يتعرف ويسمي المعالم الأثرية الموجودة في العالم العربي والدور الذي لعبته في تلك الحقبة التاريخية	المواقع الأثرية	المعالم التاريخية	يتعرّف على الآثار القديمة. يستدلّ بالآثار على قدم إنسان شمال إفريقيا.
أن يتعرف على مميزات حقبة زمنية معينة انطلاقاً من المسكوكات والمخطوطات	المخطوطات والمسكوكات		
يتعرف على بعض الشخصيات التاريخية التي عاشت في شمال إفريقيا ويعتمد عليها كمصدر من مصادر المعلومة التاريخية	الشخصيات التاريخية		
يتعرف على تاريخ بداية ونهاية العصر القديم ونمط عيش الإنسان فيه	العصر القديم	المراحل التاريخية	يشرح دلالة تسمية العصر. يربط الشخصية التاريخية بعصرها
يتعرف على تاريخ بداية ونهاية العصر الوسيط وأهم الأحداث التي شهدتها	العصر الوسيط		
يتعرف على تاريخ بداية ونهاية العصر الحديث وأهم الأحداث التي شهدتها	العصر الحديث		
يتعرف على تاريخ بداية ونهاية العصر المعاصر وأهم الأحداث التي شهدتها	العصر المعاصر		

المدة : 10 دقائق

عرض الوضعية المشكّلة الانطلاقية الأم

التوجهات	الممارسات التعليمية التعليمية
تسجيل بعض المعالم التاريخية : مسكوكات مواقع أثرية شخصيات تاريخية إنتاج ادبي وفني مسكوكات ومخطوطات يذكر المراحل والعصور التاريخية بالترتيب يذكر بعض الشخصيات والأحداث التاريخية	<p>❖ الوضعية المشكّلة الانطلاقية الأم</p> <p>➤ استطاع الإنسان خلال العصور المتتالية معرفة أخبار من سبقوه من البشر من خلال الآثار التي كانت كلّ حضارة تركها وراءها، ونظراً لطول الفترة التي عاش فيها الإنسان على سطح الأرض لجأ المؤرخون إلى تقسيمها إلى مراحل متباينة تسهّل لدراستها</p> <p>➤ إذا كانت الآثار هي عنوان الفترة التي عاش فيها الإنسان فكيف يمكن دراستها واستغلالها لاستخلاص الحقائق التاريخية بهدف التعرف على نمط معيشة الإنسان في مختلف العصور الطويلة التي مر بها ؟</p> <p>➤ المهمات</p> <ul style="list-style-type: none"> <li>▪ يذكر بعض المواقع الذي يعرفها</li> <li>▪ يتعرف على بعض الآثار مثل المسكوكات والمخطوطات</li> <li>▪ يذكر بعض الشخصيات التاريخية</li> <li>▪ يسمي العصور التاريخية ويذكر خصائص ومميزات كل عصر</li> </ul>

مخطط حصّة تعليمية للسنة الخامسة ابتدائي - التاريخ

المقطع: // الأسبوع: 01 الموضوع: تقويم تشخيصي الحصّة:

/////

الهدف التعليمي: يسترجع معارفه ومكتسباته السابقة لاستثمارها مجددا

توجيهات

الممارسات التعليمية التعليمية

**المشكل التعليمي**  
يعاني الكثير من المتعلمين من صعوبة استرجاع المكتسبات السابقة واستثمارها مجددا في حل وضعيات مختلفة.

**النشاط الأول:** اكمل الجمل الآتية بالكلمات المناسبة:

عاش الإنسان القديم بالجزائر، وقد عثر علماء الآثار على بعض مخلفاته من أبرزها ..... و..... و..... و.....، سكن الانسان القديم ..... و.....، اعتمد في غذائه على..... و.....، صنع لباسه من .....

**النشاط الثاني:** اجب بصحيح أو خطأ

❖ تتميز مرحلة ما قبل التاريخ ب:

- الرسم والنقش على الصخور وجدران الكهوف.
- يسكن في بيوت مبنية بالحجارة.
- يمارس الزراعة باعتماده على أدوات معدنية أكثر تطور.

❖ تتميز مرحلة المرحلة التاريخية ب:

- الكتابة على الجلود.
- يمارس الزراعة باستعمال أدوات بسيطة مصنوعة من الحجارة.
- يسكن في الكهوف والمغارات.

**النشاط الثالث:** صف المخلفات الأثرية التالية في الخانة المناسبة

ضريح مسينييسا - نقوش صخرية - مسكوكات نوميديية - ثمثال - مدن أثرية - أدوات حجرية - مخطوطات - نصوص تاريخية

الوثائق المكتوبة	الرسوم والنقوش	الأثار المادية

**النشاط الرابع:** لاحظ الصور



منظر لبلدة الجزائر خلال القرن 17



الجامع الجديد بالعاصمة



أسطول بحري



الداي حسين



خير الدين



صروج

- عرف كل شخصية منهم واذكر أهم أعمال كل واحد منهم.
- ما الدور الذي أداه هذا الاسطول ( الشكل 2).
- ما المهام التي كانت تقوم بها المساجد و فيم يتمثل النشاط الاقتصادي.

مخطط حصّة تعليمية للسنة الخامسة ابتدائي - التاريخ

المقطع الأول : أدوات ومفاهيم المادة الأسبوع : 02 الموضوع: المعالم التاريخية : مواقع أثرية الحصّة : 01

الهدف التعليمي: يتعرف ويسمي المعالم الاثرية الموجودة في العالم العربي والدور الذي لعبته في تلك الحقبة التاريخية  
الوسائل التعليمية: صور / مجسمات / كتاب / سبورة

توجهات

الممارسات التعليمية التعليمية

استرجاع مكتسبات سابقة وتسجيل التصورات يساعد المتعلم على بناء معارف جديدة .

**النشاط الاول :**

توجد في الجزائر وفي بعض الدول العربية عدة أماكن يقبل عليها الزوار من مختلف مناطق العالم للاستكشاف . اكتب على اللوحة أحد هذه الأماكن التي تعرفها واسم المنطقة التي يوجد فيها.

**النشاط الثاني :**

السند : تزخر الجزائر والوطن العربي بمعالم أثرية لعبت أدوارا مختلفة، وفي أزمنة متعددة ، منها ما شيد من أجل المراقبة العسكرية أو نشر تعاليم الدين أو كمتعقدات. يتحاور المعلم مع المتعلمين حول المعالم الأثرية والدور الذي لعبته.



2- يطلب المعلم من المتعلمين ملاحظة الصور

- يسمي المتعلم المواقع الاثرية ومكانها ودورها

- يرتب هذه المواقع حسب تاريخ تشييدها وفق السلم الزمني .

**الأثر الكتابي :**

- ❖ توجد في الجزائر على غرار بعض الدول العربية عدة معالم أثرية مثل : **قلعة بني حماد** بالجزائر التي شيدها حماد بن بلكين سنة 1007م. والتي لعبت دورا هاما في المجال السياسي والعسكري.
- ❖ **مسجد القيروان** بتونس الذي أسسه عقبة بن نافع سنة 670م وسمي باسمه وكان له الفضل في نشر تعاليم الدين الاسلامي .
- ❖ **الأهرامات** بمصر التي كانت مقابرا للملوك

**النشاط الثالث :** من خلال ما تعلمته املأ الجدول التالي

الهدف	المؤسس	اسم المعلم	
			الجزائر
			تونس
			مصر

مطالبة التلاميذ بملاحظة السندات للتعرف على المعلم والدور الذي لعبه

تفويج التلاميذ تطبق احدي استراتيجيات التعلم النشط

يقرأ ويدون الخلاصة على الكراس

ينجز التمرين ويصحح جماعيا مع امكانية استعمال الافواج

المقطع الأول: أدوات ومفاهيم المادة **الأسبوع: 03** الموضوع: المعالم التاريخية 2: المسكوكات والمخطوطات **الحصّة: 02**

**الهدف التعليمي** يتعرف على مميزات حقبة زمنية معينة انطلاقاً من المسكوكات والمخطوطات **الوسائل التعليمية:** صور / كتاب / سبورة

توجهات

الممارسات التعليمية التعليمية

**النشاط الأول:**

- يعيش الإنسان فترة زمنية طويلة أو قصيرة فيخلف وراءه آثاراً تعرّف بشخصيته وترمز للفترة الزمنية التي عاش فيها .  
أكتب على الألواح اسم أثر تعرفه.

**النشاط الثاني:** صور مخطوطات ومسكوكات

السند 2



تركيّا، تزيم نسخة قديمة من "قانون" ابن سينا  
نسخة قديمة من كتاب "القانون في الطب" لابن سينا الذي عاش في القرن  
11 للميلاد، وبقي كتابه مرجعاً أساسياً في عالم الطب لغزات السنين

السند 01



عملة فضية لآثره جدا للملك الأمازيغي  
يوعرطة عام 160 قبل الميلاد في  
العاصمة النوميدية سيرتا (قسنطينة  
تتمال الجزائر).

عملة في العهد الروماني  
تم العثور عليها في باتنة

عملة جزائرية في العهد العثماني

**السند 1:** يعرض المعلم صورة لمسكوكات ويطلب من التلاميذ ملاحظتها ويحاورهم حول شكلها والنقوش الموجودة عليها، للوصول الى تاريخ الحقبة التاريخية التي تنسب إليها .

**السند 2:** تعبر المخطوطات عن التراث الحضاري والتاريخ الإنساني، فهي تمثل مادة أثرية تمكننا من التعرف على عراقة الشعوب التي تفتخر بتاريخها وحضارتها .

يقرأ المعلم السند المكتوب على السبورة ويطلب المتعلمين بقراءته ويتحاور معهم حول مضمونه. مع تدوين الملاحظات.

**الأثر الكتابي:**

- ❖ تعتبر المسكوكات والمخطوطات من المصادر التاريخية للتعرف على حقبة زمنية معينة.
- ❖ المسكوكات هي قطع نقدية تحمل ختما من السلطة الحاكمة يتعرف من خلاله الباحثون على اسم الملك وصورته واللغة المستعملة .
- ❖ المخطوطات تمثل مادة أو مصدرا هاما للحصول على المعلومة التاريخية الخاصة بالمرحلة التاريخية التي نريد دراستها

**النشاط الثالث:**

املاً الجدول التالي : عملة رومانية – ورقة فيها كتابة منذ العهد الاسلامي - صومعة – قطعة ذهبية – ورقة نخل مكتوب عليها كتابات رومانية- الاهرامات

مخطوطات	مسكوكات	مواقع وأثار

ينجز التمرين ويصحح  
جماعيا مع امكانية  
استعمال الافواج

مخطط حصّة تعليمية للسنة الخامسة ابتدائي - التاريخ

المقطع الأول: أدوات ومفاهيم المادة **الأسبوع: 04** **الموضوع:** المعالم التاريخية 3: الشخصيات التاريخية **الحصّة: 03**

**الهدف التعليمي:** يتعرف على بعض الشخصيات التاريخية التي عاشت في شمال إفريقيا ويعتمد عليها كمصدر من مصادر المعلومة التاريخية.

**الوسائل التعليمية:** صور / كتاب /سبورة

توجهات

الممارسات التعليمية التعليمية

**النشاط الأول:** عرفت منطقة شمال إفريقيا ظهور شخصيات تاريخية كثيرة تركت أثارا في ميادين متنوعة اعتبرها المؤرخون مصدرا من المصادر التاريخية . أكتب على الألواح اسم شخصية تاريخية مشهورة تعرفها .

**النشاط الثاني:**

**السند 3**



الاديب ابوليوس

**السند 2**



طارق بن زياد

**السند 1**



ماسينيسا

**السند 1:** الملك ماسينيسا من أبرز ملوك نوميديا ولد عام 238 ق م تمكن من توحيد النوميديتين . اتخذ من سيرتا(قسنطينة ) عاصمة له .

**السند 2:** طارق بن زياد قائد أمازيغي الأصل تحمّل مهمة الفتح الإسلامي لبلاد الأندلس

**السند 3:** ولد الأديب أبوليوس سنة 125 ميلادي في مدينة مادور ( سوق اهراس) فهو كاتب وخطيب وفيلسوف وروائي وشاعر ومسرحي ويتقن عدة لغات - ترك العديد من المؤلفات في الرياضيات والفلك والموسيقى.

■ ملاحظة الصور من أجل التعرف على الشخصيات التاريخية : جمع التصورات

■ يقرأ المعلم السند المكتوب على السبورة ويطلب المتعلمين بقرائه ويتحاور معهم حول مضمونه : اسم الشخصية، الأثار التي تركها والفترة التي عاش فيها

**الأثر الكتابي:**

تعتبر الشخصيات التاريخية مصدر من مصادر المعلومة التاريخية في العصر الذي عاشت فيه ومن بينهم ماسينيسا وطارق بن زياد والاديب ابوليوس .

إن سيرة هذه الشخصيات و ما خلفته من إنتاج متنوع يمثل أحد مصادر الأبحاث التاريخية .

**النشاط الثالث :**

- من خلال ما تعلمته ، رتب الشخصيات التالية : ماسينيسا / طارق بن زياد/ابوليوس حسب الفترة الزمنية التي عاشت فيها كل واحدة مع ذكر ابرز المخلفات.

الشخصيات	الفترة الزمنية	المخلفات

مخطط حصّة تعليمية للسنة الخامسة ابتدائي - التاريخ

الحصّة : 04

الموضوع: المراحل التاريخية: مرحلة التاريخ القديم

المادة : 05 الاسبوع : 05


الوسائل التعليمية: صور/ كتاب /سبورة

الهدف التعليمي: يتعرف على تاريخ بداية ونهاية العصر القديم ونمط عيش الإنسان فيه.

توجيهات

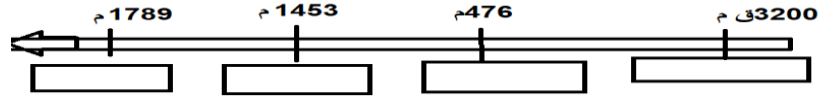
الممارسات التعليمية التعليمية

استرجاع مكتسبات  
سابقة وتسجيل  
التصورات يساعد  
المتعلم على بناء معارف  
جديدة .



**النشاط الاول :**

\* تعبر الصورة عن أحد العصور التاريخية سم العصر الذي وجدت فيه ، ثم حدد بدايته على السلم الزمني .




**النشاط الثاني :**

**السند :** يقرأ المعلم السند المكتوب على السبورة ويطلب المتعلمين بقراءته ويتحاور معهم من أجل تحديد بداية ونهاية مرحلة التاريخ القديم .

✓ مرحلة التاريخ القديم: تبدأ من اكتشاف الكتابة حوالي سنة 3200 ق.م ، إلى غاية سقوط روما سنة 476 م . حيث اعتمد الإنسان في هذه المرحلة على الصيد والزراعة باستعمال أدوات مصنوعة من الحجارة والعظام مثل صناعة الفؤوس والمكاشط .

✓ النقوش والكتابة والرسومات التي خلفها الانسان في فترة ما قبل التاريخ بالطاسيلي هي تعبير عن تفكير ونمط معيشة الانسان، يستند عليها المؤرخ في دراسة التاريخ.



-من خلال قراءة السند وملاحظة الصورة يتحاور المعلم مع المتعلمين حول بداية هذا العصر ، وماهي الوسائل التي كان يعتمد عليها الإنسان في هذه المرحلة ؟ وعن معاني هذه الرسومات ، ولماذا اعتمد الإنسان القديم على هذه الرسومات ؟

**الأثر كتابي :**

مرحلة التاريخ القديم: تبدأ من اكتشاف الانسان للكتابة حوالي سنة 3200 ق.م ، إلى غاية سقوط روما سنة 476 م . ولقد صنع الإنسان أدوات بدائية استعملها للصيد والزراعة كما كان يعبر عن أحاسيسه بالنقش على الصخور والرسم على جدران المغارات مثل الطاسيلي.

**النشاط الثالث :**

انقل الفقرة على كراسي ثم املأ الفراغات بما يناسبها :

تمتد مرحلة ما قبل التاريخ من .....وإلى غاية اكتشاف .....حيث كان الإنسان خلال هذه المرحلة يسكن في ..... ويمارس حرفة.....و.....ويتنقل من مكان لآخر بحثاً عن .....

مخطط حصّة تعليمية للسنة الخامسة ابتدائي - التاريخ

<p>المقطع الأول : أدوات ومفاهيم المادة الأسبوع : 06 الموضوع : المراحل التاريخية: العصر الوسيط الحصّة : 05</p>	
<p>الهدف التعليمي : يتعرف على تاريخ بداية ونهاية العصر الوسيط وأهم الأحداث التي شهدتها</p>	<p>الوسائل التعليمية : صور / كتاب / سبورة</p>
<p>توجهات</p> <p>استرجاع مكتسبات سابقة وتسجيل التصورات يساعد المتعلم على بناء معارف جديدة.</p> <p>المشكل التعليمي : معظم التلاميذ لا يعرفون الأحداث التي وقعت في العصر الوسيط وغيرت مجرى حياة الانسان مطالبية التلاميذ بالتطرق والتعرف على الاحداث التاريخية التي جرت في هذه المرحلة تقويم تكويني بعد كل نشاط تطبق احدي استراتيجيات التعلم النشط يقرأ ويدون الخلاصة على الكراس</p> <p>ينجز التمرين ويصحح جماعيا مع إمكانية استعمال الافواج</p>	<p>الممارسات التعليمية التعليمية</p> <p><b>النشاط الاول :</b> عاش الإنسان في مرحلة العصر القديم حياة بدائية الى أن وقعت أحداثا عظيمة غيرت من نمط معيشته. وهي بداية لعصر جديد سمي بالعصر الوسيط، اذكر حدثا بارزا فيه.</p> <p><b>النشاط الثاني :</b> <b>السند :</b></p> <p>➤ تبدأ مرحلة التاريخ الوسيط من سقوط روما 467 م الى فتح القسطنطينية على يد العثمانيين عام 1453 م ، وأهم مميزات هذه المرحلة بعثة الرسول محمد ﷺ .</p> <p>➤ كما انطلقت الفتوحات الاسلامية في هذا العصر من مصر نحو بلاد المغرب الأوسط . حيث أسس الفاتح عقبة بن نافع مدينة القيروان التي كانت منطلقا لمواصلة الفتوحات الاسلامية .</p> <p>➤ شجع المسلمون الزراعة وكانت المصدر الرئيسي لمعيشة السكان واحتلت الصناعة مكانة كبيرة في حياة المجتمع مما أدت الى ازدهار التجارة التي شهدت تطور كبيرا</p> <p>يتحاور المعلم مع المتعلمين من أجل :</p> <ul style="list-style-type: none"> <li>تحديد بداية ونهاية ومميزات هذه المرحلة.</li> <li>دور الفتوحات في انتشار الإسلام في هذه المرحلة.</li> <li>الوضع الاقتصادي في هذه المرحلة.</li> </ul> <p><b>الأثر كتابي :</b></p> <p>تبدأ مرحلة التاريخ الوسيط من سقوط روما 467 م الى فتح القسطنطينية على يد العثمانيين عام 1453 م ، وأهم مميزات هذه المرحلة ميلاد الرسول محمد ﷺ والازدهار الاقتصادي والفتوحات الاسلامية</p> <p><b>النشاط الثالث :</b> وضعية إدماجية : انطلاقا مما تعلمته اكتب فقرة لا تتعدى 4 اسطر تتحدث فيها عن تاريخ بداية ونهاية العصر الوسيط وأهم الأحداث التي شهدتها وساهمت في تطوير معيشة الإنسان.</p>



مسجد القيروان بناه عقبة بن نافع

المقطع الاول: أدوات ومفاهيم المادة <b>الاسبوع: 07</b> <b>الموضوع: المراحل التاريخية: العصر الحديث</b> <b>الحصّة: 06</b>	
<b>الهدف التعليمي:</b> يتعرف على بداية ونهاية العصر الحديث وأهم النشاطات الاقتصادية	<b>الوسائل التعليمية:</b> صور / كتاب / سبورة
<b>توجهات</b>	<b>الممارسات التعليمية التعليمية</b>
استرجاع مكتسبات سابقة وتسجيل التصورات يساعد المتعلم على بناء معارف جديدة	<b>النشاط الاول :</b> يلاحظ المتعلم الصورة . - على الألواح اكتب اسم الشخصية والدور الذي لعبته في هذا العصر
المشكل التعليمي الكثير من المتعلمين لا يعرفون التفاصيل والاحداث والدور التي لعبته الجزائر في ظل الحكم العثماني	<b>النشاط الثاني :</b> <b>السند1 :</b> يبدأ العصر الحديث من فتح القسطنطينية سنة 1453 م إلى قيام الثورة الفرنسية سنة 1789 م يتحاور المعلم مع المتعلمين لتحديد بداية ونهاية هذا العصر. <b>السند2:</b> عاش خير الدين بربروس في الفترة الممتدة ما بين 1475 م و 1546 م وهو بحارة عثماني (تركي) شهير استنجدت به الجزائر لمقاومة الغزو الإسباني فساعدتها وعمل على إلحاقها بالدولة العثمانية. يطلب المعلم المتعلمين ملاحظة الصورة وقراءة السند يحاورهم من أجل التعرف على هذه الشخصية والدور الذي لعبته في هذا العصر. <b>السند3:</b> أصبحت الجزائر من الولايات العثمانية منذ 1518 م، وقد عين السلطان العثماني سليم الأول الباي خير الدين بربروس حاكماً عليها. يتحاور المعلم مع المتعلمين من أجل تحديد انضمام الجزائر إلى الدولة العثمانية. <b>السند4:</b> شهدت الجزائر في هذا العصر تطورا اقتصاديا مميّزا في المجالات التالية الزراعة: زراعة الخضر والبقول والفاواكه وفي مقدمتها القمح الصناعة: الصناعة النسيجية والجلدية والفخارية والنحاسية والحديدية والخشبية التجارة: توسعت التجارة الجزائرية خارجيا نحو الصحراء الإفريقية بواسطة القوافل وعبر البحر نحو أوروبا والسواحل الإفريقية وولايات الخلافة العثمانية.
مطالبة التلاميذ بالتطرق والتعرف على اهم ما قدمته الجزائر من انتاج وصنع لبعض المعدات . تقويم تكويني بعد كل نشاط استعمال احدى تقنيات التعلم النشط يسجل التصورات كما هي تفويج التلاميذ وتوزيع يقرأ ويدون الخلاصة على الكراس. ينجز التمرين ويصحح جماعيا.	<b>الأثر الكتابي :</b> يبدأ العصر الحديث من فتح القسطنطينية سنة 1453 م ، الى قيام الثورة الفرنسية سنة 1789 م أصبحت الجزائر من الولايات العثمانية، وقد عين السلطان العثماني سليم الأول الباي خير الدين بربروس حاكماً عليها. شهد النظام الاقتصادي تطورا كبيرا في عدة مجالات : التجارة : الصناعة : الزراعة <b>النشاط الثالث :</b> أكمل ما يلي : ■ تبدأ مرحلة التاريخ الحديث سنة ..... ، الى قيام الثورة الفرنسية سنة ..... أصبحت الجزائر من الولايات العثمانية سنة ..... ، وقد عين السلطان العثماني سليم الأول الباي ..... حاكماً عليها شهد النظام الاقتصادي تطورا كبيرا في عدة مجالات : التجارة مثل ..... : الصناعة مثل ..... : الزراعة مثل .....

**مخطط حصّة تعليمية للسنة الخامسة ابتدائي - التاريخ**

**المقطع الأول:** أدوات ومفاهيم المادة **الاسبوع:** 08 **الموضوع:** المراحل التاريخية: العصر المعاصر **الحصّة:** 07

**الهدف التعليمي:** يتعرف على بداية ونهاية العصر المعاصر وأهم الأحداث التي شهدتها **الوسائل التعليمية:** صور / كتاب / سبورة

توجهات	الممارسات التعليمية التعليمية												
استرجاع مكتسبات سابقة وتسجيل التصورات يساعد المتعلم على بناء معارف جديدة <b>المشكل التعليمي</b> لا يعرف الكثير من المتعلمين عظماء وزعماء وقادة المقاومة والحركات التحررية في الجزائر واهم انجازاتهم . يتعرف على اسباب الاحتلال. تقويم تكويني بعد كل نشاط . استعمال احدي تقنيات التعلم النشط يسجل التصورات كما هي.	<p>بعد نهاية العصر الحديث ظهر عصر جديد، برزت شخصيات مشهورة في الجزائر تزعمت الحركات التحررية.</p> <p>على الألواح أذكر بعض الشخصيات التي تعرفها مستعينا بالصور</p> <p><b>النشاط الأول:</b> <b>السند 1:</b></p> <p>- تبدأ مرحلة التاريخ المعاصر من الثورة الفرنسية سنة 1789م إلى يومنا هذا من أبرز سمات هذه الفترة قيام الثورة الصناعية وانتشار الحركة الاستعمارية وظهور المقاومات والحركات التحررية.</p> <p>- يتحاور المعلم مع المتعلمين من أجل معهم تحديد بداية ونهاية ومميزات هذه الفترة.</p> <p><b>النشاط الثاني:</b> <b>السند 2:</b></p> <p>كانت للجزائر ديون كثيرة على فرنسا بسبب تصدير القمح لها وحين طالبت الجزائر بحقها رد القنصل الفرنسي ردا غير مهذب فغضب داي حسين وطرده من مجلسه مشيرا بمروحته . يتحاور المعلم مع المتعلمين من أجل استنتاج سبب احتلال فرنسا الجزائر.</p> <p><b>السند 3:</b></p> <p>الأمير عبد القادر من كبار رجال الدولة الجزائريين في التاريخ المعاصر ، فهو مؤسس الدولة الجزائرية الحديثة ورائد مقاومتها ضد الاستعمار الفرنسي بين 1832 و 1847. يطلب المعلم المتعلمين ملاحظة الصورة وقراءة السند ومحاورتهم من أجل التعرف على هذه الشخصية والدور الذي لعبته في هذا العصر</p> <p><b>الأثر الكتابي:</b></p> <p>يبدأ العصر المعاصر من الثورة الفرنسية سنة 1789م إلى يومنا هذا ، ومن أبرز سمات هذا العصر قيام الثورة الصناعية و انتشار الحركة الاستعمارية وظهور المقاومات والحركات التحررية ، ومن أبرز شخصيات هذا العصر الأمير عبد القادر رائد المقاومة ضد الاستعمار الفرنسي بين 1832 و 1847</p> <p><b>النشاط الثالث:</b></p> <p>اشطب الاجابة الخاطئة .</p> <table border="1"> <tr> <td>بداية العصر المعاصر</td> <td>1689</td> <td>1789</td> <td>1889</td> </tr> <tr> <td>شخصيات هذا العصر</td> <td>ماسينييسا</td> <td>عروج بربروس</td> <td>البشير الابراهيمي</td> </tr> <tr> <td>مميزات العصر</td> <td>الثورة الفرنسية</td> <td>سقوط روما</td> <td>الهجرة النبوية</td> </tr> </table>	بداية العصر المعاصر	1689	1789	1889	شخصيات هذا العصر	ماسينييسا	عروج بربروس	البشير الابراهيمي	مميزات العصر	الثورة الفرنسية	سقوط روما	الهجرة النبوية
بداية العصر المعاصر	1689	1789	1889										
شخصيات هذا العصر	ماسينييسا	عروج بربروس	البشير الابراهيمي										
مميزات العصر	الثورة الفرنسية	سقوط روما	الهجرة النبوية										

الحجم الساعي التقديري للميدان	الميدان	المقطع
07.30 ساعات	التاريخ العام	الثاني

الاهداف التعليمية	المحتويات المعرفية	مركبات الكفاءة	الكفاءة الختامية
يعرف الاستعمار الحديث ويتعرف على أسبابه ودوافعه.	الاستعمار الحديث	يعتمد نصوص ملائمة لشرح مفهوم الاستعمار يشخص مظاهر الاستعمار يصنف انعكاساته السلبية على البلدان المستعمرة يقدم أمثلة عن الاستعمار في المغرب العربي وأفريقيا	يعبر عن رفضه لكل اشكال الاحتلال والاستغلال من خلال امثلة تخص الاستعمار الأوربي لبلدان افريقية
يتعرف على الدول المستعمرة والمستعمرة في إفريقيا.	الاستعمار الأوربي في بلاد المغرب وأفريقيا		
يتعرف على أنواع الاستعمار ومظاهره في إفريقيا . يعرف الحماية.	مظاهر الاستعمار الأوربي الحماية		
يتعرف على مظاهر الاستيطان في المغرب العربي.	مظاهر الاستعمار الأوربي الاستيطان		
يتعرف على الانعكاسات السلبية للدولة المستعمرة في إفريقيا .	الانعكاسات السلبية للاستعمار الحديث		
يذكر مناطق النفوذ للدول الأوربية في إفريقيا.	نماذج عن الاستعمار الحديث		
يدمج معارفه ومكتسباته السابقة .	إدماج كلي		

المدة : 10 دقائق


عرض الوضعية المشكلة الانطلاقية الأم

التوجيهات	الممارسات التعليمية التعليمية
يعرف الاستعمار الحديث يذكر بعض الدول الأوربية المستعمرة وبعض المستعمرات في المغرب العربي وفي أفريقيا يحدد أنواع ومظاهر الاستعمار يذكر بعض النماذج من الاستعمار الحديث يذكر أثار الاستعمار الحديث على أفريقيا.	<p>❖ الوضعية المشكلة الانطلاقية الأم</p> <p>➤ يختلف الاستعمار الحديث عن الاستعمار القديم ، في كونه يعتمد على أساس السيطرة والتسلط على الشعوب ، وموارد ثروات البلدان خارج أوروبا ، ولقد كان وراء هذه الحركة الاستعمارية التوسعية الثورة الصناعية ، فلقد اتخذ الاستعمار الحديث أشكالاً مختلفة للوصول الى اهدافه خاصة في إفريقيا .</p> <p><b>المهمات</b></p> <ul style="list-style-type: none"> <li>▪ يعرف الاستعمار الحديث أنواعه وأهدافه.</li> <li>▪ يتعرف على المستعمرات الأوربية في دول المغرب العربي وأفريقيا.</li> <li>▪ يذكر مظاهر الاستعمار وأنواعه.</li> <li>▪ انعكاسات الاستعمار الحديث على إفريقيا.</li> <li>▪ يذكر نماذج عن بعض الدول الأوربية المستعمرة .</li> </ul>

مخطط حصّة تعليمية للسنة الخامسة ابتدائي - التاريخ

المقطع الثاني: التاريخ العام : الاسبوع : 09 الموضوع: الاستعمار الحديث : مفهومه \* اسبابه ودوافعه **الحصّة : 01**

**الهدف التعليمي:** يتعرف على مفهوم الاستعمار الحديث وأسبابه ودوافعه **الوسائل التعليمية:** صور / كتاب / سبورة / خرائط

توجهات	الممارسات التعليمية التعليمية
<p>استرجاع مكتسبات سابقة و تسجيل التصورات يساعد المتعلم على بناء معارف جديدة .</p> <p><b>المشكل التعليمي</b></p> <p>يتعرف على مفهوم الاستعمار الحديث ودوافع واسباب استعمار الدول الاوروبية لدول افريقيا</p> <p>تقويم تكويني تفويج التلاميذ تطبيق احدي استراتيجيات التعلم النشط يقرأ ويدون الخلاصة على الكراس ينجز التمرين ويصحح جماعيا</p>	<p><b>النشاط الاول :</b> قاومت وحاربت الكثير من الدول الضعيفة الاستعمار لكنها رضخت لهيمنتها، وسلبت منها خيراتهما .</p> <p>على الألواح أذكر بعض الدول المستعمرة</p> <p><b>النشاط الثاني :</b> خريطة الاستعمار في إفريقيا والمغرب العربي (من الانترنت)</p>  <p><b>السند 1 :</b></p> <p>ظهر الاستعمار الحديث في القرن التاسع عشر على إثر قيام الثورة الصناعية في أوروبا، حيث بدأت هذه الدول بالبحث عن المواد الأولية التي تزخر بها إفريقيا وآسيا ، وعن أسواق خارجية لترويج منتجاتها الصناعية .</p> <p>خلال ملاحظة الصور والتحاور يتم استنتاج : تعريف الاستعمار الحديث .</p> <p><b>السند 02:</b> صور من الكتاب المدرسي</p>  <p>من دوافع الاستعمار الحديث: تنافس الدول الاستعمارية فيما بينها لتوسيع نفوذها في العالم. والسيطرة على طرق المواصلات العالمية والمواقع الاستراتيجية ، وأيضا الحصول على المواد الأولية للصناعة. والبحث عن الأسواق التجارية. والقضاء على الدين الاسلامي ونشر المسيحية .</p> <p>من خلال ملاحظة الصور والتحاور يستنتج : أسباب ودوافع الاستعمار الحديث .</p> <p><b>الأثر الكتابي :</b></p> <p>الاستعمار الحديث هو السيطرة والتسلط على موارد ثروات خارج أوروبا، مما دفع الدول الاستعمارية إلى:</p> <p>أ. التنافس فيما بينها للسيطرة وتوسيع نفوذها في العالم.</p> <p>ب. السيطرة على طرق المواصلات العالمية والمواقع الاستراتيجية</p> <p>ج. الحصول على المواد الأولية للصناعة.</p> <p>د. البحث عن الأسواق التجارية لتصريف الإنتاج.</p> <p>هـ- نشر الديانة المسيحية</p> <p><b>النشاط الثالث :</b></p> <p>من خلال ما تعلمته اشرح بأمثلة دوافع احتلال فرنسا للجزائر</p>

## مخطط حصّة تعليمية للسنة الخامسة ابتدائي - التاريخ

المقطع الثاني: التاريخ العام الأسبوع: 10 الموضوع: الاستعمار الأوروبي في بلاد المغرب وأفريقيا الحصّة: 02

الهدف التعليمي: يتعرف على الدول المستعمرة في بلاد المغرب وإفريقيا وانعكاساتها الاستعمارية  
الوسائل التعليمية: صور/ كتاب/ سيورة  
/خرائط

## توجيهات

## الممارسات التعليمية التعلمية

**النشاط الاول**

- عرفت القارة الأوروبية تحولات عميقة في السياسة والاقتصاد جنت ثمارها الشعوب الأوروبية في حين انعكست سلبا على شعوب إفريقيا من خلال ظاهرة الاستعمار.

- على الألواح أذكر بعض الدول الإفريقية التي عانت من ظاهرة الاستعمار .

**النشاط الثاني:** خريطة الاستعمار في إفريقيا والمغرب العربي ( من الانترنت ) .

**السند 1 :**

شهد القرن التاسع عشر تسابقاً بين الدول الأوروبية: (بريطانيا، فرنسا، إيطاليا، ألمانيا، هولندا، بلجيكا، إسبانيا) لاستعمار إفريقيا. وكان لبريطانيا وفرنسا النصيب الأكبر.

يطلب المعلم قراءة السند وملاحظة الخريطة ويتحاور مع المتعلمين من أجل استنتاج: الدول المُستعمرة والدول المستعمرة

**السند 02:**

انعكست السياسة الاستعمارية على إفريقيا اقتصاديا وسياسيا واجتماعيا وذلك بالسيطرة على خيراتها من موارد أولية، احتكار الأسواق، إثارة النزاعات الحدودية، عرقلة النمو الاقتصادي، التمييز العنصري وانتشار الفقر والامية والأمراض .

يطلب المعلم قراءة السند ويتحاور مع المتعلمين من أجل استنتاج انعكاسات السياسة الاستعمارية في إفريقيا

**الأثر الكتابي:**

بدأ التنافس الاستعماري يشتد على قارة إفريقيا منذ القرن 19 وقسمت فيه القارة الى مناطق نفوذ.

وكان لفرنسا وبريطانيا النصيب الأكبر. ونتج عن ذلك:

السيطرة على خيراتها من موارد أولية، احتكار الأسواق، إثارة النزاعات الحدودية، عرقلة النمو الاقتصادي، التمييز العنصري وانتشار الفقر والامية والأمراض.

**النشاط الثالث:**

من خلال الخريطة ارسم جدولا واذكر الدول المُستعمرة والدول المستعمرة في بلدان المغرب العربي وفي إفريقيا.



مخطط حصّة تعليمية للسنة الخامسة ابتدائي - التاريخ

المقطع الثاني : التاريخ العام <b>الاسبوع: 11</b> <b>الموضوع:</b> مظاهر الاستعمار الأوربي : الاستيطان <b>الحصّة: 03</b>	
<b>الهدف التعليمي:</b> يتعرف على مظاهر الاستعمار الأوربي : الاستيطان	
<b>الوسائل التعليمية:</b> صور/ كتاب /سبورة /خرائط	
<b>توجهات</b>	<b>الممارسات التعليمية التعليمية</b>
استرجاع مكتسبات سابقة وتسجيل التصورات يساعد المتعلم على بناء معارف جديدة .	<p><b>النشاط الأول:</b></p> <p>- قامت بعض الدولة الأوربية الاستعمارية بالتدخل العسكري في بعض الدول الإفريقية وأما البعض الآخر شجعت مواطنها على الهجرة إلى هذه المستعمرات.</p> <p>- على الألواح اذكر الأسباب التي دفعتها إلى تشجيعهم على الهجرة.</p> <p><b>النشاط الثاني:</b></p> <p><b>السند 01:</b></p> <p>الاستعمار الاستيطاني: أي أن تقوم الدول المستعمرة بتشجيع رعاياها على الهجرة إلى الدولة المراد نهب خيراتها ومواردها وسلب خيراتها واحتلال مجموعة من الأراضي، حيث تبدأ تلك المجموعة في التكاثر والتملك والاستثمار في هذه الأراضي، ويمكن أن يصت الأمر لقتل السكان الأصليين أو تشريدهم خارج بلدهم مثلما حدث في جنوب إفريقيا وفلسطين</p> <p>يتحاور المعلم مع المتعلمين من أجل استنتاج مفهوم الاستيطان</p> <p><b>السند 02:</b></p> <p>ساد الاستيطان مع ازدهار الظاهرة الاستعمارية في موجتها الثانية خلال القرنين 19 و20، والتي كان دافعها الأساسي-فضلا عن الهيمنة الاستراتيجية- البحث عن الأسواق والمواد الأولية، وكذلك نشر الثقافة الغربية والدين المسيحي في بعض الأحيان.</p> <p>يتحاور المعلم مع المتعلمين من أجل استخراج: نشأة الاستيطان ودوافعه</p> <p><b>السند 03:</b></p> <p>كانت الجزائر نموذجا فريدا من نوعه في المستعمرات الفرنسية التي جمعت فيها فرنسا بين الاستعمار العسكري والاستيطاني ، قامت السياسة الاستيطانية على أساس إحلال المستوطنين محل الجزائريين، بتشجيع الهجرة الأوروبية إلى الجزائر، فتحول كثير منهم إلى عمال خماسين أو عمال في مصانع المستوطنين يعملون على تنمية ثروات المعمرين .</p> <p>يتحاور المعلم مع المتعلمين من اجل استنتاج: مظاهر السياسة الاستيطانية في الجزائر .</p> <p><b>الأثر الكتابي:</b></p> <p>الاستعمار الاستيطاني: أن تقوم الدول المستعمرة بتشجيع رعاياها على الهجرة إلى الدولة المراد نهب خيراتها ومواردها، ونتج عنه عزل السكان الأصليين. واحتقارهم وشعورهم بالتفوق عليهم وتمديتهم بالقوة،</p> <p><b>النشاط الثالث:</b></p> <p>من خلال مكتسباتك السابقة أكتب فقرة تتحدث فيها عن انعكاسات ونتائج الاستيطان الفرنسي على الشعب الجزائري</p>
الكثير من المتعلمين لا يفرق بين أنواع الاستعمار كالحماية والاستيطان والانتداب	
تقويم تكويني	
تفويج التلاميذ	
تطبيق احدي	
استراتيجيات	
التعلم النشط	
يقراً ويدون	
الخلاصة على	
الكراس	
ينجز التميرين	
ويصحح جماعيا	

مخطط حصّة تعليمية للسنة الخامسة ابتدائي - التاريخ

المقطع الثاني: التاريخ العام الأسبوع: 12 الموضوع: مظاهر الاستعمار الأوربي: الحماية الحصّة: 04

الهدف التعليمي: يتعرف على مظاهر الاستعمار الأوربي: الحماية الوسائل التعليمية: صور/كتاب/سيورة/خرائط

توجهات	الممارسات التعليمية التعليمية
استرجاع مكتسبات سابقة وتسجيل التصورات يساعد المتعلم على بناء معارف جديدة .	<p><b>النشاط الأول:</b></p> <p>- تنوعت أساليب وأشكال الاستعمار في إفريقيا.</p> <p>- على الألواح اذكر بعض الأنواع التي تعرفها.</p> <p><b>النشاط الثاني:</b></p> <p><b>السند 1:</b></p> <p>الحماية: وهو فرض الدول الاستعمارية حمايتها على البلاد المستعمرة ، وبذلك تحتفظ الدول باستقلالها الداخلي ، والدول المستعمرة صاحبة الكلمة في الأمور الأمنية والخارجية والدفاع مثل الحماية الفرنسية على تونس .</p> <p>يطلب المعلم قراءة السند و يتحاور مع المتعلمين من أجل استنتاج تعريف الحماية</p> <p><b>السند 02:</b> الخريطة في الملحق</p> <p>اعتبر المغرب مجالا للتنافس الاستعماري بين <b>فرنسا</b>، <b>إسبانيا</b> لتوفير سوق لمنتجاتها والسيطرة على ثرواته، ومبررين ذلك بعجزه عن تسديد الديون ولمساعدته لإنجاز الإصلاحات، وانتهى هذا التنافس بتقسيمه الى:</p> <p>1- المنطقة الشمالية ومنطقة الطرفاية في الجنوب تحت الحماية الإسبانية</p> <p>2 - المنطقة الوسطى تحت الحماية الفرنسية</p> <p>ملاحظة الخريطة من طرف المتعلمين ويتحاور معهم من اجل استنتاج أسباب الحماية في المغرب.</p> <p><b>الأثر الكتابي:</b></p> <p>الحماية: أسلوب استعماري تحتفظ فيه المستعمرة بنوع من الاستقلال في إدارة شؤونها الداخلية، وتدير الدولة الاستعمارية الشؤون الخارجية والمسائل الاقتصادية ومن بين الدول التي كانت تحت الحماية المغرب وتونس</p> <p><b>النشاط الثالث:</b></p> <p>اذكر بعض الدول التي تعرضت للحماية وبعض الدول التي تعرضت للاستيطان مع ذكر المستعمر.</p>
المشكل التعليمي: الكثير من المتعلمين يجد صعوبة في التفريق بين أنواع الاستعمار كالحماية	
تقويم تكويني تفويج التلاميذ تطبق احدي استراتيجيات التعلم النشط	
يقرأ ويدون الخلاصة على الكراس.	
ينجز التمرين ويصحح جماعيا.	



مخطط حصّة تعليمية للسنة الخامسة ابتدائي - التاريخ

المقطع الثاني : التاريخ العام : الاسبوع : 13 الموضوع : الانعكاسات السلبية للاستعمار الحديث : الحصّة : 05

الهدف التعليمي : يتعرف على الانعكاسات السلبية للاستعمار الحديث

الوسائل التعليمية : صور / كتاب / سبورة / خرائط

توجيهات

الممارسات التعليمية التعليمية

استرجاع المكتسبات السابقة وتسجيل التصورات يساعد المتعلم على بناء معارف جديدة .

**النشاط الأول:**

أثناء تواجد المستعمر الأوروبي في الدول الإفريقية أدى الى نتائج وخيمة على شعوبها - على الألواح اذكر بعض هذه النتائج التي تعرفها.

**النشاط الثاني:**

**السند 1 :**

- من أهداف الاستعمار الحديث في دول المغرب العربي وشمال إفريقيا :
  - نهب الثروات والخيرات.
  - العمل على طمس الثقافات والتقاليد والعادات واللغة.
  - جلب الثقافات الأخرى والعادات التي لا تتناسب مع هذه الدول .
  - التخلف عن مسيرة الركب التطوري والرقى الحضاري.

**المشكل التعليمي:**

الكثير من المتعلمين لا يعرفون سلبيات الاستعمار على الدول في جميع الميادين.

تقويم تكويني

تفويج التلاميذ

تطبيق احدي

استراتيجيات

التعلم النشط

يقرا ويدون

الخلاصة على

الكراس.

ينجز التمرين

ويصحح جماعيا.

يتحاور المعلم مع المتعلمين من أجل استنتاج الآثار السلبية للاستعمار.

**السند 2:**



يطلب المعلم من المتعلمين ملاحظة الصور ويتحاور معهم من اجل استنتاج الانعكاسات السلبية للاستعمار الفرنسي على الجزائر.

**الأثر الكتابي:**

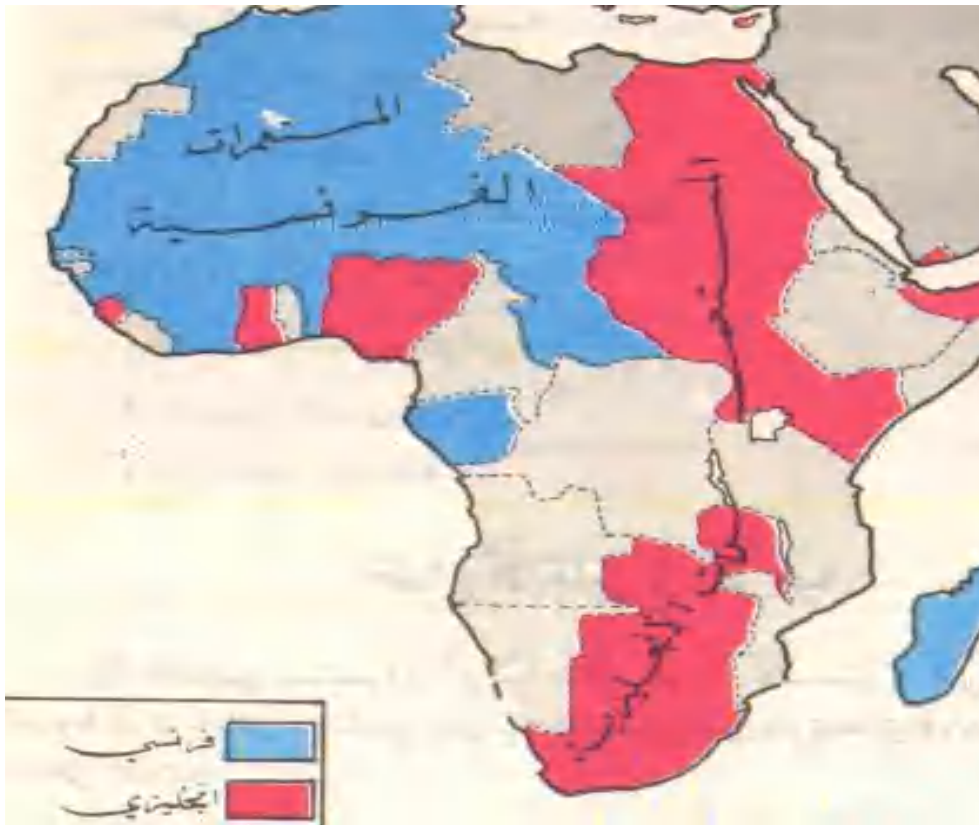
- تتمثل الانعكاسات السلبية للاستعمار الحديث في :
  - نهب خيرات البلاد ، سياسة التجويع والفقر والجهل ، مشكلة الحدود بين الدول المجاورة ، التخلف الاقتصادي وغيرها من المجالات .
  - من الانعكاسات السلبية للاستعمار الفرنسي في الجزائر : سياسة الارض المحروقة ، الفقر والجوع ، مصادرة الأراضي ، انتشار الجهل والامية .

**النشاط الثالث:**

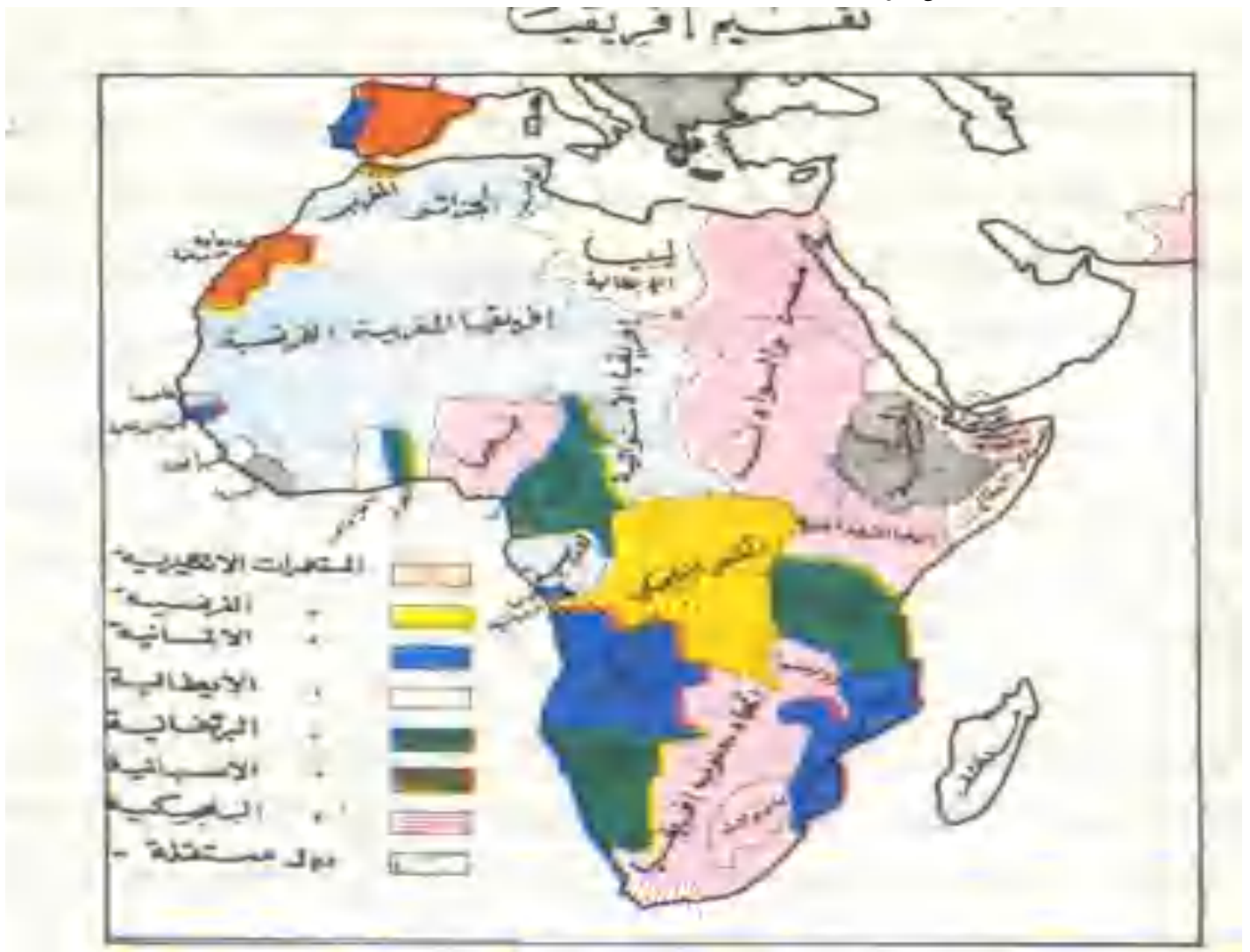
من خلال مظاهر الاستعمار الأوربي الحماية والاستيطان . أكتب فقرة تبرز فيها الاستعمار الذي كانت نتائجه وخيمة على الدول المستعمرة .

مخطط حصّة تعليمية للسنة الخامسة ابتدائي - التاريخ

المقطع الثاني : التاريخ العام		الاسبوع : 14	الموضوع : نماذج عن الاستعمار الحديث	الحصّة : 06
الهدف التعليمي : يتعرف على الدول المستعمرة ومناطق نفوذها في قارة إفريقيا		الوسائل التعليمية : صور / كتاب / سبورة / خرائط		
توجهات	الممارسات التعليمية التعليمية			
استرجاع المكتسبات السابقة وتسجيل التصورات يساعد المتعلم على بناء معارف جديدة .	<p><b>النشاط الأول:</b></p> <p>- من خلال ملاحظتك للخريطة الشكل 01 في الملحق على الألواح اعط عنوانا مناسباً للخريطة</p> <p><b>النشاط الثاني :</b></p> <p><b>السند 1 :</b></p> <p>بدأ التنافس الاستعماري يشتد على قارة إفريقيا منذ القرن 19 وتعارضت أطماع الدول الاستعمارية فيها حتى أصبح الأمر يهدد بنشوب حرب بينها ، فاتفقت على عقد مؤتمر برلين الذي قسمت فيه القارة إلى مناطق نفوذ فيما بينها ، وكان لفرنسا النصيب الأكبر في القارة .</p>			
المشكل التعليمي : الكثير من المتعلمين لا يعرف الدول التي كانت مستعمرة في إفريقيا وسبب تقسيمها الى مستعمرات	<p>يتحاور المعلم مع المتعلمين من أجل استنتاج: سبب التنافس الأوربي على القارة الإفريقية وما نتج بعد لقاء مؤتمر برلين</p> <p><b>السند 2:</b> لاحظ خريطة توزيع مناطق النفوذ في إفريقيا، الشكل 2 في الملحق ملاحظة الشكل 2 من المتعلمين ومحاورتهم من أجل استنتاج مناطق النفوذ للدول المستعمرة في إفريقيا.</p> <p><b>الأثر الكتابي :</b></p> <p>بدأ التنافس الاستعماري يشتد على قارة إفريقيا منذ القرن 19 وتم توزيع مناطق النفوذ في إفريقيا</p> <p>1- منطقة النفوذ الفرنسي: بلدان شمال إفريقيا ، وإفريقيا الوسطى الاستوائية وإفريقيا الغربية</p> <p>2- منطقة النفوذ الإنجليزي: غامبيا، ساحل الذهب، ونيجيريا وجنوب إفريقيا</p> <p>3- منطقة النفوذ البلجيكي: حوض الكونغو</p> <p>4- منطقة النفوذ الألماني: الطوغو والكاميرون وروندا وبورندي.</p>			
تفويض التلاميذ تطبيق احدي استراتيجيات التعلم النشط يقرأ ويدون الخلاصة على الكراس.	<p><b>النشاط الثالث:</b></p> <p>من خلال الخريطة الشكل 2 صنف في جدول الدول العربية التي كانت تحت الاستعمار الاوربي مع ذكر البلد المستعمر</p>			
ينجز التمرين ويصحح جماعيا .				



الشكل 01



الشكل 02



## مخطط حصّة تعليمية للسنة الخامسة ابتدائي - التاريخ

الحصّة: 7

الموضوع: نشاط ادماج

الاسبوع: 15

المقطع الثاني: التاريخ العام

الوسائل التعليمية: صور / كتاب / سبورة / خرائط

الهدف التعليمي: يدمج مكتسباته ومعارفه السابقة

توجهات

الممارسات التعليمية التعليمية

**النشاط الاول:**

- استرجاع  
المكتسبات السابقة  
وتسجيل  
التصورات يساعد  
المتعلم على بناء  
معارف جديدة .
- ضع (ص) او (خ) أمام كل عبارة:.....  
✓ من آثار الاستعمار القضاء على الأمية والجهل.....  
✓ من مظاهر الاستعمار الحماية والاستيطان .....  
✓ الاستعمار هو نهب لمعظم ثروات البلاد المستعمرة.....  
✓ أحد أهم أسباب الاستعمار هو ظهور الثورة الصناعية.....

**النشاط الثاني:**

- عرف :  
➤ الاستعمار الحديث :.....  
➤ الحماية : .....  
➤ الاستيطان : .....  
➤ الموقع الاستراتيجي.....

**المشكل التعليمي**

يتعرف على حل  
وضعيات مختلفة  
انطلاقا من  
مكتسباته ومعارفه  
السابقة

**النشاط الثالث:** املأ الجدول بذكر بعض المستعمرات لكل دولة أوروبية.

تفويج التلاميذ  
تطبق احدي  
استراتيجيات  
التعلم النشط  
ينجز الوضعيات  
تصحيح جماعي ثم  
فردى

بلجيكا	المانيا	انجلترا	فرنسا	

المقطع	الميدان	الحجم الساعي التقديري للميدان
الثالث	التاريخ الوطني	07.30 ساعات

الكفاءة الختامية	مركبات الكفاءة	المحتويات المعرفية	الاهداف التعليمية
ينطلق ممّا سجّلته الثورة التحريرية الكبرى من مآثر وبطولات وانتصارات، للتعبير عن اعتزازه بانتماؤه الوطني.	- مجالات الثورات الشعبية وأبطالها البارزين. - خريطة أماكن اندلاع الثورة التحريرية الكبرى. - دراسة بعض الشخصيات التاريخية	الغزو الفرنسي 1830	يتعرف على أسباب الغزو الفرنسي للجزائر.
		مقاومة الأمير عبد القادر	يتعرف على خصائص مقاومة الأمير عبد القادر ضد الغزو الفرنسي.
		مقاومة أحمد باي	يتعرف على خصائص مقاومة أحمد باي ضد الغزو الفرنسي.
		مقاومة المقراني	يتعرف على خصائص مقاومة المقراني ضد الغزو الفرنسي.
		النضال السياسي	يتعرف على مظاهر النضال السياسي وأهم الشخصيات السياسية.
		الأحزاب السياسية	يتعرف على أشهر الزعماء السياسيين الجزائريين و اتجاهاتهم السياسية.
		الثورة التحريرية 1	يتعرف على أسباب قيام الثورة التحريرية المسلحة .
		الثورة التحريرية ب	يتعرف على المرحلة الأولى من ثورة التحرير (1954 . 1956)
		الثورة التحريرية ج	يتعرف على المرحلة الثانية من ثورة التحرير (1956 . 1958)
		الثورة التحريرية 4	يتعرف على المرحلة الثالثة من ثورة التحرير (1958 . 1960)
الثورة التحريرية 5	يتعرف على المرحلة الرابعة من ثورة التحرير (1960 . 1962)		
الاستقلال	يتعرف على كيفية استرجاع السيادة الوطنية والوضع السائدة .		

المدة : 10 دقائق

عرض الوضعية المشكّلة الانطلاقية الأم

التوجهات	الممارسات التعليمية التعليمية
<p>- يذكر بعض أسباب الغزو الفرنسي انطلاقا من المكتسبات السابقة</p> <p>- يذكر بعض المقاومات الشعبية</p> <p>- يذكر تاريخ بداية الثورة والاستقلال</p> <p>- يذكر بعض الشخصيات السياسية</p>	<p>❖ الوضعية المشكّلة الانطلاقية الأم</p> <p>➤ لم يتوان الشعب الجزائري منذ الوهلة الأولى التي حطت فيها أقدام الجيوش الفرنسية الغازية يوم 14 جوان 1830 على أرضه في الدفاع عن حرمة وسيادته بشق السبل والامكانات المتاحة لديه بغية إنهاء الاحتلال ، وتوجت بإعلان استقلال الجزائر يوم 5 جويلية 1962 بعد أن استشهد فيها أكثر من مليون ونصف مليون جزائري</p> <p>➤ المهمات</p> <ul style="list-style-type: none"> <li>▪ يتعرف على أسباب الغزو الفرنسي للجزائر.</li> <li>▪ يذكر بعض المقاومات الشعبية التي يعرفها.</li> <li>▪ يذكر بعض الشخصيات الوطنية في النضال السياسي .</li> <li>▪ قيام الثورة الجزائرية .</li> </ul>

مخطط حصّة تعليمية للسنة الخامسة ابتدائي - التاريخ

المقطع الثالث: التاريخ الوطني		الاسبوع: 16	الموضوع: الغزو الفرنسي	1830 الحصّة: 01
الهدف التعليمي: يتعرف على أسباب الغزو الفرنسي للجزائر		الوسائل التعليمية: صور / كتاب / سبورة		
توجيهات	الممارسات التعليمية التعليمية			
استرجاع المكتسبات السابقة وتسجيل التصورات يساعد المتعلم على بناء معارف جديدة .	<p><b>النشاط الاول:</b></p> <p>للجزائر ثروات متنوعة ما جعلها محل أطماع قوى استعمارية على مر العصور .</p> <p>على الألواح اذكر بعض هذه الثروات.</p> <p><b>النشاط الثاني:</b> كتاب التلميذ ص19</p> <p><b>السند:</b> في 30 جانفي 1830 قرر مجلس الوزراء الفرنسي برئاسة الملك العاشر القيام بحملة لاحتلال الجزائر</p>			
المشكل التعليمي:	 <p>الاسطول الجزائري تحطم في معركة نافارين سنة 1827 مما سهل عملية الغزو</p> <p>عالي شارل10 من مشاكل داخلية</p> <p>رغبة فرنسا في نشر المسيحية</p> <p>تعد الجزائر بوابة أفريقيا</p> <p>للجزائر خيرات متعددة سطحية وباطنية</p>			
يتعرف على اهم الاسباب والدوافع التي كانت سببا في احتلال فرنسا للجزائر	<p>يقراً المعلم السند المكتوب على السبورة ويطلب المتعلمين ملاحظة الصور و يتحاور معهم لاستنتاج أسباب الغزو الفرنسي للجزائر.</p> <p><b>الأثر الكتابي:</b></p> <p>هناك عدة أسباب أغرت الفرنسيين لاحتلال الجزائر وهي:</p> <ul style="list-style-type: none"> <li>➤ خيرات البلاد الكثيرة والمتنوعة،</li> <li>➤ موقعها الجغرافي الهام.</li> <li>➤ الروح الصليبية.</li> <li>➤ رغبة حكومة شارل العاشر في التخلص من مشاكلها الداخلية وقد أتاح تحطم الأسطول الجزائري الفرصة للفرنسيين لتحقيق أهدافهم.</li> </ul>			
تقويم تكويني	<p><b>النشاط الثالث:</b></p> <p>وضعية إدماجية :</p> <p>لقد أتاح تحطم الأسطول الجزائري الفرصة للفرنسيين لتحقيق أهدافهم</p> <p>حرر فقرة لا تتعدى أربعة أسطر تبين فيها كيف تم ذلك مبرزا الدور الذي لعبه الأسطول الجزائري قبل الاحتلال.</p>			
تفويج التلاميذ				
تطبيق احدي				
استراتيجيات التعلم النشط				
يقرا ويدون الخلاصة على الكراس				
ينجز التمرين ويصحح جماعيا				

مخطط حصّة تعليمية للسنة الخامسة ابتدائي - التاريخ

المقطع الثالث: التاريخ الوطني **الاسبوع: 17** **الموضوع: مقاومة الامير عبد القادر** **الحصّة: 02**

**الهدف التعليمي:** يتعرف على خصائص مقاومة الأمير عبد القادر ضد الغزو الفرنسي **الوسائل التعليمية:** صور / كتاب / سبورة / خرائط

توجهات

الممارسات التعليمية التعليمية

استرجاع المكتسبات السابقة وتسجيل التصورات يساعد المتعلم على بناء معارف جديدة .

**النشاط الأول:**

- شهدت الجزائر عدة مقاومات شعبية قادها زعماء ضد الاحتلال الفرنسي على الالواح أذكر بعض زعماء المقاومة التي تعرفها مع ذكر المكان إن أمكن

**النشاط الثاني:** كتاب التاريخ ص36

**السند 1 :**

**المشكل التعليمي:**

يجهل المتعلمون أهم الأسباب والدوافع التي كانت سببا في قيام مقاومة الأمير عبد القادر.

1- بعد احتلال مدينة وهران سنة 1831 طلب السكان من محي الدين أحمد أحد أعيان المنطقة أن يقود المقاومة ، فاعتذر لكبر سنه و اقترح عليهم ابنه عبد القادر لما يتميز به من شجاعة ومقدرة على القيادة .فبايعوه أميراً يوم 12 نوفمبر 1832

يقرأ المعلم السند المكتوب على الكتاب ثم يتحاور مع المتعلمين ليستنتج سبب مبايعة الأمير عبد القادر لقيادة المقاومة

تقويم تكويني

2- حقق الأمير عبد القادر عدة انتصارات وألحق بالعدو عدة هزائم، مما أجبر بعض القادة الفرنسيين على عقد الصلح معه فكانت معاهدة دي ميشال 26 فيفري 1834 ومعاهدة تافنة 30 ماي 1837

تفويج التلاميذ

تطبق احدي استراتيجيات التعلم النشط

يتحاور المعلم مع المتعلمون لاستنتاج الانتصارات التي حققها الأمير عبد القادر

**السند 2:** ص37

يطالب المعلم المتعلمين ملاحظة الخريطة ثم يحاورهم حول مضمون السند من أجل استنتاج الهيكل التنظيمي لدولة الامير عبد القادر .

يقرأ ويدون

الخلاصة على الكراس

**الأثر الكتابي :**

خاض الأمير عبد القادر مقاومة مسلحة منظمة امتدت من سنة 1832 الى سنة 1847 حيث استمر جهاده سبع عشرة عاما .

ألحق بالعدو هزائم كبيرة وأجبره على طلب الصلح وعقد المعاهدات، مثل معاهدة ديميشال في 26 فيفري 1834 ومعاهدة تافنة في 30 ماي 1837 .

ينجز التمرين ويصحح

جماعيا

تمكن من إقامة دولة حديثة هيكلها التنظيمية وحدودها، ومصانعها الحربية وغيرها

**النشاط الثالث:**

من خلال ملاحظة مخطط السلم الزمني في ص 37 املأ الجدول التالي

المرحلة الاولى	المرحلة الثانية	المرحلة الثالثة	
			الفترة الزمنية
			مميزات كل فترة

مخطط حصّة تعليمية للسنة الخامسة ابتدائي - التاريخ

الحصّة: 03

الموضوع: مقاومة احمد باي

الاسبوع: 18

المقطع الثالث: التاريخ الوطني

الوسائل التعليمية: صور / كتاب / سبورة / خرائط

الهدف التعليمي: يتعرف على مقاومة أحمد باي ضد الغزو الفرنسي

توجهات

الممارسات التعليمية التعليمية

استرجاع المكتسبات السابقة وتسجيل التصورات يساعد المتعلم على بناء معارف جديدة .



**النشاط الاول:**

تمثل الصورة أحد زعماء الذي قاد المقاومة الشعبية في قسنطينة بالشرق الجزائري على الألواح اذكر اسم هذه الشخصية .

**النشاط الثاني:** كتاب التلميذ ص 38

**السند:**

لا يعرف

المتعلمون اهم

الاسباب والدوافع

التي كانت سبب في

قيام مقاومة احمد

باي.

تقويم تكويني

تفويج التلاميذ

تطبق احدى

استراتيجيات

التعلم النشط

يقرا ويدون

الخلاصة على

الكراس

- ❖ بعد سقوط الجزائر العاصمة في يد الاستعمار الفرنسي قاد أحمد باي المقاومة الشعبية في الشرق الجزائري بقسنطينة
- ❖ حاول الفرنسيون إغراءه فعرضوا عليه البقاء في منصبه بايا على إقليم قسنطينة مع المحافظة على حقوقه مقابل الاعتراف بالسيادة الفرنسية ، لكنه رفض وأصر على المقاومة .
- ❖ قرر الفرنسيون الاستيلاء على مدينة قسنطينة فجهزوا جيشا ضخما سنة 1836 م لكنه فشل أمام المقاومة. أعاد الفرنسيون الهجوم سنة 1837 م فتمكنوا من احتلالها.
- ❖ قاوم سكان قسنطينة بقيادة أحمد باي مقاومة شديدة رافضين الاستسلام وحين انهزموا التجأ أحمد باي إلى بسكرة ثم إلى الأوراس لمواصلة القتال واستسلم سنة 1848 م .

بعد قراءة السند يتحاور المعلم مع المتعلمين حول مضمونه لاستنتاج تسلسل مراحل مقاومة أحمد باي.

**الأثر الكتابي:**

قاوم أحمد باي القوات الاستعمارية عند نزولها بسيدي فرج، كما قاومها في إقليم قسنطينة و انتصر عليها في البداية لعدة عوامل منها:

.ثقة السكان به والتفافهم حوله واستعدادهم التام للجهاد والدفاع عن مدينتهم .

. معرفته التامة بالمنطقة.

. وجود أسوار وحصون تحيط بالمدينة.

الآن إصرار فرنسا على هزيمته وإعدادها لجيش قوي ومسلح بأحدث الأسلحة جعلته ينسحب من قسنطينة بعد

سقوطها سنة 1837 ، ويواصل القتال في مناطق أخرى إلى أن اضطر إلى الاستسلام سنة 1848 م

**النشاط الثالث:**

من خلال ملاحظة مخطط السلم الزمني في ص 39 املأ الجدول التالي

المرحلة الاولى	المرحلة الثانية	المرحلة الثالثة	الفترة الزمنية
			مميزات كل فترة

ينجز التمرين

ويصحح جماعيا

مخطط حصّة تعليمية للسنة الخامسة ابتدائي - التاريخ

الحصّة: 04

الموضوع: مقاومة المقراني

الأسبوع: 19

المقطع الثالث: التاريخ الوطني

الوسائل التعليمية صور / كتاب / سبورة / خرائط

الهدف التعليمي: يتعرف على ثورة المقراني ضد الغزو الفرنسي

توجيهات

الممارسات التعليمية التعليمية

استرجاع المكتسبات السابقة وتسجيل التصورات يساعد المتعلم على بناء معارف جديدة .



تعددت المقاومات الشعبية بدء بالأمير عبد القادر ثم أحمد باي. والصورة تشير الى أحد الزعماء.

على الألواح اذكر اسم هذه الشخصية.

**النشاط الثاني:**

السند :

بدأت ثورة المقراني في 16 مارس 1871 م حيث عمت أحداثها ما يقرب نصف مساحة الجزائر ردا على سياسات فرنسا الجائرة وفي مقدمتها: انتزاع الاراضي من الجزائريين ومحاولات طمس هويتهم الحضارية ، وشكلت تهديدا معتبرا لكنه قصير المدى للوجود الاستعماري ببلادنا وبعد قمعهم للثورة اتخذ الفرنسيون اجراءات غاية في الظلم والهمجية بحق شعبنا لإخضاعه واذلاله . واستشهد في 5 ماي 1871

**المشكل التعليمي:**

جل المتعلمين لا يعرفون أهم الأسباب والدوافع التي كانت وراء قيام ثورة المقراني

**الأثر كتابي:**

خاض المقراني مقاومة مسلحة امتدت من مارس 1871 م الى ماي 1871 م

. عمت ثورة المقراني نصف مساحة الجزائر من برج بوعريبيج وتوسعت فشملت نصف البلاد تقريبا من البحر شمالا الى اعماق الصحراء جنوبا

. جاءت ثورة المقراني ردا على سياسات فرنسا من انتزاع الاراضي وطمس الهوية الحضارية والظلم والهمجية التي عاشها الشعب الجزائري

**النشاط الثالث:**

من الكتاب ص 40 املا الجدول التالي :

الفترة الزمنية	ثورة الزعاطشة	ثورة المقراني والحداد	لاله فاطمة نسومر
أسباب الثورة			
قائد الثورة			
الحيز الجغرافي			

يقرأ ويدون الخلاصة على الكراس

ينجز التمرين ويصحح جماعيا

مخطط حصّة تعليمية للسنة الخامسة ابتدائي - التاريخ

المقطع الثالث : التاريخ الوطني		الأسبوع : 20	الموضوع: النضال السياسي	الحصّة : 05
الهدف التعليمي: يتعرف على مظاهر النضال السياسي وأهم الشخصيات السياسية		الوسائل التعليمية: صور / كتاب / سبورة / خرائط		
توجهات	الممارسات التعليمية التعليمية			
استرجاع المكتسبات	<p><b>النشاط الأول :</b></p> <p>- فشل الجزائريون خلال القرن 19 في تحرير البلاد بواسطة الثورات الشعبية فغيروا أسلوب المقاومة إلى النشاط السياسي .</p> <p>على الألواح اذكر بعض القادة الذين مارسوا العمل السياسي .</p> <p><b>النشاط الثاني :</b> كتاب التلميذ ص 40 و 41</p> <p><b>السند 1 :</b></p> <p>❖ من المظاهر التي اتخذها النشاط السياسي :</p> <p>1- تقديم العرائض لشرح أوضاع الجزائريين</p> <p>2- الاتصال بالشخصيات العالمية مثل اتصال الأمير خالد بالرئيس ولسن الأمريكي والرئيس الفرنسي هيريو</p> <p>❖ تم تأسيس عدة أحزاب سياسية مثل نجم شمال افريقيا سنة 1926 ، حزب الشعب الجزائري سنة 1937 ، جمعية العلماء المسلمين الجزائريين سنة 1931 وأصحاب البيان والحرية سنة 1944 وحركة الانتصار للحريات الديمقراطية سنة 1946</p> <p>3 - أصدر الجزائريون عدة صحف باللغة العربية والفرنسية للتعريف بقضيتهم والدفاع عنها مثل : الامة ، الجمهورية ، الشهاب ، الشعب</p>			
السابقة وتسجيل				
التصورات يساعد				
المتعلم على بناء				
معارف جديدة .				
<b>المشكل التعليمي:</b>	<p>الكثير من المتعلمين لا يعرفون شخصيات وأحزاب سياسية شاركت في النضال السياسي.</p>			
تقويم تكويني	<p>يتناول المعلم السند مع متعلميه بالشرح والتحليل لاستنتاج : مظاهر النضال - أهم الأحزاب السياسية - وأسماء الصحف وسبب اصدارها .</p> <p><b>السند 2 :</b> ملاحظة الصور ص 44</p>			
تفويج التلاميذ	<p>مطلبة المتعلمين ملاحظة الصور والتعبير عن مضمونها ثم قراءة السند ص 44: المشاركة في الانتخابات والمظاهرات</p>			
تطبيق احدي	<p><b>الأثر كتابي :</b></p> <ul style="list-style-type: none"> <li>تغير أسلوب المقاومة الجزائرية للاستعمار من الكفاح المسلح إلى الكفاح السياسي .</li> <li>اتخذت المقاومة السياسية عدّة وسائل وهي : تأسيس الأحزاب والجمعيات ، المظاهرات ، تقديم العرائض ، المشاركة في الانتخابات ، اصدار الصحف .</li> <li>كان هدف النشاط السياسي تمكين الجزائريين من الحصول على حقوقهم .</li> </ul>			
استراتيجيات	<p><b>النشاط الثالث :</b> املأ الفراغ:</p>			
التعلم النشط	<p>➤ تم تأسيس نجم شمال افريقيا سنة ..... ، ..... سنة 1937 ، جمعية العلماء المسلمين الجزائريين سنة ..... سنة 1944 وحركة الانتصار للحريات الديمقراطية سنة .....</p> <p>➤ أصدر الجزائريون عدة صحف مثل : ..... ، ..... ، ..... ، .....</p>			
يقرا ويدون				
الخلاصة على				
الكراس				
ينجز التمرين				
ويصحح جماعيا				

مخطط حصّة تعليمية للسنة الخامسة ابتدائي - التاريخ

المقطع الثالث: التاريخ الوطني الأسبوع: 21 الموضوع: الاحزاب السياسية الحصّة: 06

الهدف التعليمي: يتعرف على أشهر الزعماء السياسيين الجزائريين و اتجاهاتهم السياسية  
الوسائل التعليمية: صور / كتاب /سبورة /خرائط

توجهات

الممارسات التعليمية

استرجاع المكتسبات السابقة  
وتسجيل التصورات يساعد المتعلم  
على بناء معارف جديدة .

المشكل التعليمي

نقص معرفته للأحزاب السياسية  
وقادتها في النضال

تقويم تكويني

تفويج التلاميذ

تطبيق احدي استراتيجيات التعلم  
النشط

يقرا ويدون الخلاصة على الكراس

ينجز التمرين ويصحح جماعيا

**النشاط الاول:**

- عرفت مرحلة الكفاح السياسي عدة زعماء سياسيين .

- اذكر البعض من هؤلاء الزعماء

**النشاط الثاني:** كتاب التاريخ ص 45

**السند :**

❖ طالب الأمير خالد بالمساواة بين الجزائريين والفرنسيين و أنشأ لذلك حركة سياسية ما بين 1919 و 1921.

❖ مصالي الحاج طالب باستقلال الجزائر و انفصالها عن فرنسا أنشأ حزب نجم شمال إفريقيا الذي تحول إلى حزب الشعب الجزائري ثم إلى حركة الانتصار للحريات الديمقراطية.

❖ ابن جلول طالب بإدماج الجزائر بفرنسا حتى يتمكن الجزائريون من الحصول على جميع الحقوق التي يتمتع بها الفرنسيون .

❖ أسس عبدالحميد بن باديس مع نخبة من علماء الجزائر جمعية العلماء المسلمين الجزائريين .سنة 1931 للدفاع عن حقوق الجزائريين والمحافظة على مقومات شخصيتهم

يتحاور المعلم مع المتعلمين فقرة فقرة حول مضمونه من أجل استنتاج أهم الاحزاب السياسية وزعمائها وأهداف كل حزب .

**الأثر كتابي :**

❖ ظهرت بالجزائر عدّة شخصيات قامت بالنشاط السياسي

♦ بعضها طالب بالمساواة مثل الأمير خالد

♦ بعضها طالب بالإدماج ( أي الحاق الجزائريين بالفرنسيين واعتبارهم جزءا منهم لهم نفس

الحقوق وعلينهم نفس الواجبات ) مثل : ابن جلول وفرحات عباس

♦ بعضها طالب بالإصلاح مثل ابن باديس .

♦ بعضها طالب بالاستقلال مثل : مصالي الحاج

**النشاط الثالث:** على الكراس يكمل الجدول التالي:

بن جلول	عبد الحميد بن باديس	مصالي الحاج	الأمير خالد	
				اسم الحزب
				سنة التأسيس
				اهدافه

مخطط حصّة تعليمية للسنة الخامسة ابتدائي - التاريخ

المقطع الثالث : التاريخ الوطني		الأسبوع: 22 الموضوع: الثورة التحريرية المسلحة أ	الحصّة: 07
الهدف التعليمي: يتعرف على أسباب قيام الثورة التحريرية المسلحة .		الوسائل التعليمية: صور / كتاب /سبورة /خرائط	
توجهات	الممارسات التعليمية التعليمية		
استرجاع المكتسبات السابقة وتسجيل التصورات يساعد المتعلم على بناء معارف جديدة .	<p><b>النشاط الأول:</b></p> <p>بعد مقاومة شعبية ونضال سياسي طويل، لم يحقق الجزائريون أهدافهم في انتزاع الحرية والاستقلال على الألواح اذكر الطريق الذي سلكه الشعب الجزائري.</p> <p><b>النشاط الثاني:</b> كتاب التاريخ ص 52</p> <p><b>السند :</b></p> <ul style="list-style-type: none"> <li>❖ استولى الفرنسيون على خيرات البلاد وأصبح الجزائري يعاني الفقر والمرض ويعمل خماسا في ارضه التي انتزعت منه بالقوة كما حرم من ثقافته ولغته وهدمت مساجده .</li> <li>❖ رفضت الحكومات الفرنسية الاستجابة لمطالب الجزائريين وحقوقهم السياسية رغم مشاركتهم في الحرب العالمية الثانية .</li> <li>❖ أثبتت أحداث 8 ماي 1945 للشعب الجزائري أن الحرية لا تتحقق إلا باستعمال القوة</li> <li>❖ ظهرت عدة حركات مسلحة في كل من تونس والمغرب من أجل افتكك الحرية والاستقلال تأثرها الجزائريون .</li> </ul>		
المشكل التعليمي يجهل المتعلم أسباب اندلاع الثورة التحريرية تقويم تكويني	<p>يتحاور المعلم مع المتعلمين حول مضمون السند لاستنتاج أهم أسباب اندلاع الثورة التحريرية .</p> <p><b>الأثر كتابي:</b></p> <p>توجت المقاومة المسلحة والسياسية التي امتدت طوال القرن التاسع عشر والنصف الأول من القرن العشرين بثورة نوفمبر 1954 . تمثلت أسبابها في معاناة الجزائريين من :</p> <ul style="list-style-type: none"> <li>➤ حالة البؤس والحرمان .</li> <li>➤ الاضطهاد الفرنسي المتواصل .</li> <li>➤ عدم الاستجابة لمطالبهم السياسية .</li> </ul> <p>لأنّ الدافع الحقيقي هو رغبة الجزائريين في إعادة بعث الدولة الجزائرية التي سقطت يوم 05 جويلية 1830م .</p>		
تفويج التلاميذ تطبيق احدى التعلم النشط استراتيجيات	<p><b>النشاط الثالث:</b></p> <p>وضعية إدماجية:</p> <p>على كراس القسم تحدث في فقرة لا تتجاوز 6 اسطر عن الاضطهاد الفرنسي للجزائريين وحالة البؤس والحرمان التي كان يعيشها الشعب الجزائري</p>		
يقرا ويدون الخلاصة على الكراس			
ينجز التمرين ويصحح جماعيا			

مخطط حصّة تعليمية للسنة الخامسة ابتدائي - التاريخ

المقطع الثالث: التاريخ الوطني الأسبوع: 23 الموضوع: الثورة التحريرية المسلحة ب الحصّة: 08

الهدف التعليمي: معرفة المرحلة الأولى من ثورة التحرير (1954-1956).

الوسائل التعليمية: صور / كتاب / سبورة / خرائط

الممارسات التعليمية التعليمية

توجهات

استرجاع  
المكتسبات السابقة  
وتسجيل  
التصورات يساعد  
المتعلم على بناء  
معارف جديدة.



**النشاط الأول:**

دعوة المتعلمين لملاحظة الصورة .  
على الألواح يسمي أحد الشخصيات التي تعرف عليها.

**النشاط الثاني:** كتاب التاريخ ص 54.

**السند:**

**المشكل التعليمي**

لا يعرف المتعلم  
مسار الكفاح  
المسلح من 1954  
إلى 1956  
تقويم تكوييني

- ❖ بعد إعداد جيد قامت به مجموعة من المناضلين في سرية تامة انطلقت ثورة نوفمبر 1954
- ❖ رافق انطلاق الثورة نشر بيان أول نوفمبر 1954 الذي حدد أهداف الثورة ومسارها وشروط وقف القتال
- ❖ شن المجاهدون ليلة أول نوفمبر 1954 هجوما على مراكز العدو موزعة على مختلف مناطق الوطن .
- ❖ يوم 20 أوت 1955 قام المجاهدون بعدة هجمات بالشمال القسنطيني استمرت أسبوعا
- ❖ قصد تدويل القضية الجزائرية شارك وفد جبهة التحرير الوطني في مؤتمر باندونغ كما عرضت القضية الجزائرية على هيئة الأمم المتحدة .

تفويج التلاميذ  
تطبيق  
احدى  
استراتيجيات  
التعلم النشط

- يتحاور المعلم مع المتعلمين حول مضمون السند من أجل استنتاج
- أسماء أعضاء المجموعة التي قامت بتفجير الثورة التحريرية .
  - الغرض من نشر بيان أول نوفمبر .
  - أهم العمليات التي قام بها جيش التحرير ليلة أول نوفمبر 1954 .
  - أسباب قيام مجموعة من المجاهدين بهجوم 20 أوت 1955 .
  - مشاركة الجزائر في تدويل القضية الجزائرية .

**الأثر الكتابي :**

يقرأ و يدون  
الخلاصة على  
الكراس

- تميزت المرحلة الثانية من الثورة ( 1954 - 1956 ) بما يلي:
- الانطلاق عمليات عسكرية شاملة مسّت مختلف مناطق البلاد .
  - هجومات 20 أوت 1956 التي عزّزت الثورة داخليا وخارجيا .
  - تدويل القضية الجزائرية في منابر الدولية مثل مؤتمر باندونغ ، وهيئة الأمم المتحدة .

**النشاط الثالث:**

ينجز التمرين  
ويصحح جماعيا

من خلال قراءة بيان أول نوفمبر .  
اكتب فقرة حول ما فهمت من هذا البيان .

**مخطط حصّة تعليمية للسنة الخامسة ابتدائي - التاريخ**

<b>المقطع الثالث: التاريخ الوطني</b>	
<b>الاسبوع: 24 الموضوع: الثورة التحريرية المسلحة ج</b>	
<b>الهدف التعليمي: معرفة المرحلة الثانية من ثورة التحرير (1956-1958).</b>	
<b>الوسائل التعليمية: صور / كتاب / سبورة / خرائط</b>	
<b>توجيهات</b>	<b>الممارسات التعليمية</b>
<p>استرجاع المكتسبات السابقة وتسجيل التصورات يساعد المتعلم على بناء معارف جديدة .</p> <p><b>المشكل التعليمي:</b> يجد المتعلم صعوبة في تحديد مسار الكفاح المسلح من 1956 إلى 1958 .</p> <p>تقويم تكويني</p> <p>تفويج التلاميذ تطبيق احدي استراتيجيات التعلم النشط</p> <p>يقرا ويدون الخلاصة على الكراس</p> <p>ينجز التمرين ويصحح جماعيا</p>	<p style="text-align: right;"><b>النشاط الأول:</b></p> <p>تعد المرحلة الاولى 1956/1954 مرحلة انطلاق بالنسبة للثورة التحريرية بعد تدويل القضية الجزائرية . اذكر على الالواح أهم الأحداث المرحلة الأولى،</p> <p style="text-align: right;"><b>النشاط الثاني:</b> كتاب التاريخ ص 56 <b>السند 1:</b></p> <div style="border: 1px solid black; padding: 10px; margin: 10px 0;"> <p style="text-align: center;">❖ انعقد مؤتمر الصومام يوم 20 اوت 1956 ضم معظم قادة الثورة من أهم قراراته :</p> <p style="text-align: center;">- إقامة أجهزة سياسية وعسكرية للثورة – اتخاذ مبدأ القيادة الجماعية -.</p> <p style="text-align: center;">❖ ملاحظة الصورة ص 56 صحيفة المجاهد.</p> <p style="text-align: center;">- صدرت صحيفة المجاهد سنة 1957 كما بث صوت الجزائر لإسماع صوت الجزائر</p> </div> <p style="text-align: right;"><b>السند 2:</b></p> <div style="text-align: center; margin: 10px 0;">  </div> <p>يتحاور المعلم مع المتعلمين حول السند الأول من أجل استنتاج :</p> <ul style="list-style-type: none"> <li>➤ سنة انعقاد مؤتمر الصومام وأهم قراراته.</li> <li>➤ الصحف التي أصدرتها قيادة الثورة.</li> </ul> <p>ملاحظة المتعلمين السند 2 ومحاورتهم حول مضمونها.</p> <p style="text-align: right;"><b>الأثر الكتابي :</b></p> <p>تميزت المرحلة الثانية من الثورة (1956 . 1958) بأحداث هامة منها:</p> <ul style="list-style-type: none"> <li>- انعقاد مؤتمر الصومام الذي زوّد الثورة بمختلف الهياكل والتنظيمات.</li> <li>- قيام الثورة بنشاط إعلامي متنوع لإسماع صوتها داخليا وخارجيا.</li> <li>- إضراب الطلبة عن الدراسة وانضمامهم إلى الثورة وتأسيس عدّة اتحادات وطنية.</li> <li>- اندماج معظم الأحزاب في جبهة التحرير الوطني . تدويل القضية الجزائرية بدخولها المحافل العالمية.</li> </ul> <p style="text-align: right;"><b>النشاط الثالث:</b></p> <p>تابع السلم الزمني و تعرف على التسلسل التاريخي للأحداث ص 57 ودونها بالترتيب على الدفتر.</p>

مخطط حصّة تعليمية للسنة الخامسة ابتدائي - التاريخ

المقطع الثالث: التاريخ الوطني الاسبوع: 25 الموضوع: الثورة التحريرية المسلحة د الحصّة: 10

الهدف التعليمي: معرفة المرحلة الثالثة من ثورة التحرير (1958-1960) الوسائل التعليمية: صور / كتاب /سبورة /خرائط

توجهات	الممارسات التعليمية التعليمية
استرجاع مكتسبات سابقة تساعد المتعلم على بناء معارف جديدة وتسجيل تصوراتهم	<p><b>النشاط الأول</b></p> <p>عرفت الثورة التحريرية المرحلة الأولى بمرحلة الانطلاق والثانية عرفت بمرحلة التنظيم والشمول على الألواح اذكر أهم أحداث المرحلة الثانية .</p> <p><b>النشاط الثاني</b>: كتاب التاريخ ص 58</p> <p><b>السند</b> :</p> <div style="border: 1px solid black; padding: 10px;"> <ul style="list-style-type: none"> <li>❖ أصبرالفرنسيون على القضاء على الثورة لذلك جاؤوا بالجنرال ديغول للقضاء على الثورة وتصفيتها وقام ب: زاد عدد الجنود والضباط وحاول إغراء السكان يمنحهم أراض ومساكن إلا أن كل ذلك فشل أمام أصرار الشعب الجزائري على افتكالك النصر..</li> <li>❖ حيث عززت جبهة التحرير مكانتها في الداخل والخارج فأستست الحكومة المؤقتة 19 سبتمبر 1958</li> <li>❖ شن المجاهدون ليلة أول نوفمبر 1954 هجوما على مراكز العدو موزعة على مختلف مناطق الوطن .</li> <li>❖ خرج الشعب الجزائري في مظاهرات عارمة يوم 11 ديسمبر 1960 مطالباً بالاستقلال.</li> </ul> </div> <p>يتحاور المعلم مع المتعلمين حول مضمون السند مع ملاحظة الصور من أجل استنتاج:</p> <ul style="list-style-type: none"> <li>-سبب استدعاء فرنسا للجنرال ديغول .</li> <li>-سياسة الجنرال ديغول للقضاء على الثورة.</li> <li>-رد فعل الجزائر لتعزير مكانتها الداخلية والخارجية.</li> <li>-سبب خرج الشعب الجزائري في مظاهرات 11 ديسمبر 1960.</li> </ul> <p><b>الأثر الكتابي :</b></p> <p>تميزت المرحلة الرابعة من الثورة ( 1958 . 1960) بما يلي ب:</p> <ul style="list-style-type: none"> <li>- عزم الفرنسيين على قمع الثورة بالقوة لهذا جاؤوا ب " الجنرال ديغول " في ماي 1958 ليحكم اعتقاداً منهم أنه الرجل القوي القادر على إخماد الثورة.</li> <li>-استخدام ديغول أقصى وسائل الفتك والدمار إلى جانب الإغراء المادي .</li> <li>-ردّت جبهة التحرير بإنشاء الحكومة المؤقتة يوم 19/09/1958 وزيادة تجنيد الشعب فكانت مظاهرات 11 ديسمبر 1960.</li> </ul> <p><b>النشاط الرابع:</b></p> <p>على كراس القسم ارسم سلما زمنيا لبعض أحداث هذه المرحلة 1960/1958 .</p>
المشكل التعليمي	
يجد المتعلم صعوبة في تحديد مسار الكفاح المسلح من 1958 سنة إلى سنة 1960.	
تقويم تكويني	
تفويج التلاميذ	
تطبيق	
احدى	
استراتيجيات	
التعلم النشط	
يقرأ ويدون	
الخلاصة على	
الكراس	
ينجز التمرين	
ويصحح جماعيا	

مخطط حصّة تعليمية للسنة الخامسة ابتدائي - التاريخ

الحصّة: 11

الموضوع: الثورة التحريرية المسلحة هـ

الاسبوع: 26

المقطع الثالث: التاريخ الوطني

الوسائل التعليمية: صور / كتاب / سبورة / خرائط

الهدف التعليمي: معرفة المرحلة الرابعة من ثورة التحرير (1960 . 1962)

توجيهات

الممارسات التعليمية التعليمية

استرجاع

المكتسبات السابقة

وتسجيل

التصورات يساعد

المتعلم على بناء

معارف جديدة .

**المشكل التعليمي:**

يجد المتعلم

صعوبة في تحديد

مسار الكفاح

المسلح من 1960

الى 1962

تفويج

التلاميذ

تطبق

احدى

استراتيجيات

التعلم النشط

يقراً

ويدون الخلاصة

على الكراس

ينجز التمرين

ويصحح جماعيا

**النشاط الأول:**

عرفت الثورة التحريرية خلال الفترة الرابعة 1962/1960 حدثا هاما .

على الألواح سم هذا الحدث .

**النشاط الثاني:** كتاب التاريخ ص 60

**السند:**

- ❖ حين عجز قادة فرنسا على القضاء على الثورة بالقوة العسكرية دخلت في مفاوضات مع جبهة التحرير الوطني سنة 1960 عرفت هذه المفاوضات صعوبات منها : رغبة فرنسا بالاحتفاظ بالصحراء ، الاحتفاظ بقواعد عسكرية بعد خروجها ، مصير المستوطنين ، كيفية إجراء استفتاء تقرير المصير
- ❖ وأمام اصرار الجزائريين على وحدة التراب تم إبرام اتفاقية إيفيان تنص على وقف القتال 19 مارس 1962 وإجراء استفتاء حول تقرير المصير 1 جويلية 1962
- ❖ وأعلن عن الاستقلال يوم 5 جويلية 1962

يتحاور المعلم مع المتعلمين حول مضمون السند مع ملاحظة الصور من اجل استنتاج:

➤ سبب المفاوضات

➤ أهم الصعوبات التي عرفتها المفاوضات الجزائرية الفرنسية

➤ سبب وقف إطلاق النار وتاريخ إعلان الاستقلال

**الأثر الكتابي:**

تميزت المرحلة من الثورة ( 1960 - 1962 ) بما يلي ب :

دخول الطرفين الجزائري والفرنسي في مفاوضات طويلة وصعبة بسبب الشروط الفرنسية منها :

✓ الاحتفاظ بالصحراء .

✓ الاحتفاظ بقواعد عسكرية بالجزائر .

✓ مصير المستوطنين .

✓ كيفية إجراء الاستفتاء والإشراف عليه .

✓ تم وقف القتال يوم 19 مارس 1962 ، وأُعلن الاستقلال يوم 05 جويلية 1962 .

**النشاط الثالث:** ص 60

ضع أمام كل حدث تاريخ وقوعه.

**مخطط حصّة تعليمية للسنة الخامسة ابتدائي - التاريخ**

الحصّة : 12

الاسبوع : 27 الموضوع : نشاط ادماج

المقطع الثالث : التاريخ الوطني

الهدف التعليمي : يدمج مكتسباته ومعارفه السابقة

الوسائل التعليمية: صور / كتاب / سيورة / خرائط

توجيهات

الممارسات التعليمية التعليمية

**النشاط الأول :**

رتب الأحداث التاريخية التالية زمنيا

مقاومة المقراني - تأسيس جمعية العلماء المسلمين الجزائريين - مقاومة الأمير عبد القادر - مقاومة أحمد باي -

انطلاق ثورة نوفمبر - أحداث 8 ماي 1945

**النشاط الثاني :**

أربط بين كل حدث وتاريخه.

**التاريخ**

**الحدث**

1851 إلى 1857 -

- معاهدة تافنة

27 نوفمبر 1932 -

- معاهدة دي ميشال

20 أوت 1955 -

- سقوط مدينة قسنطينة

1 نوفمبر 1954 -

- مؤتمر الصومام

- سنة 1957

- أحداث 20 أوت

1 جوان 1837 -

- مبايعة الأمير عبد القادر

26 مارس 1834 -

- مقاومة لالة فاطمة نسومر

20 أوت 1956 -

- انطلاق ثورة أول نوفمبر

**النشاط 3 :**

اكمل مايلي

في سنة.....احتلت الجزائر، سنة.....بويح الأمير عبد القادر فقاد المقاومة في.....الجزائري وقاد المقاومة في

.....أحمد باي ، بعد انتهاء هذه المقاومة . ظهرت مقاومة أخرى قادها أبطال منهم.....و.....و.....و.....حين

توقفت المقاومة المسلحة بدأت المقاومة السياسية التي اتخذت عدة اتجاهات .وهي دعاة

.....ودعاة.....ودعاة.....وقد توج كفاح الجزائريين باندلاع ثورة.....التي حققت النصر وحررت البلاد.

# قسم الجغرافيا



## الجغرافيا :

### ملح التّخرّج من مرحلة التّعليم الابتدائي :

في نهاية مرحلة التّعليم الابتدائي يكون المتعلم قادرا على المساهمة في اقتراح حلول لمشاكل السّكان والبيئة في محيطه القريب ، بمعرفة معطيات مجاله الجغرافي المحلي والوطني .

### ملح التّخرّج من الطّور الثاني :

في نهاية الطّور الثاني يكون المتعلم قادرا على التّموقع في المكان والزمان ، وتحديد الأبعاد .

### الكفاءة الشّاملة :

في نهاية السّنة الرابعة من التّعليم الابتدائي يكون المتعلم قادرا على استعمال خرائط ملائمة للكشف عن انتماءات الجزائر الإقليمية .

الكفاءة الشّاملة	في نهاية السّنة الثالثة من التّعليم الابتدائي يكون المتعلم قادرا على التصرف في مجاله الجغرافي القريب بشكل مناسب ، قصد التّموقع وفق معالم مكانية ، وربط العلاقة بين نشاط الانسان وبيئته
الميادين	الكفاءات الختامية
أدوات ومفاهيم المادة	يختار المسار المناسب للتوجه والتنقل بعد الكشف عن معالم مكانية في محيطه القريب .
السّكان والتنمية	يقدر العمل المنتج بعد أن يميز بين ما هو طبيعي وبشري في المشهد الريفي والحضري .
السّكان والبيئة	يقترح حلا لمشكل بيئي محلي على الخيار بعد الكشف عن العلاقة بين نشاط الانسان و محيطه القريب.

المقطع	الميدان	الحجم الساعي التقديري للميدان
الأول	أدوات ومفاهيم المادة	7.30 ساعات

الكفاءة الختامية	مركبات الكفاءة	المحتويات المعرفية	الأهداف التعليمية
ينطلق من الموقع الجغرافي والفلكي للجزائر لإبراز التنوع الإقليمي والمناخي واقتراح حلول لظاهرة الجفاف.	يكتشف المجال الجغرافي الوطني من خلال تحديد الموقع الجغرافي والفلكي ورسم خريطة الجزائر ( مظاهر السطح ، المناخ ) يوظف الخريطة والصور للكشف عن التنوع الإقليمي . يحلل ظاهرة الجفاف ويقترح حلولاً مناسبة لها	البلدية والولاية	يمكن من تحديد موقعه انطلاقاً من بلديته والولاية التي ينتمي إليها ويصنفها حسب موقعها الجغرافي
		الموقع الإقليمي	يتعرف على خطوط الطول والعرض ليحدد موقعه إقليمياً ( حوض البحر المتوسط ودول المغرب العربي)
		الموقع عالمياً	يحدد موقع الجزائر بالنسبة للوطن العربي وقارة إفريقيا وباقي دول العالم
		إدماج	يدمج معارفه ومكتسباته السابقة
		مظاهر السطح	يتعرف على أنواع التضاريس وطول وحدود الشريط الساحلي والخلجان والرؤوس الموجودة فيه
		أنواع التضاريس	يتعرف على مظاهر التضاريس الجزائر من جبال وسهول والصحراء
		أنواع المناخ	يتعرف على أنواع المناخ في الجزائر
		مميزات المناخ	يتعرف على مميزات المناخ في الجزائر
		'ماج جزئي	يدمج معارفه ومكتسباته السابقة
		التصحّر والجفاف	يتعرف أسباب التصحر والجفاف ويقترح حلولاً لهما
		إدماج جزئي	يدمج معارفه ومكتسباته السابقة

المدة : 10 دقائق

عرض الوضعية المشكّلة الانطلاقية الأم

التوجيهات	الممارسات التعليمية التعليمية
يعرف موقعه من البلدية أو الولاية	<p>❖ الوضعية المشكّلة الانطلاقية الأم</p> <p>➤ إذا كانت الجزائر أكبر دولة إقليمياً مساحة وذات حدود متنوعة ومتعددة ، فما هي الخصائص التي اكتسبتها من هذه المميزات ؟</p> <p>➤ المهمات</p> <ul style="list-style-type: none"> <li>▪ يعرف البلدية والولاية</li> <li>▪ يحدد موقعه الفلكي والجغرافي</li> <li>▪ يذكر أنواع التضاريس والمناخ</li> <li>▪ يحلل ظاهرة التصحر والجفاف ويقترح حلول</li> </ul>
يذكر أنواع ومظاهر التضاريس	
يذكر أنواع المناخ في الجزائر	
يقترح حلولاً حول التصحر والجفاف	

مخطط حصّة تعليمية للسنة الخامسة ابتدائي - الجغرافيا

المقطع : //// الأسبوع : 01 الموضوع : تقييم تشخيصي الحصّة : ////

الهدف التعليمي : يسترجع معارفه ومكتسباته السابقة من اجل استثمارها مجددا

توجيهات

الممارسات التعليمية التعليمية

النشاط الأول :



- ما اسم الولاية التي تقيم بها ؟
- ماهو رمزها ؟
- ماهي الولايات المجاورة لها ؟
- حدد جهة هذه الولايات بالنسبة لولايتك.

النشاط الثاني :

لجغرافية الجزائر الكثير من المميزات منها :

امتدادها الواسع على مساحة .....كلم مربع حيث أنها تحتل المرتبة 10 عالميا و .....إفريقيا وبالتالي  
فهي الأكبر مساحة مغاربا و .....و .....و .....لها حدود مع 7 دول افريقية هي  
:.....و .....و .....و .....بشريط حدودي يبلغ طوله .....

النشاط الثالث : أجب ب نعم أو لا

- تقع السهول الساحلية في الجنوب الجزائري .....
- يسود المناطق الداخلية من الجزائر مناخ البحر المتوسط.....
- تقع الهضاب العليا في المناطق الشمالية للجزائر .....
- المناخ هو حالة جوية سائدة في منطقة معينة لفترة زمنية طويلة .....
- تقع جبال التاسيلي في منطقة الهضاب العليا من الجزائر.....

النشاط الرابع :

اكمل الجدول

ثلاثة مظاهر التلوث في الريف	ثلاثة مظاهر التلوث في المدينة
الحلول	الحلول

- ✓ ماهي أنواع التلوث؟
- ✓ كيف يهدد التلوث حياة الانسان؟
- ✓ كيف يمكن مقاومة التلوث بأنواعه؟

**المشكل التعليمي :** يعاني الكثير من المتعلمين من صعوبة استرجاع المكتسبات السابقة واستثمارها مجددا في حل وضعيات مختلفة .

مخطط حصّة تعليمية للسنة الخامسة ابتدائي - الجغرافيا

المقطع الأول: أدوات ومفاهيم المادة الأسبوع: 02 الموضوع: موقع الجزائر: الموقع محليا (البلدية – الولاية) الحصّة: 01

الهدف التعليمي: يتمكن من تحديد موقعه انطلاقا من بلديته والولاية التي ينتمي إليها ويصنفها حسب موقعها الجغرافي

توجيهات

الممارسات التعليمية التعليمية

**النشاط الاول:**

تعرفت على شخص يسكن في ولاية ما وطلب منك مكان إقامتك لزيارتك. على الألواح اكتب له عنوانك حتى يتمكن من الوصول إليك .

**النشاط الثاني:**

**السند 1:** بالرغم من اختلاف المناطق وتشعب الشوارع والأحياء سواء داخل الوطن او خارجه فإنه يمكنك تحديد عنوان أي شخص ترغب في الوصول إليه كيف ؟

قراءة السند الشكل 1 ص14 وملاحظة الصورة ومحاورة المتعلمين لاستنتاج عنوان الشخص: ولايته وبلديته وبلده.



**السند 2:** دعوة المتعلمين لملاحظة الشكل 3 ومحاورتهم لتسميته ثم تحديد بلدية لخضر عيسى على الخريطة مع تحديد البلديات المجاورة.

**السند 3:** تفويج المتعلمين ومطالبة كل فوج بملاحظة الاشكال الثلاثة ص15 من خلال المناقشة الجماعية يستنتج إسم كل بلدية وتنوع مواقعها (حدودية- ساحلية – صحراوية).



**السند 4:** دعوة المتعلمين لملاحظة الشكل 1 ص 17 ومحاورتهم لتسمية البلديات المتواجدة في الخريطة و تعريف الولاية والفرق بينها وبين البلدية.

**الأثر الكتابي:**

- ❖ البلدية رقعة جغرافية صغيرة من الوطن.
- ❖ كل مواطن يعيش في إحدى البلديات الجزائرية.
- ❖ تختلف مساحة البلديات على حسب موقعها الجغرافي فمنها الساحلية مثال: المحمدية: والداخلية مثل: عين الكرمة والصحراوية اليزي والحدودية مثل: أم طبول.
- ❖ الولاية رقعة جغرافية وإدارية تختلف كل واحدة عن الأخرى من حيث المساحة والنشاط الاقتصادي وعدد السكان – لكل ولاية مقروحدود معينة مع ولايات اخرى.

**النشاط الثالث:**

ابحث و املأ الفراغات:

يحد ولاية الجزائر:

- من الشمال: .....
- من الجنوب: .....
- من الغرب: .....
- من الشرق: .....



مخطط حصّة تعليمية للسنة الخامسة ابتدائي - الجغرافيا

المقطع الأول: أدوات ومفاهيم المادة الأسبوع : 03 الموضوع: موقع الجزائر: التموقع اقليمي الحصّة : 02

الهدف التعليمي: يتعرف على خطوط الطول والعرض ليحدد موقعه اقليميا ( حوض البحر المتوسط و دول المغرب العربي)

الوسائل التعليمية: خرائط /مجسم الكرة الارضية /كتاب /سبورة

توجهات

الممارسات التعليمية التعليمية

يكمن استعمال  
سندات لإثارة  
الاهتمام

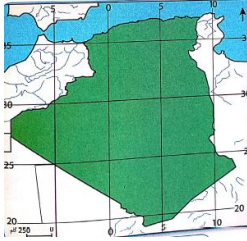
المشكل التعليمي

يعتبر تحديد  
المواقع أداة فاعلة  
لتحديد أبعاد كل  
دولة اقليميا  
فالكثير من  
المتعلمين يجدون  
صعوبة في تحديد  
هذه الابعاد

تسجيل تصورات  
المتعلمين والتي تتم  
عن طريقها عملية  
البناء.

الاستخدام الامثل  
اكتساب بعض  
المفاهيم الجغرافية  
الجديدة .

يقرأ  
ويدون الخلاصة  
على الكراس  
ينجز التمرين  
ويصحح جماعيا



**النشاط الاول :**

لاحظ الخريطة وسم الخطوط الافقية والعمودية.

**النشاط الثاني :**

**السند 1:** دعوة المتعلمين لملاحظة الشكل 1 و2 و3 ص 21 ومحاورتهم مع تسمية الشكل وتحديد خطوط الطول والعرض وأيضا تحديد دائرتي العرض التي تنحصر بينهما الجزائر.

**السند 2:** دعوة المتعلمين لملاحظة الشكل 1 (أ) و الشكل (ب) ومطالبتهم باستخراج جميع الدول المجاورة للجزائر

**السند 3:** الشكل 1 ص 25. دعوة المتعلمين لملاحظة أبعاد الجزائر ومحاورتهم لاستنتاج طول الساحل وأبعاد الجزائر

**الأثر الكتابي**

- ❖ تقع الجزائر بين خطي طول 12° شرقا و 9° وبين دائرتي عرض 19° و 37° شمالا .
- ❖ خط غرينتش ودرجته 0° يمر بالغرب الجزائري قرب مدينة مستغانم .
- ❖ مدار السرطان ودرجته 23° 27' شمالا ويمر إلى الشمال من مدينة تلمسان
- ❖ الجزائر إحدى بلدان المغرب العربي لها حدود مشتركة مع جميع دوله ، وهي أيضا إحدى بلدان حوض البحر الأبيض المتوسط
- ❖ تحتل الجزائر المرتبة الأولى من حيث المساحة بالنسبة لبلدان المغرب العربي وبلدان حوض البحر الأبيض المتوسط
- ❖ للجزائر امتداد كبير بين الشرق والغرب والشمال والجنوب .أبعاد الجزائر كالتالي :  
--من الشمال إلى الجنوب 1978 كيلومتر/ من تندوف الى أقصى الشمال الشرقي 1840 كيلومتر.  
-- من أقصى الشمال الغربي إلى الجنوب 1883 كيلومتر. /طول الساحل 1200 كيلومتر.

**النشاط الثالث**

أمامك خريطة الجزائر انقلها على كراستك بواسطة ورق الشفاف ثم قم بما يلي :

أ. اكتب عليها حدود الجزائر

ب. اكتب طول الساحل وطول الحدود مع كل دولة

ج. أرسم خط غرينتش

د- أرسم مدار السرطان



الوسائل التعليمية: خرائط/مجسم الكرة الأرضية /كتاب/سبورة

الهدف التعليمي: يحدد موقع الجزائر بالنسبة للوطن العربي وقارة افريقيا وباقي دول العالم

توجهات

الممارسات التعليمية التعليمية

المشكل التعليمي:

النشاط الأول:

يعتبر تحديد المواقع

من بين التظاهرات الرياضية التي تشارك فيها الجزائر. ضع علامة \* في الخانة المناسبة.

أداة فاعلة لتحديد

كأس العالم	كأس افريقيا	كأس أوروبا	ألعاب البحر المتوسط

أبعاد كل دولة قاريا

النشاط الأول :

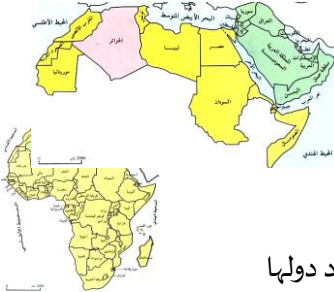
فالكثير من المتعلمين

السند1: دعوة المتعلمين لملاحظة الشكل 1 ص 30 ومحاورتهم ومطالبهم بتسمية

يعجزون على تحديد

هذه المجموعة من الدول، والقارة التي تنتمي إليها الدول ذات اللون الأصفر وموقع الجزائر من بين هذه الدول

هذه الأبعاد



السند2: دعوة المتعلمين لملاحظة الشكل 2 ص 30 ومحاورتهم: لتسمية هذه القارة ، عدد دولها

، تحديد موقع الجزائر ضمن هذه الدول ، مع ذكر الدول التي لها حدود مشتركة مع الجزائر وعددها .

تسجيل تصورات

المتعلمين والتي تتم

السند3: الشكل 1 ص 32 دعوة المتعلمين لملاحظة خريطة العالم ومطالبهم باستخراج عدد القارات في العالم

عن طريقها عملية

موقع الجزائر بالنسبة لإفريقيا ، ولأوروبا ، ثم موقع الجزائر بالنسبة لآسيا وأوقيانوسيا ثم موقع الجزائر بالنسبة لأمريكا ، وموقعها ضمن قارات العالم .

البناء

الأثر الكتابي

الاستخدام الأمثل

-الجزائر إحدى بلدان الوطن العربي ، وهي تقع في الجهة الغربية منه ، أي في الجزء الإفريقي .

-تقع الجزائر شمال إفريقيا ، لها حدود مشتركة مع عديد من دولها ،

لاكتساب بعض

-تتوسط الجزائر بلدان العالم تقريبا وبذلك فهي تحتل موقعا هاما .

المفاهيم الجغرافيا

النشاط 3: ضع صحيح (ص) أو خطأ (خ)

الجديدة

- تقع الجزائر جنوب إفريقيا.

يقرأ ويدون

- الجزائر إحدى دول المغرب العربي.

الخلاصة على

- تتوسط الجزائر القارات الخمس.

الكراس

- الجزائر لها حدود مع السعودية .

ينجز التمرين

ويصحح جماعيا

### النشاط الأول:

- إذا كانت الجزائر بحكم موقعها في قلب المغرب العربي فهي أيضا تحتل موقعا متميزا في القارة الإفريقية . وضح ذلك



المشكل

التعليمي

كيفية

توظيف

المكتسبات

والمعارف

السابقة في

الاجابة عن

بعض

التساؤلات

تنجز

الانشطة

وتصحح

جماعيا

دول من القارة الافريقية	دول من القارة الامريكية	دول من القارة الاسيوية	دول من القارة الاوربية	دول من قارة اوقيانوسيا

### النشاط الثاني : استعن بما تعلمته لإكمال التعابير التالية :

➤ طول الساحل الجزائري :.....

➤ طول الخط المستقيم الرابط بين تندوف وعنابة

➤ مساحة الجزائر :

➤ عدد ولايات الجزائر

➤ عدد بلديات الجزائر

➤ مساحة الوطن العربي :

➤ المسافة بين الجزائر والقاهرة:

➤ المسافة بين الجزائر وبغداد:

### النشاط الثالث : استعن بالخريطة صفحة 18 واملأ الفراغات التالية :

▪ قد تكون الولاية صحراوية وفي نفس الوقت حدودية مثل :

▪ قد تكون الولاية ساحلية وفي نفس الوقت حدودية مثل :

▪ قد تكون الولاية داخلية وفي نفس الوقت حدودية مثل :

### النشاط الرابع :

عقدت صداقة عبر الانترنت مع أحد أطفال بلد اخر فسألك عن موقع وطنك الجزائر وأهمية هذا الموقع .

أجبه في بضعة أسطر.

## مخطط حصّة تعليمية للسنة الخامسة ابتدائي - الجغرافيا

المقطع الأول: أدوات ومفاهيم المادة الأسبوع: 06 الموضوع: مظاهر السطح في الجزائر الحصّة: 05

الهدف التعليمي: يتعرف على انواع التضاريس وطول وحدود الشريط الساحلي والخلجان والرؤوس الموجودة فيه الوسائل التعليمية: خرائط /مجسم الكرة الارضية /كتاب

توجهات	الممارسات التعليمية التعليمية														
استرجاع المكتسبات السابقة وتسجيل التصورات يساعد المتعلم على بناء معارف جديدة.	<p><b>النشاط الاول :</b></p> <p>تعتبر الجزائر أكبر الدول الإفريقية والعربية مساحة كما يحدها شمالا البحر الأبيض المتوسط لاحظ الخريطة واذكر أهم التضاريس الموجودة بها.</p> <p><b>النشاط الثاني :</b></p> <p><b>السند1:</b> دعوة المتعلمين لملاحظة خريطة الشكل 1 ص 42 ومحاورتهم للتوصل الى : أنواع التضاريس وأين تقع ويقارن بين شمال وجنوب البلاد ومميزات كل قسم منها</p> <p><b>السند2:</b> دعوة المتعلمين لملاحظة الصور وتسميتهم</p>  <p><b>السند3:</b> يطالب المعلم التلاميذ بملاحظة الخريطة في الشكل 2 ص 43 لتحديد بداية الشريط الساحلي ونهايته ووصفه ويذكر الرؤوس التي تتخلله والخلجان الموجودة فيه</p> <p><b>الأثر الكتابي :</b></p> <ul style="list-style-type: none"> <li>تتنوع تضاريس الجزائر من جبال وسهول وهضاب وصحراء</li> <li>تطل الجزائر على البحر الأبيض المتوسط بساحل متعرج يمتد من بلدية مرسى بن مهيدي (ولاية تلمسان) غربا الى بلدية القالة ( ولاية الطارف) شرقا بطول 1200 كلم</li> </ul> <p><b>النشاط الثالث :</b></p> <p>اعتمادا على الخريطة ضع علامة × في الخانة المناسبة</p> <table border="1"> <thead> <tr> <th>مظاهر السطح</th> <th>الولايات</th> </tr> </thead> <tbody> <tr> <td>الريوس والخلجان</td> <td>تلمسان</td> </tr> <tr> <td>الصحراء</td> <td>تيارت</td> </tr> <tr> <td>السهول</td> <td>اليزي</td> </tr> <tr> <td>الهضاب</td> <td>بليدة</td> </tr> <tr> <td>الجبال</td> <td>سطيف</td> </tr> <tr> <td></td> <td>تمنراست</td> </tr> </tbody> </table>	مظاهر السطح	الولايات	الريوس والخلجان	تلمسان	الصحراء	تيارت	السهول	اليزي	الهضاب	بليدة	الجبال	سطيف		تمنراست
مظاهر السطح	الولايات														
الريوس والخلجان	تلمسان														
الصحراء	تيارت														
السهول	اليزي														
الهضاب	بليدة														
الجبال	سطيف														
	تمنراست														
المشكل التعليمي															
تزخر الجزائر بتضاريس متنوعة يعرف المتعلمين البعض ويجهل الكثير منها تسجيل تصورات المتعلمين والتي تتم عن طريقها عملية البناء															
الاستخدام الأمثل لاكتساب بعض المفاهيم الجغرافية الجديدة															
يقرأ ويدون الخلاصة على الكراس استعمال التفويج أو إحدى استراتيجيات التعلم النشط															
ينجز التمرين ويصحح جماعيا															

المقطع الأول: ادوات ومفاهيم المادة الأسبوع: 07 الموضوع: مظاهر السطح: تضاريس الجزائر الحصّة: 06

الهدف التعليمي: يتعرف على مظاهر التضاريس الجزائر من جبال وسهول والصحراء  
الوسائل التعليمية: خرائط / مجسم الكرة الارضية  
/ كتاب / سبورة

توجهات	الممارسات التعليمية التعليمية
<p>استرجاع المكتسبات السابقة وتسجيل التصورات يساعد المتعلم على بناء معارف جديدة.</p> <p><b>المشكل التعليمي:</b></p> <p>تزخر الجزائر بتضاريس متنوعة يعرف بعض المتعلمين منها ويجهلها الكثير منهم.</p> <p>تسجيل تصورات المتعلمين والتي تتم عن طريقها عملية البناء الاستخدام الأمثل لاكتساب بعض المفاهيم الجغرافيا الجديدة استعمال التفويج أو إحدى استراتيجيات التعلم النشط يقرأ ويدون الخلاصة ينجز التمرين ويصحح جماعيا</p>	<p><b>النشاط الأول:</b></p>  <p>سبق وعرفت أن الجزائر ذات امتداد كبير بين الشمال والجنوب والشرق والغرب مما جعلها تزخر بتضاريس متنوعة . على الألواح أذكر بعض التضاريس التي تعرفها.</p> <p><b>النشاط الثاني :</b></p> <p><b>السند:</b> دعوة المتعلمين لملاحظة خريطة الشكل 1 ص 44 و45 و46 ومحاورتهم باستعمال التفويج لكل خريطة للتوصل الى:</p> <ul style="list-style-type: none"> <li>✓ <b>الفوج 1:</b> كم سلسلة جبلية في الجزائر وأين تقع مع تسميتها، مع ذكر أهم جبال كل سلسلة.</li> <li>✓ <b>الفوج 2:</b> قراءة أسماء السهول الساحلية والداخلية مع تحديد موقعها والمقارنة بينهما .</li> <li>✓ <b>الفوج 3:</b> تسمية هذا الإقليم، تسمية سطحه مع ذكر المظاهر الإقليمية له.</li> </ul> <p><b>الأثر الكتابي:</b></p> <ul style="list-style-type: none"> <li>❖ توجد بشمال الجزائر سلسلتان جبليتان هما : سلسلة الأطلس التلي وسلسلة الأطلس الصحراوي.</li> <li>❖ هناك نوعان من السهول في شمال إفريقيا : سهول ساحلية وسهول داخلية .</li> <li>❖ الصحراء إقليم واسع يبلغ مساحته حوالي 2 مليون كلم مربع يتميز سطحه بالرتابة والاستواء مع وجود العديد من المظاهر التضاريسية المتنوعة .</li> </ul> <p><b>النشاط الثالث :</b></p> <p>املاً الفراغات التالية بالكلمات المناسبة:</p> <p>تتنوع تضاريس الجزائر، فهناك السلسلة الجبلية التلية المكونة من جبال .....</p> <p>و..... و..... و..... و..... و..... وهناك السلسلة الجبلية الصحراوية المكونة من جبال .....</p> <p>و..... و..... مثل سهل متيجة والسهول .....</p> <p>مثل سهل سيدي بلعباس.</p> <p>أما الصحراء ففيها ثلاثة مظاهر تضاريسية وهي ..... و..... و.....</p>

مخطط حصّة تعليمية للسنة الخامسة ابتدائي - الجغرافيا

<p>المقطع الأول: أدوات ومفاهيم المادة <b>الأسبوع: 08</b></p> <p>الموضوع: المناخ <b>الحصّة: 07</b></p>	<p>الهدف التعليمي: يتعرف على أنواع المناخ في الجزائر</p> <p>الوسائل التعليمية: خرائط /مجسم الكرة الارضية /كتاب /سبورة</p>
<p>توجهات</p> <p>استرجاع المكتسبات السابقة وتسجيل التصورات يساعد المتعلم على بناء معارف جديدة.</p> <p><b>المشكل التعليمي</b></p> <p>بالرغم من الموقع الاستراتيجي للجزائر في البحر المتوسط وتنوع التضاريس إلا أن الكثير لا يعرف أنواع المناخ بالجزائر.</p> <p>تسجيل تصورات المتعلمين والتي تتم عن طريقها عملية البناء الاستخدام الأمثل اكتساب بعض المفاهيم الجغرافية الجديدة استعمال التفويج أو إحدى استراتيجيات التعلم النشط يقرأ ويدون الخلاصة ينجز التمرين ويصحح جماعيا</p>	<p><b>الممارسات التعليمية</b></p> <p><b>النشاط الأول :</b></p> <p>سبق وعرفت أن الجزائر تطل على البحر الأبيض المتوسط شمالا وتتوغل في الصحراء الكبرى جنوبا مما أدى إلى تنوع المناخ ،على الألواح اذكر أنواع المناخ في الجزائر .</p> <p><b>النشاط الثاني :</b></p> <p>لاحظ الوثيقة شكل 2 (أ-ب):</p> <div data-bbox="518 698 810 922"> <p>شكل (2-ب): الحرارة والتساقط</p> </div> <div data-bbox="901 698 1193 922"> <p>شكل (2-أ): الحرارة والتساقط</p> </div> <div data-bbox="1241 676 1497 945"> </div> <p><b>السند1:</b></p> <p>-دعوة المتعلمين لملاحظة خريطة الشكل 1 ص 51 التي تمثل درجات الحرارة في عدة مدن وقراءة مفتاح الخريطة ومحاورتهم من أجل تحديد درجة الحرارة صيفا وشتاء في مدينتي الجزائر وبسكرة .</p> <p>-دعوة المتعلمين لملاحظة خريطة الشكل (ب)ومحاورتهم من اجل تحديد تساقط كميات الأمطار في مدينتي الجزائر وبسكرة .</p> <p><b>السند2:</b></p> <div data-bbox="555 1272 842 1460"> <p>خريطة شكل (1): مناخ البحر الأبيض المتوسط</p> </div> <div data-bbox="874 1272 1161 1460"> <p>خريطة شكل (2): المناخ القاري</p> </div> <div data-bbox="1177 1272 1465 1460"> <p>خريطة شكل (3): المناخ الصحراوي</p> </div> <p>دعوة المتعلمين لملاحظة خريطة الشكل (ب)ومحاورتهم من أجل تحديد أنواع المناخ ومعرفة مناخ كل منطقة.</p> <p><b>الأثر الكتابي :</b></p> <ul style="list-style-type: none"> <li>❖ المناخ هو طابع الجو السائد والمعتاد في منطقة محددة من الأرض خلال فترة عام كامل</li> <li>❖ هناك ثلاث مناخات رئيسية في الجزائر هي :</li> </ul> <p>1- مناخ البحرأبيض المتوسط 2-المناخ القاري 3- المناخ الصحراوي</p> <p><b>النشاط الثالث :</b></p> <ul style="list-style-type: none"> <li>• طلب منك أحد أصدقائك ان تصف له مناخ الصحراء . صف له ذلك في بضعة أسطر.</li> <li>• إليك خريطة صماء للجزائر ص 61 حدد عليها أنواع المناخات حسب المفتاح.</li> </ul>

مخطط حصّة تعليمية للسنة الخامسة ابتدائي - الجغرافيا

المقطع الأول: أدوات ومفاهيم المادة		الأسبوع : 09	الموضوع: مميزات المناخ	الحصّة : 08		
الهدف التعليمي: يتعرف على مميزات المناخ في الجزائر		الوسائل التعليمية: خرائط /مجسم الكرة الأرضية /كتاب /سبورة				
توجهات	الممارسات التعليمية التعليمية					
<p>استرجاع المكتسبات السابقة وتسجيل التصورات يساعد المتعلم على بناء معارف جديدة.</p> <p><b>المشكل التعليمي:</b></p> <p>بالرغم من تنوع المناخ في الجزائر إلا أن الكثير لا يعرف مميزات تسجيل تصورات المتعلمين والتي تتم عن طريقها عملية البناء الاستخدام الأمثل لاكتساب بعض المفاهيم الجغرافية الجديدة استعمال التفويج أو إحدى استراتيجيات التعلم النشط يقرأ ويدون الخلاصة</p> <p>ينجز التمرين ويصحح جماعيا</p>	<p><b>النشاط الأول :</b></p> <p>- هناك ثلاث مناخات رئيسة في الجزائر.</p> <p>- على الألواح اذكر مميزات مناخ منطقتك .</p> <p><b>النشاط الثاني :</b></p> <p><b>السند1:</b> خريطة الشكل 1 /الشكل 2 (أ -- ب ) ص 54</p> <p>دعوة المتعلمين لملاحظة السند و محاورتهم من أجل تحديد مناطق يسودها مناخ البحر الأبيض، المدى الحراري وكمية تساقط الأمطار لبعض المدن، الأشجار التي تنمو في هذا المناخ .</p> <p><b>السند2:</b> خريطة الشكل 1 /الشكل 2 (أ -- ب ) ص 56 وشكل 4 ص 57</p> <p>دعوة المتعلمين لملاحظة السند و محاورتهم من أجل تحديد مناطق يسودها المناخ القاري، درجة الحرارة وكمية تساقط الأمطار، الأشجار التي تنمو في هذا المناخ .</p> <p><b>السند3:</b> الشكل 1،2،3،4 ص 58</p> <p>دعوة المتعلمين لملاحظة السند و محاورتهم من أجل تحديد مناطق يسودها المناخ الصحراوي، درجة الحرارة وكمية تساقط الأمطار، الأشجار التي تنمو في هذا المناخ.</p> <p><b>الأثر الكتابي :</b></p> <p>✚ يوجد مناخ البحر الأبيض المتوسط شمال الجزائر يتميز بوجود فصلين رئيسين من حيث الحرارة تنمو به أشجار الأرز والصنوبر والفلين وتعيش به عدة حيوانات منها الأغنام والأبقار والذئب.</p> <p>✚ يسود المناخ القاري في المناطق الداخلية يتميز بصيف حار وشتاء بارد وأمطار قليلة تزرع فيه القمح والشعير وتعيش به حيوانات منها الأبقار والماعز والخيول.</p> <p>✚ يحتل المناخ الصحراوي أكبر مساحة في الجزائر تقدر بـ 86 بالمئة من مميزاتة: شديد الحرارة صيفا وبارد شتاء به أشجار النخيل وتعيش فيه الجمال والغزلان والضباع.</p> <p>➤ <b>النشاط الثالث:</b> اربط بين الجدول أ بما يناسبها في الجدول ب</p> <table border="1" style="width: 100%;"> <tr> <td style="width: 50%; text-align: center;"> <p>أ- مناخ البحر الأبيض المتوسط</p> <p>ب- نباتات الصحراء</p> <p>ج- حالة الجو من حرارة وأمطار ورياح لفترة طويلة</p> <p>د- حالة الجو من حرارة وأمطار ورياح لفترة قصيرة</p> </td> <td style="width: 50%; text-align: center;"> <p>1. جذورها طويلة وأوراقها شوكية</p> <p>2. منعش صيفا وشتاء</p> <p>3. الطقس</p> <p>4. المناخ</p> </td> </tr> </table>				<p>أ- مناخ البحر الأبيض المتوسط</p> <p>ب- نباتات الصحراء</p> <p>ج- حالة الجو من حرارة وأمطار ورياح لفترة طويلة</p> <p>د- حالة الجو من حرارة وأمطار ورياح لفترة قصيرة</p>	<p>1. جذورها طويلة وأوراقها شوكية</p> <p>2. منعش صيفا وشتاء</p> <p>3. الطقس</p> <p>4. المناخ</p>
	<p>أ- مناخ البحر الأبيض المتوسط</p> <p>ب- نباتات الصحراء</p> <p>ج- حالة الجو من حرارة وأمطار ورياح لفترة طويلة</p> <p>د- حالة الجو من حرارة وأمطار ورياح لفترة قصيرة</p>	<p>1. جذورها طويلة وأوراقها شوكية</p> <p>2. منعش صيفا وشتاء</p> <p>3. الطقس</p> <p>4. المناخ</p>				

مخطط حصّة تعليمية للسنة الخامسة ابتدائي - الجغرافيا

المقطع الأول: أدوات ومفاهيم المادة الأسبوع: 10 الموضوع: ادماج جزئي الحصّة: 09

الهدف التعليمي: يدمج معارفه ومكتسباته السابقة الوسائل التعليمية: خرائط /مجسم الكرة الارضية /كتاب /سبورة

توجهات

الممارسات التعليمية التعليمية



**النشاط أول :** ص 62

ملاحظ الصور و اذكر المناخ الذي تمثله كل صورة .

**النشاط الثاني :**

استعن بالخريطة الشكل 2 ص 56 .

وامأ الجدول التالي بكتابة أسماء ثلاث ولايات عن كل مناخ .

مناخ البحر الابيض المتوسط	المناخ القاري	المناخ الصحراوي
1- ولاية .....	ولاية .....	ولاية .....
2- ولاية .....	ولاية .....	ولاية .....
3- ولاية .....	ولاية .....	ولاية .....



خريطة شكل (2) :  
مناخ الجزائر

**المشكل التعليمي :**

دمج معارفه

السابقة في حل

وضعيات مختلفة

تسجيل تصورات

المتعلمين والتي تتم

عن طريقها عملية

البناء

الاستخدام الامثل

اكتساب بعض

المفاهيم الجغرافية

الجديدة

استعمال التفويج

أو إحدى

استراتيجيات

التعلم النشط

يقراً

التمرين ويصحح

جماعيا

مخطط حصّة تعليمية للسنة الخامسة ابتدائي - الجغرافيا

المقطع الأول : أدوات ومفاهيم المادة		الأسبوع : 11	الموضوع: التصحر والجفاف	الحصّة : 10
الهدف التعليمي: يتعرف على أسباب التصحر والجفاف ويقترح حلولاً لهما		الوسائل التعليمية: خرائط /مجسم الكرة الأرضية /كتاب /سبورة		
توجهات	الممارسات التعليمية التعليمية			
استرجاع المكتسبات السابقة وتسجيل التصورات يساعد المتعلم على بناء معارف جديدة.	<p><b>النشاط الأول :</b></p> <p>شاهدت في التلفاز المشاهد التالية : أرض يابسة خالية من النبات والحيوان و مدينة داخلية فيها رمال كثيرة. على الألواح اكتب سبب أو سببين أدى الى ذلك .</p> <p><b>النشاط الثاني :</b></p> <p><b>السند:</b></p> <div style="display: flex; justify-content: space-around;">    </div> <p>دعوة المتعلمين لملاحظة الصورة 1 ومحاورتهم من أجل استنتاج سبب موت الحيوانات وعدم وجود النباتات وكيف تسمى هذه الظاهرة.</p> <p>دعوة المتعلمين لملاحظة الصورة 2 و3 ومحاورتهم من أجل استنتاج سبب زحف الرمال إلى بعض المدن الداخلية مع كيفية التصدي لهذه الظاهرة.</p> <p>من خلال السندات يدعو المعلم المتعلمين إلى اقتراح بعض الحلول باستعمال الأفواج للتصدي لظاهرة التصحر والجفاف.</p> <p><b>الأثر الكتابي :</b></p> <p>يُعدّ التصحر والجفاف من أخطر المشكلات التي تواجه العالم بصفة عامة، والقارة الإفريقية بصفة خاصة</p> <ul style="list-style-type: none"> <li>❖ الجفاف هو ظاهرة مناخية وكارثة طبيعية، تحدث بسبب نقص كمية الأمطار أو انعدامها وارتفاع درجة الحرارة. ومن بين الحلول :تخزين مياه الأمطار-الري بالتقطير.</li> <li>❖ التصحر: تحول مساحات شاسعة خصبة إلى أراضي فقيرة بسبب الظروف المناخية أو نتيجة للتدخل السليبي للإنسان في البيئة. وتتجلى أهم هذه العوامل في :ارتفاع درجة الحرارة و قلة الأمطار، زحف الكثبان الرملية، انخفاض منسوب المياه الجوفية ومن بين الحلول تنظيم عمليات الري-التشجير وإيقاف قطع الأشجار والحرق من إتلافها وحرقها.</li> </ul> <p><b>النشاط الثالث :</b></p> <p>وضعية إدماجية : بمناسبة الاحتفال باليوم العالمي لمكافحة التصحر والجفاف ، قدم لزملائك في القسم عرضاً يتضمن نصائح حول التقليل من آثار هاتين الظاهرتين .</p>			
المشكل التعليمي	خطورة انتشار ظاهرة الجفاف والتصحر وما يترتب عنها من نتائج وخيمة على الإنسان والحيوان تسجيل تصورات المتعلمين والتي تتم عن طريقها عملية البناء			
الاستخدام الأمثل	اكتساب بعض المفاهيم الجغرافية الجديدة			
استعمال التفويج	أو إحدى استراتيجيات التعلم النشط			
يقرأ ويدون الخلاصة	ينجز			
التمرين ويصحح	جماعياً			

مخطط حصّة تعليمية للسنة الخامسة ابتدائي - الجغرافيا

المقطع الأول: أدوات ومفاهيم المادة الأسبوع: 12 الموضوع: ادماج كلي الحصّة: 11

الهدف التعليمي: يدمج معارفه ومكتسباته السابقة  
الوسائل التعليمية: خرائط /مجسم الكرة الارضية  
/كتاب /سبورة

توجهات

الممارسات التعليمية التعليمية

**النشاط الأول:**

ضع كل مدينة في المربع المناسب لها: الجزائر، أدرار، الجلفة

مدينة  حرارة شديدة صيفا، أمطار قليلة شتاء، كثافة سكانية منخفضة.  
مدينة  حرارة متوسطة، أمطار متوسطة، كثافة سكانية متوسطة.  
مدينة  حرارة معتدلة، أمطار غزيرة، كثافة سكانية مرتفعة.

**النشاط الثاني:** وضح دور السدود ، التشجير والحواجز الصخرية في المحافظة على البيئة

**النشاط الثالث:**

إملا الجدول التالي:

الحيوانات	مكان تواجدها	فائدتها
الغزلان	.....	.....
الجمال	.....	.....
الأبقار	.....	.....
الأغنام	.....	.....
الماعز	.....	.....

**النشاط الرابع:** املا الجدول التالي بكتابة 4 أسماء من المدن

التضاريس	الهضاب	السهول
.....	.....	.....

**النشاط الخامس:** استعن بالخريطة ص 18 و املا الفراغات:

- 1- قد تكون الولاية صحراوية وفي نفس الوقت حدودية مثل .....
- 2- قد تكون الولاية ساحلية وفي نفس الوقت حدودية مثل .....
- 3- قد تكون الولاية داخلية وفي نفس الوقت حدودية مثل .....

المقطع	الميدان	الحجم الساعي التقديري للميدان
الثاني	السكان والتنمية	08 ساعات

الكفاءة الختامية	مركبات الكفاءة	المحتويات المعرفية	الاهداف التعليمية
يربط العلاقة بين استغلال الانسان للموارد الطبيعية وأثرها على التنمية	ينطلق من خرائط توزيع السكان في الجزائر لربط العلاقة بين الكثافة السكانية و تركيز السكان في المدن . يشرح كتابة مفهوم التنمية الاقتصادية . يعتمد على السندات المناسبة لشرح البعد الاجتماعي لمشروع اقتصادي او اجتماعي	الكثافة وتوزيع السكان في الجزائر أنواع الكثافة 01	يتعرف على أنواع الكثافة السكانية وكيفية حسابها
		الكثافة وتوزيع السكان في الجزائر أنواع الكثافة 02	يتعرف على توزيع الكثافة السكانية في الجزائر
		تطبيق	يدمج معارفه ومكتسباته السابقة
		العوامل المتحكممة في توزيع السكان: العوامل الطبيعية	يتعرف على العوامل الطبيعية المتحكممة في توزيع الكثافة السكانية في الجزائر
		العوامل المتحكممة في توزيع السكان: العوامل الصناعية	يتعرف على العوامل الصناعية المتحكممة في توزيع الكثافة السكانية في الجزائر
		تطبيق	يدمج معارفه ومكتسباته السابقة
		نشاط السكان الاقتصادية: زراعة/ ثروة حيوانية	يتعرف على اهمية نشاط السكان الاقتصادي في توزيع الكثافة السكانية
		التنمية الاقتصادية: الصناعة	يتعرف على النشاط الصناعي للسكان
		التنمية الاقتصادية: التجارة	يتعرف على نشاط السكان الإقتصادي: التجارة
		تطبيق	يدمج معارفه ومكتسباته السابقة
إدماج كلي	يدمج معارفه ومكتسباته السابقة		

المدة: 10 دقائق

عرض الوضعية المشكلية الانطلاقية الأم

التوجيهات	الممارسات التعليمية التعلمية
تعريف الكثافة السكانية	❖ الوضعية المشكلية الانطلاقية الأم ➤ للموارد الطبيعية دور هام في النشاط الاقتصادي وفي توفير مصادر العيش للمجتمع . فما مدى امتلاك الجزائر لهذه الموارد وإلى أي حد يحسن استغلالها؟
حساب الكثافة	المهمات
أنواع الكثافة	▪ يحدد مفهوم الكثافة السكانية وكيفية حسابها
توزيع السكان	▪ توزيع السكان في الأقاليم الثلاث
النشاط السكاني الاقتصادي :	▪ يتعرف على نشاط السكاني الاقتصادي
الزراعة التجارة الصناعة	▪ يذكر القطاعات المختلفة وتباينها في الأقاليم الثلاث

مخطط حصّة تعليمية للسنة الخامسة ابتدائي - الجغرافيا

المقطع الثاني: السكان والتنمية الأسبوع: 13 الموضوع: الكثافة وتوزيع السكان في الجزائر 01: أنواع الكثافة الحصّة: 01

الهدف التعليمي: يتعرف على أنواع الكثافة السكانية وكيفية حسابها

الوسائل التعليمية: خرائط /مجسم الكرة الأرضية /كتاب /سبورة

توجهات

الممارسات التعليمية التعليمية

استرجاع مكتسبات سابقة تساعد المتعلم على بناء معارف جديدة وتسجيل تصوراتهم

**النشاط الأول:**

للجزائر تضاريس ومناخ متنوع لذلك تختلف الكثافة السكانية من ولاية إلى أخرى. على الألواح ماهي المناطق التي توحد بها كثافة سكانية عالية.

**النشاط الثاني:**

**السند 1:** صور (أ، ب، ج) ص 76

دعوة المتعلمين لملاحظة الصور (أ، ب، ج) ص 76 ومحاورتهم للتوصل إلى: مقارنة عدد الأشخاص في كل مكان، الصورة التي تبين ازدهاما (كثافة) سكانية. مع ذكر السبب.

**السند 2:** خريطة الشكل 2 و3 ص 78

تقدر مساحة الجزائر 2381741 كلم مربع عدد سكانها في 2006: 33000000 نسمة

يقرا المعلم ثم المتعلمون السند ثم يتحاور معهم من أجل كيفية حساب الكثافة السكانية في بلدية أو ولاية

ليعرف أن:  $\text{الكثافة السكانية الحسابية} = \frac{\text{عدد السكان}}{\text{المساحة}}$

دعوة المتعلمين لملاحظة خريطة الشكل 2 و3 ص 76 ومحاورتهم للتوصل إلى:

اختلاف الكثافة السكانية من مكان إلى آخر: مقارنة الكثافة السكانية في شمال الجزائر و المناطق الوسطى والمناطق الجنوبية؟

الكثافة الحقيقية: مقارنة الكثافة السكانية داخل الإقليم الواحد.

**الأثر الكتابي:**

- للحصول على الكثافة السكانية لأي بلد: نقسم عدد سكان البلد على المساحة بالكيلومتر المربع.
- هناك نوعان من الكثافة السكانية: أ. الكثافة الحسابية ب. الكثافة الحقيقية.

**النشاط الثالث:**

احسب الكثافة السكانية للولايات الثالث:

الولاية	الجزائر	الولاية	سطيف	الولاية	أدرار
عدد السكان	2.8 مليون نسمة	عدد السكان	1.3 مليون نسمة	عدد السكان	326 ألف نسمة
المساحة	809 كلم <sup>2</sup>	المساحة	6 504 كلم <sup>2</sup>	المساحة	464.900 كلم <sup>2</sup>

**المشكل التعليمي**

الكثير من المتعلمين يجد صعوبة في كيفية حساب الكثافة السكانية في بلديته او ولايته

تسجيل تصورات المتعلمين والتي تتم عن طريقها عملية البناء

الاستخدام الامثل اكتساب بعض المفاهيم الجغرافية الجديدة

يقرا ويدون

الخلاصة على

الكراس

استعمال التفويج

أو إحدى

استراتيجيات التعلم

النشط

ينجز

التمرين ويصحح

جماعيا

المقطع الثاني: السكان والتنمية الأسبوع: 14 الموضوع: الكثافة وتوزيع السكان في الجزائر 02: توزيع الكثافة الحصّة: 02

الهدف التعليمي: يتعرف على توزيع الكثافة السكانية في الجزائر الوسائل التعليمية: خرائط / مجسم الكرة الأرضية / كتاب / سبورة

توجيهات

الممارسات التعليمية التعليمية

استرجاع المكتسبات السابقة وتسجيل التصورات يساعد المتعلم على بناء معارف جديدة.



**النشاط الأول :**

يلقى المعلم على السبورة خريطة الجزائر تبين أنواع الأقاليم . على الألواح اذكر الأقاليم الأكثر كثافة سكانية و الأقل كثافة .

**النشاط الثاني :** يرسم المعلم جدولا يلخص الجداول الثلاث في ص 79 و 80 و 81

**السند 1:**

إليك الجدول التالي يبين الكثافة السكانية في ولايات الأقاليم الثلاث

الإقليم الشمالي	الولاية	الجزائر	إقليم الهضاب	الولاية	سطيف	الإقليم الجنوبي	الولاية	بسكرة
	ن/كلم <sup>2</sup>	4167		ن/كلم <sup>2</sup>	224		ن/كلم <sup>2</sup>	31

من خلال قراءة المعلم للجدول دعوة المتعلمين لتحليله ومحاورتهم لقراءة توزيع الكثافة السكانية في الولايات ومعرفة الولاية الأكثر كثافة مع ذكر الأسباب.

**السند 2:** هناك ثلاثة أقاليم رئيسية كبرى في الجزائر تختلف الكثافة السكانية بينها اختلافا واضحا (لاحظ الجدول التالي).

إقليم الشمال	المساحة (كلم <sup>2</sup> )	عدد السكان	الكثافة (ن/كلم <sup>2</sup> )
إقليم الشمال	102781	21278023	207
إقليم الوسط	303231	8668686	26.6
إقليم الجنوب	1975729	2965166	1.5

من خلال قراءة المعلم للجدول دعوة المتعلمين لتحليله ومحاورتهم من أجل معرفة اختلاف الكثافة السكانية بين الأقاليم الثلاثة.

**الأثر الكتابي :**

- ترتفع الكثافة السكانية في الإقليم التلي ارتفاعا كبيرا إذ تصل في بعض المناطق إلى أكثر من 3000 ن/كلم<sup>2</sup>.
- يتميز الإقليم الأوسط بكثافة سكانية متوسطة عموما أقل بكثير من كثافة الإقليم الشمالي
- يتميز الإقليم الجنوبي (الصحراوي) بانخفاض شديد في نسبة كثافته السكانية .

**النشاط الثالث :**

اذكر العوامل التي تؤثر على توزيع الكثافة السكانية في كل من الإقليم التلي والهضاب والصحراء.

**المشكل التعليمي**

الكثير من المتعلمين يجد صعوبة في توزيع الكثافة السكانية على الأقاليم المختلفة، تسجيل تصورات المتعلمين والتي تتم عن طريقها عملية البناء باستخدام الأمثل لاكتساب بعض المفاهيم الجغرافية الجديدة. يقرأ ويدون الخلاصة على الكراس استعمال التفويج أو إحدى استراتيجيات التعلم النشط ينجز التمرين ويصحح جماعيا

مخطط حصّة تعليمية للسنة الخامسة ابتدائي - الجغرافيا

المقطع الثاني: السكان والتنمية		الأُسبوع: 15	الموضوع: تطبيق	الحصّة: 03
الهدف التعليمي: يدمج معارفه ومكتسباته السابقة في حل وضعيات مختلفة		الوسائل التعليمية: خرائط /مجسم الكرة الارضية /كتاب /سبورة		
توجيهات	الممارسات التعليمية التعليمية			
<p>استرجاع المكتسبات السابقة وتسجيل التصورات يساعد المتعلم على بناء معارف جديدة . <b>المشكل التعليمي</b> يستثمر معلوماته ومكتسباته السابقة في حل وضعيات جديدة استعمال التفويج أو إحدى استراتيجيات التعلم النشط</p> <p>ينجز التمرين ويصحح جماعيا</p>	<p><b>النشاط الأول:</b> رقم 2 ص 84</p> <p>اقرأ الخريطة من خلال المفتاح:</p> <p>ماهي في رأيك العوامل المؤثرة في توزيع السكان ؟</p> <p>تختلف الكثافة السكانية كلما اتجهنا من الشمال نحو الجنوب، لماذا؟</p>			
	<p><b>النشاط الثاني:</b> رقم 5 ص 85</p> <p>ضع الحرف (ص) أمام الجواب الصحيح وعلامة (خ) أمام الجواب الخطأ</p> <p>يمكن حساب الكثافة السكانية في مكان ما إذا عرفنا مساحته وعدد سكانه</p> <p>الكثافة الحسابية هي نفسها الكثافة الحقيقية</p> <p>الكثافة السكانية في مكان ما ثابتة لا تتغير</p> <p>الكثافة السكانية تتغير بين فترة وأخرى</p> <p>الكثافة السكانية في الهضاب العليا مرتفعة جدا</p> <p>الكثافة السكانية في المدن أكثر من الأرياف</p>			
	<p><b>النشاط الثالث:</b> رقم 6 ص 85</p> <p>انجز تقريرا حول مؤسستك وفق المخطط التالي :</p> <p>إسم المؤسسة وموقعها (في البلدية والولاية).</p> <p>بعدها عن مركز البلدية، ومركز الولاية.</p> <p>عدد التلاميذ وعدد المعلمين.</p> <p>الكثافة الحسابية داخل المؤسسة .</p> <p>الكثافة الحقيقية في قسمك.</p>			

مخطط حصّة تعليمية للسنة الخامسة ابتدائي - الجغرافيا

المقطع الثاني: السكان والتنمية الأسبوع: 16 الموضوع: العوامل المتحكمة في توزيع السكان: العوامل الطبيعية **الحصّة: 04**

**الهدف التعليمي:** يتعرف على العوامل الطبيعية المتحكمة في توزيع الكثافة السكانية في الجزائر  
الأرضية / كتاب / سبورة

توجهات

الممارسات التعليمية التعليمية

استرجاع  
المكتسبات السابقة  
وتسجيل  
التصورات يساعد  
المتعلم على بناء  
معارف جديدة .  
**المشكل التعليمي:**  
ترى ماهي أهم  
العوامل المتحكمة  
والتي تسبب  
اختلاف في توزيع  
الكثافة السكانية؟  
تسجيل تصورات  
المتعلمين والتي تتم  
عن طريقها عملية  
البناء  
الاستخدام الأمثل  
لاكتساب بعض  
المفاهيم الجغرافيا  
الجديدة  
يقراً  
ويدون الخلاصة  
على الكراس  
استعمال التفويج  
أو إحدى  
استراتيجيات  
التعلم النشط  
ينجز  
التمرين ويصحح  
جماعيا

**النشاط الأول :**

الكثافة العامة للسكان في الجزائر 13.5 ن/كلم<sup>2</sup>، هذه الكثافة تختلف من منطقة إلى أخرى  
ماهي العوامل التي تسبب هذا الاختلاف؟

**النشاط الثاني :**

**السند 1:** الشكل 1 و 2 ص 86

التساقط	متوسط الحرارة	متوسط الكثافة السكانية
من 400 ملم الى 1000 ملم	18°	207 ن/كلم <sup>2</sup>

دعوة المتعلمين إلى ملاحظة الخريطة والجدول ومحاورتهم من أجل استنتاج:

- الكثافة السكانية في الإقليم الشمالي .
- تقدير الكثافة السكانية .
- متوسط التساقط ، متوسط الحرارة .
- الإقليم الشمالي غزير الأمطار معتدل الحرارة ، كثير السكان .

**السند 2:** الشكل 3 و 4 ص 87

التساقط	متوسط الحرارة	متوسط الكثافة السكانية
أقل من 200 ملم	24°	1.5 ن/كلم <sup>2</sup>

من خلال قراءة المعلم للجدول وملاحظة الخريطة دعوة المتعلمين لتحليله ومحاورتهم من أجل الحصول على:

- الكثافة السكانية في الإقليم الجنوبي، تقدير الكثافة السكانية.
- متوسط التساقط، متوسط الحرارة.
- الإقليم الجنوبي قليل الأمطار مرتفع الحرارة، قليل السكان

**الأثر الكتابي :**

- للتساقط والحرارة دور كبير في توزيع السكان .
- المناطق الغزيرة الأمطار المعتدلة المناخ ترتفع بها الكثافة السكانية .
- المناطق القليلة الأمطار الشديدة الحرارة تنخفض بها الكثافة السكانية .

**النشاط الثالث :**

كيف تؤثر الحرارة وتساقط أمطار على توزيع الكثافة السكانية؟ اذكر بعض الأمثلة من خلال ما درسته من قبل .

مخطط حصّة تعليمية للسنة الخامسة ابتدائي - الجغرافيا

المقطع الثاني : السكان والتنمية **الأسبوع : 17 الموضوع :** العوامل المتحكمة في توزيع السكان: العوامل الإقتصادية **الحصّة : 05**

**الهدف التعليمي :** يتعرف على العوامل الاقتصادية المتحكمة في توزيع الكثافة السكانية في الجزائر  
**الوسائل التعليمية :** خرائط /مجسم الكرة الأرضية /كتاب /سبورة

توجيهات

الممارسات التعليمية التعليمية

**النشاط الأول :**

هناك بعض العوامل تؤثر في توزيع الكثافة السكانية وترتبط بممارسات الإنسان في حياته اليومية. اذكر بعض من هذه العوامل التي تعرفها؟

**النشاط الثاني :**

**السند1:** الشكل 2 ص 88

دعوة المتعلمين لملاحظة الخريطة ومحاورتهم :

-إن أهم المدن تتركز في السهول الساحلية مثل : سهل وهران ، متيجة ، عنابة.

-بعض السهول الداخلية مثل : سهل قسنطينة ، سطيف .

-المدن الصحراوية ، فتتركز في الواحات مثل : بسكرة ، الأغواط

-إذن السهول الزراعية تجلب إليها أعداد كبيرة من السكان فهي مناطق جذب للسكان.

**السند2:** الشكل 3 ص 88

المدينة	عدد السكان سنة 1987	عدد السكان سنة 2005	النشاط
عنابة	305.526	383.504	.....
سكيكدة	128.747	178.687	.....
الجللفة	84.207	212.231	.....
بسكرة	128.281	207.987	.....

من خلال قراءة المعلم والمتعلمين للجدول دعوتهم لتحليله ومحاورتهم من أجل استنتاج:

- سبب تضاعف السكان في بعض المدن على حسب الأقاليم .
- طبيعة النشاط الممارس في المدن والذي ساهم في الكثافة السكانية.
- الإقليم الجنوبي قليل الأمطار مرتفع الحرارة ، كثير السكان.

**الأثر الكتابي :**

- النشاط الصناعي من العوامل التي تجلب السكان لأنه يوفر لهم الشغل
- السهول الزراعية تجلب إليها أعداد كبيرة من السكان فهي مناطق جذب للسكان

**النشاط الثالث :**

ما هو النشاط الذي يؤدي إلى ارتفاع الكثافة السكانية في المدن: الزراعة أم الصناعة؟ لماذا؟

مخطط حصّة تعليمية للسنة الخامسة ابتدائي - الجغرافيا

<b>المقطع الثاني: السكان والتنمية الأسبوع: 18 الموضوع: تطبيق الحصّة: 06</b>	
<b>الهدف التعليمي:</b> يدمج معارفه ومكتسباته السابقة في حل وضعيات مختلفة	<b>الوسائل التعليمية:</b> خرائط /مجسم الكرة الارضية /كتاب /سبورة
<b>توجهات</b>	<b>الممارسات التعليمية التعليمية</b>
<p>استرجاع المكتسبات السابقة وتسجيل التصورات يساعد المتعلم على بناء معارف جديدة .</p> <p>استعمال التفويج أو إحدى استراتيجيات التعلم النشط ينجز التمارين فرديا ويصحح جماعيا</p>	<p style="text-align: right;"><b>النشاط الأول:</b> رقم 1 ص 91</p> <p>1. إليك خريطة الجزائر: انقلها على كراستك، ثم وزع عليها الكثافة السكانية</p> <div style="text-align: center;">  </div> <p style="text-align: right;"><b>النشاط الثاني:</b> رقم 2 ص 91</p> <p>امأ الفراغات بالكلمات المناسبة :</p> <p>تختلف الكثافة السكانية في الجزائر من منطقة لأخرى ، فالسهول الساحلية ..... بالسكان ، أما الهضاب العليا ف..... السكان ، أما الصحراء ف..... السكان .</p> <p style="text-align: right;"><b>النشاط الثالث:</b> رقم 3 ص 91</p> <p>سأل المعلم تلميذا من الصحراء : لماذا يقل عدد السكان عندكم ؟</p> <p>وسأل تلميذا من الشمال : لماذا يكثر عدد السكان عندكم ؟</p> <p>أ- بم أجب الأول ؟</p> <p>ب- بم أجب الثاني ؟</p>

مخطط حصّة تعليمية للسنة الخامسة ابتدائي - الجغرافيا

المقطع الثاني: السكان والتنمية الأسبوع : 19 الموضوع: نشاط السكان الاقتصادي 01: الزراعة/ الثروة الحيوانية **الحصّة: 07:**

**الهدف التعليمي:** يتعرف على أهمية نشاط السكان الاقتصادي في توزيع الكثافة السكانية  
**الوسائل التعليمية:** خرائط /مجسم الكرة الأرضية /كتاب /سبورة

توجيهات	الممارسات التعليمية
<p>استرجاع المكتسبات السابقة وتسجيل التصورات يساعد المتعلم على بناء معارف جديدة .</p> <p><b>المشكل التعليمي:</b></p> <p>يجهل المتعلمون مساهمة نشاط السكان الاقتصادي في اختلاف توزيع الكثافة السكانية؟</p> <p>تسجيل تصورات المتعلمين والتي تتم عن طريقها عملية البناء الاستخدام الأمثل لاكتساب بعض المفاهيم الجغرافيا الجديدة يقرأ ويدون الخلاصة على الكراس استعمال التفويج أو إحدى استراتيجيات التعلم النشط ينجز التمرين ويصحح جماعيا</p>	<p><b>النشاط الأول:</b> تتعدد وتتنوع مهن وحرف الإنسان. اذكر البعض منها.</p> <p><b>النشاط الثاني:</b> <b>السند 1:</b> - دعوة المتعلمين لملاحظة الشكل (1 و 2) ص 94 ومحاورتهم من أجل استنتاج : نسبة الأراضي الصالحة للزراعة، أهم المحاصيل الزراعية وسبب احتلال الحبوب المرتبة الأولى. -دعوة المتعلمين لملاحظة الصور (أ ، ب ، ج) ص 94 ومحاورتهم من أجل استنتاج : المشاكل التي تعاني منها الزراعة .</p> <p><b>السند 2:</b> الشكل (1، 2، 3) ص 94</p>  <p>دعوة المتعلمين لملاحظة السندات التي تمثل مناطق تربية الحيوانات في الجزائر من أجل استنتاج أنواع الحيوانات التي تربي في الجزائر ، النوع الأكثر انتشارا ، مكان تربية الأغنام والأبقار وتربية الجمال تربية الدواجن ، أين توجد هذه المصايد ؟</p> <p><b>الأثر الكتابي :</b></p> <ul style="list-style-type: none"> <li>➤ رغم مساحة الجزائر الكبيرة إلا أن نسبة الأراضي الزراعية بها قليلة .</li> <li>➤ رغم تنوع المحاصيل الزراعية فإن نسبة الحبوب تحتل المرتبة الأولى في الإنتاج الزراعي</li> <li>➤ تعاني الزراعة من عدة مشاكل : جفاف ، تصحر ، جراد ، انجراف</li> <li>➤ تتنوع الثروة الحيوانية في الجزائر على النحو التالي : أغنام و أبقار وخيول ، تكثف في المناطق التلية ، أما المعز والجمال فتنتشر تربيتها بالجنوب ، تتم تربية الدواجن للاستفادة من بيضها ، ولحومها البيضاء ، في حين توجد مصايد الأسماك في السواحل .</li> </ul> <p><b>النشاط الثالث:</b> في رأيك كيف تستطيع الجزائر تحسين إنتاجها الزراعي والحيواني؟</p>

**مخطط حصّة تعليمية للسنة الخامسة ابتدائي - الجغرافيا**

<b>المقطع الثاني : السكان والتنمية الأسبوع : 20 الموضوع : نشاط السكان الإقتصادي:02:الصناعة الحصّة :08</b>	
<b>الهدف التعليمي :</b> يتعرف على النشاط الصناعي للسكان	<b>الوسائل التعليمية :</b> خرائط /مجسم الكرة الارضية /كتاب /سبورة
<b>توجيهات</b>	<b>الممارسات التعليمية</b>
<p>استرجاع المكتسبات السابقة وتسجيل التصورات يساعد المتعلم على بناء معارف جديدة.</p> <p><b>المشكل التعليمي</b></p> <p>تري ماهي مساهمة نشاط السكان الاقتصادي في اختلاف توزيع الكثافة السكانية.</p> <p>تسجيل تصورات المتعلمين والتي تتم عن طريقها عملية البناء</p> <p>الاستخدام الأمثل لاكتساب بعض المفاهيم الجغرافية الجديدة</p> <p>يقراً ويدون الخلاصة على الكراس.</p> <p>استعمال التفويج أو إحدى استراتيجيات التعلم النشط،</p> <p>ينجز التمرين ويصحح جماعيا</p>	<p style="text-align: right;"><b>النشاط الأول:</b></p> <p>إضافة الى القطاع الفلاحي الذي يمارسه السكان الذي يعتمد على الزراعة وتربية الحيوانات على الألواح اذكر بعض القطاعات الأخرى التي تعرفها يمارسها السكان من أجل تحسين مستواهم.</p> <p style="text-align: right;"><b>النشاط الثاني:</b></p> <p><b>السند1:</b> الصور (1،2،3،4) ص 97 دعوة المتعلمين لملاحظة الصور ومحاورتهم من أجل استنتاج استعمال هذه المواد:الجلود والأخشاب ،الحديد ،البتترول والغاز من المواد الأولية الطاقوية.</p> <p><b>السند 2:</b> الشكل 1،2،3 ص 98 دعوة المتعلمين لملاحظة الصور ومحاورتهم من أجل الحصول على : الشكل 1 :أقسام الصناعة ، أنواع الصناعة الحديثة ، تعريف الصناعة الثقيلة والخفيفة. الشكل 2: أنواع الصناعات الموجودة في الجزائر .مناطق تركز المناطق الصناعية الكبرى. الشكل3: تعريف الصناعة التقليدية، أنواعها. و مكان تواجدها بالجزائر.</p> <p style="text-align: right;"><b>الأثر الكتابي :</b></p> <ul style="list-style-type: none"> <li>• تتطلب الصناعة مواد أولية فلاحية كالجلود والقطن والصوف ومواد معدنية ، كالحديد ، والرصاص والزنك ومواد أولية طاقوية كالبترول، الغاز الطبيعي.</li> <li>• تنقسم الصناعة إلى قسمين : أ- الصناعة الخفيفة : مثل الصناعة الغذائية ، والنسيجية . ب- الصناعة الثقيلة : مثل صناعة الحديد والصلب.</li> </ul> <p>توجد عدة أنواع من الصناعات المنتشرة في مختلف مناطق البلاد منها : صناعة الآلات الميكانيكية ، الصناعة البتروكيمياوية ، الصناعة الكيماوية ، الصناعة الميكانيكية ، الصناعة الغذائية ، صناعة الورق</p> <p style="text-align: right;"><b>النشاط الثالث :</b></p> <p>عدد أنواع الصناعات المتواجدة في منطقتك وبين أهميتها.</p>

مخطط حصّة تعليمية للسنة الخامسة ابتدائي - الجغرافيا

المقطع الثاني: السكان والتنمية الأسبوع: 21 الموضوع: نشاط السكان الإقتصادي 03: التجارة الحصّة: 09	
الهدف التعليمي: يتعرف على نشاط السكان الاقتصادي: التجارة	الوسائل التعليمية: خرائط /مجسم الكرة الارضية /كتاب /سبورة
توجهات	الممارسات التعليمية التعليمية
استرجاع المكتسبات السابقة وتسجيل التصورات يساعد المتعلم على بناء معارف جديدة .	<p><b>النشاط الأول:</b></p> <p>تنوع الأنشطة الاقتصادية في الجزائر إلى قطاع صناعي وقطاع فلاحي وقطاع آخر.</p> <p>على الألواح اذكر هذا القطاع .</p> <p><b>النشاط الثاني:</b></p> <p>السند: الصور 1 و2 و3 و4 ص 100</p> <p>دعوة المتعلمين لملاحظة الصور ومحاورتهم من أجل استنتاج:</p> <ul style="list-style-type: none"> <li>✓ المراحل التي يمر بها المنتج قبل وصوله إلى المستهلك .</li> <li>✓ تسمية عملية التبادل التجاري (البيع والشراء) التي تتم داخل الوطن .</li> <li>✓ الأداة التي يتم بواسطتها هذا التبادل .</li> <li>✓ تعريف التجارة الداخلية ، التبادل التجاري التي تتم خارج الوطن .</li> </ul> <p><b>الأثر الكتابي:</b></p> <p>➤ التجارة هي حركة تبادل البضائع والسلع تتم بواسطة رمز نقدي تسمى العملة وهي نوعان :</p> <p>أ. التجارة الداخلية : وهي التي تتم داخل حدود الوطن بالعملة المحلية ( الدينار)</p> <p>ب. التجارة الخارجية : وهي تتم خارج حدود الوطن وبغير العملة المحلية أي بالعملة الصعبة ( الدولار الأمريكي ، أورو أوروبي ، استرليني بريطاني ، ين ياباني ...)</p> <p><b>النشاط الثالث:</b></p> <p>لماذا تحرص الدول على اقامة المعارض الدولية ؟</p>
المشكل التعليمي:	
ماهي مساهمة نشاط السكان الاقتصادي في اختلاف توزيع الكثافة السكانية؟	
تسجيل تصورات المتعلمين والتي تتم عن طريقها عملية البناء باستخدام الأمثل	
لاكتساب بعض المفاهيم الجغرافيا الجديدة	
يقرأ ويدون الخلاصة على الكراس.	
استعمال التفويج أو إحدى استراتيجيات التعلم النشط	
ينجز	
التمرين ويصحح جماعيا	

مخطط حصّة تعليمية للسنة الخامسة ابتدائي - الجغرافيا

<p>الحصة: 10</p>	<p>الموضوع: تطبيق</p>	<p>الأسبوع: 22</p>	<p>المقطع الثاني: السكان والتنمية</p>
<p>الوسائل التعليمية: خرائط /مجسم الكرة الارضية /كتاب /سبورة</p>	<p>الهدف التعليمي: يدمج معارفه ومكتسباته السابقة في حل وضعيات مختلفة</p>		
<p>توجهات</p>	<p>الممارسات التعليمية التعليمية</p>		
<p>استرجاع مكتسبات سابقة تساعد المتعلم على بناء معارف جديدة وتسجيل تصوراتهم</p> <p><b>المشكل التعليمي:</b></p> <p>يستثمر معلوماته ومكتسباته السابقة في حل وضعيات الجديدة استعمال التفويج أو إحدى استراتيجيات التعلم النشط</p> <p>ينجز التمرين ويصحح جماعيا</p>	<p><b>النشاط الأول:</b> رقم 1 ص 102</p>  <p>-لاحظ الصور 1. 2. 3 ص 102 ثم أكمل العبارة</p> <p>تمثل الصورة الأولى قطاع.....يضم هذا القطاع.....</p> <p>تمثل الصورة الثانية قطاع.....يضم هذا القطاع.....</p> <p>تمثل الصورة الثالثة قطاع.....يضم هذا القطاع.....</p> <p><b>النشاط الثاني:</b> رقم 2 ص 102</p> <p>اكمل ما يلي:</p> <p>تضم الفلاحة النشاطات التالية .....</p> <p>من أهم المنتوجات الزراعية في الجزائر .....</p> <p>تعاني الزراعة في الجزائر من المشاكل التالية .....</p> <p>أهم الحيوانات التي تربي في الجزائر هي .....</p> <p>أهم المصايد بالجزائر هي .....</p> <p><b>النشاط الثالث:</b> رقم 3 ص 91</p> <p>لاحظ الصور واستنتج</p>  <p>الصورة الأولى صناعة .....</p> <p>الصورة الثانية صناعة .....</p> <p>الصورة الثالثة صناعة .....</p>		

مخطط حصّة تعليمية للسنة الخامسة ابتدائي - الجغرافيا

الحصة: 11		الموضوع: إدماج كلي	المقطع الثاني: السكان والتنمية الأسبوع: 23															
الوسائل التعليمية: خرائط /مجسم الكرة الارضية /كتاب /سبورة		الهدف التعليمي: يدمج معارفه ومكتسباته السابقة في حل وضعيات مختلفة																
توجهات	الممارسات التعليمية التعليمية																	
استرجاع المكتسبات السابقة وتسجيل التصورات يساعد المتعلم على بناء معارف جديدة. <b>المشكل التعليمي:</b> يدمج معارفه ومكتسباته السابقة في حل وضعيات الجديدة استعمال التفويج أو إحدى استراتيجيات التعلم النشط ينجز التمرين ويصحح جماعيا	<p><b>النشاط الأول:</b> رقم 1 ص 103 اكمل ما يلي: الكثافة السكانية هي ..... الكثافة العامة هي ..... الكثافة الحسابية هي ..... تقل الكثافة في الصحراء بسبب ..... ترتفع الكثافة في الشمال بسبب .....</p> <p><b>النشاط الثاني:</b> رقم 3 ص 103 لاحظ الخريطة (ص 104) ثم: ضع لها عنوانا. ماهي أهم موارد الصحراء ؟ ما لدور الذي يلعبه البترول والغاز الطبيعي في الاقتصاد الوطني ؟</p> <p><b>النشاط الثالث:</b> رقم 4 ص 103 اذكر أهم مناطق كل نشاط.</p> <table border="1"> <thead> <tr> <th>أهم المناطق</th> <th>نوع النشاط ( الحرفة )</th> </tr> </thead> <tbody> <tr> <td></td> <td>استخراج المرجان</td> </tr> <tr> <td></td> <td>تربية الأبقار</td> </tr> <tr> <td></td> <td>زراعة أشجار الزيتون</td> </tr> <tr> <td></td> <td>زراعة الحبوب</td> </tr> <tr> <td></td> <td>زراعة النخيل</td> </tr> <tr> <td></td> <td>تربية الأغنام</td> </tr> <tr> <td></td> <td>استخراج المحروقات</td> </tr> </tbody> </table>		أهم المناطق	نوع النشاط ( الحرفة )		استخراج المرجان		تربية الأبقار		زراعة أشجار الزيتون		زراعة الحبوب		زراعة النخيل		تربية الأغنام		استخراج المحروقات
أهم المناطق	نوع النشاط ( الحرفة )																	
	استخراج المرجان																	
	تربية الأبقار																	
	زراعة أشجار الزيتون																	
	زراعة الحبوب																	
	زراعة النخيل																	
	تربية الأغنام																	
	استخراج المحروقات																	

المقطع	الميدان	الحجم الساعي التقديري للميدان
الثالث	السكان والبيئة	06 ساعات

الكفاءة الختامية	مركبات الكفاءة	المحتويات المعرفية	الاهداف التعليمية
ينطلق من التهيئة الاقليمية لاقتراح حلول لمشكل بيئي (على الخيار) في محيطه القريب.	يدرس مثالا حول التهيئة الإقليمية (شق الطرقات والتوسع العمراني او غير ذلك .....).	مفهوم التهيئة الإقليمية وكيفية الاستغلال العقلاني للمجال الجغرافي أو الإقليم	يعرف التهيئة الإقليمية وكيفية الاستغلال العقلاني للمجال الجغرافي
		المشاكل التي تعاني منها المدن	يتعرف على أهم المشاكل التي تعاني منها المدن
		حلول مشكلات التلوث و النفايات المنزلية	يبحث عن حلول لمشكلات التلوث
		حماية الغابات و الأراضي الفلاحية	كيفية حماية الغابات والأراضي الفلاحية
		إدماج كلي	يدمج معارفه ومكتسباته السابقة

المدة : 10 دقائق

عرض الوضعية المشكلة الانطلاقية الأم

التوجيهات	الممارسات التعليمية التعليمية
تعريف الهيئة الاقليمية الاستغلال العقلاني للمجال الجغرافي مشاكل المدن الحلول كيفية حماية الغابات والاراضي الفلاحية	<p>❖ الوضعية المشكلة الانطلاقية الأم</p> <p>➤ الموقع الجغرافي للجزائر جعل بيئتها عرضة للكثير من المخاطر الناتجة عن الظواهر الطبيعية وعن نشاط الانسان . فكيف يمكنك التصرف تجاهها ؟</p> <p>➤ المهمات</p> <ul style="list-style-type: none"> <li>▪ يعرف الهيئة إقليمية</li> <li>▪ وكيفية الاستغلال العقلاني للمجال الجغرافي</li> <li>▪ مشكلات المدن وكيفية البحث عن حلول</li> <li>▪ كيف نحمي الغابات والاراضي الفلاحية</li> </ul>

مخطط حصّة تعليمية للسنة الخامسة ابتدائي - الجغرافيا

المقطع الثالث: السكان والبيئة **الأسبوع: 24 الموضوع:** التهيئة الإقليمية والاستغلال العقلاني للمجال الجغرافي **الحصّة: 01**

**الهدف التعليمي:** يتعرف على مفهوم التهيئة الإقليمية وكيفية الاستغلال العقلاني للمجال الجغرافي  
**الوسائل التعليمية:** خرائط /مجسم الكرة الأرضية /كتاب /سبورة

توجهات

الممارسات التعليمية التعليمية

استرجاع المكتسبات السابقة وتسجيل التصورات يساعد المتعلم على بناء معارف جديدة.

**المشكل التعليمي :**

الكثير من المتعلمين لا يعرفون ماذا يقصد بالتهيئة الإقليمية وكيفية استغلالها العقلاني في المجال الجغرافي. الاستخدام الأمثل لاكتساب بعض المفاهيم الجغرافيا الجديدة يقرأ ويدون الخلاصة على الكراس استعمال التفويج أو إحدى استراتيجيات التعلم النشط.

ينجز


التمرين ويصحح جماعيا

**النشاط الأول :**

هناك ثلاثة أقاليم رئيسة كبرى بالجزائر تختلف الكثافة السكانية بينها اختلافا واضحا . على الألواح ماهي المناطق التي توحد بها كثافة سكانية عالية مع ذكر بعض المرافق المتواجدة فيها .

**النشاط الثاني :**

**السند 01 :**



التهيئة الإقليمية هو استغلال الدولة الإمكانيات المتوفرة الطبيعية والبشرية والإقتصادية المتاحة بشكل العقلاني بغرض تحسين مستوى معيشة السكان.

دعوة المتعلمين لقراءة السند وملاحظة الصور ومحاورتهم من أجل استنتاج :

➤ تعريف التهيئة الإقليمية

➤ أسس التهيئة الإقليمية: إنجاز شبكة مدن منظمة، استغلال الموارد الطبيعية، إنجاز شبكة طرق ومواصلات لتسهيل حركة السكان.

➤ آثار التهيئة: التلوث، تطور شبكة النقل. النزوح الريفي

**السند 2:** تختلف الكثافة السكانية في الجزائر من إقليم لآخر

خريطة توزيع السكان حسب الأقاليم يمكن الاستعانة بالخريطة ص 84 .

دعوة المتعلمين لقراءة السند وملاحظة الخريطة ومحاورتهم من أجل استخراج :

➤ العوامل المؤثرة في تباين الكثافة السكانية في الأقاليم الثلاث

➤ ماهي العوامل المتحكمة في التهيئة الإقليمية لكل إقليم من حيث الموارد الطبيعية .

**الأثر الكتابي:**

التهيئة الإقليمية: هي عبارة عن تنظيم للمظاهر الجغرافية البشرية والاقتصادية على المستوى الإقليمي. أي بوضع خطة ومعايير تأخذ بعين الاعتبار الظروف الطبيعية والموارد البشرية والاقتصادية. ومن أسس التهيئة الإقليمية: إنجاز شبكة مدن منظمة، استغلال الموارد الطبيعية، إنجاز شبكة طرق ومواصلات لتسهيل حركة السكان.

**النشاط الثالث:**

يعد الإقليمي الجنوبي أقل كثافة سكانية، في رأيك كيف تساعد التهيئة الإقليمية في زيادة الكثافة السكانية في ولايات الجنوب.

مخطط حصّة تعليمية للسنة الخامسة ابتدائي - الجغرافيا

<p>توجيهات</p> <p>استرجاع المكتسبات السابقة وتسجيل التصورات يساعد المتعلم على بناء معارف جديدة</p> <p><b>المشكل التعليمي</b></p> <p>لا يدرك المتعلم مفهوم النزوح الريفي والتمركز في المدن وخطر البنائات الفوضوية التي قد تؤدي الى نتائج وخيمة تعرض السكان للأذى.</p> <p>اكتساب بعض المفاهيم الجغرافية الجديدة يقرأ ويدون الخلاصة على الكراس استعمال التفويج أو إحدى استراتيجيات التعلم النشط</p> <p>ينجز التمرين ويصحح جماعيا</p>	<p><b>المقطع الثالث: السكان والبيئة الأسبوع: 25</b> <b>الموضوع: المشاكل التي تعاني منها المدن</b> <b>الحصّة: 02</b></p> <p><b>الهدف التعليمي</b> يتعرف على المشاكل التي تعاني منها المدن والحلول الممكنة لمواجهة المشاكل</p> <p><b>الممارسات التعليمية التعليمية</b></p> <p><b>النشاط الأول :</b></p> <p>عرفت الجزائر تزايد كبيرا في عدد السكان. على الألواح أذكر متطلبات هذا التزايد.</p> <p><b>النشاط الثاني :</b></p> <p><b>السند 01:</b> يعلق المعلم صور لأنواع التلوث</p> <div style="display: flex; justify-content: space-around;">    </div> <p><b>تلوث التربة</b> <b>تلوث الماء</b> <b>تلوث الهواء</b></p> <p>أصبح مشكل التلوث من أخطر المشكلات التي تواجهها المدن والتي تؤثر على صحة الإنسان والنبات والحيوان والتي من أسبابها: إتلاف قنوات الصرف الصحي ، رمي النفايات ، كثرة دخان السيارات والمصانع دعوة المتعلمين لقراءة السند وملاحظة الصور ومحاورتهم من أجل استنتاج : تعريف التلوث وذكر أنواعه وأسبابه.</p> <p><b>السند 02:</b></p> <p>يؤدي تضخم المدن إلى ظهور عدة مشاكل ، منها المشاكل المالية وازدحام حركة المرور ، أزمات السكن وكذا ظهور السكن العشوائي والبيوت القصديرية وتوسع البناء في المدن أو ما يسمى بالزحف العمراني ، وهجرة الصناعات من قلب المدينة إلى هوامشها وعدم توفر الخدمات الاجتماعية والعمومية بشكل دائم ونقص في الموارد المائية والزراعية.</p> <p>دعوة المتعلمين لقراءة السند ومحاورتهم من أجل استخراج : مشاكل أخرى تعاني منها المدن الجزائرية مع ذكر سبب كل مشكل .</p> <p><b>الأثر الكتابي :</b></p> <p>أهم المشكلات التي تعاني منها المدن :</p> <ul style="list-style-type: none"> <li>■ التلوث: بسبب عدد السكان ، كثرة وسائل النقل ، كثرة المصانع ورمي النفايات.</li> <li>■ الزحف العمراني: تحويل الأراضي الزراعية الى بنايات أو ما يعرف بغزو الإسمنت.</li> <li>■ انتشار البيوت القصديرية والنزوح الريفي .</li> </ul> <p><b>النشاط الثالث :</b></p> <p>ماهي سلبيات غزو الإسمنت للأراضي الزراعية في فقرة لا تتعدى 4 أسطر.</p>
---	---

مخطط حصّة تعليمية للسنة الخامسة ابتدائي - الجغرافيا

المقطع الثالث: السكان والبيئة **الاسبوع: 26 الموضوع: حلول مشكلات التلوث والنفايات المنزلية الحصّة: 03**

**الهدف التعليمي:** يعطي حلولاً واقتراحات للحد من مشكلات التلوث والنفايات المنزلية.  
**الوسائل التعليمية:** خرائط / مجسم الكرة الأرضية / كتاب / سبورة

الممارسات التعليمية التعليمية

**النشاط الأول :**

يعتبر التلوث ظاهرة خطيرة على كوكبنا .  
على الألواح اذكر بعض أسباب التلوث ،

**النشاط الثاني :**

**السند1:** بسلوكات بسيطة منك يصبح محيطك نظيفاً و سليماً : اغرس الأشجار في محيطك ، ولا تحرق الغابة ، شارك في إقامة الحدائق العامة ، ساهم في تنظيف محيط منزلك ومدرستك ، أغلق سلة القمامة ولا ترمي الأوساخ في أي مكان .

دعوة المتعلمين لقراءة السند ومحاورتهم من أجل استنتاج :  
الحلول للقضاء على التلوث والنفايات المنزلية.

**السند2 :**



دعوة المتعلمين لملاحظة الصور ومحاورتهم من أجل استخراج حلول أخرى للحد من ظاهرة التلوث كإعادة معالجة النفايات، استخدام الطاقة الشمسية و تصفية المياه.

**الأثر الكتابي :**

- من أهم حلول مشكلات التلوث والنفايات المنزلية
- رمي الأوساخ في القمامات المخصصة لها
- تدوير ومعالجة الفضلات : البلاستيك ، الورق ، الحديد
- استعمال الأسمدة الطبيعية بدلاً من الأسمدة الكيماوية
- المساهمة في المساحات الخضراء : غرس الأشجار، الحدائق

**النشاط الثالث :**

-لماذا يجب حماية الغابات من التلوث الهوائي؟  
-اقترح حلول أخرى للحد من تلوث الهواء .

توجهات

استرجاع  
المكتسبات السابقة  
وتسجيل  
التصورات يساعد  
المتعلم على بناء  
معارف جديدة.

**المشكل التعليمي**  
الكثير من المتعلمين  
يجهل خطر  
النفايات المنزلية  
على صحته وصحة  
غيره وكيف يجب  
ان يتفادى هذه  
الظاهرة الخطيرة .  
اكتساب بعض  
المفاهيم الجغرافيا  
الجديدة  
يقرأ ويدون  
الخلاصة على  
الكراس .  
استعمال التفويج  
أو إحدى  
استراتيجيات  
التعلم النشط  
ينجز  
التمرين ويصحح  
جماعياً

مخطط حصّة تعليمية للسنة الخامسة ابتدائي - الجغرافيا

المقطع الثالث : السكان والبيئة		الموضوع : حماية الغابات والأراضي الفلاحية		الأسبوع : 27		الحصّة : 04	
الهدف التعليمي : كيفية حماية الغابات والأراضي الفلاحية من المخاطر.		الوسائل التعليمية : خرائط /مجسم الكرة الأرضية		كتاب /سبورة			
توجهات		الممارسات التعليمية التعليمية					
استرجاع		<p><b>النشاط الأول :</b></p> <p>تلعب الغابات دورا هاما في محاربة ظاهرة التلوث.</p> <p>على الألواح أذكر بعض فوائد الأشجار.</p>					
المكتسبات السابقة							
وتسجيل		<p><b>النشاط الثاني :</b></p>					
التصورات يساعد							
المتعلم على بناء		<p><b>السند 01 :</b></p> <p>الغابات هي نظام بيئي متكامل، مؤلف من الأشجار، لها الكثير من الخصائص والمميزات التي تجعلها مرتبطة بحياة الإنسان والكائنات الحية الأخرى؛ لذا توجب على الإنسان المحافظة والاهتمام بها، لأن أي ضرر أو تدهور يحدث لها يؤثر على حياة الإنسان بالشكل السلبي. و يكون ذلك بعدم : قطع الأشجار ، الرعي الجائر ، الحرائق ، عدم ترك المخلفات في الغابة، خاصة المواد القابلة للاشتعال.</p> <p>دعوة المتعلمين لقراءة السند وملاحظة الشكل ومحاورتهم لاستنتاج: فوائد الغابات وكيفية حمايتها.</p>					
معارف جديدة.							
<b>المشكل التعليمي</b>		<p><b>السند 2 :</b></p> <p>يُقصد بالأراضي الفلاحية كلُّ الأراضي التي بها طاقات طبيعية ومناخية، والتي وقع تخصيصها لإنتاج فلاحيّ وغبائيّ، أو التي يمكن أن تكون أرضيةً لذلك الإنتاج، إلا أن هناك من يستغلها ويستعملها لل عمران، سواء كان سكنياً أو صناعياً أو سياحياً.</p> <p>دعوة المتعلمين لقراءة السند وملاحظة الشكل 2 ومحاورتهم من أجل استخلاص : أهمية الأراضي الفلاحية وأهم المخاطر التي تواجهها من الإهمال والزحف العمراني.</p>					
الكثير من المتعلمين							
لا يعرف الدور التي		<p><b>الأثر الكتابي :</b></p> <p>لحماية الغابات والأراضي الفلاحية يجب :</p> <ul style="list-style-type: none"> <li>العمل على التشجير، الحماية من الحرائق ، عدم قطع الأشجار ، وعدم رمي النفايات .</li> <li>عدم البناء في الأراضي الزراعية واستغلال الأماكن الحبلية ، استصلاح الأراضي الزراعية .</li> </ul>					
تلعبه الغابات في							
الوقاية ومن ظاهرة		<p><b>النشاط الثالث :</b></p> <p>ماهي الفائدة من حماية الغابات والأراضي الفلاحية للإنسان وللبيئة؟ (في فقرة لا تتعدى 4 أسطر)</p>					
التلوث .							
اكتساب بعض		<p><b>التمرين ويصحح</b></p> <p>جماعيا</p>					
المفاهيم الجغرافيا							
الجديدة		<p><b>التمرين ويصحح</b></p> <p>جماعيا</p>					
يقراً							
ويدون الخلاصة		<p><b>التمرين ويصحح</b></p> <p>جماعيا</p>					
على الكراس							
استعمال التفويج		<p><b>التمرين ويصحح</b></p> <p>جماعيا</p>					
أو إحدى							
استراتيجيات		<p><b>التمرين ويصحح</b></p> <p>جماعيا</p>					
التعلم النشاط							
ينجز		<p><b>التمرين ويصحح</b></p> <p>جماعيا</p>					
التمرين ويصحح							
جماعيا		<p><b>التمرين ويصحح</b></p> <p>جماعيا</p>					

مخطط حصّة تعليمية للسنة الخامسة ابتدائي - الجغرافيا

المقطع الثالث : السكان والبيئة		الأسبوع : 28	الموضوع : إدماج كلي	الحصّة : 5
الهدف التعليمي : يدمج معارفه ومكتسباته السابقة		الوسائل التعليمية خرائط /مجسم الكرة الأرضية /كتاب /سبورة		
توجهات	الممارسات التعليمية التعليمية			
استرجاع المكتسبات السابقة وتسجيل التصورات يساعد المتعلم على بناء معارف جديدة .	<p><b>النشاط الأول :</b></p> <p>... ولقد تسببت الملوثات المتنوعة كالغازات التي تنفثها بعض المركبات الصناعية (... مصانع الاسمنت ، والأسمدة ، والأدوية ...) في إصابة العديد من الأطفال بداء الربو وغيره من إصابات الجهاز التنفسي ...؛ بالإضافة إلى قتل الأشجار المثمرة وإتلافها . بعد أن قتلت التربة وأصبحت الحقول أرضا جديبا لا تنتج...</p> <p>اقرأ الوثيقة وتمعن في محتواها :</p> <p>ضع عنوانا للنص .</p> <p>استخرج منه الكلمات والعبارات التي تدل على أثر التلوث على الإنسان وعلى البيئة .</p> <p>ماذا تستخلص ؟</p> <p><b>النشاط الثاني :</b></p> <p>إليك مجموعة من العبارات تستعين بها في كتابة فقرة من 5 أسطر تعدد فيها أساليب حماية البيئة من أخطار التلوث:</p> <ul style="list-style-type: none"> <li>● استعمال الطاقة الشمسية .</li> <li>● غرس الأشجار .</li> <li>● احترام مواقيت وأماكن رمي النفايات .</li> <li>● المساهمة في نشر ثقافة السلامة البيئية .</li> </ul> <p><b>النشاط الثالث :</b></p> <p>- ما هو الدور التي تلعبه الغابات في الحفاظ على البيئة؟</p> <p>- كيف نستطيع بناء المصانع والمنازل دون أن نستعمل الأراضي الفلاحية؟</p> <p>- ما هو واجبك نحو حماية الغابات والأراضي الفلاحية ؟</p>			
دمج معارفه السابقة في حل وضعيات مختلفة				
تسجيل تصورات المتعلمين والتي تتم عن طريقها عملية البناء				
الاستخدام الأمثل لاكتساب بعض المفاهيم الجغرافيا الجديدة .				
استعمال التفويج أو إحدى استراتيجيات التعلم النشط				
ينجز التمارين ويصحح جماعيا				