

السنة الدراسية : 2019/2018  
القسم : الخامس ابتدائي

ابتدائية : فرهي رشيد  
المقاطعة ع 29 بالأخضرية

اختبار الفصل الأول في مادة التاريخ رقم 1

السؤال الأول : ( 2 ن )

أربط كل مرحلة تاريخية بتاريخها :

- مرحلة التاريخ القديم
- مرحلة التاريخ الوسيط
- مرحلة التاريخ الحديث
- مرحلة التاريخ المعاصر
- 1453 م
- 476 م
- 1789 م
- 3200 ق . م

السؤال الثاني :



ضع أمام كل معلم تاريخي مكان تواجدده :

- مقام الشهيد : .....
- جامع كتشاوة : .....
- أهرامات الجيزة : .....
- صور الصين العظيم : .....

السؤال الثالث :

ضع فوق كل صورة اسم الشخصية المناسبة لها من بين الشخصيات التالية :

خير الدين بربروس ، الرايس حميدو ، الأمير عبد القادر ، لويس الرابع عشر ، عقبة بن نافع



السؤال الرابع :

أكمل :

احتلت الجزائر ابتداءً من أواخر القرن السادس عشر مكانة دولية مرموقة بفضل :

- /1 .....
- /2 .....
- /3 .....
- /4 .....

بالتوفيق

## تصحيح اختبار الفصل الأول في مادة التاريخ رقم 1

جواب السؤال الأول : ( 2 ن )  
أربط كل مرحلة تاريخية بتاريخها :

- |              |                         |
|--------------|-------------------------|
| ● 476 م      | ● مرحلة التاريخ القديم  |
| ● 1453 م     | ● مرحلة التاريخ الوسيط  |
| ● 1789 م     | ● مرحلة التاريخ الحديث  |
| ● 3200 ق . م | ● مرحلة التاريخ المعاصر |

جواب السؤال الثاني :

أضع أمام كل معلم تاريخي مكان تواجدده :

- مقام الشهيد : الجزائر
- جامع كتشاوة : الجزائر
- أهرامات الجيزة : مصر العربية
- صور الصين العظيم : الصين

جواب السؤال الثالث :

ضع تحت كل صورة اسم الشخصية المناسبة لها من بين الشخصيات التالية :

لويس الرابع عشر      الرايس حميدو      الأمير عبد القادر      خير الدين بربروس



جواب السؤال الرابع :

أكمل :

احتلت الجزائر ابتداءً من أواخر القرن السادس عشر مكانة دولية مرموقة بفضل :

- 1/ موقعها الهام .
- 2/ قوة أسطولها .
- 3/ شجاعة بحارتها .
- 4/ كثرة ثرواتها .

السنة الدراسية : 2019/2018

القسم : الخامس ابتدائي

ابتدائية : فرهي رشيد

المقاطعة ع 29 بالأخضرية

اختبار الفصل الأول في مادة التاريخ رقم 2

السؤال الأول : ( 3 ن )

أكتب تواريخ الأحداث التالية :

- \* سقوط روما سنة : .....
- \* قيام الثورة الفرنسية سنة : .....
- \* ظهور الكتابة : .....
- \* فتح القسطنطينية : .....
- \* سقوط غرناطة : .....
- \* دخول الجزائر تحت الحكم العثماني : .....

السؤال الثاني : ( 2 ن )

كانت الجزائر قبل الاحتلال الفرنسي تصدر الكثير من المنتجات إلى الخارج .

\* ما هي صادرات الجزائر قبل الاحتلال إلى الخارج ؟

..... ، ..... ، .....

السؤال الثالث : ( 3 ن )

أربط الأحداث التالية بتاريخها :

- \* فتح قنصلية فرنسية بالجزائر
  - \* نزول القوات الفرنسية بسيدي فرج
  - \* استلام ماسينيما الحكم
  - \* اعتلاء لويس الرابع عشر العرش
  - \* انعقاد مؤتمر اكس لاشبيل
  - \* تحطم الأسطول الجزائري
- 1830 م
  - 1643 م
  - 1581 م
  - 202 ق.م
  - 1827 م
  - 1818 م

السؤال الرابع : ( 2 ن )

أنسب كل صورة للمرحلة التاريخية التي تنتمي إليها :



.....  
.....



.....  
.....



.....  
.....



.....  
.....

بالتوفيق

## تصحيح اختبار الفصل الأول في مادة التاريخ رقم 2

جواب السؤال الأول : ( 3 ن )

أكتب تواريخ الأحداث التالية :

- \* سقوط روما سنة : 476 م
- \* قيام الثورة الفرنسية سنة : 1789 م
- \* ظهور الكتابة : 3200 ق.م
- \* فتح القسطنطينية : 1453 م
- \* سقوط غرناطة : 1492 م
- \* دخول الجزائر تحت الحكم العثماني : 1518 م

السؤال الثاني : ( 2 ن )

كانت الجزائر قبل الاحتلال الفرنسي تصدر الكثير من المنتجات إلى الخارج .

\* ما هي صادرات الجزائر قبل الاحتلال إلى الخارج ؟

- الحبوب ( القمح خاصة ) ،
- المرجان ،
- الصوف ،
- الشمع

جواب السؤال الثالث : ( 3 ن )

أربط الأحداث التالية بتاريخها :

- \* فتح قنصلية فرنسية بالجزائر
- \* نزول القوات الفرنسية بسيدي فرج
- \* استلام ماسينيما الحكم
- \* اعتلاء لويس الرابع عشر العرش
- \* انعقاد مؤتمر اكس لاشبيل
- \* تحطم الأسطول الجزائري
- 1830 م
- 1643 م
- 1581 م
- 202 ق.م
- 1827 م
- 1818 م

جواب السؤال الرابع : ( 2 ن )

أنسب كل صورة للمرحلة التاريخية التي تنتمي إليها :




نقوش التاسيلي

العصر القديم




مبايعة الأمير عبد القادر

العصر المعاصر



فتح القسطنطينية

العصر الحديث



عقبة بن نافع

العصر الوسيط

السنة الدراسية : 2018/2019  
القسم : الخامس ابتدائي

ابتدائية : فرهي رشيد  
المقاطعة ع 29 بالأخضرية

اختبار الفصل الأول في مادة التاريخ رقم 3

السؤال الأول : ( 1,5 ن )

أكمل الفراغ :

أرسل لويس الرابع عشر حملات عسكرية عديدة لتدمير الجزائر منها :

- حملة سنة : .....

- حملة سنة : .....

- حملة سنة : .....

السؤال الثاني : ( 1,5 ن )

مرت العلاقات الفرنسية الجزائرية بعدة مراحل .

أكتب أمام كل مرحلة طبيعة العلاقة الفرنسية الجزائرية عبارة : " علاقة سيئة " أو " علاقة حسنة "

الفترة الممتدة بين : 1535 م إلى 1643 م : .....

- الفترة الممتدة بين : 1643 م إلى 1789 م : .....

- الفترة الممتدة بين : 1789 م إلى 1827 م : .....

السؤال الثالث : ( 4 ن )

أجب عن الأسئلة التالية :

1/ كيف تمكنت القوات الفرنسية من النزول على شاطئ سيدي فرج ؟

( أ ) ..... ، ( ب ) .....

2/ متى دخلت القوات الفرنسية مدينة الجزائر ؟

السؤال الرابع : ( 3 ن )

عرف التاريخ الوسيط و التاريخ القديم عدة محطات .

فما هي أهم هذه المحطات ؟

التاريخ الوسيط	التاريخ القديم
.....	.....
.....	.....
.....	.....

بالتوفيق

تصحيح اختبار الفصل الأول في مادة التاريخ رقم 3

جواب السؤال الأول : ( 1,5 ن )

أكمل الفراغ :

أرسل لويس الرابع عشر حملات عسكرية عديدة لتدمير الجزائر منها :

- حملة سنة : 1664 م

- حملة سنة : 1683 م

- حملة سنة : 1688 م

جواب السؤال الثاني : ( 1,5 ن )

أكتب أمام كل مرحلة طبيعة العلاقة الفرنسية الجزائرية عبارة : " علاقة سيئة " أو " علاقة حسنة "

الفترة الممتدة بين : 1535 م إلى 1643 م : علاقة حسنة .

- الفترة الممتدة بين : 1643 م إلى 1789 م : علاقة سيئة .

- الفترة الممتدة بين : 1789 م إلى 1827 م : علاقة حسنة .

جواب السؤال الثالث : ( 4 ن )

أجب عن الأسئلة التالية :

1/ تمكنت القوات الفرنسية من النزول على شاطئ سيدي فرج بسبب :

( أ ) سوء الاستعداد ، ( ب ) اختلاف العدة و العدد بين الطرفين

2/ دخلت القوات الفرنسية مدينة الجزائر في : 05 جويلية 1830 م .

جواب السؤال الرابع : ( 3 ن )

أهم المحطات التي مر بها التاريخ الوسيط و القديم هي :

التاريخ القديم	التاريخ الوسيط
- اكتشاف الكتابة .	- سقوط روما .
- توحيد مملكتنا نوميديا على يد ماسينيسا .	- تطور حضاري للعالم الإسلامي .
- مقاومة الاستعمار الروماني .	- أوروبا تعيش في عصر الظلمات و سيطرة الكنيسة .

السنة الدراسية : 2018/2019  
القسم : الخامس ابتدائي

ابتدائية : فرهي رشيد  
المقاطعة ع 29 بالأخضرية

اختبار الفصل الأول في مادة التاريخ رقم 4

السؤال الأول : ( 2,5 ن )

إليك مجموعة من الأحداث التي ميزت كل عصر صنفها في الجدول :  
مولد الرسول صلى الله عليه و سلم ، قيام الثورة الصناعية في أوروبا ، ظهور الحركات الاستعمارية ، ظهور المقاومة و الحركات التحررية ، ركود حضاري للعالم الإسلامي ، ظهور الكتابة ، مقاومة الاستعمار الروماني ، سقوط روما ، ركود حضاري في أوروبا ، حروب و انقسامات في العالم الإسلامي .

العصر القديم	العصر الوسيط	العصر الحديث	العصر المعاصر
.....	.....	.....	.....
.....	.....	.....	.....
.....	.....	.....	.....

السؤال الثاني : ( 3 ن )

أربط بسهم كل شخصية بالعصر الذي تنتمي إليه :

- العصر القديم
- العصر الوسيط
- العصر الحديث
- العصر المعاصر

- العقيد السي الحواس
- الخليفة عمر بن الخطاب
- بابا عروج
- سي فاقس
- العربي بن مهدي
- مراد ريس

السؤال الثالث : ( 2 ن )

أكمل ما يلي :

- \* ..... العلاقات الفرنسية الجزائرية في عهد لويس الرابع عشر نتيجة ..... تجاه الجزائر
- \* بعد قيام الثورة الفرنسية سنة 1789 م ..... العلاقات بين البلدين بسبب ..... الذي حدث في مواقف السياسة الفرنسية .

السؤال الرابع : ( 3 ن )

كانت كثير من الدول تدفع الأتاوات للجزائر مقابل كسب ودها و ضمان مرور سفنها بسلام في حوض البحر الأبيض المتوسط .

\* أذكر الدول التي كانت تدفع أتاوات ( ضرائب ) للجزائر :

بالتوفيق

## تصحيح اختبار الفصل الأول في مادة التاريخ رقم 4

جواب السؤال الأول : ( 2,5 ن )

إليك مجموعة من الأحداث التي تميز كل عصر صنفها في الجدول :

العصر القديم	العصر الوسيط	العصر الحديث	العصر المعاصر
- ظهور الكتابة - مقاومة الاستعمار الروماني . - سقوط روما .	- مولد الرسول صلى الله عليه و سلم . - ركود حضاري في أوروبا .	- ركود حضاري للعالم الإسلامي . - حروب و انقسامات في العالم الإسلامي .	- ظهور المقاومة و الحركات التحررية - قيام الثورة الصناعية في أوروبا .

جواب السؤال الثاني : ( 3 ن )

أربط بسهم كل شخصية بالعصر الذي تنتمي إليه :

- |                         |   |               |
|-------------------------|---|---------------|
| * العقيد السي الحواس    | • | العصر القديم  |
| * الخليفة عمر بن الخطاب | • | العصر الوسيط  |
| * بابا عروج             | • | العصر الحديث  |
| * سي فاقس               | • | العصر المعاصر |
| * العربي بن مهدي        | • |               |
| * مراد ريس              | • |               |

جواب السؤال الثالث : ( 2 ن )

أكمل ما يلي :

- \* ساءت العلاقات الفرنسية الجزائرية في عهد لويس الرابع عشر نتيجة سياسته العدوانية تجاه الجزائر
- \* بعد قيام الثورة الفرنسية سنة 1789 م تحسنت العلاقات بين البلدين بسبب التغيير الذي حدث في مواقف السياسة الفرنسية .

جواب السؤال الرابع : ( 3 ن )

\* الدول التي كانت تدفع أتوات ( ضرائب ) للجزائر هي :

- انجلترا ، السويد ، البندقية ، الدنمارك ، هولندا ، مملكة نابولي ، سردينيا ، الولايات المتحدة الأمريكية .

السنة الدراسية : 2018/2019  
القسم : الخامس ابتدائي

ابتدائية : فرهي رشيد  
المقاطعة ع 29 بالأخضرية

اختبار الفصل الأول في مادة التاريخ رقم 5

السؤال الأول : ( 3 ن )

أكمل الفراغ بالكلمة المناسبة :

المال - الفرنسية - مؤن - الجزائر - معدّات - فرنسا

خلال الثورة ..... 1789 م طلبت ..... مساعدة من ..... فزودتها بكل ما تحتاجه من .....

السؤال الثاني : ( 3 ن )

ضع أمام كل حدث التاريخ المناسب :

- قيام الثورة الفرنسية سنة : .....

- فتح قنصلية فرنسية بالجزائر سنة : .....

- تحطم الأسطول الجزائري في معركة نفارين سنة : .....

- حادثة المروحة سنة في : .....

- معركة سطواولي في : .....

- اعتلاء لويس الرابع عشر العرش : .....

السؤال الثالث : ( 2,5 ن )

إليك مجموعة من الشخصيات التاريخية ضعها تحت الصورة المناسبة لها :

دي بورمون - الداوي حسين - شارل العاشر - نابليون بونابرت - الأمير عبد القادر



.....  
.....

السؤال الرابع : ( 1,5 ن )

أربط بسهم بين الدول و عدد المعاهدات المبرمة مع الجزائر :

03 •

58 •

27 •

فرنسا •

انجلترا •

الولايات المتحدة الأمريكية •

بالتوفيق

## تصحيح اختبار الفصل الأول في مادة التاريخ رقم 5

جواب السؤال الأول : ( 3 ن )

أكمل الفراغ بالكلمة المناسبة :

خلال الثورة الفرنسية 1789 م طلبت فرنسا مساعدة من الجزائر فزودتها بكل ما تحتاجه من معدات و مؤن و مال .

جواب السؤال الثاني : ( 3 ن )

أضع أمام كل حدث التاريخ المناسب :

- قيام الثورة الفرنسية سنة : 1789 م
- فتح قنصلية فرنسية بالجزائر سنة : 1581 م
- تحطم الأسطول الجزائري في معركة نفارين سنة : 1827 م
- حادثة المروحة سنة في : 29 أبريل 1827 م
- معركة سطوال في : 19 جوان 1830 م
- اعتلاء لويس الرابع عشر العرش : 1643 م

جواب السؤال الثالث : ( 2,5 ن )

أضع تحت كل الصورة اسم الشخصية المناسبة لها :



نابليون بونابرت



الداي حسين



شارل العاشر



دي بورمون



الأمير عبد القادر

جواب السؤال الرابع : ( 1,5 ن )

أربط بسهم بين الدول و عدد المعاهدات المبرمة مع الجزائر :

- |    |   |                            |
|----|---|----------------------------|
| 03 | ← | فرنسا                      |
| 58 | ← | انجترا                     |
| 27 | ← | الولايات المتحدة الأمريكية |

السنة الدراسية : 2019/2018  
القسم : الخامس ابتدائي

ابتدائية : فرهي رشيد  
المقاطعة ع 29 بالأخضرية

اختبار الفصل الأول في مادة التاريخ رقم 6

السؤال الأول : ( 3 ن )

أجب عن الأسئلة التالية :

1/ ما الحيلة التي لجأ إليها شارل العاشر للتخلص من المشاكل الداخلية التي كان يعاني منها ؟

.....

2/ في أي معركة تحطم الأسطول الجزائري ؟ و أين ؟

.....

3/ كم من دولة عقدت تحالف دفاعي بحري ضد الجزائر ؟

.....

السؤال الثاني : ( 3 ن )

أذكر النتائج :

- قيام الثورة الفرنسية أدت إلى : .....

- قيام الثورة الصناعية أدت إلى : .....

- تحطم الأسطول الجزائري أدى إلى : .....

- قوة و شجاعة البحارة الجزائريين أدى بالجزائر إلى : .....

- وجود ثروة خشبية هامة بالجزائر أدى إلى : .....

- القوة الاقتصادية و البحرية التي كانت تتمتع بها الجزائر أدى إلى : .....

السؤال الثالث : ( 1,5 ن )

عرف الشخصيات التالية :

لويس الرابع عشر هو : .....

\* الرايس حميدو هو : .....

\* مراد رايس هو : .....

السؤال الرابع : ( 2,5 ن )

هناك أسباب أغرت الفرنسيين باحتلال الجزائر فما هي هذه الأسباب ؟

\*

.....

\*

.....

\*

.....

\*

.....

بالتوفيق

## تصحيح اختبار الفصل الأول في مادة التاريخ رقم 6

جواب السؤال الأول : ( 3 ن )

أجيب عن الأسئلة التالية :

1/ الحيلة التي لجأ إليها شارل العاشر للتخلص من المشاكل الداخلية التي كان يعاني منها هي : احتلال الجزائر .

2/ تحطم الأسطول الجزائري في معركة نفارين باليونان .

3/ عدد الدول التي عقدت تحالف دفاعي بحري ضد الجزائر هو 20 دولة .

جواب السؤال الثاني : ( 3 ن )

أذكر النتائج :

- قيام الثورة الفرنسية أدت إلى : الإطاحة بالنظام الملكي .
- قيام الثورة الصناعية أدت إلى : تطوير فرنسا للأسلحة و الذخائر و السفن .
- تحطم الأسطول الجزائري أدى إلى : تسهيل الغزو الفرنسي للجزائر .
- قوة و شجاعة البحارة الجزائريين أدى بالجزائر إلى : احتلال مكانة دولية مرموقة .
- وجود ثروة خشبية هامة بالجزائر أدى إلى : بناء أكبر أسطول بحري دفاعي .
- القوة الاقتصادية و البحرية التي كانت تتمتع بها الجزائر أدى إلى : تقرب الفرنسيين من الجزائريين و محاولة كسب ودهم .

جواب السؤال الثالث : ( 1,5 ن )

عرف الشخصيات التالية :

لويس الرابع عشر هو : ملك فرنسا .

\* الرايس حميدو هو : قائد بحري جزائري .

\* مراد رايس هو : قائد بحري جزائري .

جواب السؤال الرابع : ( 2,5 ن )

هناك أسباب أغرت الفرنسيين باحتلال الجزائر فما هي هذه الأسباب ؟

- \* خيرات البلاد الكثيرة و المتنوعة .
- \* موقع الجزائر الهام .
- \* رغبة فرنسا في نشر المسيحية .
- \* رغبة حكومة شارل العاشر في التخلص من المشاكل الداخلية و قد أتاح تحطم الأسطول الجزائري الفرصة للفرنسيين لتحقيق أهدافهم .