

الجمهورية الجزائرية الديمقراطية الشعبية
وزارة التعليم العالي و البحث العلمي
المدرسة العليا للأساتذة - ورقلة



بدراس الواحات

REMI 2020

الأئيس
شهادة التعليم المتوسط
في الرياضيات

من إحداد:

- ❖ أماني مشري
- ❖ ندى زيدي
- ❖ رقية غربية
- ❖ نور الهدى العايب
- ❖ محمد الأمين قسومي
- ❖ هلال عرجاني
- ❖ منال مختاري
- ❖ هند حرز الله

تحت إشراف الدكتورة : سليمة عزوز

بِسْمِ اللَّهِ الرَّحْمَنِ الرَّحِيمِ

شكر و تقدير

ومن حق النعمة الذكر، و أقل جزاء للمعروف الشكر..
فبعد شكر المولى عز و جل ،المتفضل بجليل النعم ، وعظيم الجزاء

و إيماننا منا بأنه من لا يشكر الناس لا يشكر الله نضع بين يدي أستاذتنا الدكتورة المحترمة سليمة عزوز
أسمى عبارات الشكر و التقدير التي علمتنا كيف نجعل أفكارنا دافعا، و أحلامنا واقعا، فأبحرنا معها في
مشروع بدا فكرة و انتهى كتابا ، فلها في ذلك كل الشكر و الامتنان.

كما نشكر السيد مدير المدرسة العليا للأساتذة بورقلة الدكتور فوزي بن براهيم الذي وضع ثقته فينا

و تحمس لفكرة انجاز هذا الكتاب بمجرد اقتراحها عليه.

و في الأخير نشكر كل من ساهم في انجاز هذا الكتاب.

مقدمة

تجاوبًا مع تطوير البرامج التعليمية و في إطار إكساب المتعلم للكفاءات المنهجية و الرياضية و تماشياً مع التوجيهات التربوية و التعليمية الواردة في منهاج الرياضيات ، نضع بين أيدي المترشحين لشهادة التعليم المتوسط هذا الكتاب المتواضع، والذي قد هُيكل بشكل بسيط يجعل استعماله سلسًا و مؤنسًا في ظل هذه الظروف التي نمر بها - الحجر الصحي - حيث تناولنا مجموعة من اختبارات شهادة التعليم المتوسط خلال السنوات الأخيرة (من سنة 2011 إلى سنة 2019) بحيث تم تجميع التمارين المتشابهة مع بعضها البعض في خمسة أبواب حسب الشكل العام لاختبار شهادة التعليم المتوسط ليكون أكثر بساطة و نفعًا دون إثقال صفحاته بملخصات الدوس لوفرتها و تنوعها في جهات عدة.

أردنا بهذا التنوع في الطرح ترسيخ مكتسباتكم المعرفية و تعزيز قدراتكم و مهاراتكم، و نأمل أن تجدوا في هذا الكتاب المتواضع ما ينمي عندكم الإرادة و العزم على بلوغ هدفكم و أن تكمل جهودكم بالتوفيق و النجاح.

أكد كل عمل بشري من طبيعته أن يكون فيه نقص فزجوا من رجالات الميدان من السادة مفتشي التربية و أساتذة الرياضيات أن لا ييخلوا علينا بأرائهم و توجيهاتهم عبر البريد الإلكتروني :

salima.azouz.mathematics@gmail.com

و ختامًا نذكر بأعضاء فريق العمل المشاركين في إعداد هذا الكتاب و هم ثلة من أساتذة المستقبل تخصص رياضيات دفعة

2016 الذين يزاولون تكوينهم بالمدرسة العليا للأساتذة بورقلة :

أستاذ التعليم الثانوي	❖ أماني مشري
أستاذ التعليم المتوسط	❖ رقية غربية
أستاذ التعليم الثانوي	❖ محمد الأمين قسومي
أستاذ التعليم المتوسط	❖ منال مختاري
أستاذ التعليم الثانوي	❖ ندى زيبيدي
أستاذ التعليم الثانوي	❖ نور الهدى العايب
أستاذ التعليم الثانوي	❖ هلال عرجاني
أستاذ التعليم المتوسط	❖ هند حرز الله

و قد تمت مراجعة هذا الكتاب من طرف مجموعة الأعضاء المتميزين أماني مشري، ندى زيبيدي، نور الهدى العايب و هلال

عرجاني تحت إشراف مباشر للأساتذة سلمية عزوز.

الباب الأول

ليكن العددان الحقيقيان A و B حيث: $A = \frac{9}{7} \times \left(\frac{10}{3} - 1 \right)$ و $B = 5\sqrt{3} + 3\sqrt{12} - \sqrt{48}$.

(1) بين أن A عدد طبيعي.

(2) اكتب العدد B على شكل $a\sqrt{3}$ حيث a عدد طبيعي.

(3) اكتب النسبة $\frac{A}{B}$ على شكل نسبة مقامها عدد ناطق.

BEM 2019

حل التمرين 1.1

(1) نبين أن A عدد طبيعي. لدينا:

$$A = \frac{9}{7} \left(\frac{10}{3} - 1 \right) = \frac{9}{7} \left(\frac{10-3}{3} \right) \\ = \frac{9}{7} \times \left(\frac{7}{3} \right) = \frac{3 \times \cancel{3} \times \cancel{7}}{\cancel{7} \times \cancel{3}} = 3$$

تحليل $9 = 3 \times 3$ ثم نقوم بالاختزال

و منه $A = 3$ و هو عدد طبيعي.

(2) كتابة العدد B على شكل $a\sqrt{3}$ حيث a عدد طبيعي. لدينا:

$$B = 5\sqrt{3} + 3\sqrt{12} - \sqrt{48} \\ = 5\sqrt{3} + 3\sqrt{4 \times 3} - \sqrt{16 \times 3} \\ = 5\sqrt{3} + 3\sqrt{2^2} \times \sqrt{3} - \sqrt{4^2} \times \sqrt{3}$$

$$\sqrt{a \times b} = \sqrt{a} \times \sqrt{b}$$

$$\sqrt{a^2} = a$$

و منه

$$B = 5\sqrt{3} + 3\sqrt{2^2} \times \sqrt{3} - \sqrt{4^2} \times \sqrt{3} \\ = 5\sqrt{3} + 3 \times 2 \times \sqrt{3} - 4 \times \sqrt{3} \\ = 5\sqrt{3} + 6 \times \sqrt{3} - 4 \times \sqrt{3} \\ = (5+6-4)\sqrt{3}$$

$$x\sqrt{b} + y\sqrt{b} = (x+y)\sqrt{b}$$

و عليه $B = 7\sqrt{3}$ و هو الشكل المطلوب حيث $a = 7$ عدد طبيعي.

(3) كتابة النسبة $\frac{A}{B}$ على شكل نسبة مقامها عدد ناطق. لدينا:

$$\frac{A}{B} = \frac{3}{7\sqrt{3}} \\ = \frac{3 \times \sqrt{3}}{7\sqrt{3} \times \sqrt{3}}$$

من السؤالين السابقين $A = 3$ ، $B = 7\sqrt{3}$

تنطبق المقام

و منه

$$\frac{A}{B} = \frac{3 \times \sqrt{3}}{7 \times 3}$$

$$= \frac{\cancel{3} \times \sqrt{3}}{7 \times \cancel{3}} = \frac{\sqrt{3}}{7}$$

الاختزال

و عليه $\frac{A}{B} = \frac{\sqrt{3}}{7}$ و هي نسبة مقامها عدد ناطق.

التمرين 2.1

A و B عدنان حقيقيان حيث: $A = 3\sqrt{8} \times \sqrt{2}$ و $B = 2\sqrt{27} - 2\sqrt{3} + \sqrt{12}$.

(1) بين أن A عدد طبيعي.

(2) اكتب العدد B على شكل $a\sqrt{3}$ حيث a عدد طبيعي.

(3) بين أن $\frac{A}{B} = \frac{2\sqrt{3}}{3}$.

BEM 2018

حل التمرين 2.1

(1) نبين أن A عدد طبيعي. لدينا:

$$A = 3\sqrt{8} \times \sqrt{2}$$

$$= 3\sqrt{8 \times 2}$$

$$= 3\sqrt{16}$$

$$\sqrt{a} \times \sqrt{b} = \sqrt{a \times b}$$

و منه

$$A = 3\sqrt{16}$$

$$= 3\sqrt{4^2}$$

$$= 3 \times 4 = 12$$

$$\sqrt{a^2} = a$$

و عليه $A = 12$ و هو عدد طبيعي.

(2) كتابة العدد B على شكل $a\sqrt{3}$ حيث a عدد طبيعي. لدينا:

$$B = 2\sqrt{27} - 2\sqrt{3} + \sqrt{12}$$

$$= 2\sqrt{9 \times 3} - 2\sqrt{3} + \sqrt{4 \times 3}$$

$$= 2\sqrt{3^2 \times 3} - 2\sqrt{3} + \sqrt{2^2 \times 3}$$

$$\sqrt{a \times b} = \sqrt{a} \times \sqrt{b}$$

و منه

$$B = 2\sqrt{3^2} \times \sqrt{3} - 2\sqrt{3} + \sqrt{2^2} \times \sqrt{3}$$

$$= 2 \times 3 \times \sqrt{3} - 2\sqrt{3} + 2 \times \sqrt{3}$$

$$= 6 \times \sqrt{3} - 2\sqrt{3} + 2 \times \sqrt{3}$$

$$= (6 - 2 + 2)\sqrt{3}$$

$$\sqrt{a^2} = a$$

$$x\sqrt{b} + y\sqrt{b} = (x + y)\sqrt{b}$$

و عليه $B = 6\sqrt{3}$ و هو الشكل المطلوب حيث $a = 6$ عدد طبيعي.

(3) نبين أن $\frac{A}{B} = \frac{2\sqrt{3}}{3}$ لدينا:

من السؤالين السابقين $A = 12$ ، $B = 6\sqrt{3}$

$$\frac{A}{B} = \frac{12}{6\sqrt{3}}$$

$$= \frac{12 \times \sqrt{3}}{6\sqrt{3} \times \sqrt{3}}$$

تنطيق المقام

و منه

$$\frac{A}{B} = \frac{12 \times \sqrt{3}}{6 \times 3}$$

$$= \frac{6 \times 2 \times \sqrt{3}}{6 \times 3} = \frac{2\sqrt{3}}{3}$$

نستخدم $12 = 6 \times 2$ ثم نقوم بالاختزال

و عليه $\frac{A}{B} = \frac{2\sqrt{3}}{3}$ و هو الشكل المطلوب.

التمرين 3.1

A و B عدنان حقيقيان حيث: $A = \sqrt{108} - \sqrt{12}$ و $B = \frac{3}{2\sqrt{3}}$.

(1) اكتب العدد A على الشكل $a\sqrt{3}$ حيث a عدد طبيعي.

(2) اكتب العدد B على شكل نسبة مقامها عدد ناطق.

(3) بين أن C هو عدد طبيعي حيث: $C = (A + 1)(8B - 1)$.

حل التمرين 3.1

(1) كتابة العدد A على الشكل $a\sqrt{3}$ حيث a عدد طبيعي. لدينا:

$$A = \sqrt{108} - \sqrt{12}$$

$$= \sqrt{36 \times 3} - \sqrt{4 \times 3}$$

$$= \sqrt{36} \times \sqrt{3} - \sqrt{4} \times \sqrt{3}$$

$$\sqrt{a \times b} = \sqrt{a} \times \sqrt{b}$$

$$\sqrt{a^2} = a$$

و منه

$$A = \sqrt{6^2} \times \sqrt{3} - \sqrt{2^2} \times \sqrt{3}$$

$$= 6 \times \sqrt{3} - 2 \times \sqrt{3}$$

$$= (6 - 2) \times \sqrt{3}$$

$$= 4\sqrt{3}$$

$$x\sqrt{b} + y\sqrt{b} = (x + y)\sqrt{b}$$

و عليه $A = 4\sqrt{3}$ و هو من الشكل $a\sqrt{3}$ حيث $a = 4$ عدد طبيعي.

(2) كتابة العدد B على شكل نسبة مقامها عدد ناطق. لدينا:

$$B = \frac{3}{2\sqrt{3}}$$

$$= \frac{3 \times \sqrt{3}}{2\sqrt{3} \times \sqrt{3}}$$

تنطيق المقام

و منه

$$B = \frac{3 \times \sqrt{3}}{2\sqrt{3} \times \sqrt{3}} = \frac{3 \times \sqrt{3}}{2 \times 3}$$

$$= \frac{\cancel{3} \times \sqrt{3}}{2 \times \cancel{3}} = \frac{\sqrt{3}}{2}$$

$$\sqrt{a} \times \sqrt{a} = a$$

الاختزال

و عليه $B = \frac{\sqrt{3}}{2}$ و هي نسبة مقامها عدد ناطق.

(3) نبين أن C هو عدد طبيعي حيث: $C = (A + 1)(8B - 1)$. لدينا:

$$C = (A + 1)(8B - 1)$$

$$= (4\sqrt{3} + 1) \left(8 \frac{\sqrt{3}}{2} - 1 \right)$$

$$= (4\sqrt{3} + 1)(4\sqrt{3} - 1)$$

$$A = 4\sqrt{3}, B = \frac{\sqrt{3}}{2}$$

من السؤالين السابقين

تبسيط ما داخل القوسين

و منه

$$C = (4\sqrt{3} + 1)(4\sqrt{3} - 1)$$

$$= (4\sqrt{3})^2 - (1)^2$$

$$= 16 \times 3 - 1 = 47$$

$$(a+b)(a-b) = a^2 - b^2$$

و عليه $C = 47$ و هو عدد طبيعي.

التمرين 4.1

(1) احسب القاسم المشترك الأكبر للعددين 1053 و 832.

(2) اكتب الكسر $\frac{1053}{832}$ على شكل كسر غير قابل للاختزال.

(3) اكتب العدد $A = \sqrt{1053} + 2\sqrt{832} - 8\sqrt{117}$ على الشكل $a\sqrt{13}$ حيث a عدد طبيعي يطلب تعيينه.

BEM 2016

حل التمرين 4.1

(1) حساب القاسم المشترك الأكبر للعددين 1053 و 832. لدينا:

$$1053 = 832 \times 1 + 221$$

$$832 = 221 \times 3 + 169$$

$$221 = 169 \times 1 + 52$$

$$169 = 52 \times 3 + 13$$

$$52 = 13 \times 4 + 0$$

استعمال خوارزمية إقليدس

تتوقف عند آخر باق معدوم

و عليه آخر باق غير معدوم هو 13 إذن : $\text{PGCD}(1053;832)=13$.

(2) كتابة الكسر $\frac{1053}{832}$ على شكل كسر غير قابل للاختزال. لدينا:

$$\frac{1053}{832} = \frac{1053 \div 13}{832 \div 13} = \frac{81}{64}$$

نستخدم $\text{PGCD}(1053;832)=13$

و عليه $\frac{1053}{832} = \frac{81}{64}$ و كسر غير قابل للاختزال.

(3) كتابة العدد $A = \sqrt{1053} + 2\sqrt{832} - 8\sqrt{117}$ على الشكل $a\sqrt{3}$ حيث a عدد طبيعي. لدينا:

$$\begin{aligned} A &= \sqrt{1053} + 2 \times \sqrt{832} - 8 \times \sqrt{117} \\ &= \sqrt{81 \times 13} + 2 \times \sqrt{64 \times 13} - 8 \times \sqrt{9 \times 13} \\ &= \sqrt{81} \times \sqrt{13} + 2 \times \sqrt{64} \times \sqrt{13} - 8 \times \sqrt{9} \times \sqrt{13} \end{aligned}$$

$$\sqrt{a \times b} = \sqrt{a} \times \sqrt{b}$$

$$\sqrt{a^2} = a$$

و منه

$$\begin{aligned} A &= \sqrt{9^2} \times \sqrt{13} + 2 \times \sqrt{8^2} \times \sqrt{13} - 8 \times \sqrt{3^2} \times \sqrt{13} \\ &= 9 \times \sqrt{13} + 2 \times 8 \times \sqrt{13} - 8 \times 3 \times \sqrt{13} \\ &= (9 + 16 - 24) \times \sqrt{13} = \sqrt{13} \end{aligned}$$

$$x \sqrt{b} + y \sqrt{b} = (x + y) \sqrt{b}$$

و عليه $A = \sqrt{13}$ و هو الشكل المطلوب حيث $a=1$ عدد طبيعي.

التمرين 5.1

(1) احسب القاسم المشترك الأكبر للعددين 696 و 406 مع كتابة مراحل الحساب.

(2) اكتب $\frac{696}{406}$ على شكل كسر غير قابل للاختزال

(3) احسب العدد P حيث $P = \frac{696}{406} - \frac{3}{7} \times \frac{5}{2}$

BEM 2015

حل التمرين 5.1

(1) حساب القاسم المشترك الأكبر للعددين 696 و 406. لدينا:

$$\begin{aligned} 696 &= 406 \times 1 + 290 \\ 406 &= 290 \times 1 + 116 \\ 290 &= 116 \times 2 + 58 \\ 116 &= 58 \times 2 + 0 \end{aligned}$$

استعمال خوارزمية إقليدس

و عليه آخر باق غير معدوم هو 58 إذن القاسم المشترك الأكبر هو $\text{PGCD}(696;406)=58$.

(2) كتابة الكسر $\frac{696}{406}$ على شكل كسر غير قابل للاختزال. لدينا:

نتوقف عند آخر باق معدوم

$$\frac{696}{406} = \frac{696 \div 58}{406 \div 58} = \frac{12}{7}$$

نستخدم $\text{PGCD}(696; 406) = 58$

$$\frac{696}{406} = \frac{12}{7}$$

و عليه $\frac{696}{406} = \frac{12}{7}$ و $\frac{12}{7}$ كسر غير قابل للاختزال.

(3) حساب العدد $P = \frac{696}{406} - \frac{3}{7} \times \frac{5}{2}$. لدينا:

$$P = \frac{696}{406} - \frac{3}{7} \times \frac{5}{2} = \frac{12}{7} - \frac{3}{7} \times \frac{5}{2} = \frac{24}{14} - \frac{15}{14} = \frac{9}{14}$$

توحيد المقامات ثم التبسيط

$$P = \frac{9}{14}$$

التمرين 6.1

إليك الأعداد A ، B ، C حيث:

$$C = \sqrt{175} - \sqrt{112} + 6\sqrt{7}, \quad B = \frac{1.2 \times 10^{-2} \times 7}{12.5 \times 10^3}, \quad A = \frac{3}{5} + \frac{2}{5} \times \frac{7}{4}$$

(1) احسب A ثم أكتبه على الشكل العشري.

(2) أعط الكتابة العلمية للعدد B .

(3) أكتب C على أبسط شكل ممكن.

BEM 2014

حل التمرين 6.1

(1) حساب العدد A . لدينا:

$$A = \frac{3}{5} + \frac{2}{5} \times \frac{7}{4} = \frac{3}{5} + \frac{14}{20} = \frac{12+14}{20} = \frac{26}{20} = \frac{13}{10}$$

توحيد المقامات

الاختزال

$$\frac{1}{10^a} = 10^{-a}$$

و عليه الشكل العشري للعدد A هو $A = 1.3$.

(2) الكتابة العلمية للعدد B . لدينا:

$$B = \frac{1.2 \times 10^{-2} \times 7}{12.5 \times 10^3} = \frac{1.2 \times 7}{12.5} \times 10^{-2} \times 10^{-3} = 0.672 \times 10^{-5}$$

$$10^a \times 10^b = 10^{a+b}$$

و عليه الكتابة العلمية للعدد B هي $B = 6.72 \times 10^{-6}$.
 (3) كتابة العدد C على أبسط شكل ممكن. لدينا:

$$\begin{aligned} C &= \sqrt{175} - \sqrt{112} + 6\sqrt{7} \\ &= \sqrt{25 \times 7} - \sqrt{16 \times 7} + 6\sqrt{7} \\ &= \sqrt{25} \times \sqrt{7} - \sqrt{16} \times \sqrt{7} + 6\sqrt{7} \end{aligned}$$

$$\sqrt{a \times b} = \sqrt{a} \times \sqrt{b}$$

$$\sqrt{a^2} = a$$

و منه

$$\begin{aligned} C &= \sqrt{5^2} \times \sqrt{7} - \sqrt{4^2} \times \sqrt{7} + 6\sqrt{7} \\ &= 5 \times \sqrt{7} - 4 \times \sqrt{7} + 6\sqrt{7} \\ &= (5 - 4 + 6)\sqrt{7} = 7\sqrt{7} \end{aligned}$$

$$x\sqrt{b} + y\sqrt{b} = (x + y)\sqrt{b}$$

و عليه $C = 7\sqrt{7}$.

التمرين 7.1

ليكن العدد الحقيقي A حيث: $A = \sqrt{3}(\sqrt{3} - 1) + \sqrt{27} + 1$.

(1) بين أن: $A = 4 + 2\sqrt{3}$.

(2) ليكن العدد الحقيقي B حيث: $B = 4 - 2\sqrt{3}$.

- بين أن: $A \times B$ عدد طبيعي.

BEM 2013

حل التمرين 7.1

(1) نبين أن $A = 4 + 2\sqrt{3}$ لدينا:

$$\begin{aligned} A &= \sqrt{3}(\sqrt{3} - 1) + \sqrt{27} + 1 \\ &= \sqrt{3} \times \sqrt{3} - \sqrt{3} + \sqrt{3^2 \times 3} + 1 \\ &= 3 - \sqrt{3} + 3\sqrt{3} + 1 \\ &= 4 + 2\sqrt{3} \end{aligned}$$

$$\sqrt{a \times b} = \sqrt{a} \times \sqrt{b}$$

$$x\sqrt{b} + y\sqrt{b} = (x + y)\sqrt{b}$$

و عليه $A = 4 + 2\sqrt{3}$.

(2) نبين أن $A \times B$ عدد طبيعي. لدينا:

$$\begin{aligned} A \times B &= (4 + 2\sqrt{3})(4 - 2\sqrt{3}) \\ &= 4 \times 4 - 2 \times 2\sqrt{3} \times \sqrt{3} \\ &= 16 - 4 \times 3 \\ &= 16 - 12 = 4 \end{aligned}$$

$$(a + b)(a - b) = a^2 - b^2$$

$$\sqrt{a} \times \sqrt{a} = a$$

و عليه $A \times B = 4$ و هو عدد طبيعي.

ليكن العددين الحقيقيين m و n حيث: $m = \sqrt{112} - 3\sqrt{28} + 3\sqrt{7} - \sqrt{25}$ ، $n = (\sqrt{7} + 3)(4 - \sqrt{7})$

(1) أكتب كلا من العددين m و n على الشكل $a\sqrt{7} + b$ بحيث a و b عددا نسبيين.

(2) بين أن الجداء $m \times n$ عدد ناطق.

(3) اجعل مقام النسبة $\frac{\sqrt{7}-5}{\sqrt{7}}$ عددا ناطقا.

BEM 2012

حل التمرين 8.1

(1) كتابة العددين m و n على شكل $a\sqrt{7} + b$. لدينا:

$$\begin{aligned} m &= \sqrt{112} - 3\sqrt{28} + 3\sqrt{7} - \sqrt{25} \\ &= \sqrt{16 \times 7} - 3\sqrt{4 \times 7} + 3\sqrt{7} - \sqrt{5^2} \\ &= \sqrt{4^2 \times 7} - 3\sqrt{2^2 \times 7} + 3\sqrt{7} - \sqrt{5^2} \\ &= 4\sqrt{7} - 3 \times 2 \times \sqrt{7} + 3\sqrt{7} - 5 \\ &= (4 - 6 + 3)\sqrt{7} - 5 = \sqrt{7} - 5 \end{aligned}$$

$$\sqrt{a \times b} = \sqrt{a} \times \sqrt{b}$$

$$x\sqrt{b} + y\sqrt{b} = (x + y)\sqrt{b}$$

و عليه $m = \sqrt{7} - 5$ و هو الشكل المطلوب حيث $a = 1$ و $b = -5$.

$$\begin{aligned} n &= (\sqrt{7} + 3)(4 - \sqrt{7}) \\ &= 4\sqrt{7} - \sqrt{7} \times \sqrt{7} + 12 - 3\sqrt{7} \\ &= 4\sqrt{7} - 7 + 12 - 3\sqrt{7} \\ &= (4 - 3)\sqrt{7} + (-7 + 12) = \sqrt{7} + 5 \end{aligned}$$

بالنشر ثم التبسيط

و عليه $n = \sqrt{7} + 5$ و هو الشكل المطلوب حيث $a = 1$ و $b = 5$.

(2) نبين أن العدد $m \times n$ عدد ناطق. لدينا:

$$\begin{aligned} m \times n &= (\sqrt{7} - 5)(\sqrt{7} + 5) \\ &= (\sqrt{7})^2 - (5)^2 \\ &= 7 - 25 \\ &= -18 \end{aligned}$$

$$(a+b)(a-b) = a^2 - b^2$$

$$(\sqrt{a})^2 = a$$

و عليه $m \times n = -18$ و هو عدد ناطق مقامه 1.

(3) نجعل مقام النسبة $\frac{\sqrt{7}-5}{\sqrt{7}}$ عددا ناطقا. لدينا:

$$\begin{aligned} \frac{\sqrt{7}-5}{\sqrt{7}} &= \frac{(\sqrt{7}-5) \times \sqrt{7}}{\sqrt{7} \times \sqrt{7}} \\ &= \frac{\sqrt{7} \times \sqrt{7} - 5 \times \sqrt{7}}{7} \\ &= \frac{7 - 5\sqrt{7}}{7} \end{aligned}$$

تنطيق المقام

$$\sqrt{a} \times \sqrt{a} = a$$

و عليه $\frac{\sqrt{7}-5}{\sqrt{7}} = \frac{7-5\sqrt{7}}{7}$ و هي عدد ناطق مقامه 7.

التمرين 9.1

(1) تحقق بالنشر من أن: $(2x-1)(x-3) = 2x^2 - 7x + 3$.

(2) لتكن العبارة A حيث: $A = 2x^2 - 7x + 3 + (2x-1)(3x+2)$

- حلل A إلى جداء عاملين من الدرجة الأولى.

(3) حل المعادلة: $(2x-1)(4x-1) = 0$.

حل التمرين 9.1

(1) التحقق بالنشر، لدينا:

$$\begin{aligned}(2x-1)(x-3) &= 2x^2 - 6x - x + 3 \\ &= 2x^2 - 7x + 3\end{aligned}$$

و عليه $(2x-1)(x-3) = 2x^2 - 7x + 3$.

(2) تحليل العبارة A إلى جداء عاملين من الدرجة الأولى، لدينا من نتيجة السؤال السابق:

$$\begin{aligned}A &= 2x^2 - 7x + 3 + (2x-1)(3x+2) \\ &= (2x-1)(x-3) + (2x-1)(3x+2)\end{aligned}$$

بأخذ $(2x-1)$ كعامل مشترك ثم التبسيط نجد:

$$\begin{aligned}A &= (2x-1)(x-3) + (2x-1)(3x+2) \\ &= (2x-1)[(x-3) + (3x+2)] \\ &= (2x-1)[x-3+3x+2] \\ &= (2x-1)(4x-1)\end{aligned}$$

إخراج العامل المشترك

تبسيط ما داخل القوسين

المعامل الأول معدوم

و عليه $A = (2x-1)(4x-1)$.

(3) حل المعادلة $(2x-1)(4x-1) = 0$. لدينا:

$$\begin{aligned}2x-1 &= 0 \\ 2x &= 1 \\ x &= \frac{1}{2}\end{aligned}$$

احذر من الإشارات عند حل المعادلة

المعامل الثاني معدوم

$$\begin{aligned}4x-1 &= 0 \\ 4x &= 1 \\ x &= \frac{1}{4}\end{aligned}$$

احذر من الإشارات عند حل المعادلة

أو

و عليه حلول المعادلة هي $\frac{1}{2}$ و $\frac{1}{4}$.

الباب الثاني

لتكن العبارة E حيث: $E = (x + 1)^2 - (x + 1)(2x - 3)$.

(1) انشر ثم بسط العبارة E .

(2) حلل العبارة E إلى جداء عاملين من الدرجة الأولى.

(3) حل المتراجحة: $3x + 4 \geq 6x - 2$.

حل التمرين 1.2

(1) نشر و تبسيط العبارة E . لدينا:

$$(a+b)^2 = a^2 + b^2 + 2ab$$

تبسيط ما داخل كل قوس

$$\begin{aligned} E &= (x + 1)^2 - (x + 1)(2x - 3) \\ &= (x^2 + 2x + 1) - (2x^2 + 2x - 3x - 3) \\ &= x^2 + 2x + 1 - 2x^2 - 2x + 3x + 3 \\ &= -x^2 + 3x + 4 \end{aligned}$$

احذر من الإشارات عند فك الأقواس

و عليه $E = -x^2 + 3x + 4$.

(2) تحليل العبارة E إلى جداء عاملين من الدرجة الأولى. لدينا:

$$(a+b)^2 = (a+b)(a+b)$$

$$\begin{aligned} E &= (x + 1)^2 - (x + 1)(2x - 3) \\ &= (x + 1)[(x + 1) - (2x - 3)] \\ &= (x + 1)[x + 1 - 2x + 3] \\ &= (x + 1)(-x + 4) \end{aligned}$$

اخذ $(x+1)$ كعامل مشترك ثم التبسيط

و عليه $E = (x + 1)(-x + 4)$ و هو الشكل المطلوب.

نقل المعاليم إلى طرف و المجاهيل إلى الطرف الآخر

(3) حل المتراجحة $3x + 4 \geq 6x - 2$. لدينا:

$$\begin{aligned} 3x + 4 &\geq 6x - 2 \\ 3x - 6x &\geq -2 - 4 \\ -3x &\geq -6 \end{aligned}$$

احذر من الإشارات خلال حل المتراجحة

و منه

$$\begin{aligned} x &\leq \frac{-6}{-3} \\ x &\leq 2 \end{aligned}$$

احذر من تغير اتجاه المتراجحة مع وجود الإشارة السالبة

و عليه حلول المتراجحة هي كل الأعداد الحقيقية الأصغر من أو تساوي 2.

التمرين 2.2

(1) تحقق من المساواة الآتية: $(3x + 1)(x - 4) = 3x^2 - 11x - 4$.

(2) حلل إلى جداء عاملين العبارة: $E = 3x^2 - 11x - 4 + (3x + 1)^2$.

(3) حل المتراجحة: $(3x + 1)(x - 4) \leq 3x^2 + 7$.

حل التمرين 2.2

النشر ثم التبسيط

(1) التحقق بالنشر من المساواة $(3x+1)(x-4) = 3x^2 - 11x - 4$. لدينا:

$$\begin{aligned}(3x+1)(x-4) &= (3x) \times (x-4) + 1 \times (x-4) \\ &= 3x^2 - 12x + x - 4 \\ &= 3x^2 - 11x - 4\end{aligned}$$

احذر من جمع حدود بقوى مختلفة

و عليه $(3x+1)(x-4) = 3x^2 - 11x - 4$ محققة.

(2) تحليل العبارة E إلى جداء عاملين من الدرجة الأولى. لدينا:

$$3x^2 - 11x - 4 = (3x+1)(x-4)$$

$$\begin{aligned}E &= 3x^2 - 11x - 4 + (3x+1)^2 \\ &= (3x+1)(x-4) + (3x+1)^2 \\ &= (3x+1)[(x-4) + (3x+1)] \\ &= (3x+1)(x-4+3x+1) \\ &= (3x+1)(4x-3)\end{aligned}$$

اخذ $(3x+1)$ كعامل مشترك ثم التبسيط

تبسيط ما داخل كل قوس

و عليه $E = (3x+1)(4x-3)$ وهو الشكل المطلوب.

(3) حل المتراجحة $(3x+1)(x-4) \leq 3x^2 + 7$. لدينا:

$$(3x+1)(x-4) = 3x^2 - 11x - 4$$

$$\begin{aligned}(3x+1)(x-4) &\leq 3x^2 + 7 \\ 3x^2 - 11x - 4 &\leq 3x^2 + 7 \\ 3x^2 - 11x - 3x^2 &\leq 7 + 4 \\ -11x &\leq 11\end{aligned}$$

احذر من الإشارات خلال مراحل الحل

و منه

$$\begin{aligned}x &\geq \frac{11}{-11} \\ x &\geq -1\end{aligned}$$

احذر من تغير اتجاه المتراجحة مع وجود الإشارة السالبة

و عليه حلول المتراجحة هي كل الأعداد الحقيقية الأكبر من أو تساوي -1 .

التمرين 3.2

لتكن العبارة P حيث: $P = (1-3x)(3x+3) - 2(3x+3)$.

(1) انشر و بسط العبارة P .

(2) حلل العبارة P إلى جداء عاملين من الدرجة الأولى.

(3) حل المعادلة: $(3x+3)(-1-3x) = 0$.

حل التمرين 3.2

(1) نشر و تبسيط العبارة P . لدينا:

النشر ثم التبسيط

$$\begin{aligned}P &= (1-3x)(3x+3) - 2(3x+3) \\ &= [(1) \times (3x+3) - (3x) \times (3x+3)] - 6x - 6 \\ &= 3x+3 - 9x^2 - 9x - 6x - 6 \\ &= -9x^2 - 12x - 3\end{aligned}$$

احذر من الإشارات عند فك الأقواس

$$P = -9x^2 - 12x - 3$$

(2) تحليل العبارة P إلى جداء عاملين من الدرجة الأولى. لدينا:

$$\begin{aligned} P &= (1-3x)(3x+3) - 2(3x+3) \\ &= (3x+3) \times [(1-3x) - 2] \\ &= (3x+3) \times (1-3x-2) \\ &= (3x+3)(-3x-1) \end{aligned}$$

أخذ $(3x+3)$ كعامل مشترك ثم التبسيط

تبسيط ما داخل كل قوس

المعامل الأول معدوم

و عليه $P = (3x+3)(-3x-1)$ وهو الشكل المطلوب.

(3) حل المعادلة $(3x+3)(-1-3x) = 0$. معناه:

$$\begin{aligned} 3x+3 &= 0 \\ 3x &= -3 \\ x &= -1 \end{aligned}$$

احذر من الإشارات خلال مراحل الحل

المعامل الثاني معدوم

$$\begin{aligned} -3x-1 &= 0 \\ -3x &= 1 \\ x &= \frac{-1}{3} \end{aligned}$$

احذر من الإشارات خلال مراحل الحل

أو

و عليه حلول المعادلة هما -1 و $\frac{-1}{3}$.

التمرين 4.2

(1) تحقق من صحة المساواة التالية: $5(2x+1)(2x-1) = 20x^2 - 5$.

(2) حل العبارة A بحيث: $A = (2x+1)(3x-7) - (20x^2 - 5)$.

(3) حل المتراجحة: $-14x^2 - 11x - 2 < 2(10 - 7x^2)$ ثم مثل حلولها بيانياً.

BEM 2016

حل التمرين 4.2

(1) التحقق من صحة المساواة التالية: $5(2x+1)(2x-1) = 20x^2 - 5$. لدينا:

$$\begin{aligned} 5(2x+1)(2x-1) &= 5(2x+1)(2x-1) \\ &= 5[(2x)^2 - (1)^2] \\ &= 5(4x^2 - 1) \\ &= 20x^2 - 5 \end{aligned}$$

بالنشر أو نستخدم $(a+b)(a-b) = a^2 - b^2$

احذر عند توزيع القوة

$$20x^2 - 5 = 5(2x+1)(2x-1)$$

و عليه المساواة $5(2x+1)(2x-1) = 20x^2 - 5$ محققة.

(2) تحليل العبارة $A = (2x+1)(3x-7) - (20x^2 - 5)$. لدينا:

$$\begin{aligned} A &= (2x+1)(3x-7) - (20x^2 - 5) \\ &= (2x+1)(3x-7) - 5(2x+1)(2x-1) \\ &= (2x+1)[(3x-7) - 5(2x-1)] \\ &= (2x+1)(3x-7-10x+5) = (2x+1)(-7x-2) \end{aligned}$$

أخذ $(2x+1)$ كعامل مشترك ثم التبسيط

احذر من الإشارات عند فك الأقواس

تبسيط ما داخل كل قوس

$$A = (2x + 1)(-7x - 2)$$

(3) حل المتراجحة $-14x^2 - 11x - 2 < 2(10 - 7x^2)$. لدينا :

$$-14x^2 - 11x - 2 < 2(10 - 7x^2)$$

$$-14x^2 - 11x - 2 < 20 - 14x^2$$

$$-14x^2 - 11x + 14x^2 < 20 + 2$$

$$-11x < 22$$

احذر من الإشارات خلال مراحل الحل

و منه

$$-11x < 22$$

احذر من جمع حدود بقوى مختلفة

$$x > \frac{22}{-11}$$

احذر من تغير اتجاه المتراجحة مع وجود الإشارة السالبة

$$x > -2$$

و عليه حلول المتراجحة هي كل الأعداد الحقيقية الأكبر تماما من -2 .

- تمثيل مجموعة حلول المتراجحة :



التمرين 5.2

تعطى العبارة: $F = (2x - 3)^2 - 16$.

(1) تحقق بالنشر أن: $F = 4x^2 - 12x - 7$.

(2) حلّل F إلى جداء عاملين من الدرجة الأولى

(3) حل المعادلة: $(2x - 7)(2x + 1) = 0$.

(4) احسب F من أجل $x = 1 + \sqrt{2}$ و اكتب النتيجة على الشكل $a + b\sqrt{2}$ حيث a و b عدنان نسيبان.

BEM 2015

حل التمرين 5.2

(1) التحقق بالنشر أن $F = 4x^2 - 12x - 7$. لدينا :

$$F = (2x - 3)^2 - 16$$

$$= [(2x)^2 + (3)^2 - 2 \times (2x) \times (3)] - 16$$

النشر ثم التبسيط

$$= 4x^2 + 9 - 12x - 16$$

$$= 4x^2 - 12x - 7$$

احذر من جمع حدود بقوى مختلفة

و عليه $F = 4x^2 - 12x - 7$.

(2) تحليل العبارة F إلى جداء عاملين من الدرجة الأولى. لدينا :

$$16 = (4)^2$$

$$F = (2x - 3)^2 - 16$$

$$= (2x - 3)^2 - (4)^2$$

$$= [(2x - 3) + 4][(2x - 3) - 4]$$

$$= (2x + 1)(2x - 7)$$

$$a^2 - b^2 = (a+b)(a-b) \text{ نستخدم}$$

تبسيط ما داخل الأقواس

و عليه $F = (2x + 1)(2x - 7)$ و هو الشكل المطلوب.

(3) حل المعادلة $(2x + 1)(2x - 7) = 0$. معناه:

المعامل الأول معدوم

$$2x + 1 = 0$$

$$2x = -1$$

$$x = \frac{-1}{2}$$

احذر من الإشارات خلال مراحل الحل

المعامل الثاني معدوم

$$2x - 7 = 0$$

$$2x = 7$$

$$x = \frac{7}{2}$$

احذر من الإشارات خلال مراحل الحل

أو

و عليه حلول المعادلة هما $\frac{-1}{2}$ و $\frac{7}{2}$.

(4) حساب F من أجل $x = 1 + \sqrt{2}$ و كتابة النتيجة على الشكل $a + b\sqrt{2}$ حيث a و b عدنان نسيبان. لدينا:

$$F = 4(1 + \sqrt{2})^2 - 12(1 + \sqrt{2}) - 7$$

$$= 4(1 + 2 + 2\sqrt{2}) - 12 - 12\sqrt{2} - 7$$

$$= 4(3 + 2\sqrt{2}) - 12\sqrt{2} - 19$$

$$= 12 + 8\sqrt{2} - 12\sqrt{2} - 19 = -7 - 4\sqrt{2}$$

احذر من وجود الإشارة السالبة

النشر ثم التبسيط

و عليه النتيجة هي $-7 - 4\sqrt{2}$ حيث $a = -7$ و $b = -4$.

التمرين 6.2

لتكن العبارة E حيث: $E = (2x + 5)^2 - 36$.

(1) تحقق بالنشر أن: $E = 4x^2 - 20x - 11$.

(2) حلل العبارة E إلى جداء عاملين.

(3) حل المعادلة: $(2x + 11)(2x - 1) = 0$.

حل التمرين 6.2

(1) التحقق بالنشر أن $E = 4x^2 - 20x - 11$. لدينا:

$$(a+b)^2 = a^2 + b^2 + 2ab \text{ نستخدم}$$

$$\begin{aligned} E &= (2x+5)^2 - 36 \\ &= [(2x)^2 + (5)^2 + 2 \times (2x) \times (5)] - 36 \\ &= 4x^2 + 25 - 20x - 36 \\ &= 4x^2 - 20x - 11 \end{aligned}$$

النشر ثم التبسيط

احذر من جمع حدود بقوى مختلفة

$$. E = 4x^2 - 20x - 11 \text{ و عليه}$$

(2) تحليل العبارة E إلى جداء عاملين من الدرجة الأولى. لدينا:

$$\begin{aligned} E &= (2x+5)^2 - 36 \\ &= (2x+5)^2 - (6)^2 \\ &= [(2x+5)+6][(2x+5)-6] \\ &= (2x+11)(2x-1) \end{aligned}$$

$$a^2 - b^2 = (a+b)(a-b) \text{ نستخدم}$$

تبسيط ما داخل الأقواس

$$36 = (6)^2$$

المعامل الأول معدوم

$$\text{و عليه } E = (2x+11)(2x-1) \text{ وهو الشكل المطلوب.}$$

(3) حل المعادلة $(2x+11)(2x-1) = 0$. معناه:

$$\begin{aligned} 2x+11 &= 0 \\ 2x &= -11 \\ x &= \frac{-11}{2} \end{aligned}$$

احذر من الإشارات خلال مراحل الحل

المعامل الثاني معدوم

$$\begin{aligned} 2x-1 &= 0 \\ 2x &= 1 \\ x &= \frac{1}{2} \end{aligned}$$

احذر من الإشارات خلال مراحل الحل

أو

$$\text{و عليه حلول المعادلة هما } \frac{1}{2} \text{ و } \frac{-11}{2}.$$

التمرين 7.2

(1) لتكن العبارة: $A = 3x - 5$ حيث x عدد حقيقي.

(أ) احسب القيمة المقربة إلى 10^{-2} بالنقصان للعدد A من اجل $x = \sqrt{2}$.

(ب) حل المتراجحة: $A \geq 0$ ثم مثل مجموعة حلولها بيانيا.

(2) (أ) انشر ثم بسط العبارة B حيث: $B = (3x-5)^2 + 9x^2 - 25$.

(ب) استنتج أن: $B = 6x(3x-5)$.

(ج) حل المعادلة: $B = 0$.

حل التمرين 7.2

(1) لتكن العبارة: $A = 3x - 5$ حيث x عدد حقيقي

(أ) حساب القيمة المقربة إلى 10^{-2} بالنقصان للعدد A من اجل $x = \sqrt{2}$. لدينا:

التعويض ثم الحساب

$$\begin{aligned} A &= 3 \times (\sqrt{2}) - 5 \\ &= 3 \times (1.41) - 5 \\ &= 4.23 - 5 = -0.77 \end{aligned}$$

نستخدم القيمة التقريبية $\sqrt{2} \approx 1.41$

و عليه $A = -0.77$

(ب) نحل المتراجحة: $A \geq 0$. لدينا:

$$\begin{aligned} 3x - 5 &\geq 0 \\ 3x &\geq 5 \\ x &\geq \frac{5}{3} \end{aligned}$$

احذر من الإشارات خلال مراحل الحل

و عليه حلول المتراجحة هي كل الأعداد الحقيقية الأكبر من أو تساوي $\frac{5}{3}$.



(2) لتكن العبارة B حيث: $B = (3x - 5)^2 + 9x^2 - 25$

(أ) نشر ثم تبسيط العبارة B . لدينا:

نستخدم $(a-b)^2 = a^2 + b^2 - 2ab$

$$\begin{aligned} B &= (3x - 5)^2 + 9x^2 - 25 \\ &= 9x^2 + 25 - 30x + 9x^2 - 25 \\ &= 18x^2 - 30x \end{aligned}$$

احذر من جمع حدود بقوى مختلفة

$$30x = (6x)(5)$$

و عليه تبسيط العبارة B هو $B = 18x^2 - 30x$

(ب) استنتاج أن $B = 6x(3x - 5)$. لدينا:

$$\begin{aligned} B &= 18x^2 - 30x \\ &= (6x)(3x) - (6x)(5) \\ &= 6x(3x - 5) \end{aligned}$$

اخذ $6x$ كعامل مشترك ثم التبسيط

المعامل الأول معدوم

و عليه $B = 6x(3x - 5)$

(ج) حل المعادلة $B = 0$. معناه:

$$\begin{aligned} 6x &= 0 \\ x &= 0 \end{aligned}$$

المعامل الثاني معدوم

أو

$$\begin{aligned} 3x - 5 &= 0 \\ 3x &= 5 \\ x &= \frac{5}{3} \end{aligned}$$

احذر من الإشارات خلال مراحل الحل

و عليه حلول المعادلة هما 0 و $\frac{5}{3}$.

لتكن العبارة E حيث : $E = (4x - 1)^2 - (3x + 2)(4x - 1)$

(1) انشر و بسط العبارة E .

(2) حلل العبارة E إلى جداء عاملين.

(3) حل المعادلة : $(4x - 1)(x - 3) = 0$.

(4) حل المتراجحة : $4x^2 - 13x + 3 \leq 4x^2 + 29$.

حل التمرين 8.2

(1) نشر و تبسيط العبارة E . لدينا :

$$\begin{aligned} E &= (4x - 1)^2 - (3x + 2)(4x - 1) \\ &= (16x^2 + 1 - 8x) - (12x^2 - 3x + 8x - 2) \\ &= 4x^2 - 13x + 3 \end{aligned}$$

نستخدم $(a-b)^2 = a^2 + b^2 - 2ab$

تقوم بالنشر هنا

احذر من وجود الإشارة السالبة

و عليه $E = 4x^2 - 13x + 3$

(2) تحليل العبارة E . لدينا :

$$\begin{aligned} E &= (4x - 1)^2 - (3x + 2)(4x - 1) \\ &= (4x - 1)[(4x - 1) - (3x + 2)] \\ &= (4x - 1)(x - 3) \end{aligned}$$

احذر من جمع حدود بقوى مختلفة

اخذ $(4x - 1)$ كعامل مشترك ثم التبسيط

تبسيط ما داخل القوسين

و عليه $E = (4x - 1)(x - 3)$

(3) حل المعادلة : $(4x - 1)(x - 3) = 0$. معناه :

$$\begin{aligned} 4x - 1 &= 0 \\ 4x &= 1 \\ x &= \frac{1}{4} \end{aligned}$$

المعامل الأول معدوم

احذر من الإشارات خلال مراحل الحل

المعامل الثاني معدوم

$$\begin{aligned} x - 3 &= 0 \\ x &= 3 \end{aligned}$$

احذر من الإشارات خلال مراحل الحل

أو

و منه حلول المعادلة هي $\frac{1}{4}$ و 3 .

(4) حل المتراجحة $4x^2 - 13x + 3 \leq 4x^2 + 29$. لدينا :

$$\begin{aligned} 4x^2 - 13x + 3 &\leq 4x^2 + 29 \\ 4x^2 - 13x - 4x^2 &\leq 29 - 3 \\ -13x &\leq 26 \\ x &\geq -2 \end{aligned}$$

احذر من الإشارات خلال مراحل الحل

و عليه حلول المتراجحة هي كل الأعداد الحقيقية الأكبر من أو تساوي -2 .

احذر من تغير اتجاه المتراجحة مع وجود الإشارة السالبة

(1) أكتب المجموع A على الشكل $a\sqrt{5}$ (a عدد طبيعي) حيث:

$$A = \sqrt{125} + \sqrt{45} - \sqrt{20}$$

(2) احسب $A \times \frac{\sqrt{5}}{30}$ مينا مراحل الحساب.

حل التمرين 9.2

(1) كتابة المجموع A على الشكل $a\sqrt{5}$ (حيث a عدد طبيعي)، لدينا:

$$\begin{aligned} A &= \sqrt{125} + \sqrt{45} - \sqrt{20} \\ &= \sqrt{25 \times 5} + \sqrt{9 \times 5} - \sqrt{4 \times 5} \\ &= 5\sqrt{5} + 3\sqrt{5} - 2\sqrt{5} \\ &= 6\sqrt{5} \end{aligned}$$

$$\sqrt{a \times b} = \sqrt{a} \times \sqrt{b}$$

$$\sqrt{a^2} = a$$

$$x\sqrt{b} + y\sqrt{b} = (x + y)\sqrt{b}$$

و عليه $A = 6\sqrt{5}$

نستخدم $A = 6\sqrt{5}$

(2) حساب $A \times \frac{\sqrt{5}}{30}$ مع تبين مراحل الحساب:

$$\begin{aligned} A \times \frac{\sqrt{5}}{30} &= 6\sqrt{5} \times \frac{\sqrt{5}}{30} \\ &= \frac{6\sqrt{5} \times \sqrt{5}}{30} \\ &= \frac{6 \times 5}{30} \\ &= 1 \end{aligned}$$

$$\sqrt{a} \times \sqrt{a} = a$$

الاختزال

و عليه $A \times \frac{\sqrt{5}}{30} = 1$

الباب الثالث

RST مثلث قائم في R حيث : $\sin \widehat{RTS} = 0.8$ و $RS = 8 \text{ cm}$.

(1) احسب الطولين ST و TR .

(2) لتكن M نقطة من $[TR]$ حيث : $TM = 4 \text{ cm}$ ، المستقيم (Δ) العمودي على (TR) في النقطة M يقطع (TS) في النقطة N .

- احسب الطول MN بالتدوير إلى الوحدة من السننيمتر.

حل التمرين 1.3

(1) نحسب الطولين ST و TR .

- حساب الطول ST . لدينا :

RST مثلث قائم في R

$$\sin \widehat{RTS} = \frac{RS}{TS} = \frac{8}{TS}$$

تعويض $RS = 8$

و منه

$$\frac{8}{TS} = 0.8$$

$$TS = \frac{8}{0.8} = \frac{8}{8 \times 10^{-1}} = 10$$

الاختزال

احذر من نسيان وحدة الطول

و عليه $TS = 10 \text{ cm}$

- حساب الطول TR . لدينا :

بتطبيق مبرهنة فيثاغورث

$$(TR)^2 = (TS)^2 - (RS)^2$$

$$= (10)^2 - (8)^2 = 36$$

التعويض ثم الحساب

و منه

$$(TR)^2 = 36 = (6)^2$$

احذر من نسيان وحدة الطول

و عليه $TR = 6 \text{ cm}$

(2) حساب الطول MN بالتدوير إلى الوحدة من السننيمتر. بما أن $(RS) \perp (RT)$ و $(MN) \perp (RT)$ فان

$(RS) \parallel (MN)$ و بتطبيق خاصية طالس نجد أن :

$$\frac{TM}{TR} = \frac{MN}{RS}$$

$$\frac{4}{6} = \frac{MN}{8}$$

و منه

$$MN = \frac{4 \times 8}{6} = \frac{\cancel{2} \times 2 \times 8}{\cancel{2} \times 3} = \frac{16}{3} = 5.33$$

الاختزال و التبسيط

احذر من نسيان وحدة الطول

و عليه الطول $MN = 5 \text{ cm}$ بالتدوير إلى الوحدة من السنتيمتر.

التمرين 2.3

(وحدة الطول هي السنتيمتر (cm))

$ABCD$ مستطيل حيث: $AD = 6$ و $DC = 8$.

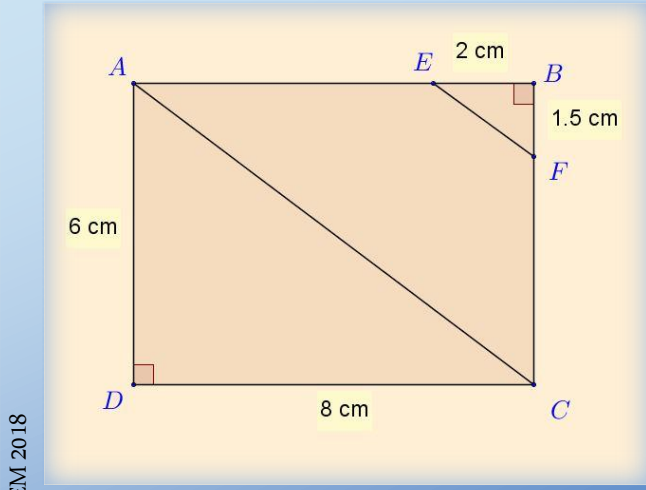
(1) احسب الطول AC .

(2) E و F نقطتان من الضلعين $[AB]$ و $[BC]$ على الترتيب

حيث: $BE = 2$ و $BF = 1.5$.

- بين أن: (AC) يوازي (EF) .

(3) احسب قياس الزاوية \widehat{BEF} بالتدوير إلى الوحدة.



BEM 2018

حل التمرين 2.3

(1) حساب الطول AC . بتطبيق مبرهنة فيثاغورث على المثلث القائم ADC في D نجد:

$$\begin{aligned} (AC)^2 &= (AD)^2 + (DC)^2 \\ &= (6)^2 + (8)^2 \\ &= 36 + 64 = 100 \end{aligned}$$

$ABCD$ مستطيل

التعويض ثم التبسيط

و منه

$$(AC)^2 = 100 = (10)^2$$

احذر من نسيان وحدة الطول

و عليه الطول $AC = 10 \text{ cm}$.

(2) نبين أن (AC) يوازي (EF) . لدينا من جهة:

التعويض ثم التبسيط

$$\frac{BE}{BA} = \frac{2}{8} = \frac{1}{4}$$

التعويض ثم التبسيط

و من جهة أخرى لدينا:

$$\begin{aligned} \frac{BF}{BC} &= \frac{1.5}{6} \\ &= \frac{15}{60} \\ &= \frac{1}{4} \end{aligned}$$

بما أن $\frac{BE}{BA} = \frac{BF}{BC}$ فان المستقيمين (EF) و (AC) متوازيان حسب عكس خاصية طالس.

(3) حساب قياس الزاوية \widehat{BEF} بالتدوير إلى الوحدة. لدينا:

$$\tan \widehat{BEF} = \frac{BF}{BE} = \frac{1.5}{2} = 0.75$$

التعويض ثم التبسيط

احذر لابد التأكد من استخدامك للدرجات عند استعمالك للآلة الحاسبة

باستعمال الآلة الحاسبة:

$$0.75 \rightarrow 2\text{ndf} \rightarrow \tan^{-1} \rightarrow \widehat{BEF} \approx 36.86^\circ$$

و عليه قياس الزاوية بالتدوير إلى الوحدة هو $\widehat{BEF} = 37^\circ$.

احذر من نسيان وحدة الدرجة

التمرين 3.3

المستوي منسوب إلى معلم متعامد و متجانس $(O; \vec{i}, \vec{j})$.

(1) علم النقط: $A(0;4)$ ، $B(-3;1)$ ، $C(5;-1)$.

(2) احسب إحداثيتي النقطة E منتصف القطعة $[BC]$.

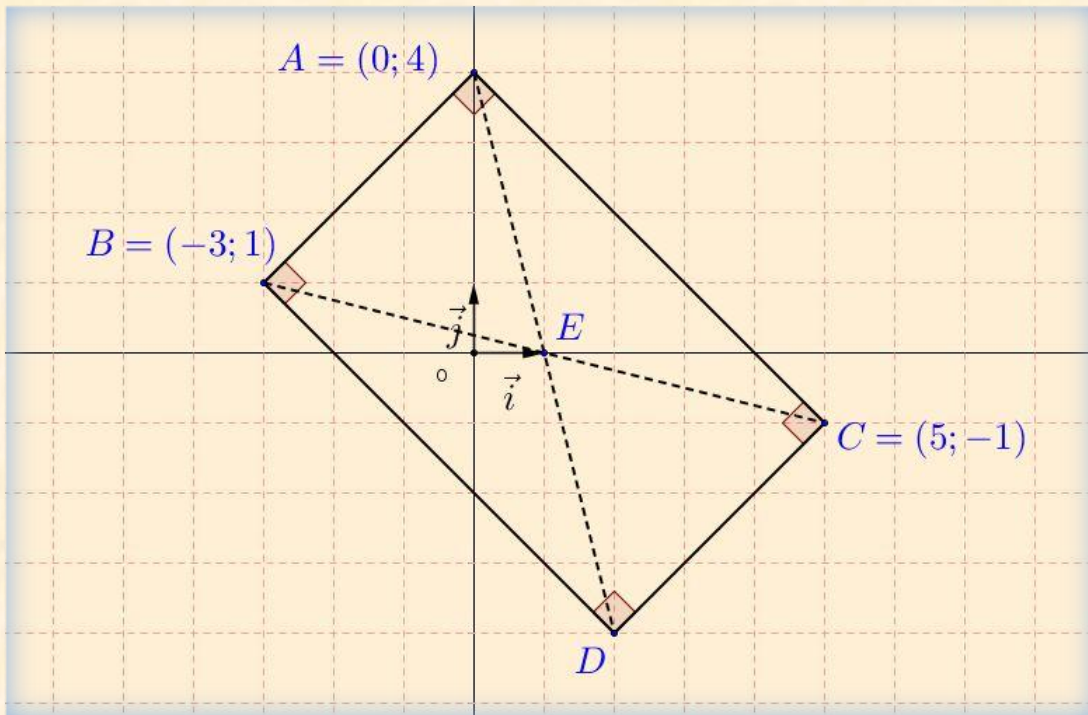
(3) أنشئ النقطة D صورة A بالدوران الذي مركزه E و زاويته 180° ثم استنتج إحداثيتي D .

(4) بين أن الرباعي $ABDC$ مستطيل.

BEM 2017

حل التمرين 3.3

(1) رسم المعلم و تعليم النقط: $A(0;4)$ ، $B(-3;1)$ ، $C(5;-1)$.



(2) حساب إحداثيتي النقطة E منتصف القطعة $[BC]$. لدينا:

$$E\left(\frac{x_B + x_C}{2}, \frac{y_B + y_C}{2}\right)$$

احذر من الوقوع في الالتباس مع العلاقة المستعملة لإيجاد مركبات شعاع

$$E \left(\frac{(-3)+(5)}{2}; \frac{(1)+(-1)}{2} \right)$$

التعويض ثم التبسيط

و عليه $E(1;0)$.

(3) إنشاء النقطة D صورة A بالدوران الذي مركزه E و زاويته 180° .

- استنتاج إحداثيتي النقطة D .

بما أن صورة D صورة A بالدوران الذي مركزه E و زاويته 180° فان النقطتين A و D متناظرتان بالنسبة إلى E و عليه

$$\overline{AE} = \overline{ED}$$

- من جهة لدينا:

احذر العلاقة هنا لمركبات شعاع

$$\overline{AE} = (x_E - x_A; y_E - y_A)$$

التعويض ثم التبسيط

و منه

$$\overline{AE} = ((1)-(0); (0)-(4))$$

احذر العلاقة هنا لمركبات شعاع

$$\overline{AE} (1; -4)$$

- من جهة أخرى لدينا:

$$\overline{ED} = (x_D - x_E; y_D - y_E)$$

التعويض ثم التبسيط

و منه

$$\overline{ED} = (x_D - (1); y_D - (0))$$

و بما أن $\overline{AE} = \overline{ED}$ فان:

$$y_D - 0 = -4 \text{ و } x_D - 1 = 1$$

و منه

$$y_D = -4 \text{ و } x_D = 2$$

و عليه $D(2; -4)$.

ملاحظة: يمكن اعتماد طريقة حساب إحداثيتي منتصف قطعة مستقيمة

(4) نبين أن الرباعي $ABDC$ مستطيل. لدينا E منتصف $[BC]$ من المعطيات و E منتصف $[AD]$ لان D صورة A

بالدوران الذي مركزه E و زاويته 180° . إذن الرباعي $ABDC$ متوازي أضلاع (القطران متناصفان).

- حساب طول القطر $[BC]$. لدينا:

$$\begin{aligned} BC &= \sqrt{(x_C - x_B)^2 + (y_C - y_B)^2} \\ &= \sqrt{(5 - (-3))^2 + (-1 - 1)^2} \\ &= \sqrt{(8)^2 + (-2)^2} \\ &= \sqrt{68} \end{aligned}$$

احذر الإشارة الموجبة في هذه العلاقة

التعويض ثم التبسيط

احذر من نسيان وحدة الطول

$$BC = \sqrt{68} \text{ cm}$$

- حساب طول القطر $[AD]$. لدينا :

$$\begin{aligned} AD &= \sqrt{(x_D - x_A)^2 + (y_D - y_A)^2} \\ &= \sqrt{(2-0)^2 + (-4-4)^2} \\ &= \sqrt{(2)^2 + (-8)^2} \\ &= \sqrt{68} \end{aligned}$$

احذر الإشارة الموجبة في هذه العلاقة

التعويض ثم التبسيط

احذر من نسيان وحدة الطول

$$AD = \sqrt{68} \text{ cm} \text{ و عليه}$$

نستنتج أن : $AD = BC$.

و عليه في الرباعي $ABDC$ القطران $[AD]$ و $[BC]$ متقايسان إذن فهو مستطيل.

التمرين 4.3

f دالة تالفية تمثيلها البياني في مستو منسوب إلى معلم متعامد و متجانس $(O; \vec{i}, \vec{j})$ يشمل النقطتين $A(2;5)$ و $B(-1;-4)$.

(1) بين أن العبارة الجبرية للدالة التالفية f هي : $f(x) = 3x - 1$.

(2) لتكن النقطة $C(4;11)$ من المستوي، هل النقط A ، B ، C على استقامة واحدة؟

(3) اوجد العدد الذي صورته 29 بالدالة f .

BEM 2016

حل التمرين 4.3

(1) نبين أن العبارة الجبرية للدالة التالفية f هي $f(x) = 3x - 1$. بما أن التمثيل البياني للدالة f يشمل النقطتين $A(2;5)$ و $B(-1;-4)$ فان :

$$f(-1) = -4 \text{ و } f(2) = 5$$

علاقة إيجاد معامل التوجيه للدالة التالفية

و منه

$$\begin{aligned} a &= \frac{f(2) - f(-1)}{2 - (-1)} \\ &= \frac{5 - (-4)}{3} = 3 \end{aligned}$$

التعويض ثم التبسيط

و

$$\begin{aligned} b &= f(2) - a \times 2 \\ &= 5 - 3 \times 2 = -1 \end{aligned}$$

التعويض ثم التبسيط

حساب صورة العدد 4 بالدالة f

$$f(x) = 3x - 1 \text{ و عليه}$$

(2) لتكن النقطة $C(4;11)$ من المستوي. لدينا :

$$\begin{aligned} f(4) &= 3 \times 4 - 1 \\ &= 12 - 1 \\ &= 11 \end{aligned}$$

و عليه $C \in (AB)$ و بالتالي النقط A ، B ، C على استقامة واحدة.

(3) إيجاد العدد الذي صورته 29 بالدالة f . لدينا:

$$\begin{aligned} f(x) &= 29 \\ 3x - 1 &= 29 \\ 3x &= 30 \\ x &= \frac{30}{3} = 10 \end{aligned}$$

تقوم بحل هذه المعادلة

احذر من الإشارات خلال مراحل الحل

و عليه العدد الذي صورته 29 بالدالة f هو 10.

التمرين 5.3

في الشكل المقابل الأطوال و أقياس الزوايا غير حقيقية.

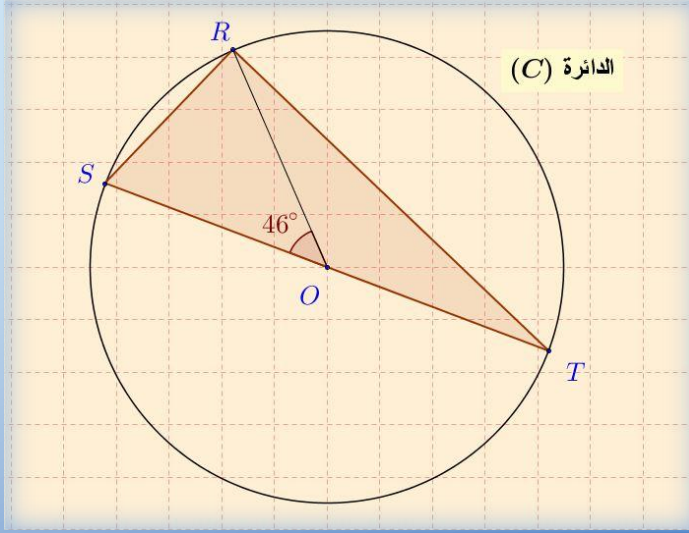
(C) دائرة مركزها O و قطرها $ST = 9 \text{ cm}$.

R نقطة من هذه الدائرة حيث $\widehat{SOR} = 46^\circ$.

(1) بين أن: $\widehat{STR} = 23^\circ$.

(2) المثلث SRT قائم في R ، علّل.

(3) احسب الطول RS بالتدوير إلى 0.01.



حل التمرين 5.3

(1) نبين أن قيس الزاوية $\widehat{STR} = 23^\circ$. في الدائرة (C) لدينا زاوية مركزية \widehat{SOR} و زاوية محيطية تحصران نفس القوس \widehat{SR} و منه

استخدام العلاقة بين الزاوية المحيطية و الزاوية المركزية

$$\widehat{STR} = \frac{1}{2} \widehat{SOR}$$

$$\widehat{STR} = \frac{1}{2} \times 46^\circ$$

بالتعويض نجد

احذر من نسيان وحدة الدرجة

$$\widehat{STR} = 23^\circ \text{ إذن}$$

(2) تعليل أن المثلث STR قائم في R . بما ان الدائرة (C) تحيط بالمثلث STR و ضلعه $[ST]$ قطر لها فان SRT قائم في R (حسب الخاصية العكسية للدائرة المحيطية بمثلث قائم).

(3) حساب الطول RS بالتدوير إلى 0.01. في المثلث SRT القائم في R لدينا:

$$\sin \widehat{T} = \frac{RS}{TS}$$

احذر لابد التأكد من استخدامك للدرجات عند استعمالك للآلة الحاسبة

ومنه

$$\begin{aligned} RS &= ST \times \sin \widehat{T} \\ &= 9 \times \sin(23^\circ) \\ &\approx 3.516 \end{aligned}$$

و عليه مدور RS إلى 0.01 هو 3.52 cm .

احذر من نسيان وحدة الطول

التمرين 6.3

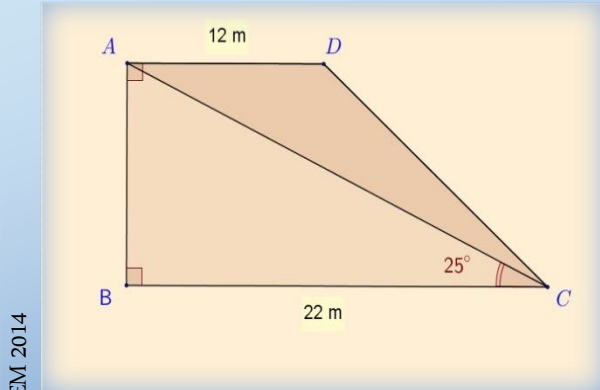
الشكل ABCD شبه منحرف قائم في B ، فيه $\widehat{ACB} = 25^\circ$.

(1) احسب الطول AB بالتدوير إلى الوحدة. (استعن ب $\tan \widehat{ACB}$) .

(2) احسب مساحة كل من شبه المنحرف ABCD

و المثلث ABC . ثم استنتج مساحة الجزء المظلل .

تعطى : مساحة شبه المنحرف = $\frac{\text{الارتفاع} \times (\text{القاعدة الكبرى} + \text{القاعدة الصغرى})}{2}$.



BEM 2014

حل التمرين 6.3

(1) حساب الطول AB بالتدوير إلى الوحدة. في المثلث ABC القائم في B لدينا :

$$\tan \widehat{ACB} = \frac{AB}{BC}$$

$$\tan(25^\circ) = \frac{AB}{22}$$

احذر لابد التأكد من استخدامك للدرجات عند استعمالك للآلة الحاسبة

$$AB = 22 \times \tan(25^\circ)$$

$$AB \approx 10 \text{ cm}$$

احذر من نسيان وحدة الطول

ومنه

و عليه مدور AB إلى الوحدة هو 10 cm .

Δ_1 مجرد ترميز فقط لمساحة شبه المنحرف

(2) حساب مساحة من شبه المنحرف ABCD . لدينا :

$$\Delta_1 = \frac{(22+12) \times 10}{2}$$
$$= 170$$

نستخدم العلاقة المعطاة في نص التمرين لحساب المساحة

Δ_2 مجرد ترميز فقط لمساحة المثلث

و عليه مساحة شبه المنحرف هي 170 m^2 .

حساب مساحة المثلث ABC .

احذر من نسيان وحدة المساحة

$$\Delta_2 = \frac{22 \times 10}{2}$$
$$= 110$$

نستخدم العلاقة الخاصة بحساب مساحة المثلث

و عليه مساحة المثلث ABC هي 110 m^2 .

احذر من نسيان وحدة المساحة

استنتاج مساحة الجزء المظلل من الشكل . لدينا :

$$\Delta = \Delta_1 - \Delta_2 = 170 - 110$$
$$= 60$$

Δ مجرد ترميز فقط لمساحة الجزء المظلل

و عليه مساحة الجزء المظلل هي 60 m^2 .

احذر من نسيان وحدة المساحة

التمرين 7.3

ABC مثلث قائم في B حيث : $AB = 4 \text{ cm}$ و $CB = 8 \text{ cm}$.

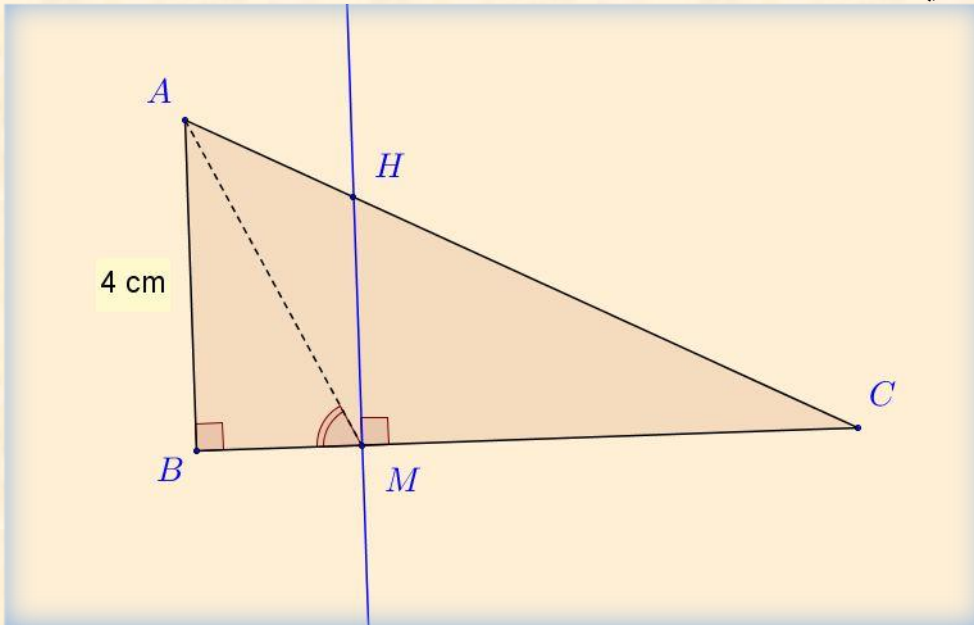
لتكن M نقطة من $[BC]$ حيث $BM = \frac{BC}{4}$ ، المستقيم (Δ) العمودي على (BC) في النقطة M يقطع $[AC]$ في النقطة H .

(1) احسب الطول MH .

(2) احسب $\tan \widehat{AMB}$ واستنتج قياس الزاوية \widehat{AMB} بالتدوير إلى الدرجة.

حل التمرين 7.3

- الشكل الهندسي



(1) حساب طول MH . بما أن $(HM) \parallel (AB)$. لدينا :

حسب خاصية طالس

$$\frac{CM}{CB} = \frac{MH}{AB}$$
$$\frac{6}{8} = \frac{MH}{4}$$

التعويض ثم التبسيط

$$MH = \frac{4 \times 6}{8}$$
$$= 3$$

و منه

احذر من نسيان وحدة الطول

و عليه $MH = 3 \text{ cm}$.

(2) حساب $\tan \widehat{AMB}$. لدينا :

$$\tan \widehat{AMB} = \frac{AB}{BM} = \frac{4}{2} = 2$$

التعويض ثم التبسيط

احذر لا بد التأكد من استخدامك للدرجات عند استعمالك للآلة الحاسبة

و عليه $\tan \widehat{AMB} = 2$

- استنتاج قياس الزاوية \widehat{AMB} بالتدوير إلى الدرجة. باستعمال الآلة الحاسبة

$$2 \rightarrow \text{2ndf} \rightarrow \tan^{-1} \rightarrow \widehat{AMB} \approx 63.4^\circ$$

و عليه قياس الزاوية $\widehat{AMB} = 63.4^\circ \approx 63^\circ$ بالتدوير إلى الدرجة.

احذر من نسيان وحدة الدرجة

التمرين 8.3

(T) دائرة مركزها O و قطرها AB = 8 cm ، نقطة من الدائرة حيث: BC = 3 cm .

(1) احسب بالتدوير إلى الوحدة من الدرجة قياس الزاوية \widehat{BAC} ثم استنتج قياس الزاوية \widehat{BOC} .

F هي صورة B بالانسحاب الذي شعاعه \overrightarrow{OB} ، المستقيم الذي يشمل F و يوازي (BC) يقطع (AC) في D .

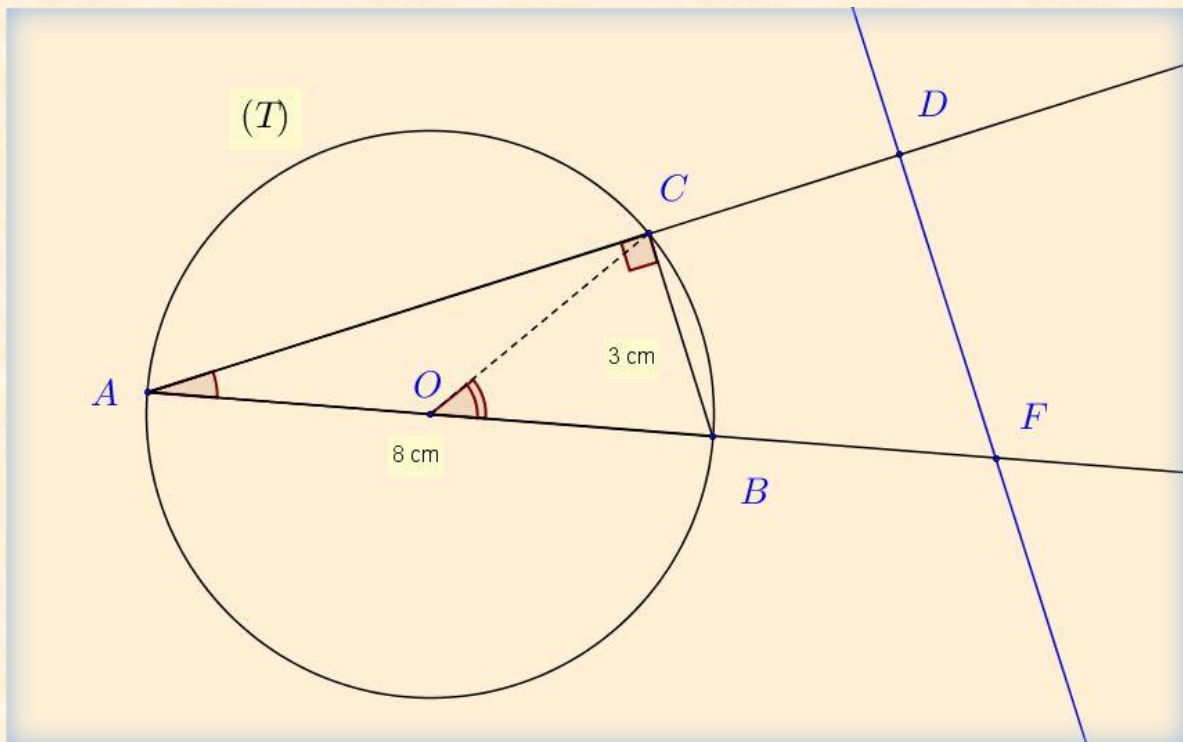
(2) احسب DF .

(ملاحظة: يطلب إنجاز الشكل الهندسي.)

BEM 2012

حل التمرين 8.3

الشكل الهندسي



(1) حساب قياس الزاوية \widehat{BAC} . لدينا: المثلث ABC قائم في C لان أحد أضلاعه و هو [AB] قطر للدائرة المحيطة به

إذن في المثلث القائم ABC لدينا:

$$\sin \widehat{BAC} = \frac{BC}{AB} = \frac{3}{8} = 0.375$$

التعويض ثم التبسيط

احذر لا بد التأكد من استخدامك للدرجات عند استعمالك للآلة الحاسبة

باستعمال الحاسبة

$$\boxed{0.375} \rightarrow \boxed{2\text{ndf}} \rightarrow \boxed{\sin^{-1}} \rightarrow \boxed{\widehat{BAC} \approx 22^\circ}$$

و عليه قياس الزاوية بالتدوير الى الوحدة هو $\widehat{BAC} = 22^\circ$.

احذر من نسيان وحدة الدرجة

- استنتاج قياس الزاوية \widehat{BOC} :

(\widehat{BOC} مركزية و \widehat{BAC} محيطية تحصران نفس القوس BC)

$$\widehat{BOC} = 2\widehat{BAC} = 2 \times (22^\circ)$$

احذر من نسيان وحدة الدرجة

و عليه $\widehat{BOC} = 44^\circ$.

(2) نحسب DF . بما أن F هي صورة B بالانسحاب الذي شعاعه \overrightarrow{OB} فان:

$$\overline{OB} = \overline{BF}$$

هنا لدينا أطوال متساوية

احذر من نسيان وحدة الطول

أي

$$OB = BF$$

و عليه $BF = 4 \text{ cm}$.

- بتطبيق خاصية طالس على الثلث ADF نجد:

$$(BC) \parallel (DF)$$

من خاصية طالس

معناه

$$\frac{AB}{AF} = \frac{AC}{AD} = \frac{BC}{DF}$$

و منه

$$\frac{8}{12} = \frac{3}{DF}$$

إذن

$$DF = \frac{3 \times 12}{8} = \frac{36}{8} = 4.5$$

التعويض ثم التبسيط

احذر من نسيان وحدة الطول

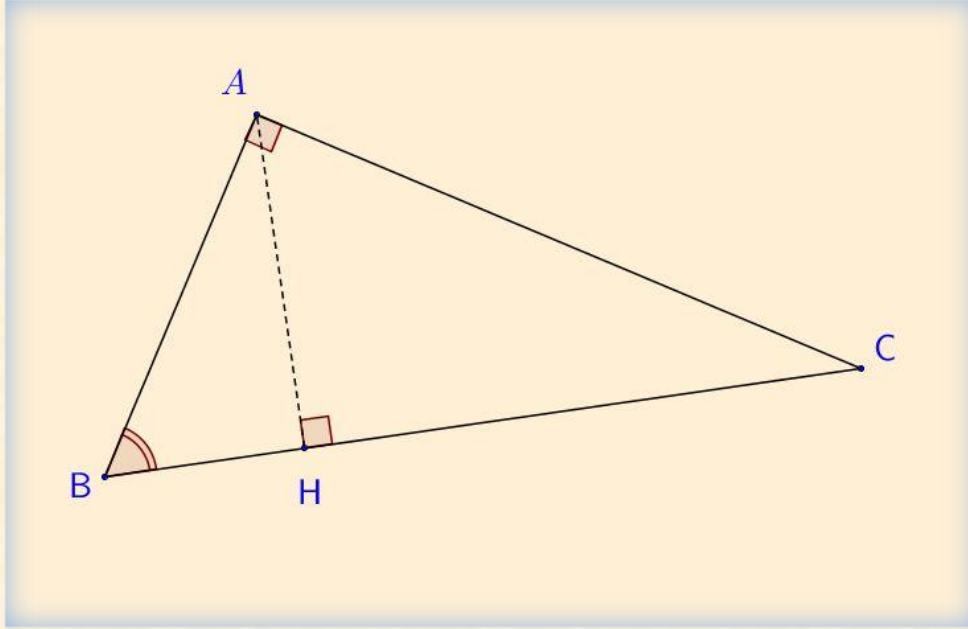
و عليه $DF = 4.5 \text{ cm}$.

ABC مثلث قائم الزاوية في A . الارتفاع المتعلق بالوتر $[BC]$.

- بين أن: $AB^2 = BH \times BC$ (يمكنك الاعتماد على $\cos \widehat{ABC}$ في كل من المثلثين ABC و ABH).

حل التمرين 9.3

الشكل الهندسي



- نبين أن $AB^2 = BH \times BC$ ، لدينا في المثلث ABC القائم في A :

$$\cos \widehat{ABC} = \frac{AB}{BC} \quad (1)$$

و من جهة أخرى، لدينا في المثلث ABH القائم في H

$$\cos \widehat{ABC} = \frac{BH}{AB} \quad (2)$$

من (1) و (2) نجد أن $\frac{AB}{AC} = \frac{BH}{AB}$ و عليه $AB \times AB = BH \times BC$ أي $AB^2 = BH \times BC$.



الباب الرابع

المستوى المنسوب إلى معلم متعامد ومتجانس $(O; \vec{i}, \vec{j})$.

(1) علم النقط: $A(-1;5)$ ، $B(2;2)$ ، $C(-1;-1)$.

(2) احسب الطولين AB و BC .

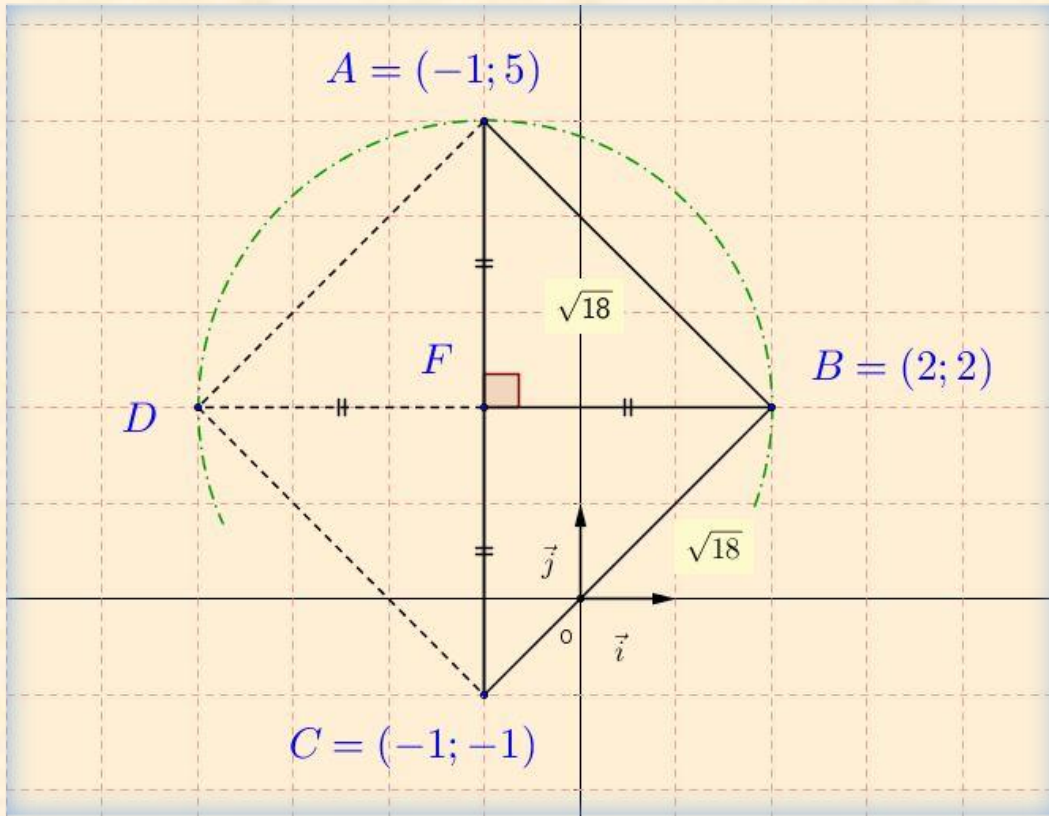
(3) F منتصف $[AC]$ ، عين D صورة النقطة B بالدوران الذي مركزه F و زاويته 180° .

- استنتج من الشكل إحداثيات النقطة D .

(4) بين طبيعة الرباعي $ABCD$.

حل التمرين 1.4

(1) تعليم النقط: $A(-1;5)$ ، $B(2;2)$ ، $C(-1;-1)$.



(2) نحسب الطولين AB و BC . لدينا بالتعويض:

$$AB = \sqrt{(x_B - x_A)^2 + (y_B - y_A)^2}$$

$$= \sqrt{((2) - (-1))^2 + ((2) - (5))^2}$$

احذر الإشارة الموجبة في هذه العلاقة

التعويض

و منه

$$AB = \sqrt{(2+1)^2 + (2-5)^2}$$

$$= \sqrt{9+9} = \sqrt{18}$$

الحساب

احذر من نسيان وحدة الطول

و عليه $AB = \sqrt{18} \text{ cm}$

و من جهة أخرى لدينا:

$$BC = \sqrt{(x_C - x_B)^2 + (y_C - y_B)^2}$$
$$= \sqrt{((-1) - (-2))^2 + ((-1) - (-2))^2}$$

احذر الإشارة الموجبة في هذه العلاقة

التعويض

$$BC = \sqrt{(-1 - 2)^2 + (-1 - 2)^2}$$
$$= \sqrt{9 + 9} = \sqrt{18}$$

الحساب

احذر من نسيان وحدة الطول

و منه

$$BC = \sqrt{18} \text{ cm}$$

- (3) لتكن النقطة F منتصف $[AC]$ ، صورة النقطة B بالدوران الذي مركزه F وزاويته 180° . من الشكل نستنتج أن إحداثيتي النقطة D هي $D(-4; 2)$.
- (4) نبين طبيعة الرباعي $ABCD$. لدينا:

- بما أن القطرين $[AC]$ و $[BD]$ متناصفان في النقطة F و $AB = BC$ فالرباعي $ABCD$ معين.
- بتطبيق الخاصية العكسية لخاصية فيثاغورث من اجل إثبات أن المثلث CBA قائم في النقطة A . نستنتج أن المعين $ABCD$ فيه زاوية قائمة و بالتالي فهو معين.

التمرين 2.4

(وحدة الطول هي السنتيمتر (cm))

TIC مثلث فيه: $CI = 13$ ، $TI = 5$ ، $TC = 12$.

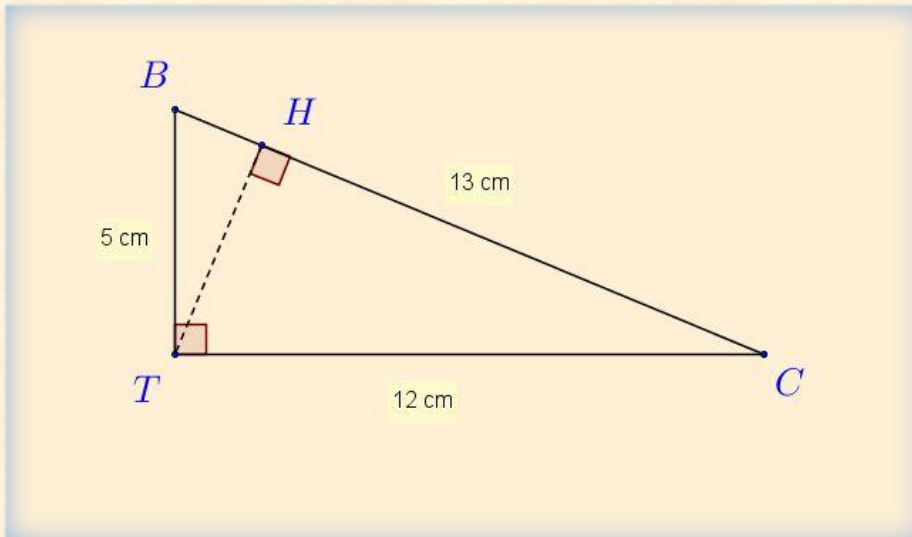
(1) بين أن المثلث TIC قائم ثم احسب مساحته.

(2) لتكن H المسقط العمودي للنقطة T على الضلع $[CI]$

- احسب الطول TH بالتدوير إلى 0.1 .

حل التمرين 2.4

الشكل الهندسي



(1) نبين أن المثلث TIC قائم ثم نحسب مساحته. لدينا:

التعويض

$$(CI)^2 = (13)^2 = 169$$

التعويض ثم الحساب

$$(TC)^2 + (TI)^2 = (12)^2 + (5)^2 \\ = 144 + 25 = 169$$

و

بما أن

$$(CI)^2 = (TC)^2 + (TI)^2$$

فان المثلث TIC قائم في T حسب عكس مبرهنة فيثاغورث.

- لحساب مساحة المثلث TIC لدينا:

نستخدم علاقة مساحة المثلث

$$S = \frac{(TC) \times (TI)}{2} \\ = \frac{(12) \times (5)}{2} \\ = \frac{60}{2} = 30 \text{ cm}^2$$

احذر من نسيان وحدة المساحة

التعويض ثم الحساب

و عليه مساحة المثلث TIC هي 30 cm^2 .

(2) حساب الطول TH . من جهة $S = 30 \text{ cm}^2$ و من جهة أخرى لدينا:

$$S = \frac{TH \times CI}{2}$$

و منه

$$\frac{TH \times CI}{2} = 30$$

$$\frac{TH \times (13)}{2} = 30$$

التعويض ثم الحساب

اذن

$$TH = \frac{(30) \times 2}{13} = 4.6$$

احذر من نسيان وحدة الطول

و عليه الطول $TH = 4.6 \text{ cm}$.

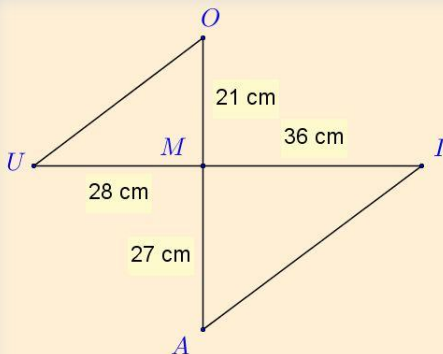
التمرين 3.4

الشكل المقابل غير مرسوم بأبعاده الحقيقية (وحدة الطول هي المليمتر)

$$MU = 28, MI = 36, MO = 21, MA = 27$$

(1) بين أن المستقيمين (OU) و (AI) متوازيان.

(2) احسب قياس الزاوية \widehat{AIM} (بالتدوير إلى الوحدة من الدرجة).



حل التمرين 3.4

(1) نبين أن المستقيمين (AI) و (OU) متوازيان. لدينا من جهة:

$$\frac{MO}{MA} = \frac{21}{27} = \frac{7}{9}$$

التعويض ثم الحساب

$$\frac{MU}{MI} = \frac{28}{36} = \frac{7}{9}$$

و من جهة أخرى

و عليه نستنتج أن:

$$\frac{MO}{MA} = \frac{MU}{MI}$$

و حسب المبرهنة العكسية لمبرهنة طالس فإن $(AI) \parallel (OU)$.

(2) حساب قياس الزاوية \widehat{AIM} . في المثلث AIM القائم في M لدينا:

$$\begin{aligned} \tan \widehat{AIM} &= \frac{AM}{MI} \\ &= \frac{27}{36} = 0.75 \end{aligned}$$

التعويض ثم الحساب

احذر لا بد التأكد من استخدامك للدرجات عند استعمالك للآلة الحاسبة

باستعمال الحاسبة العلمية

$$[0.75] \rightarrow [2ndf] \rightarrow [\tan^{-1}] \rightarrow [\widehat{AIM} \approx 36.869^\circ]$$

و عليه قياس الزاوية بالتدوير إلى الوحدة من الدرجة $\widehat{AIM} = 37^\circ$.

احذر من نسيان وحدة الدرجة

التمرين 4.4

(1) أنشئ المثلث EFG القائم في F حيث: $EF = FG = 4 \text{ cm}$.

(2) أنشئ النقطتين:

D صورة النقطة F بالانسحاب الذي شعاعه \overrightarrow{EF}

C صورة النقطة E بالانسحاب الذي شعاعه \overrightarrow{GD} .

(3) بين أن الرباعي $EGDC$ مربع ثم احسب مساحته.

(4) ليكن الشعاع \overrightarrow{U} حيث: $\overrightarrow{U} = \overrightarrow{EF} + \overrightarrow{EC} + \overrightarrow{FG}$. بين أن: $\overrightarrow{U} = \overrightarrow{ED}$.

BEM 2016

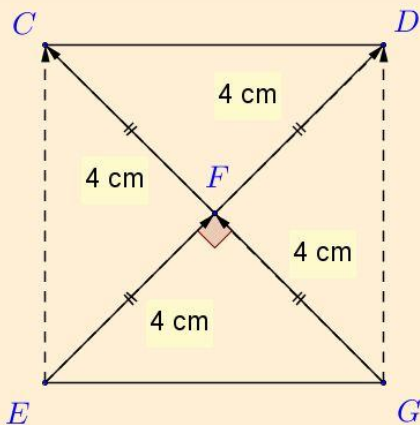
حل التمرين 4.4

(1) إنشاء المثلث EFG القائم في F .

(2) إنشاء النقطتين:

- صورة D في F بالانسحاب الذي شعاعه \overrightarrow{EF} .

- صورة C في E بالانسحاب الذي شعاعه \overrightarrow{GD} .



(3) إثبات أن الرباعي $EGDC$ مربع ثم حساب مساحته. بما أن C هي صورة E بالانسحاب الذي شعاعه \overline{GD} معناه

$$\overline{GD} = \overline{EC}$$

من جهة ثانية بما أن:

$$FG = EF = FD = 4 \text{ cm}$$

في المثلث EGD طول المتوسط المتعلق بالضلع $[ED]$

يساوي نصف طول هذا الضلع فالمثلث EGD قائم في G

فان

$$FG = \frac{1}{2} ED$$

و عليه لدينا $[ED]$ و $[CG]$ قطرا متوازي الأضلاع $EGDC$ متعامدان فهو معين و بما أن للمعين $EGDC$ زاوية قائمة

$$\left(\widehat{EGF} = 90^\circ\right) \text{ إذن فهو مربع.}$$

- حساب مساحة الرباعي $EGDC$. لتكن A مساحة المربع $EGDC$ و عليه:

$$A = c^2 = (EG)^2$$

بتطبيق مبرهنة فيثاغورث لدينا:

التعويض ثم الحساب

$$(EG)^2 = (EF)^2 + (FG)^2$$

$$= (4)^2 + (4)^2$$

$$= 16 + 16 = 32$$

التعويض ثم الحساب

و منه

$$EG = \sqrt{32} = 4\sqrt{2}$$

إذن

$$A = (EG)^2 = (\sqrt{32})^2 = 32$$

احذر من نسيان وحدة المساحة

التعويض ثم الحساب

و عليه مساحة المربع $EGDC$ هي 32 cm^2 .

(4) نبين أن $\vec{U} = \vec{ED}$. لدينا:

$$\vec{U} = \vec{EF} + \vec{EC} + \vec{FG}$$

$$= (\vec{EF} + \vec{FG}) + \vec{EC}$$

$$= \vec{EG} + \vec{EC}$$

استخدام علاقة شال

و بما أن الرباعي $EGDC$ متوازي أضلاع فان:

$$\vec{EG} + \vec{EC} = \vec{ED}$$

و عليه $\vec{U} = \vec{ED}$.

التمرين 5.4

الشكل المقابل مرسوم بأطوال غير حقيقية.

$ABCD$ رباعي قطراه متعامدان و متقاطعان في O حيث:

$$OD = 7.5 \text{ cm}, OC = 5 \text{ cm}, OB = 18 \text{ cm}, OA = 12 \text{ cm}$$

(1) برهن أن المستقيمين (AB) و (CD) متوازيان.

(2) احسب الطول AB .

حل التمرين 5.4

(1) نبرهن أن المستقيمين (AB) و (CD) متوازيان. لدينا من جهة :

التعويض ثم الحساب

$$\frac{OA}{OC} = \frac{12}{5} = 2.4$$

التعويض ثم الحساب

$$\frac{OB}{OD} = \frac{18}{7.5} = 2.4$$

و

نستنتج أن:

$$\frac{OA}{OC} = \frac{OB}{OD}$$

و من جهة أخرى لدينا النقط A, O, C في استقامة وكذلك النقط B, O, D و بنفس الترتيب. إذن المستقيمان (AB) و (CD) متوازيان و هذا بتطبيق عكس خاصية طالس.

(2) حساب الطول AB . بتطبيق مبرهنة فيثاغورث على المثلث ABO القائم في O نجد:

$$\begin{aligned} (AB)^2 &= (OA)^2 + (OB)^2 \\ &= (12)^2 + (18)^2 \\ &= 144 + 324 = 468 \end{aligned}$$

التعويض ثم الحساب

احذر من نسيان وحدة الطول

$$AB = \sqrt{468} = 6\sqrt{13} \text{ cm} \text{ و عليه}$$

التمرين 6.4

المستوي منسوب إلى معلم متعامد و متجانس $(O; \vec{i}, \vec{j})$.

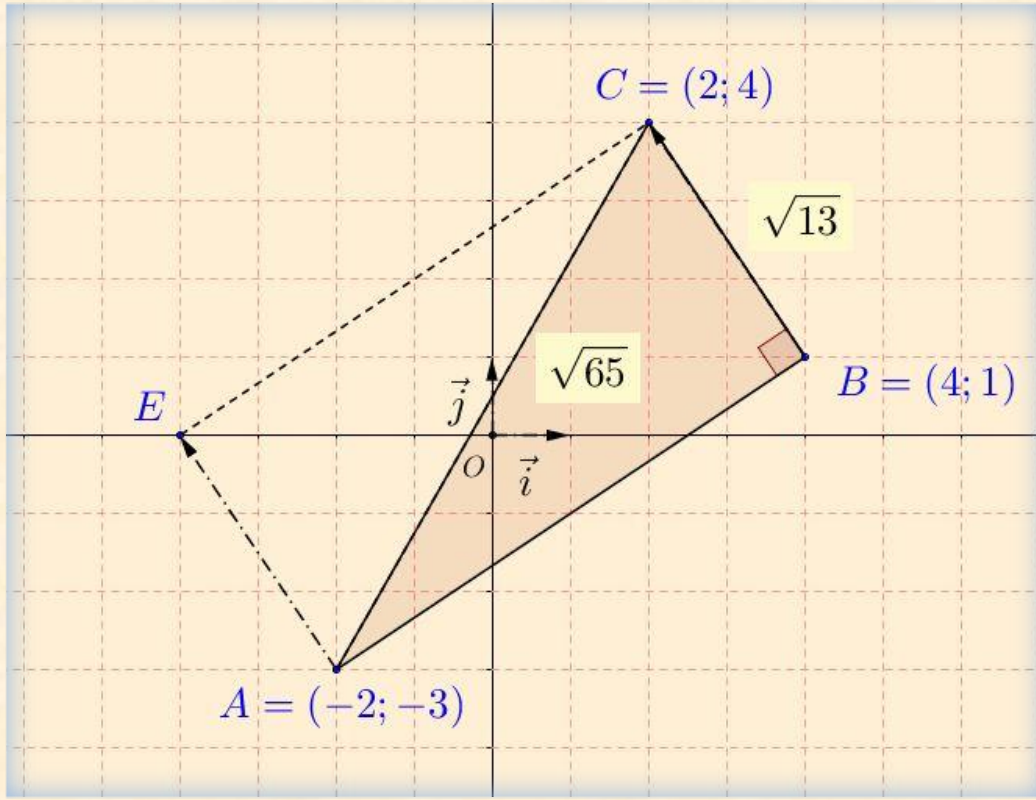
(1) علم النقط: $A(-2; -3)$, $B(4; 1)$, $C(2; 4)$.

(2) أعط القيمة المضبوطة للطول AB .

ب- علما أن: $AC = \sqrt{65}$ و $BC = \sqrt{13}$, بين أن المثلث ABC قائم.

(3) أنشئ النقطه E صورة A بالانسحاب الذي شعاعه \vec{BC} . اثبت أن $ABCE$ مستطيل.

(1) تعليم النقط : $A(-2; -3)$ ، $B(4; 1)$ ، $C(2; 4)$.



(2) نحسب القيمة المضبوطة للطول AB . لدينا :

$$\begin{aligned} AB &= \sqrt{(x_B - x_A)^2 + (y_B - y_A)^2} \\ &= \sqrt{(4 + 2)^2 + (1 + 3)^2} \\ &= \sqrt{(6)^2 + (4)^2} \\ &= \sqrt{52} = 3\sqrt{13} \end{aligned}$$

احذر الإشارة الموجبة في هذه العلاقة

التعويض ثم الحساب

احذر من نسيان وحدة الطول

و عليه القيمة المضبوطة للطول $AB = 2\sqrt{13} \text{ cm}$

ب-نبين أن المثلث ABC قائم. لدينا من جهة :

$$(AC)^2 = (\sqrt{65})^2 = 65$$

التعويض ثم الحساب

و من جهة أخرى

$$\begin{aligned} (AB)^2 + (BC)^2 &= (\sqrt{52})^2 + (\sqrt{13})^2 \\ &= 52 + 13 \\ &= 65 = (AC)^2 \end{aligned}$$

التعويض ثم الحساب

بتطبيق عكس مبرهنة فيثاغورث

و عليه نجد أن المثلث ABC قائم في B .

(3) إثبات أن الرباعي $ABCE$ مستطيل: بما أن E صورة A بالانسحاب الذي شعاعه \overrightarrow{BC} معناه $\overrightarrow{AE} = \overrightarrow{BC}$ فالرباعي $ABCE$ متوازي أضلاع و الزاوية \hat{B} قائمة إذن فهو مستطيل.

المستوي منسوب إلى معلم متعامد و متجانس $(O; \vec{i}, \vec{j})$.

(1) علم النقط : $A(2;0)$ ، $B(-4;3)$ و $C(5;3)$.

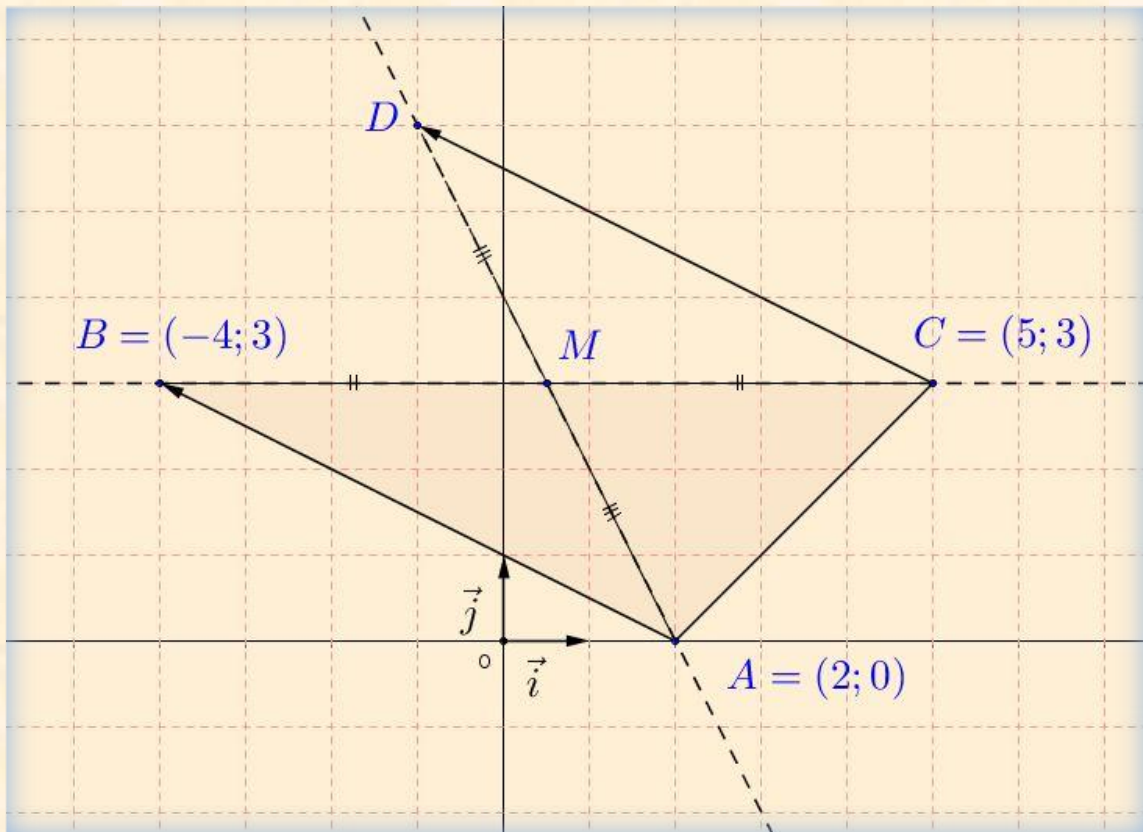
(2) احسب إحداثيتي الشعاع \overline{AB} ثم الطول AB .

(3) عين النقطة D صورة النقطة C بالانسحاب الذي شعاعه \overline{AB} ثم احسب إحداثيتي النقطة D .

(4) اوجد إحداثيتي M نقطة تقاطع المستقيمين (AD) و (BC) .

حل التمرين 7.4

(1) تعليم النقط : $A(2;0)$ ، $B(-4;3)$ و $C(5;3)$.



(2) حساب إحداثيتي الشعاع \overline{AB} . لدينا :

احذر العلاقة هنا لمركبات شعاع

$$\overline{AB}(x_B - x_A; y_B - y_A)$$

$$\overline{AB}((-4) - (2); (3) - (0))$$

$$\overline{AB}(-6; 3)$$

التعويض ثم الحساب

و عليه إحداثيتي الشعاع هي $\overline{AB}(-6; 3)$

- حساب الطول AB . لدينا :

$$AB = \sqrt{x^2 + y^2}$$

$$= \sqrt{(-6)^2 + (3)^2}$$

$$= \sqrt{36+9}$$

$$= \sqrt{45} = 3\sqrt{5}$$

احذر الإشارة الموجبة في هذه العلاقة

التعويض ثم الحساب

احذر من نسيان وحدة الطول

$$AB = 3\sqrt{5} \text{ cm}$$

(3) حساب إحداثيتي النقطة D . لدينا $\overline{AB} = \overline{CD}$ معناه $\overline{CA}(6;2)$ و منه:

$$x_B - x_A = x_D - x_C$$

و

$$y_B - y_A = y_D - y_C$$

اذن

$$(5) - (2) = x_D - (-4)$$

$$3 = x_D + 4$$

$$x_D = 3 - 4$$

$$x_D = -1$$

احذر من الإشارات خلال مراحل الحل

و

$$(3) - (0) = y_D - (3)$$

$$y_D = 3 + 3$$

$$y_D = 6$$

احذر من الإشارات خلال مراحل الحل

$$D(-1;6)$$

(4) حساب إحداثيتي النقطة M نقطة تقاطع المستقيمين (AD) و (BC) . بحساب منتصف القطعة $[BC]$ نجد:

$$x_M = \frac{x_B + x_C}{2}$$

$$= \frac{(5) + (-4)}{2}$$

$$= \frac{1}{2}$$

احذر الإشارة موجبة في علاقة إحداثيتي منتصف قطعة

التعويض ثم الحساب

$$x_M = \frac{1}{2}$$

و من جهة أخرى نجد:

$$y_M = \frac{y_B + y_C}{2}$$

$$= \frac{(3) + (3)}{2}$$

$$= \frac{6}{2} = 3$$

احذر الإشارة موجبة في علاقة إحداثيتي منتصف قطعة

التعويض ثم الحساب

$$y_M = 3$$

$$M\left(\frac{1}{2}; 3\right)$$

المستوي مزود بمعلم متعامد ومتجانس $(O; \vec{i}, \vec{j})$.

(1) علم النقط : $A(2; -1)$ ، $B(-2; 3)$ ، $C(-4; -3)$.

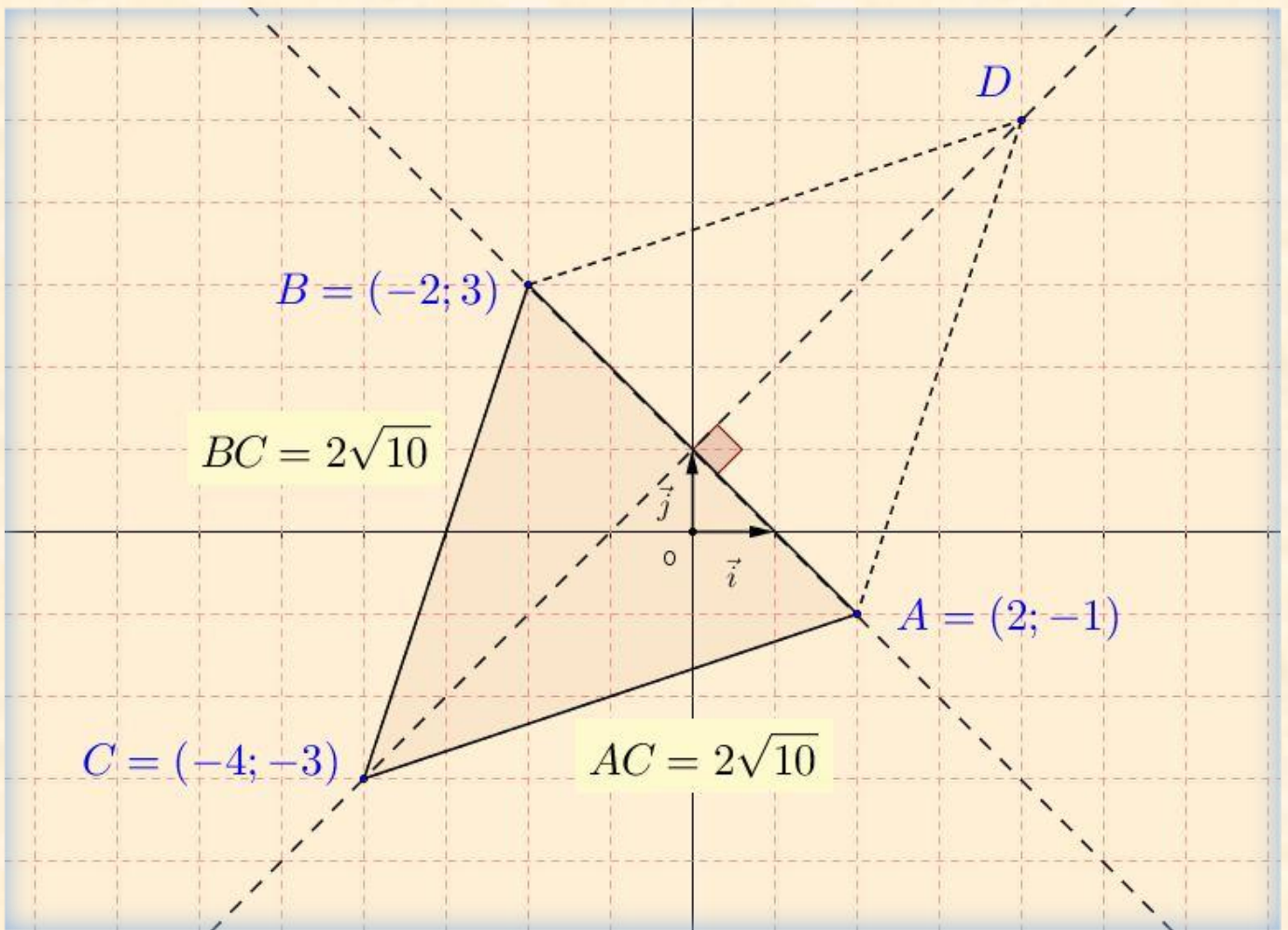
(2) احسب الطول AC واستنتج نوع المثلث ABC علما أن $BC = 2\sqrt{10}$.

(3) احسب إحداثيتي النقطة D حتى يكون $\vec{CA} = \vec{BD}$.

(4) بين أن $(AB) \perp (CD)$.

حل التمرين 8.4

(1) تعليم النقط : $A(2; -1)$ ، $B(-2; 3)$ ، $C(-4; -3)$.



(2) حساب الطول AC . لدينا:

$$\begin{aligned} AC &= \sqrt{(x_C - x_A)^2 + (y_C - y_A)^2} \\ &= \sqrt{((-4) - (2))^2 + ((-3) - (-1))^2} \\ &= \sqrt{(-6)^2 + (-3 + 1)^2} \\ &= \sqrt{36 + 4} \\ &= \sqrt{40} = 2\sqrt{10} \end{aligned}$$

احذر الإشارة الموجبة في هذه العلاقة

التعويض ثم الحساب

بما أن $AC = BC = 2\sqrt{10}$ فان المثلث ABC متساوي الساقين قاعدته $[AB]$.

(3) حساب إحداثيتي النقطة D . من جهة لدينا:

$$\vec{CA}(2+4; -1+3)$$

$$\vec{CA}(6; 2)$$

التعويض ثم الحساب

$$\vec{BD}(x+2; y-3)$$

احذر العلاقة هنا لمركبات شعاع

و من جهة أخرى

و منه

$$x+2=6$$

$$x=4$$

$$y-3=2$$

$$y=5$$

و

و عليه $D(4; 5)$.

(4) إثبات أن $(AB) \perp (CD)$. في الرباعي $CADB$ لدينا:

$$\vec{CA} = \vec{BD}$$

فهو متوازي الأضلاع و بحيث:

$$AC = BC$$

فهو معين و منه $(AB) \perp (CD)$.

التمرين 9.4

المستوي مزود بمعلم متعامد و متجانس $(O; \vec{i}, \vec{j})$.

(1) علم النقط: $M(+1; -1)$ ، $B(3; 2)$ ، $A(-1; 2)$.

(2) بين أن B هي صورة A بالدوران الذي مركزه M و زاويته \widehat{AMB} .

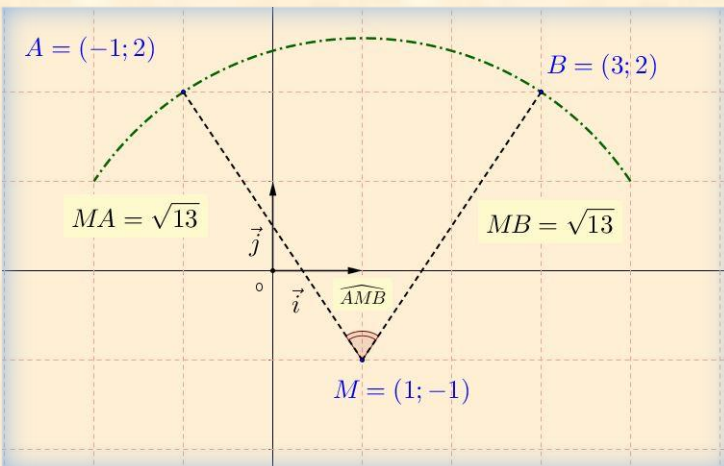
حل التمرين 9.4

(1) تعليم النقط: $M(+1; -1)$ ، $B(3; 2)$ ، $A(-1; 2)$.

(2) تكون النقطة B هي صورة النقطة A بالدوران الذي

مركزه M و زاويته \widehat{AMB}

إذا تحقق الشرط التالي: $MA = MB$.



- حساب الطول MA

$$\begin{aligned}MA &= \sqrt{(x_A - x_M)^2 + (y_A - y_M)^2} \\&= \sqrt{((-1) - (1))^2 + ((2) - (-1))^2} \\&= \sqrt{(-1-1)^2 + (2+1)^2} \\&= \sqrt{2^2 + 3^2} \\&= \sqrt{4+9} = \sqrt{13}\end{aligned}$$

احذر الإشارة الموجبة في هذه العلاقة

التعويض ثم الحساب

احذر من نسيان وحدة الطول

و منه $MA = \sqrt{13} \text{ cm}$

- حساب الطول MB

$$\begin{aligned}MB &= \sqrt{(x_B - x_M)^2 + (y_B - y_M)^2} \\&= \sqrt{((3) - (1))^2 + ((2) - (-1))^2} \\&= \sqrt{(3-1)^2 + (2+1)^2} \\&= \sqrt{2^2 + 3^2} \\&= \sqrt{4+9} = \sqrt{13}\end{aligned}$$

احذر الإشارة الموجبة في هذه العلاقة

التعويض ثم الحساب

احذر من نسيان وحدة الطول

و منه $MB = \sqrt{13} \text{ cm}$



الباب الخامس

المسألة 1.5

يقترح مدير المسبح البلدي على السباحين التسعيرتين التاليتين:

التسعيرة الأولى: 100 DA للحصة الواحدة لغير المنخرطين.

التسعيرة الثانية: 80 DA للحصة الواحدة مع اشتراك شهري قدره 400 DA.

(1) ما هو عدد الحصص التي يمكنك الحصول عليها في كل تسعيرة إذا دفعت مبلغ 2800 DA؟

(2) باعتبار x عدد الحصص في الشهر و بالاستعانة بالتمثيل البياني، أعط أفضل التسعيرتين حسب حساب عدد الحصص خلال الشهر.

(يمكنك اخذ: 1 cm على محور الفواصل يمثل 4 حصص، 1 cm على محور الترتيب يمثل 400 DA).

حل المسألة 1.5

(1) حساب عدد الحصص:

- حسب التسعيرة الأولى:

$$2800 \div 100 = 28$$

إذن عدد الحصص حسب التسعيرة الأولى هو: 28 حصة.

- حسب التسعيرة الثانية:

$$(2800 - 400) \div 80 = 30$$

و عليه عدد الحصص حسب التسعيرة الثانية هو: 30 حصة.

(2) إيجاد أفضل التسعيرتين. ليكن:

- $f(x)$ المبلغ المدفوع ل x حصة بالتسعيرة الأولى

- $g(x)$ المبلغ المدفوع ل x حصة بالتسعيرة الثانية

$$f(x) = 100x \text{ و عليه من اجل:}$$

يكون:

$$f(0) = 100 \times 0 = 0$$

$$f(30) = 100 \times 30 = 3000$$

$$\text{و من اجل: } g(x) = 80x + 400$$

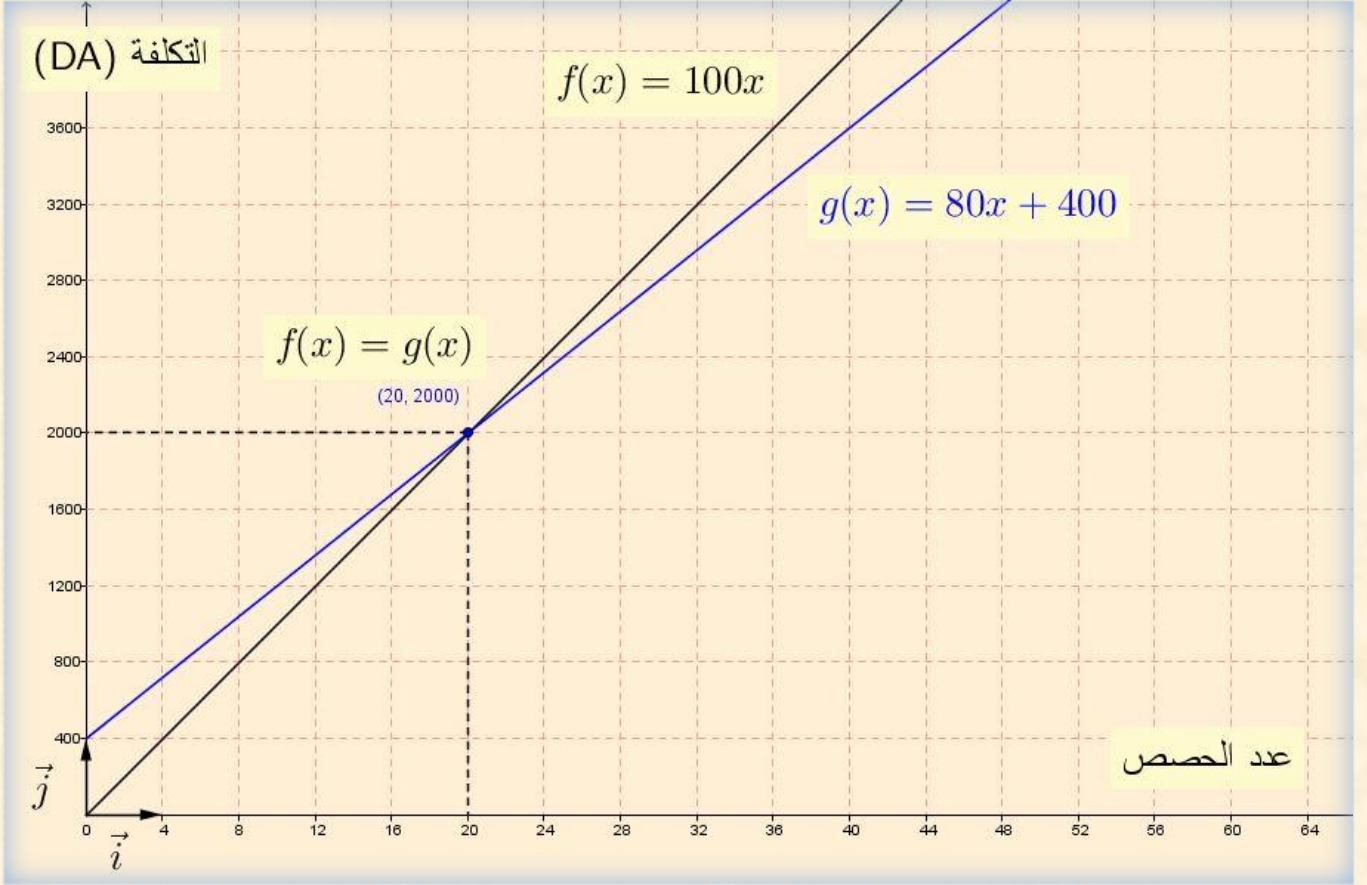
يكون:

$$g(0) = 80 \times 0 + 400 = 400$$

$$g(30) = 80 \times 30 + 400 = 2800$$

التمثيل البياني للدالة f هو المستقيم الذي يشمل النقطتين $(0;0)$ و $(30;3000)$.
 التمثيل البياني للدالة g هو المستقيم الذي يشمل النقطتين $(0;400)$ و $(30;2800)$.
 سلم الرسم: على محور الفواصل: 1 cm يمثل 4 حصص .
 على محور الترتيب: 1 cm يمثل 400 DA .

التمثيل البياني



بقراءة بيانية:

التمثيلان البيانيان للدالتين f و g يتقاطعان في النقطة التي فاصلتها 20 .
 عندما يكون $x < 20$ يكون التمثيل البياني للدالة f تحت التمثيل البياني للدالة g .
 عندما يكون $x > 20$ يكون التمثيل البياني للدالة f فوق التمثيل البياني للدالة g .
 و عليه: إذا كان عدد الحصص لا يفوق 20 حصة فالتسعيرة الأولى هي الأفضل و أما إذا تجاوز عدد الحصص 20 حصة فالتسعيرة الثانية هي الأفضل.

عبد الله و محمد عاملان في مؤسسة لصناعة ألعاب الأطفال راتبها الشهري على النحو التالي:

- عبد الله راتبه 20000 DA إضافة إلى 200 DA لكل لعبة يتم صنعها.

- محمد راتبه 30000 DA إضافة إلى 100 DA لكل لعبة يتم صنعها.

الجزء الأول

(1) ما هو الراتب الشهري الذي يتقاضاه كل منهما إذا تم صنع 120 لعبة؟

(2) ليكن x عدد اللعب المصنوعة في الشهر

- عبر بدلالة x عن y_1 راتب عبد الله و عن y_2 راتب محمد.

الجزء الثاني

(1) في المستوي المنسوب إلى معلم متعامد و متجانس $(O; \vec{i}, \vec{j})$.

- ارسم المستقيمين (D_1) و (D_2) ممثلا الدالتين g و h حيث:

$$h(x) = 100x + 30000 \text{ و } g(x) = 200x + 20000$$

نأخذ: 1 cm على محور الفواصل يمثل 50 لعبة، 1 cm على محور الترتيب يمثل 5000 DA).

(2) حل جملة المعادلتين التالية:

$$\begin{cases} y = 200x + 20000 \\ y = 100x + 30000 \end{cases}$$

- ثم أعط تفسيرا بيانيا لهذا الحل.

- بقرأة بيانية متى يكون راتب عبد الله أكبر من راتب محمد؟

الجزء الأول

(1) حساب الراتب الشهري عندما يتم صنع 120 لعبة:

- راتب عبد الله:

$$\begin{aligned} 200 \times 120 + 20000 &= 24000 + 20000 \\ &= 44000 \text{ DA} \end{aligned}$$

و عليه الراتب لشهري لعبد الله عندما يتم صنع 120 لعبة هو 44000 DA.

- راتب محمد:

$$100 \times 120 + 30000 = 12000 + 30000$$

$$= 42000 \text{ DA}$$

و عليه الراتب الشهري لمحمد عندما يتم صنع 120 لعبة هو **42000 DA**.

(2) التعبير عن y_1 و عن y_2 بدلالة x . لدينا:

$$y_1 = 200x + 20000$$

y_1 يمثل الراتب الشهري لعبد الله

و

$$y_2 = 100x + 30000$$

y_2 يمثل الراتب الشهري لمحمد

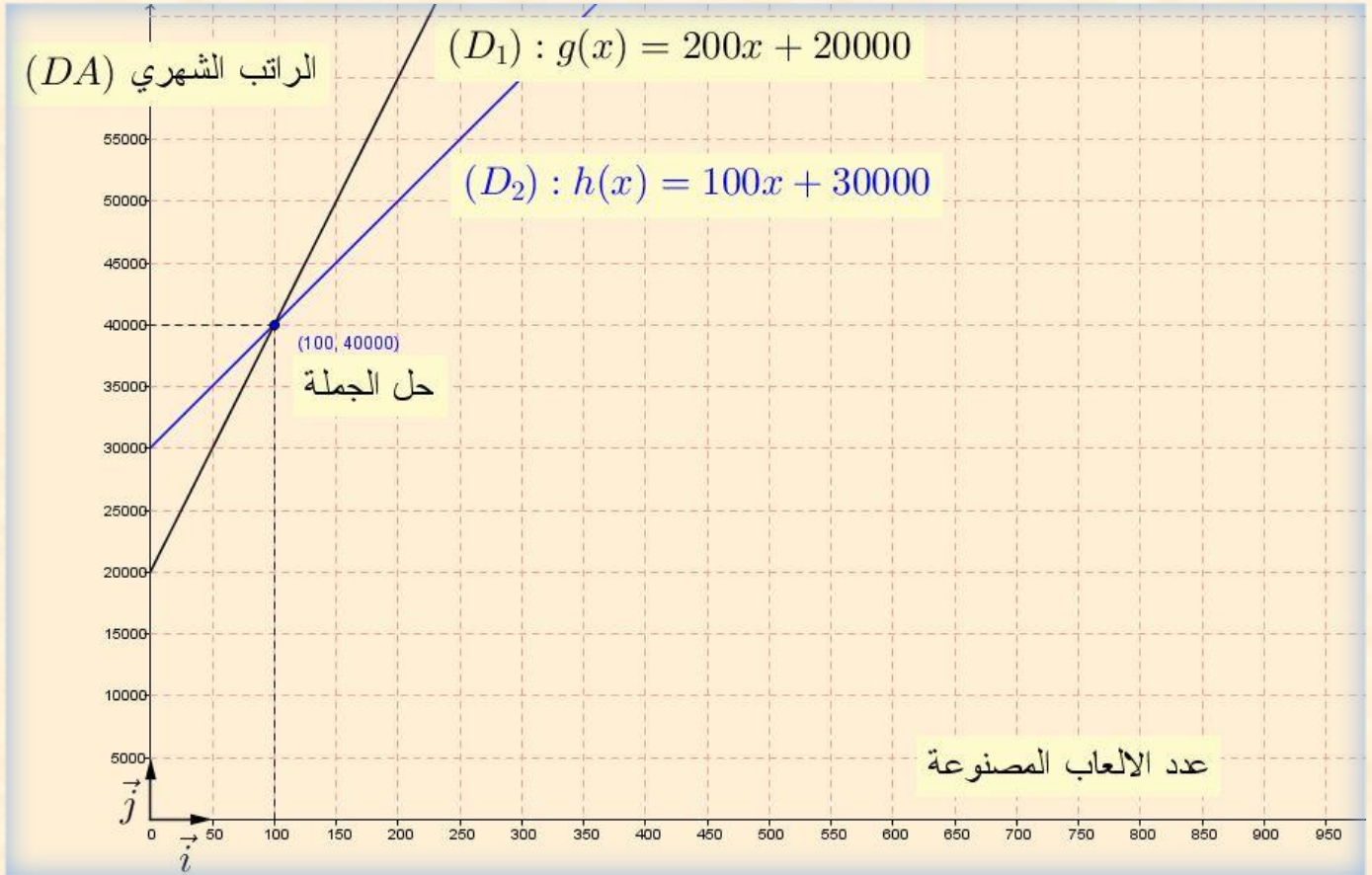
الجزء الثاني

(1) رسم مستقيما الدالتين $g(x) = 200x + 20000$ و $h(x) = 100x + 30000$.

x	0	50		x	0	50
$h(x)$	30000	35000	و	$g(x)$	20000	30000

ملاحظة: تأخذ بعين الاعتبار كل النقط المختارة من طرف التلميذ

التمثيل البياني



(2) حل جملة المعادلتين:

$$\begin{cases} y = 200x + 20000 \\ y = 100x + 30000 \end{cases}$$

و منه

$$\begin{aligned}200x + 20000 &= 100x + 30000 \\200x - 100x &= 30000 - 20000\end{aligned}$$

و عليه

$$\begin{aligned}100x &= 10000 \\x &= \frac{10000}{100} = 100\end{aligned}$$

بتعويض قيمة x في المعادلة:

$$y = 200x + 20000$$

نجد:

$$\begin{aligned}y &= 200 \times 100 + 20000 \\&= 20000 + 20000 = 40000\end{aligned}$$

و عليه للجملة حل واحد هو $(100; 40000)$.

التفسير البياني لحل الجملة:

- حل الجملة هو إحداثيتنا نقطة تقاطع المستقيمين (D_1) و (D_2) التي تمثل تساوي الراتبين عند صنع 100 لعبة.
- من التمثيل البياني يكون راتب عبد الله أكبر من راتب محمد عند صنع أكثر من 100 لعبة.



$ABCD$ قطعة ارض مربعة الشكل مساحتها 324 m^2 ملك للأخوين احمد و فاطمة و مجزة حسب المخطط المقابل

الجزء الأول

(1) احسب a طول ضلع هذه القطعة.

(2) M نقطة متحركة على الضلع $[BC]$ حيث: $BM = x$.

E نقطة من $[BA]$ حيث: $BE = 12 \text{ m}$.

الجزء EBM تملكه فاطمة و الجزء $AEMCD$ يملكه احمد.

(أ) ليكن S_1 مساحة الجزء EBM و S_2 مساحة الجزء $AEMCD$

- اكتب بدلالة x كلا من المساحتين S_1 و S_2 .

(ب) ساعد الأخوين على تحديد موضع النقطة M

بحيث تكون مساحة قطعة احمد ضعف مساحة قطعة فاطمة.

الجزء الثاني

المستوي منسوب إلى معلم متعامد و متجانس $(O; \vec{i}, \vec{j})$.

(1) مثل بيانيا الدالتين f و g حيث: $f(x) = 12x$ ، $g(x) = -6x + 324$.

(تأخذ: 1 cm على محور الفواصل يمثل 2 cm و 1 cm على محور الترتيب يمثل 36 m^2)

(2) بقراءة بيانية فسر مساعدتك السابقة للأخوين حول تحديد موضع النقطة M مع إيجاد مساحة كل من القطعتين.

حل المسألة 3.5

الجزء الأول

(1) حساب a طول ضلع القطعة. بما أن مساحة المربع $ABCD$ هي $S = a^2 = 324$ فان:

$$a = \sqrt{324} = 18$$

و عليه طول ضلع القطعة هو 18 m .

(2) M نقطة متحركة على الضلع $[BC]$ حيث: $BM = x$ و E نقطة من $[BA]$ حيث: $BE = 12 \text{ m}$.

(أ) كتابة المساحتين S_1 و S_2 بدلالة x . من جهة لدينا:

$$\begin{aligned} S_1 &= \frac{EB \times BM}{2} \\ &= \frac{12 \times x}{2} = 6x \end{aligned}$$

و عليه $S_1 = 6x$ (مقدرة ب m^2)
و من جهة أخرى لدينا:

$$\begin{aligned} S_2 &= 324 - S_1 \\ &= 324 - 6x \end{aligned}$$

و عليه $S_2 = 324 - 6x$ (مقدرة ب m^2)
ب) تحديد موضع M بحيث تكون مساحة قطعة احمد ضعف مساحة قطعة فاطمة لدينا:

$$S_2 = 2S_1$$

و منه

$$\begin{aligned} 324 - 6x &= 2 \times 6x \\ 12x + 6x &= 324 \\ 18x &= 324 \\ x &= \frac{324}{18} = 18 \end{aligned}$$

إذن $x = 18$ (الوحدة هي m) و بالتالي النقطة M تنطبق على النقطة C .

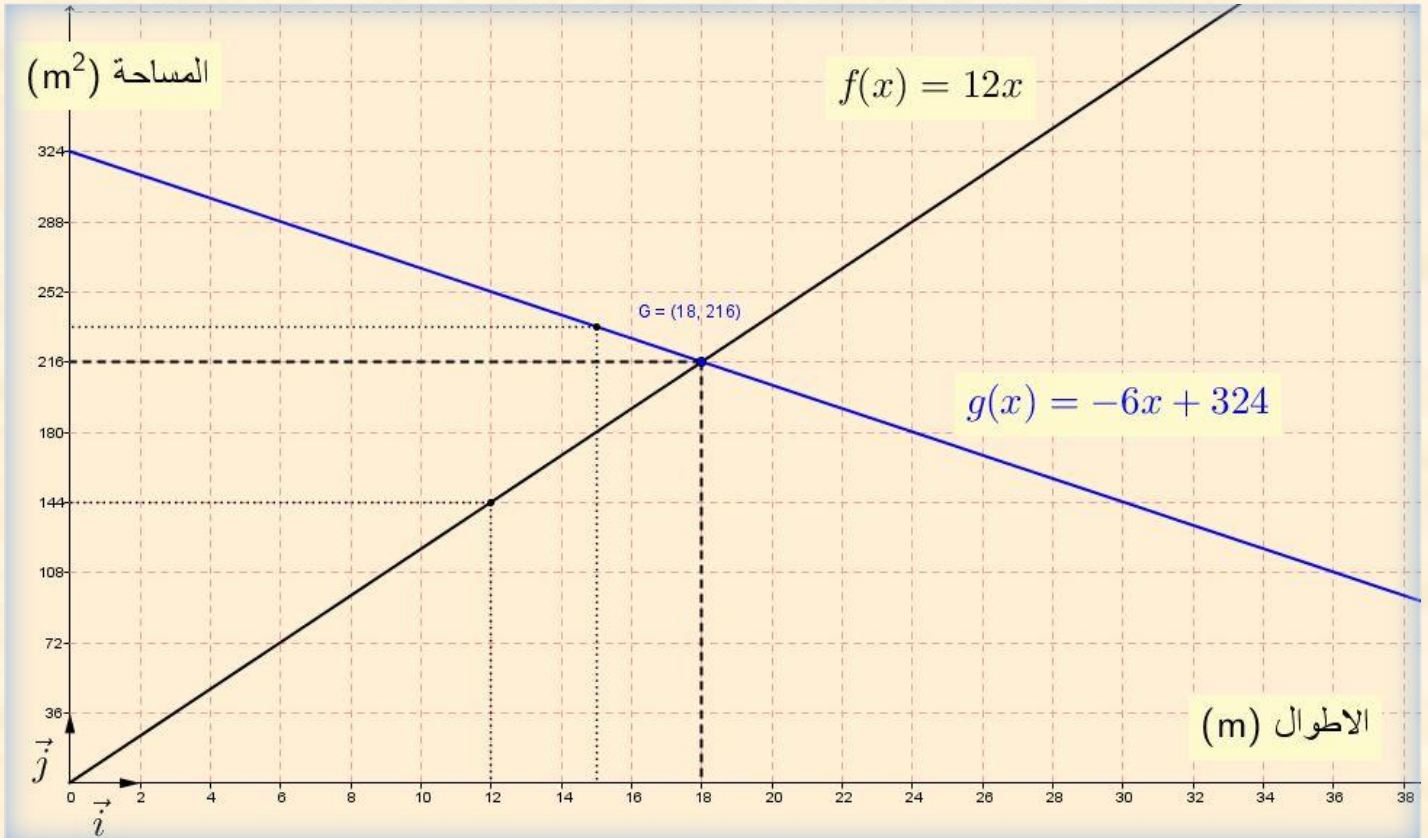
الجزء الثاني

1) التمثيل البياني للدالة f هو المستقيم الذي يشمل النقطتين: مبدأ المعلم $O(0;0)$ و النقطة $K(12;144)$

التمثيل البياني للدالة التالفية g هو المستقيم الذي يشمل النقطتين: $E(0;324)$ و $F(15;234)$

ملاحظة: تقبل أي نقطتين من التمثيل البياني لكل من الدالتين.

التمثيل البياني



(2) التفسير البياني و إيجاد المساحتين:

التمثيلان البيانيان للدالتين f و g يتقاطعان في النقطة $G(18;216)$. لدينا:
 $g(x) = S_2$ و $f(x) = 2S_1$

و من اجل $x = 18$ فان:

$$\begin{aligned} f(x) &= g(x) \\ 2S_1 &= S_2 \end{aligned}$$

و من التمثيل البياني لدينا:

$$g(18) = 216$$

أي

$$S_2 = 216$$

و منه فان

$$2S_1 = 216$$

و عليه $S_1 = 108$.

إذن مساحة القطعة التي يملكها احمد هي 216 m^2 و مساحة القطعة التي تملكها أخته فاطمة هي 108 m^2 .

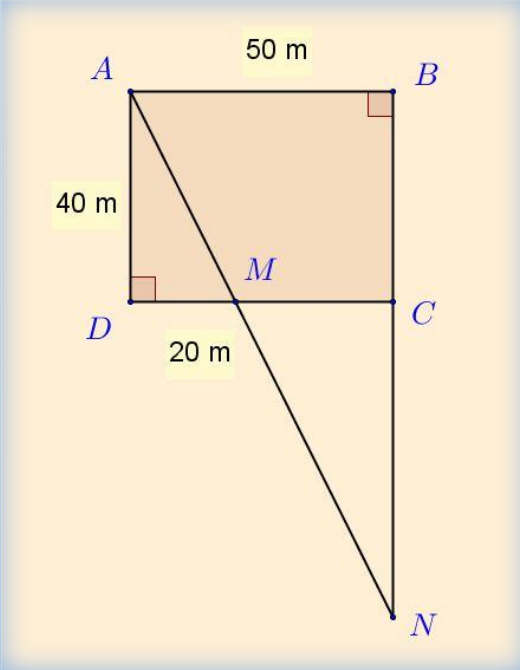


لجذك قطعة ارض لها الشكل المقابل حيث:

$ABCD$ مستطيل أبعاده 50 m و 40 m و M نقطة من $[DC]$ حيث: $DM=20$ m

N نقطة تقاطع (BC) و (AM) .

الجزء الأول



(1) بين أن: $\frac{MA}{MN} = \frac{2}{3}$

(2) احسب الطول BN

(3) احسب بالتدوير إلى الوحدة من الدرجة قيس الزاوية \widehat{MAD} .

الجزء الثاني

وهب جذك لأبيك و عمك القطعة MCN ليقسمانها بينهما بالعدل.

(1) اقترح عمك أن تكون النقطة E صورة النقطة M بالدوران الذي مركزه C و زاويته 90° في الاتجاه الموجب هي

بداية الخط الفاصل $[EM]$ بين القطعتين MNE و MCE الناتجتين عن هذه القسمة.

- اثبت انه كان محقا في اختياره.

تحصل أبوك على مبلغ 5.4×10^6 DA من عملية بيع قطعتة الأرضية MNE بعد دفعه ضريبة نسبتها 20% على المبلغ الإجمالي للقطعة.

- حدد سعر المتر المربع الواحد لهذه القطعة و اكتبه كتابة علمية.

BEM 2016

الجزء الأول

(1) إثبات أن $\frac{MA}{MN} = \frac{2}{3}$. لدينا: $(NC) \parallel (AD)$ و النقط A, M, N و D, M, C على استقامة بنفس الترتيب

حسب خاصية طالس:

$$\frac{MA}{MN} = \frac{MD}{MC} = \frac{AD}{CN} \quad (1)$$

و بما أن

$$\begin{aligned} MC &= CD - MD \\ &= 50 - 20 = 30 \end{aligned}$$

فان

$$\frac{MA}{MN} = \frac{20}{30} = \frac{2}{3}$$

(2) حساب الطول BN . من (1) لدينا:

$$\frac{MA}{MN} = \frac{AD}{CN}$$
$$\frac{2}{3} = \frac{40}{CN}$$

و بالتالي

$$CN = \frac{40 \times 3}{2} = 60$$

و منه

$$BN = BC + CN$$
$$= 40 + 60 = 100$$

و عليه الطول $BN = 100 \text{ m}$

(3) حساب بالتدوير إلى الوحدة من الدرجة قياس الزاوية \widehat{MAD} . لدينا في المثلث ADM القائم في D :

$$\tan \widehat{MAD} = \frac{DM}{AM} = \frac{20}{40} = \frac{1}{2}$$

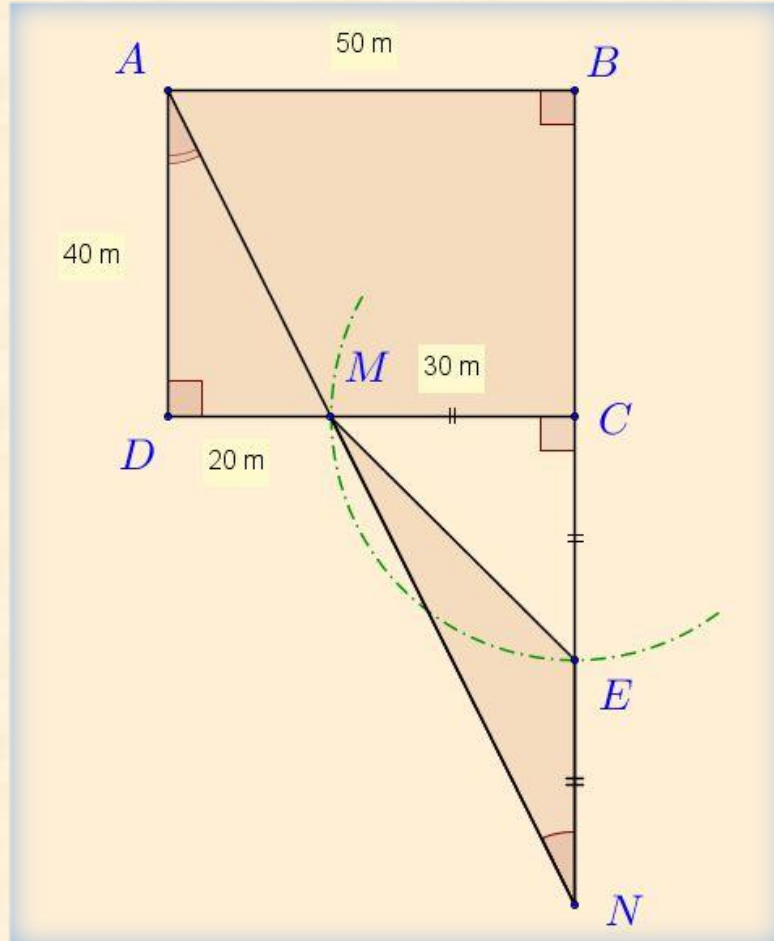
باستعمال الآلة الحاسبة

$$\boxed{0.5} \rightarrow \boxed{2\text{ndf}} \rightarrow \boxed{\tan^{-1}} \rightarrow \boxed{\widehat{MAD} \approx 26.56^\circ}$$

و عليه قياس الزاوية بالتدوير إلى الوحدة من الدرجة هو $\widehat{MAD} = 27^\circ$

الجزء الثاني

(1) تعيين النقطة E صورة النقطة M بالدوران الذي مركزه C و زاويته 90° بالاتجاه الموجب موضع القسمة.



- إثبات أن العم كان محقا في اختياره من جهة لدينا:

$$S_{MCE} = \frac{MC \times CE}{2} \\ = \frac{30 \times 30}{2} = 450$$

و

$$EN = CN - CE = 60 - 30 = 30$$

و من جهة أخرى

$$S_{MEN} = \frac{EN \times CM}{2} \\ = \frac{30 \times 30}{2} = 450$$

و منه

$$S_{MCE} = S_{MEN} = 450 \text{ m}^2$$

إذن فالعم كان محقا في اختياره.

(2) تحديد سعر المتر المربع الواحد لهذه القطعة.

- بفرض سعر المتر المربع الواحد هو x فان المبلغ الإجمالي للقطعة بدلالة x هو $450x$.

- من جهة أخرى المبلغ الإجمالي للقطعة بدون اقتطاع هو:

$$5.4 \times 10^6 \rightarrow 80\% \\ y \rightarrow 100\%$$

أي

$$y = \frac{5.4 \times 10^6}{80} \times 100 \\ = 6.75 \times 10^6$$

و منه

$$450x = 6.75 \times 10^6 \\ x = \frac{6.75 \times 10^6}{450} = 0.015 \times 10^6$$

و عليه سعر المتر المربع الواحد لهذه القطعة هو $1.5 \times 10^4 \text{ DA}$.



الجزء الأول

لعمي أحمد قطعة أرض مستطيلة الشكل مساحتها 1000 m^2 ، عرضها يمثل $\left(\frac{2}{5}\right)$ من طولها.

- أوجد بُعدي هذه القطعة.

الجزء الثاني

تنازل عمي أحمد لأخيه عن جزء من هذه القطعة مساحته 100 m^2

و خصص الجزء الباقي منها لاستغلاله مشتلة للورود و الأشجار.

لهذا الغرض قسم هذا الجزء عشوائيا إلى قطعتين

كما هو موضح في الشكل المقابل:

نضع: $DM = x$ (M نقطة من $[DC]$ مع $0 \leq x \leq 50$).

لتكن $f(x)$ مساحة المثلث BCM و $g(x)$ مساحة القطعة $ABMD$.

(1) - عبّر عن $f(x)$ و $g(x)$ بدلالة x .

ب- ساعد عمي أحمد لإيجاد الطول DM حتى تكون لقطعتي الأرض نفس المساحة.

(2) - في المستوي المنسوب إلى معلم متعامد و متجانس $(O; \vec{i}, \vec{j})$.

- مثل بيانيا الدالتين $f(x) = 500 - 10x$ ، $g(x) = 10x + 400$

(نأخذ: 1 cm على محور الفواصل يمثل 2 m و 1 cm على محور الترتيب يمثل 50 m^2)

ب- فسر بيانيا مساعدتك السابقة لعمي أحمد مع تحديد قيمة المساحة في هذه الحالة.

حل المسألة 5.5

الجزء الأول

(1) إيجاد بعدي قطعة الأرض: بفرض طول القطعة هو x فان عرضها هو $\frac{2}{5}x$.

و بما أن مساحتها 1000 m^2 فان:

$$x \left(\frac{2}{5}x \right) = 1000$$

$$\frac{2}{5}x^2 = 1000$$

$$x^2 = 1000 \times \frac{5}{2} = 2500$$

و بما أن الأطوال أعداد موجبة فان :

$$x = \sqrt{2500} = 50$$

و منه

$$\frac{2}{5}x = \frac{2}{5} \times (50) = 20$$

و عليه طول القطعة هو 50 m و عرضها هو 20 m .
ملاحظة : يمكن حل هذا السؤال باستعمال جملة معادلتين.

الجزء الثاني

(1) ا) التعبير عن $f(x)$ و $g(x)$ بدلالة x . لدينا من جهة :

$$\begin{aligned} f(x) &= \frac{CM \times AD}{2} \\ &= \frac{20(50-x)}{2} \\ &= 500 - 10x \end{aligned}$$

و عليه $f(x) = 500 - 10x$.
و من جهة أخرى

$$\begin{aligned} g(x) &= (1000 - 100) - f(x) \\ &= 900 - (500 - 10x) \\ &= 400 + 10x \end{aligned}$$

و عليه $g(x) = 400 + 10x$.

ملاحظة : يمكن التعبير عن $g(x)$ باستعمال علاقة مساحة شبه منحرف.

ب) مساعدة عمي احمد لإيجاد الطول DM حتى تكون لقطعتي الأرض نفس المساحة.
لقطعتي الأرض نفس المساحة تعني :

$$f(x) = g(x)$$

أي

$$\begin{aligned} 500 - 10x &= 400 + 10x \\ 500 - 400 &= 10x + 10x \\ 20x &= 100 \\ x &= \frac{100}{20} = 5 \end{aligned}$$

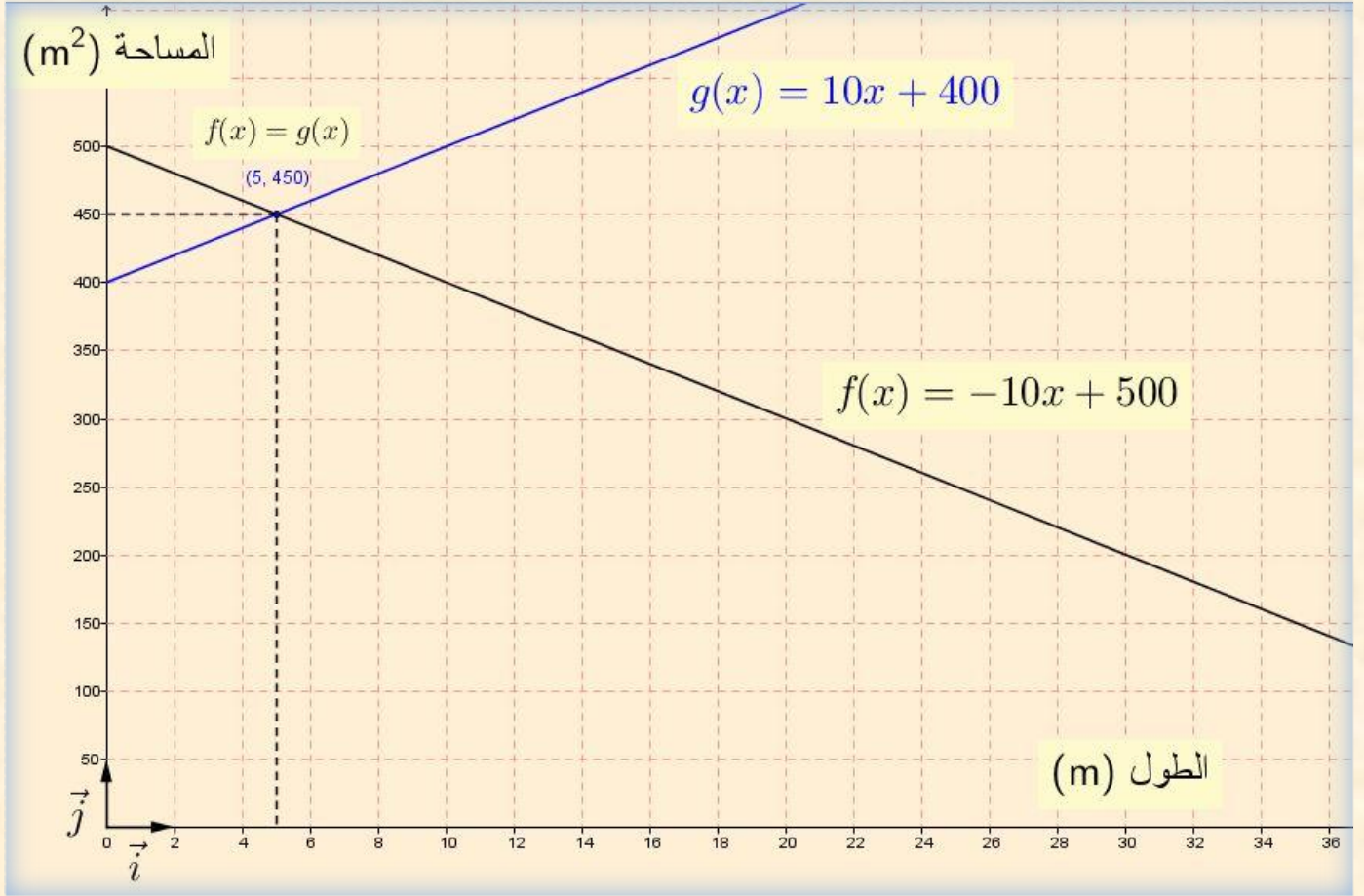
و عليه حتى تكون لقطعتي الأرض نفس المساحة يجب أن يكون $DM = 5 \text{ m}$.

(2) ا) لتمثيل الدالتين : $f(x) = -10x + 500$ و $g(x) = 10x + 400$ بيانيا نستعين ب :

x	0	10
$g(x)$	400	500

 و

x	0	10
$f(x)$	500	400



ب) التفسير البياني للمساعدة السابقة لعمي احمد مع تحديد قيمة المساحة في هذه الحالة يكون لقطعتي الأرض نفس المساحة من اجل فاصلة نقطة تقاطع المنحنيين و هي $x = 5$ و تبلغ قيمة المساحة في هذه الحالة 450 m^2 .



بمناسبة عيد الأضحى قدمت مؤسسة للهاتف النقال عرضين لمدة أسبوع للتواصل و تبادل التهانى بواسطة الرسائل القصيرة (SMS).

العرض الأول : 3 DA للرسالة الواحدة.

العرض الثاني : 1.5 DA للرسالة الواحدة مع اقتطاع مبلغ جزائي قدره 30 DA من الرصيد.

(1) انقل و أكمل الجدول:

عدد الرسائل (SMS)	10		
المبلغ حسب العرض الأول ب DA		45	
المبلغ حسب العرض الثاني ب DA			90

(2) x يعبر عن عدد الرسائل المرسلة.

y_1 هو المبلغ حسب العرض الأول و y_2 هو المبلغ حسب العرض الثاني.

- عبر عن y_1 و y_2 بدلالة x .

(3) f و g دالتان حيث: $f(x) = 3x$ و $g(x) = 1.5x + 30$.

مثل بيانيا الدالتين f و g في نفس المعلم المتعامد و المتجانس حيث

(1 cm على محور الفواصل يمثل 5 رسائل SMS و 1 cm على محور الترتيب يمثل 10 DA)

(4) يريد الأخوان زينب و كريم استغلال هذين العرضين لهذه المناسبة. في رصيد كريم 120 DA و يريد تهنئة أكبر عدد

ممكن من الأشخاص. أما زينب تريد تهنئة زميلاتها في الدراسة و عددن 15.

- بقراءة بيانية، ما هو العرض المناسب لكل منهما؟ (مع الشرح)

حل المسألة 6.5

(1) إتمام الجدول:

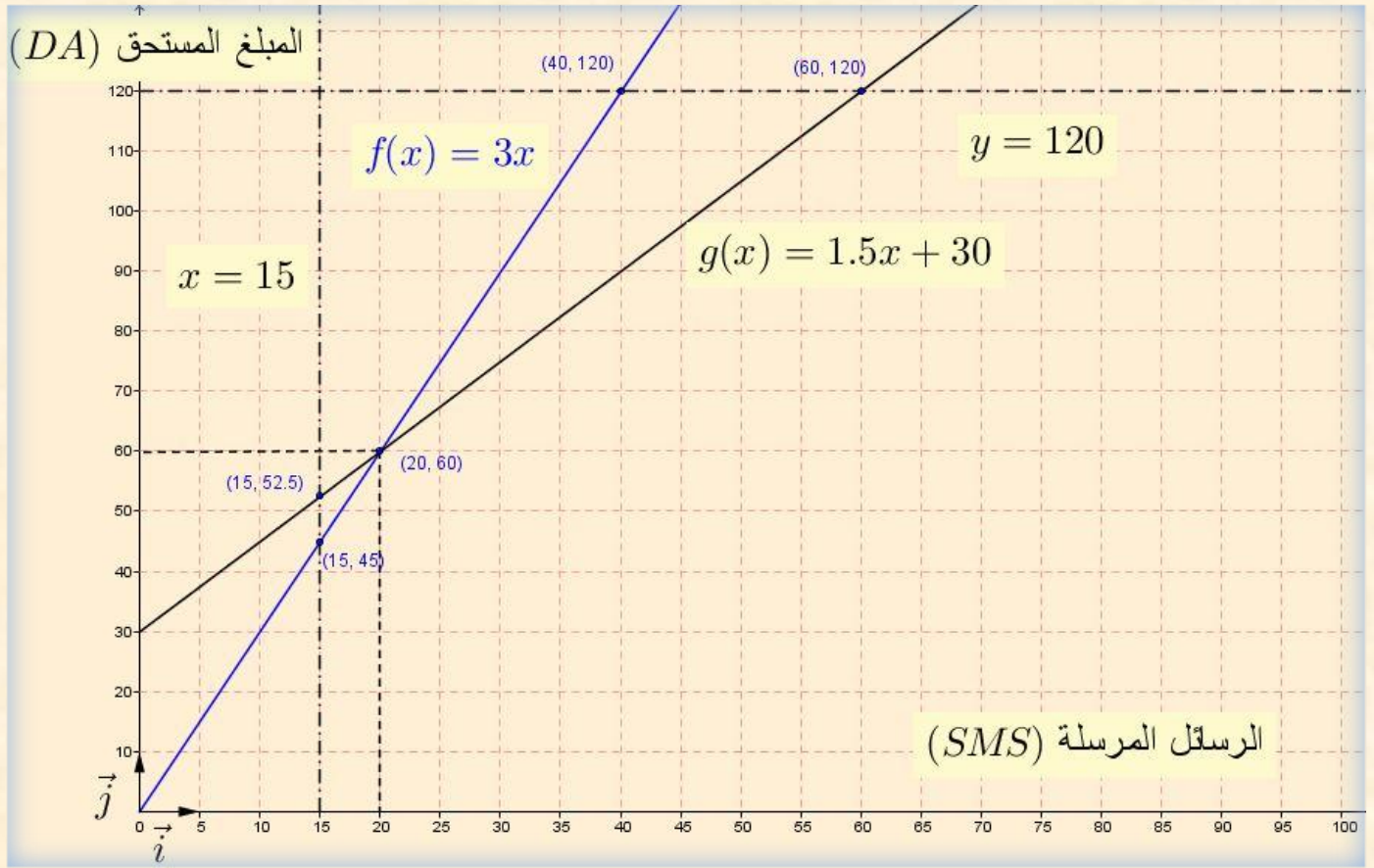
عدد الرسائل (SMS)	10	15	40
المبلغ حسب العرض الأول ب DA	30	45	120
المبلغ حسب العرض الثاني ب DA	45	52.5	90

(2) التعبير عن y_1 و y_2 بدلالة x . لدينا:

$$y_1 = 3x$$

و

$$y_2 = 1.5x + 30$$



الدالة f خطية تمثيلها البياني يشمل المبدأ و النقطة مثلا: $(10;30)$.

الدالة g تاليفية تمثيلها البياني يشمل النقطتين مثلا: $(0;30)$ و $(40;90)$.

(4) بقراءة بيانية نلاحظ أن:

- العرض المناسب لكريم هو العرض الثاني لان المستقيم الذي معادلته $y = 120$ يقطع التمثيل البياني للدالة f في النقطة التي فاصلتها 40 بينما يقطع التمثيل البياني للدالة g في النقطة التي فاصلتها 60 أي عدد الرسائل بالعرض الثاني أكبر منه بالعرض الأول.

- العرض المناسب لزينب هو العرض الأول لان المستقيم الذي معادلته $x = 15$ يقطع التمثيل البياني للدالة f في نقطة ترتيبها اصغر من ترتيب نقطة تقاطعه مع التمثيل البياني للدالة g أي بالعرض الأول فان 15 رسالة اقل تكلفة من العرض الثاني.

ملاحظة: يمكن استخدام نقطة تقاطع التمثيلين و التي تمثل تساوي العرضين لتفسير الاختيارين.

لإقامة حفل زفاف قررت عائلة كراء سيارة فاخرة فاتصل الأب محمد بثلاث وكالات فقدموا له عروضاً حسب المعطيات التالية
عرض الوكالة الأولى: دفع مبلغ 4000 DA لليوم الواحد.

عرض الوكالة الثانية: دفع مبلغ 3000 DA لليوم الواحد يضاف إليه ضمان غير مسترجع قدره 1000 DA.

عرض الوكالة الثالثة: دفع مبلغ 16000 DA لمدة لا تتعدى أسبوعاً واحداً.

فاستنجد الأب محمد بابنه سمير الذي يدرس في السنة الرابعة متوسط لمساعدته في اختيار العرض الأنسب و الأقل تكلفة.
 لو كنت في مكان الابن سمير ساعد الأب محمد في:

(1) اختيار العرض الأنسب و الأقل تكلفة لكرء سيارة لمدة 7 أيام.

(2) عدد الأيام التي يستغل فيها الأب محمد السيارة.

(أ) عبر، بدلالة x ، عن العرض الأول بالدالة $f(x)$ و عن العرض الثاني بالدالة $g(x)$ و عن العرض الثالث بالدالة $h(x)$.

(ب) مثل بياناً في معلم متعامد و متجانس $(O; \vec{i}, \vec{j})$ الدوال f ، g و h .

(حيث كل 2 cm من محور الفواصل يمثل يوماً واحداً و كل 1 cm من محور الترتيب يمثل 2000 DA)

(3) اعتماداً على البيان أمتلاً الجدول الآتي:

اليوم الخامس	اليوم الرابع	اليوم الأول	الايام
			العروض
			العرض 1
			العرض 2
			العرض 3

(4) (أ) حل المعادلات الآتية لإيجاد x عدد الأيام المستغلة من طرف الأب محمد

$$g(x) = h(x), \quad f(x) = h(x), \quad f(x) = g(x)$$

(ب) ماذا يمثل حل كل معادلة؟

حل المسألة 7.5

(1) اختيار العرض المناسب لمدة أسبوع:

- عرض الوكالة الأولى: $4000 \times 7 = 28000$ DA

- عرض الوكالة الثانية: $3000 \times 7 + 1000 = 21000 + 1000 = 22000$ DA

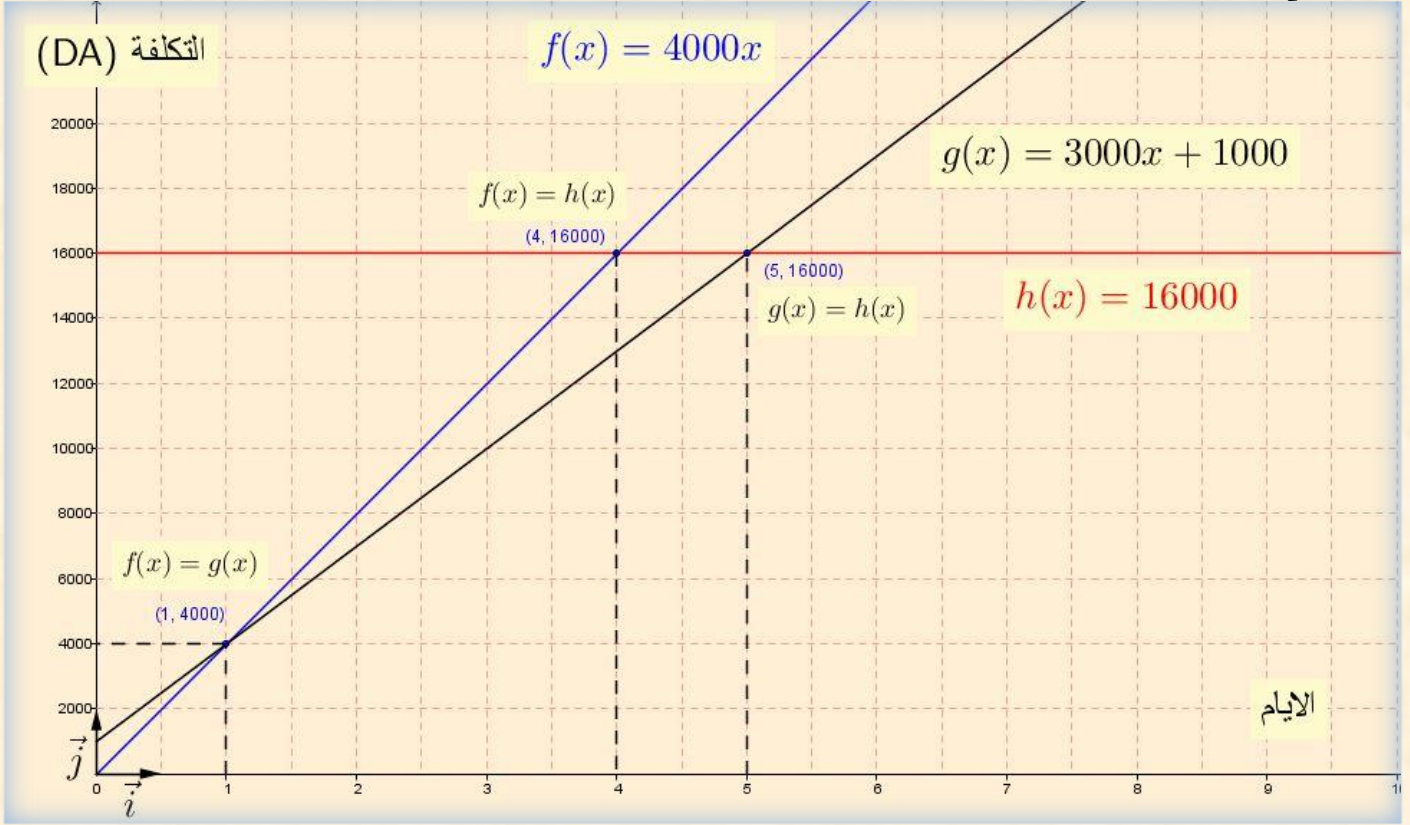
- عرض الوكالة الثالثة: 16000 DA

إذن العرض الأقل تكلفة لمدة أسبوع هو عرض الوكالة الثالثة.

(2) نعبّر عن $f(x)$ و $g(x)$ و $h(x)$ بدلالة x . لدينا:

$$h(x) = 16000 \text{ و } g(x) = 3000x + 1000 \text{ و } f(x) = 4000x$$

- التمثيل البياني:



(3) ملء الجدول من البيان

الأيام	اليوم الأول	اليوم الرابع	اليوم الخامس
العروض 1	4000	16000	20000
العروض 2	4000	13000	16000
العروض 3	16000	16000	16000

(4) حل المعادلات:

- حل المعادلة: $f(x) = g(x)$
معناه

$$\begin{aligned} 4000x &= 3000x + 1000 \\ 4000x - 3000x &= 1000 \\ 1000x &= 1000 \\ x &= \frac{1000}{1000} = 1 \end{aligned}$$

و منه حل المعادلة $f(x) = g(x)$ هو $x = 1$.

- حل المعادلة: $f(x) = h(x)$

معناه:

$$\begin{aligned} 4000x &= 16000 \\ x &= \frac{16000}{4000} = 4 \end{aligned}$$

و منه حل المعادلة $f(x) = h(x)$ هو $x = 4$.

- حل المعادلة: $g(x) = h(x)$

معناه:

$$\begin{aligned} 3000x + 1000 &= 16000 \\ 3000x &= 16000 - 1000 \\ 3000x &= 15000 \\ x &= \frac{15000}{3000} = 5 \end{aligned}$$

و منه حل المعادلة $g(x) = h(x)$ هو $x = 5$.

و عليه:

- في اليوم الأول يتساوى العرض الأول مع العرض الثاني
- في اليوم الرابع يتساوى العرض الأول مع العرض الثالث
- في اليوم الخامس يتساوى العرض الثاني مع العرض الثالث.



يقترح مدير صحيفة يومية على زبائنه صيغتين لاقتناء الجريدة:

الصيغة الأولى: ثمن الجريدة 10 DA.

الصيغة الثانية: ثمن الجريدة 8 DA مع اشتراك سنوي قدره 500 DA.

(1) انقل و اتم الجدول:

		50	عدد الجرائد المشتراة
	1000		مبلغ الصيغة الأولى ب DA
3300			مبلغ الصيغة الثانية ب DA

(2) ليكن x عدد الجرائد المشتراة.

نسمي $f(x)$ الثمن المدفوع بالصيغة الأولى و $g(x)$ الثمن المدفوع بالصيغة الثانية.

- عبر عن $f(x)$ و $g(x)$ بدلالة x .

(3) مثل بيانيا الدالتين $f(x)$ و $g(x)$ في معلم متعامد و متجانس $(O; \vec{i}, \vec{j})$ حيث:

2 cm على محور الفواصل يمثل 50 جريدة و 2 cm على محور الترتيب يمثل 500 DA.

(4) حل المعادلة $f(x) = g(x)$ و ماذا يمثل الحل؟

(5) ما هي الصيغة الأفضل في الحالتين التاليتين:

- عند اقتناء 150 جريدة.

- عند اقتناء 270 جريدة.

حل المسألة 8.5

(1) إتمام الجدول:

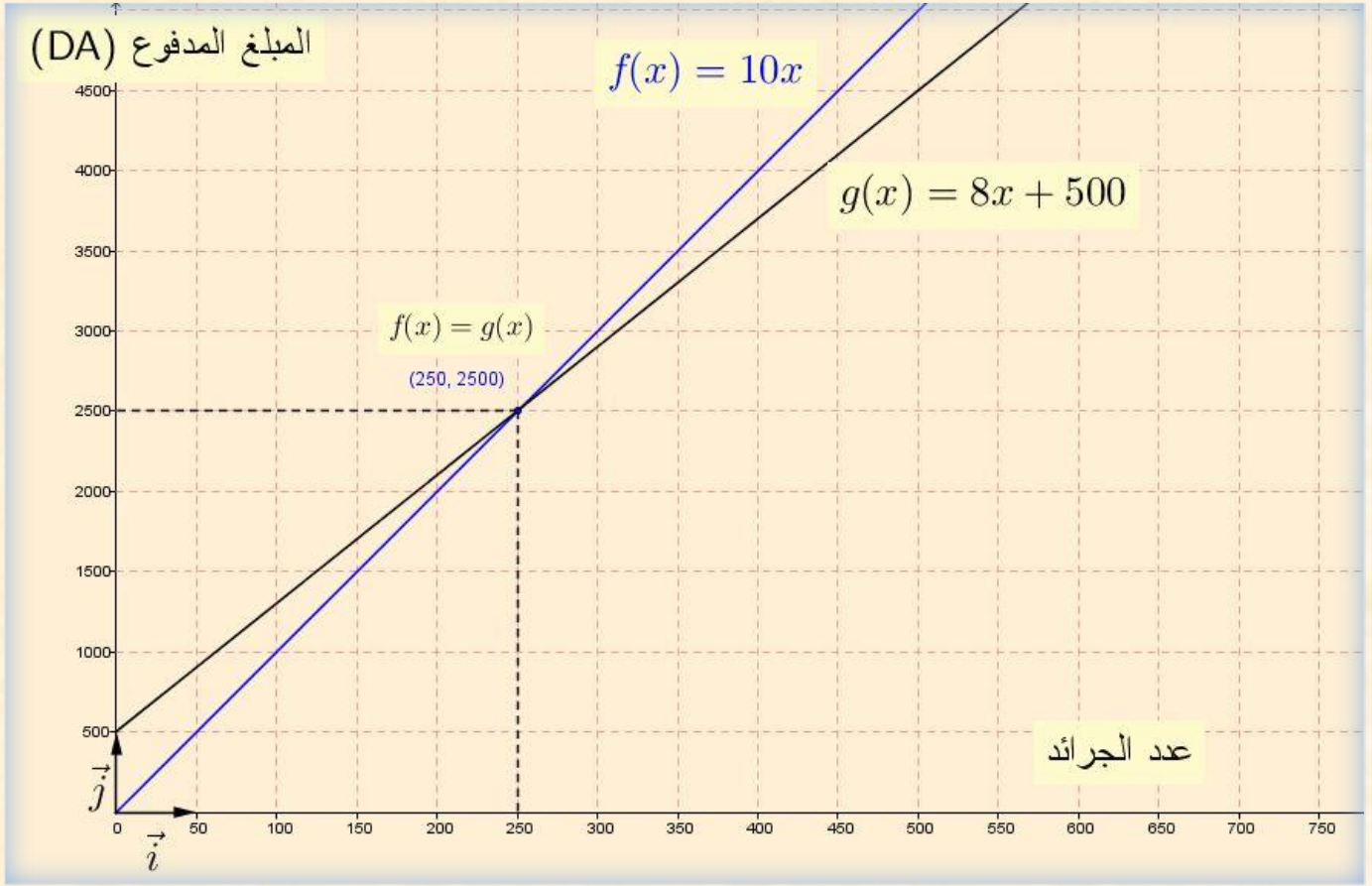
350	100	50	عدد الجرائد المشتراة
3500	1000	500	مبلغ الصيغة الأولى ب DA
3300	1300	900	مبلغ الصيغة الثانية ب DA

(2) التعبير عن $f(x)$ و $g(x)$ بدلالة x . لدينا:

$$f(x) = 10x$$

و

$$g(x) = 8x + 500$$



(4) حل المعادلة $f(x) = g(x)$. لدينا :

$$\begin{aligned} 10x &= 8x + 500 \\ 2x &= 500 \\ x &= 250 \end{aligned}$$

يمثل الحل نقطة تقاطع المنحنيين و يمثل عدد الجرائد المشتراة بالصيغتين معا.

(5) تحديد الصيغة الأفضل :

أ) حساب ثمن 150 جريدة بالصيغة الأولى : $f(150) = 10 \times 150 = 1500$
 - حساب ثمن 150 جريدة بالصيغة الثانية : $g(150) = 8 \times 150 + 500 = 1700$

إذن الصيغة الأولى هي الأفضل لاقتناء 150 جريدة.

ب) حساب ثمن 270 جريدة بالصيغة الأولى : $f(270) = 10 \times 270 = 2700$
 - حساب ثمن 270 جريدة بالصيغة الثانية : $g(270) = 8 \times 270 + 500 = 2660$

نقول أن الصيغة الثانية هي الأفضل لاقتناء 270 جريدة.

ملاحظة : يمكن استعمال المنحنى البياني لتحديد الصيغة الأفضل في الحالتين.

تقترح وكالة تجارية للاتصالات الهاتفية للتسديد الشهري الصيغ الثلاث الآتية:

الصيغة (أ) : دفع 11 ديناراً للدقيقة.

الصيغة (ب) : دفع 600 ديناراً اشتراكاً و 5 دنانير للدقيقة.

الصيغة (ج) : دفع 1200 ديناراً اشتراكاً و 3 دنانير للدقيقة.

(1) احسب تكلفة المكالمات التي مدتها 100 دقيقة في كل من الصيغ الثلاث.

(2) y يمثل الكلفة بالدنانير و x يمثل المدة بالدقائق.

- اكتب y بدلالة x في كل من الصيغ الثلاث. و في نفس المعلم مثل بيانها الصيغ الثلاث و استنتج الفترة الزمنية التي تكون خلالها الصيغة (ب) اقل تكلفة.

(يمكنك اختيار المعلم بحيث 1 cm تمثل 50 دقيقة على محور الفواصل و 1 cm تمثل 200 DA على محور الترتيب).

BEM 2011

حل المسألة 9.5

(1) حساب تكلفة المكالمات التي مدتها 100 دقيقة في كل من:

- الصيغة (أ) : $c_1 = 11 \times 100 = 1100$ DA

- الصيغة (ب) : $c_2 = 600 + 5 \times 100 = 2100$ DA

- الصيغة (ج) : $c_3 = 1200 + 3 \times 100 = 1500$ DA

(2) y يمثل الكلفة بالدنانير و x يمثل المدة بالدقائق.

◀ كتابة الكلفة y بدلالة المدة الزمنية x في كل من:

- الصيغة (أ) : $y = 11x$

- الصيغة (ب) : $y = 5x + 600$

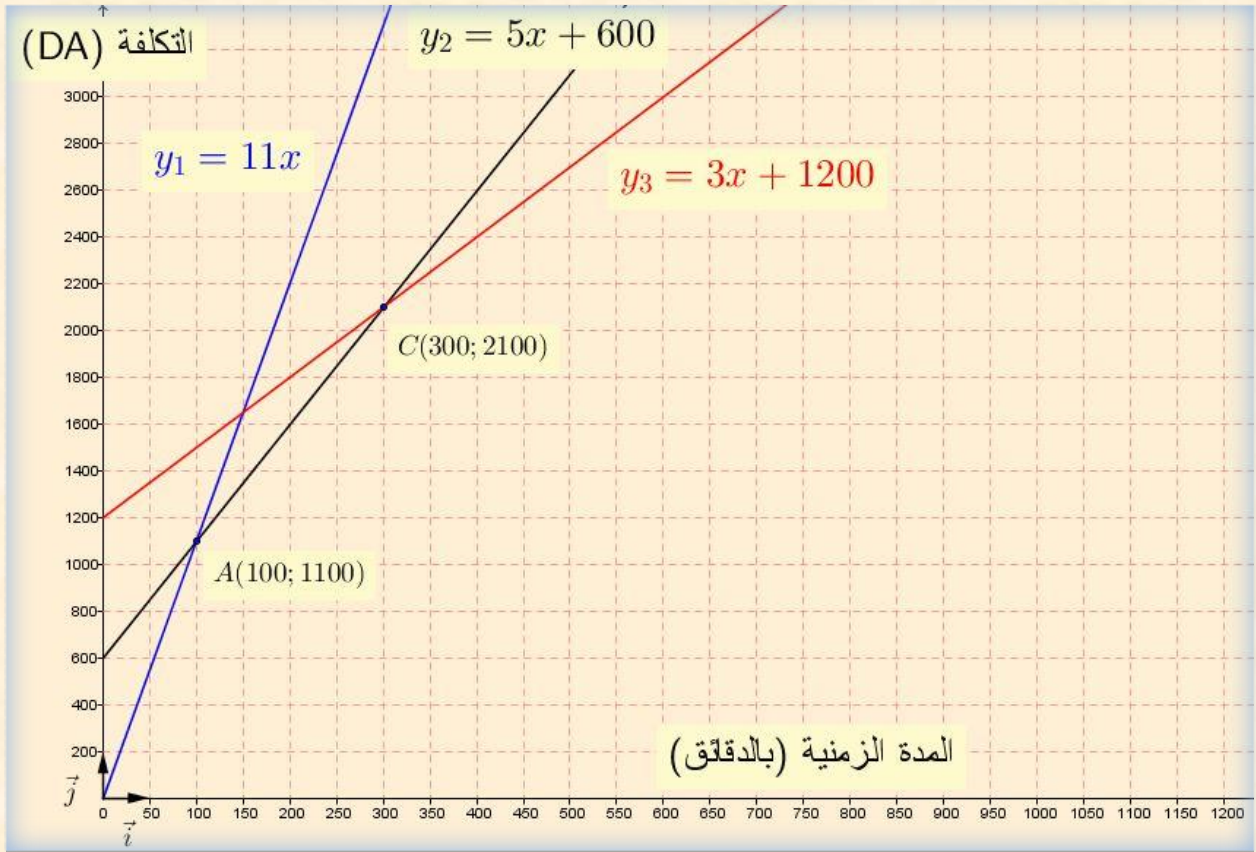
- الصيغة (ج) : $y = 3x + 1200$

◀ التمثيل البياني:

على محور الفواصل : 1 cm → 50 min

على محور الترتيب : 1 cm → 200 DA

الصيغة	إحداثيات النقطة	
	x	y
(أ)	0	0
	100	1100
(ب)	0	600
	100	1100
(ج)	0	1200
	100	1500



◀ الفترة الزمنية التي تكون خلالها الصيغة (ب) اقل تكلفة هي من 100 إلى 300 دقيقة و نستنتجها من البيان لدينا:
من جهة

$$\begin{cases} y = 11x \\ y = 5x + 600 \\ 11x = 5x + 600 \\ y = 11x \end{cases}$$

و عليه

$$\begin{cases} x = 100 \\ y = 1100 \end{cases}$$

و من جهة أخرى

$$\begin{cases} y = 5x + 600 \\ y = 3x + 1200 \\ 5x + 600 = 3x + 1200 \\ y = 5x + 600 \end{cases}$$

و عليه

$$\begin{cases} x = 300 \\ y = 2100 \end{cases}$$

■