

# دروس الجغرافيا المقطع الثاني

## الثانية متوسط

### 1 - الصين و اليابان ( الخصائص الطبيعية )

#### 1 / الموقع الجغرافي والفلكي للصين و اليابان :

أ- الصين : تقع في الجزء الشمالي الشرقي للقارة وهي تمتد بين خطي طول 47 و 134 درجة شرقا وبين دائرتي عرض 18 و 54 درجة شمالا .

ب- اليابان : تقع في أقصى شرق آسيا وهي تنحصر بين المحيط الهادي شرقا وبحر اليابان غربا . تمتد بين خطي طول 130 و 149 شرقا وبين دائرتي عرض 20 و 45 شمالا

ج - أهميته :- امتداد و شساعة المساحة

- اتساع الحدود البرية والبحرية

- الإنفتاح على المسطحات المائية (البحار، المحيطات)

#### 2 / المظاهر التضاريسية في الصين و اليابان :

أ- مظاهر السطح في الصين :

- تكثر الجبال في الصين من بينها جبال (كون لون).

- حوض سيتشوان الذي يعد من أهم مناطق الصين الزراعية..

- سهول واسعة في شمال وشرق الصين.

- الهضاب وأهمها هضبة التبت ذات المساحة الكبيرة و التي يبلغ علوها 4500م.

ب- مظاهر السطح في اليابان :

- تشغل الجبال 68 % من مساحة اليابان وأهمها جبل فوجي ياما.

- براكين عديدة ونشطة مثل بركان أونتاكي.

- اليابان عبارة عن أرخبيل (جزري)

- تشغل السهول مساحة 16 % من المساحة الكلية , متمثلة في سهول ساحلية وفيضية وهي قليلة.

#### 3 / المناخ والأنهار في الصين و اليابان :

أ- المناخ في الصين و اليابان : تتميز الصين و اليابان بصفة عامة بطقس رطب معتدل ذي رياح موسمية

ب - الأنهار في الصين و اليابان :

اليابان	الصين
1 - شيناتو غاوا	1 - اليانغتسي
2 - إيشيكاري غاوا	2 - الهوانغ هو
3 - تما غاوا	3 - نهر اللؤلؤ



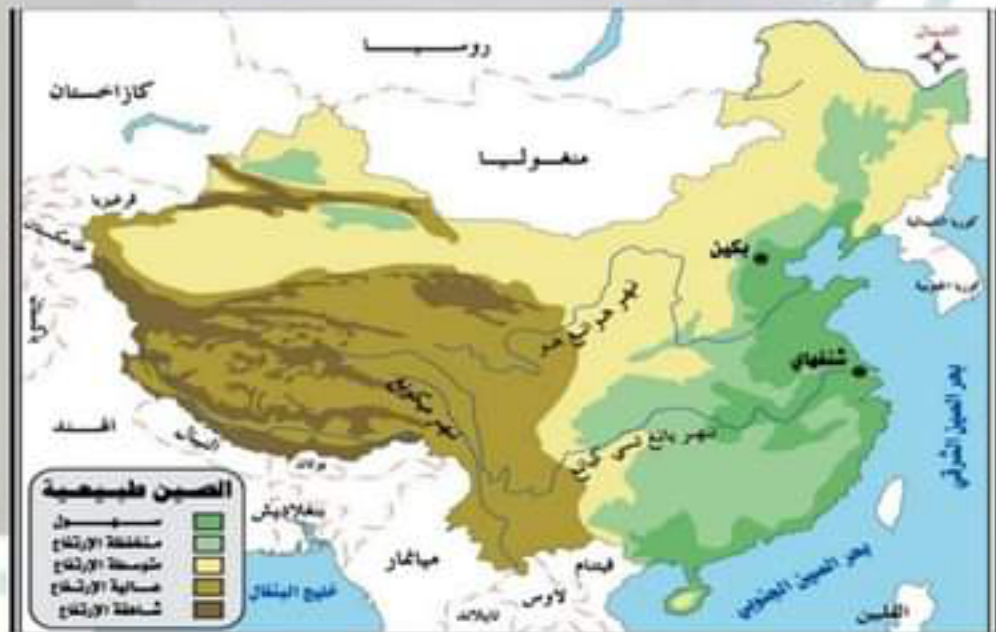
# دروس الجغرافيا المقطع الثاني

## نشاط تقويمي

## الثانية متوسط

**التعليمة:** اعتمادا على مكتسباتك القبلية والسندات الواردة في الكتاب أكمل بيانات الجدول .

اليابان	الصين	
377 ألف كلم 2	9.6 ملايين كلم 2	المساحة
شرق آسيا	شرق آسيا	الموقع الجغرافي
طبيعة جبلية	تنوع مظاهر السطح	طبيعة السطح
اليابان	المناخ المعتدل	المناخ المسيطر



# دروس الجغرافيا المقطع الثاني

## 2 - المير و اليابا ( السكا و الموارد الطبيعية )

## الثانية متوسط

### 1/ السكان في الصين واليابان :

أ- نمو السكان في الصين : ارتفع عدد السكان خلال 40 سنة بزيادة 15 مليون نسمة مما استدعي شروع الدولة في تحديد النسل سنة 1980 م - نمو السكان في اليابان :  
- تراجع عدد سكان اليابان حوالي مليون نسمة في ظرف 5 أعوام مما استدعي شروع الدولة في تحفيز السكان على الزواج والإنجاب.

### 2 / التركيب العمري و الاقتصادي في الصين واليابان :

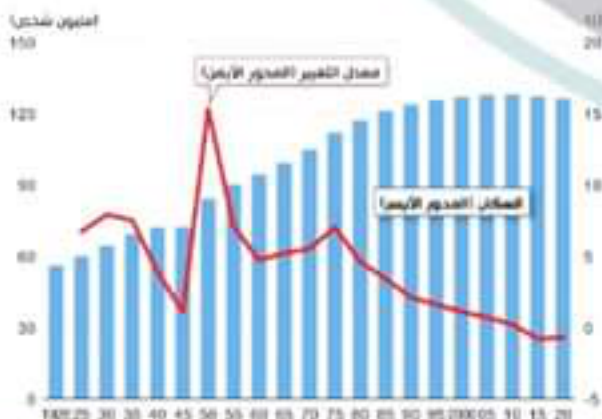
أ - الصين : بلغ عدد سكانها لسنة 2015 حوالي 1.4 مليار 400 مليون نسمة.

التركيب الاقتصادي	التركيب العمري
- الخدمات 36 % - الزراعة 34 % - الصناعة 30 %	- 0 إلى 14 سنة يمثلون نسبة 17 % - 15 إلى 64 سنة يمثلون نسبة 73 % - 56 سنة فما فوق يمثلون نسبة 10 %

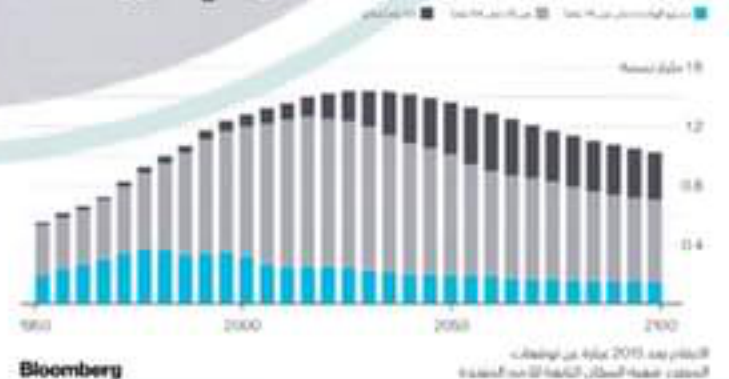
ب - اليابان : بلغ عدد سكانها لسنة 2015 حوالي 127 مليون نسمة.

التركيب الاقتصادي	التركيب العمري
- الخدمات 70 % - الزراعة 26 % - الصناعة 4 %	- 0 إلى 14 سنة يمثلون نسبة 13 % - 15 إلى 64 سنة يمثلون نسبة 61 % - 56 سنة فما فوق يمثلون نسبة 26 %

سكان اليابان ومعدل التغير



تغير الخصائص الديموغرافية للسكان في الصين



# دروس الجغرافيا المقطع الثاني

## 2 - الصين و اليابان ( السكان و الموارد الطبيعية )

## الثانية متوسط



### 3 / التوزيع والكثافة السكانية في الصين واليابان :

- الصين : يتوزع السكان بشكل غير منتظم ويتركز أغلبهم في الجهة الشرقية بكثافة تفوق 500 ن/كلم.

- اليابان : يتركز السكان على الساحل الجنوبي بكثافة تفوق ألف ن/كلم.

4 / الموارد الطبيعية في الصين واليابان : تقدر الأراضي الزراعية في الصين ب 7,90 % من المساحة الكلية وهي قليلة في حين تقدر الأراضي الزراعية في اليابان ب 10 % وهي قليلة مقارنة بعدد سكانها.

أ - الموارد المعدنية :

اليابان	الصين
- عاني من قلة الموارد المعدنية حيث تعتمد على استيراد حاجاتها كالفحم والنحاس والقصدير والزنك	- 0 إلى 14 سنة يمثلون نسبة 13 % - 15 إلى 64 سنة يمثلون نسبة 61 % - 56 سنة فما فوق يمثلون نسبة 26 %

ب - الموارد الطاقوية :

الصين : تتوفر على موارد طاقوية هامة مثل البترول والكهرباء والفحم.

اليابان : تعتمد على الاستيراد خاصة الغاز الطبيعي و البترول.



خلال متابعتك لشريط وثائقي يتناول السكان في الصين واليابان شد انتباهك الاختلاف الكبير بينهما في حجم السكان فطلب منك زملاؤك أن تبرز الواقع السكاني في البلدين .

**السند 1:** تعتبر الصين أكبر دولة في العالم من حيث السكان بتعداد يتجاوز 1 مليار و 300 مليون سنة 2022.

**السند 2:** تشير احصائيات سنة 2022 أن سكان اليابان يتجاوز 125 مليون نسمة.

**التعليمة:** اعتمادا على مكتسباتك القبلية ، وما درست أكتب فقرة

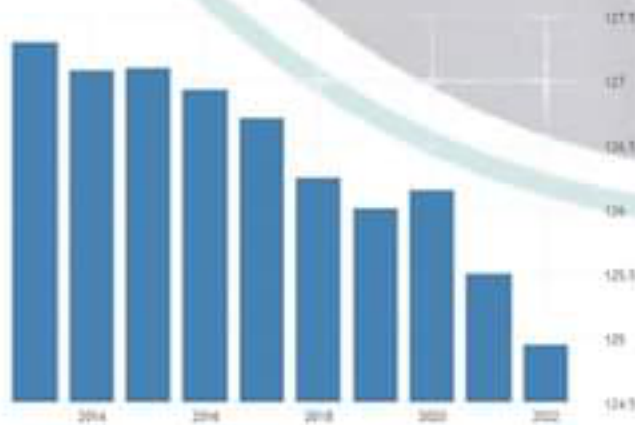
حول الواقع السكاني في الصين و اليابان .

**الفقرة:**

تقع دولتي الصين واليابان في قارة آسيا و تتميز بتعدادها السكاني الكبير الذي يميزها عن باقي الدول .

ويعد حجم السكان الكبير السمة البارزة فيهما إذ تعد الصين الدولة الأكثر سكانا عالميا ، والعدد السكاني في اليابان كبير مقارنة بمساحتها الصغيرة ، يمتاز المجتمع الصيني بفتوته مقارنة بالمجتمع الياباني ، لذلك طبقت الصين سياسة تحديد النسل وشجعت الأسر على تطبيقها بينما اتجهت اليابان إلى تشجيع النسل حفاظا على مجتمعها وتوفيرا لليد العاملة مستقبلا ويخضع توزيعهم لعوامل طبيعية واقتصادية مما أنتج توسع المدن وارتفاع كثافتها السكانية العامة خاصة في الصين .

ولذلك اتجهت الصين إلى تشجيع سكان الأرياف على النشاط الزراعي واستخدام اليابان الوسائل الزراعية الحديثة واستيراد الحاجيات الغذائية من الخارج .



#### 1 / معوقات التنمية في الصين واليابان :

أ- الصين :

- المعوقات الطبيعية: تعاني المنطقة الغربية للصين من الجفاف وصعوبة تضاريسها (جبال وهضاب) حيث أن ربع مساحة الصين مهدد بالتصحر .
- المعوقات البشرية: تتمثل في كثرة التعداد السكاني وازدحام المدن وهوما شكل عائقا على الاقتصاد الصيني وخلق مشاكل كالتلوث و الأمراض .



ب- اليابان :

- المعوقات الطبيعية :

- طابع جزري وهشاشة الأراضي مما يسبب الزلازل البراكين الأعاصير .
- الطابع الجبلي حيث تغطي 68 % من مساحة اليابان .
- قلة مساحات السهول التي تغطي 16 % من المساحة العامة .
- فقرها من المواد الأولية .
- المعوقات البشرية: تتمثل في تركيز السكان في مجمع المدن اليابانية بنسبة 84 % و تزايد عدد المسنين الذين تصل أعمارهم إلى أكثر 65 سنة .



#### 2 / استراتيجية التنمية في الصين واليابان

أ- الصين :

- فتح القطاع الخاص الذي دفع التنمية الاقتصادية والاجتماعية .
- التحول من الاقتصاد الاشتراكي إلى اقتصاد السوق .
- انضمام الصين في الاقتصادي العالمي (العولمة) .
- إحداث التوازن في التنمية بين مختلف المناطق .
- تشجيع الشركات على الاستثمار في الخارج .

ب- اليابان :

- الاعتماد على العنصر البشري كركيزة للتنمية .
- الاهتمام بالجانب الصناعي والعلمي .
- الاهتمام برأس المال البشري و القضاء على النظام الإقطاعي .
- تشجيع الدولة للاستثمار الخارجي .





#### 1 / مفهوم الأمن الغذائي :

هو قدرة الدولة على توفير الغذاء لشعبها إنتاجا واستيرادا .

#### 2 / الأمن الغذائي في الصين واليابان :

أ - الصين :

اعتمدت الدولة على :

- زراعة الأرز الهجين ذو المحصول المضاعف

- الاعتماد على المرأة في الإنتاج الزراعي.

- استخدام الزراعة المائية في إنتاج المحاصيل.

- زراعة القمح حيث تعد الصين الأولى في إنتاجه.

ب - اليابان :

رغم قلة المساحات الزراعية إلا أن اليابان اعتمدت على:

- الاستثمار الزراعي في الخارج.

- زراعة المدرجات (الأرز) .

- استخدام التقنيات الحديثة في المجال الزراعي لتحقيق إنتاج أكبر.

- استعمال المكننة (الآلة) بدلا من العمل اليدوي.

#### 3 / الهجرة في الصين واليابان :

أ - الصين :

يقدر عدد المهاجرين سنة 2012 ب 50 مليون ن ويشكل المهاجرين الصينيين مصدر ثروة للصين..

ب - اليابان :

يقدر عدد اليابانيين المهاجرين ب 2.6 مليون شخص هاجروا ما بين 1912 - 1868 بحثا عن حياة

أفضل . وقد شجعت الحكومة الفلاحيين والعمال إلى الهجرة إلى الخارج , حيث قدر عدد

المهاجرين في الو.م.أ حوالي 1.2 مليون .



### نشاط تقويمي



**السياق:** قال المعلق على التلفاز أن الجزائر يجب أن تقتدي بالصين واليابان كنموذجين لدولتين رغم المعوقات الطبيعية والبشرية إلا أنهما انتهجا سياسات تنموية وحققا الاكتفاء الذاتي. فقررت البحث أكثر حول هذا؟

**السند 1:** تعرف الصين واليابان مظاهر تضاريسية متنوعة ( طبيعة قاسية ) وتعداد سكاني كبير.

**السند 2:** رغم المعوقات الطبيعية والبشرية استفادت الصين واليابان و انتهجت سياسات تنموية لتحقيق الأمن الغذائي .

**التعليمة:** حرر فقرة اعتمادا على السندات ومكتسباتك القبلية توضح فيها كيف استطاعت الصين واليابان تحقيق الأمن الغذائي رغم المعوقات الطبيعية والبشرية للبلدين.

✪ ✪ ✪

**الفقرة:** الصين واليابان من أهم دول آسيا يعرفان معوقات طبيعية وبشرية لكن هل هذا سيشكل تحديا لتحقيق أمنهما الغذائي ؟

تقع الصين واليابان شرق القارة الآسيوية وهما من أهم دول العالم حاليا , ويعرف كلاهما تباينات تضاريسية ومناخية متنوعة من جبال وهضاب وسهول أضافتا للدولتين طابع التميز , إلا أن البلدين يشهدان معوقات طبيعية كانتشار الجبال بالإضافة إلى معوقات بشرية تتمثل في التوزيع الغير عادل للسكان واكتظاظهم ما خلق مشاكل عديدة أهمها توفير الغذاء في ظل هذه العوائق , في حين تعرف اليابان فقرا في الموارد الطبيعية على غير الصين التي تعرف غني في هذه الموارد, وبذلك أصبح السكان والطبيعة القاسية عائقا أساسيا ضد التنمية في البلدين, ففي ظل هذه المعوقات انتهج البلدان استراتيجية تنموية راعت الظروف الطبيعية ومشكل السكان تمثلت أساسا في الاستثمار في العنصر البشري والاستفادة منه وبفضله تم تحقيق الموازنة بين المعوقات التي يشهدها البلدان وذلك من خلال ادخال التقنيات الحديثة على الزراعة بالإضافة إلى تهيئة السهول والاستثمار الزراعي خارج البلدين .

إن الصين واليابان بفضل هذه السياسات التنموية أصبحتا من أقوى دول العالم اقتصاديا وهما نموذجين يجب الاقتداء بهما

### نشاط تقويمي

**السياق :** خلال زيارتك لجناحي الصين واليابان بالمعرض الدولي في الجزائر لفت انتباه والدك قوة اقتصاد البلدين رغم كثرة المعوقات فطلب منك أن تفسر له ذلك .

**السند 01 :** تعاني الصين من تعداد سكاني كبير يقف حاجزا أمام تقدم و تطور اقتصادها .

**السند 02 :** رغم الزلازل و الأعاصير و ضيق المساحة الزراعية إلا أن اقتصاد اليابان يحتل المراتب الأولى .

**التعليمة :** حرر فقرة اعتمادا على السندات ومكتسباتك القبلية اكتب فقرة تبين فيها معوقات التنمية ومظاهر القوة الاقتصادية في البلدين ومدى تمكنهما من تحقيق الاكتفاء الذاتي.  
**الفقرة :**

تقع الصين واليابان في القارة الآسيوية، وتعانيان من معوقات كثيرة تحول دون تحقيقهما تطورا اقتصاديا.

تعاني اليابان من هشاشة السطح وتعرضها للزلازل والبراكين وشيخوخة المجتمع وندرة المواد الأولية، أما الصين أثقلها حجم السكان الكبير وتركزه في الجهة الشرقية والجنوبية الشرقية مما فرضت عليهم اعتماد استراتيجية تنمية خاصة ، فقامت الدولتان بالإصلاح والتوجه نحو اقتصاد السوق والتفتح على العالم والاستثمار الخارجي واستعمال الأساليب العلمية والتكنولوجية في القطاع الزراعي وتشجيع الصناعات وأصبحت في مصاف الدول الكبرى اقتصاديا وتجاوزت هاجس الأمن الغذائي.

وتعد تجربتهما مثالا يحتذى به من طرف الدول الساعية للتطور مثل الجزائر.

