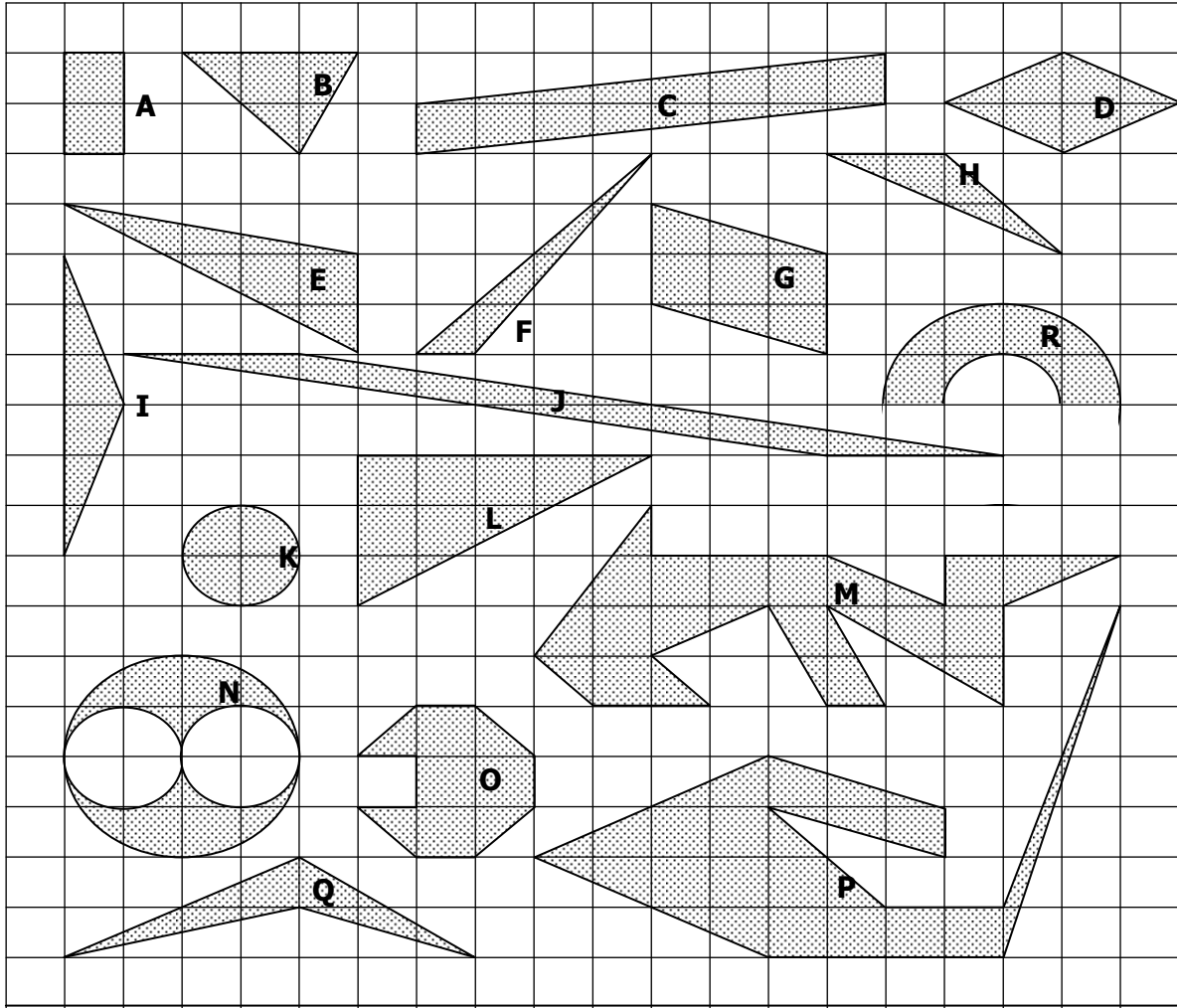


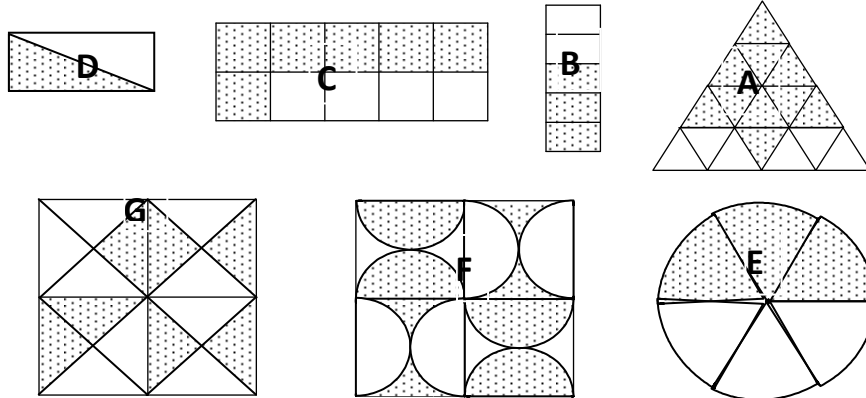
المحيطات و المساحات

التمرين 1: في كل التمرين يمكن اعتبار أن طول ضلع كل مربع يمثل 1cm.



- (1) أحسب محيطات الأشكال : A و K و R.
- (2) أحسب مساحات جميع الأشكال في الأعلى.

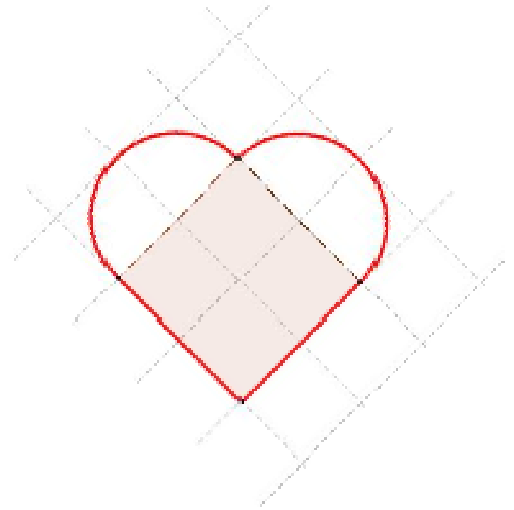
التمرين 2: في كل شكل من الأشكال التالية، حدد النسبة التي تمثلها المساحة المنقطعة بالنسبة للمساحة الإجمالية.



- التمرين 3:** ارتفاعات متوازي أضلاع ABCD ، هما 8 cm و 10 cm ، و مساحته هي 140 cm^2 .
أحسب P محيط متوازي الأضلاع ABCD.

التمرين 4:

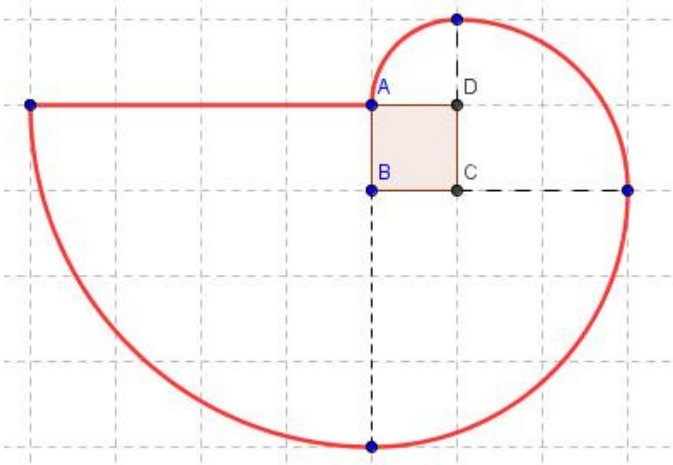
أحسب محيط ومساحة الشكل في الأسفل:



طول ضلع المربع هو: 1 cm

التمرين 5:

أحسب محيط و مساحة الشكل في الأسفل:



طول ضلع المربع هو: 1 cm