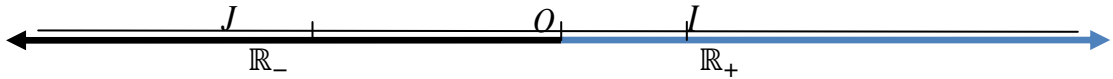


مراحل الدرس	المحتوى المعرفي	المدة	توجيهات وتعليقات
التشخيص	التذكير بالمجموعات العددية، بنظرية طالس، بنظرية فيثاغورس.	5 د	نقبل أن مجموعة الأعداد الحقيقية هي مجموعة فواصل نقط مستقيم مزود بمعلم. ● نجد في إمكانية التطرق إلى الأعداد القابلة للإنشاء فرصة لتوظيف بعض المكتسبات في الهندسة كنظريتي فيثاغورث و طاليس.
الإكتشاف	على مستقيم مزود بمعلم $(O;I)$. علم النقط A, B, C, D التي فواصلها $-3, -2.5, -\frac{2}{3}, \sqrt{2}$ ؛ بهذا الترتيب. سلم الرسم : $OI = 1cm$. إرشاد: لإنشاء العدد $\frac{2}{3}$ يمكن الإستعانة بنظرية طالس.	15 د	
البناء و الترسيخ	(أ) مجموعة الأعداد الحقيقية تعريف: مجموعة الأعداد الحقيقية، \mathbb{R} ، هي مجموعة فواصل نقط مستقيم مزود بمعلم $(O;I)$. العدد الحقيقي 0 هو فاصلة المبدأ O والعدد الحقيقي 1 هو فاصلة النقطة I . ملاحظات: 1) الأعداد الحقيقية الموجبة هي فواصل نقاط نصف المستقيم $[OI]$. ويرمز لها بالرمز \mathbb{R}_+ 2) الأعداد الحقيقية السالبة، هي فواصل نقاط نصف المستقيم $[OJ]$. حيث J هي نقطة واقعة على يسار النقطة O ويرمز لمجموعة الأعداد الحقيقية السالبة بالرمز \mathbb{R}_- . 3) الصفر عنصر من \mathbb{R}_+ ومن \mathbb{R}_- . 4) يرمز لمجموعة الأعداد الحقيقية ما عدا الصفر بالرمز \mathbb{R}^* .  (ب) المجموعات الجزئية لمجموعة الأعداد الحقيقية 1. مجموعة الأعداد الطبيعية 0؛ 1؛ 2؛ 3؛ ... أعداد طبيعية. نرمز إلى مجموعة الأعداد الطبيعية بالرمز \mathbb{N} . أمثلة: العدد 3 ينتمي إلى مجموعة الأعداد الطبيعية. نكتب $3 \in \mathbb{N}$ (الرمز \in يُقرأ "ينتمي إلى"). لدينا كذلك $3 \notin \mathbb{N} - 2$ (نقرأ $\mathbb{N} - 2$ لا ينتمي إلى \mathbb{N}). ملاحظات: 1. أصغر عدد طبيعي هو الصفر 2. لا يوجد أكبر عدد طبيعي، أي أن مجموعة الأعداد الطبيعية غير منتهية. 2. مجموعة الأعداد الصحيحة النسبية ...؛ -3؛ -2؛ -1؛ 0؛ 1؛ 2؛ 3؛ ... أعداد صحيحة نسبية (سالبة، معدومة أو موجبة). نرمز إلى مجموعة الأعداد الصحيحة النسبية بالرمز \mathbb{Z} . أمثلة العدد -5 ينتمي إلى مجموعة الأعداد الصحيحة النسبية. نكتب $-5 \in \mathbb{Z}$.	50 د	

	لدينا كذلك $-2.5 \notin \mathbb{Z}$ (نقرأ -2.5 لا ينتمي إلى \mathbb{Z}). نتيجة: كل عدد طبيعي هو عدد صحيح نسبي الطبيعية محتواة في مجموعة الأعداد الصحيحة النسبية، نكتب $\mathbb{N} \subset \mathbb{Z}$ ونقرأ \mathbb{N} محتواة في \mathbb{Z} .	
الإكتشاف	نشاط: أكتب على الشكل $\frac{p}{10^n}$ حيث p عدد صحيح نسبي و n عدد طبيعي كلا من الأعداد التالية: 12,3' 25,587' 0,123' -2587.001'.	د10
البناء	3. مجموعة الأعداد العشرية العدد العشري هو العدد الذي يمكن كتابته على الشكل $\frac{p}{10^n}$ حيث p عدد صحيح نسبي و n عدد طبيعي. نرمز إلى مجموعة الأعداد العشرية بالرمز D . مثال: 2,75 عدد عشري، لأن $2,75 = \frac{275}{10^2}$. لكن $\frac{1}{300} \notin D$. نتيجة: كل عدد صحيح نسبي هو عدد عشري ونكتب $\mathbb{Z} \subset D$. ملاحظة هامة: يمكن كتابة كل عدد عشري على شكل عدد بالفاصلة يتكون من جزء صحيح و جزء عشري منه. تطبيق: من بين الأعداد التالية عين العشرية منها: $\frac{3}{5}$ ، $\frac{1}{3}$ ، $\frac{9}{10^{158}}$. 4. مجموعة الأعداد الناطقة تعريف: العدد الناطق هو العدد الذي يمكن كتابته على الشكل $\frac{p}{q}$ حيث p عدد صحيح نسبي و q عدد صحيح نسبي غير معدوم. نرمز إلى مجموعة الأعداد الناطقة بالرمز \mathbb{Q} . مثال: 12,05 عدد عشري، وهو عدد ناطق أيضا لأن $2,75 = \frac{275}{10^2}$. $\frac{1}{300}$ هو عدد ناطق. نتيجة: كل عدد عشري هو عدد ناطق ونكتب $D \subset \mathbb{Q}$. خاصية: كل عدد ناطق يقبل كتابة وحيدة على شكل كسر غير قابل للاختزال $\frac{p}{q}$ ، مع p و q عددين صحيحين نسبيين و $q \neq 0$. مثال: الشكل غير القابل للاختزال للعدد الناطق $\frac{150}{255}$ هو $\frac{10}{17}$ (لاحظ أن $\frac{150}{255} = \frac{15 \times 10}{15 \times 17}$). 5. مجموعة الأعداد الغير ناطقة (الصماء) نسمي عددا أصما كل عدد حقيقي غير ناطق. العددين π ، $\sqrt{2}$ ليسا ناطقين (أصمين) لأنه لا يمكن كتابتهما على الشكل $\frac{p}{q}$ حيث p عدد صحيح نسبي و q عدد صحيح نسبي غير معدوم. إذا فهما عددان أصمان. مقارنة مجموعات الأعداد خاصية: تحقق المجموعات العددية الاحتواءات الآتية: $\mathbb{N} \subset \mathbb{Z} \subset D \subset \mathbb{Q} \subset \mathbb{R}$	د50
و		
الترسيخ		
د30		
د20	تمارين: نشاط 1 ص 2؛ 23 ص 19. خاصية: يتميز كل عدد ناطق بكتابة عشرية تتضمن دورا.	التقييم

$$\text{مثال: } \frac{1}{2} = 0,500000 \text{ ؛ } \frac{17}{11} = 1,54545454.. \text{ ؛ } \frac{19}{11} = 1,72727272..$$

تختصر هذه الكتابات العشرية الدورية كما يلي: $\frac{1}{2} = 0,50$ ؛ $\frac{17}{11} = 1,54$ ؛ $\frac{19}{11} = 1,72$

نتيجة: الأعداد العشرية دورها معدوم.

الانتقال من الكتابة العشرية لعدد ناطق إلى الكتابة الكسرية له

مثال: عيّن الكتابة الكسرية للعدد a انطلاقا من الكتابة العشرية الدورية له $a = 3,254$.

اقترح طريقة لتعيين الكتابة الكسرية لعدد ناطق انطلاقا من كتابته العشرية الدورية.

طريقة:

لتعيين الكتابة الكسرية لعدد ناطق انطلاقا من كتابته العشرية الدورية، نكتبه كمجموع لجزأيه الصحيح والعشري.

نفرض x الجزء العشري لهذا العدد. بالضرب في 10^n حيث n عدد أرقام الدور، نحصل على معادلة ذات

المجهول x ، نحل المعادلة. نعوض x بالقيمة المعينة ونحصل على العدد الناطق مكتوبا على شكل كسر.

مراحل الدرس	المحتوى المعرفي	المدة	توجيهات وتعليقات
الإكتشاف	نشاط : أحسب $2^3, 2^2, 0^6, 1^4, (-1)^3, (-3)^4$.	05د	
البناء و الترسيخ	<p>القوى الصحيحة وخواصها</p> <p>تعريف: a عدد حقيقي كفي و n عدد طبيعي غير معدوم. نسمي القوة ذات الرتبة n للعدد الحقيقي a ، العدد a^n حيث: $a^n = \underbrace{a \times a \times \dots \times a}_n$ عاملا</p> <p>من أجل كل عدد حقيقي a غير معدوم و n عدد طبيعي غير معدوم، $a^{-n} = \frac{1}{a^n}$.</p> <p>اصطلاح: من أجل كل عدد حقيقي a غير معدوم، $a^0 = 1$</p> <p>أمثلة: $10^4 = 10 \times 10 \times 10 \times 10 = 10\,000$ ؛ $10^{-3} = \frac{1}{10^3} = \frac{1}{1000} = 0,001$ ؛ $2^4 = 2 \times 2 \times 2 \times 2 = 16$ ؛ $(0,5)^{-2} = \frac{1}{(0,5)^2} = \frac{1}{0,25} = 4$ ؛ $a^{-1} = \frac{1}{a}$ مع a حقيقي غير معدوم</p>	15د	
الإكتشاف	<p>نشاط: أحسب $2^3 \times 2^2, 2^{3+2}$، ثم قارن بينهما. أحسب $\frac{2^3}{2^2}, 2^{3-2}$، ثم قارن بينهما.</p> <p>أحسب $3^2 \times 5^2, (3 \times 5)^2$، ثم قارن بينهما. أحسب $\frac{6^2}{3^2}, \left(\frac{6}{3}\right)^2$، ثم قارن بينهما. أحسب $(2^3)^2, 2^{3 \times 2}$، ثم قارن بينهما.</p>	15د	
البناء و	<p>خواص: a و b عدنان حقيقيان غير معدومين و m و n عدنان صحيحان نسبيين.</p> <p>$a^m \times a^n = a^{m+n}$ ؛ $(a^m)^n = a^{mn}$ ؛ $\frac{a^m}{a^n} = a^{m-n}$ ؛ $(a \times b)^m = a^m \times b^m$ ؛</p> <p>حالات خاصة</p> <p>▪ من أجل كل عدد حقيقي a غير معدوم وكل عدد طبيعي n غير معدوم: $a^n \times a^{-n} = a^0 = 1$.</p> <p>▪ من أجل كل عدد طبيعي n:</p> <p>- إذا كان n زوجيا، فإن $(-1)^n = 1$</p> <p>- إذا كان n فرديا، فإن $(-1)^n = -1$</p> <p>ملاحظة:</p> <p>من أجل كل عدد حقيقي a غير معدوم وكل عدد طبيعي n غير معدوم، إذا كان n فردي و a سالبا فإن a^n يكون سالبا.</p> <p>أمثلة: $2^5 \times 2^{-3} = 2^{5+(-3)} = 2^2$ ؛ $(2^5)^{-3} = 2^{5 \times (-3)} = 2^{-15}$ ؛ $\frac{2^5}{2^{-3}} = 2^{5-(-3)} = 2^8$</p>	20د	

$$(-2)^{101} \text{ سالبة} . \quad (-2)^5 = -2^5 \quad ; \quad (-2)^8 = 2^8 \quad ; \quad (2 \times 3)^2 = 2^2 \times 3^2$$

التقييم

35د

تمارين:

26ص19. عيّن إشارة كل من الأعداد التالية:

$$(-3^3)^2 \quad ; \quad 10^{-3} \quad ; \quad -3^5 \quad ; \quad (-5)^8 \quad ; \quad (-3)^5$$

27ص19. احسب

$$2^3 + 3^2 \quad ; \quad 2^3 \times 3^3 \quad ; \quad 2^2 \times 3^3 \times 5 \quad ; \quad 2^2 \times 3^3 \quad (1)$$

$$2 \times \left(\frac{1}{2}\right) \times \left(\frac{4}{5}\right)^2 \quad ; \quad \left(\frac{1}{3}\right)^2 \times \left(\frac{3}{2}\right)^3 \quad ; \quad \left(\frac{1}{2}\right)^2 \times 3^2 \quad (2)$$

$$\left(-\frac{5}{4}\right) \times \left(\frac{4}{5}\right)^2 \times \left(-\frac{2}{5}\right) \quad ; \quad \left(-\frac{1}{2}\right)^2 \times \left(-\frac{1}{3}\right)^3 \quad (3)$$

$$A = \frac{(-2)^5 \times (-6)^3 \times (-3)^8}{(15)^2 \times (-12)^3} \quad \text{احسب} \quad 28 \text{ ص} \quad 20$$

29. ص 20 اختصر العبارات التالية

$$B = 2^3 \times 2^4 \times 2^{-5} \quad ; \quad A = (2^3 \times 2^{-4})^2 \times (3^3)^2 \times 3^{-5}$$

$$D = (2^3 \times 3^2)^2 \quad ; \quad C = \left(\frac{2}{3}\right)^2 \times 3^3$$

$$E = \left(-\frac{1}{3}\right)^2 \times 5^{-2} \times \left(\frac{3}{5}\right)^3$$

$$F = \left(\frac{2}{7}\right)^4 \times \left(\frac{7}{4}\right)^2 \times \left(\frac{-49}{2}\right)^3$$

$$G = \left(\frac{2}{3}\right)^{-2} \times \left(\frac{3}{4}\right)^4 \times \left(\frac{27}{4}\right)^{-1}$$

توجيهات وتعليقات	المدة	المحتوى المعرفي	مراحل الدرس
	5د	نشاط: أوجد العدد الحقيقي الموجب b في الحالات التالية: $b^2 = 36, b^2 = 25, b^2 = 81$.	الإكتشاف
	30د	<p>الجذور التربيعية</p> <p>تعريف: a عدد حقيقي موجب. نسمي الجذر التربيعي للعدد الحقيقي a العدد الحقيقي الموجب b الذي يحقق $b^2 = a$ ونكتب $\sqrt{a} = b$.</p> <p>مثال: $\sqrt{0,81} = 0,9$</p> <p>خواص</p> <ul style="list-style-type: none"> من أجل a موجب: $\sqrt{a} \geq 0$ و $(\sqrt{a})^2 = a$. من أجل a و b موجبان: $\sqrt{a \times b} = \sqrt{a} \times \sqrt{b}$. من أجل $a \geq 0$ و $b > 0$: $\sqrt{\frac{a}{b}} = \frac{\sqrt{a}}{\sqrt{b}}$. <p>أمثلة: $(\sqrt{3})^2 = 3$ ؛ $\sqrt{12} = \sqrt{4 \times 3} = \sqrt{4} \times \sqrt{3} = 2\sqrt{3}$ ؛ $\sqrt{\frac{1}{64}} = \frac{\sqrt{1}}{\sqrt{64}} = \frac{1}{8}$</p> <p>ملاحظة: من أجل كل عددين حقيقيين موجبين غير معدومين a, b لدينا $\sqrt{a+b} \neq \sqrt{a} + \sqrt{b}$.</p> <p>مثال: $\sqrt{9+16} \neq \sqrt{9} + \sqrt{16}$ لأن $\sqrt{9+16} = \sqrt{25} = 5$ و $\sqrt{9} + \sqrt{16} = 3+4=7$.</p> <p>تطبيق: a و b عددين حقيقيين موجبين. ابحث عن الحالة أو الحالات التي يكون فيها $\sqrt{a+b} = \sqrt{a} + \sqrt{b}$.</p>	البناء و الترسيخ
	25د	<p>البرهان على صحة مساواة</p> <p>للبرهان على صحة مساواة $A = B$ حيث A و B عددان أو عبارتان، يمكن إتباع الطريقة التالية: ننطلق من العبارة A ثم نقوم بتحويلها للوصول إلى العبارة B.</p> <p>مثال: برهن صحة المساواة التالية: $1 + \sqrt{3} = \sqrt{4 + 2\sqrt{3}}$.</p> <p>تمارين: 35 ص 20. 44 ص 21.</p>	التقييم

مراحل الدرس	المحتوى المعرفي	المدة	توجيهات وتعليقات
التشخيص و الإكتشاف	أوجد قواسم كلا من : 1، 2، 9، 16. ومن منها يقبل قاسمين فقط وماذا يسمى هذا النوع من الأعداد ، اعط تعريف بسيط له.	10د	الهدف من دراسة الأعداد الأولية هو تدعيم مكتسبات التلميذ حول الحساب قصد توسيع تعامله مع القوى الصحيحة والكسور و الجذور التربيعية، لذا تدرج أنشطة إدماجية في اختزال وإجراء العمليات على الكسور تتضمن قوى صحيحة أو جذورا تربيعية تسمح للتلميذ بتوظيف القاسم المشترك الأكبر و المضاعفات المشتركة لعددتين طبيعيين أو أكثر.
البناء و الترسيخ	الأعداد الأولية: تعريف: نسمي عددا أوليا كل عدد طبيعي يقبل، بالضبط، قاسمين مختلفين هما: 1 والعدد نفسه. أمثلة: من أجل $n=12$. قواسم العدد 12 هي 1؛ 2؛ 3؛ 4؛ 6؛ 12: العدد 12 يقبل، على الأقل، قاسما يختلف عن 1 وعن 12. فهو ليس أوليا. من أجل $n=37$. قواسم 37 هما 1 و 37 فقط. فالعدد 37 أولي. العدد 1 ليس أوليا، لأنه يقبل قاسما واحدا فقط والعدد 0 ليس أوليا، لأنه يقبل عددا غير منته من القواسم. الأعداد الأولية الأصغر من 100 هي: 2؛ 3؛ 5؛ 7؛ 11؛ 13؛ 17؛ 19؛ 23؛ 29؛ 31؛ 37؛ 41؛ 43؛ 47؛ 53؛ 59؛ 61؛ 67؛ 71؛ 73؛ 79؛ 83؛ 89؛ 97. تطبيق هل العدد 197 أولي؟	30د	
الإكتشاف	تحليل عدد طبيعي الى جداء عوامل أولية		
البناء	نشاط: أكتب الأعداد التالية على شكل جداء عوامل أولية 12، 15، 20.	10د	
و الترسيخ	تعريف: تحليل عدد طبيعي إلى جداء عوامل أولية هو كتابته على شكل جداء أعداد أولية. لتحليل عدد طبيعي إلى جداء عوامل أولية يمكن أن نتبع مايلي: نقسم العدد على أصغر عدد أولي يكون قاسما له. نقسم حاصل القسمة على أصغر عدد أولي يكون قاسما له. نكرر عمليات القسمة هذه حتى نصل إلى حاصل قسمة يساوي 1. تطبيق: حل الأعداد التالية إلى جداء عوامل أولية 30، 45، 245، 100، 157. استعمال التحليل إلى جداء عوامل أولية	15د	
الإكتشاف	نشاط: 1. باستعمال خوارزمية إقليدس أوجد القاسم المشترك الأكبر للعددين 504 و 360. 2. حل العددين 504 و 360 إلى جداء عوامل أولية. 3. أحسب جداء العوامل الأولية المشتركة مأخوذة مرة واحدة وبأصغر أس، ماذا يمثل الناتج بالنسبة للعددين	25د	

30د

1. القاسم المشترك الأكبر

لإيجاد القاسم المشترك الأكبر لعددين طبيعيين يمكن أن نتبع مايلي

1. نقوم بتحليل العددين إلى جداء عوامل أولية.
 2. نحسب جداء العوامل الأولية المشتركة مأخوذة مرة واحدة وبأصغر أس .
- ترميز:** نرسم للقاسم المشترك الأكبر لعددين طبيعيين بـ: $PGCD$.
(Pgcd := Plus grand commun diviseur)

مثال: اوجد القاسم المشترك الأكبر للعددين 84 و 156 ، $PGCD(84;156)$.
ملاحظة: إذا كان القاسم المشترك الأكبر لعددين طبيعيين هو 1 فالعددان أوليان فيما بينهما.
مثال: أوجد $PGCD(360;49)$ وماذا تستنتج؟.

2. المضاعف المشترك الأصغر

لإيجاد المضاعف المشترك الأصغر الغير معدوم لعددين طبيعيين يمكن أن نتبع مايلي:

1. نقوم بتحليل العددين إلى جداء عوامل أولية.
 2. نحسب جداء العوامل الأولية المشتركة و الغير مشتركة مأخوذة مرة واحدة و بأكبر أس.
- ترميز:** نرسم للمضاعف المشترك الأصغر لعددين طبيعيين بـ: $PPCM$.
(Ppcm := Plus petite commun multiple)

مثال: اوجد المضاعف المشترك الأصغر للعددين 94 و 256 .

3. معرفة إن كان عدد ناطق عددا عشريا

خاصية: يكون العدد الناطق $\frac{p}{q}$ (p و q عددان أوليان فيما بينهما). عددا عشريا إذا كان لا

يشمل تحليل مقامه q إلى جداء عوامل أولية إلا العاملين 2 أو 5.

تطبيق: عين من بين الأعداد الناطقة التالية الأعداد العشرية: $\frac{35}{98}$ ؛ $\frac{21}{4200}$ ؛ $-\frac{27}{30}$ ؛ $\frac{17}{21}$ ؛

$\frac{15}{280}$

30د

البناء

و

الترسيخ

توجيهات وتعليقات	المدة	المحتوى المعرفي	مراحل الدرس
	20د	<p>نشاط:01 بإستعمال الحاسبة أعط نتيجة حساب العدد $\sqrt{5}$ و أكتب النتيجة على ورقة .ثم أجري الفرق بين $\sqrt{5}$ و العدد الذي كتبتة على ورقتك .</p> <p>أكمل $\sqrt{5}$ هي القيمة</p> <p>2,236067978 هي القيمة</p> <p>-5×10^{-10} هي القيمة... .</p> <p>نشاط:02: دون إستعمال الحاسبة أحسب العبارة A حيث :</p> $A = 7 - 4 \times 3^2 + \frac{\sqrt{36} \times (5-2)}{9}$ <p>ثم بإستعمال حاسبة علمية أحسب العبارة A .</p>	الإكتشاف و التشخيص
	40د	<p>تنظيم حساب باليد أو بالحاسبة</p> <p>عند إجراء حساب ما، نتبع عادة الخطوات التالية احتراما لأولويات العمليات حيث ننجز على التوالي:</p> <ul style="list-style-type: none"> - الحسابات داخل الأقواس. - الحسابات المتعلقة بالقوى والجذور التربيعية. - عمليات الضرب والقسمة حسب ترتيب كتابتها. - عمليات الجمع والطرح حسب ترتيب كتابتها. <p>تطبيق</p> <p>1. دون إستعمال الحاسبة أحسب العبارة B حيث :</p> $B = (2 \times 3 + 2\sqrt{2})^2 - 14.$ <p>2. أكتب برنامج حساب العبارات التالية مع إعطاء النتيجة:</p> $D = \frac{17}{72 \div 9}, C = \frac{2005 + 1159,4}{453 - 13,5}$	البناء و الترسيع

ثانوية عبد المجيد علاهم

الميدان: أعداد وحساب.

التعليمية: الأعداد والعمليات عليها.

الموضوع: القيم المقربة (التدوير).

الكفاءات القاعدية : تدوير عدد عشري- تحديد رتبة مقدار عدد- التمييز بين عدد

وإحدى قيمه المقربة- تدوير عدد عشري إلى 10^{-n} ، $n \in \mathbb{N}$

الأستاذ: يحي رشيد

المستوى: سنة أولى جذع مشترك علوم

التاريخ: 2013/10/ 02م

الزمن: 1س او 30د.

الوسائل التعليمية: الحاسبة العلمية.

مراحل
الدرس

المحتوى المعرفي

المدة

توجيهات و
تعليقات

نشاط: أكمل الجدول التالي:

العدد	قيمه الظاهرة	المدور إلى 10^{-2}	المدور إلى 10^{-4}	الكتابة العلمية (للقيمة الظاهرة)
$100 + \sqrt{3}$				

القيم المقربة

تعريف: عدد حقيقي مكتوب في شكله العشري، وليكن d رقمه العشري ذو الرتبة $p+1$.

نسَمي مُدَوَّر A إلى 10^{-p} العدد الذي نحصل عليه كما يلي:

- إذا كان $d \geq 5$ ، نأخذ العدد بأرقامه العشرية إلى الرقم العشري الذي رتبته p ،

ونضيف 1 إلى هذا الرقم.

- إذا كان $d < 5$ ، نأخذ العدد بأرقامه العشرية إلى الرقم العشري الذي رتبته p .

مثال

المدور إلى الوحدة	المدور إلى 10^{-3}	المدور إلى 10^{-5}	3,14159265389793
3	3,142	3,14159	

تقدير نتيجة

الكتابة العلمية

تعريف: كتابة عدد عشري على الشكل العلمي، تعني التعبير عنه على الشكل $a \times 10^n$ (أو $-a \times 10^n$) حيث a عدد عشري يحقق $10 > a \geq 1$ و n عدد صحيح نسبي.

أمثلة

العدد	العدد مكتوب على الشكل العلمي	إزاحة الفاصلة
128 000 000	$1,28 \times 10^8$	8 مراتب نحو اليسار
-0,000 000 000 75	$-7,5 \times 10^{-10}$	10 مراتب نحو اليمين

رتبة مقدار عدد

لإيجاد رتبة مقدار عدد:

- نكتب العدد على الشكل العلمي.

- ندور العدد العشري في كتابته العلمية إلى العدد الصحيح الأقرب منه ونحتفظ بقوة 10.

مثال: رتبة مقدار العدد $9,2 \times 10^{12}$ هي 9×10^{12} .

ملاحظة: لإيجاد رتبة مقدار جداء عددين أو حاصل قسمتهما، نحسب أولاً رتبة مقدار كل عدد ثم نحسب رتبة مقدار الناتج.

مثال: عيّن رتبة مقدار العددين $25120 \times 0,00935$ ، $\frac{82,6 \times 10^3}{47 \times 10^{-8}}$.

30د

الترسيخ

التقييم

الأستاذ: يحيى رشيد
المستوى: سنة أولى جذع مشترك علوم
التاريخ: 02/10/2013م
الزمن: 1ساو30د.
الوسائل التعليمية: الصبورة.

ثانوية عبد المجيد علاهم
الميدان: أعداد وحساب.
التعليمية: المتباينات و الحصر.
الموضوع: الترتيب في \mathbb{R} والعمليات عليه .
الكفاءات القاعدية : اختيار مقياس لمقارنة عددين حقيقيين..

مراحل الدرس	المحتوى المعرفي	المدة	توجيهات و تعليقات
التشخيص	<p>نشاط: أحسب $a-b$ ، و حدد إشارة الفرق ثم رتب a و b في كل مما يلي:</p> <p>(1) $a=5, b=11$ ، (2) $a=41, b=1$ ، (3) $a=5, b=-6$.</p> <p>الترتيب في \mathbb{R} .</p> <p>تعريف: a و b عدنان حقيقيان:</p> <ul style="list-style-type: none"> القول إن a أكبر من b أو يساويه معناه $a-b$ عدد موجب. ونكتب: $a \geq b$ معناه $a-b \in \mathbb{R}_+$. القول إن a أكبر تماما من b معناه $a-b$ عدد موجب تماما. ونكتب: $a > b$ معناه $a-b \in \mathbb{R}_+^*$. القول أن a أصغر من b أو يساويه معناه أن $a-b$ عدد سالب. ونكتب: $a \leq b$ معناه $a-b \in \mathbb{R}_-$. القول أن a أصغر تماما من b معناه أن $a-b$ عدد سالب تماما. ونكتب: $a < b$ معناه $a-b \in \mathbb{R}_-^*$. <p>المقارنة في \mathbb{R} .</p> <p>تعريف</p> <p>مقارنة عددين a و b معناه التصريح بصحة إحدى الحالات الثلاث الآتية:</p> <p>$a < b$ • $a > b$ • $a = b$ •</p> <p>مبرهنة 1</p> <p>من أجل كل أعداد حقيقية a, b, c : إذا كان</p> $\left(\begin{array}{l} a \leq b \\ \text{و} \\ b \leq c \end{array} \right) \text{ فإن } a \leq c$ <p>مثال: $\frac{1}{2} \leq 1$ و $1 \leq \frac{9}{8}$ إذا $\frac{1}{2} \leq \frac{9}{8}$.</p> <p>تمرين: قارن العددين الحقيقيين:</p> <p>$\frac{472}{95}$ و $\frac{159}{32}$ ؛ $\frac{17}{21}$ و $\frac{19}{13}$ ؛ $\frac{22}{7}$ و π ؛ 152,13 و 152,125</p> <p>الترتيب والعمليات الحسابية</p> <p>1. الترتيب والجمع:</p> <p>مبرهنة 01</p> <p>من أجل كل أعداد حقيقية a, b, c : إذا كان $a \leq b$ فإن $a+c \leq b+c$.</p> <p>مثال: نعتبر المتباينة $-5 \leq a+2$ حيث a عدد حقيقي عند إضافة العدد -2 إلى طرفي المتباينة فإن اتجاه المتباينة لا يتغير و نحصل على $(-2) \leq -5 + (-2) \leq a+2 + (-2)$ أي $a \leq -7$.</p>	10د	
البناء		50د	
و			
الترسيخ			

من أجل كل أعداد حقيقية a, b, c, d : إذا كان $\begin{pmatrix} a \leq b \\ c \leq d \end{pmatrix}$ فإن $a + c \leq b + d$

مثال: x و y عدنان حقيقيان حيث $x \leq 3$ و $y \leq 5$ هاتين المتباينتين من نفس الإتجاه إذا أستطيع أن أجمع طرفا بطرف فتصبح $x + y \leq 3 + 5$. أي $x + y \leq 8$.

2. الترتيب والضرب

مبرهنة 4

a, b, c أعداد حقيقية.

من أجل $c > 0$ لدينا: $a \leq b$ يكافئ $ac \leq bc$.

من أجل $c < 0$ لدينا: $a \leq b$ يكافئ $ac \geq bc$.

مثال: x عدد حقيقي حيث $-3x \leq 1$ بضرب طرفي المتباينة في العدد السالب $\frac{-1}{3}$ نجد

$$x \geq \frac{-1}{3} \text{ أي } \left(\frac{-1}{3}\right) \times -3x \geq 1 \times \left(\frac{-1}{3}\right)$$

مبرهنة 5

من أجل كل أعداد حقيقية موجبة a, b, c, d . إذا كان $a \leq b$ و $c \leq d$ فإن $ac \leq bd$.

مثال: x و y عدنان حقيقيان موجبان حيث $x \leq 3$ و $y \leq 5$ هاتين المتباينتين من نفس الإتجاه وكل الأطراف موجبة إذا أستطيع أن أضرب طرفا بطرف فتصبح $x \times y \leq 3 \times 5$. أي $xy \leq 15$.

تمارين

- x عدد حقيقي حيث $x \geq 1$ ، برهن صحة المتباينة: $2 - 5x \leq -3$

28-29 ص 46.

قواعد المقارنة

مبرهنة 6

a, b عدنان حقيقيان.

▪ من أجل $a \geq 0$ و $b \geq 0$ لدينا: $a \leq b$ يكافئ $a^2 \leq b^2$

▪ من أجل $a \leq 0$ و $b \leq 0$ لدينا: $a \leq b$ يكافئ $a^2 \geq b^2$

مثال

لدينا $3 \leq 4$ وهذا يكافئ $3^2 \leq 4^2$.

لدينا $-5 \leq -2$ وهذا يكافئ: $(-5)^2 \geq (-2)^2$.

مبرهنة 7

▪ a, b عدنان حقيقيان موجبان: $a \leq b$ يكافئ $\sqrt{a} \leq \sqrt{b}$.

مثال

لدينا $9 \leq 25$ وهذا يكافئ $3 \leq 5$.

مبرهنة 8: a, b عدنان حقيقيان غير معدومين ومن نفس الإشارة لدينا: $a \leq b$ يكافئ $\frac{1}{a} \geq \frac{1}{b}$.

مثال

إذا كان $0 < a \leq 2$ ، فإنّ $\frac{1}{a} \geq \frac{1}{2}$

مبرهنة 9:

a عدد حقيقي لدينا:

- إذا كان $0 \leq a \leq 1$ فإنّ $a^3 \leq a^2 \leq a$.
- إذا كان $a \geq 1$ فإنّ $a^3 \geq a^2 \geq a$.

مثال

من أجل $a = 2$ ، لدينا $2^3 \geq 2^2 \geq 2$ ، و من أجل $a = \frac{1}{2}$ ، لدينا $\frac{1}{2^3} \leq \frac{1}{2^2} \leq \frac{1}{2}$.

تمارين

- x عدد حقيقي حيث $x \geq 1$ ، برهن صحة المتباينة: $\frac{1}{3x+1} \leq \frac{1}{4}$ ؛

32 ص 46.

التقييم

الأستاذ: يحيى رشيد
المستوى: سنة أولى جذع مشترك علوم
التاريخ: 22/10/2013م
الزمن: 1ساو 30د.
الوسائل التعليمية: الحاسبة العلمية.

ثانوية عبد المجيد علاهم
الميدان: أعداد وحساب.
التعليمية: المتباينات و الحصر.
الموضوع: الحصر .
الكفاءات القاعدية : إيجاد حصر لعدد حقيقي - حصر عبارة جبرية - حصر عبارة
تتضمن مقلوبا - حصر مجموع و جداء عددين حقيقيين.

مراحل الدرس	المحتوى المعرفي	المدة	توجيهات و تعليقات
التشخيص الإكتشاف	نشاط: x عدد حقيقي حيث $2 \leq x \leq 5$ (نقول أن x محصور بين العددين 2 و 5) . - أعط حصرًا للعددين x ، $-\frac{1}{x}$.	15د	تمدد النشاطات الخاصة بحصر مجموع أو جداء عددين إلى حصر الفرق والنسبة و المقلوب والجذر التربيعي باعتبارها تطبيقات لمقارنة عددين و تمثل فرصة يبرهن فيها التلميذ الخواص المحصل عليها.
البناء و الترسيخ	الحصر تعريف: حصر عدد حقيقي x يعني إيجاد عددين a و b حيث $a \leq x \leq b$. مثال: باستعمال حاسبة، نحصل على: $\sqrt{5} \approx 2,23607$ وهي القيمة المدوّرة للعدد $\sqrt{5}$ إلى 10^{-5} . $2 \leq \sqrt{5} \leq 3$ هو حصر العدد $\sqrt{5}$ ، بالتقريب إلى الوحدة. $2,23 \leq \sqrt{5} \leq 2,24$ هو حصر العدد $\sqrt{5}$ ، بالتقريب إلى 10^{-2} .	15د	
التقييم	تطبيق: a و b عدنان حقيقيان حيث $3 \leq a \leq 8$ و $1 \leq b \leq 7$. احصر الأعداد $a+b$ ، $a \times b$ ، $a-b$ ، $\frac{a}{b}$. حل: - حصر العدد $a+b$ باستعمال قاعدة الجمع طرفا للمتباينات، نجد: $4 \leq a+b \leq 15$. - حصر العدد $a \times b$ كون الأعداد الستة موجبة وبالضرب طرفا بطرف نجد: $3 \leq a \times b \leq 56$. - حصر العدد $a-b$ نكتب $a-b$ على الشكل $a+(-b)$. أولا نقوم بإيجاد حصر للعدد $-b$: بضرب المتباينة المضاعفة $1 \leq b \leq 7$ في العدد السالب (-1) ، نجد: $-7 \leq -b \leq -1$ وبالجمع المتباينتين $3 \leq a \leq 8$ و $-7 \leq -b \leq -1$ طرفا بطرف نجد $3 \leq a \leq 8$ $-7 \leq -b \leq -1$ $-4 \leq a-b \leq 7$ - حصر العدد $\frac{a}{b}$ نكتب $\frac{a}{b}$ على الشكل $a \times \left(\frac{1}{b}\right)$. أولا نقوم بإيجاد حصر للعدد $\frac{1}{b}$: الأعداد 1، b ، 7 من نفس الإشارة و $1 \leq b \leq 7$ فيكون $\frac{1}{7} \leq \frac{1}{b} \leq 1$. وكون الأعداد 3، a ، 8، $\frac{1}{b}$ ، 1 موجبة وبالضرب طرفا بطرف، نجد: $\frac{3}{7} \leq \frac{a}{b} \leq 8$	50د	

مراحل
الدرس

المحتوى المعرفي

توجيهات و
تعليقات


المدة

المجالات

تعريف

و a و b عدنان حقيقيان حيث $a \leq b$.نسمي مجالا مغلقا حداه a و b ، مجموعة الأعداد الحقيقية x حيث $a \leq x \leq b$ ، ونرمز إليه بالرمز $[a; b]$.

تمثيل مجال

يمثل المجال $[a; b]$ هندسيا بالشكل الآتي حيث A و B نقطتان فاصلتاها a و b على الترتيب.

أنواع المجالات

الترسيخ

50د

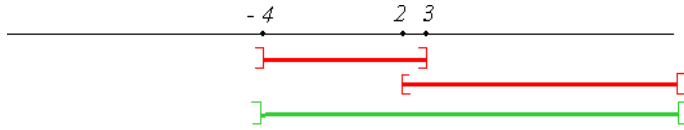
المجال الذي يُرمز إليه ...	هو مجموعة الأعداد الحقيقية x حيث ...	يُمثل على المستقيم العددي بالشكل ...
$[a; b]$	$a \leq x \leq b$	
$[a; b[$	$a \leq x < b$	
$]a; b]$	$a < x \leq b$	
$]a; b[$	$a < x < b$	
$]-\infty; b]$	$x \leq b$	
$]-\infty; b[$	$x < b$	
$[a; +\infty[$	$a \leq x$	
$]a; +\infty[$	$x > a$	

ملاحظات

1. المجال المغلق من جهة a يشملها، والمفتوح من جهتها لا يشملها، وكذلك القول عند b .2. الحدان a و b ينتميان إلى المجال $[a; b]$ ولا ينتميان إلى المجال $]a; b[$.

	3. الرمز $-\infty$ و $+\infty$ (يقرآن: ناقص ما لانهاية ، زائد ما لانهاية) لا يمثلان عددين حقيقيين وبالتالي تكون العارضتان مفتوحتين عندهما.	
30	<p>تمرين 1: مثل على المستقيم العددي المجالات الآتية:</p> $[1; 4] ؛ [-1; -2] ؛ \left[\frac{1}{2} ; +\infty \right[؛ \left[-\infty ; -\frac{3}{2} \right[.$ <p>تمرين 2: 39-40 ص 47.</p>	التقييم
20	<p>عناصر المجال:</p> <p>يتميز المجال $[a; b]$ بالعناصر الآتية:</p> <ul style="list-style-type: none"> • مركزه ، وهو العدد الحقيقي $c = \frac{a+b}{2}$ • طوله ، وهو العدد الحقيقي الموجب $b - a$ • نصف قطره ، وهو العدد الحقيقي الموجب $r = \frac{b-a}{2}$ <p>مثال: نعتبر المجال $[3; 5]$</p> <ol style="list-style-type: none"> 1. أحسب طول هذا المجال 2. أحسب مركز هذا المجال. 3. مثل هذا المجال على المستقيم العددي. <p>نفس السؤال بالنسبة للمجال $[-2; 4]$.</p>	البناء و الترسيخ
20	<p>نشاط: مثل على المستقيم العددي كلا من المجالين: $[-3; 0]$ ، $[-1; 5]$.</p> <p>- حدد الأعداد الحقيقية المشتركة بين المجالين $[-1; 5]$ و $[-3; 0]$.</p> <p>- حدد الأعداد الحقيقية التي تنتمي إلى المجال $[-1; 5]$ أو المجال $[-3; 0]$.</p>	الإكتشاف
20	<p>تقاطع وإتحاد مجالين</p> <ul style="list-style-type: none"> ▪ تقاطع مجالين I و J هو مجموعة الأعداد الحقيقية التي تنتمي إلى I و J ، ونرمز إليه بالرمز $I \cap J$. ▪ إتحاد مجالين I و J هو مجموعة الأعداد الحقيقية التي تنتمي إلى I أو J ، ونرمز إليه بالرمز $I \cup J$. <p>أمثلة</p> <ul style="list-style-type: none"> ▪ $[0; 2] \cap [1; 5]$ هو مجموعة الأعداد الحقيقية x حيث $0 \leq x \leq 2$ و $1 < x \leq 5$. <p>$[0; 2] \cap [1; 5] =]1; 2]$</p> <ul style="list-style-type: none"> ▪ $]-4; 3] \cup [2; +\infty[$ هو مجموعة الأعداد الحقيقية x حيث $-4 < x \leq 3$ و $x \geq 2$. 	البناء و الترسيخ

$$]-4; 3] \cup [2; +\infty[=]-4; +\infty[$$



التقييم

10 د

تمرين 47 ص 47.

التقييم

الأستاذ: يحيى رشيد
المستوى: سنة أولى جذع مشترك علوم
التاريخ: 28/10/2013م
الزمن: 2سا.
الوسائل التعليمية: مسطرة - الحاسبة العلمية.

ثانوية عبد المجيد علاهم
الميدان: أعداد وحساب.
الوحدة التعليمية التعليمية: المجالات والقيمة المطلقة.
الموضوع: القيمة المطلقة والمسافة .
الكفاءات المستهدفة: كتابة عبارة تشتمل رمز القيمة المطلقة على شكل عبارة مكافئة لها بدون رمز القيمة المطلقة التعبير عن جزء متصل من \mathbb{R} بإحدى الصيغ الأربعة: بمجال أو بحصر أو بمسافة أو باستعمال القيمة المطلقة..

مراحل الدرس	المحتوى المعرفي	المدة	توجيهات و تعليقات
التشخيص و الإكتشاف	نشاط: 4 ص 26.	20د	تعرف القيمة المطلقة للعدد الحقيقي x على أنها المسافة بين النقطتين O و M بحيث M هي النقطة التي فاصلتها x في المعلم $(O;I)$.
البناء و	<p>1. المسافة الى الصفر:</p> <p>تعريف: x عدد حقيقي. المسافة OM بين O و M هي مسافة x الى O، حيث M هي النقطة التي فاصلتها x في المعلم $(O;I)$.</p> <p>أمثلة : مسافة 2 الى 0 هي 2. مسافة -2 الى 0 هي 2.</p> <p>2. القيمة المطلقة لعدد حقيقي:</p> <p>تعريف: x عدد حقيقي، M نقطة من مستقيم مزود بمعلم $(O;I)$ فاصلتها x. القيمة المطلقة للعدد x هي المسافة OM، ونرمز إليها بالرمز x. ونكتب $x = OM$.</p>	15د	تعرف القيمة المطلقة للعدد x على أنها المسافة بين النقطتين O و M بحيث M هي النقطة التي فاصلتها x في المعلم $(O;I)$. تعرف المسافة بين عددين x و y على أنها المسافة بين النقطتين A و B بحيث A فاصلتها x و B فاصلتها y في المستقيم العددي المزود بالمعلم $(O;I)$.
الترسيع	<p>و</p> <p>نتائج:</p> <ul style="list-style-type: none"> - بما أن المسافة موجبة فإن $x \geq 0$ من أجل كل عدد حقيقي x. - من أجل كل عدد حقيقي x: $x = \begin{cases} x & ; x \in [0; +\infty[\\ -x & ; x \in]-\infty; 0] \end{cases}$ 	50د	تعرف المسافة بين عددين x و y على أنها المسافة بين النقطتين A و B بحيث A فاصلتها x و B فاصلتها y في المستقيم العددي المزود بالمعلم $(O;I)$.

- من أجل كل عدد حقيقي x فإن: $|-x| = |x|$.

3. المسافة بين عددين حقيقيين:

تعريف: x و y عدنان حقيقيان فاصلتا A ، B على الترتيب في المستقيم العددي المزود بالمعلم (O, I) . المسافة بين x و y هي المسافة بين A ، B ونرمز لها بالرمز $d(x, y)$. و نكتب $d(x, y) = |x - y|$.
أمثلة :

المسافة بين 2 الى -5 هي $d(-5, 2) = |-5 - 2| = |-7| = -(-7) = 7$

مسافة -2 الى -5 هي $d(-5, -2) = |-5 - (-2)| = |-3| = -(-3) = 3$

4. القيمة المطلقة، المسافة، المجال والحصر

مبرهنة: c عدد حقيقي ، r عدد حقيقي موجب. من أجل كل عدد حقيقي x ، $|x - c| \leq r$ معناه $x \in [c - r; c + r]$ أي $-r \leq x - c \leq r$

أمثلة

$|x - 3| \leq 1$ معناه $-1 \leq x - 3 \leq 1$ أي $x \in [3 - 1; 3 + 1]$

$|x| \leq 4$ معناه $-4 \leq x \leq 4$ أي $x \in [-4; 4]$

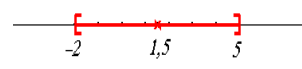
$|x + \frac{5}{2}| \leq \frac{3}{2}$ معناه $-\frac{3}{2} \leq x + \frac{5}{2} \leq \frac{3}{2}$ أي $x \in [-4; -1]$

نتيجة: c عدد حقيقي كفي و r عدد حقيقي موجب.

من أجل كل عدد حقيقي x ، النصوص الآتية متكافئة:

- $x \in [c - r; c + r]$ (في صيغة مجال) حيث c هو مركز هذا المجال و r هو نصف قطره.
- $c - r \leq x \leq c + r$ (في صيغة حصر).
- $d(c; x) \leq r$ (في صيغة مسافة).
- $|x - c| \leq r$ (في صيغة قيمة مطلقة).

مثال

القيمة المطلقة	المسافة	الحصر	المجال	التمثيل
$ x - \frac{3}{2} \leq \frac{7}{2}$	$d(x; \frac{3}{2}) \leq \frac{7}{2}$	$-2 \leq x \leq 5$	$x \in [-2; 5]$	

تمارين

✓ تمرين 81 ص 49.

✓ حلّ المعادلات والمتراحات الآتية:

$$(1) |x + 3| = 4 \quad (2) |x + 3| = |x - 5| \quad (3) <|x + 3| |x - 5|$$

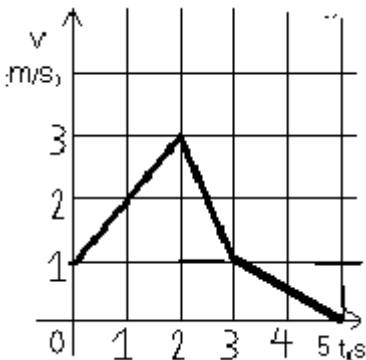
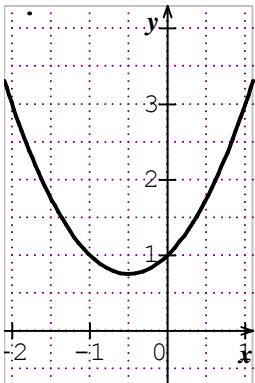
التقييم

✓ اعط القيمة المقربة بالزيادة ثم بالنقصان إلى 10^{-2} للعدد $\cos 20^\circ$ ثم إستنتج حصرا له ثم اكتب هذا الحصر على شكل مجال.

- أحسب المسافة بين العدد $\cos 20^\circ$ و بين قيمته المقربة بالزيادة إلى 10^{-2} . ثما قارنها مع

العدد 10^{-2} .
- أحسب المسافة بين العدد $\cos 20^\circ$ و بين قيمته المقربة بالنقصان إلى 10^{-2} ثما قارنها مع العدد 10^{-2} .

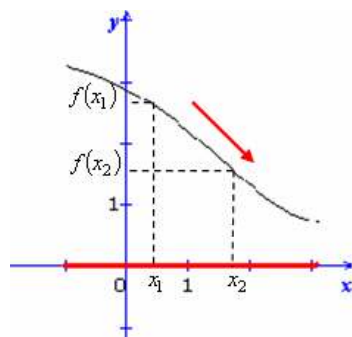
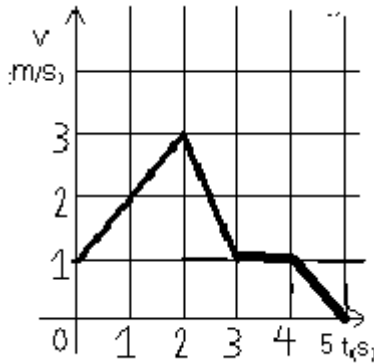
مراحل الدرس	المحتوى المعرفي	المدة	توجيهات و تعليقات								
الإكتشاف	<p>نشاط</p> <p>$ABCD$ مستطيل حيث $AB = 4cm$ ، $BC = xcm$ نسمي $S(x)$ مساحة هذا المستطيل .</p> <p>- أحسب $S(x)$ بدلالة x .</p> <p>- أكمل الجدول التالي :</p> <table border="1"> <tr> <td>x</td> <td>2</td> <td>5</td> <td>7</td> </tr> <tr> <td>$S(x)$</td> <td></td> <td></td> <td></td> </tr> </table>	x	2	5	7	$S(x)$				20	<ul style="list-style-type: none"> يتم التطرق إلى مفهوم الدالة انطلاقا من مكتسبات التلميذ في هذا الميدان كالتناسبية مثلا و من خلال دراسة وضعيات ملموسة من الواقع و مستمدة من مشكلات هندسية أو فيزيائية أو من الحياة العملية ، تؤدي إلى توضيح مفهوم الدالة شيئا فشيئا و يمكن الاستعانة في ذلك باستعمال الحاسبة البيانية.
x	2	5	7								
$S(x)$											
البناء و	<p>مفهوم الدالة</p> <p>تعريف: D جزء من \mathbb{R}. نعرف دالة f على D عندما نرفق بكل عدد حقيقي x من D عددا حقيقيا وحيدا، نرمز إليه بالرمز $f(x)$.</p> <p>تعبير واصطلاحات</p> <ul style="list-style-type: none"> نرمز عادة إلى الدوال بالرموز f, g, h, \dots D جزء من \mathbb{R} و f دالة معرفة على D: D هي مجموعة تعريف الدالة ونرمز لها بـ: D_f. إذا كان x عنصرا من D_f، نسمي العدد الحقيقي $f(x)$ صورة x بالدالة f. إذا كان العدد الحقيقي y صورة العدد الحقيقي x بالدالة f، نقول إن x سابقة للعدد y بالدالة f. للتعبير عن الدالة f، نكتب: <p>في هذه الكتابة، x يمثل المتغير و y مرتبط بالمتغير x.</p> <p>مثال: نعتبر الدالة f المعرفة على المجال $[-2; 2]$ بالشكل: $f(x) = x^2 + 2x + 1$</p> <p>- أحسب صور الأعداد $0, 2, -3$ بالدالة f.</p> <p>ملاحظة: لا يمكن أن يكون لعدد حقيقي عدّة صور لكن، يمكن أن يكون لعدد حقيقي عدّة سوابق.</p>	40	<ul style="list-style-type: none"> لتبسيط مفهوم الدالة يمكن اقتراح أنشطة تقارب فيها هذا المفهوم إنطلاقا من جدول قيم (على مجموعة منتهية)، ثم يتواصل العمل بالتركيز على الصيغ الأخرى. الدوال التي يتم التطرق إليها هي على العموم، دوال عددية لمتغير حقيقي بمجموعة تعريف معطاة. خلال التقدم في الدراسة، نحرص على التمييز بين الرمز f و $f(x)$ باعتبار $f(x)$ عددا و f الدالة التي ترفق بالعدد x العدد $f(x)$. 								
التقييم	<p>تمارين</p> <p>23-24-25-26 ص 74.</p>	60									

مراحل الدرس	المحتوى المعرفي	المدة	توجيهات و تعليقات										
الإكتشاف	<p>نشاط</p> <p>في الشكل التالي مثلنا السرعة $V(t)$ بدلالة الزمن t لمتحرك على الطريق.</p> <p>1. ما هي سرعات المتحرك في اللحظات $0s$، $3s$، $5s$.</p> <p>2. ما هي اللحظات التي بلغ عندها المتحرك السرعات التالية $1m/s$، $3m/s$، $2m/s$.</p>	20د											
البناء و الترسيخ	<p>التمثيل البياني لدالة</p> <p>المستوي منسوب إلى معلم $(O; I, J)$. f دالة معرفة على جزء D من \mathbb{R}.</p> <p>التمثيل البياني (أو المنحني الممثل) للدالة في المعلم $(O; I, J)$ هو مجموعة النقط $M(x; y)$ حيث $x \in D$ و $y = f(x)$. إذا رمزنا إلى منحني الدالة f بالرمز (C_f)، نقول أنّ $y = f(x)$ هي معادلة (C_f) في المعلم $(O; I, J)$.</p> <p>ملاحظة:</p> <p>- محور الفواصل يسمى محور السوابق ، ومحور الترتيب يسمى محور الصور.</p> <p>مثال</p> <p>لتكن الدالة f المعرفة على $[-4; 4]$ بالشكل: $f(x) = x^2 + x + 1$.</p> <p>نرسم المنحني الممثل للدالة f في المعلم $(O; I, J)$ باستعمال جدول لبعض قيم الدالة f:</p>	40د	 <table border="1" data-bbox="909 1456 1420 1556"> <tr> <td>x</td> <td>-2</td> <td>-1</td> <td>0</td> <td>1</td> </tr> <tr> <td>$f(x)$</td> <td></td> <td></td> <td></td> <td></td> </tr> </table>	x	-2	-1	0	1	$f(x)$				
x	-2	-1	0	1									
$f(x)$													
التقييم	<p>تمارين 1، 2، 3، 11، 12، ص 72-73 28، 31، 29، ص 75</p>	60د											

الكفاءات المستهدفة : وصف سلوك دالة معرفة بمنحن باستعمال التعبير الرياضي المناسب-استنتاج جدول تغيرات دالة انطلاقا من تمثيلها البياني- إرفاق جدول تغيرات معطى بتمثيل بياني ممكن.

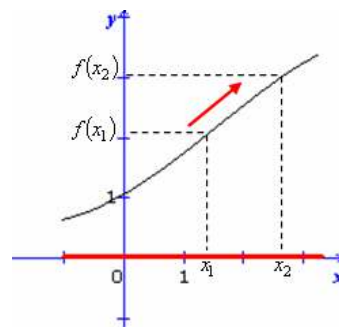
الوسائل التعليمية: الصبورة-الكوس-الكتاب المدرسي.

مراحل الرس	المحتوى المعرفي	المدة	توجيهات و تعليقات
الإكتشاف	<p>نشاط</p> <p>في الشكل التالي مثلنا السرعة $V(t)$ بدلالة الزمن t لمتحرك على الطريق.</p> <p>- اعتمادا على البيان المقابل أذكر المجالات التي تكون فيها سرعة المتحرك متزايدة تماما، متناقصة تماما، ثابتة .</p>	20د	<p>بلفت نظر التلميذ إلى أن دالة متزايدة تحافظ على الترتيب، في حين أن دالة متناقصة تعكس الترتيب، وانطلاقا من هذه الملاحظة تعطى التعاريف المناسبة.</p>
البناء و الترسخ	<p>تغيرات دالة على مجال</p> <p>f دالة معرفة على مجال I من \mathbb{R}.</p> <ul style="list-style-type: none"> ▪ f متزايدة تماما على I يعني: <p>من أجل كل x_1 و x_2 من I، إذا كان $x_1 < x_2$ فإن $f(x_1) < f(x_2)$</p> <ul style="list-style-type: none"> ▪ f متناقصة تماما على I يعني: <p>من أجل كل x_1 و x_2 من I، إذا كان $x_1 < x_2$ فإن $f(x_1) > f(x_2)$</p> <ul style="list-style-type: none"> ▪ f ثابتة على I يعني: <p>من أجل كل x_1 و x_2 من I، $f(x_1) = f(x_2)$</p>	60د	<p>ملاحظة:</p>



دالة متناقصة تماما

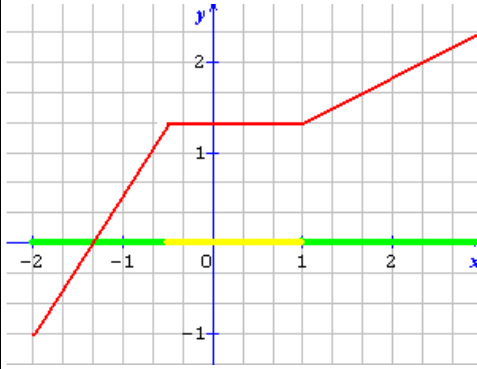
$f(x_1)$ و $f(x_2)$ ليسا في نفس ترتيب x_1 و x_2 .
الدالة تعكس الترتيب.



دالة متزايدة تماما

$f(x_1)$ و $f(x_2)$ في نفس ترتيب x_1 و x_2 .
الدالة تحفظ الترتيب.

f متزايدة على I يعني: من أجل كل x_1 و x_2 من I ، إذا كان $x_1 < x_2$ فإن $f(x_1) \leq f(x_2)$
 f متناقصة على I يعني: من أجل كل x_1 و x_2 من I ، إذا كان $x_1 < x_2$ فإن $f(x_1) \geq f(x_2)$



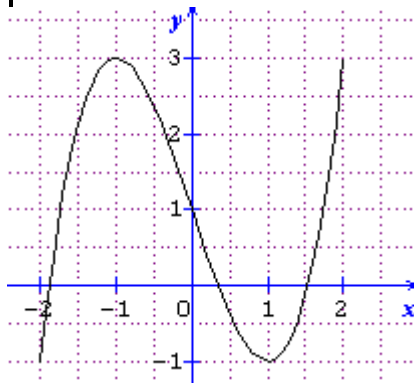
مثال

الدالة المعرفة بالبيان المقابل متزايدة تماما على كل من المجالين $[-2; -0,5]$ ، $[1; 3]$ ، وثابتة على $[-0,5; 1]$.
 نقول أيضا إنها متزايدة على المجال $[-2; 3]$.

و

- نعني بدراسة اتجاه تغير دالة، تعيين المجالات التي تكون فيها هذه الدالة متزايدة تماما أو متناقصة تماما أو ثابتة.
 تلخص نتائج هذه الدراسة في جدول يسمى جدول التغيرات.

مثال



الترسيع

نعتبر الدالة f الممثلة بالمنحني المقابل،
 الدالة f متزايدة تماما على المجالين $[-2; -1]$ و $[1; 2]$ و
 ومنتاقصة تماما على المجال $[-1; 1]$.

جدول التغيرات الدالة f .

x	-2	-1	1	2
$f(x)$	-1	3	-1	3

تمارين 35-36-37-38 ص 76.

التقييم

40

الأستاذ: يحي رشيد المستوى: سنة أولى جذع مشترك علوم التاريخ: 2013/10/06م الزمن: 1سا. الوسائل التعليمية: الصبورة.	ثانوية عبد المجيد علاهم الميدان: تحليل. الوحدة التعليمية: عموميات على الدوال. الموضوع: القيم الحدية لدالة. الكفاءات المستهدفة: استعمال الحاسبة البيانية لإيجاد - القيم الحدية لدالة على مجال.
-----------------------------------------------------------------------------------------------------------------------------	-----------------------------------------------------------------------------------------------------------------------------------------------------------------------------------------------------------

المدة	المحتوى المعرفي	مراحل الدرس
20د	<p style="text-align: right;">نشاط</p> <p>المستوي منسوب إلى معلم $(O; I, J)$. الرسم المقابل هو التمثيل البياني لدالة f.</p> <ol style="list-style-type: none"> عين مجموعة تعريف الدالة f. أحسب سوابق كلا من $-2, -1, 1, 2$، بالدالة f. حدد أصغر صورة للدالة f ثم أكبر صورة وقيم المتغير x التي تبلغ عندها الدالة f هاتين القيمتين. <p style="text-align: right;">حل النشاط</p> <ol style="list-style-type: none"> مجموعة تعريف الدالة f هي: $D_f = [-2; 2]$. حساب صور كلا من $-2, -1, 1, 2$، بالدالة f. <p style="text-align: right;">- سوابق العدد -1 بالدالة f هي: -2 و -1.</p> <p style="text-align: right;">- سوابق العدد 3 بالدالة f هي: -1 و 2.</p> <p style="text-align: right;">3.</p> <p style="text-align: right;">- أصغر صورة للدالة f هي -1 و تبلغها عند كل من العددين -2 و 1.</p> <p style="text-align: right;">- أكبر صورة للدالة f هي 3 و تبلغها عند كل من العددين -1 و 2.</p>	<p>التشخيص</p> <p>و</p> <p>الإكتشاف</p>
20د	<p style="text-align: right;">القيم الحدية لدالة على مجال</p> <p>تعريف: f دالة معرفة على مجال I من \mathbb{R}.</p> <ul style="list-style-type: none"> القيمة الحدية العظمى للدالة f على I هي أكبر صورة $f(x)$ تبلغها f من أجل عدد a من I. أي تحقق من أجل كل x من I، $f(x) \leq f(a)$. القيمة الحدية الصغرى للدالة f على I هي أصغر صورة $f(x)$ تبلغها f من أجل عدد b من I. أي تحقق من أجل كل x من I، $f(x) \geq f(b)$. <p>ملاحظة: يمكن أن تبلغ دالة قيمتها الحدية العظمى أو الصغرى على مجال عند أكثر من عنصر واحد من المجال. والقيمة الحدية تكون دائما عددا حقيقيا (بمعنى إن $+\infty$ أو $-\infty$ لا يمكن أن يكونا قيمة حدية).</p>	<p>البناء</p>
15د	<p>تمرين: أرسم منحني يمكن أن يمثل الدالة f، علما أن:</p> <ul style="list-style-type: none"> f معرفة على المجال $[-3; 4]$. f تقبل قيمة حدية صغرى عند -1 وقيمة حدية عظمى عند 2. $f(-3) = 1$ و $f(4) = 2$. 	<p>التقييم</p>

الأستاذ: يحيى رشيد
المستوى: سنة أولى جذع مشترك علوم.
التاريخ: 2013/11/20م
الزمن: 2سا.
الوسائل التعليمية: الصبورة.

ثانوية عبد المجيد علاهم
الميدان: تحليل.
الوحدة التعليمية: عموميات على الدوال.
الموضوع: شفعية دالة.
الكفاءات المستهدفة: التعرف على شفعية دالة انطلاقا من تمثيلها البياني أو بالاعتماد على التعبير الجبري للخاصية.

مراحل الدرس	المحتوى المعرفي	المدة	توجيهات و تعليقات
التشخيص	نشاط نعتبر الأجزاء I, J و D من \mathbb{R} ، حيث: $I = [-3; 3]$ ، $J = [-2; 1]$ ، و $I = [-4; -2] \cup [2; 4]$. • مثل كلا منها على المستقيم العددي وأذكر أي منها متناضرا بالنسبة إلى الصفر.	15د	
البناء و الترسيخ	1. تناظر جزء D من \mathbb{R}. تعريف: نقول عن جزء D من \mathbb{R} أنه متناظر بالنسبة إلى الصفر إذا كان من أجل كل x من D فإن $-x$ ينتمي إلى D . أمثلة: كلا من \mathbb{R} و \mathbb{R}^* متناظرين بالنسبة إلى الصفر. المجال $[0; +\infty[$ ليس متناظرا بالنسبة إلى الصفر.	15د	
الإكتشاف	نشاط 4 ص	20د	
البناء و الترسيخ	2. شفعية دالة تعريف: جزء D من \mathbb{R} ، f دالة معرفة على D . • نقول أن f دالة زوجية إذا كان D متناظرا بالنسبة إلى 0 وكان لكل x من D ، $f(-x) = f(x)$. • نقول أن f دالة فردية إذا كان D متناظرا بالنسبة إلى 0 وكان لكل x من D ، $f(-x) = -f(x)$. ملاحظات • بيان الدالة الزوجية في المستوي المنسوب إلى معلم متعامد يكون متناظرا بالنسبة إلى محور الترتيب. • بيان الدالة الفردية في المستوي المنسوب إلى معلم يكون متناظرا بالنسبة إلى مبدأ المعلم. أمثلة 1. الدالة f المعرفة على \mathbb{R} بالعلاقة $f(x) = 2x^2 + 1$ دالة زوجية، لأن: ✓ مجموعة تعريفها \mathbb{R} متناظرة بالنسبة إلى 0 (بمعنى، لكل x من \mathbb{R} ، $-x \in \mathbb{R}$) ✓ ولكل x من \mathbb{R} ، $f(-x) = 2(-x)^2 + 1 = 2x^2 + 1 = f(x)$. 2. الدالة g المعرفة على \mathbb{R}^* بالعلاقة $g(x) = -\frac{2}{x}$ فردية، لأن: ✓ مجموعة تعريفها \mathbb{R}^* متناظرة بالنسبة إلى 0 ✓ ولكل x من \mathbb{R}^* ، $g(-x) = -\frac{2}{(-x)} = -\left(-\frac{2}{x}\right) = -g(x)$. 3. الدالة h المعرفة على $[0; +\infty[$ بالعلاقة $f(x) = 2x^2 + 1$ ليست زوجية ولا فردية، لأن المجال $[0; +\infty[$ غير متناظر بالنسبة إلى 0.	40د	
التقييم	تمرين 50-55 ص	30د	

مراحل الدرس	المحتوى المعرفي	المدة	توجيهات و تعليقات
التشخيص و الإكتشاف	<p>نشاط</p> <p>f و g دالتان وليكن (C_f) و (C_g) تمثيليهما البيانيين في معلم متعامد (أنظر الشكل)</p> <ol style="list-style-type: none"> حدد فواصل نقط تقاطع كلا من (C_f) و (C_g). حدد فواصل نقط المنحني (C_f) الواقعة فوق المنحني (C_g). حدد المجالات التي تكون فيها <ul style="list-style-type: none"> - (C_f) واقع فوق محور الفواصل. - (C_g) واقع تحت محور الفواصل. 	20د	
البناء	<p>حلّ معادلات و متراجحات بيانيا</p> <p>f و g دالتان معرفتان على مجموعة D، (C_f) و (C_g) منحنياهما في معلم للمستوي.</p> <ul style="list-style-type: none"> • حلّ المعادلة $f(x) = g(x)$ بيانيا يعني: تعيين فواصل النقط المشتركة للمنحنيين (C_f) و (C_g) • حلّ المتراجحة $f(x) > g(x)$ بيانيا يعني: تعيين فواصل نقط المنحني (C_f) الواقعة فوق المنحني (C_g). <p>إشارة دالة</p> <p>f دالة معرفة على مجال I من \mathbb{R}.</p> <ul style="list-style-type: none"> • تكون دالة f موجبة تماما على I إذا وفقط إذا كان تمثيلها البياني على I يقع فوق محور الفواصل. • تكون دالة f سالبة تماما على I إذا وفقط إذا كان تمثيلها البياني على I يقع تحت محور الفواصل. 	20د	
التقييم	<p>تطبيق</p> <p>لنكن الدالتان f و g الممثلتان كما في الشكل المقابل.</p> <ol style="list-style-type: none"> 1. حلّ المعادلة $f(x) = g(x)$ 2. حلّ المتراجحة $f(x) \geq g(x)$ 3. عيّن المجالات التي تكون فيها الدالة g سالبة تماما. 	20د	

الأستاذ: يحيى رشيد
المستوى: سنة أولى جذع مشترك علوم.
التاريخ: 2013/11/20م
الزمن: 2سا.
الوسائل التعليمية: الصبورة.

ثانوية عبد المجيد علاهم
الميدان: تحليل.
الوحدة التعليمية: الدوال المرجعية.
الموضوع: الدالة التآلفية.
الكفاءات المستهدفة:

مراحل الدرس	المحتوى المعرفي	المدة	توجيهات و تعليقات
التشخيص و الإكتشاف	<p>نشاط</p> <p>f دالة معرفة على مجال I من \mathbb{R}.</p> <p>نعتبر عددين x_1, x_2 من I حيث $x_1 < x_2$</p> <p>- بين أنه إذا كان العدد $\frac{f(x_2) - f(x_1)}{x_2 - x_1}$ سالب تماما فإنّ الدالة f متناقصة تماما على المجال I.</p> <p>- بين أنه إذا كان العدد $\frac{f(x_2) - f(x_1)}{x_2 - x_1}$ موجب تماما فإنّ الدالة f متزايدة تماما على المجال I.</p> <p>نعتبر الدالة f المعرفة على \mathbb{R} ب: $f(x) = 2x + 1$.</p> <p>1. أحسب العدد $\frac{f(x_2) - f(x_1)}{x_2 - x_1}$ ثم استنتج اتجاه تغير الدالة f.</p> <p>2. مثل بيانيا التمثيل البياني الدالة f.</p>	20د 20د	
البناء و التزييح	<p>1. نسبة تزايد دالة:</p> <p>تعريف: f دالة معرفة على مجال I من \mathbb{R}.</p> <p>- نعتبر عددين x_1, x_2 من I حيث $x_1 < x_2$ نسمي العدد: $\frac{f(x_2) - f(x_1)}{x_2 - x_1}$ بنسبة تزايد الدالة f بين العددين x_1 و x_2.</p> <p>مبرهنة f دالة معرفة على مجال I من \mathbb{R}، x_1, x_2 من I حيث $x_1 < x_2$</p> <p>- تكون الدالة f متزايدة تماما على المجال I إذا وفقط إذا كان العدد $\frac{f(x_2) - f(x_1)}{x_2 - x_1}$ موجب تماما.</p> <p>- تكون الدالة f متناقصة تماما على المجال I إذا وفقط إذا كان العدد $\frac{f(x_2) - f(x_1)}{x_2 - x_1}$ سالب تماما.</p> <p>2. الدالة التآلفية</p> <p>تعريف: نسمي دالة تآلفية كلّ دالة f معرفة على \mathbb{R} بالشكل $f(x) = ax + b$ حيث a و b عدنان حقيقيان مفروضان.</p> <p>حالات خاصة:</p> <p>- في حالة $b = 0$، الدالة $x \mapsto ax$ هي دالة خطية ذات معامل التناسبية a.</p> <p>- في حالة $a = 0$، $x \mapsto b$ هي دالة ثابتة.</p> <p>الخاصية المميزة للدوال التآلفية</p> <p>مبرهنة: تكون الدالة f تآلفية، إذا وفقط إذا كان، من أجل كلّ عددين حقيقيين مختلفين x و x'، النسبة $\frac{f(x) - f(x')}{x - x'}$ ثابتة (بمعنى أنّ تزايد الصورة متناسب مع تزايد المتغير).</p>	20د	

اتجاه تغير دالة تآلفية

- f دالة تآلفية معرفة على \mathbb{R} بالشكل $f(x) = ax + b$.
- إذا كان $a < 0$ ، فإنّ f متناقصة تماما.
 - إذا كان $a > 0$ ، فإنّ f متزايدة تماما.
- أمثلة

التمثيل البياني لدالة تآلفية

- f دالة تآلفية معرفة على \mathbb{R} بالشكل $f(x) = ax + b$.
- التمثيل البياني لدالة تآلفية في معلم هو مستقيم معامل توجيهه هو a .

التقييم

تمارين 54 - 55 ص 77.

مراحل الدرس	المحتوى المعرفي	المدة	توجيهات و تعليقات								
التشخيص و الإكتشاف	<p>نشاط</p> <p>f دالة معرفة على \mathbb{R} بـ: $f(x) = x^2$ و (C_f) هو تمثيلها البياني في معلم متعامد $(O; I, J)$.</p> <p>1. أدرس اتجاه تغير الدالة f على كل من المجالين $]-\infty; 0]$ و $]0; +\infty[$ ثم شكل جدول تغيراتها. واستنتج قيمتها الحدية الصغرى و قيمة المتغير x التي تبلغ عندها هاته القيمة.</p> <p>2. أدرس شفعية الدالة f.</p> <p>3. استعن بجدول قيم مساعدة لإنشاء منحنى الدالة f على المجال $[-3; 3]$.</p>	40د	تقارب، من خلال أنشطة، المفاهيم المتعلقة بسلوك هذه الدوال و تمثيلها البياني من أجل قيم كبيرة أو قريبة من الصفر للمتغير و تقبل نتائجها. • يمكن، من خلال مسائل، اكتشاف دوال أخرى من مثل: $x \mapsto ax^2$ ، $x \mapsto ax^2$. ($a \neq 0$) $x \mapsto ax^2 + bx + c$ ($a \neq 0$)								
البناء و الترسيع	<p>الدالة مربع</p> <p>تعريف: الدالة "مربع" هي الدالة التي ترفق بكل عدد حقيقي x مربعه x^2.</p> <p>إذا رمزنا إلى الدالة مربع بالرمز f، نكتب $f(x) = x^2$ أو $f: x \mapsto x^2$.</p> <p>نتائج</p> <p>1. الدالة مربع متناقصة تماما على المجال $]-\infty; 0]$، و متزايدة تماما على المجال $]0; +\infty[$.</p> <p>2. جدول تغيرات الدالة مربع</p> <table border="1" style="margin: 10px auto;"> <tr> <td>x</td> <td>$-\infty$</td> <td>0</td> <td>$+\infty$</td> </tr> <tr> <td>$f(x)$</td> <td colspan="3" style="text-align: center;"> </td> </tr> </table> <p>3. التمثيل البياني للدالة مربع في مستو منسوب إلى معلم متعامد $(O; I, J)$ متناظر بالنسبة إلى حامل محور الترتيب ويسمى قطاعا مكافئا، ذروة هي المبدأ $O(0; 0)$.</p> <p>4. الدالة مربع دالة زوجية.</p>	x	$-\infty$	0	$+\infty$	$f(x)$				30د	من خلال مسائل، اكتشاف دوال أخرى من مثل: $x \mapsto ax^2$ ، $x \mapsto ax^2$. ($a \neq 0$) $x \mapsto ax^2 + bx + c$ ($a \neq 0$)
x	$-\infty$	0	$+\infty$								
$f(x)$											
التقييم	<p>تمرين 01:</p> <p>جد حصر العدد x^2 في كل حالة من الحالات الآتية:</p> <p>(أ) $1 \leq x \leq 2$ ؛ (ب) $-2 \leq x \leq -1$ ؛ (ج) $x \in [-2, 1]$</p> <p>تمرين 02:</p> <p>(أ) حل المعادلتين: $x^2 = 4$ ، $x^2 = -2$. (ب) حل المتراجحتين: $x^2 \geq 4$ ، $x^2 \leq 4$.</p> <p>تمرين 03:</p> <p>أدرس اتجاه تغير الدالة $f: x \mapsto 2x^2$ على كل من المجالين $]-\infty; 0]$ و $]0; +\infty[$.</p> <p>نعتبر الدالة f حيث $f(x) = 2x^2 - 4x + 8$</p> <p>1. بين أنّ $f(x) = 2((x-1)^2 + 3)$</p> <p>2. أدرس اتجاه تغير الدالة f على كل من المجالين $]-\infty; 1]$ و $]1; +\infty[$ وشكل جدول تغيراتها.</p>	50د									

مراحل الدرس	المحتوى المعرفي	المدة	توجيهات و تعليقات								
التشخيص و الإكتشاف	<p>نشاط</p> <p>f دالة معرفة على \mathbb{R}^* بـ: $f(x) = \frac{1}{x}$ و (C_f) هو تمثيلها البياني في معلم متعامد $(O; I, J)$.</p> <p>4. أدرس اتجاه تغير الدالة f على كل من المجالين $]-\infty; 0[$ و $]0; +\infty[$ ثم شكل جدول تغيراتها.</p> <p>5. أدرس شفعية الدالة f.</p> <p>6. استعن بجدول قيم مساعدة لإنشاء منحنى الدالة f على المجال $[-3; 3]$.</p>	40د	تقارب، من خلال أنشطة، المفاهيم المتعلقة بسلك هذه الدوال و تمثيلها البياني من أجل قيم كبيرة أو قريبة من الصفر للمتغير و تقبل نتائجها. • يمكن، من خلال مسائل، اكتشاف دوال أخرى من مثل: $x \mapsto \frac{a}{x}$ ، $(a \neq 0)$ ، $x \mapsto \frac{ax+b}{x+c}$ ($x \neq -c$)								
البناء و التزيخ	<p>الدالة مقلوب</p> <p>تعريف: الدالة "مقلوب" هي الدالة المعرفة على المجموعة $]0; +\infty[\cup]-\infty; 0[$، والتي ترفق بكل عدد حقيقي x غير معدوم مقلوبه $\frac{1}{x}$.</p> <p>إذا رمزنا إلى الدالة مربع بالرمز f، نكتب $f(x) = \frac{1}{x}$ أو $f: x \mapsto \frac{1}{x}$.</p> <p>نتائج</p> <p>1. الدالة "مقلوب" متناقصة تماما على كل من المجالين $]0; +\infty[$ و $]-\infty; 0[$</p> <p>2. جدول تغيرات الدالة مقلوب</p> <table border="1" style="margin: 10px auto;"> <tr> <td>x</td> <td>$-\infty$</td> <td>0</td> <td>$+\infty$</td> </tr> <tr> <td>$\frac{1}{x}$</td> <td></td> <td></td> <td></td> </tr> </table> <p>3. التمثيل البياني للدالة مقلوب في مستو منسوب إلى معلم متعامد $(O; I, J)$ متناظر بالنسبة إلى المبدأ $O(0;0)$ ويسمى قطعا زائدا.</p> <p>4. الدالة مقلوب دالة فردية.</p>	x	$-\infty$	0	$+\infty$	$\frac{1}{x}$				30د	تقبل نتائجها. • يمكن، من خلال مسائل، اكتشاف دوال أخرى من مثل: $x \mapsto \frac{a}{x}$ ، $(a \neq 0)$ ، $x \mapsto \frac{ax+b}{x+c}$ ($x \neq -c$)
x	$-\infty$	0	$+\infty$								
$\frac{1}{x}$											
التقييم	<p>تمرين 01:</p> <p>أدرس اتجاه تغير الدالة $f: x \mapsto \frac{2}{x}$ على كل من المجالين $]0; +\infty[$ و $]-\infty; 0[$ وشكل جدول تغيراتها.</p> <p>تمرين 02:</p> <p>- نعتبر الدالة g حيث $g(x) = \frac{3x+4}{x+1}$</p> <p>برهن أنه من أجل كل عدد حقيقي x حيث $x \neq -1$ لدينا: $g(x) = 2 + \frac{1}{x+1}$.</p>	50د									

ثانوية عبد المجيد علاهم

الميدان: تحليل.

الوحدة التعليمية: الدوال المرجعية.

الموضوع: دالة الجذر التربيعي.

الكفاءات المستهدفة: تحديد اتجاه التغير و التمثيل البياني لدالة الجذر التربيعي.

الأستاذ: يحي رشيد

المستوى: سنة أولى جذع مشترك علوم.

التاريخ: 2014/01/09م

الزمن: 1سا.

الوسائل التعليمية: الصبورة.

مراحل الدرس	المحتوى المعرفي	المدة	توجيهات و تعليقات						
التشخيص و الإكتشاف	<p>نشاط</p> <p>f دالة معرفة على $[0; +\infty[$ ب: $f(x) = \sqrt{x}$ و (C_f) هو تمثيلها البياني في معلم متعامد $(O; I, J)$.</p> <p>1. أدرس اتجاه تغير الدالة f ثم شكل جدول تغيراتها.</p> <p>2. استعن بجدول قيم مساعدة لإنشاء منحنى الدالة f على المجال $[0; 9]$.</p>	20د	تقارب، من خلال أنشطة، المفاهيم المتعلقة بسلوك هذه الدوال و تمثيلها البياني من أجل قيم كبيرة أو قريبة من الصفر للمتغير و تقبل نتائجها. • يمكن، من خلال مسائل، اكتشاف دوال أخرى من مثل: $x \mapsto a\sqrt{x}$ ($a \neq 0$) ، $x \mapsto \sqrt{x+a} + b$ ($x \geq -a$)						
البناء و الترسيخ	<p>الدالة "الجذر التربيعي"</p> <p>تعريف: الدالة "الجذر التربيعي" هي الدالة المعرفة على المجال $[0; +\infty[$ والتي ترفق بكل عدد حقيقي x جذره التربيعي \sqrt{x}.</p> <p>إذا رمزنا إلى الدالة "الجذر التربيعي" بالرمز f، نكتب $f(x) = \sqrt{x}$ أو $f: x \mapsto \sqrt{x}$.</p> <p>نتائج</p> <p>1. الدالة "جذر تربيعي" متزايدة تماما على المجال $[0; +\infty[$.</p> <p>2. جدول تغيرات الدالة جذر تربيعي</p> <table border="1"><tr><td>x</td><td>0</td><td>$+\infty$</td></tr><tr><td>\sqrt{x}</td><td>0</td><td></td></tr></table>	x	0	$+\infty$	\sqrt{x}	0		20د	
x	0	$+\infty$							
\sqrt{x}	0								
التقييم	<p>تمرين:</p> <p>حدد مجموعة تعريف الدالة f حيث $f(x) = \sqrt{x+2} + 6$</p> <p>- أدرس اتجاه تغير الدالة f وشكل جدول تغيراتها.</p>	10د							

المحتوى المعرفي

المدة

توجيهات و
تعليقات

وحدات قياس الزوايا:

1. الدرجة: تقاس الزوايا بالدرجة حيث: الزاوية المستقيمة قياسها 180^0 .مثال: الزاوية القائمة قياسها 90^0 2. الراديان: تقاس الزوايا بالراديان حيث: الزاوية المستقيمة قياسها π راديان (πrad)مثال: الزاوية الكلية قياسها $2\pi rad$

3. الغراد: تقاس الزوايا بالgrad حيث: الزاوية المستقيمة قياسها 200 grad (200 grad)

مثال: الزاوية القائمة قياسها $100grad$

تمرين

اتمجدول التناسبية التالي

الراديان	$\frac{\pi}{6}$		$\frac{\pi}{3}$	$\frac{\pi}{2}$		π	$\frac{3\pi}{2}$	
الدرجة		45^0			120^0			360^0

التشخيص

و

الإكتشاف

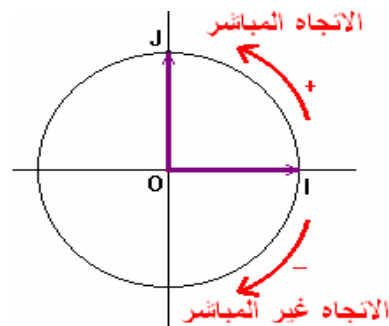
التقييم

الإكتشاف

البناء

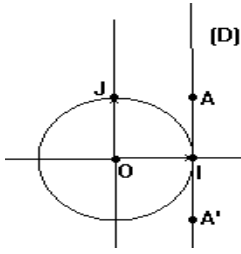
نشاط 04 ص 85.

الدائرة المثلثية

• نقول عن دائرة (C) إنها موجّهة إذا اخترنا عليها اتجاهها للحركة.نصطلح على أنّ **الاتجاه المباشر** (أو الموجب) هو الاتجاه المخالف لاتجاه دوران عقارب الساعة و **الاتجاه غير****المباشر** (أو السالب) هو الاتجاه الموافق لاتجاه دوران عقارب الساعة.• $(O; I, I')$ معلم متعامد ومتجانس للمستوي.الدائرة الموجّهة التي مركزها O و نصف قطرها I تسمى دائرة مثلثية.

و

التزسيخ



نعتبر في المعلم المتعامد و المتجانس $(O; I, J)$ الدائرة المثلثية (C) و النقطتين $(I; 0)$ و $(J; 1)$. (D) هو المماس للدائرة (C) في I .
 A هي النقطة من (D) حيث $\vec{IA} = \vec{OJ}$.
 ندرج (D) وفق المعلم $(I; A)$. نسمي A' نظيرة A بالنسبة للنقطة I
 نقوم بلف نصف المستقيم $[IA)$ على (C) في الاتجاه المباشر و بلف نصف
 المستقيم

و

$[IA)$ في الاتجاه غير المباشر.

كل نقطة m_i من (D) تنطبق على نقطة M_i من (C) .

(1) انشئ النقط M_1, M_2, M_3, M_4, M_5 من (C) التي تنطبق عليها النقط m_1, m_2, m_3, m_4, m_5 من (D) التي فواصلها هي، على الترتيب، $\frac{\pi}{4}, \frac{-\pi}{4}, \frac{15\pi}{2}, \frac{7\pi}{3}, \frac{-13\pi}{6}$.

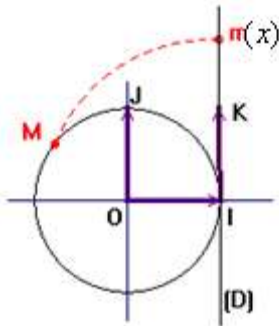
(2) M نقطة من (D) فاصلتها α ، تنطبق على نقطة a من (C) .
 عين بدلالة α ، فواصل نقط أخرى من (C) تنطبق على a .

الإكتشاف

المستقيم العددي والدائرة المثلثية

لتكن الدائرة المثلثية (C) في المعلم المتعامد والمتجانس $(O; I, J)$.

(D) هو المماس للدائرة (C) في I . K هي النقطة من (D) حيث $\vec{IK} = \vec{OJ}$.



* نرفق بكل عدد حقيقي x النقطة m من (D) التي فاصلتها x في المعلم الخطي $(I; K)$ و بلف (D) على (C) ، تنطبق النقطة m على نقطة M من (C) .

البناء

* كل عدد حقيقي x تقابله نقطة وحيدة M على (C)

نقول إن M هي صورة x ، ونقول كذلك إن x هو قياس للزاوية الموجبة (\vec{OI}, \vec{OM}) .

العدد الحقيقي x يسمى قياسا بالزوايا للزاوية الموجبة (\vec{OI}, \vec{OM}) و نكتب: $(\vec{OI}, \vec{OM}) = x \text{ rad}$

و

ملاحظات

- طول القوس 25 هو طول القطعة $[Im]$ و هو $|x|$.
- اذا أخذ قيما موجبة فأنك تتحرك في الاتجاه المباشر او إذا أخذ قيما سالبة فان تتحرك في الإتجاه الغير مباشر
- عبّر عن قياس القوس IM و قياس الزاوية الموجبة (\vec{OI}, \vec{OM}) بنفس العدد الحقيقي x .
- كل موضع للنقطة M من الدائرة المثلثية (C) يقابله لانهاية من الأعداد الحقيقية x من الشكل $x = \alpha + k(2\pi)$ مع k صحيح نسبي، حيث: $(\vec{OI}, \vec{OM}) = \alpha \text{ rad}$.

الترسيخ

مثال

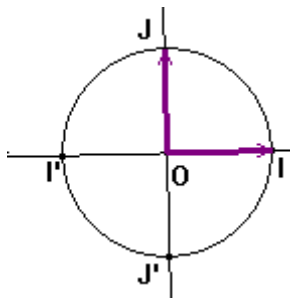
(C) دائرة مثلثية، إذن نصف قطرها r هو 1 ومحيطها $2\pi r$ أي 2π .

• صور الأعداد $\frac{\pi}{2}, \pi, \frac{3\pi}{2}$. هي على الترتيب النقط J, I, J'

• للعددين $\frac{-\pi}{2}$ و $\frac{3\pi}{2}$ نفس الصورة التي هي J' .

• للأعداد $0, 2\pi, -\pi$ نفس الصورة التي هي I .

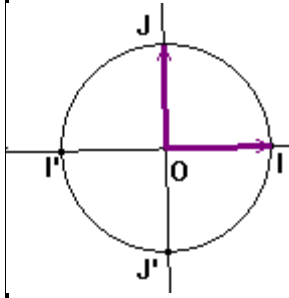
• $\frac{\pi}{2}$ هو قياس للزاوية $(\vec{OI}, \vec{OJ}) = \frac{\pi}{2} \text{ rad}$



تمرين

- (أ) ضع على الدائرة المثلثية النقط A و B و C صور الأعداد $\frac{\pi}{3}$ و $\frac{2\pi}{3}$ و $-\frac{\pi}{3}$ بهذا الترتيب.
 (ب) جد عددا يختلف عن $\frac{\pi}{3}$ و صورته A .
 (ج) ضع على الدائرة المثلثية النقطة E صورة $\frac{197\pi}{4}$ ثم النقطة F صورة $-\frac{35\pi}{4}$.

نشاط-تابع للنشاط 5



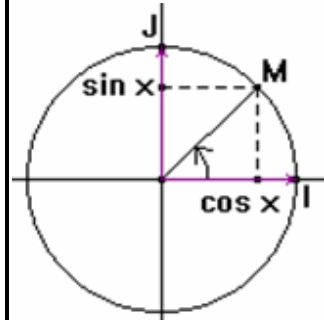
- M نقطة من (C) والتي هي صورة x ، باعتبار x ينتمي إلى المجال $[0, \frac{\pi}{2}]$
 1. عبر عن إحداثيتي M في المعلم $(O; I, J)$ بدلالة x .
 2. عين $\sin 0, \cos 0, \sin \frac{\pi}{2}, \cos \frac{\pi}{2}, \sin \frac{3\pi}{2}, \cos \frac{3\pi}{2}, \sin(-\frac{\pi}{2}), \cos(-\frac{\pi}{2}), \sin 2\pi, \cos 2\pi$.

تعريف

x عدد حقيقي. M النقطة المرفقة بالعدد x من الدائرة المثلثية.

في المعلم $(O; I, J)$:

- نسمي جيب تمام العدد الحقيقي x ، فاصلة النقطة M ونرمز إليه بالرمز $\cos x$. الدالة \cos هي الدالة التي ترفق بكل عدد حقيقي x العدد $\cos x$.
- نسمي جيب العدد الحقيقي x ، ترتيب النقطة M ونرمز إليه بالرمز $\sin x$. الدالة \sin هي الدالة التي ترفق بكل عدد حقيقي x العدد $\sin x$.



أمثلة

- صورة العدد $\frac{\pi}{2}$ هي النقطة $J(0,1)$ إذن $\cos \frac{\pi}{2} = 0$ و $\sin \frac{\pi}{2} = 1$.
 للعددين $-\frac{\pi}{2}$ و $\frac{3\pi}{2}$ نفس الصورة $J'(0,-1)$ إذن $\cos \frac{3\pi}{2} = \cos(-\frac{\pi}{2}) = 0$ و $\sin \frac{3\pi}{2} = \sin(-\frac{\pi}{2}) = -1$.
 صورة العدد π هي النقطة $I'(-1,0)$ إذن $\cos \pi = -1$ و $\sin \pi = 0$.

مبرهنة

من أجل كل عدد حقيقي x لدينا :

$$\bullet -1 \leq \cos x \leq 1 \text{ و } -1 \leq \sin x \leq 1 \text{ و } \cos^2 x + \sin^2 x = 1$$

$$\bullet \cos(-x) = \cos x \text{ و } \sin(-x) = -\sin x$$

أي أنّ الدالة جيب تمام زوجية و الدالة جيب فردية.

برهان

x عدد حقيقي كفي. $\sin x$ و $\cos x$ هما إحداثيا نقطة M من الدائرة المثلثية (مركزها O ونصف قطرها 1).

$$\bullet \text{ لدينا } OM^2 = 1 \text{ إذن } \cos^2 x + \sin^2 x = 1$$

1. تمرين اتمم الجدول التالي

x	0	$\frac{\pi}{6}$	$\frac{\pi}{4}$	$\frac{\pi}{3}$	$\frac{\pi}{2}$	π	$\frac{3\pi}{2}$
$\cos x$							
$\sin x$							

ثانوية عبد المجيد علاهم

الميدان: تحليل.

الوحدة التعليمية: الدوال المرجعية.

الموضوع: اتجاه تغير الدالة جيب والدالة جيب تمام.

الكفاءات المستهدفة: تحديد اتجاه التغير و التمثيل البياني للدالة جيب والدالة جيب تمام.

الأستاذ: يحي رشيد

المستوى: سنة أولى جذع مشترك علوم.

التاريخ: 2014/02/23م

الزمن: 2 سا.

الوسائل التعليمية: المدور+الكوس+الصبورة.

مراحل
الدرس

المحتوى المعرفي

المدة

توجيهات و
تعليقات

نشاط

التشخيص
و
الإكتشاف

أدرس اتجاه تغير كل من الدالتين "جيب تمام" و "جيب". على المجالين $\left[0, \frac{\pi}{2}\right]$ و $\left[\frac{\pi}{2}, \pi\right]$ ثم شكل جدول تغيراتهما.

اتجاه تغيّر الدالتين "جيب تمام" و "جيب"

• الدالة \cos متناقصة تماما على المجال $[0, \pi]$.

• الدالة \sin متزايدة تماما على المجال $\left[0, \frac{\pi}{2}\right]$ و متناقصة تماما على المجال $\left[\frac{\pi}{2}, \pi\right]$.

البناء

جدول تغيّرات الدالتين "جيب تمام" و "جيب" على المجال $[0; \pi]$

جدول تغيرات الدالة "جيب تمام"

20د

20د

30د

x	0	$\frac{\pi}{2}$	π
$\cos x$	π	0	-1

و

جدول تغيرات الدالة "جيب"

التزيخ

x	π	1	0
$\sin x$	0	$\frac{\pi}{2}$	0

10د

نشاط 2

2. اتمم الجدول التالي

التشخيص

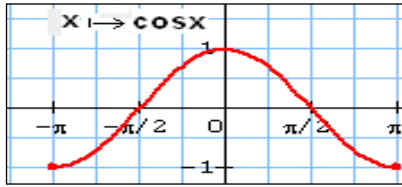
x	0	$\frac{\pi}{6}$	$\frac{\pi}{4}$	$\frac{\pi}{3}$	$\frac{\pi}{2}$	π
$\cos x$						
$\sin x$						

و

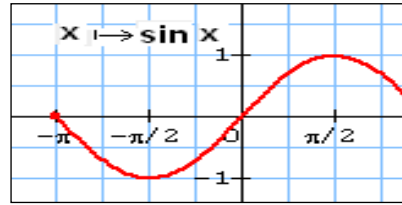
الإكتشاف

بمساعدة الجدول أعلاه أنشئ كلا من منحنى الدالتين جيب وجيب تمام على المجال $[-\pi; \pi]$.

التمثيل البياني للدالتين "جيب" و "جيب"



- ننشئ التمثيل البياني للدالة \cos على المجال $[0, \pi]$ انطلاقاً من جدول تغيراتها.
- نتمم هذا الرسم على $[-\pi, 0]$ بالتناظر بالنسبة للمبدأ لأن الدالة \cos زوجية.



- ننشئ التمثيل البياني للدالة \sin على المجال $[0, \pi]$ انطلاقاً من جدول تغيراتها.
- نتمم هذا الرسم على $[-\pi, 0]$ بالتناظر بالنسبة للمبدأ لأن الدالة \sin فردية.

الأستاذ: يحي رشيد المستوى: سنة أولى جذع مشترك علوم. التاريخ: 2014/02/25م الزمن: 2سا. الوسائل التعليمية: الصبورة.	ثانوية عبد المجيد علاهم الميدان: حساب. الوحدة التعليمية: العبارات الجبرية. الموضوع: المعادلات والمترجمات. الكفاءات المستهدفة: التعرف على مختلف الصيغ لنفس العبارة الجبرية (صيغة مختصرة، صيغة مطلة،). وتوظيفها في حل معادلات من الدرجة الأولى بمجهول واحد
------------------------------------------------------------------------------------------------------------------------------	-----------------------------------------------------------------------------------------------------------------------------------------------------------------------------------------------------------------------------------------------------------------------------

المدة	المحتوى المعرفي	مراحل الدرس
20د	<p>نشاط 1 لتكن العبارة $E(x) = 4x^2 - 9 + (2x+3)(3x-4)$ حيث:</p> <ol style="list-style-type: none"> 1. أنشرثم بسط العبارة $E(x)$. 2. حل العبارة $E(x)$. 3. أحسب قيمة $E(x)$ من أجل $x=0$، $x=-1$. 4. حل في \mathbb{R} المعادلة $E(x) = 0$. 	التشخيص
20د	<p>1. تحويل عبارة جبرية</p> <p>يمكن تحويل عبارة جبرية مكتوبة بصيغة معينة الى صيغة أخرى باعتماد النشر والتبسيط أو التحليل -نشر عبارة جبرية يعني كتابتها على شكل مجموع</p> <p>مثال $E(x) = 4x^2 - 9 + (2x+3)(3x-4) = 4x^2 - 9 + 6x^2 - 8x + 9x - 12$</p> <p>- تبسيط عبارة جبرية يعني كتابتها بأقل عدد ممكن من الحدود</p> <p>مثال $4x^2 - 9 + 6x^2 - 8x + 9x - 12 = 10x^2 + x - 21$</p>	و الإكتشاف
30د	<p>تحليل عبارة جبرية هو كتابتها على شكل جداء عوامل.</p> <p>الجداءات الشهيرة</p> <p>من أجل كل عددين حقيقيين a، b نجد:</p> $(a+b)^2 = a^2 + b^2 + 2ab$ $(a-b)^2 = a^2 + b^2 - 2ab$ $(a+b)(a-b) = a^2 - b^2$ <p>نتيجة</p> <p>n عدد طبيعي غير معدوم اذا كان $(A(x))^n = 0$ فيعني أن $A(x) = 0$.</p> <p>أمثلة</p>	البناء
10د	<p>2. المعادلات المتكافئة</p> <ul style="list-style-type: none"> ▪ نقول عن معادلتين إنهما متكافئتان عندما يكون لهما نفس مجموعة الحلول. ▪ إذا أضفنا نفس العدد إلى طرفي معادلة نحصل على معادلة مكافئة لها. ▪ إذا ضربنا في نفس العدد غير المعدوم طرفي معادلة نحصل على معادلة مكافئة لها. <p>مثال: المعادلة $2x-3=8$ تكافئ $2x-3+3=8+3$ أي $2x=11$</p> <p>وتكافئ $\frac{1}{2} \times 2x = 11 \times \frac{1}{2}$ أي $x = \frac{11}{2}$</p> <p>حل معادلة:</p> <p>1. معادلة جداء</p>	و الترسيخ

، a ، b عدنان حقيقيان إذا كان الجداء ab معدوم فهذا يعني أنّ أحد العاملين معدوم.
لحل معادلة ليست من الدرجة الأولى نتبع الخطوات التالية:

1. نجعل طرفها الأيمن معدوم.
2. نقوم بتحليل الطرف الأيسر لهذه المعادلة. نتحصل عندئذ على معادلة جداء.
3. نحل المعادلة المحصل عليها.

مثال: حلّ في R المعادلة: $(2x-1)^2+x(1-2x)=4x^2-1$

2. معادلة حاصل قسمة

المعادلة $\frac{A(x)}{B(x)}=0$ تكافئ $A(x)=0$ و $B(x) \neq 0$.

مثال حل في \mathbb{R} المعادلة:

$$\frac{3x+6}{x-5}=0$$

نشاط 02

($O ; I, J$) معلم متعامد ومتجانس، f و g دالتان معرفتان على R حيث $f(x)=2x+1$ ،

$g(x)=-2x+1$. (D_1) هو المستقيم الممثل للدالة f . (D_2) هو المستقيم الممثل للدالة g .

1. مثل في نفس المعلم كل من (D_1) و (D_2) .
2. أدرس إشارة كلا من $f(x)=2x+1$ ، $g(x)=-2x+1$.

1. إشارة العبارة. $ax+b$ ، $(a \neq 0)$.

x	$-\infty$	$-\frac{b}{a}$	$+\infty$
$ax+b$			
b	عكس إشارة a	0	إشارة a

يمكن تلخيص إشارة العبارة $ax+b$ كما هو موضح

في الجدول التالي:

مثال: أدرس إشارة العبارات التالية

$$3x+1, -3x+5, -2x-7.$$

حل متراجحة

1. متراجحة جداء

لحل متراجحة من الشكل $A(x) \times B(x)$ نعتمد على إشارة الجداء

لدراسة إشارة الجداء $A(x) \times B(x)$ نعتمد على قواعد الإشارة ونستعين بجدول الإشارات.

مثال

حل في مجموعة الأعداد الحقيقية المتراجحات التالية: $(3x-4)(x-1) \leq 0$ ، $(-3x-5)(x-1) > 0$ ،

$$(3x-4)x \leq 0$$

2. متراجحة حاصل قسمة $A(x)$ و $B(x)$ عبارتان جبريتان. المتراجحة $\frac{A(x)}{B(x)} \geq 0$ تكافئ $A(x) \times B(x) \geq 0$ و $B(x) \neq 0$.

مثال حل في مجموعة الأعداد الحقيقية المتراجحتين التاليتين

$$3. \frac{x^2-4}{x-1} \geq 0, \frac{3x+5}{x-1} \leq 0$$

<p>الأستاذ: يحيى رشيد المستوى: سنة أولى جذع مشترك علوم. التاريخ: 2014/02/26م الزمن: 2سا. الوسائل التعليمية: الصبورة.</p>	<p>ثانوية عبد المجيد علاهم الميدان: حساب. الوحدة التعليمية: العبارات الجبرية. الموضوع: المعادلات والمتراجحات. الكفاءات المستهدفة: التعرف على مختلف الصيغ لنفس العبارة الجبرية (صيغة مختصرة، صيغة محللة،). وتوظيفها في حل معادلات من الدرجة الأولى بمجهول واحد</p>
------------------------------------------------------------------------------------------------------------------------------------------	------------------------------------------------------------------------------------------------------------------------------------------------------------------------------------------------------------------------------------------------------------------------------------------

مراحل الدرس	المحتوى المعرفي	المدة	توجيهات و تعليقات
التشخيص و الإكتشاف	<p>نشاط 01 a ، b و c ثلاثة أعداد حقيقية و a غير معدوم أنشر ثم بسط العبارة: $a \left[\left(x + \frac{b}{2a} \right) - \frac{b-4ac}{4a^2} \right]$ - ماذا تستنتج</p>	20د	
البناء و التزيخ	<p>1. الشكل النموذجي للعبارة $ax^2 + bx + c$ ($a \neq 0$) تعريف العدد $b^2 - 4ac$ يسمى مُميّز العبارة $ax^2 + bx + c$ ($a \neq 0$) ونرمز إليه بالرمز Δ (نقرأ " دلتا"). ▪ $a \left[\left(x + \frac{b}{2a} \right) - \frac{\Delta}{4a^2} \right]$ هو الشكّل النموذجي للعبارة $ax^2 + bx + c$ ($a \neq 0$). تمرين 58.59 ص 136.</p>	20د	
التشخيص و الإكتشاف البناء و التزيخ	<p>نشاط 02 - أكتب العبارة $ax^2 + bx + c$ على الشكل النموذجي . - ناقش حسب قيم Δ (موجب تماماً، سالب تماماً، معدوم) حلول المعادلة $ax^2 + bx + c = 0$. ماذا تستخلص في كل حالة . 2. حل المعادلة: $ax^2 + bx + c$ ، ($a \neq 0$) . مبرهنة: لتكن المعادلة $ax^2 + bx + c = 0$ مع ($a \neq 0$) ، Δ مميّزها: • إذا كان $\Delta > 0$ فإنّ المعادلة تقبل حلين x_1 ، x_2 : $x_1 = \frac{-b - \sqrt{\Delta}}{2a}$ ، $x_2 = \frac{-b + \sqrt{\Delta}}{2a}$ • إذا كان $\Delta = 0$ فإنّ المعادلة تقبل حلاً مضاعفاً x_0 : $x_0 = \frac{-b}{2a}$ • إذا كان $\Delta < 0$ فإنّ المعادلة لا تقبل حلولاً في \mathbb{R} . تمرين حل في \mathbb{R} المعادلات التالية. • $x^2 + x - 6$ • $-x^2 + x + 1$ • $-3x^2 + 2x$ • $-x^2 - 3$</p> <p>3. تحليل العبارة $ax^2 + bx + c$ إذا كان $\Delta > 0$ فإنّ تحليل العبارة $ax^2 + bx + c$ هو $a(x-x_1)(x-x_2)$</p>	30د 10د	

- إذا كان $\Delta = 0$ فإنّ تحليل العبارة $ax^2 + bx + c$ هو $ax^2 + bx + c = a(x-x_0)^2$
 - إذا كان $\Delta < 0$ فإنّ العبارة $ax^2 + bx + c$ لا تقبل تحليلاً.
- تطبيق حلّ العبارات التالية ان أمكن.
- $x^2 + 3x - 6$
 - $-2x^2 + x + 1$
 - $-3x^2 + 2x$
 - $-x^2 - 3$

حل مسألة

$ABCD$ مستطيل حيث $AD = 4\text{ cm}$ ، $AB = 10\text{ cm}$ ، I منتصف $[AB]$ ، J منتصف $[CD]$
 M نقطة متغيرة من $[CD]$.
 عيّن مواضع M التي يكون من أجلها المثلث AMB قائماً في M .

الأستاذ: يحي رشيد المستوى: سنة أولى جذع مشترك علوم. التاريخ: 2014/03/03م الزمن: 40 د. الوسائل التعليمية: الصبورة.	ثانوية عبد المجيد علام الميدان: إحصاء الوحدة التعليمية: مبادئ أولية في الإحصاء. الموضوع: الميزة الإحصائية، المتغير الإحصائي. الكفاءات المستهدفة (المراد تحقيقها) : التمييز بين الميزتين الكمية والنوعية التمييز بين المتغير الإحصائي المتقطع والمستمر .
-------------------------------------------------------------------------------------------------------------------------------	------------------------------------------------------------------------------------------------------------------------------------------------------------------------------------------------------------------------------------------------------------------------

مراحل الدرس	المحتوى المعرفي	المدة	توجيهات و تعليقات
	<p style="text-align: right;">مفردات الإحصاء</p> <p style="text-align: right;">تمهيد</p> <p>عندما نهتم بدراسة ظاهرة ما، مثلا (عدد الإخوة والأخوات لتلاميذ المستوى النهائي في ثانوية ما. أسماء سيارات موجودة في حظيرة سيارات) ، نقول أننا نجري دراسة إحصائية.</p> <p>المجتمع الإحصائي هو المجموعة اللتي أقيمت عليها الدراسة الإحصائية مثلا (هو تلاميذ ثانوية ، أجهزة أعلام آلي،</p> <p>العينة الإحصائية هي مجموعة جزئية من المجتمع الإحصائي مثلا قسم من ثانوية يدرس المجتمع من خلال خاصية تسمى الميزة الإحصائية وهي نوعان</p> <p>ميزة إحصائية كمية وتسمى أيضا متغير إحصائي مثلا عدد الإخوة والأخوات ،علامات مادة معينة، طول القامة.</p> <p>ميزة إحصائية نوعية مثلا لون البشرة، لون العينين،الجنس(ذكر،أنثى) .</p> <p>نقول أن المتغير الإحصائي متقطع عندما يمكن عد وحصر قيمه مثلا عدد الإخوة وأنه مستمر عندما يمكن قياس قيمه مثلا وزن التلاميذ .</p> <p>عندما يكون عدد القيم كبيرا نلجأ الى حصرها ضمن مجالات تسمى فئات ونسمي مركز الفئة $[a, b]$ هو العدد $\frac{a+b}{2}$ و طولها العدد الموجب $b-a$.</p>	40	

الأستاذ: يحي رشيد
المستوى: سنة أولى جذع مشترك علوم.
التاريخ: 2014/03/09م
الزمن: 1 سا.
الوسائل التعليمية: الصبورة.

ثانوية عبد المجيد علام
الميدان: إحصاء
الوحدة التعليمية: مبادئ أولية في الإحصاء.
الموضوع: التوزيعات التكرارية.
الكفاءات المستهدفة (المراد تحقيقها) :

المحتوى المعرفي

مراحل
الدرس

نشاط رقم 1 ص 142

1. التوزيعات التكرارية

- تكرار قيمة للطبع الإحصائي هو عدد الأفراد الموافقة لهذه القيمة.
- تواتر قيمة للطبع الإحصائي هو حاصل قسمة تكرارها على عدد أفراد المجتمع (أي التكرار الكلي).
- نسمي سلسلة إحصائية مجموعة القيم التي جُمعت .
- غالبا ما نمثل بجدول يشمل كل قيمة وتكرارها.

2. التوزيعات التكرارية المجمعة

- نفرض أن قيم الميزة مرتبة ترتيبا تصاعديا.
- التكرار المجمع الصاعد لقيمة (أو لفئة) هو مجموع تكرار هذه القيمة (أو لفئة) وتكرارات القيم (أو الفئات) الأصغر منها.
 - التكرار المجمع النازل لقيمة (أو لفئة) هو مجموع تكرار هذه القيمة (أو الفئات) الأكبر منها.
 - التواتر المجمع الصاعد لقيمة (أو لفئة) هو مجموع تواتر هذه القيمة (أو لفئة) و تواترات القيم (أو الفئات) الأصغر منها.
 - التواتر المجمع النازل لقيمة (أو لفئة) هو مجموع تواتر هذه القيمة (أو لفئة) وتواترات القيم (أو الفئات) الأكبر منها.

مثال : لدينا سلسلة إحصائية تتعلق بأطوال وديان بالكيلومتر. (الطبع الإحصائي هنا مستمر).

الأطوال	[80,100[[100,120[[140,160[[120,140[
التكرار	12	10	6	12
التكرار المجمع الصاعد				
التكرار المجمع النازل				
التواتر				
التواتر المجمع الصاعد				
التواتر المجمع النازل				

أكمل هذا الجدول.

الأستاذ: يحي رشيد
المستوى: سنة أولى جذع مشترك علوم.
التاريخ: 2014/03/09م
الزمن: 1 سا.
الوسائل التعليمية: الصبورة.

ثانوية عبد المجيد علام
الميدان: إحصاء
الوحدة التعليمية: مبادئ أولية في الإحصاء.
الموضوع: التوزيعات التكرارية.
الكفاءات المستهدفة (المراد تحقيقها) :

مراحل الدرس	المحتوى المعرفي	المدة	توجيهات و تعليقات																																														
	<p>نشاط 01 يعبّر الجدول الآتي عن توزيع أعمار 12 طفلا:</p> <table border="1"> <tr> <td>الأعمار</td> <td>8</td> <td>9</td> <td>1</td> <td>1</td> </tr> <tr> <td>بالسنوات</td> <td></td> <td></td> <td>0</td> <td>1</td> </tr> <tr> <td>التكرار</td> <td>2</td> <td>5</td> <td>3</td> <td>2</td> </tr> </table> <p>أنشئ مخطّط الأعمدة ومضلع التكرارات المتعلق بهذه السلسلة الإحصائية .</p> <p>نشاط 02 أعمار 70 طفل موزعة كالاتي:</p> <table border="1"> <tr> <td>الأعمار</td> <td>[6;8[</td> <td>[8;10[</td> <td>[10;12[</td> <td>[12;14[</td> </tr> <tr> <td>بالسنوات</td> <td></td> <td></td> <td></td> <td></td> </tr> <tr> <td>التكرار</td> <td>10</td> <td>30</td> <td>10</td> <td>20</td> </tr> </table> <p>أنشئ المدرج التكراري ومضلع التكرارات المتعلق بهذه السلسلة الإحصائية .</p> <p>نشاط 03 الجدول الآتي يبين عدد السيارات المسجلة في الجزائر (إلى 31/12/2002). (المصدر : الديوان الوطني للإحصائيات).</p> <table border="1"> <tr> <td>السيارات السياحية</td> <td>الشاحنات</td> <td>الأنواع الأخرى</td> </tr> <tr> <td>1739286</td> <td>30017 1</td> <td>938400</td> </tr> </table> <p>مثل هذه السلسلة بمخطّط دائري.</p> <p>نشاط 02 أجريت دراسة على 100 مصباح لمعرفة مدة صلاحيتها و سجلت النتائج في الجدول الآتي:</p> <table border="1"> <tr> <td>مدة الصلاحية بالساعات</td> <td>[200;300[</td> <td>[300;400[</td> <td>[400;700[</td> <td>[700;900[</td> </tr> <tr> <td>عدد المصابيح n_i</td> <td>5</td> <td>30</td> <td>45</td> <td>20</td> </tr> </table>	الأعمار	8	9	1	1	بالسنوات			0	1	التكرار	2	5	3	2	الأعمار	[6;8[[8;10[[10;12[[12;14[بالسنوات					التكرار	10	30	10	20	السيارات السياحية	الشاحنات	الأنواع الأخرى	1739286	30017 1	938400	مدة الصلاحية بالساعات	[200;300[[300;400[[400;700[[700;900[عدد المصابيح n_i	5	30	45	20	40د	
الأعمار	8	9	1	1																																													
بالسنوات			0	1																																													
التكرار	2	5	3	2																																													
الأعمار	[6;8[[8;10[[10;12[[12;14[
بالسنوات																																																	
التكرار	10	30	10	20																																													
السيارات السياحية	الشاحنات	الأنواع الأخرى																																															
1739286	30017 1	938400																																															
مدة الصلاحية بالساعات	[200;300[[300;400[[400;700[[700;900[
عدد المصابيح n_i	5	30	45	20																																													

1. أحسب أطوال الفئات لهذه السلسلة.

2. ليكن a_i طول الفئة a_i .

3. أكمل الجدول التالي:

الفئات	$[200; 300[$	$[300; 400[$	$[400; 700[$	$[700; 900[$
أطوال الفئات				
التكرارات n_i	5	30	45	20
k_i				
الارتفاعات $\frac{n_i}{k_i}$				

4. أنشئ المدرج التكراري لهذه السلسلة.

الأستاذ: يحي رشيد
المستوى: سنة أولى جذع مشترك علوم.
التاريخ: 2014/04/07م
الزمن: 2سا.
الوسائل التعليمية: الصبورة.

ثانوية عبد المجيد علام
الميدان: إحصاء
الوحدة التعليمية: مؤشرات الموقع.
الموضوع: الوسط الحسابي في المتغير المتقطع وتوظيف خواصه..
الكفاءات المستهدفة (المراد تحقيقها): تعيين المتوسط الحسابي في المتغير المتقطع، التعرف على خواص خطية المتوسط الحسابي وتوظيفها.

مراحل الدرس	المحتوى المعرفي	المدة	توجيهات و تعليقات
	<p>نشاط</p> <p>تمثل السلسلة التالية نتائج 10 تلاميذ في اختبار (من 20)</p> <p>10,3، 5، 8، 12، 18، 3، 5، 8، 14</p> <ol style="list-style-type: none"> 1. أحسب معدل هذه النتائج. 2. رتب هذه النتائج في جدول يشملها وتكراراتها، والتكرارات النسبية. 3. أحسب مجموع جداء كل قيمة بتكرارها واقسم النتائج على التكرار الكلي. 4. أحسب مجموع جداء كل قيمة في تكرارها النسبي. 5. نفرض أن الأستاذ أضاف نقطتين لكل تلميذ. أعد حساب المعدل. 6. لإيجاد المعدل من 40 ضاعف العلامات السابقة ثم أعد حساب المعدل. 7. نفرض أن ثلاث نقاط الأولى للإناث وأن السبعة الأخرى للذكور. أحسب معدل كل جنس، ثم اضرب كل منهما في عدد عناصر جنسها واجمع النتيجة. ثم اقسم الناتج على 10 <p>الوسط الحسابي في حالة متغير إحصائي متقطع</p> <p>تعريف: الوسط الحسابي للقيم $x_1, x_2, x_3, \dots, x_k$ التي تكراراتها هي، على الترتيب، $n_1, n_2, n_3, \dots, n_k$ هو العدد \bar{x} حيث</p> $\bar{x} = \frac{n_1x_1 + n_2x_2 + n_3x_3 + \dots + n_kx_k}{n_1 + n_2 + n_3 + \dots + n_k}$ <p>مثال:</p> <p>الوسط الحسابي للسلسلة 4,5,6,8,18,19 هو 10 .</p> <p>الوسط الحسابي للقيم 12,15,14,17,15,148 هو.</p> <p>حول الزمن</p> <p>المجموع $a_1 + a_2 + \dots + a_k$ يكتب $\sum_{i=1}^{i=k} a_i$ ونقرأ: "مجموع الأعداد a_i من $i=1$ إلى $i=k$".</p> <p>مثال 1: $1+2+3+5+6+7+8+9+10 = \sum_{i=1}^{i=10} i$</p> <p>مثال 2:</p> $.21+3+5+7+9 = (1+2(0)) + (1+2(1)) + (1+2(2)) + (1+2(3)) + (1+2(4)) = \sum_{i=0}^{i=4} 1+2i$ <p>نتيجة: يمكن كتابة الوسط الحسابي \bar{x} على الشكل</p> $\bar{x} = \frac{\sum_{i=1}^{i=k} n_i x_i}{\sum_{i=1}^{i=k} n_i}$	40	<p>• يمكن حساب الوسط الحسابي انطلاقاً من الأوساط الحسابية الجزئية أو من التواترات (التكرارات النسبية).</p> <p>• يمكن برهان خواص خطية الوسط الحسابي.</p>

خاصية 1

لتكن سلسلة إحصائية تأخذ القيم $x_1, x_2, x_3, \dots, x_k$ بالتواترات $f_1, f_2, f_3, \dots, f_k$ ، على الترتيب.
الوسط الحسابي لهذه السلسلة هو العدد \bar{x} حيث $\bar{x} = f_1x_1 + f_2x_2 + f_3x_3 + \dots + f_kx_k$.

مثال

50% من تلاميذ قسم تحصلوا على العلامة 12 و 30% تحصلوا على العلامة 10 و 20% تحصلوا على العلامة 13 . ما هو معدّل هذا القسم ؟

القيم (العلامات)	10	12	13	لدينا
التواترات	0,3	0,5	0,2	

الوسط الحسابي (معدّل القسم) هو : $\bar{x} = 0,3 \times 10 + 0,5 \times 12 + 0,2 \times 13 = 11,6$

خاصية 2

- عندما نضيف نفس العدد a لكل قيمة من قيم الطّبع الإحصائي : يزداد الوسط الحسابي بالمقدار a أي $\overline{x+a} = \bar{x} + a$.
- عندما نضرب في نفس العدد a كل قيمة من قيم الطّبع الإحصائي : الوسط الحسابي يضرب في العدد a أي $\overline{a \times x} = a \times \bar{x}$.

مثال: معدّل علامات تلاميذ قسم هو 9. عندما نضيف نقطتين لكل علامة، يصبح معدّل هذا القسم 11 وعندما نضرب كلّ علامة في 2 يصير المعدّل 18.

تطبيق: احسب الوسط الحسابي \bar{x} للأعداد : 98764,5 ؛ 98764,1 ؛ 98764,2 ؛ 98764,6 .

خاصية 3

ليكن \bar{x} الوسط الحسابي لسلسلة إحصائية تكررهما الكلي N .

\bar{x}_1, \bar{x}_2 وسطين حسابيين جزئيين للسلسلة تكررهما N_1, N_2 على الترتيب حيث $N = N_1 + N_2$ إذا :

$$\bar{x} = \frac{N_1 \times \bar{x}_1 + N_2 \times \bar{x}_2}{N}$$

مثال: يتكون قسم من 15 تلميذا و 10 تلميذات، معدّل التلاميذ 12,5 ومعدّل التلميذات 11,3 . ما هو معدّل القسم؟

$$\text{معدّل القسم هو : } \frac{15 \times 12,5 + 10 \times 11,3}{25} = 12,02$$

الوسط الحسابي في حالة متغير إحصائي مستمر

تعريف: الوسط الحسابي لفئات مراكزها c_1, c_2, \dots, c_k ، و التي تكراراتها هي n_1, n_2, \dots, n_k ، على الترتيب هو

$$\bar{x} = \frac{n_1c_1 + n_2c_2 + n_3c_3 + \dots + n_kc_k}{n_1 + n_2 + n_3 + \dots + n_k}$$

مثال: الجدول الآتي يتعلق بالأجور التي يتقاضاها 81 عاملا بالدينار في اليوم .

الأجور (D.A)	[400; 450[[450; 550[[500; 550[[550; 600[[600; 650[
عدد العمال	15	20	25	10	11

- عين الوسط الحسابي لهذه السلسلة

1. وسيط سلسلة قيم متقطعة قد يختلف عنه إذا حسبناه بعد توزيعها على فئات.
2. لإيجاد وسيط سلسلة بيانات يمكن أن ننشئ المضلع التكراري للتكرارات المجمعة الصاعدة، ثم نبحث عن فاصلة النقطة من المنحنى التي ترتيبها $\frac{N}{2}$

الأستاذ: يحي رشيد
المستوى: سنة أولى جذع مشترك علوم.
التاريخ: 2014/03/12م
الزمن: 2سا.
الوسائل التعليمية: الصبورة.

ثانوية عبد المجيد علام
الميدان: إحصاء
الوحدة التعليمية: مؤشرات سلسلة إحصائية.
الموضوع: الوسط الحسابي في المتغير المتقطع وتوظيف خواصه..
الكفاءات المستهدفة (المراد تحقيقها) : تعيين المتوسط الحسابي في المتغير المتقطع، التعرف على خواص خطية المتوسط الحسابي وتوظيفها.

المحتوى المعرفي

مراحل
الدرس

نشاط

ملاحظة:

يسمى المدى بمؤشر تشتت (تباعد وتوزع القيم)

إختيار مؤشر موقع لتلخيص سلسلة إحصائية

- عين في كلّ وضعية من الوضعيات الآتية ،مؤشر الموقع الذي تراه مناسباً لتلخيص السلسلة .
- الوضعية 1: سلسلة متعلقة بعدد العائلات التي مدخولها الشهري أقل من 10000DA .
الهدف هو تقديم مساعدة إلى 50 % من هذه العائلات من قبل البلدية.
- الوضعية 2: سلسلة متعلقة بمقاسات الأحذية التي باعها تاجر .
- الوضعية 3: سلسلة متعلقة بنتائج تلميذ في المواد الأساسية (الرياضيات معاملها 5، والعلوم الفيزيائية معاملها 4، والعلوم الطبيعية معاملها 4).

المواد	الرياضيات	العلوم الفيزيائية	العلوم الطبيعية
العلامات	12	4	11

ثانوية المجاهد أحمد الغازي

الميدان:هندسة

الوحدة التعليمية: الحساب الشعاعي والهندسة التحليلية

الكفاءات المستهدفة(المراد تحقيقها) : التعرف على تساوي شعاعين، التعرف

على مجموع شعاعي وإنشاؤه.

الأستاذة: عطية نورة

المستوى: سنة أولى جذع مشترك علوم.

التاريخ:

الزمن: 2 سا.

الوسائل التعليمية: الصبورة.

مراحل الدروس	المحتوى المعرفي	المدة	توجيهات و تعليقات
التشخيص	تساوي شعاعين، علاقة شال.	05د	
الإكتشاف	نشاط 1 ص 247	20د	
البناء و الترسيخ	<p>1. مفهوم الشعاع تعريف 1 A ، B نقطتان من المستوي نقول أنّ الثنائية (A ; B) تعين شعاعا نرمز له بالرمز \vec{AB} أو \vec{v} • إذا كانت النقطة A منطبقة على النقطة B فإنّ الشعاع \vec{AB} يصبح معدوماً ونكتب $\vec{AB} = \vec{AA} = \vec{0}$. • يسمّى طول قطعة المستقيم [AB] طولية الشعاع \vec{AB} ، ونكتب: $\ \vec{AB}\ = AB$. • إذا كان \vec{AB} شعاعاً غير معدوم فإنّ منحنى الشعاع \vec{AB} هو منحنى المستقيم (AB). ملاحظة: ليس للشعاع المعدوم منحنى.</p> <p>2. تساوي شعاعين تعريف: نقول عن شعاعين أنّهما متساويان إذا كان لهما نفس المنحنى، ونفس الاتجاه، ونفس الطويلة نتيجة: من أجل كلّ أربع نقط A ، B ، C ، D من المستوي لدينا: $\vec{AB} = \vec{CD}$ معناه [AD] و [BC] لهما نفس المنتصف</p>	40د	
الإكتشاف	نشاط 02 ص 247.	15د	
البناء و الترسيخ	<p>3. مجموع شعاعين تعريف: مجموع شعاعين \vec{u} و \vec{v} هو الشعاع الذي نرمز له بالرمز $\vec{u} + \vec{v}$ والمعروف كما يأتي: بفرض A نقطة كيفية، نعلم نقطة B بحيث $\vec{AB} = \vec{u}$ ثم نقطة C بحيث $\vec{BC} = \vec{v}$ عندئذ يكون $\vec{u} + \vec{v} = \vec{AC}$</p> <p>نتائج</p> <ul style="list-style-type: none">• من أجل كلّ ثلاث نقط A ، B ، C من المستوي فإنّ: $\vec{AB} + \vec{BC} = \vec{AC}$ (تسمّى هذه العلاقة علاقة شال)• إذا مثلنا شعاعين \vec{u} و \vec{v} من نفس المبدأ A ، (مثلاً $\vec{u} = \vec{AB}$ و $\vec{v} = \vec{AC}$) فإنّ مجموعهما $\vec{u} + \vec{v}$ يساوي \vec{AD} حيث ABDC متوازي أضلاع• إذا كان ABDC متوازي أضلاع فإنّ: $\vec{AB} + \vec{AC} = \vec{AD}$ <p>4. الشعاعان المتعاكسان من أجل كلّ نقطتين A ، B من المستوي فإنّ: $\vec{AB} + \vec{BA} = \vec{AA} = \vec{0}$</p>	30د	

تعريف 4
نقول عن الشعاعين \vec{AB} و \vec{BA} أنّهما متعاكسان و نكتب: $\vec{AB} = -\vec{BA}$

10د

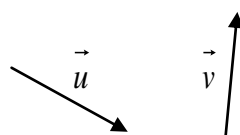
تمرين

التقييم

A ، B ، C ، D أربع نقط من المستوي .
بين أن $\vec{AB} + \vec{DC} = \vec{AC} + \vec{DB}$
وكذلك $\vec{AC} + \vec{BD} = \vec{AD} + \vec{BC}$

تمارين من 1 إلى 11 ماعدا 10 ص 268

<p>الأستاذة: عطية نورة المستوى: سنة أولى جذع مشترك علوم. التاريخ: الزمن: 2 سا. الوسائل التعليمية: الصبورة.</p>	<p>ثانوية المجاهد أحمد الغازي الميدان: هندسة الوحدة التعليمية: الحساب الشعاعي والهندسة التحليلية. الموضوع: تساوي وتوازي شعاعين. الكفاءات المستهدفة (المрад تحقيقها) : التعرف على جداء شعاع بعدد حقيقي.</p>
--------------------------------------------------------------------------------------------------------------------------------	----------------------------------------------------------------------------------------------------------------------------------------------------------------------------------------------------------------------------

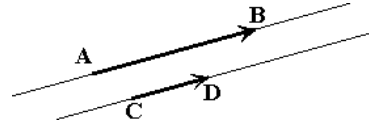
المدة	توجيهات و تعليقات	المحتوى المعرفي	مراحل الدرس
05د		مجموع شعاعين ، علاقة شال.	التشخيص
05د		<p>نشاط</p> <p>\vec{u} ، \vec{v} شعاعان من المستوي (أنظر الشكل) مثل الأشعة التالية: $2\vec{v}$ ، $-3\vec{v}$ ، $\vec{u} + \vec{v}$.</p> 	الإكتشاف
40د		<p>جداء شعاع بعدد حقيقي</p> <p>تعريف: \vec{u} شعاع غير معدوم و k عدد غير معدوم. جداء الشعاع \vec{u} بالعدد k هو الشعاع الذي نرمز له بالرمز $k\vec{u}$ والمعرف كما يأتي: \vec{u} و $k\vec{u}$ لهما نفس المنحي ونفس الاتجاه إذا كان $k > 0$. \vec{u} و $k\vec{u}$ لهما نفس المنحي واتجاهان متعاكسان إذا كان $k < 0$. • طولية الشعاع $k\vec{u}$ تساوي جداء طولية \vec{u} بالعدد k أي $\ k\vec{u}\ = k \ \vec{u}\$.</p> <p>ملاحظة: عندما $\vec{u} = \vec{0}$ أو $k = 0$ نصلح على وضع $k\vec{u} = \vec{0}$.</p> <p>خواص: نقبل الخواص الآتية</p> <p>\vec{u} ، \vec{v} شعاعان من المستوي k ، k' و عددان حقيقيان $k\vec{u} = \vec{0}$ ، $1\vec{u} = \vec{u}$ ، $k(k'\vec{u}) = (kk')\vec{u}$ ، $(k+k')\vec{u} = k\vec{u} + k'\vec{u}$ ، $k(\vec{u} + \vec{v}) = k\vec{u} + k\vec{v}$ $k = \vec{0}$ أو</p>	البناء و الترسيع
15د			
30د		<p>توازي شعاعين</p> <p>تعريف: يتوازي شعاعان غير معدومين إذا فقط إذا كان لهما نفس المنحي. مثال من أجل A تختلف عن B الأشعة \vec{AB} ، $-\vec{AB}$ ، $2\vec{AB}$ ، متوازية</p> <p>الإرتباط الخطي</p> <p>تعريف: نقول عن شعاعين \vec{u} و \vec{v} أنهما مرتبطان خطيا إذا كان أحدهما يساوي جداء الآخر بعدد حقيقي. أي إذا وجد عدد حقيقي k حيث $\vec{v} = k\vec{u}$. مثال الشعاعان \vec{AB} و $-\vec{AB}$ متوازيان.</p> <p>ملاحظة: الشعاع المعدوم مرتبط خطيا مع أي شعاع. بالفعل من أجل كل شعاع \vec{u} لدينا: $\vec{0} = 0 \times \vec{u}$</p>	

نتيجة مباشرة يكون الشعاعان غير المعدومين مرتبطين خطيا إذا فقط إذا كان لهما نفس المنحى.

10د

التوازي والاستقامية

مبرهنة 1

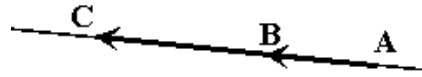


يكون المستقيمان (AB) و (CD) متوازيين إذا فقط إذا كان الشعاعان \overrightarrow{AB} و \overrightarrow{CD} مرتبطين خطيا.

مبرهنة 2

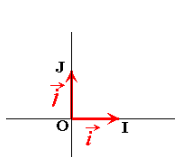
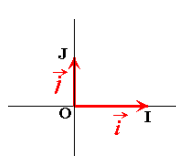
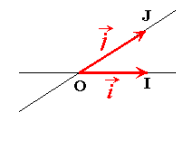
تكون النقط A ، B ، C في استقامية إذا فقط

إذا كان الشعاعان \overrightarrow{AB} و \overrightarrow{CB} مرتبطين خطيا.



التقييم

ثانوية المجاهد أحمد الغازي الميدان: هندسة الوحدة التعليمية: الحساب الشعاعي والهندسة التحليلية الموضوع: المعالم للمستوي الكفاءات المستهدفة (المراد تحقيقها)	الأستاذة: عطية نورة المستوى: سنة أولى جذع مشترك علوم. التاريخ: الزمن: 2 سا. الوسائل التعليمية: الصبورة.
------------------------------------------------------------------------------------------------------------------------------------------------------------------------	---------------------------------------------------------------------------------------------------------------------

مراحل الدرس	المحتوى المعرفي	المدة	توجيهات و تعليقات
التشخيص و الإكتشاف	<p>نشاط: O, I, J ثلاث نقط متمايزة من المستوي وليست في إستقامة. نضع $\vec{OI} = \vec{i}$ و $\vec{OJ} = \vec{j}$ الثلاثية $(O; \vec{i}, \vec{j})$ تسمى معلم للمستوي مبدؤه النقطة O .</p> <ul style="list-style-type: none"> - (OI) يسمى محور الفواصل . - (OJ) يسمى محور الترتيب . <p>أذكر الأربع أنواع المختلفة من المعالم للمستوي.</p>	10د	
البناء و الترسيخ	<p style="text-align: center;"><u>إنجاز النشاط:</u></p> <p style="text-align: center;">أنواع المعالم: توجد أربع أنواع من المعالم للمستوي</p> <div style="display: flex; justify-content: space-around; align-items: flex-start;"> <div style="text-align: center;"> <p>معلم متعامد ومتجانس</p>  </div> <div style="text-align: center;"> <p>معلم متجانس</p> <p>يطلب الإنشاء؟!</p> </div> <div style="text-align: center;"> <p>معلم متعامد</p>  <p>$(OI) \perp (OJ)$</p> </div> <div style="text-align: center;"> <p>معلم كيفي</p>  </div> </div> <p>و $OI = OJ = 1u$ (وحدة طول) و $(OI) \perp (OJ)$</p> <p style="text-align: right; color: green;">إحداثيي نقطة</p> <p style="text-align: right; color: red;">تعريف: المستوي منسوب إلى معلم $(O; \vec{i}, \vec{j})$ الثنائية $(x; y)$ حيث $\vec{OM} = x\vec{i} + y\vec{j}$ تسمى احداثيي النقطة M .</p> <p style="text-align: right; color: green;">مركبتا شعاع</p> <p style="text-align: right; color: red;">تعريف: المستوي منسوب إلى معلم $(O; \vec{i}, \vec{j})$ الثنائية $(x; y)$ حيث $\vec{u} = x\vec{i} + y\vec{j}$ تسمى مركبتا الشعاع \vec{u} .</p> <p style="text-align: right; color: green;">العدد الحقيقي x يسمى المركبة الأولى للشعاع \vec{u} .</p> <p style="text-align: right; color: green;">العدد الحقيقي y يسمى المركبة الثانية للشعاع \vec{u} .</p> <p style="text-align: right; color: green;">تساوي شعاعين- مجموع شعاعين- جداء عدد حقيقي بشعاع.</p> <p style="text-align: right; color: green;">$(O; \vec{i}, \vec{j})$ معلم للمستوي ، و \vec{u} شعاع مركبته $\begin{pmatrix} x \\ y \end{pmatrix}$ ، و \vec{v} شعاع مركبته $\begin{pmatrix} x' \\ y' \end{pmatrix}$.</p> <p style="text-align: right; color: green;">1. \vec{u} و \vec{v} متساويان يكافئ $x = x'$ و $y = y'$.</p> <p style="text-align: right; color: green;">2. مجموع شعاعين: مركبتا المجموع $\vec{u} + \vec{v}$ هما $\begin{pmatrix} x + x' \\ y + y' \end{pmatrix}$.</p>	10د	
		15د	
		30د	

3. مركبتا الشعاع $k\vec{u}$ هما $\begin{pmatrix} kx \\ ky \end{pmatrix}$

إحداثيي شعاع \overline{AB} .

المستوي منسوب إلى معلم $(O; \vec{i}, \vec{j})$ الثنائية $A(x_A; y_A)$ و $B(x_B; y_B)$ نقطتان من المستوي إحداثيي الشعاع \overline{AB} هي $\begin{pmatrix} x_B - x_A \\ y_B - y_A \end{pmatrix}$.

شرط الارتباط الخطي لشعاعين

مبرهنة: ليكن $u \begin{pmatrix} x \\ y \end{pmatrix}$ ، $v \begin{pmatrix} x' \\ y' \end{pmatrix}$ في معلم $(O; \vec{i}, \vec{j})$.

يكون الشعاعان \vec{u} و \vec{v} مرتبطين خطيا إذا و فقط إذا كان $x'y' - x'y = 0$.

10د

التقييم

تمارين من الكتاب المدرسي

مراحل الدرس	المحتوى المعرفي	المدة	توجيهات و تعليقات
التشخيص	نشاط: إستقامية ثلاث نقط. شرط الإرتباط الخطي	05د	
الإكتشاف	المستوي مزود بمعلم $(O; \vec{i}, \vec{j})$ - علم النقطتين $A(-2; 1)$ ، $B(2; 3)$ ، وارسم المستقيم (AB) ، ولتكن $M(x; y)$ نقطة من (AB) أ) عبّر بدلالة x و y عن الشعاع \vec{AM} ب) استنتج علاقة بين x و y لترجم استقامية النقط M, B, A .	10د	
البناء و الترسيخ	1. شعاع توجيه مستقيم كلّ نقطتين A و B متميزتين تعينان مستقيما (AB) ، ومن أجل كلّ نقطة M من (AB) فإنّ \vec{AB} و \vec{AM} مرتبطين خطيا. نقول أنّ \vec{AB} هو شعاع توجيه للمستقيم (AB) . تعريف: يسمّى كلّ شعاع له منحى مستقيم، شعاع توجيه لهذا المستقيم. تمرين: $(O; \vec{i}, \vec{j})$ معلما للمستوي A, B نقطتان حيث $A(-3; 1)$ ، $B(4; 2)$ جد معادلة للمستقيم (AB) معادلات المستقيمت الأفقية-العمودية-المائلة. 1) كلّ مستقيم يوازي محور الترتيب له معادلة من الشكل $x = a$ و a عدد حقيقي. 2) كلّ مستقيم يوازي محور الفواصل له معادلة من الشكل $y = b$ و b عدد حقيقي. 3) كلّ مستقيم يوازي مائل له معادلة من الشكل $y = ax + b$; ba عدنان حقيقيان. معامل توجيه مستقيم: تعريف: معامل توجيه مستقيم هو المركبة الثانية لشعاع توجيه لهذا المستقيم مركبته الأولى تساوي واحد. أمثلة من الكتاب المدرسي. مبرهنة: من أجل كلّ نقطتين $A(x_A; y_A)$ ، $B(x_B; y_B)$ في معلم $(O; \vec{i}, \vec{j})$ حيث $x_A \neq x_B$ ، معامل توجيه المستقيم (AB) يساوي $\frac{y_B - y_A}{x_B - x_A}$. نتائج: 1) كلّ مستقيم يوازي محور الترتيب ليس له معامل توجيه. 2) كلّ معادلته من الشكل $y = b$ و b عدد حقيقي معامل توجيهه 0 . 3) كل مستقيم معادلة من الشكل $y = ax + b$. a و b عدنان حقيقيان. معامل توجيهه هو a .	40د 15د 30د	

شروط توازي مستقيمين

مبرهنة: يكون المستقيمان (D) و (D') اللذان معادلتاهما $y = a'x + b'$ ، $y = ax + b$ على الترتيب ، متوازيين إذا وفقط إذا كان لهما نفس معامل التوجيه. أي: (D) // (D') يكافئ $a' = a$.

10د

التقييم

تمرين: المستوي منسوب إلى معلم متعامد ومتجانس $(O; \vec{i}, \vec{j})$.

1. علم النقط A ، B و C حيث $A(2;0)$ ، $B(0;-1)$ ، $\vec{OC} = 2\vec{i} + 2\vec{j}$.

2. لتكن $D(x_D; y_D)$ ، نقطة من المستوي . جد إحداثيي D بحيث يكون $ABCD$ متوازي أضلاع.

3. اكتب معادلة للمستقيم (AB)

4. اكتب معادلة للمستقيم (Δ_1) الذي يشمل النقطة $O(0;0)$ ويوازي (AB) .

5. اكتب معادلة للمستقيم (Δ_2) الذي يشمل C و $\vec{u} \begin{pmatrix} 2 \\ 5 \end{pmatrix}$ شعاع توجيه له.

مراحل الدرس	المحتوى المعرفي	المدة	توجيهات و تعليقات						
التشخيص	نشاط 4 ص 248:	15د							
البناء	<p>1. <u>جملة معادلتين خطيتين لمجهولين</u> نعبر فيما يلي $(a; b) \neq (0; 0)$ و $(a'; b') \neq (0; 0)$ نسمي جملة معادلتين خطيتين لمجهولين كل جملة حيث $\begin{cases} ax + by = c \\ a'x + b'y = c' \end{cases}$ a, b, c, a', b', c' أعداد معلومة. ونعني بحل جملة معادلتين خطيتين لمجهولين إيجاد الثنائيات $(x; y)$ التي تحقق المعادلتين في آن واحد:</p> <p>تطبيق: حل جملة المعادلتين التالية: $\begin{cases} -x + y = -2 \\ 7x + y = 22 \end{cases}$</p> <p>2. <u>التفسير البياني لحل جملة معادلتين خطيتين لمجهولين</u> لتكن جملة المعادلتين $\begin{cases} ax + by = c \\ a'x + b'y = c' \end{cases}$ المعادلة $ax + by = c$ هي معادلة مستقيم (D)، وكذلك بالنسبة إلى $a'x + b'y = c'$ هي معادلة مستقيم (D'). الثنائية $(x; y)$ حل لجملة المعادلتين معناه أن النقطة $M(x; y)$ تنتمي إلى كل من المستقيمين (D) و (D')، وهذان المستقيمان هما إما متقاطعان، وإما متوازيان تماما، وإما منطبقان. وبالتالي: جملة المعادلتين $\begin{cases} ax + by = c \\ a'x + b'y = c' \end{cases}$ إما لها حلا وحيدا، وإما لا حل لها، وإما لانهاية لها من الحلول وذلك حسب الوضع النسبي للمستقيمين (D) و (D'). 3. عدد حلول جملة معادلتين خطيتين لمجهولين ميرهنه: لتكن جملة المعادلتين $(S): \begin{cases} ax + by = c \\ a'x + b'y = c' \end{cases}$ • إذا كان $ab' - ba' \neq 0$ فإن الجملة (S) تقبل حلا وحيدا. • إذا كان $ab' - ba' = 0$ فالجملة (S) إما لا حل لها، وإما لانهاية لها من الحلول. تفسير المبرهنه</p>	40د 40د							
الترسيخ	<table border="1" style="width: 100%; text-align: center;"> <thead> <tr> <th style="background-color: #f4a460;">$ab' - ba' = 0$</th> <th style="background-color: #f4a460;">$ab' - ba' \neq 0$</th> </tr> </thead> <tbody> <tr> <td></td> <td></td> </tr> <tr> <td>$(D') = (D)$ والجملة لها لانهاية من الحلول</td> <td>لا توجد نقطة مشتركة بين (D)، (D') والجملة ليس لها حل</td> </tr> </tbody> </table> <p>تطبيق 02: لتكن جملة المعادلتين $(S): \begin{cases} 3x - y = 5 \\ kx + y = 11 \end{cases}$ ما هي القيم الممكنة للعدد k بحيث يكون للجملة (S) حل وحيد.</p>	$ab' - ba' = 0$	$ab' - ba' \neq 0$			$(D') = (D)$ والجملة لها لانهاية من الحلول	لا توجد نقطة مشتركة بين (D) ، (D') والجملة ليس لها حل	15د 30د	
$ab' - ba' = 0$	$ab' - ba' \neq 0$								
$(D') = (D)$ والجملة لها لانهاية من الحلول	لا توجد نقطة مشتركة بين (D) ، (D') والجملة ليس لها حل								

ثانوية عبد المجيد علاهم

الميدان:هندسة

الوحدة التعليمية: الهندسة الفضائية.

الموضوع: .

الكفاءات المستهدفة(المراد تحقيقها)

الأستاذ: يحي رشيد


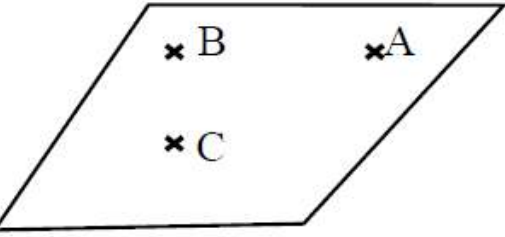
المستوى: سنة أولى جذع مشترك علوم.

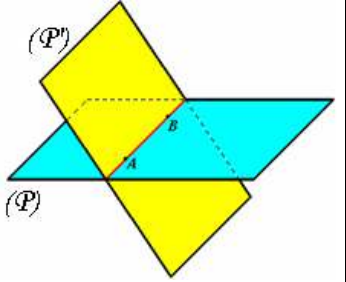

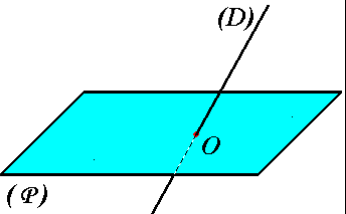
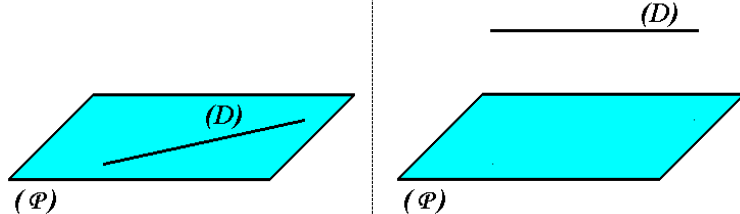
التاريخ: 2015/04/26م

الزمن: 1 سا.

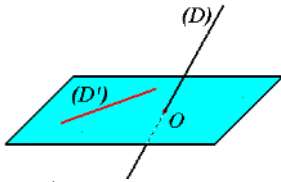
الوسائل التعليمية: الصبورة.

مراحل الدرس	المحتوى المعرفي	المدة	توجيهات و تعليقات
التشخيص	<u>نشاط 4 ص 248:</u>	15د	
البناء		40	
و		40	
الترسيع		15د	
		30د	

مراحل الدرس	المحتوى المعرفي	المدة	توجيهات و تعليقات
التشخيص	<p>نشاط:</p> <p>1/ مثل نقطتين ، ثم أنشئ المستقيمتين التي تشملهما معا.</p> <p>2/ أنشئ ثلاث نقاط ليست على استقامة واحدة، ثم مثل كل المستويات التي تشملها معا.</p> <p>3/ مثل مستويين ونقطتين A ، B مختلفتين منه، ثم مثل نقطة أخرى من المستقيم (AB) ولا تنتمي لهذا المستوي!!؟ إن أمكن.</p>	15د	
البناء		40د	
و			
الترسيخ	<p>المستوي والمستقيم:</p> <p>بديهية 1: إذا كانت A ، B نقطتين متميزتين فإنه يوجد مستقيم وحيد يشملهما.</p>  <p>بديهية 2: إذا كانت A ، B ، C ، نقط ليست على استقامة واحدة فإنه يوجد مستوي وحيد يشملها.</p>  <p>بديهية 3: إذا شمل مستوي نقطتين متميزتين A ، B فإنه يشمل كل نقط المستقيم (AB).</p> <p>ملاحظة: نرسم لمستوي يشمل النقط A ، B ، C برمز مثل (ABC) أو (p).</p> <p>نتائج: يتعين مستوي إذا:</p> <ul style="list-style-type: none"> - أعطيت منه ثلاث نقاط ليست على استقامة واحدة. - أعطي منه مستقيم ونقطة لا تنتمي إليه. - أعطي منه مستقيمان متميزان متوازيان أو متقاطعان. <p>II / تطبيقات: 16 - صفحة 205</p>	40د	
		15د	
		30د	

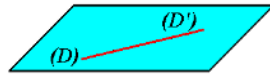
مراحل الدرس	المحتوى المعرفي	المدة	توجيهات و تعليقات
التشخيص	نشاط 4 ص 248:	15د	
البناء	<p>• الأوضاع النسبية لمستويين</p> <p>• الأوضاع النسبية لمستقيم ومستوي.</p> <p>كل مستويين من الفضاء هما: إما متقاطعان وإما متوازيان.</p>	15د	
و	<p>المستويان (P) و (P') متقاطعان</p>  <p>كل نقط المستقيم (AB) مشتركة بينهما.</p>	40د	
الترسيخ	<p>المستويان (P) و (P') متوازيان</p>  <p>لا توجد بين (P) و (P') أية نقطة مشتركة.</p> <p>المستويين نفس النقط. $(P) = (P')$</p>	40د	
	<p>• الأوضاع النسبية لمستقيم ومستوي</p> <p>كل مستقيم ومستوي من الفضاء هما: إما متقاطعان وإما متوازيان.</p>	15د	
	<p>المستوي (P) والمستقيم (D) متقاطعان</p>  <p>توجد بين (P) و (D) نقطة مشتركة وحيدة O.</p>	30د	
	<p>المستوي (P) والمستقيم (D) متوازيان</p>  <p>لا توجد بين (P) و (D) أية نقطة مشتركة.</p> <p>كل نقط المستقيم تنتمي إلى المستوي. (P) يحتوي على (D)</p>	30د	
	<p>• الأوضاع النسبية لمستقيمين</p> <p>كل مستقيمين من الفضاء هما:</p> <ul style="list-style-type: none"> ← إما متقاطعان ← وإما متوازيان ← وإما ليسا من مستوي واحد. 		

ليسا من مستو واحد



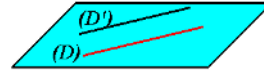
لا توجد بين (D) و (D') أية نقطة مشتركة.

(D) و (D') متوازيان

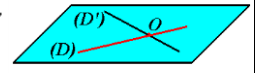


المستقيمان (D) و (D') متطابقان. $(D) = (D')$

(D) و (D') متقاطعان



لا توجد بين (D) و (D') أية نقطة مشتركة.



توجد بين (D) و (D') نقطة مشتركة وحيدة O.