



تدريبات حول أحكام الزكاة

السنة الثانية ثانوي

جميع الشعب

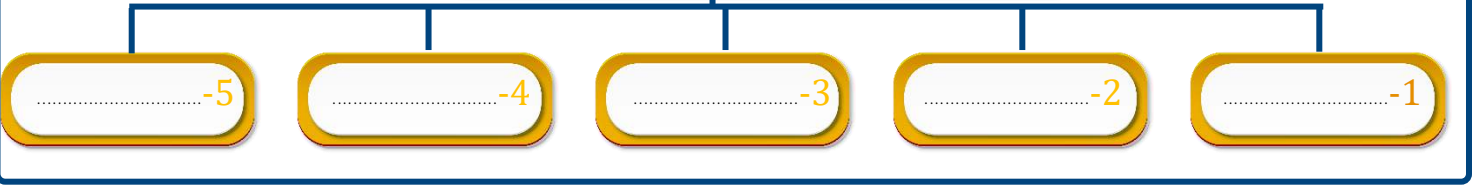
إعداد الأستاذ بلال حرزلاوي

2024 / 2023

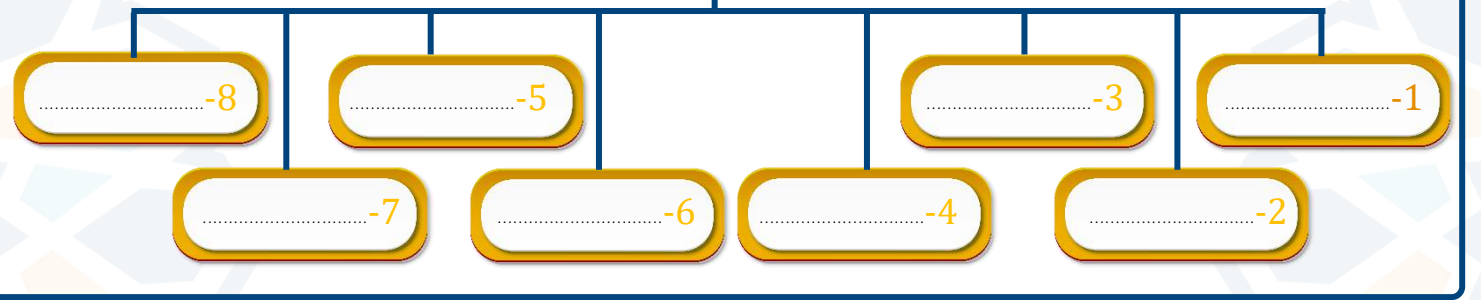
تدريبات حول وحدة أحكام الزكاة

أولاً- أكمل المخططات التالية:

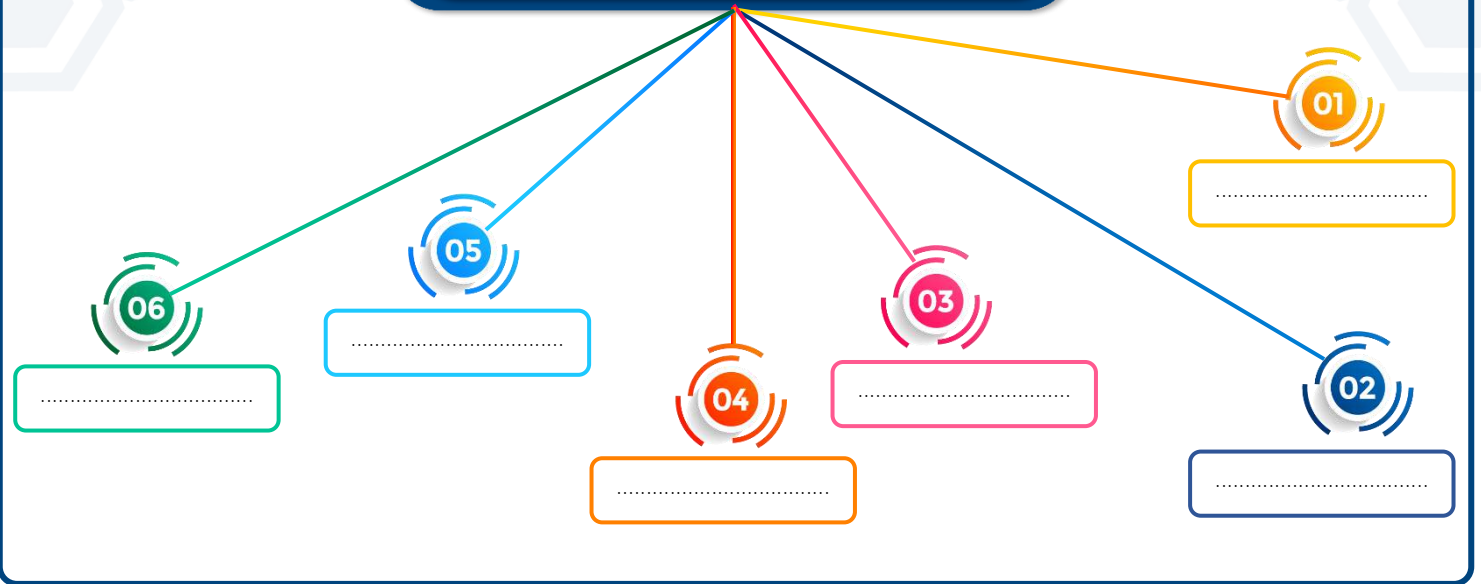
1 الأموال التي تجب فيها الزكاة



2 مصارف الزكاة



3 شروط وجوب الزكاة



تدريبات حول وحدة أحكام الزكاة

ثانياً- أكمل الجدول التالي:

نوع ائال	النصاب	مقدار الإخراج	وقت إخراجة
الذهب	85 غ	2.5%	حولان سنة هجرية.
.....	653 كغ	10%
.....	595 غ
الركاز والمعادن	/
عروض التجارة	حولان سنة هجرية.
ما سُقي بالآلات من الزروع	5%

ثالثاً - مسائل في الزكاة

1 - وراث "علي" عن أمه موروثات قيمة قُدرت بـ :

- 1- حُلِّي من الذهب بوزن: 360 غ.
 - 2- قلادة فضية بوزن: 590 غ.
 - 3- مبلغ من المال يقدر 900 ألف دينار جزائري.
- علماً أن هذه الأموال حال عليها سنة هجرية؛ وثن 1 غ ذهب = 10000 دج.

المطلوب:

- س1- ما هي الأموال التي تجب فيها الزكاة من أموال "علي".
- س2- أحسب مقدار المال الواجب إخراجة.

2 - وجدَ أحدُ الفلاحين أثناء حرثه لأرضه حَجراً غريباً تبين بعد ذلك أنه من الحِجارة الكريمة وأن قيمته تساوي حوالي 180 مليون سنتيم:

المطلوب:

- س1- كيف نسمي هذا النوع من المال في الزكاة.
- س2- علماً أنه قد مرَّ على امتلاكه له سنة كاملة، أحسب قيمة الزكاة الواجبة في هذا المال.



تدريبات حول وحدة أحكام الزكاة



3 "سعيد" مُربي مواشي وله من الأنعام ما يلي:

- 100 رأس خروف.

- 28 بقرة.

- 23 ناقة.

س1- علماً أن هذه الأموال حال عليها سنة هجرية؛ ما هي الأموال التي تجب فيها الزكاة من أموال "سعيد"؟

س2- أحسب مقدار المال الواجب إخراجه.

- لسعيد مزرعة أيضاً وقد جنى محصوله الذي يتشكل من:

3000 كغ من القمح، علماً أن كل سقيه كان عن طريق الآلات والمضخات.

س- ما هو مقدار زكاة "سعيد"؟

4 - "محمد" تاجر له محل لبيع الهواتف النقالة.

جهاز "محمد" محله بما قيمته 120 مليون. وبعد سنة من ذلك، قام "محمد" بإحصاء أموال المحل بقصد تأدية فريضة الزكاة.

فوجد أن المال الناتج عن المبيعات قيمته = 80 مليون وقيمة السلع المتبقية في المحل 90 مليون. علماً أن قيمة 1 غ ذهب = 1 مليون.

1- هل تجب الزكاة في مال "محمد" بين ذلك؟

2- احسب مقدار زكاة "محمد".

رابعاً - أجب ب(صحيح) أو (خطأ) مع تصحيح الخطأ إن وجد

1- تشترك الصدقة والزكاة في أن كلاهما يُشترط فيه بلوغ النصاب

2- أحسن تقويم لحساب الحول هو الحول الميلادي

3- زكاة الزروع والثمار تُؤدى مباشرة عند حصادها

4- تُقوّم زكاة النقود بقيمة الذهب

5- زكاة الزروع والثمار في حال السقي بالمطر فقط هي 5%

6- الغارمون هم أناس كلفهم السلطان بجمع أموال الزكاة

إعداد الأستاذ بلال حرزللوي

3

إعداد الأستاذ بلال حرزللوي



تدريبات حول وحدة

أحكام الزكاة

الإجابة النموذجية المقترحة

أولاً- أكمل المخططات التالي:

1 الأموال التي تجب فيها الزكاة

الأنعام

الزرع والثمار

الركاز والمعادن

عروض التجارة

1- الذهب والفضة والنقود

2 مصارف الزكاة

8- ابن السبيل

5- في الرقاب

3- العاملين عليها

1- الفقراء

7- في سبيل الله

6- الغارمين

4- المؤلفة قلوبهم

2- المساكين

3 شروط وجوب الزكاة

01

الإسلام

02

الحرية

03

المالك التام للمال

04

بلوغ النصاب

05

تمام الحول

06

النماء



تدريبات حول وحدة
أحكام الزكاة
ثانياً- أكمل الجدول التالي:

نوع ائال	النصاب	مقدار الإخراج	وقت إخراجة
الذهب	85 غ	2.5%	حولان سنة هجرية.
الزروع المسقية بالأمطار فقط	653 كغ	10%	عند الحصاد مباشرة
الفضة	595 غ	2.5%	حولان سنة هجرية.
الركاز والمعادن	/	20%	حولان سنة هجرية.
عروض التجارة	يُقدر بقيمة الذهب	2.5%	حولان سنة هجرية.
ما سقي بالآلات من الزروع	653 كغ	5%	عند الحصاد مباشرة

ثالثاً- مسائل في الزكاة

1 -- الأموال التي تجب فيها الزكاة من أموال علي.

- أ- ما يملكه "علي" من الذهب 360 غ ونصاب الذهب هو 85 غ؛
قيمة ما يملكه "علي" من الذهب أكبر من نصاب الذهب إذن تجب فيه الزكاة.
- ب- ما يملكه "علي" من فضة 590 غ ونصاب الفضة 595 غ.
قيمة ما يملكه "علي" من فضة أقل من نصاب الفضة. فلا تجب الزكاة في فضة علي.
- ج- لمعرفة نصاب النقود يقوم النقد بقيمة الذهب. قيمة نصاب النقود = 10 آلاف (قيمة 1 غ ذهب) = 850000 دج
وقيمة النقود عند "علي" = 900 ألف دينار جزائري أكبر من نصاب النقود إذن تجب الزكاة في نقود علي.

2- مقدار الزكاة الواجبة في أموال "علي":

أ- في الذهب:

$$\frac{360 \times 2,5}{100} = 9 \text{ غ} \quad \text{إذن} \quad 2.5\% \text{ من الذهب}$$

قيمة زكاة الذهب لعللي: 9 غ

ب- في النقود:

$$\frac{900 \times 2,5}{100} = 22,5 \text{ ألف} \quad \text{إذن} \quad 2.5\% \text{ من النقود}$$

قيمة زكاة النقود لعللي: 22,5 ألف



تدريبات حول وحدة أحكام الزكاة

2 - وجد أحد الفلاحين أثناء حرثه لأرضه حَجراً غريباً تبين بعد ذلك أنه من الحجارة الكريمة وأن قيمته تساوي حوالي 180 مليون سنتيم:

ج1- نُسَمي هذا النوع من المال في الزكاة: **زكاة الرُكاز والمعادن**

ج2- حساب قيمة زكاة الرُكاز في هذه المسألة:

$$\frac{180 \times 20}{100} = 36$$

يُخرج من زكاة الرُكاز الخمس أي 20% من المستخرج وبذلك تكون العملية: 36 =

فمقدار زكاة الفلاح = **36 مليون سنتيم**.

3 "سعيد" مُربي مواشي وله من الأنعام ما يلي:

- 100 رأس خروف - 28 بقرة. - 23 ناقة.

ج1- الأموال التي تجب فيها الزكاة من أموال "سعيد":

- بداية نصاب الغنم هي 40 شاة وعند "سعيد" 100 رأس. إذن تجب الزكاة فيها.

- بداية نصاب البقر هي 30 بقرة وعند "سعيد" 28 بقرة. إذن لا تجب الزكاة فيها.

- بداية نصاب الإبل هي 5 إبل وعند "سعيد" 23 ناقة. إذن تجب الزكاة فيها.

ج2- أحسب مقدار المال الواجب إخراجه.

زكاة الغنم في مال علي: شاة واحدة لأنه بين ال40 و120 شاة تُخرُج شاة . ولعلي 100 رأس

زكاة الابل في مال علي: 04 شياه لأنه بين ال20 و24 ناقة فيها أربع شياه . ولعلي 23 ناقة.

(ارجع إلى جدول زكاة الأنعام في الدرس)

- لسعيد مزرعة أيضاً وقد جنى محصوله الذي يتشكل من:

3000 كغ من القمح، علما أن كل سقيه كان عن طريق الآلات والمضخات.

ج- مقدار زكاة "سعيد"؟

3000 كغ تجاوزت نصاب الزرع 653 كغ إذن تجب فيها الزكاة.

بما أنه تم استعمال الآلات والمضخات فقط في السقي، مقدار الزكاة هو: 5%

حساب مقدار زكاة القمح: $\frac{3000 \times 5}{100} = 150$ مقدار زكاة القمح من محصول سعيد = 150 كغ



تدريبات حول وحدة أحكام الزكاة

4-

محمد" تاجر له محل لبيع الهواتف النقالة.

جهاز "محمد" محله بما قيمته 120 مليون. وبعد سنة من ذلك، قام "محمد" بإحصاء أموال المحل بقصد تأدية فريضة الزكاة. فوجد أن المال الناتج عن المبيعات قيمته = 80 مليون وقيمة السلع المتبقية في المحل 90 مليون. علماً أن قيمة 1 غ ذهب = 1 مليون.

1- هل تجب الزكاة في مال "محمد" بين ذلك؟

نصاب النقود = قيمة 1 غ ذهب x نصاب الذهب = 1 مليون x 85 = 85 مليون.

وبما أن مال "محمد" 120 فهو أكبر من نصاب عروض التجارة فتجب فيه الزكاة.

2- حساب مقدار زكاة "محمد":

المقدار الواجب إخراجه في زكاة عروض التجارة فإنه يقدر بـ 2.5% من مال "علي" عند بلوغه حولاً كاملاً.

مال علي بعد بلوغه حولاً كاملاً = 80م (الفائدة) + 90م (السلعة المتبقية) = 170 مليون

$$\frac{170 \times 2,5}{100} = 4,25 \text{ المال الواجب إخراجه من زكاة عروض التجارة لـ "محمد" هو } 4.25 \text{ مليون}$$

رابعاً - أجب ب(صحيح) أو (خطأ) مع تصحيح الخطأ إن وجد

- 1- تشترك الصدقة وإلحاة في أن كلاهما يشترط فيه بلوغ النصاب **خطأ** بلوغ النصاب شرط في وجوب الزكاة فقط دون الصدقة
- 2- أحسن تقويم لحساب الحول هو الحول الميلادي **خطأ** الأولى في حساب دوران الحول هو التقويم الهجري وليس الميلادي
- 3- زكاة الزروع والثمار تؤدي مباشرة عند حصادها **صحيح**
- 4- تقويم زكاة النقود بقيمة الذهب **صحيح**
- 5- زكاة الزروع والثمار في حال السقي بالمطر فقط هي 5% **خطأ** في حال السقي بالمطر يُخرج من الزروع والثمار 10%
- 6- الغارمون هم أناس كلفهم السلطان بجمع أموال لإلحاة **خطأ** الغارمون هم من تراكت عليهم الديون.

إعداد الأستاذ بلال حرزللوي

7

إعداد الأستاذ بلال حرزللوي

