

الكفاءة القاعدية : أمام وضعيات إشكالية تخص موقع ومكانة الجزائر يكون المتعلم قادرا على تحديد موقع الجزائر وإبراز أبعاده و ربط العلاقة بين السكان و الوسط الطبيعي

الوحدة الأولى : الجزائر موقعا وأبعادا

الوضعية الأولى : المجال الجغرافي للجزائر

الكفاءة المستهدفة : يحدد و يتعرف على موقع الجزائر و يتبين إستراتيجيته

الإشكالية : تمتلك الجزائر موقعا استراتيجيا على جميع الأصعدة اكسبها مميزات وأهمية خاصة فيما يتضح ذلك ؟

المادة : جغرافيا
القسم 2 اف . لغ . عت . تر
المدة . ساعات
المراجع والمصادر :- الكتاب - أنت
إعداد : بوشيح عبد الحاكم

المنتوج الانتقائي	الاداءات والأنشطة	التعليمات	السندات																												
<p>• بطاقة تقنية للجزائر بمجموعة مؤشرات:</p> <table border="1"> <tr><td>العاصمة</td><td>الجزائر</td></tr> <tr><td>المساحة</td><td>2.381741 كلم</td></tr> <tr><td>طول الواجهة البحرية</td><td>1200 كلم</td></tr> <tr><td>الحدود البرية</td><td>6343 كلم</td></tr> <tr><td>الناتج الوطني الخام</td><td>72 مليار دولار 2006</td></tr> <tr><td>السكان</td><td>33 م ن</td></tr> <tr><td>الكثافة</td><td>14 ن</td></tr> <tr><td>الزيادة الطبيعية</td><td>1.5 %</td></tr> <tr><td>متوسط الدخل الفردي</td><td>2100 دولار</td></tr> <tr><td>التمددن / الأرياف</td><td>49 % - - - 51 %</td></tr> <tr><td>المديونية</td><td>أقل من 4 مليار د</td></tr> <tr><td>البطالة</td><td>12.3 %</td></tr> <tr><td>نسبة التضخم</td><td>2.2 % 2004</td></tr> <tr><td>النظام السياسي</td><td>جمهوري رئاسي</td></tr> </table>	العاصمة	الجزائر	المساحة	2.381741 كلم	طول الواجهة البحرية	1200 كلم	الحدود البرية	6343 كلم	الناتج الوطني الخام	72 مليار دولار 2006	السكان	33 م ن	الكثافة	14 ن	الزيادة الطبيعية	1.5 %	متوسط الدخل الفردي	2100 دولار	التمددن / الأرياف	49 % - - - 51 %	المديونية	أقل من 4 مليار د	البطالة	12.3 %	نسبة التضخم	2.2 % 2004	النظام السياسي	جمهوري رئاسي		<p>اعتمادا على مكتسباتك القبلية و انطلاقا من المقترحة</p> <p>• أنجز بطاقة تقنية للجزائر بمجموعة مؤشرات</p>	المؤشرات ص 11
العاصمة	الجزائر																														
المساحة	2.381741 كلم																														
طول الواجهة البحرية	1200 كلم																														
الحدود البرية	6343 كلم																														
الناتج الوطني الخام	72 مليار دولار 2006																														
السكان	33 م ن																														
الكثافة	14 ن																														
الزيادة الطبيعية	1.5 %																														
متوسط الدخل الفردي	2100 دولار																														
التمددن / الأرياف	49 % - - - 51 %																														
المديونية	أقل من 4 مليار د																														
البطالة	12.3 %																														
نسبة التضخم	2.2 % 2004																														
النظام السياسي	جمهوري رئاسي																														
<p>• الموقع الجغرافي للجزائر و إبراز أهميته :</p> <p>1 - موقع الجزائر : تقع الجزائر في الجزء الغربي من إفريقيا ما بين دائرتي عرض 18° و 38° شمالا و ما بين خطي طول 12° شرقا و 9° غربا يحدها شمالا البحر المتوسط أما شرقا فتحدها كل من تونس و ليبيا أما غربا فلمغرب الأقصى و الصحراء الغربية أما جنوبا فكل من النيجر و مالي و موريتانيا</p> <p>2 - إبراز أهمية الموقع :</p> <p>- الامتداد من العروض الحارة إلى العروض المعتدلة مما أسهم في تنوع المناخ</p> <p>- يمر مدار السرطان جنوب الجزائر و خط غرينتش غربها</p> <p>- محور اتصال بين الجهتين الشرقي و الغربي للمغرب العربي</p> <p>- جسرا طبيعيا إلى العالم العربي والإسلامي</p> <p>- الإشراف على واجهة بحرية إستراتيجية هي المتوسط جعلت منها محور تبادل وتعاون مع أوروبا و همزة وصل بين القارتين إفريقيا و أوروبا و بوابة إفريقيا الشمالية</p> <p>- إنها تتوسط العالم القديم (إفريقيا أوروبا آسيا) فهي ملتقى الطرق التجارية البرية البحرية</p>	<p>يحدد الموقع الجغرافي للجزائر و يبرز أهميته</p>	<p>• حدد الموقع الجغرافي للجزائر و ابرز أهميته</p>	الخريطة ص 12 و ص 13 السند 3 ص 13 السند 2 ص 12																												

تقويم مرحلي : ارسم خريطة لدول المغرب العربي تبرز عليها موقع الجزائر وحدودها البرية و البحرية

الامتداد : الأبعاد المكانية لمنطقة ما من الشرق إلى الغرب ومن الشمال إلى الجنوب

الموقع الجغرافي : مكان بلد أو منطقة ما في الخريطة العالمية ومعرفة حدودها السياسية .

الموقع الاستراتيجي : الموقع الذي يحظى بأهمية اقتصادية أو عسكرية أو سياسية وقد تكون جميعها على المستوى العالمي -

الكفاءة الفاعدية : أمام وضعيات إشكالية تخص موقع ومكانة الجزائر يكون المتعلم قادرا على تحديد موقع الجزائر وإبراز أبعاده وربط العلاقة بين السكان والوسط الطبيعي

الوحدة الأولى : الجزائر موقعا وأبعادا

الوضعية الثانية : إشكالية تخص العلاقة بين السكان والوسط الطبيعي

الكفاءة المستهدفة : يبرز خصائص الوسط الطبيعي والبشري للجزائر وسيستخلص العلاقة بينهما

الإشكالية : تتميز الجزائر بخصائص طبيعية متعددة كان لها بالغ الأثر في توزيع السكان ونشاطاتهم المختلفة فيما يتضح ذلك ؟

المادة . جغرافيا
القسم : 2 اف . لغ . عت . تر
المدة / 3 / 3 ساعات
المراجع والمصادر : - الكتاب - أنت
إعداد : بوشيش عبد الحاکم

المنتج الانتقائي

السدات	التعليمات	الاداءات والأنشطة	المنتج الانتقائي
صور ص 11 الخريطة ص 47	اعتمادا على مكتسباتك القبلية ابرز خصائص الوسط الطبيعي للجزائر	يبرز خصائص الوسط الطبيعي للجزائر	تحديد وإبراز خصائص الوسط الطبيعي : <ul style="list-style-type: none"> الموقع الجغرافي والفلكي المتميز * اتساع المساحة م2 أفريقيا م11 عالميا تنوع مظاهر السطح و التضاريس : شريط ساحلي : سهول ساحلية و داخلية <ul style="list-style-type: none"> - الهضاب عبارة عن مرتفعات محصورة بين سلسلتي الأطلس - السلاسل الجبلية : أطلس تلي و أطلس صحراوي و سلاسل الهقار أعلى قمة - ناهات 2918 م - - التضاريس الصحراوية : تسود 82 % من م/ع وتتمثل خاصة الرق . الحمادات . العروق . الكثبان . الواحات تنوع المناخ : متوسطي رطب في الساحل - قاري شبه جاف بالهضاب العليا - صحراوي جاف بالجنوب الغطاء النباتي : يقل كثافة كلما اتجهنا جنوبا غابات و أحراش- إستبس- نبات شوكي الموارد المائية : في الشمال مؤقتة لارتباطها بالتساقط أهمها واد الف مع احتياطات ضخمة من المياه الجوفية في الجنوب
الجدول 3 ص25 والجدول المرفق	ادرس الوسط البشري	يدرس الوسط البشري	دراسة الوسط البشري : <ul style="list-style-type: none"> عدد السكان : 35.7 م ن سنة 2008 ينحدرون من أصول عربية - أمازيغية - أفريقية بالكثافة تصل إلى 14 ن كم2 - يتمركز 65 % في الشريط الساحلي الذي يمثل 4 % من المساحة / ع بكثافة تصل إلى 330 ن كلم2 - 25 % في الهضاب العليا و تمثل 9 % من م / ع بكثافة تقل عن 100 ن كلم2 - 10 % في الصحراء و تمثل 87 % من م / ع بكثافة تقل عن 10 ن كم2 نسبة النمو : انخفض من نسبة 3.4 % إلى 1.5 % التركيبة : 1 - من حيث العمر : 64 % شباب - 30 % كهول - 6 % شيوخ 2 - من حيث الجنس : الذكور 46 % الإناث 54 % 3 - من حيث النشاط : القطاع الزراعي 18 % - القطاع الصناعي 22 % - القطاع الخدماتي 54 %
الخريطة ص 24			
السند 2 ص 24			
الخريطة ص 47	اربط العلاقة بين الوسطين	يربط العلاقة بين الوسطين	ربط العلاقة بين الوسطين : نقاط القوة بين الوسط الطبيعي و البشري في الجزائر : <ul style="list-style-type: none"> * الاتساع و الامتداد - التنوع التضاريسي و المناخي - إستراتيجية الموقع - وفرة الثروات و تنوعها * القوة البشرية - الشباب - انسجام التركيبة
السند 1 - 2 ص 29 - 28			نقاط الضعف بين الوسط الطبيعي و البشري في الجزائر : <ul style="list-style-type: none"> * نقص الموارد المائية - عدم انتظام التساقط وقلته - غلبة الطابع الصحراوي - قساوة مناخ الجنوب * عدم انتظام التوزيع - ارتفاع نسبة البطالة و الأمية - اختلال التوازن بين النمو السكاني و النمو الاقتصادي - الهجرة السرية
			الإقليم التلي : سهول و مناخ رطب مع كثافة سكانية كبيرة و تركز لمختلف الأنشطة الاقتصادية و الخدمائية إقليم الهضاب العليا : سهول استبسية قليلة الغطاء النباتي مع كثافة سكانية أقل يغلب على أنشطته الطابع الزراعي الرعوي و ضعف النشاط الصناعي الإقليم الصحراوي : الاتساع و ندرة الغطاء النباتي مع قلة السكان (1 ن كم2) بسبب انعدام مقومات الحياة و فقر المنطقة حيث توجد تجمعات محدودة حول الواحات و مراكز الصناعة الاستخراجية

تقويم مرحلي : مثل الجدول المرفق بواسطة منحني بياني بمقياس رسم = 1سم 5 سنوات و 1سم 5 م نسمة ثم بين أسباب التراجع الحادث في النمو السكاني بداية التسعينات

السند 1 : تمتلك الجزائر ثالث أكبر اقتصاد في إفريقيا، بعد جنوب إفريقيا ونيجيرو وأقوى اقتصاد قومي في شمال إفريقيا وبنوع غنى الجزائر من احتياطاتها الضخمة من النفط وفيها و نسبة النمو الاقتصادي 5 % واحتياطاتها من العملة الصعبة 144مليار دولار، في الوقت الذي تقل ديونها الخارجية عن 4 مليارات و يوجد في السوق الداخلية الجزائرية 36 مليون شخص أكثر من نصفهم تحت سن 25 سنة ... **الت**

ب : لقد جدد الرئيس عبد العزيز بوتفليقة تمسك الجزائر بمواصلة بناء الاتحاد المغاربي وأكد تعلقها بهذا المشروع، واستعدادها لتشارك الفرص الضائعة التي توافرت للصرح المغاربي منذ الإعلان عن قيامه في قمة زرالدة وفي رسالته إلى نظرائه المغاربة جدد حرص الجزائر على تسريع وتيرة بنائه كمكسب ثمين يحقق تطلعات شعوب المنطقة الى التكامل وذلك إيمانا منها بأن

عالم الغد سيكون عالم الذين يسعون الى إدراج اقتصادياتهم وسياساتهم لتساير بشكل أفضل المعطيات الجديدة المترتبة عن العولمة. بالرغم من أن بناء اتحاد المغرب العربي يعرف صعوبات وعوامل تعمل على تعثره . **جريدة المساء في 16 - 02 - 2009**
السند 2 : جدول تطور سكان الجزائر ---

السنة	1962	1975	1985	1992	2009
عدد السكان	10.2	15	20	25.9	35.7

السند 3 : ينبع معظمها (أودية الجزائر) من الأطلس التلي وهي أوفر مياهها وتصب في البحر الأبيض المتوسط أهمها وادي الشلف ينبع من جبال عمور وجبال فرندة ويصب في البحر المتوسط قرب مستغانم طوله 650 كلم

استراتيجية الموقع	مدينة ساحلية	من الأودية الداخلية
		
الصحراء الجزائرية	الهجرة السرية	
		

المادة : جغرافيا
القسم 2 اف . لغ . عت . تر
المدة . ساعات
المراجع والمصادر : - الكتاب - أنت
إعداد : بوشخ عبد الحاكم
الأبيض سيد الشيخ

الكفاءة القاعدية : أمام وضعيات إشكالية تخص موقع ومكانة الجزائر يكون المتعلم قادرا على تحديد موقع الجزائر وإبراز أبعاده و ربط العلاقة بين السكان و الوسط الطبيعي

الوحدة الأولى : الجزائر موقعا و أبعادا

الوضعية الثالثة : الموقع الجيو سياسي للجزائر

الكفاءة المستهدفة : أن يكون المتعلم قادرا على إبراز مكانة الجزائر التاريخية والحضارية

الإشكالية : تحتل الجزائر مكانة مرموقة عربيا وإفريقيا و عالميا بفضل موقعها و ثرواتها و تاريخها فيما يتضح ذلك ؟

السننات	التعليمات	الاداءات والأنشطة	الاداءات والأنشطة
الخريطة ص134 والمقاطع ص36-37	اعتمادا على مكتسباتك القبلية و انطلاقا من المفترحة	يستقري خريطة المنطقة و يبرز المكانة التاريخية و الحضارية للجزائر على الصعيد :	يستقري خريطة المنطقة و يبرز المكانة التاريخية و الحضارية للجزائر على الصعيد :
السند 4.5 ص 15	استقري خريطة جيو سياسية للمنطقة مبرزا مكانة الجزائر تاريخيا . حضاريا	العربي	الجزائر للعب ادوار متميزة على الأصعدة التالية :
السند 1 ص 18	عربيا	الإفريقي	1 - عربيا : من خلال دعم كل جهود الوحدة و التضامن العربي و العمل على تحرير الأراضي العربية و النهوض باقتصاديات الدول العربية و الخروج من دائرة التخلف . وقد انضمت الجزائر لجامعة الدول العربية بعد الاستقلال 1962 و شاركت في الحروب العربية الإسرائيلية و دعمت القضية الفلسطينية كما شاركت في تأسيس الإتحاد المغاربي في فيفري 1989 و تعمل على تفعيل دوره و تجسيد أهدافه .
السند 1 . 2 ص 42	إفريقيا	الإفريقي	2 - إفريقيا : من خلال العمل على توحيد دول القارة بالانضمام إلى منظمة الوحدة الإفريقية سابقا و الإتحاد الإفريقي منذ 25 - 5 - 2001 كإطار للتعاون و التضامن و المشاركة في تجسيد مبادرة النيباد 2001 لحل مشاكل القارة و خلافات دولها و دعم وصيانة استقلال دولها . دعم حركاتها التحررية و قضاياها العادلة (استقلال العديد من شعوب القارة كنتيجة لضغط الثورة التحريرية على فرنسا) و تمثيلها و الدفاع عن تميمتها في المحافل و المنظمات الدولية
السند 1 ص 22	عالميا	العالمي	3 - عالميا : من خلال الانضمام للمنظمات السياسية الدولية كهيئة الأمم المتحدة 1962- و حركة عدم الانحياز 1962 و احتضان مؤتمرها الربع سنة 1973 - منظمة المؤتمر الإسلامي 1969 و توقيع اتفاقية الشراكة مع الإتحاد الأوروبي 2002
السند 3.4.5 ص 117			

تفويهم مرحلي : اعتمادا على السند 2 ص 42 ارسم خطة تمكن إفريقيا من الخروج من دائرة التخلف

الجيو سياسي : العلاقة بين السياسة والجغرافيا و الاقتصاد و العلاقات الخارجية للأمة بالنسبة لمختلف الأبعاد المحلية والإقليمية والقارية والدولية

الاتحاد الإفريقي : وريث منظمة الوحدة الإفريقية تأسس في 25/05/2001-

الاتحاد المغاربي : شروع وحدة بين دول المغرب العربي طهر رسميا في 17/02/1989 في مراكش-

الجامعة العربية : منظمة جهوية أنشأتها الدول العربية بمقتضى ميثاق 22 مارس 1945، قصد صيانة استقلالها وتحقيق وحدتها القومية وتوثيق الصلات بينها في مختلف الميادين.

منظمة المؤتمر الإسلامي : منظمة إقليمية تتألف من دول العالم الإسلامي، وقد تأسست سنة 1969 بجدة هدفها تحقيق التضامن بين الدول الإسلامية..

منظمة التجارة العالمية : مؤسسة دولية أنبثقت عن اتفاق مراكش سنة 1994، دخلت حيز التطبيق سنة 1995 وحلت محل منظمة "الغات". وتتلخص مهامها في ضبط التجارة العالمية، وإدارة الاتفاقيات التجارية وحل خلافاتها.

الكفاءة القاعدية : أمام وضعيات إشكالية تخص موقع ومكانة الجزائر يكون المتعلم قادرا على تحديد موقع الجزائر وإبراز أبعاده و ربط العلاقة بين السكان و الوسط الطبيعي
الوحدة الأولى : الجزائر موقعا وأبعادا
الوضعية الرابعة : **وضعية إدماج**
الكفاءة المستهدفة : أن يكون المتعلم قادرا على الربط بين أهمية الموقع الجغرافي و دور الجزائر العالمي
الإشكالية : تمتلك الجزائر موقعا جغرافيا استراتيجيا حساسا أكسبها مكانة تاريخية و سياسية عالميا و إقليميا . فيما يتمثل دورها

المادة : جغرافيا
القسم 2 اف . لغ . عت
المدة . ساعات
المراجع والمصادر : - الكتاب -
أنت
إعداد : بوشيش عبد الحاكم

السندات

التعليمات

1

موقع ويكبيديا : الجزائر عضو مؤسس في **إتحاد المغرب العربي** سنة 1988 وعضو في **جامعة الدول العربية** و منظمة الأمم المتحدة منذ استقلالها ، و عضو في منظمة الوحدة الأفريقية و **الأوبك** و العديد من المؤسسات العالمية و الإقليمية . تلقب ببلد المليون ونصف المليون شهيد نسبة لعدد شهداء ثورة التحرير الوطني التي دامت سبعة سنوات و نصف . و تلقب تاريخيا بأرض الإسلام نظرا لتعلق شعبها بالإسلام و انطلاق الفتوحات منها نحو الأندلس و إفريقيا.

السند : 2

(... إنني وافد إليكم من ضفة المتوسط و بالذات من الجزائر البلد الذي يمتاز ويفخر بكونه أرضا تعاقب فيها وعلى مر الأحقاب و العصور الثقافات و الحضارات... تتمتع بلادي بما هو عبارة عن - ريع تاريخي - بموقعها في المتوسط ... ملتقى ماسي التاريخ و الأساطير ملتقى تناظر الثقافات و احتكاك الأفكار . المكان الهندسي الأمثل حيث برزت الحضارات البربرية واليونانية والرومانية و العربية و العثمانية)

من خطاب الرئيس في جامعة السوربون باريس 2003

السند 3 : صرح لويس امادو وزير خارجية البرتغال :
تلعب الجزائر دور كبير و هام في الحوار القائم بين الإتحاد الأوربي و الضفة الأخرى كما لها دور في إرساء السلام و الاستقرار بالمنطقة)
جريدة الخبر العدد 4862 الأحد 19 نوفمبر 2006.

اعد منتج للتعليمات
المرفقة



السند 5 : تم اعتماد مبادرة النيباد في القمة 37 لمنظمة الوحدة الإفريقية 2001 بصفتها إستراتيجية التنمية للمنظمة . و أول ما تقوم عليه هذه الإستراتيجية هو استعمال القدرات الإفريقية و إعادة تحديد علاقات إفريقيا مع باقي بلدان العالم و ذلك في إطار شراكة جديدة تؤيد فكرة تعميم الفائدة على الجميع . و يهدف النيباد إلى القضاء على ظاهرة الفقر ووضع البلدان الإفريقية على طريق التنمية المستدامة و الحد من تهميش القارة في مسار العولمة

التعليمات

- 1 - اعتمادا على السند رقم 2 - 3 - 4 ابرز دور الجزائر الاقتصادي و الحضاري في منطقة البحر الأبيض المتوسط المتوسط
- 2 - أكمل بيانات الخريطة المرفقة مبينا أهم خطوط الطول و دوائر العرض التي تمر بالجزائر
- 3 - حدد مفهوم المصطلحات التي تحتها سطر في السندات
- 4 - اكتب فقرة تتحدث فيها عن أهداف مبادرة النيباد و دور الذي تلعبه الجزائر في تجسيدها .

عنوان الخريطة :

بسم الله الرحمن الرحيم

الثانوية الجديدة رقم : 01
الأبيض سيد الشيخ
ولاية البيض

المستوى : السنة الثانية - كل الشعب
مذكرات مادة الجغرافيا

الوحدة الثانية : السكان والتنمية في الجزائر

من إعداد الأستاذ : بوشخ عبد الحاكم

تتمينا منكم للجهد المبذول و لإبداء ملاحظاتكم و
توجيهاتكم و تصويباتكم الكريمة الرجاء التواصل
المباشر على العنوان التالي :
الأستاذ : بوشخ عبد الحاكم
الثانوية الجديدة رقم 01
الأبيض سيد الشيخ - البيض -

..... نزولا عند رغبة الكثير من السادة الأساتذة و التلاميذ الأعمام و محاولة لتعميم
الفائدة و تبادل التجارب و الوثائق التربوية هانا أقوم بإعادة نشر المذكرات التربوية
للمادة (التاريخ و الجغرافيا)

راجيا لكم جمال الاستفادة منما و التوفيق و النجاح

. وراجيا منكم كثير الدعاء بموفقور و دواء الصحة و العافية و حسن الخاتمة

التوقيع : tachfin

المادة : جغرافيا
 القسم : 2 اف . لغ . عت
 المدة : ساعات
 المراجع والمصادر : الكتاب . النت
 إعداد الأستاذ : بوشىخ عبد الحاكم
 الأبيض سيد الشيخ

الكفاءة القاعدية : أمام وضعيات إشكالية تخص التنمية الاقتصادية و الاجتماعية في الجزائر يكون المتعلم قادرا على شرح الواقع الاقتصادي و الاجتماعي و عناصر التحول و يقترح حلولاً لمشاكل التنمية
الوحدة الثانية : السكان والتنمية في الجزائر
الوضعية الأولى : الواقع الاقتصادي و الاجتماعي للجزائر غداة الاستقلال
الكفاءة المستهدفة : أن يكون المتعلم قادرا على تشخيص الواقع الاقتصادي و الاجتماعي في الجزائر غداة الاستقلال و يعلله
الإشكالية : غداة الاستقلال وجدت الجزائر نفسها أمام وضع اقتصادي و اجتماعي متدهور. فيما يتمثل هذا الواقع ؟ وما هي مظاهر اختلاله ؟

التعليمات	السندات	الاداءات والأنشطة و المنتوج الانتقائي
اعتمادا على مكتسباتك القبلية و انطلاقا من المقترحة	السندات و الصور ص 82 . 83 .	التعرف على الواقع الاقتصادي و الاجتماعي للجزائر غداة الاستقلال : الواقع الاقتصادي : 1 - الزراعة : توظف 70% من اليد العاملة و لا تحقق الاكتفاء الغذائي و تقوم على - زراعة حديثة في السهول الخصبة تقوم على إنتاج المحاصيل النقدية (الكروم . الجوامض) - زراعة تقليدية ذات مردود ضعيف تعتمد على الأمطار تساهم بنسبة ضعيفة من الدخل و تعتمد على المحاصيل المعاشية 2 - الصناعة : توظف 7 % سنة 1966 تقوم على الصناعات الاستخراجية الموجهة للتصدير كمعادن (طاقة . معادن) مع وجود بعض الصناعات الخفيفة ذات الطابع الاستهلاكي موجهة للسوق المحلية - يميزها سيطرة الشركات الأجنبية على الإنتاج الصناعي (اتفاقيات إيفيان) و انعدام الإطارات الجزائرية المسيرة و فرار الأجانب 3 - التجارة : مرتبطة بفرنسا بنسبة 90 % - الصادرات مواد أولية (بترول و غاز و حديد . بعض المحاصيل) - الواردات مواد غذائية و مواد التجهيز . و يميز التجارة - نقص فادح في رؤوس الأموال - عجز الميزان التجاري
تعرف على الواقع الاقتصادي و الاجتماعي للجزائر غداة الاستقلال	المرفق 1 المرفق 2	الواقع الاجتماعي : - السكان 9 مليون نسمة 1962 ارتفاع نسبة الأمية 85 % بسبب سياسة التجهيل - تفشي ظاهرة البطالة بنسبة زادت عن 40 % و انخفاض الدخل الفردي مما أسهم في تدني المستوى المعيشي - تفشي الأمية كنتيجة لسياسة التجهيل الاستعمارية بين أكثر من 90 % من الجزائريين خاصة النساء إضافة إلى انتشار الخرافات و البدع - انتشار البيوت القصدية حول المدن - ارتفاع نسبة سكان الأرياف - وضع صحي متدهور (يميزه نقص الإطارات الطبية و الهياكل الصحية و انتشار الأوبئة و الأمراض) - خسائر الثورة في الجانب الاجتماعي من اللاجئين و الأرامل و المعطوبين و اليتامى
أبرز مظاهر الاختلال	الصور المرفقة	إبراز مظاهر الاختلال : 1 - ضخامة الإنتاج الزراعي من المحاصيل التجارية في ظل وجود تبعية غذائية بنسبة كبيرة 2 - تبعية تجارية لفرنسا من حيث الصادرات و الواردات 3 - وفرة المواد الأولية (طاقة.معادن) و بالمقابل ضعف النشاط الصناعي و تركيز على الصناعات الاستخراجية الموجهة نحو الأسواق الفرنسية 4 - انتشار اللغة الفرنسية في كل أجهزة الدولة مع تفشي واسع للامية 5 - تفاقم المشاكل الصحية و التعليم 6 - حدوث شلل كلي للحركية الاقتصادية رغم ضخامة الموارد و الاحتياجات
	السندات ص 86 . 87	



تقويم مرحلي : بين الإجراءات الاستعجالية التي اتخذتها الحكومة الجزائرية لمواجهة الواقع الاقتصادي و الاجتماعي الموروث عن الاستعمار
مصطلحات الوضعية :

التبعية الاقتصادية : الحالة التي يكون فيها اقتصاد دولة تحت هيمنة دولة ثانية متقدمة بنما الأولى متخلفة و العلاقة بينهما غير متكافئة مع استمرار نهب ثروتها و استغلال شعبها
البطالة : حسب المنظمة العالمية للعمل يعدّ بطالا كل شخص قادر على العمل لا يعمل لمدة تفوق ثلاثة أشهر . و هي مشكلة اجتماعية تزيد نسبتها في الدول المتخلفة
الأمية : إنها عدم القدرة على قراءة أو كتابة جملة بسيطة بأي لغة و هي ظاهرة اجتماعية سلبية تنتشر في الدول المتخلفة . من أنواعها الألف بائية . الثقافية . المعلوماتية . التكنولوجية ... الخ

الهيكل القاعدية : حملة التجهيزات الضرورية لتنشيط الحركة الاقتصادية مثل الطرقات و السكك و الموانئ و المطارات و الجسور و المدارس و المعاهد و المستشفيات
الدخل الفردي : ما يحصل عليه كل فرد في الدولة من دخل في المتوسط خلال العام ويتم حسابه عن طريق الدخل القومي للدولة في عام على عدد السكان في نفس العام
المستوى المعيشي : كل ما يتمتع به الفرد من ملابس و مأكلا و مسكن و يتحدد ذلك بمستوى الدخل والبيئة التي يعيش فيها والطبقة الاجتماعية التي ينتمي إليها
الزراعة المعاشية : الزراعة التي تركز على إنتاج الغذاء الرئيسي للسكان منها الحبوب
سندات الوضعية :

السند 1 : كان من نتائج الاستعمار الفرنسي للجزائر ظهور قطاع اقتصادي حديث بين أيدي الأوربيين و قطاع اقتصادي تقليدي بين أيدي المواطنين، فالقطاع التقليدي يتميز بالملكيات الصغيرة التي لا تزيد عن 10 هكتارات إلا نادرا و الإنتاج المعاشي مثل زراعة الحبوب من قمح صلب و شعير و غلج جافة مثل العدس ... و غيرها، كما يقوم بتربية الحيوانات و غراسة البساتين بطرق تقليدية موروثية عن الأجداد، وعدم تسميد الأرض بالأسمدة الاصطناعية وعدم دراسة التربة و استعمال المواد الكيماوية لمداواة المزروعات .
السند 2 : كانت الصناعة في الجزائر عادة الاستغلال صناعة تقليدية لا تتطلب رؤوس أموال كبيرة و لا مواد أولية بكميات ضخمة ولا آلات عظيمة و لهذا لا تظهر على الصناعة التقليدية صبغة التركيز و اختيار الموقع و تنتج لسد حاجيات الأسواق المحلية في أغلب الأحيان كما تتميز هذه الصناعة بقله الأيدي العاملة التي كانت توظفها و التي لا تتجاوز 02%، وقد غلب عليها الطابع الاستخراجي .

طفلان خلال العشرينيات	خياط تقليدي من بسكرة	الزراعة التقليدية	
			 <p data-bbox="1594 1165 2172 1212">3 - الحصاد التقليدي .</p>

المادة : جغرافيا
القسم : 2 اف . لغ . عت
المدة : ساعات
المراجع والمصادر : الكتاب . النت
إعداد الأستاذ : بوشىخ عبد الحكيم
الأبيض سيد الشيخ

الكفاءة القاعدية : أمام وضعيات إشكالية تخص التنمية الاقتصادية والاجتماعية في الجزائر يكون المتعلم قادرا على شرح الواقع الاقتصادي والاجتماعي وعناصر التحول ويقترح حلولاً لمشاكل التنمية
الوحدة الثانية : السكان والتنمية في الجزائر
الوضعية الثانية : التحولات الاقتصادية الكبرى
الكفاءة المستهدفة : أن يكون المتعلم قادرا على شرح مفهوم التحول الاقتصادي وإبراز عوامله ومظاهره
الإشكالية : للخروج من الوضع الاقتصادي المزري والموروث عن الاستعمار عرفت الجزائر تحولات اقتصادية جذرية بعد الاستقلال ما هي مظاهرها ونتائجها ؟

التعليمات	السندات	الاداءات والأنشطة و المنتج الانتقائى
اعتمادا على مكتسباتك القبلية و انطلاقا من المقترحة	السند 1 . 2 ص 88 الصورة المرفقة 1	اكتشف مظاهر التحولات الاقتصادية بعد الاستقلال : إلى النظام الاشتراكي بعد الاستقلال 1962 – 1990 : عوامل التحول : مخلفات الاستعمار وتدهور الوضع الاقتصادي والاجتماعي - قيود اتفاقيات ايفيان - سيطرة الشركات الفرنسية و الكولون على الموارد و الثروات مظاهر التحول : - تطبيق سياسة التأميمات (بتأميم البنوك و الشركات 1963 و المناجم 1966 و المحروقات 1971) - ملكية الدولة لوسائل الإنتاج و اعتماد أسلوب التخطيط المركزي - إنشاء الشركات والدواوين الوطنية - شركة سونطراك شركة و السونارام و الديوان الوطني للحبوب و الحليب و الخضر و الفواكه. - إقامة قاعدة صناعية وطنية تركز على الصناعات الثقيلة (مركبات الحديد و الصلب . البتروكيماوية) - التسيير الذاتي الزراعي (مرسوم مارس 1963) و تأميم أراضي الكولون 1963 و الثورة الزراعية سنة 1971 - انتهاء اسلوب المخططات الانمائية بداية بالمخطط الثلاثي (1969 - 1967) - تطبيق سياسة التعاونيات الفلاحية - احتكار الدولة للمبادلات التجارية
اكتشف مظاهر التحولات الاقتصادية بعد الاستقلال	سندات ص 90 . 91 السند المرفق 1 . 2	من الاقتصاد الاشتراكي إلى النظام الرأسمالي منذ 1990 : عوامل التحول : فشل التنمية في ظل النظام الاشتراكي - تدهور المستوى المعيشي للمواطن و نقص الخدمات - اختلال التوازنات الاقتصادية الكبرى خاصة مع التراجع الحاد في أسعار المحروقات و تراجع المداخيل الجزائرية من العملة الصعبة - التحولات الاقتصادية العالمية بعد انهيار المعسكر الشيوعي مظاهر التحول : - تحول دور الدول من منتج إلى منظم وموجه للحياة الاقتصادية مع احتكار القطاعات الإستراتيجية - فسخ المجال إمام القطاع الخاص و تشجيع الاستثمار المحلي و الأجنبي - تحرير التجارة الخارجية و رفع احتكار الدولة لها - التركيز على الصناعات الخفيفة و الاستهلاكية - الانفتاح على السوق العالمي لتنويع مناطق التبادل التجاري - توقيع اتفاقية الشراكة مع الاتحاد الأوربي و السعي للانضمام للمنظمة العالمية للتجارة
حدد أسس التنمية	السند 3 ص 123 السند 1 ص 124 السند 8 ص 99 السند 2 . 3 ص 131	- أسس التنمية : إقامة صناعة وطنية * التركيز على توفير حاجيات السوق الجزائرية * السعي لتحقيق الاكتفاء الذاتي و الأمن الغذائي * العمل على تطوير الريف لوقف ظاهرة النزوح الريفي * تنويع الصادرات و الأسواق الخارجية للخروج من واقع التبعية - مشاكلها : عدم التحكم في التكنولوجيا المتطورة - ضعف المردودية - عجز الميزان التجاري خارج المحروقات و تزايد المديونية - تذبذب الإنتاج الزراعي بسبب الجفاف - عدم استقرار أسعار المحروقات في السوق الدولية - مشاكل التهيئة الإقليمية واستنزاف الأراضي الزراعية و النزوح الريفي - عدم انتظام توزيع السكان وتركزهم في الساحل مما أنتج فوارق إقليمية - المنافسة الخارجية الحادة - الحلول لمشاكل التنمية :
يقترح حلولاً لمشاكله	المرفق 4	- التهيئة الإقليمية بوضع خطط تأخذ بعين الاعتبار الظروف الطبيعية و البشرية والاقتصادية لكل إقليم - برمجة حملات التشجير باستمرار لوقف الانجراف و التصحر - دعم البحث العلمي - بناء السدود ومحطات التطهير و استغلال المياه الجوفية (مشروع القرن نقل المياه الجوفية من عين صالح إلى تمنراست) - تنويع الصادرات لتفادي تأثير تقلبات أسعار المحروقات و تنويع مناطق التبادل التجاري - دعم برامج تشغيل الشباب و إقامة مؤسسات صغيرة و متوسطة

نقويم مرحلي : اعتمادا على معلوماتك القبلية عدد العوامل التي تتحكم في عدم استقرار أسعار المحروقات في الأسواق العالمية
مصطلحات الوضعية :

التحول الاقتصادي : تغير السياسة الاقتصادية لتحقيق التنمية الشاملة بالانتقال من النظام الاقتصادي الاستعماري إلى النظام الاشتراكي 1962 ثم إلى اقتصاد السوق في بداية التسعينات .
المبادلات : الحركة التجارية ممثلة في الصادرات والواردات

التأميم : سياسة اقتصادية تقضي بتحويل ملكية وسائل الإنتاج (أراضي زراعية و ثروات طبيعية وتجهيزات وأموال و غيرها....) من الملكية الفردية إلى الملكية الجماعية -- الدولة -- .
الخدمات : كل الأنشطة الاقتصادية التي لا تقوم باستخراج أو إنتاج أو تحويل المواد الأولية كالتجارة و النقل و البنوك التأمين و السياحة و الإدارة والتعليم، الصحة و الأمن
الهياكل القاعدية : جملة التجهيزات الضرورية لتنشيط الحركة الاقتصادية مثل الطرقات و السكك و الموانئ و المطارات و الجسور و شبكة الاتصالات و المدارس و المعاهد و المستشفيات
منظمة التجارة العالمية : مؤسسة دولية ظهرت سنة 1995 خلفا لمنظمة"الغات". وتتخصص مهامها في ضبط التجارة العالمية و إدارة الاتفاقيات التجارية وحل خلافاتها .
الاتحاد الأوربي : كتلت سياسي و اقتصادي يضم 27 دولة أوروبية تأسس في ديسمبر 1992






سندات الوضعية :

السند 1 : في سياق مع الزمن ومن اجل بناء اقتصاد وطني متنوع لا تتحكم فيه عائدات المحروقات انتهجت الدولة الجزائرية مسارا حثيا من خلال تطبيق إستراتيجية تشجع الإنتاج الوطني وتقلص من نسبة

الواردات مع دعم مستمر للتوازن الاجتماعي وقد جسدت هذه الإستراتيجية في قانون المالية التكميلي لسنة 2009 . الذي تضمن مجموعة من الإجراءات منها : وقف تصدير نفايات المعادن غير الحديدية * . منع استيراد الآلات أو التجهيزات المستعملة * استغلالها للموارد المالية والمتولدة من تراكمات بقايا الميزانيات المالية منذ سنة 2000 م.

السند 2 : وعلى غرار بلدان العالم أثرت الأزمة العالمية على الوضع الاقتصادي للجزائر الذي تسيطر مدا خيل المحروقات عليه بنسبة 98 % حيث كشفت الأرقام الأخيرة عن تراجع الصادرات خلال الشهور 9 الأخيرة لهذه السنة بنسبة 40,45 % مسجلة 5,39 مليار دولار بدل 41,72 مليار دولار، كما تراجع فائض الميزان التجاري إلى 2,4 مليار دولار، بدل 35,36 مليار دولار، وجاء هذا التراجع نتيجة انخفاض أسعار البترول في الأسواق الدولية بعدما بلغت عتبة 149 مليار دولار في مرحلة سابقة.

السند 3 : رغم الجهود التي بذلتها الدولة للنهوض بالزراعة فإن الإنتاج الزراعي لا يلبى الحاجات المتزايدة للسكان مما أدى إلى استيراد المواد الغذائية بشكل كبير. ويشغل في هذا القطاع 15,9 % من العاملين إلا أنه يسهم بـ 9,5 % فقط من قيمة الناتج الوطني الإجمالي، ويسيطر القطاع الزراعي الخاص على ثلثي الأراضي المستغلة في الزراعة عن طريق المزارع الصغيرة وأهم المنتجات الزراعية - الحبوب و التمر و الزيتون
السند 4 : إن ترقية السياسات الاقتصادية الكلية التي تدعم التنمية المستدامة يبقى هدفاً أساسياً، ففيما يتعلق بتعزيز إطار الاقتصاد الكلي أنعشت الجزائر منذ أكثر من عقد من الزمن نموها الاقتصادي ، وبغية تعزيز النمو شرعت في مخطط لدعم الانتعاش الاقتصادي خلال الفترة بين 2001 و 2004 بقيمة 7 مليارات دولار بهدف تأهيل المنشآت التحتية القاعدية لإعادة التوازن الإقليمي من خلال تطوير شبكة الطرق والسكك الحديدية وتحديثها، والتخفيف من المشاكل في مجال الموارد المائية، وتحسين الظروف المعيشية للمواطنين في مجالات السكن والرعاية الطبية والتعليم، وكذا تطوير الخدمات العامة وتحديثها. ... **إبراهيم صاب 16-11-2009**

خطوط أنابيب نقل الغاز ل أوروبا	أبار نفط في الصحراء	الجزائر و عضوية الاوبك	1 - التطوع في النشاط الزراعي في بداية السبعينات										
													
التجارة الجزائرية الخارجية	النمو الاقتصادي في الجزائر بعد 1999	المحروقات الركيزة الأساسية لاقتصاد الجزائر فهو يمثل											
	<p>الجزائر .. شهد النمو الاقتصادي زيادة في الحجم بين عامي 1999 و 2005 بـ 4% . كما سجل تحسناً أعوام 2003 و 2004 و 2005 بنسب 6,9 % و 5,2 % و 5,1 % على التوالي، ومنذ بداية عام 2000 تعززت الوضعية المالية الخارجية بفضل ارتفاع أسعار النفط في السوق العالمية، وهذا التحسن في الوضعية المالية سمح بتخفيض مؤشرات الدين الخارجي بعد اللجوء إلى الدفع المسبق للدين الخارجي منذ عام 2004 إلى حوالي 4 مليارات دولار عام 2008</p>	<table border="1"> <tbody> <tr> <td>من الميزانية العامة</td> <td>60 %</td> </tr> <tr> <td>من الناتج الإجمالي المحلي</td> <td>30 %</td> </tr> <tr> <td>من إجمالي الصادرات</td> <td>95.7 %</td> </tr> <tr> <td>البتترول</td> <td>14 - في تصدير البترول - عضو في(الأوبك).</td> </tr> <tr> <td>الغاز الطبيعي</td> <td>2 - قائمة مصدري الغاز الطبيعي</td> </tr> </tbody> </table>		من الميزانية العامة	60 %	من الناتج الإجمالي المحلي	30 %	من إجمالي الصادرات	95.7 %	البتترول	14 - في تصدير البترول - عضو في(الأوبك).	الغاز الطبيعي	2 - قائمة مصدري الغاز الطبيعي
من الميزانية العامة	60 %												
من الناتج الإجمالي المحلي	30 %												
من إجمالي الصادرات	95.7 %												
البتترول	14 - في تصدير البترول - عضو في(الأوبك).												
الغاز الطبيعي	2 - قائمة مصدري الغاز الطبيعي												

المادة : جغرافيا
القسم : 2 اف . لغ . عت
المدة : ساعات
المراجع والمصادر : الكتاب . النت
إعداد الأستاذ : بوشيش عبد الحاكم
الأبيض سيد الشيخ

الكفاءة القاعدية : أمام وضعيات إشكالية تخص التنمية الاقتصادية والاجتماعية في الجزائر يكون المتعلم قادرا على شرح الواقع الاقتصادي والاجتماعي و عناصر التحول و يقترح حلولاً لمشاكل التنمية
الوحدة الثانية : السكان والتنمية في الجزائر
الوضعية الثالثة : التحولات الاجتماعية
الكفاءة المستهدفة : أن يكون المتعلم قادرا على شرح الواقع و التحول الحاصل في الميدان الاجتماعي في الجزائر
الإشكالية : عرفت الجزائر تحولات اجتماعية جذرية بعد الاستقلال ماهي مظاهرها ؟ و ما المشاكل التي نجمت عنها ؟

التعليمات	السندات	الاداءات والأنشطة و المنتوج الانتقائي
اعتمادا على مكتسياتك القبلية و انطلاقا من المفترحة	السندات ص 89 الرسم البياني	اكتشاف مظاهر التحولات الاجتماعية بعد الاستقلال : * السكان : - تضاعف عدد سكان الجزائر من 9 من سنة 1962 الى 33.2 من سنة 2005 و بنسبة نمو و صلت إلى 3.4 % (أي فتوة ديمغرافية) - بداية من التسعينات بدأت نسبة النمو الديمغرافي تنخفض حيث وصلت سنة 2003 إلى 1.5 % نتيجة عوامل اقتصادية و اجتماعية منها (ارتفاع سن الزواج - نقص الرغبة في الإنجاب تراجع ظاهرة تعدد الزوجات) - انخفاض نسبة الوفيات فمن 6.0 % في 1990 إلى 4.3 % سنة 2004 علما إن متوسط الحياة 74 سنة 2004 - الفئة المنتجة تمثل 62.3 % حسب التوزيع التالي - الزراعة 18 % - الصناعة 22 % - الخدمات 54 % - تضاعف نسبة سكان المدن التي وصلت إلى 58 % بسبب ظاهرة النزوح الريفي * الخدمات : - التشغيل : نتيجة تحسن الوضع الاقتصادي يلاحظ حدوث تحسن في واقع التشغيل فقد تضاعف عدد العاملين فمن 1.7 مليون عامل سنة 1967 إلى 6.6 مليون عامل سنة 2006 خاصة في قطاع الخدمات الذي يشغل 54 % من اليد العاملة ثم يليه القطاع الصناعي كل هذا أسهم في انخفاض نسبة البطالة من 32 % إلى 14 % سنة 2006 وتحسن الدخل الفردي و بالتالي تحسن المستوى المعيشي - التعليم : تخصص الدولة أكبر ميزانية في الحكومة لوزارة التربية و التعليم مما أسهم في تحسن واقع التعليم من حيث المرافق و الوسائل و البرامج و المستوى - انخفاض نسبة الأمية و تضاعف عدد المتدربين - جزارة الإطار التعليمية - الصحة : تحسن الخدمات الصحية من حيث تضاعف عدد المستشفيات و الأطباء في مختلف التخصصات - كثرة العيادات - تطور صناعة الأدوية - المرأة و الطفل : تعمل الدولة على ترقية المرأة و من أدلة ذلك - الانضمام إلى المعاهدات الدولية لحماية المرأة و الطفولة - دمج المرأة في عالم الشغل و التعليم و توليها لمناصب عليا (برلمان . وزارات) - المستوى المعيشي : عرف تحسن كبير خاصة في الثمانينات - فقد ارتفع الدخل الفردي إلى 3100 دولار سنة 2005 - متوسط أمل الحياة 74 سنة تحديد أسس التنمية الاجتماعية : - توفير متطلبات العيش الكريم لكل مواطن (السكن اللائق . منصب العمل) - العمل على جزارة الإطار التعليمية - تطوير الريف - مجانية الخدمات التعليمية و الصحية من 1962- 1990 - إحداث التوازن الجهوي بين مختلف جهات الوطن
اكتشف مظاهر التحولات الاجتماعية بعد الاستقلال	السند 1 . 2 ص 92	
حدد أسس التنمية الاجتماعية	السندات ص 100 . 101 السند المرفق 4 الصورة ص 105	
اقترح حلولاً لمشاكل التنمية		اقترح حلول لمشاكل التنمية الاجتماعية : - النزوح الريفي - بتطوير و ترقية الحياة في الريف و توفير مختلف الخدمات - مشكل أزمة السكن - التوسع في برامج الانجاز - 2006 - 200 ألف سكن أنجزت - تفشي مظاهر الفقر - إنشاء وزارة التضامن لتكفل بالفئات المحرومة - التسرب الدراسي - من خلال محاربتها و التقليل منها و تكثيف برامج محو الأمية و التكوين المهني

التقويم مرحلي : مثل معطيات الجدول الخاص بمناطق التبادل التجاري للجزائر ص 99 بواسطة دائرة نسبية نصف قطرها 3 سم
مصطلحات الوضعية :

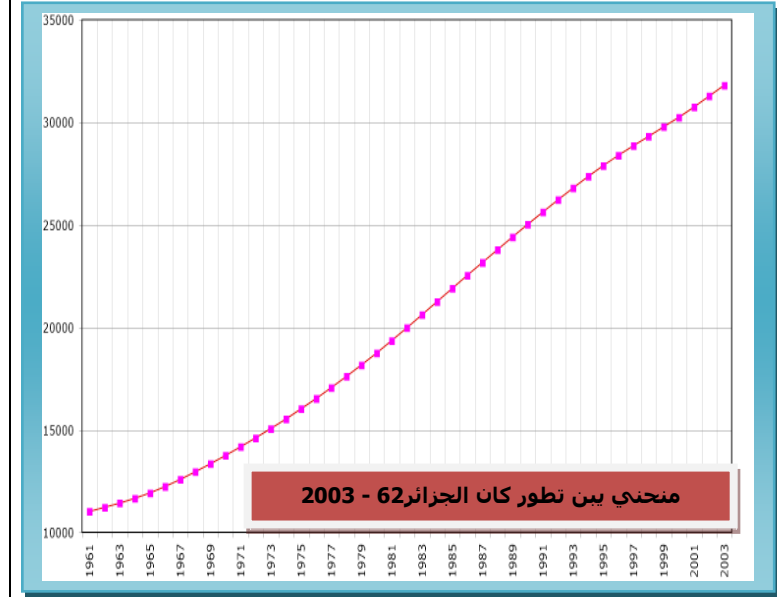
النزوح الريفي : تناقص عدد سكان الأرياف نتيجة انتقال السكان من الريف إلى المدينة لظروف معينة.

النمو الديمغرافي : الزيادة السكانية خلال فترة زمنية معينة

تركيب السكان : بنية السكان من حيث الجنس (إناث - ذكور) والعمر (شباب - كهول - شيوخ)

التنمية المستدامة : هي تنمية تأخذ بعين الاعتبار الأبعاد الاجتماعية و البيئية إلى جانب الأبعاد الاقتصادية

منحنى بين تطور سكان الجزائر 62 - 2003



انخفاض البطالة .. تحسين الصحة .. تعثر الإسكان

السند 2 : ترتبط التنمية الاجتماعية في الجزائر بمبدأ العدالة الاجتماعية, و يعني ذلك جهود الحد من الاختلال في التوازنات الجهوية ومكافحة الفقر ومردودية النظام التربوي ونظام الصحة العمومية والحصول على العمل و المسكن اللائق . سجلت حصة الفرد من الناتج المحلي الإجمالي ارتفاعًا من 1623 دولارًا في عام 1999 إلى 3971 في عام 2007 كما سمح التقدم المسجل فيما يخص نمو النشاطات بخفض نسبة البطالة من 29,3% عام 1999 إلى 15,3% عام 2005 ثم إلى 11,8% عام 2007، وبهذه الوتيرة من المتوقع أن تنخفض البطالة إلى 10% في 2009-2010، كما تم التحكم في التضخم في متوسط سنوي يقدر بحدود 2,5% في الفترة بين 1999-2007 **مجلة المعرفة نت**

السند 3 :

تميز سوق العمل خلال الفترة من 2000-2007 بما يلي:
 - خلق فرص عمل بمعدل صاف يتراوح ما بين 350000 و40000 وظيفة في السنة.
 - ارتفاع عدد العاملين من 6 ملايين عام 1999 إلى 9,3 ملايين عام 2007 بنسبة نمو 65,5%.

المؤشرات الديموغرافية للجزائر من 1999 إلى 2007

المؤشرات الديموغرافية للجزائر من 1999 إلى 2007		
المؤشر	1999	2007
نسبة الوفيات العامة	4,72 لكل ألف نسمة	4.3 لكل ألف نسمة
نسبة الولادات	19,82 لكل ألف نسمة	22,98 لكل ألف نسمة
نسبة الزيادة السكانية	1,51%	1.86%
وفيات لأطفال	39,4 لكل ألف ولادة حية	26,2 لكل ألف ولادة
معدل الحياة عند الولادة	72 سنة	75.7 سنة
نسبة الزواج	5,44 لكل ألف نسمة	9,55 لكل ألف نسمة

السكن والعمران / جهود كبيرة.. ولكن غير كافية

السند 4 :

يندر برنامج العمل الذي بادر به قطاع السكن و العمران ضمن مكافحة الفقر و التهميش لتسهيل الحصول على سكن و تحسين شروط حياة الكريمة في مناطق مختلفة من الوطن و يتوزع برنامج السكنات المسجلة كما يأتي:
 - البرنامج الخماسي 2005 / 2009 : 1,034 مليون وحدة .
 - البرامج التكميلية : و هي موجهة للفئات الفقيرة و يتم التوزيع : بالنسبة لولايات الجنوب الكبير : 62000 وحدة . بالنسبة لولايات الهضاب العليا : 98000 وحدة . بالنسبة لامتصاص السكن الهش : 194000 وحدة .

المادة : جغرافيا
القسم : 2 اف . لغ . عت
المدة : ساعات
المراجع والمصادر : الكتاب . الت
إعداد الأستاذ : بوشىخ عبد الحكيم
الأبيض سيد الشىخ

الكفاءة القاعدية : أمام وضعيات إشكالية تخص التنمية الاقتصادية والاجتماعية في الجزائر يكون المتعلم قادرا على شرح الواقع الاقتصادي والاجتماعي و عناصر التحول و يقترح حلولاً لمشاكل التنمية
الوحدة الثانية : السكان والتنمية في الجزائر
الوحدة الرابعة : وضعية إدماجية
الكفاءة المستهدفة : القدرة على استثمار المكتسبات القبلية و استغلال السندات ذات العلاقة بالوحدة
الإشكالية : هناك علاقة كبيرة و تأثير متبادل بين الوضع الاقتصادي و الجوانب الاجتماعية فيما يتضح ذلك ؟

مضامين السندات و التعليمات

التعليمات

1

يرتبط الاقتصاد الجزائري ارتباطا كبيرا بالمحروقات و التي تمثل 97 % من مدا خيل العملة الصعبة .. و قد بلغ معدل النمو الاقتصادي 3.8 % سنة 2000 مما بين ضعف الاقتصاد خارج قطاع المحروقات و قد ترتب عن ذلك ارتفاع معدلات البطالة التي وصلت إلى حدود 17 % سنة 2005...بالإضافة إلى قطاع زراعي مرتبط بالظروف المناخية ...

اعتمادا على
مكتسباتك
القبلية
و انطلاقا من
السندات
المقترحة

أنجز منتوجا
للتعليمات
المرفقة

3



الحرقاة



الاقتيات من المزابل

التعليمات : انطلاقا من مكتسباتك القبلية و اعتمادا على السندات المرفقة .

- 1 - حدد الإشكالية التي تتناولها السندات .
- 2 - انطلاقا من السند 1 استخلص صادرات و واردات الجزائر .
- 3 - اعتمادا على الوثيقة 4 حدد أسس التنمية الاقتصادية للجزائر بعد الاستقلال
- 4 - ابرز انعكاسات الواقع الاقتصادي للجزائر على وضعها الاجتماعي بعد التسعينات انطلاقا من السند 3
- 5 - حدد مفهوم المصطلحات التالية : الاستقلال الاقتصادي - العملة الصعبة -- الثروات الطبيعية

المنتوج الانتقائي :

أوروبا الزبون الأول للجزائر

و لا شك أنّ أوروبا ترى في الجزائر "فرصة اقتصادية ذهبية" للحفاظ على مصدر دائم للطاقة لضمان استمرار اقتصادياتها. و هو الأمر الذي

2
بلغ تعداد سكان
الجزائر أزيد من 33 م
ن سنة 2006 -----
معدل النمو : 1.5 %
أمد الحياة : 70 سنة --
نسبة التمدن : 58
% ----- متوسط
الدخل الفردي : 3100
دولار
الكتاب المدرسي ص

4

إن الاستقلال
الحقيقي يستلزم الاستقلال
الاقتصادي المرتكز أساسا
على استعادة الثروات
الطبيعية و على تملك و
سائل الإنتاج الكبرى و توازن
المبادلات الخارجية و
الاستقلال المالي للدولة و
إحداث سوق وطنية مع
التحكم في التكنولوجيا
من ميثاق 1976

الإشكالية : التحولات التي عرفتها الجزائر بعد الاستقلال و تأثيراتها على الوضع الاقتصادي و الاجتماعي

- استخلاص صادرات و واردات الجزائر :

الصادرات		الواردات	
محروقات	97.8	تجهيزات صناعية و فلاحية	36.7
زيوت زفت و امونياك	1.6	آلات الإنتاج والتشغيل	31
نفايات وحديد عجلات مطاطية	0.5	مواد غذائية	17.6
محاصيل و مياه معدنية	0.1	مواد استهلاكية	14.6

*** أسس التنمية الاقتصادية للجزائر بعد الاستقلال :**

- تحقيق الاستقلال الاقتصادي و التخلص من حالة التبعية لفرنسا و التي كانت تمثل نسبة 85 %
- تطبيق سياسة التأميمات لاسترجاع السيادة الوطنية على الموارد و الثروات
- إقامة قاعدة صناعية وطنية
- تنويع مناطق التبادل التجاري لتلبية جميع احتياجات المواطن و توفيرها
- التحكم في احدث التكنولوجيا

*** إبراز انعكاسات الواقع الاقتصادي للجزائر على وضعها الاجتماعي بعد التسعينات :**

- نتيجة تحول الجزائر إلى نظام اقتصاد السوق بداية التسعينات بعض المظاهر الاجتماعية مثل :
- ارتفاع نسب البطالة التي و صلت في إلى 30 % بسبب تسريح العمال
- ظاهرة الحرقاة و المهاجرين السريين نحو أوروبا
- مظاهر الفقر و البؤس و الأقتيات من المزابل
- تشغيل الأطفال

*** تحديد مفهوم المصطلحات التالية :**

- **الاستقلال الاقتصادي :** هو المكمل للاستقلال السياسي أي قدرة البلد على التحكم و استغلال موارده و ثرواته بما يخدم مصالح شعبه و التنمية المحلية فيه .
- **العملة الصعبة :** هي العملة القابلة لصرف و التحويل مثل الدولار و اليورو
- **الثروات الطبيعية :** هي جميع الثروات السطحية و الباطنية مثل المعادن و البترول و التربة و الغابات التي تنمو و تتشكل بتأثير العوامل الطبيعية و بشكل تلقائي دون تدخل يد الإنسان و التي يمكن إن تتحول إلى ثروة فعلية بأي صورة من الصور إما على هيئة سلع أو خدمات أو غيرها.



بسم الله الرحمن الرحيم

الثانوية الجديدة رقم : 01
الأبيض سيد الشيخ
ولاية البيض

المستوى : السنة الثانية - كل الشعب

مذكرات مادة التاريخ و جغرافيا

الوحدة الثالثة :

* العلاقات الأوربية الداخلية وانعكاساتها القارية و العالمية 1815- 1954م
* التباين الإقليمي في الجزائر

من إعداد الأستاذ : بوشخ عبد الحاكم

ثميننا منكم للجهد المبذول و لإبداء
ملاحظاتكم و توجيهاتكم و تصويبكم
الكريمة الرجاء التواصل المباشر على
العنوان التالي :

الأستاذ : يوشخ عبد الحاكم
الثانوية الجديدة رقم 01
الأبيض سيد الشيخ - البيض -

..... نزولا عن رغبة الكثير من السادة الأساتذة و التلاميذ
الأعزاء و محاولة لتعميم الفائدة و تبادل التجارب و الوثائق
التربوية هانا أقوم بنشر المذكرات التربوية للمادة (التاريخ و
الجغرافيا)

راجيا لكم كمال الاستفادة منها و التوفيق و النجاح

. وراجيا منكم كثير الدعاء بموفق

و دوام الصحة و العافية و حسن الخاتمة

التوقيع : tachfin

الكفاءة القاعدية : أمام وضعيات إشكالية تعكس طبيعة العلاقات الأوروبية الداخلية يكون المتعلم قادرا على تحديد و تحليل مظاهرها و مستخلصا انعكاساتها القارية و العالمية باستغلال السندات التاريخية .

الوحدة الثالثة : العلاقات الأوروبية الداخلية وانعكاساتها القارية و العالمية 1815- 1954 م

الوضعية الأولى : طبيعة العلاقات الأوروبية الأوروبية مظاهرها

الكفاءة المستهدفة : أن يكون المتعلم قادرا على تحديد و تحليل مظاهر العلاقات الأوروبية الداخلية و انعكاساتها القارية و العالمية

الإشكالية : شهدت أوروبا من مطلع القرن 19 جملة من التحولات أثرت على طبيعة العلاقات الأوروبية فيما يوضح ذلك . ؟

المادة : تاريخ
المستوى : 2 أف - لغ
المدة : ... ساعات
المراجع : الكتاب و النت
إعداد الأستاذ : بوشىخ عبد الحاكم

المنتج الانتقائي	التعليمات	السندات
<p>أهم القوى السياسية في أوروبا :</p> <ul style="list-style-type: none"> - الإمبراطورية الفرنسية - الإمبراطورية الانجليزية - إمبراطورية النمساوية و المجرية - روسيا القيصرية - الدولة العثمانية - الإمبراطورية الاسبانية و البرتغالية - ألمانيا و إيطاليا بعد استكمال الوحدة سنة 1870 <p>إبراز طبيعة العلاقات بين القوى الأوروبية ومظاهرها :</p> <p>1 - طبيعتها : هناك أحداث عرفتھا القارة الأوروبية و كان لها تأثير كبير على علاقاتها أهمھا :</p> <ul style="list-style-type: none"> ■ عقد معاهدة - واستفاليا 1648 - حيث ميزھا كثرة الحروب بسبب التعصب الديني و السياسي أما بعدها فعملت الدول الأوروبية بمبدأ التوازن الدولي و الشرعية للحفاظ على امتيازات الملوك ■ الثورة الفرنسية و الحروب النابوليونية - 1789- 1814- حيث اعتمدت القوى الأوروبية نظام المؤتمرات للحفاظ على مصالحها ولضرب التيارات القومية كما شكلت عدة تحالفات و على العموم فقد تميزت بالتوتر في أغلب الفترات وبتجلى ذلك في : <ol style="list-style-type: none"> 1- الصراع السياسي : حول طبيعة أنظمة الحكم 2- الصراع العسكري : حروب عديدة خاصة بين فرنسا وبريطانيا 3- التحالفات : و التي تشكلت بين دولتين أو أكثر وفق ما تملیه المصالح الخاصة لهذه هذه الدول <p>2 - مظاهرها :</p> <ul style="list-style-type: none"> • عقد عدة معاهدات منها : معاهدة باريس 1814 - لندن 1840 • سلسلة من التحالفات : الحلف المقدس 1815 - الحلف الرباعي 1815 <p>الحلف الثلاثي : ألمانيا - النمسا - المجر - الدولة العثمانية</p> <p>الوفاق الثلاثي : بريطانيا - فرنسا - روسيا - إيطاليا في 1915</p> <ul style="list-style-type: none"> • تنظيم مؤتمرات دولية : فيينا 1815 - اكس لاشايل 1818 - باريس 1856 - برلين 1878 و 1884 <p>تفجر أزمات دولية : أزمة مراكش سنة 1905- أزمة أغادير سنة 1911- أزمة البلقان 1 و 2 سنة 1912 و 1913</p> <p>استخلاص عوامل التحول في تلك العلاقات : حيث انتقلت من فترات المعاهدات إلى المؤتمرات و التحالفات وصولا إلى فترة الأزمات</p> <ul style="list-style-type: none"> • نتائج الحروب الدينية حيث أبرمت عدة معاهدات لحل خلافاتهم السياسية و الدينية • سعي الدول الأوروبية إلى التعاون فيما بينها • رغبة الدول الأوروبية في الأمن و الاستقرار لاستثمار نتائج نهضتها • تأثير أفكار الفلاسفة و المفكرين • انتشار المبدأ و الحركات القومية و ازدواجية مواقف الدول الأوروبية منها • نتائج الثورات السياسية و انعكاسات التوسعات النابوليونية <p>مما أسهم في حدوث الانعكاسات التالية : اشتداد الصراع بين الدول الأوروبية و بروز ظاهرة سباق التسلح</p> <ul style="list-style-type: none"> - اعتماد الوم سياسة العزلة (مبدأ مونرو) - ظهور عدة أزمات دولية (حرب البوير - فاشودة ..) - اشتداد التنافس الأوروبي على الدولة العثمانية - اندلاع الحرب العالمية الأولى 	<p>انطلاقا من السندات المقترحة ومكتسباتك القبلية</p> <p>- حدد أهم القوى السياسية في أوروبا</p> <p>- أبرز طبيعة العلاقات بين القوى الأوروبية</p> <p>- استخلص مظاهر العلاقات</p>	<p>الصور و الخريطة ص 40 . 41</p> <p>السندات و الجدول ص 43 إلى 47</p> <p>السندات 4 . 5 . 6 ص 49</p> <p>الجدول الزمني ص 50 و السندات ص 51</p>

تقويم مرحلي : اشرح مع التعليل و التمثيل المقصود بازدواجية مواقف الدول الأوروبية من الحركات القومية و مطالبها .

القوى الأوروبية : الدول الأوروبية المؤثرة في صياغة العلاقات الدولية خاصة إبان الحربين العالميتين مثل ألمانيا فرنسا بريطانيا روسيا

الكفاءة القاعدية : أمام وضعيات إشكالية تعكس طبيعة العلاقات الأوربية الداخلية يكون المتعلم قادرا على تحديد و تحليل مظاهرها و مستخلصا انعكاساتها القارية و العالمية باستغلال السندات التاريخية .

الوحدة الثالثة : العلاقات الأوربية الداخلية وانعكاساتها القارية و العالمية 1815- 1954 م

الوضعية الثانية : المواجهة العسكرية الأوربية الأولى 1914 – 1918

الكفاءة المستهدفة : أن يكون المتعلم قادرا على تحديد و تحليل مظاهر العلاقات الأوربية الداخلية و انعكاساتها القارية و العالمية

الإشكالية : لقد أسهم التوتر الداخلي و تزايد التنافس الاستعماري في ظل نمو المشاعر القومية في اندلاع مواجهة شاملة بين القوى الأوربية ثم توسعت لتعمم على بقية العالم فكيف تم ذلك ؟

المادة : تاريخ

المستوى : 2 أف- لغ - ع ت - ت ر

المدة : ... ساعات


المراجع : الكتاب و النت

الأستاذ : بوشخ عبد الحاكم

السندات	التعليمات	المنتوج الانتقائي
السند 1 . 3 ص 55 الصور المرفقة 1 3 2 الصورة و السندات ص 56 . 57	انطلاقا من مكتسباتك القبلية و اعتمادا على السندات المقترحة حدد عوامل المواجهة العسكرية الأوربية الأولى وانعكاساتها	المنتوج الانتقائي ■ تحديد عوامل المواجهة العسكرية الأولى و انعكاساتها : - غير المباشرة : - تفاقم مشاكل أوربا الداخلية بسبب فشل سياسة التحالفات (الحلف الثلاثي و الوفاق) الثلاثي و المؤتمرات في وضع حد لأزماتها - التنافس على المناطق الإستراتيجية و الأسواق - دور وسائل الإعلام و في الدعاية المغرضة و التحريض على المواجهة - التنافس في ميدان سباق نحو التسلح - تنامي المشاعر القومية المتطرفة - المباشرة : مقتل ولي العهد النمساوي (فرنسوا فردينا ند) يوم 28 جوان 1914 في مدينة سرايفو البوسنية من قبل طالب مما دفع النمسا و ألمانيا لإعلان الحرب على صربيا وحلفائها كانت قوات الحلفاء تشمل : صربيا . الإمبراطورية القيصرية الروسية فرنسا . بلجيكا . الإمبراطورية البريطانية بينما ضم تحالف قوى المركز : ألمانيا . الإمبراطورية النمساوية . المجرية الإمبراطورية العثمانية . بلغاريا. و قد مرت هذه المواجهة التي استمرت من 1914 إلى 1918 بمرحلتين ■ 1 - مرحلة تفوق دول الحلف 1914- 1917 ■ 2 - مرحلة تفوق دول الوفاق الثلاثي و نهاية المواجهة 1917- 1918 بسبب عوامل أثرت في سير الحرب أهمها دخول الو م أ وانسحاب روسيا و دعم الحركة الصهيونية لموفق دول الوفاق - انعكاسات المواجهة العسكرية الأولى : 1 - تغيير الخريطة الجيو سياسية لأوربا من خلال ظهور دول جديدة و تغير الحدود 2 - ضخامة الخسائر المادية و البشرية حوالي 10 م قتيل 20 مليون جريح من الجانبين . 3 - ظهور النظام الشيوعي و قيام دولة الاتحاد السوفيتي بدل روسيا القيصرية 4 - انهيار الأنظمة السياسية في الدول المنهزمة -اختفاء 4 إمبراطوريات (الألمانية - النمساوية - الروسية - العثمانية) 5 - وضع الولايات العربية في المشرق العربي تحت الانتداب البريطاني و الفرنسي بعد انهزام الدولة العثمانية (معاهدة سيفر) 6 - تدهور الوضع الاقتصادي و الاجتماعي في أوربا قد بلغت تكلفت الحرب حوالي 281887 مليون دولار 7- تنامي الرغبة في الانتقام بسبب معاهدات الصلح التي فرضت على الشعوب المنهزمة في الحرب 8 - انشاء عصبة الأمم والتي كان من أهدافها منع الحرب . -- استخلاص أبرز الأزمت الناتجة عن المواجهة العسكرية : - أوربا : - معاهدات الصلح الجائرة التي فرضت خاصة على ألمانيا - فارساي - - أزمة الأقليات في إقليم السودان - أزمة ممر الدانزينغ بين ألمانيا و بولندا مما سيفجر الحرب ع 2 - ظهور الأنظمة الفردية الديكتاتورية الفاشية في إيطاليا و النازية في ألمانيا - استمرار ظاهرة سباق التسلح - عالميا : عصبة الأمم فرغم نبل أهدافها إلا إن سيطرة الدول المنتصرة على أجهزتها أضعف دورها أفضلها في الأخير - الأزمة الاقتصادية 1929
الجدول ص 58 . 59 الخريطة ص 60		
السندات و الخريطة ص 63	استخلص أبرز الأزمت الناتجة عن المواجهة العسكرية - أوربا و عالميا	
الصور و السندات ص 64 . 65		


تقويم مرحلي : عدد أهم انعكاسات المواجهة الأولى على الوطن العربي و حدد مفهوم : الأقليات - الرغبة في الانتقام - معاهدة فارساي - عصبة الأمم

ولي عهد النمسا - فرانسيس فرديناند قتل اغتياله -
1914



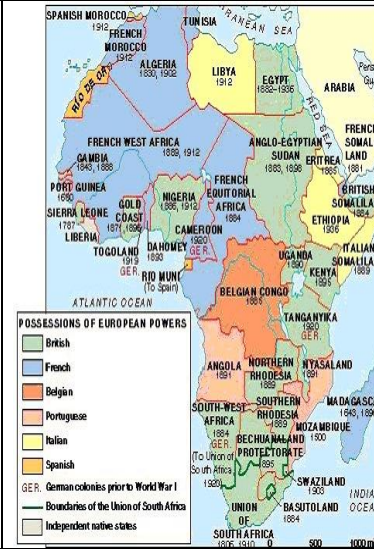
خريطة اوربا بعد الحرب الاولى

الحرب الاولى و سباق التسليح



الأمير فيصل بن الحسين
متزعمًا للوفد العربي بباريس
1919

التنافس على المستعمرات

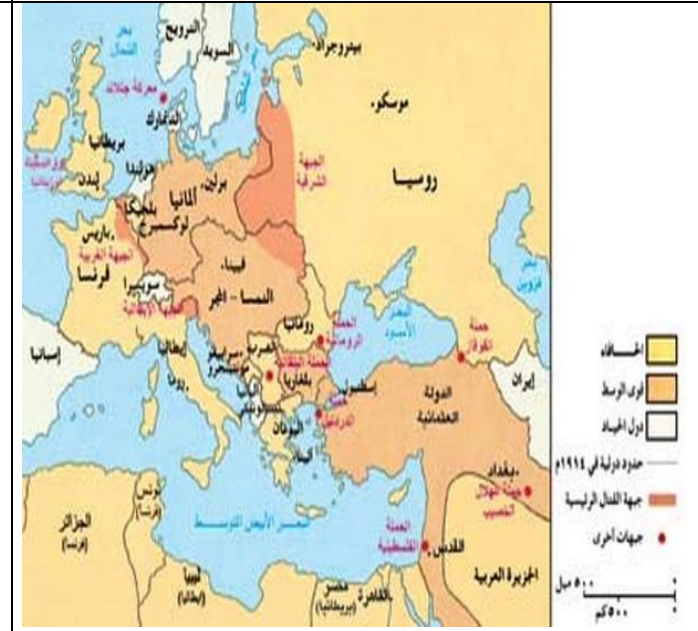



أورلاندو الايطالي . لويد جورج
البريطاني كليمنصو الفرنسي و
الرئيس الأمريكي ولسون

التحالفات تمهيدا للحرب



توسع جبهات الحرب



المادة : تاريخ
المستوى : 2 أف- لغ - ع ت ر
المدة : ساعات
المراجع : الكتاب و النت
الأستاذ : بوشىخ عبد الحاكم

الكفاءة القاعدية : أمام وضعيات إشكالية تعكس طبيعة العلاقات الأوربية الداخلية يكون المتعلم قادرا على تحديد و تحليل مظاهرها و مستخلصا انعكاساتها القارية و العالمية باستغلال السندات التاريخية .
الوحدة الثالثة : العلاقات الأوربية الداخلية وانعكاساتها القارية و العالمية 1815- 1954م
الوضعية الثالثة : المواجهة العسكرية الأوربية الثانية 1939 – 1945
الكفاءة المستهدفة : أن يكون المتعلم قادرا على تحديد و تحليل مظاهر العلاقات الأوربية الداخلية و انعكاساتها القارية و العالمية
الإشكالية : نتائج المواجهة الأولى و تزايد النزعة الانتقامية لبعض الشعوب أدت إلى المواجهة العسكرية الثانية و التي كانت لها انعكاسات كبيرة فيما يتضح ذلك ؟

المنتجات الانتقائي	التعليمات	السندات
<p>عوامل المواجهة العسكرية الأوربية الثانية :</p> <ul style="list-style-type: none"> ■ غير المباشرة : نسوبات ما بعد الحرب الأولى و نتائج مؤتمر الصلح (تغير خارطة أوربا - مشكلة الأقليات - العقوبات المسلطة على ألمانيا) - فشل عصبة الأمم في الحفاظ على السلم الدولي -- الأزمة الاقتصادية 1929 و انعكاساتها - ظهور الأنظمة الديكتاتورية النازية في ألمانيا 1933 - و الفاشية في إيطاليا 1922 - رفض ألمانيا تطبيق قرارات مؤتمر الصلح - السباق نحو التسلح و قيام حلف جديد عرف المحور (ألمانيا و إيطاليا اليابان) ضد دول الحلفاء (فرنسا و بريطانيا) ■ المباشرة : أزمة ممر الدانزينغ في بولندا وقيام هتلر باحتلال غرب بولندا في أول سبتمبر 1939م مما دفع فرنسا و بريطانيا إلى إعلان الحرب عليه و بذلك اندلعت الحرب ع 2 و قد مرت بالتطورات التالية : - قيام ألمانيا باحتلال أراضي واسعة في أوربا كاحتلال 3/4 فرنسا والنرويج - قيام الألمان بقصف لندن سنة 1940 و الزحف على الاتحاد السوفيتي (حملة بربروسا 1941) - الهجوم الياباني على القاعدة الأمريكية بالمحيط الهادي بيرل هاربر 7 - 12 - 1941 وإعلان الولايات الأمريكية دخول الحرب ضد دول المحور . <p>انعكاسات المواجهة العسكرية 2 على أوربا :</p> <ul style="list-style-type: none"> ■ زوال الأنظمة الديكتاتورية و احتلال ألمانيا و تقسيمها إلى مناطق نفوذ ■ تغيير الخارطة السياسية لأوربا بفقدان الدول المنهزمة أراضي لصالح الدول المنتصرة (تمدد بولونيا) ■ حدوث انهيار اقتصادي و تدمير وخراب شامل ■ خسائر بشرية تجاوزت 30 م قتيل إلى جانب ملايين الأيتام و الأرمال و اللاجئين . ■ خروجها مثقلة بالمديونية و في حالة تبعية لأحد العملاقين مما كرس تقسيمها ايدولوجيا (شيوعية و رأسمالية) <p>انعكاسات المواجهة العسكرية 2 على العالم أوربا :</p> <ul style="list-style-type: none"> ■ تغير خريطة العالم الجيو سياسية . ■ عقد سلسلة من المؤتمرات الدولية لتنسيق جهود الحلفاء في الحرب و لرسم خارطة العالم بعدها (الأطلسي - طهران - يالطا - بوتسدام) ■ خروج الو م أ كأكبر مستفيد منها سياسيا و اقتصاديا . ■ انتقال الزعامة الدولية من أوربا إلى الولايات المتحدة الأمريكية و الاتحاد السوفيتي ■ تأسيس هيئة الأمم المتحدة في أكتوبر 1945 بهدف حفظ الأمن و تنظيم العلاقات الدولية . ■ تراجع مكانة الدول الاستعمارية و ضعفها ■ انتشار موجة المد التحرري بين شعوب المستعمرات في إفريقيا و آسيا ■ بروز بوادر صراع الحرب الباردة . <p>طبيعة العلاقات الدولية ومظاهرها بعد المواجهة العسكرية الثانية : لقد طغى على العلاقات الدولية بعد الحرب 2 واقع التوتر و الصراع الايدولوجي في إطار ما يعرف بالحرب الباردة بين دول المعسكر الشيوعي و المعسكر الراسمالي في كل المجالات السياسية و الاقتصادية و العسكرية من خلال :</p> <ul style="list-style-type: none"> - تطبيق سياسة ملاء الفراغ تعويضا للدول الاستعمارية المنسحبة - تفجر عدة أزمات منها (أزمة برلين 1949 - كوريا 1950 - السويس 1956) - سعي كل معسكر على تقوية نفوذه من خلال تقديم الدعم و تشكيل كتلتا اقتصادية (مشروع مارشال 1947 - منظمة الكوميكون 1949) - وإنشاء الأحلاف عسكرية (الأطلسي 1949 - وارسو 1955) وإقامة القواعد العسكرية - استخدام و سائل الإعلام و الدعاية المغرضة و التجسس 	<p>انطلاقا من السندات المقترحة ومكتسباتك القبلية</p> <p>حدد عوامل المواجهة العسكرية الثانية</p> <p>ابرز الانعكاسات التي ترتبت على المواجهة العسكرية أوربيا و عالميا</p> <p>حدد طبيعة العلاقات الدولية ومظاهرها بعد المواجهة العسكرية الثانية</p>	<p>السند المرفق 1</p> <p>الخريطة ص 63 و 67 الصور ص 64 السند 1 . 2 ص 68-69</p> <p>الصورة المرفقة 1</p> <p>الخريطة المرفقة 4 - 6 صور ص 73 - 75 السندات المرفقة 2 - 3</p> <p>السندات ص 79</p> <p>السند 14 - 16 ص 80</p>

تقويم مرحلي : اعتمادا على السند رقم 4 ابزر العوامل التي أسهمت في انتصار دول الحلفاء على دول المحور في الحرب ع 2

سندات الوضعية :

- السند 1** :- بموجب معاهدة فرساي سنة 1919 خسرت ألمانيا 12.5% من مساحتها و 12% من سكانها و 74% من إنتاجها من خام الحديد كما نصت على ألا يزيد الجيش الألماني على مائة ألف جندي ودفع تعويضات كبيرة للحلفاء.
- السند 2** :- خلفت الحرب أعدادا كبيرة من القتلى تزيد من 50 مليون بسبب استعمال أسلحة متطورة، كما دمرت مدن بكاملها وقد كانت لذلك عواقب ديمغرافية لاختلال هرم الأعمار ونقص اليد العاملة ومن أبرز خسائرها إسقاط قبيلتين ذريتين على اليابان فالأولى تم إسقاطها في الساعة 8:15 على هيروشيما وبعد ذلك بدقيقة واحدة قتل 66 ألف شخص وجرح 69 ألفا بسبب التفجير أما الثانية فتم إسقاطها في وسط ناغازاكي، وفي لحظة واحدة انخفض عدد سكان المدينة من 422 ألفا إلى 383 ألفا لأن 39 ألفا قتلوا و 25 ألفا جرحوا .
- السند 3** :- دمرت الحرب البنيات الاقتصادية والاجتماعية وطرق المواصلات مما أدى على انخفاض الإنتاج الفلاحي بما يفوق الثلث والصناعي ب % 50 وارتفاع الأسعار والضرائب وإفلاس مالية مجموعة من الدول التي اضطرت للاقتراض من الخارج كما تراجع الدور الاقتصادي لأوروبا وتزايدت مكانة الولايات المتحدة الأمريكية التي أصبحت أكبر قوة اقتصادية عالمية .
- السند 4** :- بعد دخول الولايات المتحدة للحرب العالمية اتسعت ساحة هذه الحرب ثم قامت قوات التحالف بانزال جيوشها بسواحل الدار البيضاء وهران والجزائر وأمام رفض اليابان الإنذار الأمريكي قامت الولايات المتحدة بإلقاء أول قنبلة نووية على مدينة هيروشيما في 6 غشت وإلقاء قنبلة ثانية على نكازاكي في 9 غشت وفي

<p>4 احتلال ألمانيا وتقسيمها بين دول الحلفاء</p> <p>The four occupation zones of Berlin</p> <p>Hamburg Air Corridor Bueckeburg Air Corridor Frankfurt Air Corridor</p> <p>United Kingdom Soviet Union USA France</p>	<p>3 تشرشل - ترومان - ستالين</p>	<p>2 - أوروبا قبل بداية الحرب ع 2</p>	<p>1 - هتلر</p>
<p>8 - أبرز تطورات الحرب ع 2</p>	<p>7 - تفجير قنبلة ذرية و بداية صرع الحرب الباردة</p>	<p>6 - أوروبا بعد الحرب ع 2</p>	<p>توقيع المارشال فيلهلم كايتل- على استسلام ألمانيا - 5</p>
<p>1939: غزو ألمانيا لبولونيا في 1 سبتمبر</p> <p>1940: غزو ألمانيا لفرنسا في 22 يونيو</p> <p>1941: معركة ستالينغراد</p> <p>1942: إنزال قوات الحلفاء في نورماندي في يونيو 1944</p> <p>1943: استسلام اليابان في سبتمبر</p> <p>1944: استسلام ألمانيا في 8 ماي</p> <p>1945: إنشاء قنبلة ذرية (هيروشيما - ناغازاكي)</p> <p>1946: مرحلة التمسار دول المحور / مرحلة التمسار الحلفاء</p>			

الكفاءة القاعدية : أمام وضعيات إشكالية تعكس طبيعة العلاقات الأوربية الداخلية يكون المتعلم قادرا على تحديد و تحليل مظاهرها و مستخلصا انعكاساتها القارية و العالمية باستغلال السندات التاريخية .
الوحدة الثالثة : العلاقات الأوربية الداخلية وانعكاساتها القارية و العالمية 1815 - 1954م
الوضعية الرابعة : وضعية إدماجية
الكفاءة المستهدفة : القدرة على استثمار المكتسبات واستغلال السندات المقترحة ذات العلاقة بموضوع الوحدة الإشكالية :

المادة : تاريخ
القسم : 2 أ ف . لغ . ع ت
المدة : ... ساعات
المراجع والمصادر : الكتاب - أنت
إعداد الأستاذ : بوشيف عبد الحاكم
الأبيض سيد الشيخ

ص 80 ... 81 - - - - - السند 13 . 14 - - - - - الازمات
الدولية 18 . 19 **** التغييرات الدولية بعد ح ع 2 3 .. 4 . ص
83



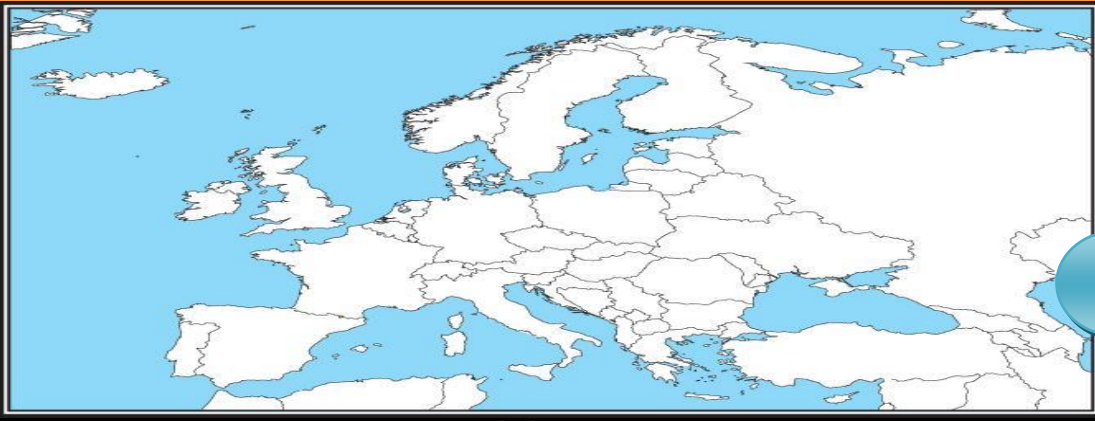
3

5

التعليمات :

- 1 - اعتمادا على السند رقم
- 2 - انطلاقا من السند رقم 3
- 3
- 3
- 4
- ٥

6



الكفاءة القاعدية : أمام وضعيات إشكالية تخص السكان و الوسط الطبيعي في الجزائر يكون المتعلم قادرا على تحليل أسباب و مظاهر التباين الإقليمي و يقترح حلولاً للمشاكل المطروحة
الوحدة الثالثة : التباين الإقليمي في الجزائر
الوضعية الأولى : معايير تحديد الإقليم
الكفاءة المستهدفة : أن يكون المتعلم قادرا على تحليل أسباب التباين الإقليمي و يقترح حلولاً للمشاكل المطروحة
الإشكالية : امتداد الجزائر الطبيعي و توزيع السكان فيها وأنشطتهم الاقتصادية أسهم في تعدد أقاليمها فيما يتح ذلك ؟

المادة : جغرافيا
المستوى : 2 أف - لغ - ع ت
المدة : ...ساعات
المراجع :
إعداد الأستاذ : بوشيش عبد الحاكم
الأبيض سيد الشيخ

المنتج الانتقائي	التعليمات	السندات
<p>■ معايير تحديد الإقليم : التقطيع الإقليمي للجزائر بشكل أفقي يفرضه تنوع وتدرج تضاريسها من الشمال إلى الجنوب و يمكن اعتماد المعايير التالية :</p> <p>1 - المعايير الطبيعية : و تتضمن العناصر التالية : السطح : التضاريس- التربة المناخ : التساقط - الحرارة - النبات</p> <p>2 - المعايير البشرية : وتشمل النظر إلى توزيع السكان - الكثافة - الجنس 3 - المعايير الاقتصادية : النشاط البشري - الرعي- الزراعة - الصناعة...</p> <p>■ الأقاليم في الجزائر وفق معايير : بالنظر إلى هذه المعايير يمكن تقسيم الجزائر طبيعيا إلى ثلاث أقاليم من الشمال إلى الجنوب هي :</p> <p>* الإقليم التلي : يتميز بالمناخ المتوسطي و الرطوبة العالية - كثافة الغطاء النباتي - الطابع الجبلي - السهول الضيقة و المتقطعة - كثافة السكان - تتركز فيه معظم الأنشطة الصناعية و الخدماتية</p> <p>* إقليم الهضاب العليا : يتميز بانه يتوسط الإقليمين التلي و الصحراوي - قلة الغطاء النباتي - قلة السكان - طغيان النشاط الزراعي الرعوي و ضعف النشاط الصناعي</p> <p>* الإقليم الصحراوي : يتميز بندرة الغطاء النباتي - الكثافة السكانية تصل إلى 1 ن\2 كم تجمعات سكانية حول الواحات - النشاط الصناعي يتمثل في الصناعات الاستخراجية</p> <p>■ اكتشاف أهمية الدراسة الإقليمية : تسهيل دراسة الجغرافية لكل دولة من خلال تقسيمها إلى أقاليم التعرف على الظروف الطبيعية و الموارد البشرية و الاقتصادية التي تتوفر عليها كل إقليم وضع الخطط التنموية التي تتناسب مع كل إقليم من حيث الإمكانيات المتوفرة و الاحتياجات المستقبلية الاستغلال الأمثل للموارد المتوفرة في كل إقليم و توفير الخدمات الأساسية لتلبية احتياجات سكان الإقليم اكتشاف التأثير المتبادل بين الإنسان و بيئته و إقليمه الجغرافي</p>	<p>انطلاقاً من مكتسباتك القبلية و اعتماداً على السندات المقترحة تعرف على معايير تحديد الإقليم</p> <p>حدد الأقاليم في الجزائر وفق معايير</p> <p>الرسومات و الخرائط ص</p> <p>يكتشف أهمية الدراسة الإقليمية</p>	<p>الخرائط 1 ص 3</p> <p>ص 46 - 47</p> <p>الخريطة 1 ص 46</p> <p>51 - 50 - 48</p>

تفوييم مرحلي : على خريطة صماء للجزائر حدد الأقاليم الكبرى للجزائر والواردة في الوضعية ؟

مصطلحات الوضعية :

الإقليم : هو مساحة ما من سطح الأرض تتميز بخصائص طبيعية أو بشرية أو اقتصادية تميزها عن المناطق المجاورة لها و هو رقعة جغرافية ذات صفات مشتركة تختلف عن المناطق المجاورة لها
التل : منطقة سهول متقاطعة بعرض مختلف (ما بين 80 إلى 190 كلم)، متكونة من أراضي خصبة تعبرها أودية. يمثل التل الجزائري 4 % من المساحة الإجمالية للبلد
الهضاب العليا : تغطي 9 % من المساحة الإجمالية للبلد وتستهلها سلسلتين جبليتين من الشرق إلى الغرب الأطلس التلي في الشمال و الأطلس الصحراوي في الجنوب و تشكل الهضاب العليا منطقة منخفضة مغلقة و شبه صحراوية، متنسبة بذلك في نشأة العديد من البحيرات المالحة تدعى الشطوط و التي تجمع المياه السطحية
الصحراء : تقع جنوب الأطلس الصحراوي فهي أكبر صحراء في العالم و تشغل 87% من مساحة الجزائر و تتكون من هضاب صخرية، طاسيلي ناجر، و سهول حصوية رق تنزغوت، و واحات . كما تشمل الصحراء على كتلتين فسيحتين من الكتبان الرملية العرق الغربي الكبير و العرق الشرقي الكبير و التي تنتهي بكتلة مرتفعات الهقار ،

الكفاءة القاعدية : أمام وضعيات إشكالية تخص السكان و الوسط الطبيعي في الجزائر يكون المتعلم قادرا على تحليل أسباب و مظاهر التباين الإقليمي و يقترح حلولاً للمشاكل المطروحة
الوحدة الثالثة : التباين الإقليمي في الجزائر
الوضعية الثانية : التباين الإقليمي في الجزائر (خاص بالآداب)
الكفاءة المستهدفة : أن يكون المتعلم قادرا على تحليل أسباب التباين الإقليمي و يقترح حلولاً للمشاكل المطروحة
الإشكالية : امتداد الجزائر الطبيعي و توزيع السكان فيها وأنشطتهم الاقتصادية أسهم في تعدد أقاليمها فيما يتج ذلك ؟

المادة : جغرافيا
المستوى : 2 أف - لغ - ع ت
المدة :ساعات
المراجع :

إعداد الأستاذ : بوشيش عبد الحاكم
الأبيض سيد الشيخ

المنتوج الانتقائي



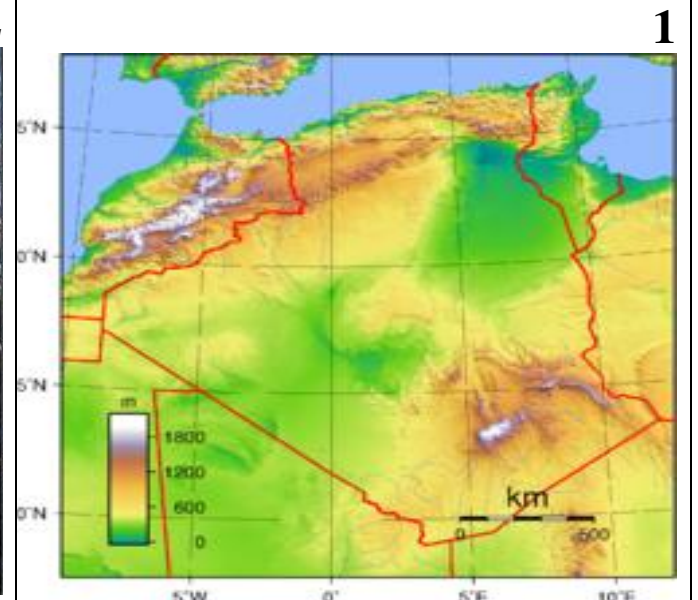

السندات	التعليمات	تحدّي خصائص كل إقليم :
خريطة ص 52 السند 2 ص 52	انطلاقاً من مكتسباتك القبلية و اعتماداً على السندات المقترحة	1 - الإقليم التلي -- الامتداد و المساحة : يمتد على طول الشريط الساحلي 1300 كلم و يتربع على مساحة تقدر 102.7 أي 4 % ويشمل 25 ولاية جزائرية -- الخصائص الطبيعية : - وجود نوعين من السهول - ساحلية ضيقة مثل سهل وهران متيجة - و داخلية متقطعة تلمسان و بلعباس - سلاسل جبلية تمتد من الغرب الشرق (جبال الونشريس ، الضهرة ، البايور ، جرجرة) - مجاري مائية قصيرة تصب في البحر - الغطاء نباتي كثيف و غزارة التساقط مع وجود المناخ المتوسطي -- الخصائص البشرية : يتمركز غالبية السكان فيه بنسبة 70 % من السكان و بكثافة تتراوح ما بين 100 إلى 300 ن \ كم ² -- الخصائص الاقتصادية : يتوفر على إمكانيات زراعية كبرى لزراعة القمح- الشعير- الأعلاف- البقول- الخضر و الفواكه إلى جانب تربية الأبقار كما يتوفر على موارد غابية خاصة أشجار الفلين في الشرق و الموارد البحرية ، ثروة معدنية و قاعدة صناعية خاصة الصناعة البتر وكيماوية و الحديدية - وجود شبكة متطورة من مختلف خطوط المواصلات
السندات والصور المرفقة	حدد خصائص كل إقليم	2 - إقليم الهضاب العليا : الامتداد و المساحة : يعرف بإقليم السهوب و يمتد بين سلسلتي الأطلس التلي و الصحراوي و هو عبارة عن منطقة انتقال بين الإقليم 1 و 3 ويشمل 14 ولاية -- الخصائص الطبيعية : وجود سلسلتي الأطلس التلي و الصحراوي الممتدتان من الجنوب الغربي إلى الشمال الشرقي - به عدة شطوط والتي تصب فيها الأودية ويزداد اتساعا كلما اتجهنا من الشرق إلى الغرب --- الخصائص البشرية : يتمركز بها نحو 20 % من السكان و بكثافة أقل تتراوح من 10 إلى 100 ن \ كم ² --- الخصائص الاقتصادية : يتخصص هذا الإقليم في تربية الأغنام 70 % من الثروة الحيوانية إلى جانب زراعة محصول الشعير في سهول سطيف و برج بوعريريج و بعض الفواكه - كذلك به ثروة معدنية تتمثل في الحديد و الفوسفات - شبكة من الطرق البرية و السكك الحديدية
الصور ص 55		3 - الإقليم الصحراوي : --- الامتداد و المساحة : هو أكبر إقليم مساحة 1.9 م كم ² أي أكثر من 82 % من مساحة الجزائر ويشمل 9 ولايات --- الخصائص الطبيعية : وجود التضاريس الصحراوية السهول التحتاتية و العروق . والهضاب الصخرية (حمادة تادمايت) الرق ووجود كتل جبلية قديمة (جبال الهقار أعلى قمة تاهات 2918 م) --- الخصائص البشرية : يتمركز به نحو 10 % من السكان بكثافة أقل من 10 ن \ كم ² --- الخصائص الاقتصادية : تتركز به مصادر الطاقة بترول و غاز طبيعي خاصة في الجنوب الشرقي - من حاسي مسعود و حاسي الرمل وكذلك الاحتياطات ناحية ادرار و المكتشفة حديثا إلى جانب معادن ثمينة - إنتاج التمور (دقلة نور) في الواحات و تربية الجمال والى جانب ثروة معدنية معتبرة ، حديد ، نحاس ، منغيز
السند 1.2 ص 56	استخلص التباين الإقليمي	استخلاص التباين الإقليمي : - يتربك التراب الجزائري من ثلاثة أقاليم كبرى شديدة التباين من ناحية - توطن السكان وتمركزهم - ارتفاع نسبة الكثافة خاصة حول المدن الكبرى ونسبة التحضر - من حيث التركز الاقتصادي حيث يضم الأول 51 % من الوحدات الصناعية و65 % من شبكة الطرق - وفرة الأنشطة الخدمية والأنشطة الزراعية

التقويم المرحلي :

السند 1 : لقد كشفت البيانات السكانية (انه يتركز 65% من السكان على 4% من مساحة البلاد 25% بالهضاب العليا على مساحة تمثل 9% بينما 10% من السكان ينتشرون على 87% من الإجمالية) عن عدم التوازن السكاني بين أقاليم البلاد خاصة الاختلال الكبير بين الشمال والجنوب علاوة على عدم التوازن بين الساحل والهضاب العليا واليوم فإن أحد أهم التحديات الكبرى يكمن في التخفيف من الفوارق بين شمال البلاد وجنوبها

---- **الدكتور فوزي بودقة جامعة هواري بومدين للعلوم و التكنولوجيا**

السند 2 : حسب جريدة الشروق سيتم الانطلاق في إنجاز مزرعة كبيرة لتربية الأبقار الحلوب في منطقة الهضاب العليا بطاقة إجمالية تصل إلى 10000 بقرة حلب، وستكون البداية بـ1000 بقرة يبلغ إنتاج البقرة الواحدة يوميا 40 لترا بشراكة أمريكية جزائرية



الكفاءة القاعدية : أمام وضعيات إشكالية تخص السكان و الوسط الطبيعي في الجزائر يكون المتعلم قادرا على تحليل أسباب و مظاهر التباين الإقليمي و يقترح حلولاً للمشاكل المطروحة
الوحدة الثالثة : التباين الإقليمي في الجزائر
الوضعية الثالثة : مشاكل و آفاق كل إقليم
الكفاءة المستهدفة : أن يكون المتعلم قادرا على تشخيص المشاكل المطروحة في كل إقليم واقترح الحلول المناسبة لها .
الإشكالية : إن واقع التنمية في الجزائر تواجهه العديد من المشاكل خاصة المتعلقة بالجوانب البيئية . فيما يتضح ذلك ؟

المادة : جغرافيا
المستوى : 2 أف - لغ - ع ت
المدة : ...ساعات
المراجع : الكتاب النت الجرائد
إعداد الأستاذ : بوشيش عبد الحاكم
الأبيض سيد الشيخ

المنتوج الانتقائي

التعليمات	السندات
<p>انطلاقا من مكتسباتك القبلية و اعتمادا على السندات المقترحة</p> <p>شخص المشاكل المطروحة في الإقليم</p> <p>الصور ص 66 و السند المرفق 1</p> <p>الصور ص 68</p>	<p>الصور ص 66 و السند المرفق 1</p> <p>الصور ص 68</p>
<p>تشخيص المشاكل المطروحة :</p> <p>- الإقليم التلي :</p> <p>1 - التلوث : نتيجة الفضلات الصناعية و المنزلية و استخدام الأسمدة الزراعية</p> <p>2 - الانجراف : خاصة بسبب الأمطار الغزيرة والانحدار الشديد و العامل البشري مما أدى إلى تدهور الغطاء النباتي وفقدان الأرض لخصوبتها</p> <p>3 - مشكل نقص المياه الصالحة للشرب : نظرا للاستغلال المفرط و تبديد 40% من المياه في شبكة التصريف لغياب الصيانة التبذير المفرط و مما زاد من حدة المشكل توالي سنوات الجفاف و قلة السدود</p> <p>- إقليم الهضاب العليا :</p> <p>4 - التصحر : إذ تحولت آلاف الهكتارات من المساحات الزراعية و الرعوية إلى أراض جرداء بعد أن اختفى غطائها النباتي و تشكلت فيها الظواهر الصحراوية كالكتبان الرملية بسبب قطع الأشجار والضغط السكاني والأساليب الزراعية الرديئة و الرعي المفرط كما زادت نسبة ملوحة التربة</p> <p>- الإقليم الصحراوي</p> <p>5 - تصاعد المياه : خاصة بولاية الوادي و ورقلة أين تشكلت البرك المائية واختلطت مياه الصرف الصحي مع المياه الصالحة للشرب بسبب تصاعد المياه الجوفية</p>	<p>السند المرفق 2 - 3</p> <p>السند المرفق 4</p> <p>السند المرفق 5</p>
<p>■ الآفاق المستقبلية للإقليم : ضرورة إعداد خطط تنموية إستراتيجية لتحضير الجزائر لمواجهة التحديات القائمة وذلك من خلال إحداث توازن و انسجام بين الأقاليم وتطويرها واستغلال الموارد المتوفرة و المحافظة على البيئة من خلال :</p> <p>1- العمل على تطوير كل أقاليم الجزائر بضمان توزيع عادل للمشاريع و الاستثمارات</p> <p>2 - حسن استغلال الموارد الطبيعية التي يتوفر عليها كل إقليم دون الإضرار بالبيئة ولا بحقوق الأجيال القادمة</p> <p>3 - تشجيع الاقتصاد في استهلاك واستغلال مصادر المياه و الطاقة</p> <p>4 - منح المناطق الداخلية الأولية في التنمية لتشجيع عملية النزوح العكسي للسكان</p> <p>5 - تقديم دعم أكبر للزراعة الصحراوية و حسن استغلال الثروة المائية المتوفرة</p> <p>6 - تخطيط بناء مدن جديدة وفق المعايير الدولية لحماية البيئة</p>	<p>السند المرفق 5</p>
<p>■ اقتراح الحلول المناسبة :</p> <p>1 - إعادة تأهيل الشبكات التمويل بالماء الصالح للشرب وشبكات التطهير، و إعادة تأهيل 24 محطة للتصفية</p> <p>2 - اختيار أنواع من الوقود تكون خالية هي ومخلفاتها من الملوثات والتحول إلى مصادر جديدة للطاقة كالكهرباء أو الطاقة الشمسية</p> <p>3 - تجديد و إقامة تجهيزات مضادة للتلوث في المناطق الصناعية</p> <p>4 - ضبط وتطوير عملية جمع وإخلاء النفايات الحضرية و إفراغها في ظروف تحمي البيئة</p> <p>5 - التربية و التحسيس البيئي بنشر وعي وثقافة بيئية عن طريق البرامج التعليمية و الإذاعية و التلفزيونية</p> <p>6 - الاهتمام بالتشجير لتفادي ظاهرة الانجراف و التصحر إنشاء السدود وتوسيعها .</p> <p>7 - حماية الغابات و ترشيد الزراعة المطرية و الرعي</p> <p>8 - تسريع عملية صيانة قنوات المياه العذبة و قنوات الصرف الصحي ومحاربة التبذير</p>	<p>اقترح الحلول المناسبة</p> <p>السند المرفق 6</p>

تقويم مرحلي : قم بإعداد ورقة تشخص فيها المشاكل البيئية التي تعاني منها مدينتك و اقترح حلولاً عملية يمكنك أنت أن تساهم في إنجازها

السند 1 : حسب جريدة أخبار اليوم 03 - 11 - 2008 أكد الأمين العام لوزارة الموارد المائية على ضرورة فرض على الصناعيين التكفل بالنفايات المفترزة جراء نشاطاتهم الصناعية وعدم تفرغها في الوديان والمياه الصالحة للشرب ومحطات التطهير، ملحا على وجوب إدراج الجانب البيئي في كل الوحدات الصناعية

السند 2 : حسب تقرير حول حالة ومستقبل البيئة في الجزائر، 2000 إن التصحر أصبح قضية استعجالية نظرا لتهديدها 69 % من المجال السهبي الواسع وهو المنطقة الرعوية وهذا يرجع لأسباب عديدة منها الجفاف و الأنشطة البشرية .

السند 3 : تعرف المناطق الجنوبية زحفا مستمرا للرمال الصحراوية، بحيث بدأ الغطاء النباتي في الإنحلال بسبب قلة الأمطار وجفاف و يذكر أن المساحة الغابية الإجمالية بولاية تبسة تبلغ 280 ألف هكتار 40 بالمائة منها عبارة عن مساحات شاسعة للحلفاء و حسب مصادر مقربة من محافظة الغابات بتبسة فإنه سيشعر في تشجير بعض المناطق الجنوبية بالأشجار المثمرة على مساحة بـ 3200 هكتار

السند 4 : حسب جريدة النهار : 2008.07.06 وضع رئيس الجمهورية السيد عبد العزيز بوتفليقة حجر الأساس لانطلاق أكبر مشروع تطهير لمياه الصرف والمياه الجوفية على المستوى الوطني والإفريقي بولاية ورقلة وجاء هذا المشروع للحد من ظاهرة تصاعد المياه الجوفية بحوض ورقلة التي عرفت مشاكل حمة في صرف المياه القذرة ويقوم على إنجاز هذا المشروع الذي يطلق عليه مشروع القرن مجموعة من الشركات الوطنية والأجنبية

السند 5 : وبخصوص المخطط الوطني لهيئة الإقليم في آفاق 2025، أوضح الوزير إن المخطط يتضمن 20 برنامج عمل إقليمي و20 مخططا وزاريا مشتركا يندرج ضمن خطة شاملة للتنمية المستدامة والتي تعنى بعدة مجالات كالزراعة، والصناعة والسياحة وغيرها، مؤكدا أن أهم تحد يواجهه الجزائر هو تقليص مخلفات الإهمال البيئي للسنوات الماضية وإن إنشاء ما يسمى بـ "المدينة الخضراء"، أو بـ "مدينة الانبعاثات المنعدمة"، ينبغي أن تكون هاجس السلطات والمواطنين لدى إنشاء المدن الجديدة وهو ما يستوجب تطوير شبكات اقتصادية ذات بعد إنساني وتطوير الطاقات المتجددة .

السند 6 : في المدة الأخيرة خصصت مصانع الإسمنت استثمارات جديدة لتجديد أو لإقامة تجهيزات مضادة للتلوث للتقليل من تلوث الغازات المحروقة علما إن الجزائر تنفذ برنامجا لحماية الجو وطبقة الأوزون **مصطلحات الوضعية :**

التصحّر: ظاهرة طبيعية تعني زحف خصائص البيئة الصحراوية على الأراضي الزراعية مما يؤدي إلى تدهور التربة والغطاء النباتي فتصبح جرداء قاحلة **الانجراف :** انتقال طبقة التربة من المنحدرات إلى المناطق المنخفضة أو إلى البحر مباشرة بسبب المياه و الرياح و قلة الغطاء النباتي مما يجعل الأراضي معرأة وفقيرة جدا




تصاعد المياه: تصاعد المياه الجوفية وغمورها لمناطق واسعة من سطح الأرض

البيئة : هو إجمالي الأشياء التي تحيط بنا وتؤثر علي وجود الكائنات الحية علي سطح الأرض متضمنة الماء والهواء والتربة والمعادن والمناخ والكائنات والتي تؤثر وتحدد بقائنا في الأرض و نتعامل معها بشكل دوري

التلوث : هو إحداث تغير في البيئة التي تحيط بالكائنات الحية بفعل الإنسان وأنشطته مما يؤدي إلى اختلالها و الإضرار بالإنسان و الحيوان والنبات وهو **أنواع** - 1 تلوث الهواء 2تلوث الماء - 3 تلوث التربة .

التشجير : غراسية الأشجار و منه السد الأخضر وهو مشروع طموح بدأته الجزائر خلال السبعينات بغرس حزام من الأشجار لمنع زحف الصحراء نحو الإقليم التلي

تعريف السد الأخضر : أو الحزام الأخضر هو غرس جدار من الأشجار من الحدود التونسية شرقا إلى الحدود المغربية غربا اتجاه جبال الأطلس الصحراوي ظهر مشروعه سنة 1973، لوضع حد فاصل لزحف رمال الصحراء طوله الكلي 1500 كلم، ومعدل عرضه 20 كلم وتمتد مساحته الكلية على 3مليون هكتار عدد الأشجار فيه 7 مليار شجرة. قام بإنجازه شباب الخدمة الوطنية و**يهدف إلى** - وقف زحف رمال الصحراء نحو الساحل - الحد من انجراف التربة - خلق طبقة صالحة من التربة لما - إغناء الجزائر بالأخشاب

تقطع الغابات	نقص مياه الشرب و الجفاف	التلوث الصناعي
		
التشجير	التصحّر	التصحّر و الجفاف
