

وضعية

في الاقتصاد والمانجمنت

من إعداد:

ديدي سامية

كباش محمد

20 وضعية حول

النشاط الاقتصادي

الانتاج وعوامل الإنتاج

تخصيص الدخل



السنة

2

ثانوي

مقدمة


يحتوي هذا العمل البسيط على مجموعة وضعيات تقويمية في مادة الاقتصاد و المانجمنت خاصة بالنشاط الاقتصادي ، الإنتاج و عوامل الإنتاج، تخصيص الدخل الوطني مرفقة بالحل التفصيلي لها.

نرجو أن يكون هذا العمل البسيط عند مستوى التطلعات، فإن أصبنا فمن الله و إن أخطئنا فمن أنفسنا

كبـاش محمد

ديدي سامية

الوضيحات



الوضعية (1):

تنتج مؤسسة "الشفاء" وتبيع المضادات الحيوية، ونظرا للمنافسة الشديدة التي تفرض عليها من الشركات الأجنبية المنتجة للأدوية، سعت في نشاطها من البداية إلى استعمال أحدث وسائل الإنتاج وتطبيق أفضل التقنيات وفق المعايير المتعارف عليها دوليا، مع استحداث أحسن طرق التسيير الملائمة للتحكم في التكاليف، وذلك بالاعتماد على المادة الأولية واليد العاملة المحلية لكي تنتج منتجات بأحسن جودة وأقل تكلفة ممكنة.

حيث بلغ حجم الإنتاج السنوي للمؤسسة : 50000 علبة دواء، وذلك باستخدام ما قيمته 20000000 دج كاستهلاكات وسيطية من مختلف المواد الأولية واللوازم وخدمات التأمين والنقل والدعاية والإشهار. باعت كل مخزونها من الأدوية في السوق بسعر بيع 450 دج للعلبة الواحدة ، من أجل توسيع نشاطها حصلت على قرض من بنك التنمية المحلية بقيمة 50000000 دج. تدفع لقاء ذلك ضرائب ورسوم للدولة وأجور ومرتبات عمالها .

العمل المطلوب :

- 1- بعد تعريفك للعبء الاقتصادي ، صنف مؤسسة "الشفاء" ضمن فئات الأعوان الاقتصاديين مع التعليل .
- 2- انطلاقا من الوضعية:

أ- لخص النشاط الاقتصادي لهذه المؤسسة

ب- أنجز شكلا مبسطا للدورة الاقتصادية بين الأعوان الاقتصاديين

ج- حدد شكل الإنتاج الذي تقوم به المؤسسة مع التبرير

3- أحسب كلا من : قيمة الإنتاج وقيمة المضافة التي حققتها المؤسسة مع التعليق عليها

الوضعية (2):

" جريدة الخبر يومية وطنية مستقلة شعارها الصدق والمصداقية تصدر عن شركة ذات أسهم الخبر برأس مال 276.600.608.00 دج.

توظف مؤسسة الخبر 215 شخصا منهم 72 صحفيا دائما و 04 مصورين ورسام كاريكاتور وتملك 48 مكتبا عبر التراب الوطني و 07 مكاتب في بلدان عربية وأجنبية، وحوالي مائة مراسل متعاون عبر الوطن.

تعتبر الخبر أكبر جريدة من حيث السحب والانتشار وكذا الأكثر تأثيرا في الجزائر ، يضم المبنى الرئيسي لها عدة أقسام مزودة بأحدث وسائل التكنولوجيا مثل أجهزة الإعلام الآلي وماكينات الطباعة ، وتحتوي مخازنها على كميات وفيرة من المواد الأولية مثل أوراق الطباعة والحبر وغيرها من مستلزمات العمل الصحفي .

العمل المطلوب:

- 1- إلى أي عن اقتصادي تصنف شركة الخبر؟
- 2- ماهي عوامل الانتاج المادية والبشرية المستخدمة في هذه الشركة؟
- 3- ما المقصود برأس المال؟

4- حدد رؤوس الأموال الموجودة في نص الوضعية؟

الوضعية(3):

تأسست مؤسسة "السلام" بتاريخ 2019/01/02 ومن أجل ذلك تم احضار رأس مال قيمته 1000000 دج ومباني وآلات ومعدات وأجهزة كمبيوتر ووسائل نقل، تستعمل الخشب ومستلزمات أخرى لإنتاج الكراسي والطاولات. علما ان حقوق الملكية لهذه المؤسسة تدر عليها 22000 دج شهريا.

السيد أمين عامل في هذه المؤسسة يتقاضى مبلغ 45000 دج شهريا يستعمله فيما يلي :
تسديد فاتورة الانترنت : 3000 دج و 20000 دج في المواد الغذائية 5000 دج في حاجات أخرى أما الباقي يضعه في صندوق التوفير والاحتياط

العمل المطلوب :

- 1- حدد الأعوان الاقتصاديين المذكورين في الوضعية. ثم مثل في مخطط دورة اقتصادية العلاقات الناشئة بينهم.
- 2- كيف يسمى المبلغ الذي يتحصل عليه أمين من المؤسسة ؟
- 3- كيف تسمى عملية استعمال هذا المبلغ من طرف أمين ؟ عرفها ؟ اذكر العوامل الذاتية المؤثرة فيها ؟
- 4- احسب ما تم وضعه في صندوق التوفير والاحتياط ؟ كيف تسمى العملية ؟ عرفها ؟ اذكر أنواعها ؟
- 5- اكتب العلاقة بين العناصر الثلاثة ؟ ثم اثبتها حسابيا ؟
- 6- حدد أنواع راس المال الموجودة في الفقرة السابقة ؟

الوضعية (4):

شركة "المذاق" مختصة في صناعة البسكويت راس مالها 2000000 دج، تستعمل لذلك مواد أولية، ويعمل لديها حوالي 55 عامل يمارسون أنشطة من خلال عملية تنظيم مدروسة. تمر عملية الانتاج عبر مراحل مختلفة: الخلط، الطهي، التعبئة والتغليف، ويستخدم في عملية الانتاج آلات مختلفة، وتماشيا مع التقدم التكنولوجي قررت الشركة تحديث آلة الطهي لديها فاقترضت مبلغ من البنك الوطني الجزائري لتمويل هذه العملية، ووافق هذا الأخير على طلبها مقابل فوائد سنوية، كما اشترت الشركة أسهم لدى مؤسسة المذاق الحلو لصناعة الحلويات.

العمل المطلوب :

بناء على السند ومن خلال ما درست اجب على الاسئلة التالية:

1. ما مضمون النشاط الاقتصادي لشركة "المذاق" ؟ عرفه.
2. الى أي عون اقتصادي ينتمي البنك الوطني الجزائري ؟ (مع التعريف)
3. بين اشكال رأس المال المستخدم من طرف شركة "المذاق" مع اعطاء امثلة من خلال السند اعلاه.
4. حدد نوع تقسيم العمل في العبارة التالية: (تمر عملية الانتاج عبر مراحل مختلفة: الخلط، الطهي، التعبئة والتغليف). مع الشرح
5. ارسم مخطط للعلاقة التي قامت بها الشركة مع البنك موضحا مختلف التدفقات.

الوضعية (5)

أولاً:

يلعب الدخل الوطني دوراً أساسياً في زيادة النمو الاقتصادي للبلد، يخصص جزء من الدخل لعملية الاستهلاك والتي تعني استعمال السلع والخدمات من طرف الأعوان الاقتصاديين، والجزء المتبقي يوجه للادخار والذي بدوره يجمع ليتم استثماره في مشاريع إنتاجية. هناك عوامل عديدة تتحكم في الاستهلاك إما بالزيادة أو النقصان وهي نفسها العوامل المؤثرة في الادخار لكن بصورة عكسية باعتبار أن العلاقة بين الاستهلاك والادخار هي علاقة عكسية.

العمل المطلوب:

انطلاقاً من الوضعية وبناءً على ما درست، أجب عن الأسئلة التالية:

1- بين أنواع الادخار.

2- ماهي العوامل الموضوعية المؤثرة في الاستهلاك؟

ثانياً: الجدول التالي يبين معطيات خاصة بأحد الأفراد:

البيان	الشهر 1	الشهر 2	الشهر 3
الدخل R	25000	24000
الاستهلاك C	18900
الادخار D	8400
الميل المتوسط للاستهلاك	70%	60%

1- أكمل الجدول اعلاه.

2- استنتج الميل المتوسط للادخار في كل سنة.

3- احسب الميل الحدي للادخار و الميل الحدي للاستهلاك بين الشهر 1 و الشهر 2 ، ثم بين الشهر 2 و الشهر 3.

الوضعية (6):

شركة " الأفرشة الفاخرة " متخصصة في صناعة الزرابي، تستعمل لذلك مواد أولية، ويعمل لديها حوالي 120 عاملاً يمارسون أنشطة من خلال عملية تنظيم مدروسة. تمر عملية الانتاج عبر مراحل مختلفة: الغزل، النسيج، الانتهاء، ويستخدم في عملية الانتاج آلات مختلفة، (آلات الغزل، الخياطة، النسيج) ومن أجل توسيع نشاطها قررت الشركة إنشاء ورشات جديدة، ولتمويل هذه العملية اقترضت مبلغاً من بنك التنمية المحلية مقابل فائدة سنوية.

* خلال السنة الحالية قدر الانتاج المباع لتجار التجزئة ب 30000000 دج ، وكانت المواد الاولية واللوازم المستعملة بقيمة 18500000 دج. اضافة إلى مبلغ 3500000 دج أعباء انتاج مختلفة.

العمل المطلوب:

1- إلى أي عون اقتصادي ينتمي بنك التنمية المحلية؟ حدد أهم نشاطاته.

2- حدد عوامل الانتاج المستخدمة من طرف شركة " الأفرشة الفاخرة " مدعماً اجابتك من خلال الوضعية اعلاه.

3- بين اشكال راس المال المستخدم من طرف شركة " الأفرشة الفاخرة " مدعما اجابتك من خلال الوضعية

اعلاه.

4- حدد نوع تقسيم العمل في العبارة التالية :تمر عملية الانتاج عبر مراحل مختلفة : الغزل، النسيج، الانهاء،

. وماهي اهميته؟

5- أحسب القيمة المضافة التي حققتها شركة " الأفرشة الفاخرة. "

الوضعية (7):

شركة الهناء متخصصة في صناعة عصير الفواكه الطبيعي، توظف 100 عاملا و تستخدم آلات انتاجية ومواد

اولية مختلفة في العملية الانتاجية ، تمر عملية الانتاج بثلاث مراحل أساسية : غسل الفواكه ، العصر ، و

التعبئة في قارورات ذات احجام مختلفة . و من أجل تحديث آلات التعبئة اقترضت من البنك مبلغا لتمويل العملية

العمل المطلوب:

بناء على السند و على ضوء ما درست أجب على مايلي:

1- اذكر فئة الاعوان الاقتصاديين التي تنتمي اليها الشركة. عرف نشاطها الاساسي

2- ماهو شكل رأس المال المستخدم من طرف الشركة ؟ مع الشرح

3- بين نوع تقسيم العمل لهذه الشركة مع التبرير.

4- ارسم مخطط تبين فيه العلاقة بين الشركة و البنك مبينا مختلف التدفقات. ما اسم المخطط ؟

الوضعية (8):

شركة " جرجرة " مختصة في صناعة منتج البسكويت بأنواع مختلفة تستعمل لذلك المواد الأولية التالية:

الدقيق ، السكر ، مواد دهنية نباتية ، مسحوق الكاكاو ، الحليب ، الخميرة ، ملح ، نسبة من الماء

يعمل داخل الشركة 70 عاملا يمارسون أنشطة مختلفة من خلال عملية تنظيم مدروسة. تستعمل الشركة

آلات عصرية في نشاطها.

نظرا لزيادة الطلب على منتجاتها قررت الشركة شراء فرن ذو تكنولوجيا متطورة، فطلبت من بنكها (

البنك الوطني الجزائري) قرض لتمويل هذه العملية. وافق البنك على طلبها، مقابل نسبة فائدة معينة.

قامت الشركة بتأجير شاحنة لمؤسسة " الصفاء " لمدة 3 أشهر بمبلغ 90000 دج.

خلال السنة المالية قيمة الإنتاج المباع من طرف الشركة للزبون " حسان " : 3000000 دج الذي سدد ما عليه

بشيكات بنكية. قيمة المواد الأولية واللوازم المستعملة في إنتاج المنتج المباع 1850000 دج.

العمل المطلوب:

بالاعتماد على وضعية شركة " جرجرة " ، وعلى ما درست أجب عما يلي:

1- عرف العون الاقتصادي.

2- إلى أي فئة من الأعوان الاقتصاديين تنتمي شركة جرجرة.

3- بعد تعريفك للنشاط الاقتصادي عرف مضمون النشاط الاقتصادي لشركة جرجرة.

- 4- حدد أشكال رأس المال المستخدمة في الشركة.
- 5- ماهو شكل الانتاج في مؤسسة جرجرة؟ برر اجابتك.
- 6- مثل التدفقات الناشئة بين مؤسسة جرجرة و متعاملها من خلال الوضعية في مخطط.
- 7- احسب القيمة المضافة التي حققتها مؤسسة جرجرة.

الوضعية (9):

تنتج شركة "النور" الملابس الشتوية باستعمال القطن و لوازم أخرى المستوردة من دولة الصين الشعبية -اشترت 2000 طن من القطن بسعر 3000 دج للطن ، أنتجت 1400 لباس بسعر 4700 دج للوحدة بحيث استهلكت 1500 طن من القطن و 900000 دج من اللوازم المختلفة و 300000 دج من الخدمات الأخرى. -قامت شركة النجاح بشراء 1050 لباس من شركة النور باعتها لتاجر الجملة بسعر 5900 دج للوحدة ، و استخدمت في ذلك ما قيمته 1065000 دج كاستهلاكات أخرى.

العمل المطلوب :

على ضوء السند أجب على ما يلي:

- 1- عرف القيمة المضافة
- 2- احسب القيمة المضافة المحققة لدى كل طرف.
- 3- ماهي الاعوان الاقتصادية المشار اليها في السند ؟ عرفها مبينا نشاطها
- 4- كيف تسمى العلاقات الاقتصادية التي تكون بين الاعوان الاقتصاديين ؟ عرفها ثم اعط مثال عن هذه العلاقة بين عونين اقتصاديين.

الوضعية (10):

تنتج و تبيع مؤسسة الأوراس " عصير الفواكه في الاسواق المحلية باستعمال الفواكه و الماء و الملون الصناعي و علب...الخ ، تتم عملية الانتاج في عدة ورشات (ورشة الغسل ، ورشة التحويل ،).... من خلال آلات و عمال متخصصون في كل ورشة ، و من اجل زيادة أرباحها قامت بشراء أسهم من شركة الملونات الغذائية. الجدول التالي يبين معلومات حول نشاط المؤسسة خلال شهر ماي 2021:

عدد العمال	1600 عامل
آلات الانتاج	200 آلة
حجم الانتاج	50000 زجاجة عصير سعة 2ل
الانتاج المباع	40000 زجاجة بـ: 120 دج/زجاجة
استهلاكات وسيطية	3800000 دج

العمل المطلوب : على ضوء السند أجب على ما يلي:

- 1- ماهي اشكال رأس المال المشار اليها ؟ عرفها.
- 2- احسب الانتاجية النوعية لكل عامل من عوامل الانتاج المستخدمة في مؤسسة الأوراس.

3- احسب انتاجية تنسيق عوامل الانتاج إذا علمت أن تكلفة عنصر العمل هي 8 وحدة نقدية ولعنصر رأس المال هي 10 وحدة نقدية.

4- احسب القيمة المضافة المحققة من مؤسسة الأوراس.

الوضعية (11):

قامت مؤسسة "اطلس لصناعة الأجرور" خلال شهر ماي 2019 بالعمليات التالية:

انتجت 5000 حزمة أجرور كل حزمة تحتوي 116 وحدة من الأجرور. بحيث استعملت لإنتاج وحدة واحدة من الأجرور:

10 دج من الطين المجفف، ما قيمته 5 دج من اللوازم الأخرى.

باعت كل انتاجها من الأجرور لمؤسسة مواد البناء بسعر 20 دج للوحدة الواحدة.

باعت مؤسسة مواد البناء 2000 حزمة للمقاولين بسعر 25 دج للوحدة الواحدة وتحملت مصاريف نقل و شحن بقيمة

360000 دج.

العمل المطلوب:

بناء على الوضعية وعلى ما درست أجب عن مايلي:

1- بعد تعريفك للإنتاج . حدد شكل الانتاج لمؤسسة "اطلس".

2- احسب قيمة الانتاج وقيمة الاستخدامات الوسيطة ثم حدد القيمة المضافة لمؤسسة أطلس لصناعة الأجرور.

3- احسب القيمة المضافة المحققة من مؤسسة مواد البناء.

الوضعية (12):

مؤسسة " كوندور " المتخصصة في صناعة الهواتف الذكية، قامت بإنتاج خلال شهر سبتمبر 550 هاتف، وقد

استخدمت في ذلك ما قيمته 11000000 دج كمواد أولية كما استخدمت ما قيمته 2000000 دج

كاستهلاكات أخرى، وقامت ببيع كل منتوجها لأحد وكلائها المعتمدين ب 32000 دج للهاتف الواحد، حيث

قام هذا الأخير ببيع نصف الكمية المشتراة للمستهلكين بسعر بيع 34000 دج للهاتف الواحد.

العمل المطلوب:

1- عرف الانتاج ثم بين أهميته بالنسبة للفرد والمؤسسة.

2- احسب القيمة المضافة المحققة من طرف مؤسسة "كوندور" والوكيل المعتمد.

الوضعية (13):

بغية زيادة الإنتاج في مادة القمح، قامت الدولة بمنح قطعتين زراعتين في منطقتين مختلفتين لمؤسسة

"الفردوس" الفلاحية، مساحة القطعة الأولى 75 هكتار، والثانية 90 هكتار، قامت المؤسسة

بتوظيف عمال وكلفت كل واحد بأداء جزء معين من العملية الانتاجية. وفي نهاية الموسم أنتجت القطعة الأولى

3000 قنطار بينما الثانية أنتجت 3150 قنطار.

العمل المطلوب:

انطلاقا من الوضعية وعلى ضوء ما درست أجب عما يلي:

- 1- إلى أي فئة أعوان اقتصاديين ينتمي العمال ومؤسسة الفردوس؟ عرف كلا منهم.
- 2- بين في مخطط مختلف التدفقات التي تحدث بين العمال ومؤسسة الفردوس.
- 3- ما نوع تقسيم العمل المذكور في الوضعية مع التبرير؟
- 4- احسب انتاجية كل قطعة مع التعليق على النتائج.

الوضعية (14):

يعمل أحمد البالغ من العمر 40 سنة أستاذا محاضرا بجامعة المدينة مقابل راتب شهري يقدر ب 87000 دج وبمناسبة حلول فصل الشتاء اقتنى مدفأة غاز طبيعي من انتاج شركة كوندور بقيمة 15000 دج، مرعلى المتجر واشترى لائحة مشتريات للمنزل بقيمة 18000 دج. أثناء ذهابه الى المنزل اعجبته بدلة رياضية كانت معروضة في المحلات لكن سعرها كان مرتفعا بالنسبة له ولا يمكنه اقتناءها.

وضع احمد مبلغ 30000 دج لدى البنك الوطني الجزائري من اجل شراء سيارة في المستقبل

العمل المطلوب:

- انطلاقا من الوضعية أعلاه واعتمادا على ما درست اجب عما يلي:
- 1- الى أي فئة اقتصادية ينتمي الأشخاص المذكورين في الوضعية
 - 2- من اين تتحصل شركة كوندور على مواردها وفيما تستخدمها
 - 3- مثل الوضعية في مخطط تدفقات اقتصادية مبينا نوع كل تدفق.
 - 4- ماذا يمثل مبلغ 87000 دج؟
 - 5- عن ماذا يعبر المبلغ الذي تم وضعه لدى البنك الوطني الجزائري؟ عرفه.
 - 6- اشرح المشكلة الاقتصادية التي تحتها سطر في الوضعية.

الوضعية (15):

أولا:

مؤسسة " السلام " متخصصة في صقل الحجارة الموجهة للبناء. و خلال سنة 2019 كان نشاطها كالتالي:

إنتاج 50000 قطعة حجرية موجهة للبناء

باعت بسعر 45 دج للقطعة الواحدة للزبائن التاليين:

المقاول (أ): اشترى 30000 قطعة

المقاول (ب): اشترى الباقي.

تحملت المؤسسة مصاريف مختلفة من وراء الصقل بقيمة 1500000 دج.

شركة المقاول (أ) استعملت 25000 قطعة من الحجارة في البناء و فوترت عملية البناء لأحد الخواص ب 70 دج

للقطعة كما كلفتها عملية البناء مصاريف مختلفة ب 225000 دج.

شركة المقاول (ب): أعادت بيع القطع المشتراة إلى أحد الأشخاص بسعر 60 دج للقطعة و تحملت مصاريف خدمات

مختلفة ب: 75000 دج.

العمل المطلوب:

- 1- إلى أي عون اقتصادي تنتمي مؤسسة "السلام". عرفه.
- 2- عرف الانتاج ثم حدد أشكاله.
- 3- احسب القيمة المضافة لكل من مؤسسة "السلام" المقاول (ا) و المقاول (ب).

ثانيا:

الجدول التالي يبين الأشهر والميل المتوسط للاستهلاك لكل شهر.

الأشهر	1	2	3	4
الاستهلاك	23560	25200	31200	36000
الميل المتوسط للاستهلاك	0.62	؟؟؟؟؟؟	0.65	0.72

العمل المطلوب:

- 1- ماهي العوامل الذاتية المؤثرة في الاستهلاك ؟
- 2- احسب قيمة الدخل لكل شهر إذا علمت أن الميل الحدي للاستهلاك للشهر الأول والثاني يساوي 0.41.
- 3- استنتج قيمة الادخار لكل شهر.
- 5- احسب الميل الحدي للاستهلاك للشهر الثاني والثالث ثم فسر النتائج المحصل عليها.

الوضعية (16):

إليك المعطيات التالية

مؤسسة القدس	مؤسسة الوئام	المؤسسات المعلومات
250.800	237.000	كمية الإنتاج
547 آلة	200 آلة	رأس المال
200 هكتار	347 هكتار	العامل الطبيعي
600 عامل	500 عامل	اليد العاملة

العمل المطلوب:

- 1- تقييم عوامل الإنتاج بواسطة معيار معين
ما هو هذا المعيار؟ حدد مفهومه؟
- 2- إذا علمت أن مؤسسة الوئام لم تستخدم 97 هكتار من عاملها الطبيعي وأن مؤسسة القدس لم تستخدم 347 آلة من رأس مال
- أحسب إنتاجية كل عامل من عوامل الإنتاج في المؤسستين؟
- 3- إذا علمت أن سعر الوحدة من عنصر العمل 02 دج/للوحدة، و سعر الوحدة من عنصر رأس المال 2.5 دج/للوحدة، و سعر الوحدة من عنصر العامل الطبيعي 2 دج/للوحدة .
ا - أحسب الإنتاجية الكلية في مؤسسة الوئام وفي مؤسسة القدس؟

ب - فاضل بين الإنتاجية الكلية للمؤسستين مع التبرير؟

الوضعية (17):

السند رقم (01) :

تنتج مؤسستين نفس المنتج و تبيعه بنفس السعر. يبين الجدول التالي معلومات حول انتاج المؤسستين.

البيان	الكمية المنتجة	الاستهلاكات CI	ق المضافة	ملاحظة
PME (A)	1000 وحدة	120000 DA	80000 DA	PU للتحديد
PME (B)	؟؟	130000 DA	؟؟	PU للتحديد

PME : المؤسسات الصغيرة والمتوسطة

PU : سعر بيع الوحدة

الكمية المنتجة للمؤسسة A تزيد عن الكمية المنتجة للمؤسسة B ب : 100 وحدة

انطلاقا من السند رقم (01) وعلى ضوء ما درست أجب عن الأسئلة التالية.

- 1- أحسب الكمية المنتجة للمؤسسة B .
- 2- أحسب قيمة الإنتاج للمؤسستين .
- 3- أحسب القيمة المضافة VA للمؤسسة B.
- 4- قارن بين المؤسستين . وأيها أفضل .

الوضعية (18):

مؤسسة الأثاث العصري مؤسسة متخصصة في إنتاج الطاولات. انطلاقا من مادة أولية (الخشب) و لوازم مختلفة (مسامير، غراء.....الخ). رأس مال المؤسسة 5000000 DA . تضم المؤسسة 30 عاملا و 5 آلات إنتاجية . تمر المرحلة الإنتاجية بثلاثة مراحل : مرحلة التقطيع، مرحلة التركيب، مرحلة الإنهاء. خلال شهر نوفمبر 2021 توفرت لدينا المعلومات التالية:

قامت بشراء 6000 m² من الخشب بسعر 300 DA للمتر المربع. و لوازم مختلفة بقيمة 300000 DA . و تحملت مصاريف مختلفة بقيمة 50000 DA .

قامت بإنتاج 500 طاولة باستعمال كل الخشب و اللوازم. حيث بلغ سعر بيع الطاولة 4500 DA . علما أن المؤسسة باعت كل الطاولات لتاجر الجملة كمال .

باع التاجر كمال 200 طاولة لتجار التجزئة . و تحمل مصاريف نقل بقيمة 30000 DA . فحقق قيمة مضافة بقيمة 70000 DA .

العمل المطلوب:

انطلاقا من الوضعية و بناء على ما درست :

- 1- بين أنواع مختلف رأس المال المستعمل من طرف مؤسسة الأثاث العصري
- 2- ما نوع تقسيم العمل الذي تتبعه مؤسسة الأثاث العصري؟ علل.
- 3- احسب الانتاجية النوعية لكل عامل من عوامل الانتاج.

4. علما أن تكلفة الوحدة عنصر العمل هي: (5 و.ن) و من عنصر رأس المال (8 و.ن). احسب انتاجية تنسيق عوامل

الانتاج

5. احسب القيمة المضافة المحققة من طرف مؤسسة الأثاث العصري ثم حدد سعر بيع الطاولة للتاجر "كمال".

الوضعية (19):

مؤسسة "الأجهزة العصرية" متخصصة في إنتاج وبيع الأجهزة الكهرومنزلية. وفي مايلي بعض المعلومات الخاصة بنشاط هذه المؤسسة.

1. قامت باستيراد مواد أولية من مؤسسة "paris électro" الموجودة بفرنسا.

2. تقوم المؤسسة بدفع الضرائب نهاية كل سنة إلى مصلحة الضرائب. و تقوم هذه الأخيرة بتقديم تسهيلات ضريبية لمؤسسة الأجهزة العصرية.

3. بهدف توسيع نشاطها حصلت على قرض بنكي بقيمة 500000 دج. من بنك التنمية المحلية مع التعهد بتسديد القرض خلال 05 سنوات بمعدل فائدة 3%.

4. السيد "أحمد" موظف في شركة الأجهزة العصرية كمحاسب. وفي نهاية كل شهر يتحصل على راتب شهري بقيمة 50000 دج.

5. السيد "سعيد" قام باقتناء ما يحتاجه من أجهزة من مؤسسة "الأجهزة العصرية" بقيمة 20000 دج.

انطلاقا مما سبق وبناء على ما درست:

1. حدد الأعوان الاقتصاديين المذكورين في الوضعية مع تحديد الفئة التي ينتمي لها كل عون.

2. عرف فئة الأعوان الاقتصاديين المذكورين في المعلومتين 2 و 3 مع تحديد مهام كل عون.

3. مثل الوضعية السابقة في مخطط تدفقات اقتصادية محدد نوع التدفق (يكون التمثيل في مخطط واحد).

الوضعية (20):

المعطيات التالية متعلقة بالورشتين A و B بمؤسسة "النور" الانتاجية.

سعر الوحدة من عنصر العمل = 4 , سعر الوحدة من رأس المال = 3,5 , انتاجية تنسيق عوامل الانتاج للورشة A = 02


الورشة B	الورشة A	
275	127	كمية الانتاج
28	08	كمية العمل المستخدم
18	كمية رأس المال المستخدم
.....	انتاجية عنصر العمل
.....	انتاجية عنصر رأس المال
.....	02	انتاجية تنسيق عوامل الانتاج

العمل المطلوب:

1. ما المقصود بتنسيق عوامل الإنتاج؟ وماهي شروطه؟

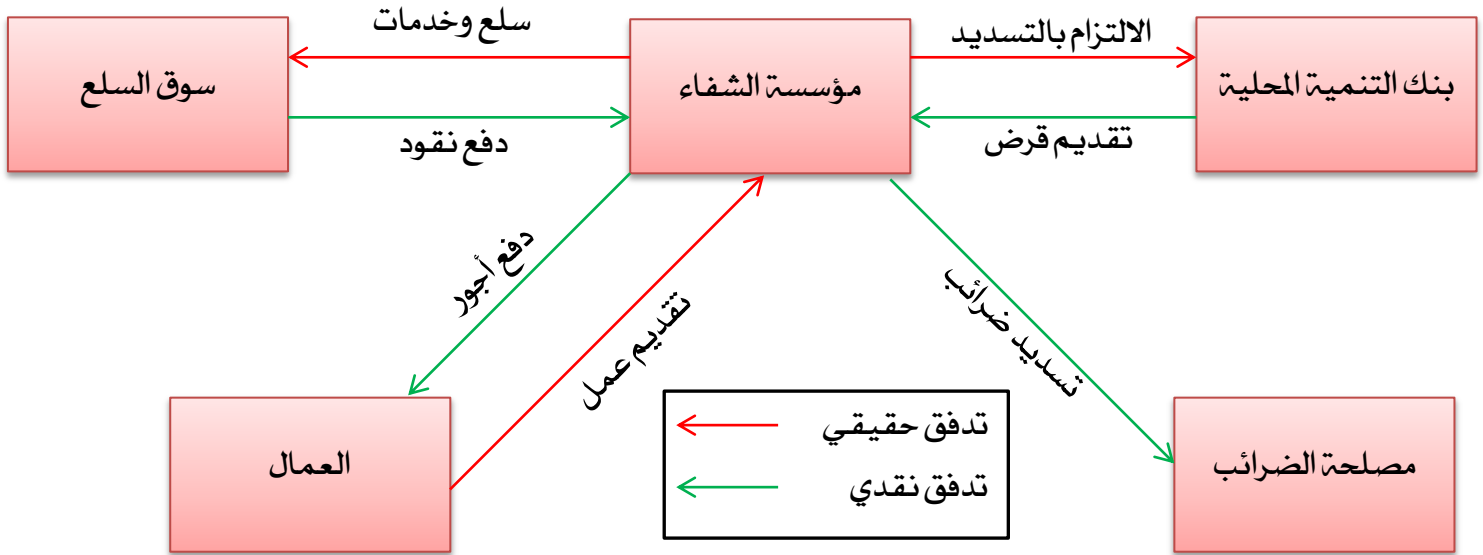
2. إكمال الجدول التالي مع تبرير العمليات الحسابية.

الاحول



حل الوضعية رقم: 01

- 1- تعريف العون الاقتصادي: العون الاقتصادي هو كل شخص طبيعي أو معنوي يزاول نشاطا اقتصاديا. تصنف مؤسسة الشفاء ضمن فئة المؤسسات الاقتصادية. التبرير: لأن نشاطها الأساسي الانتاج.
- 2- النشاط الاقتصادي لهذه المؤسسة: انتاج وبيع المضادات الحيوية عن طريق استعمال وسائل الانتاج. بمخطط الدورة الاقتصادية بين الأعوان الاقتصاديين:



ج- شكل الإنتاج الذي تقوم به المؤسسة: انتاج سوقي (سلعي) التبرير: لأنه يهدف للمبادلة في السوق.

3- حساب قيمة الانتاج:

$$\text{قيمة الانتاج} = 450 \times 500000 = 225000000 \text{ دج.}$$

$$\text{القيمة المضافة} = \text{قيمة الانتاج} - \text{قيمة الاستهلاكات الوسيطة} = 22500000 - 20000000 = 2500000 \text{ دج.}$$

التعليق: المؤسسة حققت قيمة مضافة ب: 2500000 دج.

حل الوضعية رقم: 02

1- تصنف شركة الخبر ضمن فئة: المؤسسات الاقتصادية.

2- عوامل الانتاج المادية والبشرية المستخدمة في هذه الشركة:

العوامل المادية: المبنى الرئيسي، أحدث وسائل التكنولوجيا مثل أجهزة الإعلام الآلي وماكينات الطباعة.

العوامل البشرية: 215 عاملا منهم 72 صحفيا دائما و 04 مصورين ورسام كاريكاتور.

3- تعريف رأس المال: بصفة عامة يمكن تعريف رأس المال بأنه المال الناتج عن عمل سابق والذي يساهم في إنتاج أموال

أخرى.

4- رؤوس الأموال الموجودة في نص الوضعية:

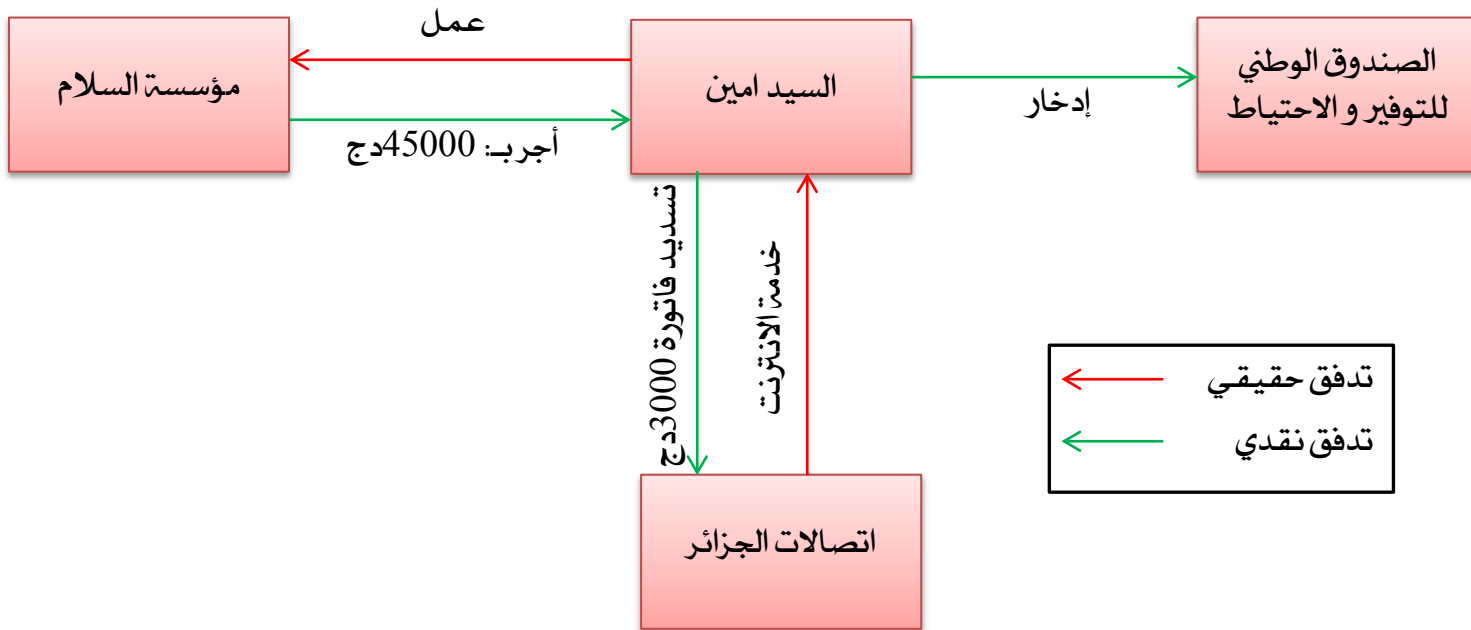
راس المال الثابت	مبنى الشركة. الفروع الولائية، أجهزة الاعلام الآلي. ماكينات الطباعة
راس المال المتداول	أوراق الطباعة والحبر وغيرها من مستلزمات العمل الصحفي
راس المال القانوني	العلامة التجارية "جريدة الخبر"
راس المال المالي	الاسهم

حل الوضعية رقم: 03

1- الاعوان الاقتصاديين المذكورين في الوضعية:

مؤسسة السلام	مؤسسات اقتصادية
السيد أمين	العائلات
مؤسسة اتصالات الجزائر	مؤسسات اقتصادية
الصندوق الوطني للتوفير والاحتياط	مؤسسات مالية

تمثيل مخطط التدفقات بين العونين الاقتصاديين.



2- المبلغ الذي يتحصل عليه امين من المؤسسة يسمى: الدخل.

3- عملية استعمال هذا المبلغ من طرف امين تسمى: استهلاك.

تعريفه: يقصد بالاستهلاك بصفة عامة استعمال السلع والخدمات من طرف الاعوان الاقتصاديين لتلبية مختلف الحاجات.

العوامل الذاتية المؤثرة في الاستهلاك:

- الرغبة في تكوين احتياطي لمجابهة الأمور الطارئة.
- التضحية بالاستهلاك الحاضر من أجل الاستهلاك المستقبلي مثل الرغبة في شراء سيارة أو الادخار من أجل تكوين رأس مال للدخول في مشروع اقتصادي.

- المعتقدات الدينية مثل تأدية مناسك الحج، و العادات و التقاليد مثل اقامة حفلات الزواج.
 - البخل، حيث أن هناك من يلجأ إلى التقليل من الاستهلاك حبا في الاكتناز
- 4- حساب المبلغ الذي تم وضعه في صندوق التوفير والاحتياط:

$$45000 - (3000 + 20000 + 5000) = 17000DA$$

تسمى هذه العملية: الادخار.

تعريف الادخار: هو ذلك الجزء من الدخل غير الموجه للاستهلاك النهائي، وعادة ما يودع لدى المؤسسات المالية بغرض المشاركة في الدورة الاقتصادية.

أنواعه:

الادخار الاختياري:

هو الادخار الذي يكون بإرادة العون الاقتصادي، وهذا النوع هو المقصود عند الحديث عن الادخار.

الادخار الاجباري:

هو الادخار الذي لا يكون بإرادة العون الاقتصادي، بل يكون نتيجة لقرار الحكومة، ويشمل الاقتطاعات الإجبارية مثل الضرائب والرسوم والاشتراكات في الضمان الاجتماعي.

5- العلاقة بين العناصر الثلاثة:

$$\text{الدخل} = \text{الاستهلاك} + \text{الادخار} = (5000 + 20000 + 3000) + 17000 = 45000 \text{ د.ج.}$$

6- أنواع رأس المال بالوضعية:

رأس المال الثابت	مباني، الات ومعدات، أجهزة كمبيوتر، وسائل نقل
رأس المال المتداول	الخشب ومستلزمات أخرى لإنتاج الكراسي والطاولات
رأس المال القانوني	حقوق الملكية"

حل الوضعية رقم: 04

1- مضمون النشاط الاقتصادي لشركة الياسمين: الانتاج.

تعريفه: هو نشاط الذي يسمح بتوفير السلع والخدمات المرغوب فيها من قبل الأشخاص. أو هي عملية تحويل الثروات الطبيعية إلى سلع قابلة للاستعمال من خلال مزج عوامل الإنتاج، فالإنتاج ما هو إلا خلق المنافع أو زيادتها.

2- ينتمي البنك الوطني الجزائري إلى: المؤسسات المالية.

تعريفها: عبارة عن مؤسسات تقوم بجمع مدخرات الأعوان الاقتصاديين وتقديمها في شكل قروض للأعوان الاقتصاديين الآخرين مقابل فوائد وتحقق من وراء عملياتها المالية أرباحا. مثل البنوك.

3- اشكال رأس المال المستخدم من طرف شركة "الياسمين":

المواد الأولية: رأس المال المتداول: هو عبارة عن الأموال التي يتم استخدامها خلال عملية الإنتاج لمرة واحدة وبصفة نهائية، ويؤدي استخدامها إلى تغيير عميق في مادتها وتنتقل قيمتها الكلية إلى السلعة المنتجة.

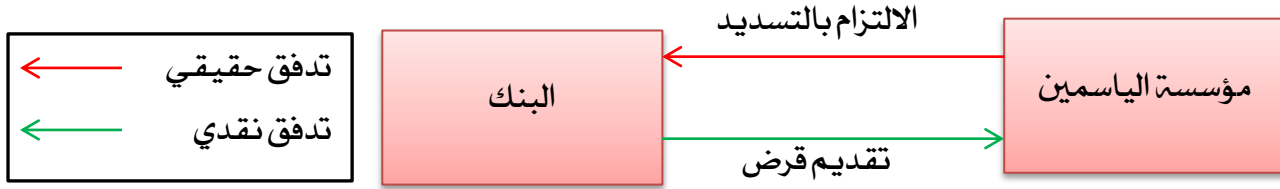
آلات مختلفة: رأس المال العيني: هو عبارة عن الأموال التي يتم استخدامها خلال عملية الإنتاج للعديد من المرات ويؤدي هذا الاستخدام المتكرر إلى تغيير طفيف عليها، ويطلق عليها مصطلح وسائل الإنتاج.

أسهم لدى مؤسسة المذاق الحلو: رأس المال المالي.

4- نوع تقسيم العمل في العبارة: تقسيم العمل الفني.

يتعلق الأمر هنا بتقسيم عملية الإنتاج الواحدة إلى مجموعة من المراحل بحيث يتخصص كل عامل في جزء معين من مراحل عملية الإنتاج، فمثلا يتخصص عامل في عملية التفصيل في مصنع لصناعة الألبسة الجاهزة.

5- مخطط للعلاقة التي قامت بها الشركة مع البنك:



حل الوضعية رقم 05:

الجزء الأول:

1- تبيين أنواع الادخار:

الادخار الاختياري:

هو الادخار الذي يكون بإرادة العون الاقتصادي، وهذا النوع هو المقصود عند الحديث عن الادخار.

الادخار الاجباري:

هو الادخار الذي لا يكون بإرادة العون الاقتصادي، بل يكون نتيجة لقرار الحكومة، ويشمل الاقتطاعات الإجبارية مثل الضرائب والرسوم والاشتراكات في الضمان الاجتماعي.

2- العوامل الموضوعية المؤثرة في الاستهلاك:

توزيع الدخل الوطني بين طبقات المجتمع: كلما زاد التفاوت في توزيع الدخل كلما قل الاتجاه نحو الاستهلاك. و

كلما انخفض التفاوت في توزيع الدخل كلما ارتفع الاتجاه نحو الاستهلاك.

اعادة توزيع الدخل الوطني: عند الزيادة في الضريبة التصاعدية على المداخيل فإن ذلك سيؤثر على زيادة الاستهلاك لسببين هما:

- الطبقة الغنية ينقص ميلها للادخار بعد حد معين من الدخل لأن الضرائب ستأخذ أغلبية الدخل الذي يأتي بعد ذلك الحد.

- أما الطبقة الفقيرة فإن استهلاكها سيزيد بسبب زيادة مداخيلها الناتجة عن الاعانات المقدمة لها من طرف الدولة

التغير المفاجئ في المداخيل: عند الارتفاع المفاجئ للدخل، سواء بزيادة الأجور أو بتخفيض الضرائب أو بحدوث إعفاء ضريبي لفئات معينة فإن ذلك يؤدي حتما إلى زيادة الاستهلاك.

الجزء الثاني:

1- إكمال الجدول اعلاه.

البيسان	الشهر 1	الشهر 2	الشهر 3
الدخل R	25000	31500	24000
الاستهلاك C	17500	18900	15600

8400	12600	7500	الادخار D
65%	60%	70%	الميل المتوسط للاستهلاك

$$\frac{\text{الاستهلاك (C)}}{\text{الدخل (R)}} = \text{فالميل المتوسط للاستهلاك}$$

الشهر الأول:

$$\text{الاستهلاك (C)} = \text{الميل المتوسط للاستهلاك} \times \text{الدخل} = 25000 \times 0.7 = 17500 \text{ دج.}$$

$$\text{الادخار (D)} = \text{الدخل} - \text{الاستهلاك} = 25000 - 17500 = 7500 \text{ دج}$$

الشهر الثاني:

$$\text{الدخل (R)} = \frac{\text{الاستهلاك}}{\text{الميل المتوسط للاستهلاك}} = 18900 \div 0.6 = 31500 \text{ دج}$$

$$\text{الادخار (D)} = \text{الدخل} - \text{الاستهلاك} = 31500 - 18900 = 12600 \text{ دج}$$

الشهر الثالث:

$$\text{الاستهلاك (C)} = \text{الدخل} - \text{الادخار} = 24000 - 8400 = 15600 \text{ دج}$$

$$\text{الميل المتوسط للاستهلاك} = \frac{\text{الاستهلاك}}{\text{الدخل}} = 15600 \div 24000 = 0.65 = 65\%$$

2. الميل المتوسط للادخار في كل سنة.

الميل المتوسط للادخار = 1 - الميل المتوسط للاستهلاك.

الشهر 3	الشهر 2	الشهر 1	
35%	40%	30%	الميل المتوسط للادخار

3. حساب الميل الحدي للادخار والميل الحدي للاستهلاك:

$$\frac{\text{التغير في الاستهلاك}}{\text{التغير في الدخل}} = \text{فالميل الحدي للاستهلاك}$$

الميل الحدي للادخار = 1 - الميل الحدي للاستهلاك.

الشهر 3	الشهر 2	
$\frac{15600 - 18900}{24000 - 31500} = 0.44 = 44\%$	$\frac{18900 - 17500}{31500 - 25000} \approx 0.22 = 22\%$	الميل الحدي للاستهلاك
$1 - 0.44 = 0.56 = 56\%$	$1 - 0.22 = 0.78 = 78\%$	الميل الحدي للادخار

حل الوضعية رقم: 06

1- ينتمي بنك التنمية المحلية إلى: المؤسسات المالية.

أهم نشاطاته:

- تجميع مدخرات الأعوان الاقتصاديين الآخرين
- تقديم قروضا للأعوان الاقتصاديين مقابل الفوائد
- دفع الضرائب والرسوم لخزينة الدولة

- استهلاك السلع والخدمات.

2- عوامل الانتاج المستخدمة من طرف شركة "السلام":

العوامل المادية: آلات الانتاج ، المواد الأولية

العوامل البشرية: 120 عاملا.

3- أشكال رأس المال في الوضعية:

رأس المال الثابت	آلات الغزل، الخياطة، النسيج
رأس المال المتداول	المواد الأولية

4- نوع تقسيم العمل في العبارة: تقسيم العمل الفني.

- زيادة المهارة في أداء الأعمال، وذلك لتبسيط الأعمال المطلوبة.
- تنظيم العمل بكفاءة من حيث التوقيت والتتابع والإشراف.
- توفير الوقت وتقليل فقدانه أثناء انتقال العامل من عملية إلى أخرى.
- تسهيل استخدام الآلة نتيجة لتقسيم العملية الإنتاجية إلى عدة عمليات جزئية.
- كل ما سبق يؤدي إلى زيادة الكفاءة الإنتاجية وزيادة الإنتاج.

5- حساب القيمة المضافة التي حققتها المؤسسة:

القيمة المضافة = قيمة الانتاج - قيمة الاستهلاكات الوسيطة.

$$\text{القيمة المضافة} = 30000000 - (18500000 + 3500000) = 8000000 \text{ د.ج.}$$

حل الوضعية رقم: 07

1- فئة الاعوان الاقتصاديين التي تنتمي اليها الشركة: المؤسسات الاقتصادية.

نشاطها الأساسي: الانتاج.

تعريف الانتاج: الانتاج هو محور كل نشاط اقتصادي. فهو عملية مركبة يتم فيها استخدام عوامل الانتاج (البشرية والمادية والمالية) بهدف خلق منفعة أو إضافة منفعة جديدة.

2- شكل رأس المال المستخدم من طرف الشركة:

رأس المال التقني (العيني): وينقسم بدوره إلى:

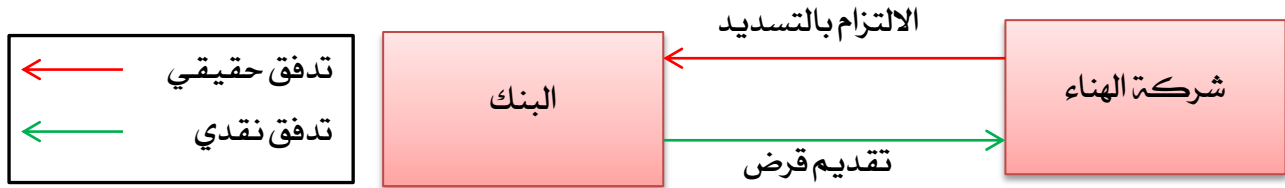
أ. رأسمال الثابت: هو عبارة عن الأموال التي يتم استخدامها خلال عملية الانتاج للعديد من المرات ويؤدي هذا الاستخدام المتكرر إلى تغيير طفيف عليها، ويطلق عليها مصطلح وسائل الانتاج مثل الآلات والتجهيزات.

ب. رأسمال المتداول: هو عبارة عن الأموال التي يتم استخدامها خلال عملية الانتاج لمرة واحدة وبصفة نهائية، ويؤدي استخدامها إلى تغيير عميق في مادتها وتنتقل قيمتها الكلية إلى السلعة المنتجة مثل المواد الأولية، (غاز، بترول)

3- نوع تقسيم العمل لهذه الشركة: تقسيم عمل فني.

التبرير: هنا تم تقسيم العملية الإنتاجية إلى عدة مراحل غسل الفواكه ، العصر ، و التعبئة في قارورات ذات احجام مختلفة.

4- العلاقة بين الشركة و البنك



حل الوضعية رقم: 08

1-تعريف العون الاقتصادي:

العون الاقتصادي هو كل شخص طبيعي أو معنوي يزاول نشاطا اقتصاديا.

2- تنتمي شركة جرجرة إلى فئة: المؤسسات الاقتصادية.

3- تعريف النشاط الاقتصادي: هو سعي الفرد أو مجموعة أو مجموعة من الأفراد لإشباع حاجاتهم المختلفة. أو مجموعة الأعمال المنجزة من قبل الأعوان الاقتصاديين بهدف ضمان إشباع حاجاتهم.

مضمون النشاط الاقتصادي لشركة جرجرة: الإنتاج.

تعريف عملية الإنتاج: هي نشاط الذي يسمح بتوفير السلع والخدمات المرغوب فيها من قبل الأشخاص.

أوهي عملية تحويل الثروات الطبيعية إلى سلع قابلة للاستعمال من خلال مزج عوامل الإنتاج، فالإنتاج ما هو إلا خلق المنافع أو زيادتها.

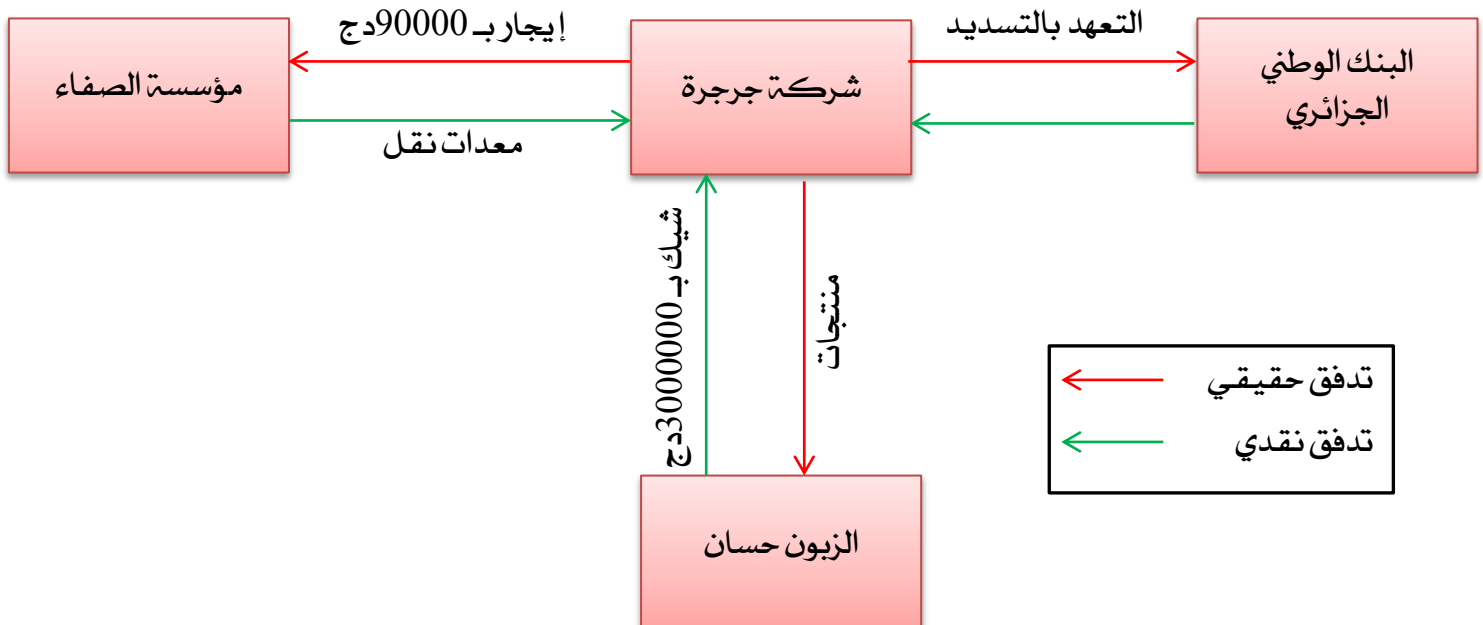
4- أشكال رأس المال المستخدمة في الشركة:

رأس المال الثابت	الدقيق ، السكر ، مواد دهنية نباتية ، مسحوق الكاكاو ، الحليب ، الخميرة ، ملح مستحلب ، نسبة من الماء
رأس المال المتداول	آلات طهي عصرية.

5- شكل الإنتاج في مؤسسة جرجرة: إنتاج سوقي (سلي)

التبرير: لأنه يهدف للمبادلة في السوق.

6- تمثيل التدفقات الناشئة بين مؤسسة جرجرة و متعاملها من خلال الوضعية في مخطط.



حل الوضعية رقم: 09

1- تعريف القيمة المضافة: هي القيمة التي تضيفها المؤسسة الاقتصادية إلى قيمة ما تم استهلاكه من مستلزمات وسيطة للإنتاج داخل العملية الإنتاجية خلال فترة زمنية محددة فالقيمة المضافة تمثل الفرق بين ثمن بيع السلعة أو الخدمة و ثمن شراء المواد والخدمات الداخلة في إنتاجها.

2- حساب القيمة المضافة المحققة لدى كل طرف:

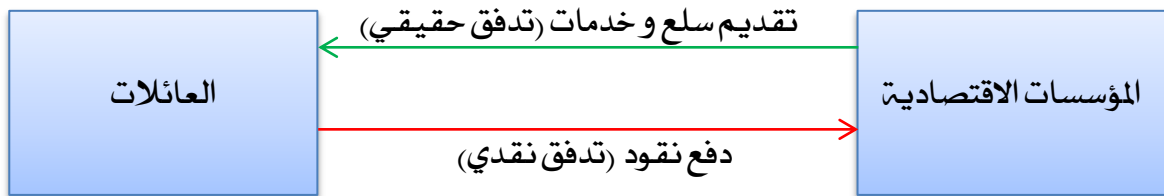
القيمة المضافة = قيمة الإنتاج - قيمة الاستهلاكات الوسيطة

مؤسسة النجاح	مؤسسة النور
<u>قيمة الإنتاج:</u> $1050 \times 5900 = 6195000DA$	<u>قيمة الإنتاج:</u> $1400 \times 4700 = 6580000DA$
<u>قيمة الاستهلاكات الوسيطة:</u> $(1050 \times 4700) + 1065000 = 6000000DA$	<u>قيمة الاستهلاكات الوسيطة:</u> $(1500 \times 3000) + 900000 + 300000 = 5700000DA$
<u>القيمة المضافة:</u> $VA = 6195000 - 6000000 = 1950000DA$	<u>القيمة المضافة:</u> $VA = 6580000 - 5700000 = 8800000DA$

3- تسمى العلاقات الاقتصادية التي تكون بين الاعوان الاقتصاديين: الدورة الاقتصادية.

تعريفها: وهي عبارة عن جملة المبادلات التي تتم بين مختلف الاعوان الاقتصاديين في شكل دائري كل حسب دوره في العملية الاقتصادية، وتكون هذه التدفقات حقيقية ونقدية.

مثال:



حل الوضعية رقم: 10:

1- اشكال رأس المال المشار إليها:

رأس المال الثابت	200 آلة
رأس المال المتداول	الفواكه و الماء و الملون الصناعي و علب... الخ

2- حساب الانتاجية النوعية لكل عامل من عوامل الإنتاج المستخدمة في مؤسسة الأوراس:

$$\frac{\text{كمية الانتاج}}{\text{كمية رأس المال المستخدم}} = \text{انتاجية عنصر رأس المال} \quad \frac{\text{كمية الانتاج}}{\text{كمية العمل المستخدمة}} = \text{انتاجية عنصر العمل}$$

انتاجية عنصر رأس المال	انتاجية عنصر العمل
$\frac{50000}{200} = 250$ وحدة/آلة	$\frac{50000}{1600} \approx 32$ وحدة/عامل

3- حساب انتاجية تنسيق عوامل الانتاج:

$$\frac{\text{كمية الانتاج}}{\text{عوامل الانتاج المستخدمة}} = \text{انتاجية تنسيق عوامل الانتاج}$$

$$3.37 \approx \frac{50000}{(10 \times 200) + (8 \times 1600)} = \text{انتاجية تنسيق عوامل الانتاج}$$

4- حساب القيمة المضافة المحققة من مؤسسة الأوراس:

القيمة المضافة = قيمة الإنتاج - قيمة الاستهلاكات الوسيطة

قيمة الانتاج	$40000 \times 120 = 4800000DA$
الاستهلاكات الوسيطة	$3800000DA$
القيمة المضافة	$VA = 4800000 - 3800000 = 1000000DA$

حل الوضعية رقم: 11

1- تعريف الانتاج: الإنتاج هو محور كل نشاط اقتصادي. فهو عملية مركبة يتم فيها استخدام عوامل الإنتاج

(البشرية والمادية والمالية) بهدف خلق منفعة أو إضافة منفعة جديدة.

شكل الانتاج في مؤسسة الأطلس: انتاج سوقي (سلي)

التبرير: لأنه يهدف للمبادلة في السوق.

2- قيمة الانتاج وقيمة الاستخدامات الوسيطة ثم حدد القيمة المضافة لمؤسسة أطلس لصناعة الآجور:

$$\text{قيمة الانتاج: } (5000 \times 116) \times 20 = 11600000DA$$

$$\text{قيمة الاستهلاكات الوسيطة: } (5000 \times 116) \times (10 + 5) = 8700000DA$$

$$\text{القيمة المضافة: } VA = 11600000 - 8700000 = 2900000DA$$

3- حساب القيمة المضافة المحققة من مؤسسة مواد البناء:

$$\text{قيمة الانتاج: } (2000 \times 116) \times 25 = 5800000DA$$

$$\text{قيمة الاستهلاكات الوسيطة: } [(2000 \times 116) \times 20] + 360000 = 5000000DA$$

$$\text{القيمة المضافة: } VA = 5800000 - 5000000 = 800000DA$$

حل الوضعية رقم: 12

1- تعريف الانتاج: الإنتاج هو محور كل نشاط اقتصادي. فهو عملية مركبة يتم فيها استخدام عوامل الإنتاج

(البشرية والمادية والمالية) بهدف خلق منفعة أو إضافة منفعة جديدة.

اهمية الانتاج بالنسبة للفرد والمؤسسة:

بالنسبة للأفراد فان الإنتاج يسمح لهم بتلبية مختلف حاجاتهم من السلع والخدمات .

بالنسبة للمؤسسة فان الإنتاج يسمح لها ببلوغ هدفها المنشود الذي وجدت من اجله والمتمثل في تحقيق أقصى ربح

ممكن.

2 حساب القيمة المضافة المحققة من طرف مؤسسة "كوندور" و الوكيل المعتمد:

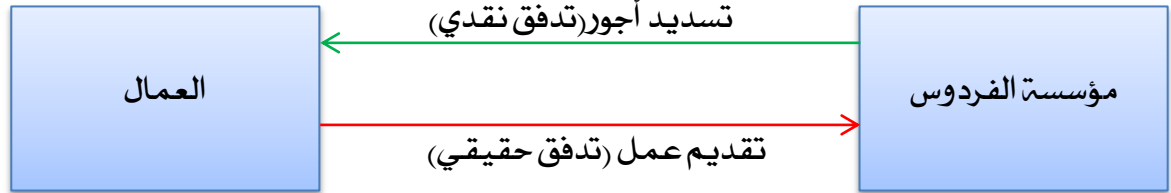
الوكيل	مؤسسة كوندور
<u>قيمة الانتاج:</u> $275 \times 34000 = 9350000DA$	<u>قيمة الانتاج:</u> $550 \times 32000 = 17600000DA$
<u>قيمة الاستهلاكات الوسيطة:</u> $275 \times 32000 = 8800000DA$	<u>قيمة الاستهلاكات الوسيطة:</u> $11000000 + 2000000 = 13000000DA$
<u>القيمة المضافة:</u> $VA = 9350000 - 8800000 = 550000DA$	<u>القيمة المضافة:</u> $VA = 17600000 - 13000000 = 4600000DA$

حل الوضعية رقم: 13

1. الفئة التي ينتمى لها كل من العمال ومؤسسة الفردوس:

الفئة	العون الاقتصادي
<u>العائلات:</u> تعتبر العائلة الخلية الأساسية في المجتمع، ويتمثل نشاطها الأساسي في استهلاك السلع والخدمات. وهي مجموعة من الأفراد يعيشون تحت سقف واحد وتنقسم إلى عائلات عادية وغير عادية (الجنود في الشكنات)	العمال
<u>المؤسسات الاقتصادية:</u> هي عبارة عن وحدات تقوم على أساس تجميع الوسائل المادية والبشرية مع التنسيق فيما بينها بغرض إنتاج السلع والخدمات (خلق المنافع) من أجل بيعها قصد تحقيق الربح.	مؤسسة الفردوس

2 مخطط لتدفقات بين العمال ومؤسسة الفردوس:



3 نوع تقسيم العمل المذكور في الوضعية: تقسيم عمل فني.

التبرير: تم تقسيم العملية الانتاجية إلى مراحل و تكليف كل عام بأداء جزء معين من المرحلة الانتاجية.

4 حساب انتاجية كل قطعة:

$$\frac{\text{كمية الانتاج الزراعي}}{\text{مساحة الأرض المزروعة}} = \text{فانتاجية الأرض}$$

القطعة الثانية	القطعة الأولى
$\frac{3150}{90} = 35 \text{ قنطار/هكتار}$	$\frac{3000}{75} = 40 \text{ قنطار/هكتار}$

التعليق: قطعة الأرض الأولى أكثر انتاجية من القطعة الثانية رغم أن هذه الأخيرة أكبر مساحة.

حل الوضعية رقم: 14:

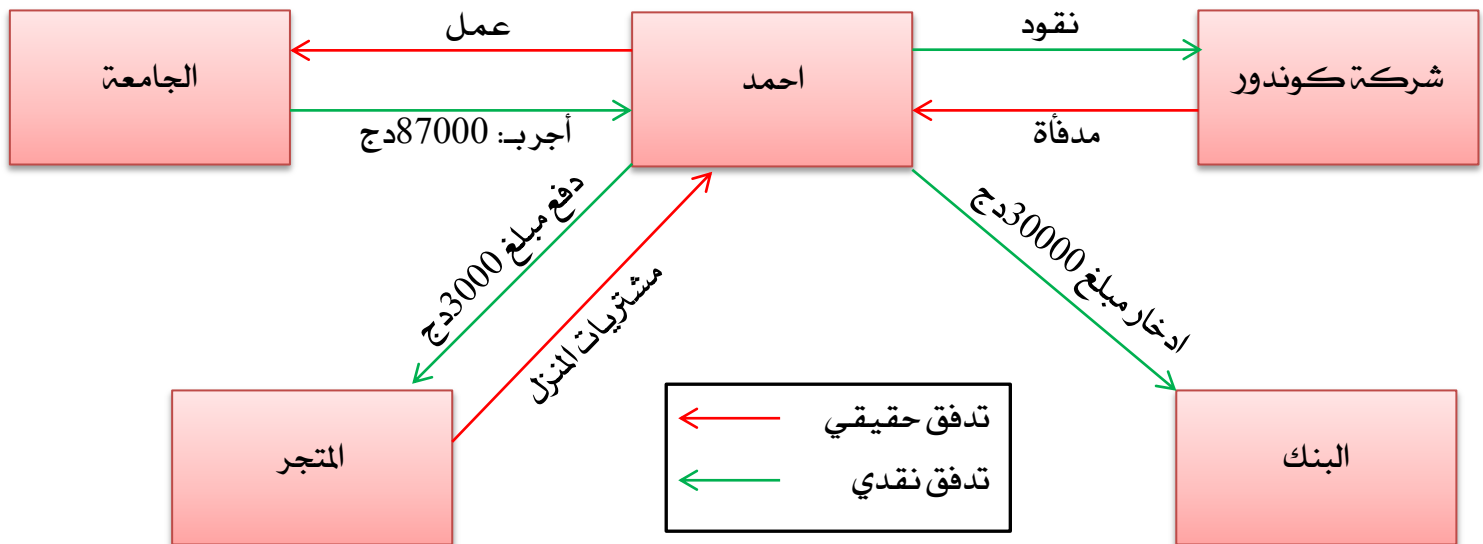
1- فئة الأعوان الاقتصاديين المذكورين في الوضعية:

العون الاقتصادي	الفئة
السيد احمد	العائلات
شركة كوندور	مؤسسة اقتصادية
المتجر	مؤسسة اقتصادية
البنك	مؤسسة مالية
الجامعة	ادارات عمومية

2- تتحصل شركة كوندور على مواردها عن طريق بيع المنتجات الخاصة بها.

تستخدم المؤسسة هذه الموارد في عملية الانتاج، تسديد أجور العمال، دفع الضرائب، الاستثمار

3- تمثيل الوضعية في مخطط تدفقات اقتصادية:



4- يمثل مبلغ 87000 دج الدخل.

5- يعبر المبلغ الذي تم وضعه في البنك عن: الادخار.

تعريف الادخار: هو ذلك الجزء من الدخل غير الموجه للاستهلاك النهائي، وعادة ما يودع لدى المؤسسات المالية بغرض المشاركة في الدورة الاقتصادية

5- المشكلة الاقتصادية التي تحتها سطر في الوضعية:

الحاجة إلى شراء البدلة الرياضية وعدم القدرة على اشباع هذه الحاجة بسبب سعرها المرتفع.

حل الوضعية رقم: 15:الجزء الأول:

1- تنتمي مؤسسة السلام إلى فئة: المؤسسات الاقتصادية.

تعريفه: المؤسسات الاقتصادية عبارة عن وحدات تقوم على أساس تجميع الوسائل المادية والبشرية مع التنسيق فيما بينها بغرض إنتاج السلع والخدمات (خلق المنافع) من أجل بيعها قصد تحقيق الربح.

2- تعريف الإنتاج: الإنتاج هو محور كل نشاط اقتصادي. فهو عملية مركبة يتم فيها استخدام عوامل الإنتاج

(البشرية والمادية والمالية) بهدف خلق منفعة أو إضافة منفعة جديدة.

أشكال الإنتاج:

أ. الإنتاج السلعي: إذا كان بهدف المبادلة في السوق يطلق عليه مصطلح الإنتاجي السوقي (السلعي) مثل إنتاج

الأحذية، والخدمة المقدمة من طرف المحامي. أو هو كل السلع والخدمات التي تباع في السوق مقابل سعر يغطي على

الأقل تكلفة الإنتاج.

ب. الإنتاج غير السلعي: أما إذا كانت الخدمة المقدمة ليست بهدف المبادلة في السوق فيطلق عليها مصطلح الإنتاج غير

السوقي (غير سلعي) مثل الخدمات المقدمة من طرف الإدارات العمومية (تقديم وثائق الحالة المدنية في

البلديات... الخ). أو هو عموماً الخدمات الغير معروضة في السوق أو المقدمة بدون مقابل التعليم مثلاً.

3- القيمة المضافة لكل من مؤسسة "السلام" المقاول (أ) و المقاول (ب):

القيمة المضافة = قيمة الإنتاج - قيمة الاستهلاكات الوسيطة

مؤسسة السلام:

قيمة الإنتاج: $50000 \times 45 = 2250000DA$

قيمة الاستهلاكات الوسيطة: $1500000DA$

القيمة المضافة: $VA = 2250000 - 1500000 = 750000DA$

المقاول (أ):

قيمة الإنتاج: $25000 \times 70 = 1750000DA$

قيمة الاستهلاكات الوسيطة: $(25000 \times 45) + 225000 = 1350000DA$

القيمة المضافة: $VA = 1750000 - 1350000 = 400000DA$

المقاول (ب):

قيمة الإنتاج: $25000 \times 60 = 1500000DA$

قيمة الاستهلاكات الوسيطة: $(25000 \times 45) + 75000 = 1200000DA$

القيمة المضافة: $VA = 1500000 - 1200000 = 300000DA$

الجزء الثاني:

1- العوامل الذاتية المؤثرة في الاستهلاك:

إن العوامل الذاتية التي تؤثر في الاستهلاك متعددة منها.

• الرغبة في تكوين احتياطي لمجابهة الأمور الطارئة.

• التضحية بالاستهلاك الحاضر من أجل الاستهلاك المستقبلي مثل الرغبة في شراء سيارة أو الادخار من أجل تكوين

رأس مال للدخول في مشروع اقتصادي.

• المعتقدات الدينية مثل تأدية مناسك الحج، و العادات و التقاليد مثل اقامة حفلات الزواج.

• البخل، حيث أن هناك من يلجأ إلى التقليل من الاستهلاك حبا في الاكتناز

2- حساب قيمة الدخل لكل شهر

$$\text{لدينا: الميل المتوسط للاستهلاك} = \frac{\text{الاستهلاك (C)}}{\text{الدخل (R)}}$$

$$\text{ومنه: الدخل (R)} = \frac{\text{الاستهلاك (C)}}{\text{الميل المتوسط للاستهلاك}}$$

$$\text{الشهر الأول: الدخل} = \frac{23560}{0.62} = 38000 \text{ دج.}$$

الشهر الثاني:

$$\text{لدينا: الميل الحدي للاستهلاك} = \frac{\text{التغير في الاستهلاك}}{\text{التغير في الدخل}} \text{ أي: } \frac{C_2 - C_1}{R_2 - R_1} = \text{الميل الحدي للاستهلاك.}$$

$$0.41 = \frac{25200 - 23560}{R_2 - 38000}$$

$$0.41R_2 - 15580 = 1640$$

$$0.41R_2 = 17220$$

$$R_2 = \frac{17220}{0.41} = 42000 \text{ DA}$$

$$\text{الشهر الثالث: الدخل} = \frac{31200}{0.65} = 48000 \text{ دج.}$$

$$\text{الشهر الرابع: الدخل} = \frac{36000}{0.72} = 50000 \text{ دج.}$$

3- قيمة الادخار لكل شهر:

$$\text{الدخل (R)} = \text{الاستهلاك (C)} + \text{الادخار (D)} \text{ ومنه الادخار (D)} = \text{الدخل (R)} - \text{الاستهلاك (C)}$$

الأشهر	1	2	3	4
الادخار	14440	16800	16800	14000

4- حساب الميل الحدي للاستهلاك للشهر الثاني والثالث:

$$\text{الميل الحدي للاستهلاك. ومنه:} = \frac{C_2 - C_1}{R_2 - R_1}$$

$$\text{الميل الحدي للاستهلاك} = \frac{31200 - 25200}{48000 - 42000} = 1$$

التفسير: الزيادة في الدخل تم توجيهها كلها للاستهلاك.

حل الوضعية رقم: 16

1- المعيار الذي تقيم به عوامل الإنتاج هو: الانتاجية.

تعريفها: هي كمية الإنتاج بالنسبة لكل عنصر من عناصر الإنتاج.

2 حساب إنتاجية كل عامل من عوامل الإنتاج في المؤسستين:

مؤسسة الوئام:

انتاجية العامل الطبيعي	انتاجية عنصر العمل	انتاجية عنصر راس المال
$948 = \frac{237000}{347 - 97}$	$474 = \frac{237000}{500}$	$1185 = \frac{237000}{200}$

مؤسسة القدس:

انتاجية العامل الطبيعي	انتاجية عنصر العمل	انتاجية عنصر راس المال
$1245 = \frac{250800}{200}$	$418 = \frac{250800}{600}$	$1254 = \frac{250800}{547 - 347}$

3 احساب الإنتاجية الكلية في مؤسسة الوئام وفي مؤسسة القدس:

$$\text{انتاجية تنسيق عوامل الانتاج} = \frac{\text{كمية الانتاج}}{\text{عوامل الانتاج المستخدمة}}$$

مؤسسة الوئام	مؤسسة القدس
$158 = \frac{237000}{(2.5 \times 200) + (2 \times 500) + (2 \times 250)}$	$120 = \frac{250800}{(2.5 \times 200) + (2 \times 600) + (2 \times 200)}$

المفاضلة: تنسيق عوامل الإنتاج في مؤسسة الوئام أفضل منه في مؤسسة القدس.

حل الوضعية رقم: 17

1. حساب الكمية المنتجة للمؤسسة B:

الكمية المنتجة للمؤسسة B = الكمية المنتجة للمؤسسة A - 1000 = 100 - 1000 = 900 وحدة.

2 حساب قيمة الإنتاج للمؤسستين:

PME (B)	PME (A)
قيمة الانتاج = الكمية المباعة × سعر بيع الوحدة قيمة الانتاج = $200 \times 900 = 180000$ دج.	القيمة المضافة = قيمة الانتاج - قيمة الاستهلاكات و قيمة الانتاج = القيمة المضافة + قيمة الاستهلاكات قيمة الانتاج = $80000 + 120000 = 200000$ دج. سعر بيع الوحدة = $\frac{200000}{1000} = 200$

3 القيمة المضافة للمؤسسة .

القيمة المضافة = قيمة الانتاج - قيمة الاستهلاكات الوسيطة

القيمة المضافة = $130000 - 180000 = 50000$ دج.

4. القيمة المضافة في المؤسسة A أكبر منه في المؤسسة B.

حل الوضعية رقم: 18

1. أنواع مختلف رأس المال المستعمل من طرف مؤسسة الأثاث العصري:

راس المال الثابت	5 آلات إنتاجية
رأس المال المتداول	(الخشب) و لوازم مختلفة (مسامير. غراء الخ)

2- نوع تقسيم العمل الذي تتبعه مؤسسة الأثاث العصري: تقسيم العمل الفني.

التبرير: هنا تم تقسيم العملية الإنتاجية إلى عدة مراحل: مرحلة التقطيع، مرحلة التركيب، مرحلة الإنهاء.

3- حساب الإنتاجية النوعية لكل عامل من عوامل الإنتاج.

$\frac{\text{كمية الإنتاج}}{\text{كمية رأس المال المستخدم}}$	إنتاجية عنصر رأس المال	$\frac{\text{كمية الإنتاج}}{\text{كمية العمل المستخدمة}}$	إنتاجية عنصر العمل
--	------------------------	---	--------------------

إنتاجية عنصر العمل	إنتاجية عنصر العمل
$\frac{500}{30} \approx 17$ و / عامل	$\frac{500}{5} = 100$ و / عامل

4- حساب إنتاجية تنسيق عوامل الإنتاج:

إنتاجية تنسيق عوامل الإنتاج	كمية الإنتاج
عوامل الإنتاج المستخدمة	

$$2.5 = \frac{500}{(5 \times 10) + (5 \times 30)}$$

5- القيمة المضافة المحققة من طرف مؤسسة الأثاث العصري:

القيمة المضافة = قيمة الإنتاج - قيمة الاستهلاكات الوسيطة.

$$\text{قيمة الإنتاج: } 500 \times 4500 = 2250000 \text{ DA}$$

$$\text{قيمة الاستهلاكات الوسيطة: } (6000 \times 300) + 300000 + 50000 = 2150000 \text{ DA}$$

$$\text{القيمة المضافة: } VA = 2250000 - 2150000 = 100000 \text{ DA}$$

سعر بيع الطاولة للتاجر "كمال":

لدينا: قيمة الإنتاج = القيمة المضافة + قيمة الاستهلاكات الوسيطة.

$$\text{قيمة الإنتاج} = 70000 + (4500 \times 200) + 30000 = 1000000 \text{ د.ج.}$$

$$\text{سعر بيع الطاولة} = \frac{1000000}{200} = 5000 \text{ د.ج.}$$

حل الوضعية: 19

1- تحديد الأعوان الاقتصاديين المذكورين في الوضعية مع تحديد الفئة التي ينتمي لها كل عون:

العون الاقتصادي	الفئة
مؤسسة "الأجهزة العصرية"	المؤسسات الاقتصادية

العالم الخارجي	مؤسسة "paris electro"
ادارات عمومية	مصلحة الضرائب
مؤسسات مالية	بنك التنمية المحلية
العائلات	احمد ، سعيد

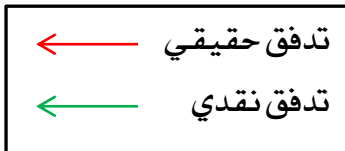
2. فئة الأعوان الاقتصاديين المذكورين في الملمومتين 2 و 3 مع تحديد مهام كل عون:

الادارات العمومية: عبارة عن هيئات تقوم بتقديم خدمات عامة (غير السوقية) مجاناً للعائلات مثل التعليم، الأمن، العدالة... الخ، وتغطي نفقاتها عن طريق عائدات الضرائب. ويتلخص نشاطها في:

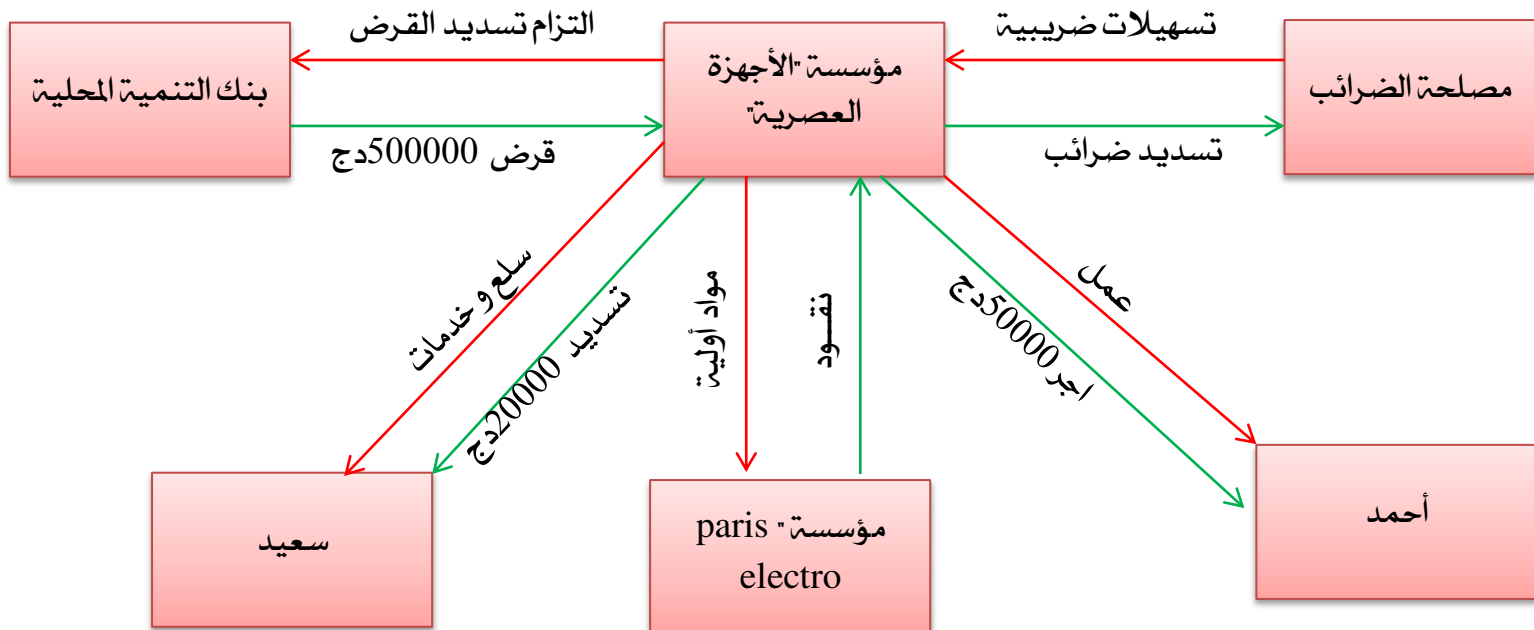
- تقديم خدمات لأفراد المجتمع.
- تحصل على إيرادات في شكل ضرائب ورسوم من الأعوان الاقتصاديين الآخرين.
- تستهلك السلع والخدمات المشتراة من المؤسسات الاقتصادية.
- تقوم بالاستثمار في المجالات مختلفة

المؤسسات المالية: عبارة عن مؤسسات تقوم بجمع مدخرات الأعوان الاقتصاديين وتقديمها في شكل قروض للأعوان الاقتصاديين الآخرين مقابل فوائد وتحقق من وراء عملياتها المالية أرباحاً. مثل البنوك. ويتلخص نشاطها في:

- تجميع مدخرات الأعوان الاقتصاديين الآخرين
- تقدم قروضا للأعوان الاقتصاديين مقابل الفوائد
- تدفع الضرائب والرسوم لخزينة الدولة
- تستهلك السلع والخدمات.



3. تمثيل الوضعية في مخطط تدفقات اقتصادية



1- تعريف تنسيق عوامل الانتاج:

التنسيق بمفهومه الشامل هو تنظيم العملية الإنتاجية وهو عملية مزج وتجميع عوامل الإنتاج الضرورية للقيام فعليا بالعملية الإنتاجية التي تهدف إلى تحقيق الربح من خلال إنتاج منتجات معينة فالعملية الإنتاجية تتوقف على أكثر من عامل واحد. والمنظم: هو الشخص الذي يقوم بتنظيم عوامل الإنتاج المختلفة للحصول على أعلى ناتج بأقل التكاليف.

شروط تنسيق عوامل الانتاج:

- عند القيام بالتنسيق لابد على المنظم مراعاة مجموعة من الشروط نذكر منها:
- تحديد عدد من التوليفات المختلفة بين عوامل الانتاج.
- مراعاة الجانب التقني للعملية الانتاجية عند تحديد مختلف التوليفات.
- تحديد تكلفة كل توليفة.
- تحديد تكاليف تسويق المنتج وفتح منافذ تسويق جديد.
- المفاضلة واختيار التوليفة المناسبة.

2- إتمام الجدول:

الورشة B:

$$\text{انتاجية عنصر العمل} = \frac{275}{28} = 9.82 \quad \text{انتاجية عنصر رأس المال} = \frac{275}{18} = 15.27$$

$$\text{انتاجية تنسيق عوامل الانتاج} = \frac{275}{(3.5 \times 18) + (4 \times 28)} = 1.57$$

الورشة A:

$$\text{انتاجية عنصر العمل} = \frac{127}{8} = 15.875$$

انتاجية تنسيق عوامل الانتاج = 2. بوضع كمية رأس المال x نجد:

$$\text{ومنه: } \frac{127}{(4 \times 8) + (x \times 3.5)} = 2$$

$$127 = 64 + 7x$$

$$63 = 7x \quad \text{ومنه: } x = \frac{63}{7} = 9$$

كمية رأس المال = 09.

$$\text{انتاجية عنصر رأس المال} = \frac{127}{9} = 14.11$$