

الجمهورية الجزائرية الديمقراطية الشعبية وزارة التربية الوطنية

دليل الأستاذ استعمال الكتاب المدرسي علوم الطبيعة والحياة السنة الثالثة من التعليم الثانوي عدد الصفحات : 133

بسم الله الرحمن الرحيم

المقدمة

يسر فريق التأليف أن يضع بين أيديكم مجموعة تعليمية ممثلة في دليل الأستاذ لاستعمال وتطبيق الكتاب المدرسي. أعدت هذه المجموعة في إطار تطبيق وتنفيذ إصلاح المنظومة التربوية في مرحلتها النهائية، وفقا للمنهاج الجديد لكل من شعبي العلوم التجريبية والرياضيات للسنة الثالثة من التعليم الثانوي المبنين على المقاربة بالكفاءات. يركز إنجاز هذه المجموعة على ثلاثة عناصر هامة جدا لا يمكن الاستغناء عنها في الأداء التربوي. وهي تشكل كلا متكاملًا ومنسجما هي:

- المنهاج.
- الوثيقة المرافقة.
- الكتاب المدرسي.

نوجه هذا الدليل لأستاذ علوم الطبيعة والحياة للسنة الثالثة من التعليم الثانوي بشعبيته (العلوم التجريبية والرياضيات). وهذا رغبة منا في تزويده بتوجيهات ضرورية تساعد على توظيف الكتاب المدرسي الذي يجسد ويترجم المنهاج. إن استغلال الكتاب المدرسي عن طريق القراءة الواعية، والفهم الدقيق، يتطلب فهم الدعائم الأساسية المعتمدة في بناءه والمتمثلة في:

❖ مهام التعليم الثانوي، وأهدافه، الكفاءات التي نسعى لتحقيقها في نهاية هذه المرحلة من التعليم ماقبل الجامعي.

❖ منهاجي السنة الثالثة من التعليم الثانوي والوثيقة المرافقة لهما.

❖ التصورات الجديدة حول:

- دور الأستاذ في ظل المقاربة بالكفاءات.

- دور التلميذ في ظل المقاربة بالكفاءات.

- دور المعارف.

- دور التعلم.

- دور الكتاب المدرسي.

- دور التقييم.

إن الكتاب المدرسي هو الوعاء الذي يحتوي المادة الدراسية والمقرر الدراسي للذات يشكلان عنصر المحتوى الذي يتضمنه المنهاج بمفهومه الشامل، كما يعد الكتاب المدرسي وسيلة تعليمية فاعلة موجهة للأستاذ والتلميذ معا.

فإذا كان المنهاج هو الأداة المرجعية للأستاذ، فإن الكتاب المدرسي هو الأداة المرجعية للتلميذ والأستاذ معا.

إن إنجاز دليل الأستاذ في تطبيق واستعمال الكتاب المدرسي يعد وثيقة إعلامية تكوينية خاصة بالأساتذة. وهو بمثابة وسيلة الأستاذ للتعامل مع الكتاب المدرسي في تنشيط حصص التعلم، يمكن الأستاذ من التعامل مع المنهاج الرسمي، وحسن استغلال الكتاب، وبالتالي الانطلاق في المشوار التعليمي/التعلمي وفق مسعى جديد ممثل في المقاربة بالكفاءات.

كما أن الدليل يضمن ما ورد في الكتاب المدرسي، لذا فهو يرافق الأستاذ دوماً، ويكون له سندا تربويا هاما. لا يمكن الاستغناء عنه.

ونظرا لما يحتويه هذا الدليل من إرشادات سيتمكن الأساتذة من الاستغلال الجيد لمحتويات الكتاب، كما يضمن التعامل بسهولة مع المتعلمين.

إن فريق التأليف يريد أن يكون هذا الدليل مفيدا يؤدي الغرض من إنجازه، ونأمل ألا يكون عائقا يحد من مبادرة الأساتذة، ويعرقل سبل البحث، سعيا لتحسين الأداء التربوي من طرف الأستاذ.

يضع فريق التأليف هذا الجهد في خدمة الأساتذة، وتبقى هذه الوثيقة المتواضعة عبارة عن مجموعة من المقترحات، نأمل من خلال إبداعكم واجتهاداتكم إثرائها ودعمها لحسن الأداء، والنجاح في مهمتكم التربوية.

والله ولي التوفيق
المؤلفون

فهرس الدليل

العنوان	الصفحة
1- المقدمة	2.....
2- منهاجي السنة الثالثة من التعليم الثانوي (الأهداف والكفاءات)	5.....
3- التعليمات	6.....
4- دور الكتاب المدرسي وكيفية استعماله	7.....
5- دور الدليل	8.....
6- هيكله الكتاب المدرسي	9.....
7- شرح مضمين الكتاب وكيفية تطبيقه	12.....
8- المجال الأول	14.....
9- المجال الثاني	91.....
10- المجال الثالث	122.....
11- المجال الثاني (شعبة الرياضيات)	158.....

2- منهج السنة الثالثة من التعليم الثانوي:

1. تقديم المنهاج:
تم بناء منهج السنة الثالثة من التعليم الثانوي في مادة علوم الطبيعة والحياة لتحقيق ثلاثة أهداف أساسية :
 - ❖ الأول: تزويد التلاميذ بالأسس العلمية الضرورية لمتابعة الدراسة في التعليم العالي بنجاح وفق ملامح علمي.
 - ❖ الثاني: تدعيم الكفاءات المكتسبة خلال الطور، وإكسابه كفاءات جديدة من أجل تطوير الفكر العلمي وتعميق التكوين المنهجي المتعلق بكل شعبة .
 - ❖ الثالث : تزويد كل تلميذ يتوجه إلى شعبة أخرى بثقافة علمية متعلقة بذاته البيولوجية ومجتمعه ومحيطه، والتي هي ضرورية لكل مواطن.تسمح هذه الثقافة لمواطن الغد ب :
 - اتخاذ مواقف وقائية للحفاظ على الصحة .
 - ادراك البيئة التي يتعرع فيها واتخاذ موقف عقلاني في مواجهة بعض الضواهر الطبيعية ، بالتفاعل الإيجابي مع هذه الظواهر لضمان حياة أفضل على هذا الكوكب .
 - المشاركة في حوارات حول المواضيع العلمية المعاصرة .

2. الكفاءات المستهدفة في السنة الثالثة من التعليم الثانوي:

- تشمل نوعين من الكفاءات :
 - كفاءات متعلقة بالمادة - كفاءات عرضية
 - أ) **الكفاءات المتعلقة بشعبة العلوم التجريبية**
- 1- كفاءات المادة :
تم بناء المنهاج على أساس ثلاثة كفاءات تدرج ضمن كفاءة ختامية أو هدف ادماجي ختامي .
 - *الكفاءة الختامية : في نهاية السنة الثالثة ثانوي يكون التلميذ قادرا على:
 - اختيار التوجه نحو مسار علمي .
 - اقتراح حلول مبنية على أسس علمية للإجابة على مشاكل الصحة والمحيط والمشاركة في حوارات مفتوحة حول المسائل العلمية الحالية .

*الكفاءات القاعدية :

- الكفاءة القاعدية 1 :
(يقدم بناء على أسس علمية ارشادات لمشكل اختلال وظيفي عضوي ، وذلك بتجنيد المعارف المتعلقة بالإتصال على مستوى الجزيئات الحاملة للمعلومة).
- الكفاءة القاعدية 2 :
(يقترح نموذج تفسيري لحركية الطاقة الخلوية على أساس المعارف المتعلقة بتحويل الطاقة على مستوى البنيات فوق الخلوية) .

الكفاءة القاعدية 3 :

- (يقترح نماذج تفسيرية للحركية الداخلية للأرض ، ولبنية القشرة الأرضية على أساس المعارف المتعلقة بالتكتونية العامة) .

ب) الكفاءات المتعلقة بشعبة الرياضيات .

الكفاءة القاعدية 1 :

(يقدم بناءا على أسس علمية ارشادات لمشكل اختلال وظيفي عضوي ، وذلك بتجنيد المعارف المتعلقة بالإتصال على مستوى الجزيئات الحاملة للمعلومة).

الكفاءة القاعدية 2 :

(يقترح حلولا عقلانية ، مبنية على أسس علمية من أجل المحافظة على المحيط، بتجنيد معارفه المتعلقة بالآثار السلبية لمختلف نشاطات الإنسان على التوازن البيئي) .

2-الكفاءات العرضية .

* - تتمثل أساسا في كفاءات منهجية وتنمية المواقف .
يرتكز المنهاج على اختيار المحتويات و النشاطات التي تسمح بتنمية الفكر العلمي بمعنى التحكم في المسعى العلمي بمعناه الشامل ، أي طرح الإشكاليات ومحاولة حلها .

* - إن طرح الإشكاليات يحتاج إلى التحكم في كفاءات أخرى مثل :

- استقصاء المعلومات وإيجاد علاقة بين المعطيات .

- إنجاز ترا كيب تجريبية .

- استعمال الفكر الإبداعي .

- القيام بتحليل نقدي للنتائج .

* - يسمح تنظيم العمل في مجموعات بالتواصل ، العمل الجماعي ، وبالتالي تنمية روح التعاون .

* * - يسمح كل ذلك في الأخير ببناء شخصيته ، وإثبات نفسه في الحياة كمواطن مسؤول على المستوى المهني والشخصي ، كما يسمح بتنمية مواقف أخرى ، كالثقة في النفس واتخاذ القرارات بحرية .

3- التعلّمات:

أ- دور الأستاذ والتلميذ في ظل الممارسة السابقة:

1. الأستاذ: الأستاذ في كل الممارسات السابقة للتعليم هو محور العملية التعليمية. فهو الحامل للمعرفة، ينقلها، يقف في حجرة الدراسة أمام المتعلمين ليبلغهم ويلقنهم المعرفة.

2. التلميذ: التلميذ في ظل الممارسات السابقة اعتبر عقله فارغا، تقوم المدرسة بملئه، وحشوه بالمعرفة، فالتلميذ يوضع موضع المنصت، المستمع يستجيب لما يمليه عليه أستاذه، يخزن المعلومات ويحفظها، ويستظهرها عند الفروض والاختبارات مثلا.

ب- دور الأستاذ والتلميذ في ظل الممارسة الجديدة (المقاربة بالكفاءات):

1. الأستاذ: يكون الأستاذ في ظل هذه المقاربة مبدعا. مستقلا بذاته، تلقائيا مصغيا لتلاميذه. مرشدا، وموجها ومنشطا لهم.
فالأستاذ هو المرجع الذي يوفر خبراته لخدمة المتعلمين.

2. التلميذ: يشترك التلميذ في تعلمه، ويسهم في بناء معرفته وتكوينه ينبغي أو يوضع في وضعية حل الإشكاليات بنفسه، ينبغي أن يوضع في وضع دائم التساؤل (يفكر - ينتقي - يكتشف - ينتج ... الخ).

فهو المهندس الذي يشيد صرح معارفه العلمية.

ج- دور التعلم وخصائصه:

- تعلم مبني على اكتساب كفاءات وليس تراكم المعارف.

- تعلم موجه نحو الحياة، فهو يأخذ بعين الاعتبار المعنى والدلالة في كل المسار التعليمي.
- يتبنى أسلوب الإدماج للمعرف بدل الأسلوب التراكمي للمكتسبات.
- توجيه التعليم نحو تنمية القدرات (التحليل - التركيب - حل المشكلات ...)
- دور المعرفة:
- المعارف عي عناصر لتنشيط وضعيات التعلم.
- أسس الانتقاء المدرسي.
- موارد لخدمة الكفاءات.
- مكتسبات قبلية لبناء معرفة جديدة. لذا وجب جعل المعارف ضمن المقاربة التي تضمن إدماج المكتسبات القبلية لبناء معارف جديدة.

4- دور الكتاب المدرسي وكيفية استعماله:

أ- دور الكتاب المدرسي:

- يعتبر الكتاب المدرسي وسيلة تعليمية فهو مرجع معرفي وسند بيداغوجي للأستاذ والتلميذ.
- وجود الكتاب المدرسي هو ضمان لوحدة التعليم والتكوين، وذلك وفق مقاييس منظمة للمحتوى المعرفي التربوي.
- يعتبر معيار للحقيقة المعرفية التكوينية داخل العملية التعليمية/التعلمية، بفضل الاستثمار الهادف من طرف الأستاذ، والاستيعاب والاستغلال الجيد من طرف التلميذ.
- يترجم متطلبات المنهاج.
- يعتمد مقاربة جديدة هي المقاربة بالكفاءات.
- يقترح محتويات علمية تنمي الرصيد العلمي للمتعلم.
- يقترح وضعيات تعليمية مختلفة ومتنوعة ومتدرجة في الصعوبة.
- يعالج وضعيات مستهدفة باعتبارها إحدى وأهم مؤشرات المقاربة بالكفاءات.
- يركز على التقييم في أوقات مختلفة من سيرورة الفعل التعليمي/التعلمي.

ب- كيفية استعمال وتوظيف الكتاب:

العمل داخل القسم:

- يجب التأكيد على أن تدريس مادة علوم الطبيعة والحياة، يرتكز أساسا على الملاحظة المباشرة والممارسة اليدوية الملموسة كالنمذجة واستغلال التكنولوجيات الحديثة كلما توفرت شروط ذلك.
- يعتبر الكتاب مصدرا للوثائق التي تعتبر دعائم، وسندات إلى جانب الدعائم الأخرى كالشفافيات والأفلام... الخ.
- يمكن استغلال الكتاب في القسم من طرف التلاميذ بطلب من الأستاذ كلما اقتضت الضرورة ذلك. عن طريق استغلال الوثائق التي تدعم النشاطات، التي بدورها تخدم الكفاءات المسطرة.

العمل خارج القسم:

- إن للكتاب المدرسي دورا هاما في انجاز النشاطات الفردية للتلميذ كتحضير الدرس أو أي عمل مكمل لنشاطات القسم. مع التذكير بأن الكتاب المدرسي يتضمن عددا من الفقرات منها النشاطات الضرورية لبناء المعارف التي تستغل في الوضعيات التعليمية التي يمكن للأستاذ تحضيرها كسندات. تحقيقا للمعارف المستهدف بنائها حسب ما هو وارد في المنهاج التي تشمل خلاصات بسيطة.
- نشير أيضا إلى استغلال تمارين الكتاب بهدف مراقبة المعارف المكتسبة أو استغلال هذه التمارين أثناء التقويم التكويني في القسم.

- نأمل أن يكون للأساتذة دورا كبيرا في تدريب التلاميذ تدريجيا على الاستعمال المنظم والمتكرر والوجيه للكتاب المدرسي. فذلك يسمح للتلميذ بالوصول إلى المعرفة بمفرده، ويكسبه ثقافة استعمال الكتاب.

6- دور الدليل:

- يهدف دليل الأستاذ في تطبيق الكتاب المدرسي إلى:
- ربط العلاقة بين مكونات المنهج كمشروع بيداغوجي يعتمد المدخل إلى التعليم عن طريق الكفاءات، والكتاب المدرسي الذي يترجم ذلك المنهج.
- شرح ما ورد في المنهج.
- التعرف على مفاهيم بيداغوجية جديدة ضرورية لتطوير العمل التربوي.
- تقديم وتوضيح الكفاءات والمحتويات الموضحة في الكتاب.
- الإطلاع على نماذج وأمثلة توضيحية بهدف توظيف الكتاب توظيفا سليما.
- تقديم المسعى العلمي/التعلمي المعتمد.
- تقديم خطة لسيروة تعليم/تعلم المعتمد من طرف فريق التأليف.
- تقديم استراتيجيات لبرمجة تعلمات المتعلمين.
- المشاركة في تكوين الأستاذ.
- يسهل مهمة الأستاذ ويجعله يتأقلم مع التصور الجديد للتعليم ومع المقاربة الجديدة.

البطاقة البيداغوجية للتعريف بالكتاب:

تشرح هذه البطاقة العلاقة بين محتويات المنهج وأهدافه. والكتاب المدرسي، من خلال المجالات المفاهيمية المقررة للدراسة والوحدات، إلى جانب الوحدات الفرعية (الوضعيات التعليمية، الأنشطة... الخ) التي تحقق أهداف الوحدات ومن ثم المجالات.

1- احصائيات عامة: ملاحظة : الوحدات التي تحمل الإشارة * هي وحدات مشتركة بين الشعبتين

المجال	الوحدات	عدد الأنشطة الجزئية	عدد الأنشطة	مجموع النشاطات	(التقويم) أستثمر معارفي وأوظف قدراتي
I-التخصص الوظيفي للبروتينات	1- تركيب البروتين *	5	22	27	5
	2- العلاقة بين بنية ووظيفة البروتين *	3	12		5
	3- لنشاط الإنزيمي للبروتينات	4	09		6
	4- دور البروتينات في الدفاع عن الذات *	9	27		9
	5- دور البروتينات في الإتصال العصبي	6	17		5

3	11	13	4	1 - آليات تحويل الطاقة الضوئية إلى طاقة كيميائية كامنة	II- التحولات الطاقوية
2		16	6	2- آليات تحويل الطاقة الكامنة في الجزيئات العضوية إلى ATP	
2+5		02	1	3- آليات تحويل الطاقة على مستوى مافق البنية الخلوية	
5	14	10	3	1- النشاط التكتوني للصفائح	III- التكتونية العامة
7		14	3	2- بنية الكرة الأرضية	
7		27	8	3- النشاط التكتوني والبنىات الجيولوجية المرتبطة به	
9	12	17	5	1- العلاقة بين نشاطات الإنسان وتسيير الكوكب	II - خاص بشعبة الريا ضيات الإنسان وتسيير الكوكب
		07	3	2- مصادر تلوث الماء	
		05	02	3- الحالات الصحية المرتبطة بالتلوث	
		03	02	4- التأثير الإيجابي للإنسان على مستقبل الكوكب	

1-الأهداف البيداغوجية لمضامين الكتاب:

المجال:

العنوان مصاغ في الكفاءة المرحلية للمجال.
 ❖ مدخل المجال: تمت صياغته انطلاقاً من الفكرة المنظمة للمجال، وهو يخدم الكفاءة القاعدية المراد تحقيقها، والتي تعبر عن المجال المفاهيمي. فالنص المعبر عن مدخل المجال يلخص مختلف المواضيع المقترحة لتحقيق الكفاءة القاعدية، والتي طرحت على شكل وضعيات إشكالية يتم حلها تدريجياً خلال الوحدات انطلاقاً من النشاطات المقترحة.

نشير إلى أن الوضعيات المقترحة للحل، بعضها ليست وضعيات إشكالية حقيقية لذا ندعو الأستاذ إلى البحث مع التلاميذ عن وضعيات إشكالية حقيقية يتم اقتراحها.
 ❖ صورة المجال: تم إدراجها كصورة شاملة قد تكون مركبة من عدة صور اورسومات مرتبطة أساساً بموضوع المجال، وهي تعبر عن المفاهيم التي نسعى لبنائها وفق مسعى علمي/تعليمي.

المكتسبات القبلية:

يمكن للأستاذ الاعتماد عليها في وضعيات الانطلاق، وهي تمثل في أغلبها نشاطات تهدف إلى التذكير بمفاهيم و معارف مدعمة برسومات يتم استخلاصها، وهي ضرورية لفهم المواضيع المقترحة في المجال، وتعتبر أحد الموارد التي تعبر عن خبرات ومعارف التلميذ السابقة تعينه على حل الإشكاليات التي تعترضه أثناء أداء مختلف نشاطات الوحدة لتحقيق الكفاءات المسطرة.

الوحدة:

❖ مدخل الوحدة: مصاغ ليبر عن المفاهيم التي نسعى لبنائها لتحقيق كفاءات متعلقة بالوحدة، النص المرافق لصورة الوحدة تمت صياغته بشكل وضعيات انطلاق تعبر عن إشكاليات بسيطة وفي بعض الوحدات تمت صياغة إشكاليات حقيقية يتم حلها انطلاقاً من إشكاليات كل نشاط ضمن عناصر الوحدة.

❖ **صورة الوحدة:** صورة شاملة أقل شمولية من صورة المجال وهي مرتبطة بموضوع الوحدة تعبر عن المفاهيم التي نسعى لبنائها أثناء وفي نهاية الفعل التعليمي.

النشاطات:

هي الإطار الذي يواجه فيه التلميذ الوضعيات التعليمية بالبحث والتقصي وذلك بتجنيد موارده المختلفة.

ويعتمد الكتاب على ثلاثة أنواع هي النشاطات مميزة:

نشاطات عملية: تقترح معالجة يدوية وإنجازات عملية. يمكن تحقيقها في القسم أو في المنزل وهي تعتمد في أغلبها على النمذجة ، والتجريب المدعم بالحاسوب ، واستعمال تكنولوجيا الإعلام الآلي تنجز هذه النشاطات من طرف التلاميذ حسب معطيات النشاط.

نشاطات عملية/وثائقية: وهي متنوعة مختارة وتوجيهية تهدف لبناء مفاهيم تتم بمعالجة يدوية تدعم بوائق.

نشاطات وثائقية: وهي عديدة مختارة بعناية تضمن هذه الوثائق نشاطات لبناء المفاهيم المسطرة في المنهاج. تدعم النشاطات بأسئلة متنوعة وهادفة الهدف منها استقلال دعائم النشاط. تمكن المتعلم من تنمية مهاراته في المجالات المختلفة وبناء المفاهيم العلمية واكتساب سلوكات جديدة تنمي الكفاءات المستهدفة في النشاطات ومنه التحقيق التدريجي للكفاءة القاعدية.

الحصيلة المعرفية:

الهدف منها جمع نتائج الدراسة والمفاهيم التي تم بناؤها خلال أداء المتعلم للنشاطات بشكل فعال مع الإشارة إلى ضرورة بنائها من طرف التلاميذ بتوجيه من الأستاذ في القسم.

الحوصلة:

عبارة عن نشاط إدماجي، يبرز أهم المفاهيم التي تم بناؤها. وذلك من خلال ربط نصوص قصيرة مركزة أو بشكل مخططات عامة شاملة تهدف إلى ترسيخ المفاهيم ومفاهيم المكتسبة لدى المتعلم.

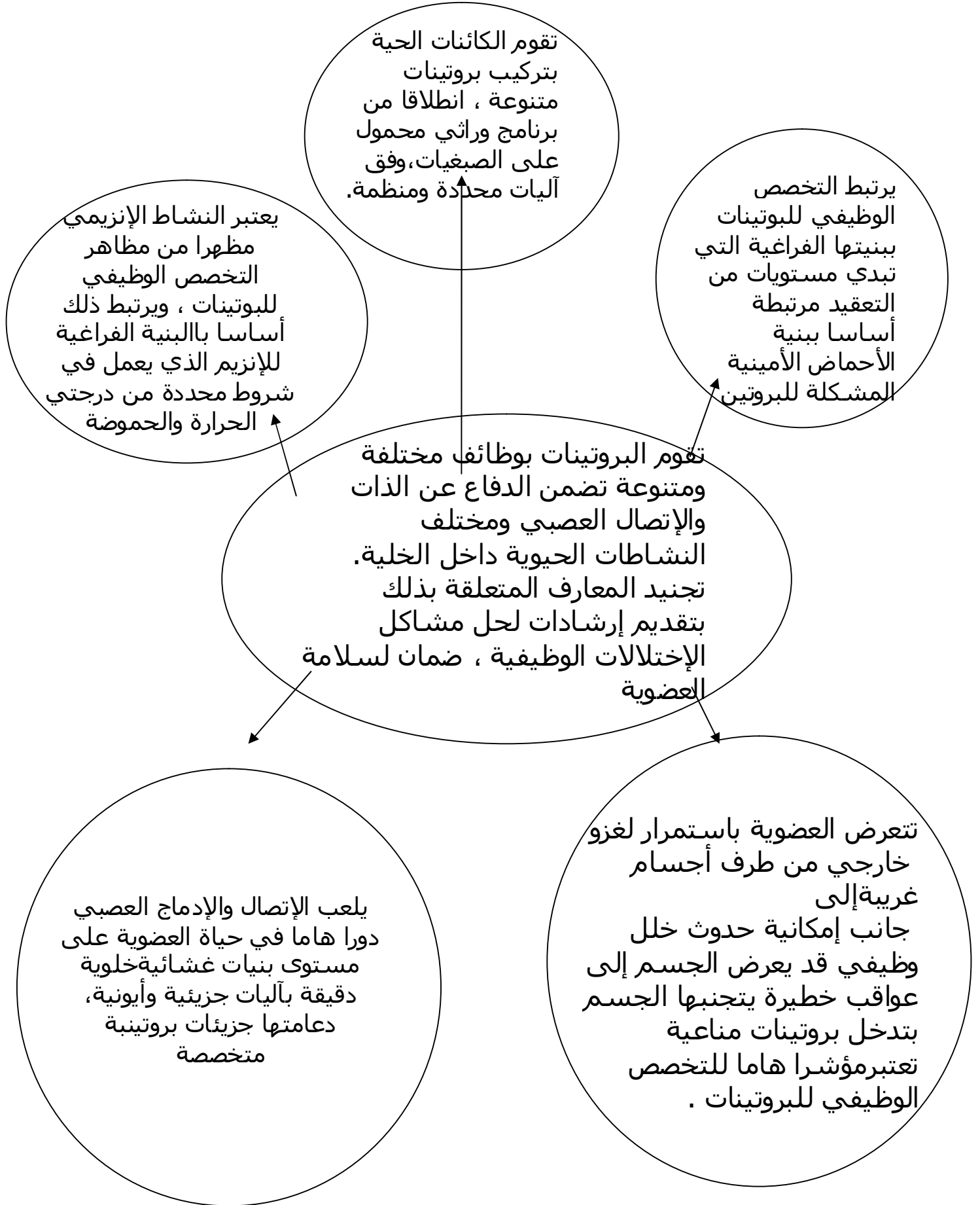
التمارين:

تهدف إلى تقويم مكتسبات المتعلم من خلال. أستثمر معارفي وأوظف قدراتي: تهدف إلى أهمية تحسيس التلميذ بأهمية تجنيد مكتسباته لاستعمالها في وضعيات جديدة.

معلومات مفيدة:

الهدف منها تعريف المتعلم بالمصطلحات العلمية الجديدة بالنسبة إليه وبعض المفاهيم التي وردت في النشاطات بهدف تعزيز الرصيد العلمي للمتعلم.

المحتوى المعرفي للمجال (1): التخصص الوظيفي للبروتينات



المجال الأول: التخصص الوظيفي للبروتينات

مدخل المجال: الهدف من المدخل هو طرح وضعية حقيقية مشوقة يتضح من خلالها الدور المهم للبروتينات.

الصورة: تهدف الصور إلى طرح وضعية حقيقية تتمثل في مرض جنون البقر أين تظهر عواقب تغير بنية البروتين المتمثل في ظهور أمراض خطيرة لا تزال بعض تفاصيلها مجهولة لحد الآن. كما تهدف الوضعية إلى جعل التلميذ يتساءل عن البروتينات وبنيتها ووظيفتها. توضح أيضا الصور الأخرى للمدخل بروتينات لها دور في النقل العصبي بالإضافة إلى خلية مناعية متخصصة. وهي كلها صور تعبر عن مضمون المجال.

النص: يوضح النص مرض جنون البقر وأسبابه ودور البروتينات في ظهور المرض. كما يطرح النص إشكالية تتعلق أساسا بالبروتينات وأهميتها.

الوحدة الأولى: تركيب البروتين

الصورة: توضح الصورة عنكبوت وهي تبني بيتها من خيوط تتكون من بروتين يدعى الفبروين Fibroine وهي وضعية يمكن للتلميذ مشاهدتها يوميا. تعتبر هذه من الوضعيات النادرة التي يمكن فيها رؤية كائن حي وهو يقوم ببناء البروتين. يمكن كذلك الإشارة إلى وضعيات مماثلة مثل إنتاج خيوط الحرير من طرف دودة الحرير مثلا.

النص: يحاول النص الانتقال من وضعية العنكبوت وتعميم ظاهرة القدرة على إنتاج البروتين كإحدى المميزات الأساسية لكل الكائنات الحية، لكن هذه البروتينات لا يمكن مشاهدتها إلا باستعمال طرق ووسائل متطورة.

يطرح النص الإشكالية التي تعالجها الوحدة وهي آلية تركيب البروتين بمراحلها المختلفة من حيث العناصر الداخلة في تركيب البروتين ومقر التركيب ووجهة البروتين بعد التركيب.

النشاط 1 : المكتسبات القبلية

يهدف هذا النشاط إلى استرجاع بعض المعارف الأساسية التي تناولها التلميذ في السنة الثانية عند دراسته لجزيئة ADN ومعارفه حول الوراثة.

الإشكالية المطروحة: اختلاف الموقع بين المورثات (المادة الوراثية) التي تتواجد في النواة عند الخلايا حقيقية النواة وتواجد البروتينات أساسا في السيتوبلازم. من خلال النشاط يتم توجيه التلميذ نحو إيجاد علاقة بين المورثات والبروتينات.

يهدف السؤال 1 و 2 إلى إيجاد العلاقة بين: دعامة المعلومات الوراثية (أو الجزيئة الحاملة للمعلومات الوراثة المتواجدة في النواة)

التعبير المورثي وهو التعبير عن المعلومات الوراثة في شكل بروتين.

النشاط 2: مقر تركيب البروتين

يهدف النشاط إلى تحديد مقر تركيب البروتين في الخلية

النشاط الجزئي 1:

إظهار مقر تركيب البروتين عن طريق استعمال تقنية التصوير الإشعاعي الذاتي وأحماض أمينية موسومة. تدل البقع السوداء عند التصوير الإشعاعي الذاتي على أماكن تواجد البروتين التي تم تركيبها انطلاقا من الأحماض الأمينية المشعة.

يقوم التلميذ من خلال الإجابة عن السؤال باستخلاص المعلومات من الوثيقة 1 التي تمثل رسم تخطيطي لخلية عنقودية من البنكرياس ومن صورة لمجهر الإلكتروني (الوثيقة 2) التي توضح جزء من خلية حيوانية (ليست بالضرورة خلية بنكرياسية).
التعليل يكون من خلال استعمال العناصر المشعة (تتبع مكان وجود الإشعاع) كما هو موضح كذلك في المعلومات المفيدة.

النشاط الجزئي 2:

بعد توصل التلميذ إلى إيجاد علاقة بين المعلومات الوراثية بالرغم من اختلاف موقع كل منهما (مقر المعلومات الوراثية في النواة ومقر تركيب البروتين في السيتوبلازم) يتم توجيه التلميذ نحو اقتراح فرضية أو فرضيات لكيفية استعمال المعلومات الوراثية لتركيب البروتين. اقتراح الفرضيات يعتمد على احتمالين : إما انتقال المعلومات الأصلية من النواة إلى السيتوبلازم أو انتقال نسخة من هذه المعلومات.
يتم مناقشة الفرضيات و يتم الاحتفاظ بالفرضيات التي تعتمد على أسس علمية صحيحة يمكن أن تبرز فرضيتان:

- فرضية انتقال المعلومات الأصلية في صورة ADN من النواة إلى السيتوبلازم في هذه الحالة يمكن تتبع انتقال الإشعاع في الـ ADN من النواة إلى السيتوبلازم.
- فرضية انتقال نسخة لجزء من هذه المعلومات في صورة أخرى يتم البحث عنها لاحقاً عن طريق تتبع انتقال الإشعاع.
ملاحظة هامة : يجب إعطاء الأهمية لكيفية اقتراح الفرضيات ومناقشتها ثم التحقق منها بعد ذلك عن طريق التجربة ، حتى يتعلم التلميذ المنهجية المتبعة في الوصول إلى اكتشاف الظواهر الجديدة وتبلور مفاهيم جديدة أو تصحيح مفاهيم خاطئة.

التحقق من الفرضيات:

يتم التحقق من الفرضية أو الفرضيات الصحيحة في العلوم التجريبية عن طريق التجربة.
التجربة الأولى: الهدف من التجربة هو محاولة إثبات دور نوع آخر من الأحماض النووية (ARN) في تركيب البروتين.

السؤال 1: يهدف لتحليل نتائج التجارب ويسمح بالاستخلاص أن للـ ARN دور في تركيب البروتين (أي هو الذي يحدد نوع البروتين الذي يتم تركيبه) ، من خلال قدرة خلايا الضفدع على تركيب الهيموغلوبين بعد حقنها بـ ARN من خلية أخرى.

يهدف السؤال 2 إلى تفسير سبب استعمال اليوراسيل المشع ويؤدي بالتلميذ إلى الاستنتاج أن اختيار المادة الموسومة مهم جداً لإثبات النتائج. فاختيار الأحماض الأمينية يتم عادة لإثبات مقر تركيب البروتين واختيار اليوراسيل لإثبات تركيب ARN وهكذا.

التجربة الثانية : توضح انتقال الـ ARN من النواة إلى السيتوبلازم مما يؤكد أن ARN يتم تركيبه في النواة وينتقل إلى السيتوبلازم.

السؤال 1 : باستغلال نتائج التجربتين 1 و 2 معا يمكن الوصول إلى أن ARN يحدد نوع البروتين الذي يتم تركيبه وينتقل ARN بعد تركيبه من النواة إلى السيتوبلازم.

السؤال 2 : يمكن إلغاء الفرضية التي تنص على انتقال المعلومات الأصلية (ADN) والاحتفاظ بفرضية انتقال نسخة من هذه المعلومات في صورة ARN .

السؤال 3 : يمكن اقتراح تسمية لهذا ARN من خلال نتائج التجارب بأنه الحامل لنسخة من المعلومات الوراثية أو الرسالة الوراثية من النواة إلى السيتوبلازم.

النشاط الجزئي 3 :

المكونات الكيميائية لجزء ARN :
يهدف هذا النشاط الجزئي إلى التعرف على التركيب الكيميائي للـ ARN الذي لم يتعرف عليه التلميذ في السنة الثانية.
السؤال 1 : يتم التعرف على تركيب الـ ARN عن طريق التعرف على نواتج الإمالة الكلية والجزئية.
يمكن استغلال المكتسبات القبلية حول التركيب الكيميائي للـ ADN لاستنتاج التركيب الكيميائي للـ ARN السؤال 2 : يجب توجيه التلميذ نحو ربط مكونات النيوكليوتيدة (سكر + قاعدة + حمض الفسفوريك) في المرحلة الأولى، ثم ربط النيوكليوتيدات فيما بينها لتكوين سلسلة من النيوكليوتيدات للوصول إلى ARN .
ليصل التلميذ إلى أن ARN يتكون من ارتباط عدد من النيوكليوتيدات بروابط إستير فسفاتيّة، وأن تركيب البروتين يتم بانتقال نسخة من المعلومات الوراثية من النواة إلى السيتوبلازم في صورة ARN يدعى هذا الـ ARN بـ ARN الرسول.

النشاط 3: استنساخ المعلومات الوراثية

الهدف التعليمي : يهدف هذه النشاط إلى التعرف على آلية تشكل نسخة من المعلومات الوراثية لغرض انتقالها من النواة إلى السيتوبلازم بهدف تركيب بروتين معين.

النشاط الجزئي 1:

هو مقارنة بسيطة بين ARN و ADN . يمكن إدماج النشاط السابق في هذا النشاط ضمن سياق التعرف على التركيب الكيميائي للـ ARN من خلال مقارنته مع بنية ADN التي تعرف عليها التلميذ في السنة الثانية.
يهدف السؤال إلى إجراء مقارنة عن طريق إنجاز جدول يلخص نتيجة المقارنة التي تتركز على 3 عناصر أساسية وهي:
الإختلاف في التركيب الكيميائي لسكر الريبوز
الإختلاف في أنواع القواعد الأزوتية (U بدل T)
الإختلاف في عد السلاسل
يمكن كذلك إضافة الاختلاف في الموقع عند حقيقيات النواة

النشاط الجزئي 2 :

يهدف إلى إظهار حدوث عملية الإستنساخ من خلال عرض صورة بالمجهر الإلكتروني (الدليل المباشر) في الوثيقة 2 .
السؤال 1 : من بين أهم المعارف التي يمكن أن يصل التلميذ إلى بناءها هي تحديد اتجاه الاستنساخ من خلال مقارنة طول خيوط ARN الناتجة حيث يزداد طول الخيوط كلما اتجهنا نحو نهاية المورثة.
السؤال 2 : لتوضيح الصورة تم عرض رسم تخطيطي لجزء مكبر من الصورة يظهر العناصر الثلاثة:
أ: ADN ب: ARNm بالإضافة إلى الإنزيم ARN بوليمراز.
ملاحظة: الاستنساخ يعني إنتاج أي نوع من أنواع ARN وليس بالضرورة ARNm ، لكن إنتاج ARNm هو الغالب لأن أنواع البروتينات كثيرة جدا بينما أنواع ARN محدودة جدا كما سيأتي ذكره لاحقا.

النشاط الجزئي 3 :

يهدف إلى إظهار دور الإنزيم ARN بوليمراز في عملية الاستنساخ عن طريق استعمال المثبطات النوعية لهذا الإنزيم ومن أمثلتها المشهورة مادة الأمانيتين Amanitin- التي تتواجد طبيعياً في الفطر السام *Amanita phalloides* وهو الاسم العلمي (اللاتيني) لهذا الفطر.

إدراج صورة الفطر يعطي للتلميذ وضعية حقيقية وبنبهه إلى خطورة بعض أنواع الفطريات السامة.

السؤال : يهدف السؤال إلى استخراج معلومة تشير إلى أن ARN بوليمراز هو الإنزيم المسؤول عن حدوث عملية الاستنساخ.

النشاط الجزئي 4 :

يهدف إلى التعرف على تفاصيل آلية حدوث عملية الاستنساخ.

توضح الوثيقة 4 خطوات حدوث العملية والعناصر الداخلة فيها .

السؤال 1 : يهدف إلى توجيه التلميذ نحو استخراج العناصر الضرورية لحدوث الاستنساخ وهي :

• المورثة (المعلومات الوراثية الأصلية على جزيئة ADN)

• إنزيم ARN بوليمراز

• 4 أنواع من النيوكليوتيدات الداخلة في تركيب ARN

السؤال 2 : يهدف إلى تحديد مراحل أو خطوات حدوث عملية الاستنساخ.

- الرقم 1 يمثل الوضعية التي تكون عليها المورثة قبيل انطلاق الاستنساخ. أي أن انطلاق الاستنساخ يتطلب تعرف ثم ارتباط الإنزيم ARN بوليمراز بمقدمة المورثة.

-الأرقام 2 ، 3 و 4 على التوالي، تمثل خطوات حدوث عملية الاستنساخ وهي الانطلاق والاستطالة ثم النهاية .

السؤال 3 : يهدف إلى توظيف المعارف المكتسبة ومهارات التعبير العلمي السليم قصد كتابة نص علمي يصف فيه التلميذ خطوات آلية عملية الاستنساخ.

النشاط الجزئي 5:

يهدف إلى تأكيد العلاقة بين المعلومات الوراثية الأصلية (ADN) ونسخة من المعلومات في صورة (ARN)

السؤال 1 : يهدف إلى التأكد من استيعاب التلميذ لكيفية تحويل المعلومات من ADN إلى ARN .

السؤال 2 : يهدف هذا السؤال إلى تحديد قاعدة التكامل في القواعد بين ADN و ARN .

النشاط الجزئي 6 :

يهدف هذا النشاط إلى بناء نماذج صلبة للعناصر المتدخلة في عملية الاستنساخ لغرض نمذجة العملية. تترك الحرية للتلاميذ في اختيار نوع المواد التي تستعمل في بناء النماذج. يمكن أن يجري النشاط في المخبر أو يمكن أن يجريه التلاميذ في البيت ويتم تقديم النماذج في المخبر ومناقشة الدقة في إنجازها.

النشاط الجزئي 7 :

ملاحظة : تمت إضافة هذا النشاط نظراً لأهميته وعدم الإشارة إليه في المنهاج بصورة واضحة.

يهدف هذا النشاط إلى الإشارة إلى إحدى المميزات الأساسية للمادة الوراثية في حقيقيات النواة وهو احتواءها على المناطق غير الدالة (introns) التي تفصل المناطق الدالة (exons)

والتي تتواجد كذلك في ARNm الناتج بعد الاستنساخ مباشرة (ARNm أولي) ، إلا أن المناطق غير الدالة تختفي بعد ذلك ويصبح طول ARNm قصيرا (ARNم ناضج) يمكن إثبات وجود هذه الظاهرة عن طريق إجراء ما يعرف بالتهجين الجزئي بين سلاسل ADN وسلاسل ARNm ذات التسلسل المتكامل.

الوثيقة أ تمثل صورة بالمجهر الإلكتروني بينما تمثل الوثيقة ب رسم توضيحي. تحديد المناطق غير الدالة يكون من خلال تحديد المناطق الأحادية والتي تمثل مناطق غير الدالة في ADN والتي ليس لها مقابل في جزيئ ARNm الناضج.

السؤال 1: يهدف إلى الاستنتاج أن ARNm أقصر من ADN مما يشير إلى تغير في تركيبه. السؤال 2 : يهدف إلى تدقيق المعلومة المتحصل عليها في السؤال الأول وهي أن بعض الأجزاء من ARN قد أزيلت (حذفت) مما قد يشير أنها لا تحمل معلومات وراثية.

السؤال 3: يهدف هذا السؤال إلى تحديد أدق لمفهوم القطع الدالة وغير الدالة من حيث عددها وطولها في إحدى المورثات. حيث تمثل الأرقام القطع الدالة لأنها متواجدة في ARNm الناضج بينما تمثل الأحرف المناطق غير الدالة لأنها متواجدة فقط في ADN وغائبة في ARNm وهي المناطق الأحادية عند التهجين.

النشاط 4 : الترجمة

يهدف النشاط إلى توضيح مفهوم الترجمة في المعلومات الوراثية ونوع اللغتين ومكوناتهما. ويطرح النشاط إشكالية رئيسية وهي كيفية ترجمة الشفرة الوراثية إلى بروتين.

النشاط الجزئي 1 :

يهدف هذه النشاط إلى تحديد مكونات اللغتين ومختلف الاحتمالات لعدد الأحرف المكونة لكلمات اللغة النووية لكي تساوي عد كلمات اللغة البروتينية المعروفة مسبقا والمكونة من 20 كلمة والطريقة التي تم اتباعها لتحديد الكلمات النووية المقابلة للكلمات البروتينية.

تم طرح إشكاليتين

- الإشكالية الأولى: التعرف على مختلف الإحتمالات

أ) تم في هذا الكتاب اعتماد فكرة أن عدد كلمات اللغة البروتينية هي 20 وهي معروفة مسبقا لكي يكون الهدف من طرح الإحتمالات هو البحث عن عدد الأحرف المكونة لكل كلمة في اللغة النووية مع العلم أن عدد الأحرف معروفة مسبقا وهي 4 أحرف.

لا يمكن طرح جميع الإحتمالات بل التوقف عند الإحتمال الذي يعطي عدد من كلمات اللغة النووية الذي يساوي 20 إذا كان موجودا.

السؤال 1: يهدف إلى تحديد عدد الكلمات في كل احتمال

الاحتمال الأول : كلمات من حرف واحد فهو غير منطقي، حيث عدد كلمات اللغة البروتينية في هذه الحالة أربع كلمات فقط .

الإحتمال الثاني : يعطي 16 كلمة وهو عدد غير كافي لتغطية كلمات اللغة البروتينية . الإحتمال الثالث : يعطي 64 كلمة في اللغة النووية وهو الأصح بالرغم من أنه يعطي أكثر من 20 كلمة.

ب) استغلال الجدول (الوثيقة 1):

السؤال 1: يهدف إلى اكتشاف وجود المرادفات

السؤال 2 : يهدف هذا السؤال إلى استخراج مختلف الاحتمالات (أي مرادفة واحدة أو 2 أو 3 أو 4 أو 6)

السؤال 3: يهدف إلى تحديد الرامزات بدون معنى أو رامزات التوقف.

- الإشكالية الثانية: تم طرح بعض التجارب التي استعملت لفك رموز الشفرة الوراثية. هذه التجارب هي الأولى التي تم إجراؤها ، واتبعت بتجارب أخرى لفك مختلف الرموز.
السؤال 1: يهدف إلى دفع التلميذ إلى اكتشاف المنهجية المتبعة في فك رموز الشفرة الوراثية.
السؤال 2 : يهدف إلى استنتاج بعض أنواع الثلاثيات.
السؤال 3: عبارة عن تطبيق يهدف إلى إجراء ترجمة يقوم بها التلميذ بعد أن يشكل سلسلة من ARNm مكون من 30 قاعدة.

النشاط الجزئي 2:

يهدف هذا النشاط إلى التعرف على أحد البرامج المستعملة في تحليل تتابع القواعد في ADN أو ARN أو في البروتينات. ممثل في برنامج Anagene
يمكن إيجاد تطبيقات باستعمال البرنامج على شبكة الإنترنت كما نشير أيضا إلى وجود تطبيقين في الوثيقة المرافقة للمنهاج.
السؤال 1 : يهدف السؤال إلى تأكيد ماتم التوصل إليه حول نقل المعلومة الوراثية وترجمتها ، بمقارنة تطبيقات استعمال برنامج Anagene مع ماتم التوصل إليه سابقا ، على أن يقدم التلميذ تبريرا لذلك
السؤال 2 : يهدف السؤال إلى استخلاص أهمية وفائدة استعمال برنامج Anagene في مقارنة تتابع نيوكليوتيدات لمورثات مختلفة .
يهدف سؤال الوثيقة 5 إلى استنتاج أوجه التشابه بين أجزاء مورثات تشرف على تركيب سلاسل ببتيدية مختلفة وجزء المورثة Beta وذلك بحساب النسبة المئوية لكل حالة .

النشاط الخامس: مراحل الترجمة

يهدف هذا النشاط إلى تحديد مقر تركيب البروتين في الهيولى ، أي إلى التعرف على العضيات التي تساهم في تركيب البروتين ومراحل حدوث العملية.

النشاط الجزئي 1:

تهدف الوثائق إلى التعرف على المقر عن طريق التصوير الإشعاعي الذاتي وتوضيح متعدد الريبوزوم.
السؤال 1: يهدف السؤال إلى التعرف على العضيات التي هي مقر تركيب البروتين في السيتوبلازم .
السؤال 2: يهدف إلى إعطاء تعريف لمتعدد الريبوزوم (البوليزوم polysome) والذي يمثل ارتباط عدد من الريبوزومات بجزء واحد من ARNm ، حيث يقوم كل ريبوزوم بانتاج سلسلة ببتيدية في آن واحد.
السؤال 3 : يهدف هذا السؤال إلى الوصول إلى أن متعدد الريبوزوم هو طريقة فعالة لتركيب البروتين بسرعة لإنتاج كمية معتبرة من نفس البروتين في وقت أقل. ويمكن اعتبار أن عدد الريبوزومات المرتبطة هو وسيلة للتحكم في سرعة وكمية تركيب البروتين حسب حاجة الخلية.

النشاط الجزئي 2:

يهدف إلى إثبات دور تشكل متعدد الريبوزوم في تركيب البروتين عن طريق التجربة. فمن خلال السؤال المطروح يصل التلميذ إلى معلومة مفادها أن تشكل البوليزوم ضروري لتركيب البروتين.

النشاط الجزئي 3:

يهدف إلى التعرف على أنواع ARN المتواجدة في الهيولى بعد أن تعرف التلميذ في النشاطات السابقة على أحد أنواع ARN وهو ARNm الذي يتم تركيبه في النواة ويهاجر إلى الهيولى.

تبين الوثيقة (2) نتائج فصل أنواع ARN الهيولية بطريق الطرد المركزي. تحتوي الوثيقة على أنابيب الطرد المركزي والبقع التي يتم الحصول عليها حسب وزنها (كتافتها) بالإضافة إلى المنحنيات التي توضح كمية ARN في كل شوكة.

تمت القياسات أثناء وخارج فترة تركيب البروتين. الجدول الموضح في الوثيقة (3) تم فيه عرض معطيات عامة غير مرتبطة بشروط التجربة الموضحة في الوثيقة (2).

معطيات الجدول تؤكد وتوضح نتائج التجربة وتساعد التلميذ للوصول إلى استنتاج المعلومات الصحيحة حول خصائص أنواع ARN.

• ملاحظة: هذه المعطيات تصحح أحد الأخطاء التي وردت في الموضوع الثاني لبيكالوريا 1999 والذي تم فيه خطأ الإشارة إلى وجود 3 أنواع من ARNt والصحيح أن هناك 3 أنواع من ARNr مختلفة في أوزانها الجزئية.

السؤال 1: إنجاز تحليل مقارن يؤدي إلى الإستنتاج أن أحد أنواع ARN يختلف في خارج فترة تركيب البروتين.

السؤال 2: يتم فيه الوصول إلى تحديد نوع ARN في كل شوكة بالاستعانة بالجدول. حيث: الشوكة 1 و 2 و 3 تمثل أنواع من ARNr

الشوكة 4 تمثل ARNt (بالرغم من تواجد أنواع كثيرة من ARNt كما سيأتي ذكره لاحقاً فإن هذه الأنواع لها نفس الوزن الجزئي تقريبا وهي تختلف في تتابع القواعد وليس في الوزن مما يؤدي إلى ظهورها في نفس الشوكة)

الشوكة 5 تمثل ARNm لأنه يختلف في خارج تركيب البروتين.

السؤال 3: يهدف إلى تفسير سبب اختلاف طول (وزن) ARNm حيث يتغير طوله بتغير طول المورثة (عدد الأحماض الأمينية في البروتين) التي تم استنساخها.

النشاط الجزئي 4:

يهدف إلى توضيح بنية ومكونات الريبوزوم

السؤال 1: يصل فيه التلميذ إلى أن الريبوزوم يتكون من بروتينات وأحماض نووية من نوع ARNr.

السؤال 2: يقدم التلميذ فيه وصفا في شكل نص علمي لبنية الريبوزوم. يتضمن النص مكونات الريبوزوم، مختلف المواقع، مختلف العناصر الأخرى التي ترتبط به (لا تتم الإشارة هنا إلى آلية العمل التي سيتم وصفها لاحقاً).

النشاط الجزئي 5:

تهدف الوثائق إلى توضيح بنية ARNt ومختلف الطرق المتبعة لتمثيله. الهدف من عرض مختلف الأشكال هو تمكن الطالب من التعرف عليه في مختلف الحالات التي يصادف فيها شكل ARNt.

السؤال 1: يهدف إلى استنتاج الأجزاء الرئيسية في بنية ARNt وهي مكان تثبيت الحمض الأميني وموقع الرامزة المضادة anticodon.

السؤال 2: هو تطبيق يقوم فيه التلميذ برسم أربعة أنواع من ARNt لكي يتأكد لديه الاختلاف بين أنواع ARNt يتم إنجاز التطبيق بالاستعانة بالرامزات الموضحة في جدول

الشفرة الوراثية (الصفحة 20). يمكن الربط بين المعارف المتوصل إليها في هذا السؤال والسؤال 2 من النشاط الجزئي 3 (الصفحة 25).

النشاط الجزئي 6 :

يهدف هذا النشاط إلى توضيح دور ARNt .
تشير الوثائق إلى آلية تنشيط الأحماض الأمينية والعناصر الضرورية لذلك.
يهدف السؤال إلى استخراج العناصر اللازمة لتنشيط الأحماض الأمينية ودور كل منها.

النشاط الجزئي 7 :

يهدف إلى تحديد آلية ومراحل حدوث الترجمة.
توضح الوثيقة 9 مراحل وآلية حدوث الترجمة التي تتم في 3 مراحل: الانطلاق ، الاستطالة ثم النهاية. في مستوى ريبوزوم واحد.
كما توضح الوثيقة المرافقة حدوث المراحل المختلفة على مستوى متعدد ريبوزوم.
السؤال 1: يهدف إلى استنتاج العناصر الضرورية لانطلاق الترجمة وهي : تحت الوحدة الصغرى ، ARNt الخاص بـ Met ، تحت الوحدة الكبرى ، ARNt الخاص بالحمض الأميني الثاني.
السؤال 2: يهدف إلى دفع التلميذ إلى استخراج معلومات من خلال الرسم التخطيطي لمرحلة النهاية حول ما يحدث في هذه المرحلة وهي: انفصال السلسلة الببتيدية المتشكلة ، انفصال ARNt الأخير ، انفصال ثم تفكك ARNm ، انفصال تحت وحدتي الريبوزوم.
السؤال 3: يهدف هذا السؤال إلى توجيه التلميذ نحو استعمال مهاراته في التعبير العلمي لوصف مراحل حدوث الترجمة في نص علمي.

النشاط الجزئي 8 :

يهدف هذا النشاط إلى بناء نماذج صلبة للعناصر المتدخلة في عملية الترجمة. تترك الحرية للتلاميذ في اختيار نوع المواد التي تستعمل في بناء النماذج. يمكن أن يجري النشاط في المخبر أو يمكن أن يجريه التلاميذ في بيوتهم ويتم تقديم النماذج في المخبر ومناقشة الدقة في إنجازها. يتم الاحتفاظ بالنماذج الجيدة في المخبر لتبقى كوسيلة إيضاح.
التجربة المعروضة تحت عنوان فك رموز الشفرة الوراثية تصف تجارب أجريت في 1964 لغرض فك كل رموز الشفرة الوراثية وهي مكتملة للتجربة التي تم وصفها في النشاط 4 (الصفحة 21).

كان من الممكن وضع هذه التجربة ضمن النشاط 4 في الصفحة 21 مرافقة ومكملة للوثيقة 2 ، لكن التجربة تتطلب أن يكون التلميذ قد تعرف على آلية حدوث الترجمة وأنواع ARN والريبوزوم لذلك تم تأخيرها ووضعها في هذا الموضوع.
يعتمد مبدأ التجربة على تكون المعقد بين الريبوزوم و ARNt و ثلاثية النيوكليوتيد. هذا المعقد كبير الحجم ولا يعبر ورق الترشيح المستعمل ويكون المعقد مشعاً عند ارتباط ARNt . لذلك فإن تواجد الإشعاع فوق ورق الترشيح دليل على تعرف ARNt على الثلاثية المستعملة. ومنه يتم التعرف على الثلاثية المقابلة لكل حمض أميني. مبدأ التجربة يختلف على التجربة الموصوفة سابقاً في الصفحة 21 لأن في هذه التجربة لا يتم تركيب البروتين أثناء التجربة وإنما فقط تكون المعقد.

يهدف السؤال في هذا النشاط إلى تمكين التلميذ من ترجمة المعلومات المتوصل إليها إلى رسم تخطيطي يحوصل فيه مختلف مراحل عملية تركيب البروتين

النشاط الجزئي 9 :

يهدف هذا النشاط إلى توضيح مصير البروتين بعد تركيبه. حيث يكمل المعارف التي تم التوصل إليها سابقاً فيما يخص آلية تركيب البروتين خاصة وأن الوحدة المقبلة توضح بنية

ووظيفة البروتينات. تم إدراج هذا النشاط لكي يتوصل التلميذ إلى بناء مفهوم توجيه البروتين نحو المكان الذي يؤدي فيه وظيفته بعد أن ينضج ويصبح جاهزا لأداء هذه الوظيفة.

السؤال 1 : يهدف إلى دفع التلميذ للتوصل إلى المسار الذي يسلكه البروتين من مكان التركيب إلى مكان النضج ثم طرح البروتين خارج الخلية في حالة البروتينات الإفرازية. يتم الاستنتاج من خلال استعمال تقنية التصوير الإشعاعي الذاتي. يمكن الرجوع إلى شرح طريقة التصوير الإشعاعي الذاتي التي تم توضيحها سابقا في بداية الوحدة

السؤال 2: الهدف منه دفع التلميذ للبحث وتقديم اقتراح حول ما يمكن أن يحدث في كل عضية يمر بها البروتين قبل إفرازه. ويمكن التلميذ من الوصول إلى استنتاج أن :
-الريبوزوم هو مقر التركيب.
- جهاز غولجي فهو مقر لاكتمال نضج البروتين وتغليفه في شكل حويصلات
-الحويصلات هي وسيلة لنقل البروتين إلى خارج الخلية عن طريق الإطراح الخلوي (نقل حويصلي).

يمكن كذلك تحديد مدة بقاء البروتين داخل كل عضية من خلال زمن ظهور واختفاء الإشعاع فيها.

تمارين الوحدة 1 من المجال الاول:

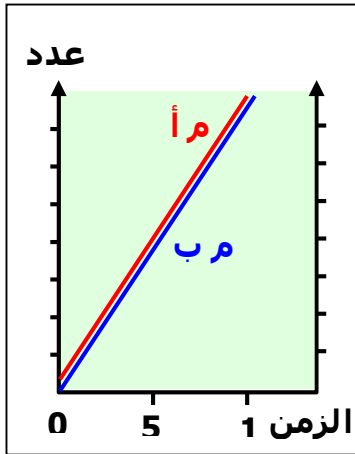
التمرين 1:

يهدف التمرين إلى طرح مفهوم تنظيم إنتاج البروتين حسب حاجة الخلية أو الكائن، من خلال تحليل المنحنيات بصورة منهجية بعد تقسيمها إلى 3 مراحل يصل التلميذ إلى تفسير تزايد نمو البكتريا بنفس العدد في المرحلة الأولى التي تمثل استعمال سكر الغلوكوز.

تفسير ثبات عدد البكتريا في المزرعتين في المرحلة الثانية يكون بعد استهلاك كل الغلوكوز لعدم قدرتها على استعمال السكر الثاني في الوسط وهو اللكتوز. وفي المرحلة الثالثة يفسر التلميذ نمو عدد البكتريا فقط في المزرعة أ التي تكون فيها البكتريا قادرة على استعمال سكر اللكتوز وهي القادرة على إنتاج إنزيم \square -غلكتوسيداز، بينما لا تستطيع البكتريا في المزرعة ب استعمال اللكتوز كمصدر للطاقة وهي غير قادرة على إنتاج إنزيم \square -غلكتوسيداز.

يتساءل التلميذ بعد ذلك عن التباين بين السلالتين من البكتريا في قدرتهما على استعمال سكر اللكتوز مع العلم أن البكتريا قادرة على استعمال سكر أحادي هو الغلوكوز. يمكن كذلك التوصل إلى الزمن اللازم لتحفيز مورثة لغرض تركيب البروتين وذلك من خلال مقارنة الزمن بين توقف الزيادة في أعداد البكتريا وبداية ظهور إنزيم غلكتوسيداز في الوسط. ففي السؤال 3: يقترح التلميذ فرضية يوضح فيها أن إنتاج الإنزيم الذي هو بروتين يتطلب عملية استنساخ ثم ترجمة حسب ما تعرف عليه الطالب من خلال الوحدة. يتطلب تركيب البروتين معلومات وراثية في مورثة ففي حالة حدوث طفرة قد تصيب المورثة تصبح الخلية غير قادرة على إنتاج الإنزيم.

في السؤال 4 : يطلب من التلميذ أن يرسم منحنى لحالة جديدة (وضعية جديدة) بالاعتماد على ما توصل إليه في الأسئلة السابقة. شكل المنحنى ممكن أن يشبه المنحنى التالي:



من المتوقع أن يرسم التلميذ خطين مستقيمين متوازيين يشبهان المرحلة الأولى من التجربة السابقة وذلك لأن كلا السلالتين من البكتريا قادرة على استعمال الغلوكوز وأن الطفرة في البكتريا ب لم تؤثر على استعمال الغلوكوز وإنما على استعمال اللكتوز. في هذه المرحلة يتم إنتاج الإنزيم اللازم لإمالة سكر اللكتوز واستعمال نواتج الإمالة في إنتاج الطاقة والنمو.

أن إنتاج الإنزيم \square -غلكتوسيداز يتم فقط بوجود سكر اللكتوز في الوسط لأن الخلية تكون في حاجة إلى إنزيم لإمالة اللكتوز (سكر الحليب) لغرض الإستفادة من سكر الغلوكوز والغلكتوز إنتاج (سكر الحليب) لا يتم إنتاج الإنزيم إلا في البكتريا أ عند استهلاك سكر الغلوكوز المفضل عن سكر اللكتوز كمصدر للطاقة.

التمرين 2:

يهدف التمرين إلى تحديد بعض خصائص ومميزات ARNm. ملاحظة: الخط الأحمر يمثل كمية ARN بينما يمثل الخط الأزرق كمية البروتين بعد التحليل المقارن للمنحنيين وفق المرحلتين (بعد الحقن الأول وبعد الحقن الثاني) يمكن للتلميذ أن يستنتج أن جزيئة ARNm تستهلك لأن كميتها تتناقص مع مرور الزمن. بينما تزداد كمية البروتين مع الزمن. الخاصية التي يتميز بها ARNm هي مدة بقائه قصيرة أي أنه يهدم بعد تركيبه بقليل أي بعد استعماله في بناء البروتين. يمكن ملاحظة ذلك من خلال تناقص كميته مع الزمن بعد الحقن الأول ثم كذلك بعد الحقن الثاني.

السؤال 3 : التعليل يعتمد على عدم قدرتها على إنتاج نسخة من المعلومات الوراثية في النواة. إمكانية تركيب البروتين لفترة قليلة يعود إلى الكمية من ARNm التي تم تركيبها قبل نزع النواة.
يمكن ربط نتيجة السؤال الثالث مع ما توصل إليه التلميذ من السؤال الثاني حول مدة بقاء جزيئة ARNm .

التمرين 3 :

يهدف التمرين إلى دفع التلميذ إلى إجراء عملية استنساخ ثم ترجمة من خلال الإجابة على السؤال الأول.
مقارنة التابع يسمح بتحديد الاختلاف والاستنتاج بأن ذلك يعود إلى اختلاف في المعلومات الوراثية.
التعليل بدقة يقود إلى أن الكائنين من نوعين مختلفين.
من خلال السؤال 3 يقوم التلميذ بتحليل منهجي للمنحنيين ويستنتج من ذلك أن البروتين يصنع داخل الخلية ثم يفرز إلى الخارج ، يتم التوصل إلى ذلك من خلال مقارنة زمن ظهور الإشعاع وتطور كميته مع الزمن.

التمرين 4 :

يهدف إلى توضيح حالة استثنائية في ترجمة المعلومات الوراثية عند البرامسيوم.
ظهور رامزة توقف يؤدي إلى توقف تركيب البروتين عند الأرنب بينما لا يتوقف تركيب البروتين عند البرامسيوم.
الفرضية قد تشير إلى أن رامزة التوقف عند الأرنب ليست نفسها عند البرامسيوم أي أن هناك حالات استثنائية عند بعض الكائنات. وأن رامزة التوقف عند الأرنب تعني حمض أميني معين عند البرامسيوم.
السؤال 3 يحاول من خلاله التلميذ التوصل إلى نوع الحمض الأميني الذي يقابل رامزة التوقف عند الأرنب أي أن رامزات التوقف عند الأرنب لا تفسر بأنها رامزات توقف بل أحماض أمينية. تشير الملاحظات إلى أن رامزة التوقف عند الأرنب قد تعني رامزة الغلوتامين عن البرامسيوم مما يجعل البروتين عند البرامسيوم يحتوي على عدد أكبر من أحماض Gln .
وفي السؤال 4 يستنتج التلميذ القاعدة العامة التي تم استثناءها في حالة البرامسيوم.

التمرين 5 :

يهدف التمرين إلى دفع التلميذ إلى تثبيت معارفه حول الإستنساخ والترجمة وذلك من خلال:
1- البحث عن منطقة ADN التي توافق رامزة الانطلاق AUG . بما أن السلسلة الموضحة في الوثيقة هي السلسلة غير المستنسخة فإن الثلاثية هي ATG .
2- الحصول على السلسلة المستنسخة بالكامل.
3- تمثيل سلسلة ARNm .
4- إجراء الاستنساخ للحصول على ARNm
5- البحث عن ثلاثية Ser لتحديد موقع الطفرة.
6- توقف تركيب البروتين قد يعود إلى ظهور رامزة توقف ، يتم دفع التلميذ للبحث عن الثلاثية التي حدثت فيها طفرة فأدت إلى ظهور رامزة توقف على مستوى جزيئة ADN

الوحدة الثانية: العلاقة بين بنية ووظيفة البروتين

مدخل الوحدة: يهدف المدخل إلى طرح وضعية حقيقية تعرف عليها التلميذ سابقا وهي فقر الدم المنجلي وهي في نفس الوقت مرض وراثي خطير يصيب الإنسان. يعتبر هذا المرض مثالا جيدا يوضح العلاقة بين البنية والوظيفة ، حيث يؤدي تغير في أحد الأحماض الأمينية بسبب طفرة وراثية إلى تغير في البنية الفراغية للبروتين مما يعطل وظيفتها ويؤثر على شكل كرات الدم الحمراء وبالتالي خطر انسداد الأوعية الدموية. توضح الوثائق المعروضة سلسلة بيتيدية في هيموجلوبين شخص سليم وشخص مصاب من حيث تتابع الأحماض الأمينية ، إلى جانب شكل كرات الدم الحمراء في الحالتين وتدفق هذه الكريات داخل الأوعية الدموية. كما توضح الصورة في أسفل الوثيقة تمثيل مبسط لبنية فراغية لبروتين الهيموغلوبين المرتبط والخالٍ من الأكسجين. إن اختيار هذه الوضعية الهدف منها دفع التلميذ للتساؤل حول العلاقة الموجودة بين بنية البروتين ووظيفته ، حيث سيكتشف التلميذ من خلال النشاطات المقدمة في الوحدة الثانية وفي كل وحدات المجال الأول أمثلة عن العلاقة بين بنية البروتين ووظيفته.

ملاحظة: تم إضافة نشاطين (الأول والثاني) في هذا الكتاب كتمهيد لدراسة البنية الفراغية للبروتينات باستعمال برامج كمبيوتر متخصصة نظرا لأن التلميذ لا يمكنه مقارنة بنيت فراغية تم الحصول عليها من خلال هذه البرامج دون علم مسبق بالبنية الفراغية للبروتين وكيفية تمثيلها باستعمال هذه البرامج

النشاط 1: تمثيل البنية الفراغية للبروتين

يهدف هذه النشاط إلى توضيح القواعد المتبعة في تمثيل النماذج الجزيئية عموما وللبروتينات بصورة خاصة. إن معرفة هذه القواعد سوف يسهل على المتعلم الاستفادة من برامج الحاسوب والتعرف على مميزات البنية بصورة أسهل. يهدف السؤال المطروح إلى التوصل إلى مزايا استعمال نماذج مختلفة. يمكن أن يجد التلميذ الإجابة من خلال قراءة النص المرافق للصور والوثائق المعروضة.

يمكن إيجاد دليل الإستعمال وتطبيقات باستعمال البرنامج في شبكة الإنترنت في الموقع التالي:

www.ens-kouba.dz/arabic/rastop.htm

النشاط 2:

لم يتم الإشارة إلى هذا النشاط في المنهاج وقد رأينا أنه ضروري لكي يتمكن التلميذ من مقارنة البنيات الفراغية للبروتينات المقترحة في المنهاج في النشاط الموالي. يهدف هذا النشاط إلى تعريف التلميذ بمستويات البنية الفراغية لبنية البروتينات ومختلف الروابط التي تساهم في ثبات كل مستوى من مستويات هذه البنية الفراغية ، والممثلة في الأجزاء (1، 2، 3، 4).

السؤال 1: يهدف إلى دفع التلميذ للتوصل إلى أن الانتقال من البنية الأولية إلى الثانوية يمر عبر إتفاف السلسلة الببتيدية ذات البنية الأولية (لا يمكن استعمال كلمة تحلزن في كل الحالات لأن التحلزن يؤدي إلى ظهور شكل حلزوني وهو صحيح بالنسبة للبنية الثانوية الحلزونية □).

السؤال 2: البنية الثالثة هي التفاف السلسلة الببتيدية ذات البنية الأولية والثانوية. تتميز بنقص في الطول وزيادة في السمك بسبب الالتفاف. تأخذ البنية الثالثة عادة الشكل الكروي. وتتميز عن الثانوية في نوع الروابط المساهمة في استقرارها. يمكن إيجاد المعلومات الضرورية في النص المرافق للأشكال والوثائق المقدمة داخل هذا النشاط في الكتاب.

البنية الرابعة: يهدف هذا الجزء من النشاط إلى توضيح هذا المستوى من البنية وتصحيح الخطأ الذي كان متداولاً في المنهاج القديم حول عدد السلاسل الببتيدية التي تتواجد في البنية الرابعة، حيث يتم ذلك عن طريق تقديم مثالين وعدم الإقتصار على مثال واحد هو الهيموغلوبين.

يجب التنبيه على أنه لا علاقة بين 4 تحت وحدات والبنية الرابعة كما يجب تفادي استعمال مصطلح البنية الرابعة لأنها تؤدي إلى فكرة أن البنية الرابعة تعني دائماً أربعة سلاسل ببتيدية (تحت وحدات).

يهدف السؤال في هذه الفقرة إلى لفت انتباه التلميذ إلى أن هذا المستوى من البنية الفراغية هو أكثر المستويات تعقيداً مهماً كان عدد السلاسل الببتيدية وهو مستوى أعلى من المستوى الثالثي لأنه يتكون من سلاسل ببتيدية لكل منها بنية ثالثة. يجب تفادي استعمال كلمة التفاف عند الانتقال من البنية الثالثة إلى البنية الرابعة لأن الانتقال ينتج عن تجمع السلاسل الببتيدية ذات البنىات الثالثة وليس عن الزيادة في التفافها.

كما يجب الانتباه إلى أن البنية الرابعة لا توجد عند جميع أنواع البروتينات أي أن هناك بروتينات تتوقف فيها درجة التعقيد عند البنية الثالثة وتكون في هذه الحالة البنية الوظيفية هي البنية الثالثة. أما البروتينات ذات البنية الرابعة فإنها لا تؤدي وظيفتها إلا إذا كانت السلاسل الببتيدية متجمعة في بنية رابعة. لذلك فإن السؤال في الصفحة 45 يؤكد على الحد الأدنى لعدد تحت الوحدات في البنية الرابعة وهو 2 والحد الأقصى لعدد تحت الوحدات غير محدد.

النشاط 3 : العلاقة بين بنية ووظيفة البروتين

يهدف هذا النشاط إلى محاولة فهم العلاقة بين بنية البروتين ووظيفته وذلك بداية بفهم البنية ثم محاولة ربطها بالوظيفة.

النشاط الجزئي 1 :

يهدف إلى تقديم نماذج حول البنية الفراغية لبروتينات معروفة تؤدي وظائف مختلفة في الجسم ويحاول التلميذ من خلال مقارنة البنية الفراغية التوصل إلى أنها مختلفة.

السؤال 1 : يهدف إلى إجراء مقارنة واستخراج أوجه الاختلاف والتشابه عناصر المقارنة:

درجة التعقيد: بسيطة (الإنسولين) معقدة (مثل الهيموغلوبين) متوسطة التعقيد (الليزوزيم والميوغلوبين)

عدد السلاسل: واحدة (ميوغلوبين و ليزوزيم) ، سلسلتان (الإنسولين) ، 4 سلاسل (الهيموغلوبين)

أنواع البنىات الثانوية : الحلزونية □ (باللون الأحمر) أو وريقات □ باللون الأصفر ومناطق الإنعطاف (أبيض - أزرق)

عدد البنىات الثانوية : 3 فقط في الإنسولين ، حوالي 8-10 في الليزوزيم والميوغلوبين ، أكثر من 10 في الميوغلوبين (حوالي 32) لا يمكن الوصول إلى تحديد العدد إلا إذا تم استخدام برنامج Rastop .

يمكن إيجاد تطبيقات حول استعمال Rastop لدراسة بنية هذه البروتينات الأربعة في الموقع

www.ens-kouba.dz/arabic/rastop.htm

وذلك في الجزء الخاص بالأنشطة في الصفحة الرئيسية في العمود الأفقي



الخلاصة من مقارنة البنية الفراغية: من خلال المقارنة يصل التلميذ إلى أنها مختلفة ويتساءل عن سبب الاختلاف في البنية.

اعتمادا على المعارف السابقة في السنة الثانية وفي الوحدة السابقة يحاول اقتراح فرضية لتفسير الاختلاف في البنية الفراغية.

السؤال 2: بما أن الاختلاف الأساسي بين البروتينات هو الاختلاف في نوع وعدد وتتابع الأحماض الأمينية فالفرضية الوحيدة التي تبرز هي فرضية الاختلاف في الأحماض الأمينية. لذلك يتم في النشاط الجزئي الموالي دراسة أنواع وخصائص الأحماض الأمينية لمحاولة تفسير الاختلاف في البنية الفراغية.

النشاط الجزئي 2 :

يهدف إلى التعرف على الصيغ الكيميائية للأحماض الأمينية انطلاقا أولا من الصيغة العامة ثم الصيغ المفصلة لـ 20 حمض أميني.

السؤال 1: يهدف إلى دفع التلميذ لتقديم تعريف علمي دقيق لحمض أميني انطلاقا من الصيغة العامة للأحماض الأمينية (الأحماض الأمينية هي مركبات عضوية تحتوي على مجموعة كربوكسيلية

(-COOH) ومجموعة أمينية (-NH₂) متصلتين بذرة كربون □ التي تتصل بدورها بجذر R (سلسلة جانبية) يختلف تركيبه من حمض أميني لآخر.

الأسئلة : (2 و 3 و 4 و 5) تهدف إلى دفع التلميذ إلى استغلال الوثيقة 3 والبحث عن أحماض أمينية ذات مواصفات محددة لغرض التعرف أكثر على أنواع الأحماض الأمينية المختلفة.

السؤال 6 : يهدف إلى الإشارة إلى إحدى أهم طرق تصنيف الأحماض الأمينية حسب نوع الجذر (وجود المنجموعات الحامضية COOH أو المدجموعات القاعدية NH₂ في الجذر)

الحمض الأميني Ala لا يحتوي على أي من هذه المجموعات في الجذر لذلك يكون متعادلا.

تصنيف الأحماض الأمينية المطلوب في السؤال 7 يقسمها إلى حامضية (Glu و Asp) و قاعدية (Lys و Arg و His) ومتعادلة وهي 15 حمضا أمينيا المتبقية.

النشاط الجزئي 3:

يهدف هذا النشاط إلى الوصول إلى بناء المعرفة الخاصة بإحدى أهم مميزات الأحماض الأمينية وهي الشحنة وما ينتج عنها من سلوك الأحماض الأمينية في المجال الكهربائي باستخدام جهاز الهجرة الكهربائية الذي تم وصف مبدأ تشغيله في أسفل الصفحة 48 .

السؤال 1: يهدف إلى دفع التلميذ لتفسير سلوك الحمض الأميني في المجال الكهربائي والوصول إلى أن شحنة الحمض الأميني تتغير بتغير درجة pH الوسط. وأن هجرة الحمض الأميني في هذا المجال تعتمد على نوع الشحنة التي يكتسبها.

السؤال 2 : يحاول التلميذ فيه تمثيل الصيغة الكيميائية لتحديد مكان وجود الشحنة (على مجموعة COO^- عند الوسط القاعدي وعلى مجموعة NH_3^+ في الوسط الحامضي) السؤال 3: يحاول التلميذ في هذا السؤال استخراج قاعدة تنطبق على جميع الأحماض الأمينية وهي قاعدة تسمح بتحديد نوع الشحنة من خلال مقارنة قيمة pHi للحمض الأميني مع قيمة pH الوسط.

$\text{pHi} > \text{pH}$ شحنة الحمض الأميني تكون موجبة (+)

$\text{pHi} < \text{pH}$ شحنة الحمض الأميني تكون سالبة (-)

$\text{pHi} = \text{pH}$ محصلة شحنة الحمض الأميني معدومة (0)

الشحنة معدومة لا تعني عدم وجود شحنة وإنما تساوي الشحنات الموجبة والسالبة مما يعطي محصلة شحنة معدومة (0).

السؤال 4 : يهدف إلى بناء معرفة هامة تخص سلوك الأحماض الأمينية (سلوك الأحماض أو سلوك القواعد). تسلك الأحماض الأمينية سلوك القواعد في الوسط الحامضي وسلوك الأحماض في الوسط القاعدي لذلك فهي أحماض وقواعد أي أنها مركبات أمفوتيرية (حمضية).

النشاط الجزئي 4:

يهدف هذا الجزء من النشاط إلى بناء معرف تتعلق بكيفية تكون الرابطة الببتيدية التي تسمح للأحماض الأمينية بتشكيل السلاسل الببتيدية. الوصول إلى بناء هذه المعرفة يكون عبر مقارنة الصيغة الكيميائية للسلسلة الببتيدية (أحماض أمينية مرتبطة) مع أحماض أمينية غير مرتبطة. استغلال الوثائق:

يستنتج التلميذ من خلال الإجابة عن السؤال 1 : أن الرابطة الببتيدية تتشكل من اتحاد مجموعة كربوكسيل لحمض أميني مع مجموعة أمين لحمض أميني آخر مع خروج جزيئة ماء (H_2O).

السؤال 2: يؤكد السؤال الأول عن طريق تسمية المجموعتين المشاركتين في تشطل الرابط الببتيدية.

في السؤال 3: يقوم التلميذ بتمثيل الصيغ الكيميائية قبل وبعد ارتباط الحمض الأميني الرابع. في السؤال 4 : يستنتج التلميذ عدد وظائف الكربوكسيل والأمين الحرة بغض النظر عن وجودها في الجذور. هذا العدد لا يتأثر بطول السلسلة الببتيدية أي بعدد الأحماض الأمينية إذا تم إهمال الجذور الحامضية والقاعدية.

النشاط الجزئي 5:

بعد التعرف على البنية الفراغية للبروتين وخصائص الأحماض الأمينية يصل التلميذ من خلال هذا النشاط الجزئي إلى ربط العلاقة بين تتابع الأحماض الأمينية ، البنية الفراغية للبروتين ، ووظيفة البروتين التي هي في هذه الحالة نشاط إنزيم ريبونيوكلياز وذلك من خلال تجربة مشهورة أجراها العالم أنفنسن Anfinsen .

هذه التجربة أثبتت بصورة واضحة أن لتتابع الأحماض الأمينية ولبنية البروتين دور أساسي في تحديد الوظيفة وأن تغيير التتابع يؤثر على البنية الفراغية يؤدي بالتالي إلى تأثير الوظيفة كما يهدف النشاط من خلال التجربة إلى توضيح دور الروابط الكيميائية في المحافظة على البنية الفراغية للبروتين.

المبدأ المتبع في التجربة يعتمد على استعمال مواد تكسر إحدى الروابط الأساسية المحافظة على ثبات البنية الفراغية الثالثة للبروتين ويتم اختبار نشاط الإنزيم لتحديد مدى تأثير الوظيفة.

السؤال 1: يهدف إلى بناء معرفة تتعلق بدور الأحماض الأمينية في تكوين روابط تساهم في المحافظة على بنية البروتين.

تمثل الأرقام مواقع لأحماض الأمينية من نوع Cys التي لها أهمية خاصة في ثبات البنية الفراغية في العديد من البروتينات حيث يتحد جزيئين من Cys لتكوين جسر ثنائي الكبريت (Pond disulfure).

السؤال 2: يهدف السؤال إلى دفع التلميذ إلى إيجاد العلاقة بين تتابع الأحماض الأمينية والبنية الفراغية للبروتين من جهة ثم بين البنية الفراغية للبروتين ووظيفته من جهة أخرى.

وجود أحماض أمينية من نوع محدد في أماكن محددة يؤدي إلى تكوين روابط كيميائية تحدد البنية الفراغية للبروتين وتعمل على ثباتها. لذلك فإن تكسير هذه الروابط يفقد البنية الفراغية وتفقد معها الوظيفة.

كما أن البنية الفراغية الطبيعية للبروتين وليس أي بنية فراغية أخرى هي التي تسمح للبروتين بأداء وظيفته. مفهوم إعاقة الإنطواء الطبيعية للبروتين عن طريق مركب اليوريا يؤكد هذا.

السؤال 3: يتم التأكد من خلال هذه التجربة أن للأحماض الأمينية دور أساسي في تحديد البنية الفراغية وبالتالي وظيفة البروتين. أي أن فرضية تدخل الأحماض الأمينية صحيحة.

يجب التأكيد على مفهوم العلاقة بين بنية ووظيفة البروتين وتخصه لأنه يعتمد عليه مفاهيم أخرى كثيرة في الوحدات الثلاثة المقبلة في الإنزيمات والمناعة وفي الاتصال العصبي.

يمكنك إيجاد دليل مفصل لاستعمال برنامج راستوب Rastop وتطبيقات باستعمال العديد من البروتينات الهامة في الموقع التالي:

تم إنشاء الموقع خصيصا لغرض استفادة أساتذة التعليم الثانوي

www.ens-kouba.dz/arabic/rastop.htm

تمارين الوحدة 2 من المجال الأول

تمرين 1:

يهدف التمرين إلى توظيف المعارف المكتسبة حول خصائص الأحماض الأمينية. حيث تم إدراج أحماض أمينية قاعدية وحامضية لتوضيح الاختلاف بينها وبين الأحماض الأمينية المتعادلة.

- 1- تحليل نتائج التجربة يسمح للتلميذ باستنتاج ثلاثة قيم مختلفة لـ pH_i لثلاثة أحماض أمينية من خلال تحديد pH الذي لا يتحرك عنده الحمض الأميني في المجال الكهربائي. يمكن كذلك التوصل إلى تطبيقات للقاعدة التي تم التوصل إليها حول تحديد نوع شحنة الحمض الأميني عند مقارنة قيمتي pH و pH_i .
- 2- مقارنة القيم تؤدي إلى الاستنتاج أن الأحماض الأمينية الحامضية لها pH_i منخفض (أقل بكثير من 7 وتقع عادة في قيم بين 3 و 5) أما الأحماض الأمينية القاعدية فيكون pH_i لها مرتفع (أعلى من 7)
- 3- يهدف السؤال إلى بناء معرفة أساسية تخص العلاقة بين مسافة الهجرة وقوة الشحنة، حيث كلما كانت الشحنة أقوى كلما كانت الهجرة أسرع نحو القطب المعاكس. قوة الشحنة لها علاقة بالفرق بين قيمتي pH و pH_i لكل حمض أميني. كلما ابتعدنا عن نقطة pH_i كلما زادت الشحنة. قيمة pH_i للحمض الأميني Lys أكبر من pH_i لحمض Ala وهي أبعد عن pH الوسط (3.2) وبالتالي تكون هجرة Lys أسرع نحو القطب السالب.
- 4- بالاستعانة بالوثيقة 3 الصفحة 47 يتم تمثيل الصيغة مع وضع شحنة سالبة على مجموعة COO^- وشحنة موجبة على NH_3^+ الأصلية في كلا الحالتين.

التمرين 2:

يهدف التمرين إلى تدريب التلميذ على استعمال برنامج Rastop عن طريق محاولة الإجابة على بعض الأسئلة البسيطة. يمكن الدخول إلى الموقع لتحميل Télécharger جزئية البروتين ثم فتحها عن طريق برنامج Rastop. لا يحتوي الموقع على الإجابة على الأسئلة الخاصة بهذا البروتين لكن الأمثلة الأخرى والأنشطة تم فيها تحديد نفس المعلومات على بروتينات أخرى.

الإجابة المختصرة عن الأسئلة التي يمكن التوصل إليها باستعمال برنامج Rastop عدد 307

الحمض الأميني الأول هو الألانين Ala والأخير هو أسبارجين Asn .
138 و 161

8 تراكيب حلزونية

8 وريقات □

استنتاج وظيفة الإنزيم يكون من خلال البحث عن المعلومات في الشبكة أو من خلال التعرف على الركيزة أو حتى من اسم الإنزيم الذي ينتمي إلى إنزيمات الببتيداز أي التي تفك الروابط الببتيدية وهو يفك الرابطة الببتيدية للحمض الأميني الأخير في السلسلة الببتيدية أي الموجود في النهاية الكربوكسيلية.

من خلال التعرف على الركيزة يتبين أنها ثنائي ببتيد مكون من حمض ألانين Ala مرتبط بحمض ليزين Lys .

التمرين 3:

يهدف التمرين كذلك إلى تطبيق حول استعمال برنامج Rastop لدراسة ومقارنة نوعين من البروتينات المعروفة والتي تقوم بأدوار هامة في جسم الإنسان والعديد من الحيوانات الثديية. يحاول التمرين طرح وضعية حقيقية إدماجية أمام التلميذ ليحاول الإجابة عنها من خلال دراسة البنية الفراغية والبحث عن المعلومات المكملة.

لإنجاز الرسومات يحتاج التلميذ إلى برنامج Rastop بالإضافة إلى ملفين يتم تحميلهما من الموقع المشار إليه
الملف الأول لبروتين الميوغلوبين والملف الثاني لبروتين الهيموغلوبين.
في الصورة الأولى يغير التلميذ النموذج إلى الشريط السميك caricature ثم يلون بالأخضر من خلال Palette de couleurs .
يقوم بعد ذلك باختيار الهيم من أيقونة ABC وكتابة hem ثم يغير النموذج إلى الكرة ويلون بالأحمر من palette de couleurs .
بالنسبة لبروتين الهيموغلوبين نقوم كذلك بتغيير النموذج إلى caricature ثم نلون حسب السلسلة من خلال الأوامر في الجهة العلوية من البرنامج atome/colorer par/chaine
يقوم بعد ذلك باختيار الهيم من أيقونة ABC وكتابة hem ثم يغير النموذج إلى الكرة ويلون بالأحمر من palette de couleurs .

المعلومات المطلوب التوصل إليها:

عدد أ أ 141 + 141 + 146 + 146

السلاسل □

VAL LEU SER PRO ALA ASP LYS THR ASN VAL
VAL LEU SER PRO ALA ASP LYS THR ASN VAL

السلاسل □

VAL HIS LEU THR PRO GLU GLU LYS SER ALA
VAL HIS LEU THR PRO GLU GLU LYS SER ALA

الميوغلوبين

VAL LEU SER GLU GLY GLU TRP GLN LEU VAL

تشابه في حمض أميني واحد فقط بين □ و □ هو Val1
تشابه في 4 أحماض أمينية بين السلاسل □ والميوغلوبين

البنيات الحلزونية فقط

الهيم

نوع الذرات يتم تحديدهما من خلال الألوان وذلك بعد التلوين بـ CPK
الكربون وهو الغالب (لون رمادي)
الآزوت 4 ذرات (لون أزرق)
الحديد 1 (لون أصفر)
الأكسجين 4 (لون أحمر)

الهيدروجين (لون أبيض) وهو لا يظهر في هذه البنية
وظيفة الهيموغلوبين هي نقل الأكسجين
وظيفة الميوغلوبين هي تخزين الأكسجين

يتميز الحوت بقدرته الكبيرة على تخزين الأكسجين لذلك يعتبر مصدر غني بالميوغلوبين الذي يتواجد كذلك في العضلات ويخزن الأكسجين لوقت الحاجة عند القيام بالمجهود العضلي المكثف. يحتاج الحوت إلى الأكسجين المخزن لكي يتنفس عند الغوص نحو الأعماق ويعود إلى السطح عند استهلاك الأكسجين المخزن ليأخذ جرعة جديدة وهكذا.

تمرين 4 :

من صفحة في الوحدة الأولى من المجال الثاني الصفحة 203 يهدف التمرين إلى توظيف المعارف الخاصة بشحنة الأحماض الأمينية في تحديد شحنة الببتيدات البسيطة.

يهدف السؤال 1 إلى تدريب التلميذ على كتابة الصيغ المفصلة للأحماض الأمينية. أما السؤال 2 فيهدف إلى تحديد pH الذي تم عنده الفصل وذلك بتحديد شحنة الببتيد ثم تحديد اتجاهه في المجال الكهربائي. حسب القاعدة التي تم التوصل إليها فإن الأحماض المينية تكون شحنتها موجبة عند الوسط الحامضي $pH=1$ ومنه تتجه نحو القطب السالب (الشكل أ).

السؤال 3 يهدف إلى التعرف على البقع من خلال توظيف المعارف حول pH_i للأحماض الأمينية .

البقعة الوسطية تعود لحمض Ala لأن pH_i لحمض $Ala=6$. الحمض الأميني الثاني حماضي هو Glu ويتميز بـ pH_i أصغر بكثير من 7 لذلك يكون سالب الشحنة لأن $pH_i < pH$ وبالتالي يتجه نحو القطب الموجب بينما يتجه حمض Arg نحو القطب السالب لأنه يكون موجب الشحنة وذلك لأن pH_i للأحماض الأمينية القاعدية تكون أعلى بكثير من 7 .

((تمرين 5 موجود مباشرة بعد انتهاء التمرين 4 وليس له عنوان وهو في الوحدة الأولى من المجال الثاني في الصفحة 203))

يهدف التمرين كذلك لتحديد شحنة الببتيدات الناتجة من إمالة ببتيد آخر أطول باستعمال إنزيمات متخصصة.

الببتيد الأصلي يتكون من His-Lys-Pro-Arg-Gly-Glu

عند الإمالة بواسطة إنزيم ترپسين ينتج 3 ببتيدات ثنائية هي :

His-Lys و Pro-Arg و Gly-Glu .

شحنة الببتيدات عند $pH = 1$ تعتمد على عدد الأحماض الأمينية القاعدية التي يمكنها اكتساب شحنتين موجبتين واحدة في الطرف والأخرى في الجذر.

الببتيد الثنائي الأول تكون شحنته $=+3$ لأنه يضم حمضين أمينيين قاعديين.

الببتيد الثنائي الثاني تكون شحنته $=+2$ لأن يضم حمضين أمينيين قاعديين

أما الببتيد الثنائي الثالث فتكون شحنته $=+1$ لأنه ليس له أحماض أمينية قاعدية ليس له شحنات موجبة في الجذر وهذا الشحنة الطرفية في مجموعة NH_3^+ .

يمكن اختيار عدة قيم من pH لكن $pH = 1$ يسمح بفصلها لأنها تتجه بسرعات مختلفة نحو القطب السالب وأسرعها هو الببتيد الأول متبوع بالببتيد الثاني ثم الثالث نظرا لاختلاف قوة الشحنة.

يمكن كذلك استعمال pH يعادل pH_i للببتيد الثاني الذي يبقى في الوسط بينما يتجه الببتيدان الآخران نحو القطب السالب أو الموجب .

تصويب الأخطاء

الصفحة	الخطأ	التصحيح
25	الوزن الجزيئي لـ ARNr 3.6×10^6 S5 الوزن الجزيئي لـ ARNt : 2.5×10^6	3.6×10^4 2.5×10^4
36	نقص بيانات منحنى التمرين 2	المنحنى كاملاً، ومصحح بالدليل
55	السؤال 3 من التمرين 3	هو عبارة عن تمرين 4
	التمرين 5	لسبب تقني وضع خطأ ضمن تمارين الوحدة الأولى من المجال 2 صفحة 203

الوحدة الثالثة: النشاط الإنزيمي للبروتينات

إشكالية الوحدة: يهدف مدخل الوحدة إلى لفت انتباه التلميذ إلى وضعية حقيقية عاشها ويسمع عنها وهي خطر ارتفاع درجة حرارة الجسم وربطها بالتأثير على الإنزيمات من خلال حوار بين مجموعة من التلاميذ يؤدي في النهاية إلى البحث والتوصل إلى الإجابة على أسئلة مرتبطة بالوحدة التعليمية. أما الصورة فتمثل بنية فراغية للإنزيم مع الإشارة إلى أهم جزء منه وهو الموقع الفعال الذي يمثل مكان نشاط الإنزيم لأنه مكان ارتباط مادة التفاعل. من خلال الصورة يمكن للتلميذ أن يتساءل عن الموقع الفعال وعلاقته بمادة التفاعل وسوف يجد الإجابة عن ذلك من خلال نشاطات الوحدة.

النشاط الأول: مفهوم الإنزيم وأهميته

يهدف النشاط إلى تذكير التلميذ بالمكتسبات القبلية حول دور الإنزيمات في الهضم وذلك للوصول إلى تحديد مفهوم الإنزيم وتأثيره على النشاطات الأيضية. وتوضيح عواقب غياب نشاط إنزيمات على صحة الإنسان.

النشاط الجزئي 1 :

يهدف إلى لفت انتباه التلميذ إلى تغير درجة تعقيد الغذاء عند انتقاله في الجهاز الهضمي بسبب إنزيمات الهضم التي تعمل على تبسيط الغذاء بسرعة كبيرة مما يذكر التلميذ بمفاهيم تتعلق بدور الإنزيمات. يجب عدم استعمال هذه الحالة لإعطاء تعريف عام للإنزيمات بأن دورها يقتصر على التفكيك لأن الإنزيمات تقوم بأدوار متعددة سيتم التعرف على بعض منها لاحقا في هذه الوحدة.

وضعية الهضم هي وضعية مناسبة يعرفها التلميذ لذلك تستعمل كوضعية انطلاق. **السؤال 1 :** يهدف السؤال إلى دفع التلميذ للوصول إلى إبراز بعض المكتسبات حول عمل الإنزيمات الهاضمة للوصول إلى نواتج هضم النشا.

السؤال 2 : انطلاقا مما توصل إليه في السؤال السابق يستنتج التلميذ تعريفا أوليا للإنزيم.

النشاط الجزئي 2 :

يهدف إلى توضيح عواقب غياب أو نقص إنزيم على النشاطات الأيضية عن طريق تقديم حالتين مرضيتين.

الحالة الأولى: هي خلل في الهضم بعد تناول أغذية محتوية على الحليب من خلال التحاليل التي تم إجراؤها للمريض يمكن التوصل إلى أسباب المرض. عند إجراء التحاليل لم يتناول المريض حليباً وإنما تناول أحد مكونات الحليب ، لأن الطبيب شك في أن المشكلة تكمن في سكر اللكتوز وليس في الحليب ككل. لذلك يعتمد التحليل على تقديم سكر اللكتوز فقط للمريض للتأكد من ظهور الأعراض المشابهة لأعراض تناول الحليب ومشتقاته.

عدم ارتفاع نسبة الغلوكوز في الدم يشير إلى أن سكر اللكتوز لم يتم هضمه (إماهته) لأن اللكتوز يتكون من غلوكوز وغلكتوز. وجود الحموضة يدل حدوث تخمر لسكر اللكتوز بواسطة بكتريا موجودة في الأمعاء كما أن انطلاق الهيدروجين هو مؤشر على وجود التخمر. كل المؤشرات تشير إلى أن عدم هضم اللكتوز هو السبب. من خلال نتائج التحليل تأكد الطبيب وجود مرض معروف بعدم تحمل اللكتوز.

السؤال 1 : من خلال نتائج التحاليل والأعراض التي تم الإشارة إليها سابقا يقوم الأستاذ بتوجيه التلاميذ نحو اقتراح فرضية لتفسير سبب المرض:
هناك سبب مباشر قد يصل إليه التلميذ بسهولة خاصة إذا انتبه إلى عنوان النشاط عواقب غياب أو نقص إنزيم. والفرضية تكون غياب أو نقص في نشاط إنزيم اللكتاز المحلل لسكر اللكتوز.

السؤال 2 : يدفع الأستاذ التلاميذ إلى اقتراح علاجا للمرض وهنا قد يتلقى عدة اقتراحات منها :

-لتفادي ظهور الأعراض يمكن تفادي تناول الحليب أو مشتقاته. لكن هل يمكن للشخص أن يتفادي الحليب ومشتقاته كليا؟ إشكالية قد تطرح لإلغاء هذه الفرضية
- يمكن كذلك العلاج عن طريق تناول دواء عبارة عن إنزيم اللكتاز عند تناول غذاء فيه حليب أو مشتقاته.
- يمكن أن يقود النقاش إلى سبب غياب أو نقص في نشاط الإنزيم ، إلى طرح اشكالية السبب الوراثي هل المرض وراثي أم غير وراثي؟
تظهر المعطيات أن أغلب الحالات المرضية يلاحظ فيها أن الشخص لا يصاب بعد الولادة مباشرة وإنما بعد بلوغه سنا معيناً يختلف من شخص إلى آخر، وهذا يلغي فرضية السبب الوراثي ا.
- إذا لم يكن سبب المرض وراثيا فما هي الأسباب؟
هناك أسباب مختلفة قد تؤدي إلى الإصابة بالمرض منها الإصابة بالتهاب في الأمعاء أو بعض الأمراض التي تصيب الجهاز الهضمي تؤدي إلى ضعف قدرة الخلايا المفترزة لهذا الإنزيم.

الحالة الثانية: هي لمرض وراثي وهو مرض ليس له علاج .
السؤال 3 : قد يؤدي الخلل في تحلل الغليكوجين إلى نقص نسبة السكر في الدم خاصة في الفترات التي لا يتم فيها تناول غذاء محتويا على السكر .

النشاط الثاني: النشاط الإنزيمي وعلاقته ببنية الإنزيم

يهدف هذا النشاط إلى التعرف على الإنزيمات وكيفية قياس نشاطها من خلال التجربة الاعتيادية ثم من خلال التجربة المدعمة بالحاسوب.
لقد تم إدراج التجارب الاعتيادية أولا لهدف توضيح المميزات التي تتوفر في استعمال التجربة المدعمة بالحاسوب وقد تم التركيز على هذه المميزات حتى لا يكون استعمال EXAO خاليا من هدف تعليمي واضح.

النشاط الجزئي 1:

أ- الإماهة الإنزيمية للسكروز: الهدف منها هو تحديد أهم مميزات الإنزيم وهي تسريع التفاعلات وأن الإنزيمات يتم إنتاجها من طرف الكائنات الحية وفي هذه الحالة تم استعمال كائن وحيد الخلية هو الخميرة.

من خلال الأسئلة:

السؤال 1: مقارنة نتائج التجريبتين 1 و 2 يتبين أن وجود الخميرة أدى إلى تسريع إماهة النشا .

السؤال 2 : من خلال مقارنة التجربة 3 و 4 يتبين أن المادة التي سرعت التفاعل هي جزيئات قابلة للترشيح وهي تخرب بالحرارة مما يشير إلى أنها ذات طبيعة بروتينية.
يصل التلميذ من خلال ذلك إلى أن الإنزيمات هي بروتينات تحفز أو تنشط التفاعلات

ب- إظهار النشاط الإنزيمي في بذور القمح: الهدف من التجربة هو إثبات وجود نشاط إنزيمي في بذور القمح عند الإنبات بطريقة مباشرة إذ يمكن أن تشاهد النتائج من خلال تغير الألوان.

استغلال نتائج التجربة:

السؤال 1 : يهدف إلى دفع التلميذ لتفسير عدم تلون المناطق القريبة من نصف البذرة بالأزرق انطلاقاً من نتائج التجربة ومن معارفه السابقة. عدم التلون يشير إلى عدم وجود النشا وعدم وجود النشا يشير إلى إماهته

السؤال 2 : تفسير نتائج المرحلتين 1 و 2 من التجربة يشير إلى إماهة بواسطة إنزيمات تم إفرازها من البذرة وانتشرت إلى المنطقة المجاورة مما يؤكد نزع الجيلوز المجاور للبذرة والكشف عن نواتج الإماهة الممثلة في الغلوكوز.

السؤال 3 : الجزء المسؤول عن إماهة النشا هو جزيئات قابلة للترشيح وهذا يؤكد ما تم التوصل إليه في المرحلة الثانية من التجربة من أن هذه الجزيئات هي عبارة عن إنزيمات.

النشاط الجزئي 2:

يهدف هذا النشاط الجزئي إلى التعريف بالتجريب المدعم بالحاسوب والأجزاء المكونة للتركيب التجريبي

السؤال 1: يهدف السؤال إلى دفع التلميذ لاستخلاص مميزات التجارب الإعتيادية، ومقارنتها بمزايا استعمال التجريب المعتمداً على معطيات المعلومات المفيدة في نفس الصفحة .

السؤال 2: يهدف السؤال إلى جعل التلميذ يقدم تفسيراً لضرورة متابعة تغيرات درجة الحموضة والحرارة أثناء استعمال التجريب المدعم بالحاسوب ، فتغيرات كل منهما تؤثر على النتائج المنتظرة.

النشاط الجزئي 3:

يهدف إلى التعريف بالإنزيم المستعمل في التجارب المدعمة بالحاسوب واكتشاف خاصية من خصائص الإنزيم فهو ذو تأثير نوعي أي أنه لا يعمل إلا على نوع محدد من المواد.

التجربة 1 :

السؤال 1: بعد تحليل المنحنيين يصل التلميذ إلى تفسير سبب انخفاض المنحنى الخاص بوجود الإنزيم وعدم انخفاضه في حالة عدم وجود الإنزيم. اعتماداً على المعادلة التي تشير إلى أن الإنزيم يستعمل الأكسجين وهو ما يؤدي إلى انخفاض تركيزه.

السؤال 2 : يصل فيه التلميذ إلى تحديد دور الإنزيم في التفاعل وهو استهلاك الأكسجين لأكسدة الغلوكوز وإنتاج حمض الغلوكونيك وفوق أكسيد الهيدروجين. يمكن كذلك استعمال الزيادة في تركيز هذين المركبين لتحديد نشاط الإنزيم.

التجربة 2 : الهدف من التجربة هو تحديد خاصية أخرى من خصائص الإنزيم وهي أن الإنزيم لا يستهلك أثناء التفاعل بينما يتم استهلاك مادة التفاعل (الغلوكوز في هذه الحالة).

السؤال 1: بعد تحليل المنحنى يتمكن التلميذ من تفسير انخفاض تركيز الأكسجين بعد الحقن الثاني فنفس الإنزيم قام بأكسدة الغلوكوز واستهلاك الأكسجين في الحقن الأول والثاني أي أن الإنزيم لم يتأثر بالتفاعل حيث يلاحظ نفس الانخفاض في تركيز الأكسجين.

السؤال 2: المعلومة التي يمكن للتلميذ استخلاصها من خلال نتائج التجربة حول عمل الإنزيم أن الإنزيم لا يستهلك أثناء التفاعل.

التجربة الثالثة: تهدف التجربة إلى دراسة العلاقة بين تغيرات تركيز مادة التفاعل وسرعة التفاعل الإنزيمي والتعريف بمفهوم سرعة التفاعل.

السؤال 1: الهدف من السؤال هو دفع التلميذ إلى رسم المنحنى ليستنتج من التحليل ثبات السرعة عند التراكيز العالية لمادة التفاعل.

السؤال 2: يهدف السؤال إلى دفع التلميذ إلى اقتراح فرضية: تعتمد الفرضية على محاولة تفسير سبب ثبات سرعة التفاعل الإنزيمي عندما يبلغ تركيز مادة التفاعل حد معين. أي أن الإنزيم لم يعد قادرا على تحويل كميات أكبر من مادة التفاعل أي أن الإنزيم قد بلغ طاقته القصوى. الفرضية تتمثل في تشبع الإنزيم بمادة التفاعل.

التجربة الرابعة: تهدف إلى التعرف على أن الإنزيم نوعي حيث لم يتم التفاعل في حالة الفركتوز بينما تم التفاعل (تم استهلاك الأكسجين) عند استعمال الجلوكوز. العلاقة بينهما نوعية (الإنزيم متخصص على نوع محدد من مواد التفاعل) قد يصب هذا في الفرضية السابقة.

النشاط الجزئي 4:

يهدف إلى مشاهدة البنية الفراغية للإنزيم لتحديد العلاقة بين الإنزيم ومادة التفاعل والإجابة على الفرضية السابقة. في هذا النشاط يمكن استعمال برنامج راستوب Rastop حيث يتم عرض البنية الفراغية للإنزيم في غياب وفي وجود مادة التفاعل لتحديد مكان ارتباط مادة التفاعل.

البنية الفراغية والنشاط كاملا موجود في الموقع في العمود الأفقي في الصفحة الرئيسية للموقع:

www.ens-kouba.dz/arabic/rastop.htm

وهو أول نشاط تم التطرق له في الموقع
السؤال 1: يهدف إلى دفع التلميذ لملاحظة التكامل في البنية الفراغية لجزء صغير من الإنزيم (الذي يأخذ شكل التجويف أو الجيب) ومادة التفاعل.

السؤال 2: يهدف إلى الربط بين هذا الجزء الصغير من الإنزيم الذي يسمح بارتباط مادة التفاعل وثبات سرعة التفاعل أي أن هناك عدد محدد من المواقع عند تشبعها تصل سرعة الإنزيم إلى أقصاها.

السؤال 3: يهدف إلى التأكد من فرضية وجود مواقع من الإنزيم ترتبط بها مادة التفاعل.

السؤال 4: يهدف إلى دفع التلميذ إلى اقتراح تسمية لهذا الموقع: يمكن للتلميذ أن يقترح أسماء كثيرة يمكن للأستاذ بعدها أن يناقشها ويصل إلى أن تسمية الموقع الفعال هي الأنسب لأنها الموقع الذي يحدث فيه التفاعل.

النشاط الجزئي 5:

يهدف هذا النشاط الجزئي إلى توضيح الحالات المختلفة لعمل الإنزيم بعد تعرفه على أحد الإنزيمات. أي أن عمل الإنزيمات متنوع.

السؤال 1: يهدف إلى اكتشاف حالتين مختلفتين في تكامل شكل الموقع الفعال وشكل مادة التفاعل إما قبل الارتباط أو عدم قبوله. الاستنتاج أن التكامل بينهما ضروري لكنه قد يحدث تغير في شكل الموقع الفعال تحت تأثير وجود مادة التفاعل

السؤال 2: يهدف إلى محاولة التعرف على أنواع مختلفة من النشاطات الإنزيمية مثل إنزيمات التحلل، والبناء، التحول الكيميائي....

من خلال المقارنة يحاول التلميذ إجراء مقارنة بين المعادلة الأولى الموضحة في الصفحة 63 وإحدى الأشكال الموضحة في الوثيقة (8). الإنزيم GO يحول مادتي الأكسجين و الغلوكوز إلى مادتي الغلوكونيك و H_2O_2 . لذلك فهو أقرب إلى الشكل (ج).

النشاط 3 :دراسة تأثير تغيرات pH الوسط على نشاط الإنزيم

يهدف هذا النشاط إلى دراسة الشروط التي يعمل فيها الإنزيم وفي هذه حالة تغيرات درجة pH .
حيث يقوم التلميذ برسم منحنى تغيرات سرعة التفاعل بدلالة درجة pH واستنتاج تأثير pH .

السؤال 1: يهدف من خلال تحليل المنحنيان إلى أن التلميذ يصل إلى أن نشاط الإنزيم يتأثر ب pH الوسط فيكون نشاطه أعلى في درجة pH محددة تقدر في هذه الحالة بـ 7 .
السؤال 2: بعد رسم المنحنى تتضح للتلميذ تفاصيل العلاقة ويصل إلى تحديد درجة pH المثلى التي يكون عندها نشاط الإنزيم أعظما.
السؤال 3: لتفسير الآلية يجب دفع التلميذ إلى الرجوع إلى ثبات البنية الفراغية للإنزيم عن طريق الروابط المختلفة التي قد تتأثر بتغير pH مما يؤثر على البنية الفراغية للإنزيم وبالتالي شكل الموقع الفعال.

النشاط 4 :دراسة تأثير تغيرات درجة الحرارة على نشاط الإنزيم

يهدف هذا النشاط إلى دراسة الشروط التي يعمل فيها الإنزيم وفي هذه الحالة درجة الحرارة .
حيث يقوم التلميذ برسم منحنى تغيرات سرعة التفاعل بدلالة درجة الحرارة واستنتاج تأثير الحرارة .

السؤال 1 : من خلال تحليل المنحنيات يصل التلميذ إلى أن نشاط الإنزيم يتأثر بتغيرات درجة الحرارة بينما يكون نشاط أعلى في درجة حرارة متوسطة تقدر بـ 37 °م.
السؤال 2 : بعد رسم المنحنى تتضح للتلميذ تفاصيل العلاقة ويصل إلى تحديد درجة الحرارة المثلى التي يكون عندها نشاط الإنزيم أعظما.
السؤال 3 : لتفسير الآلية يجب دفع التلميذ إلى الرجوع إلى ثبات البنية الفراغية للإنزيم عن طريق الروابط المختلفة وخاصة منها الهيدروجينية التي تتأثر بالحرارة المرتفعة مما يؤثر على البنية الفراغية للإنزيم وبالتالي شكل الموقع الفعال.
بالنسبة للحرارة المنخفضة قد يتعلق الأمر بحركة الجزيئات وهي حالة تنطبق على جميع التفاعلات سواء كانت إنزيمية أو كيميائية عادية.

السؤال: الهدف من السؤال يتمثل في إمكانية التوصل باستغلال معطيات الوثيقة 2 إلى أن تغير البنية الفراغية قد يكون بعدة أشكال وصور حسب نوع التأثير (pH أو الحرارة ... إلخ) وحسب نوع الروابط التي يتم تكسيرها مما يغير من البنية الفراغية للإنزيم وبالتالي شكل الموقع الفعال. والخلاصة أنه مهما كان نمط التغير سوف يؤدي في النهاية إلى نفس النتيجة وهي فقدان نشاط الإنزيم.

النص العلمي:

في هذا النص العلمي يقوم التلميذ أولا بوضع قائمة لأهم المعارف التي تم التوصل إليها وشروط العمل ثم يقوم بعد ذلك بوضع كل ذلك في فقرات علمية متسلسلة وهادفة. والهدف من ذلك هو دفع التلميذ إلى توظيف قدراته في التعبير العلمي السليم والربط بين معارف مختلفة تم بناءها من خلال هذه الوحدة.

تمارين الوحدة 3 من المجال الاول

تمرين 1:

الهدف منه هو التوصل إلى أن الإنزيمات تختلف في درجة pH المثلى أي أنها ليست بالضرورة مساوية دائماً لـ 7 . كما يهدف كذلك إلى دفع التلميذ لكتابة نص أو فقرة علمية وهي فقرة يمكن أن تكمل النص العلمي الذي تمت كتابته في آخر نشاط في الوحدة.

تمرين 2:

يهدف إلى مقارنة التفاعل الكيميائي بدون تدخل الإنزيم والتفاعل الإنزيمي.
يهدف السؤال 1 إلى الوصول إلى أن السرعتين متشابهتين في المرحلة الأولى لكنهما يختلفان في المرحلة الثانية لأن الإنزيم يتأثر بالحرارة المرتفعة التي تؤدي إلى تخريبه.
السؤال 2 يهدف إلى تمييز درجة الحرارة المثلى ودرجة التخريب الكلي للإنزيم.
السؤال 3 يهدف إلى دفع التلميذ لكتابة فقرة علمية تكمل النص الذي تمت كتابته في آخر الوحدة

تمرين 3:

الهدف منه وضع التلميذ أمام وضعيات حقيقية تحدث في جسمه ويحاول من خلال التمرين تفسير هذه الظواهر.
يتم لفت انتباه التلميذ إلى اختلاف درجة pH في أجزاء مختلفة من الجهاز الهضمي (المعدة ، الإثني عشر ، الأمعاء الدقيقة ...)
يطرح التمرين إنزيمين مختلفين يعملان في درجات pH مختلفة.
يهدف السؤال 1 إلى استخراج بعض مميزات الإنزيمات انطلاقاً من نص التمرين وهي اختلاف pH المثلى للعمل والتخصص (النوعية) أي أنها تعمل في مواقع مختلفة داخل البروتين. كما تتميز إنزيمات الهضم بتنشيطها بعد الإفراز.
السؤال 2 يهدف إلى تحديد نواتج الإماهة بفعل الإنزيمات المستعملة عند معاملة الببتيد التالي:

Ala-Gly-Tyr-Arg-Ser-Phe-Glu-Val-Lys-Leu

بانزيم ببسين ينتج 3 قطع ببتيديّة : 4+3+3

وهي

Ala-Gly-Tyr

Arg-Ser-Phe

Glu-Val-Lys-Leu

لأن الإنزيم يحلل الرابطة الببتيدية عند Tyr و Phe

المعاملة بانزيم تريسين ينتج : 1+5+4

Ala-Gly-Tyr-Arg

Ser-Phe-Glu-Val-Lys

Leu

نواتج التحلل في الحالتين مختلفة

السؤال 2 يهدف إلى تحديد الاحتمالات والتي تتعلق بالجهة التي يتم فيها التحلل (الجهة اليسرى أو اليمنى من الرابطة الببتيدية) أي الجهة الأمينية أو الكربوكسيلية لأن النواتج في الحالتين تكون مختلفة.



Ala-Gly-Tyr-Arg-Ser-Phe-Glu-Val-Lys-

في الإجابة السابقة تم اختيار الاحتمال الأول من الجهة اليمنى (الجهة الكربوكسيلية)
أما إذا كان الإحتمال من الجهة اليسرى (الأمينية) فإن النتائج تكون:
في حالة الببسين: النتيجة تكون 5+3+2
Ala-Gly-Tyr-Arg-Ser-Phe-Glu-Val-Lys-Leu
Ala-Gly
Tyr-Arg-Ser
Phe-Glu-Val-Lys-Leu
في حالة التربسين: النتيجة تكون 2+5+3
Ala-Gly-Tyr
Arg-Ser-Phe-Glu-Val
Lys-Leu

تمرين 4:

يهدف التمرين إلى طرح وضعية حقيقة إدماجية يتم من خلالها محاولة تفسير أسباب ظهور مرض وراثي.
يهدف السؤال 1 إلى دفع التلميذ إلى إدماج المعلومات المختلفة لمحاولة الإجابة على سبب ظهور البقع عند الشخص المصاب. الإجابة تكون عن طريق الربط بين تأثير الأشعة فوق بنفسجية التي تخرب ADN وغياب نشاط الإنزيم في الشخص المصاب بسبب حدوث طفرة وموت الخلايا التي تفسر ظهور البقع البنية (خلايا ميتة)
يهدف السؤال 2 إلى تفسير عدم حدوث المرض عند الشخص السليم الذي يملك الإنزيمات اللازمة لتصحيح الخلل في بنية ADN بسبب حدوث الطفرة. لذلك لا تموت الخلايا ولا تظهر بالتالي البقع البنية.
السؤال 3 يهدف إلى تحديد القاعدة وهي أن الأشعة فوق البنفسجية تؤثر على ADN في كل الحالات لكن الخلل يصلح عند الشخص العادي لوجود آلية تصليح الخلل في ADN في الحالة الطبيعية.

تمرين 5:

يهدف التمرين إلى توضيح مفهوم تثبيط عمل الإنزيم في وجود مركبات ليست مواد تفاعل لكنها تشبهها كثيرا من حيث التركيب الكيميائي.
السؤال 1 بعد تحليل المنحنيين يلاحظ التلميذ تناقص في سرعة التفاعل في البداية (عندما تكون تراكيز مادة التفاعل منخفضة نسبيا) لكن الانخفاض في السرعة يقل عند ارتفاع تركيز مادة التفاعل (الليكتوز) ثم يختفي تأثير المثبط وتصبح السرعة القصوى متشابهة في كلا الحالتين.
يقوم الأستاذ بتوجيه التلميذ إلى الاستنتاج أن إضافة مادة ثيولكتوز يكون له تأثير مثبط لنشاط الإنزيم لأنه يقلل من سرعة التفاعل.
ملاحظة: تركيز هذه المادة في التفاعل ثابت ويكون قليل.

يهدف السؤال 1 إلى تفسير آلية التأثير المثبط لهذه المادة علما أن المادة تشبه كثيرا مادة التفاعل. الإحتمال الأقرب هو أن يرتبط هذا المركب بالموقع الفعال مما يعيق ارتباط مادة التفاعل وهو ما يعرف في علم الإنزيمات بالثبيط التنافسي. أي أن المركب يشبه مادة التفاعل ويحدث بينه وبين مادة التفاعل الطبيعية تنافس على الارتباط بالموقع الفعال. عندما يكون تركيز مادة التفاعل كبيرا تكون هي الغالبة ويكون تأثير المثبط مهملا.

تمرين 6 :

الهدف من التمرين هو إثبات قدرة الكائنات الحية على إفراز الإنزيمات المتخصصة على إماهة المادة الغذائية (مصدر الطاقة).

التجربة الأولى: من خلال تحليل نتائج الجدول يتوصل التلميذ إلى أن الخميرة تنتج إنزيم السكراز وإنزيم المالتاز نظرا لظهور سكر الغلوكوز عند إضافة المستخلص.

التجربة الثانية: من خلال مقارنة نتائج التجربتين 1 و 2 يتوصل التلميذ إلى عدم إماهة سكر المالتوز في التجربة الثانية.

بالربط بين التغير في الشروط التجريبية يصل التلميذ أنه التجربة الثانية لم يتم استعمال مستخلص الخميرة أما في التجربة الثانية فإنه لم يحدث استخلاص وإنما فقط المحلول الخارجي (محلول الوسط) مما يشير إلى الفرق بين الإنزيمات الداخلية (التي تعمل داخل الخلايا) والإنزيمات الخارجية التي تفرزها الخلية إلى الخارج لغرض تحليل المادة الغذائية.

التجربة الثالثة: تهدف التجربة إلى وضع التلميذ أمام نتائج متحصل عليها بواسطة التجريب المدعم بالحاسوب لقياس النشاط التنفسي لخلايا الخميرة وقدرتها على استعمال مصادر مختلفة من الطاقة (مواد سكرية مختلفة)

يهدف السؤال 1 إلى التأكد من مفهوم الشاهد في التجارب لغرض المقارنة عادة ولمعرفة ما إذا كان هناك استهلاك للأكسجين لسبب آخر.

العلاقة المستهدفة في السؤال 2 هي أن خلايا الخميرة يمكنها استعمال 3 أنواع من السكريات كمصدر للطاقة نظرا لوجود الإنزيمات اللازمة لإماهة السكريات مثل السكروز والمالتوز أو الاستعمال المباشر مثل الغلوكوز.

لكن الخميرة لا يمكنها استعمال اللكتوز كمصدر للطاقة لعدم وجود الإنزيمات اللازمة لإماهة السكر .

يمكن للأستاذ حسب توفر الوقت توسيع المناقشة لتشمل السبب من وراء ذلك والذي يشمل القدرة على إدخال السكر أم القدرة على إفراز الإنزيمات أم لعدم توفر الإنزيمات أصلا بسبب غياب المورثة.

الوحدة 4: دور البروتينات في الدفاع عن الذات

الهدف التعليمي: يتمثل في تحديد دور البروتينات في الدفاع عن الذات اتجاه الأجسام الغريبة التي تغزوها .

النص : يقدم نص الوحدة الاعراض غير الطبيعية التي تظهر على العضوية نتيجة السموم التي تسببها الأجسام الغريبة التي تغزوها. ويتدخل البروتينات المناعية تستعيد العضوية نشاطها : منه يقود الاستاذ التلاميذ إلى طرح الاشكالية الممثلة في كيفية تمييز العضوية بين الذات واللذات ودور البروتينات المناعية في أقصاء اللذات ,وعواقب إصابة الجهاز المناعي .
صور الوحدة :

تقدم صور الوحدة فكرة عن بعض الأعراض التي تظهر على الإنسان إثر الإصابة بجسم غريب (مما يدل على إثارة الجهاز المناعي) مدعمة ببعض العناصر المناعية الفعالة التي تساهم في إقصاء الأجسام الغريبة وبالتالي سلامة العضوية من تأثيرها السام. تلاحظ صورة لبنية الفيروس المسبب للعجز المناعي والجزيئات المكونة له التي تلعب دورا أساسيا في إصابة بعض العناصر الفعالة في الجهاز المناعي.

النشاط 1 : التذكير بالمكتسبات

يهدف هذا النشاط للتذكير بمختلف خطوط الدفاع المناعية و العناصر المتدخلة في ذلك حيث يوجه الأستاذ التلاميذ إلى استنتاج مختلف ردود العضوية اتجاه الأجسام الغريبة . تغزوها .

النشاط الجزئي 1 :

السؤال 1,2: يهدفان إلى تطبيق المعلومات المكتسبة في موقف معين بحيث يصل التلميذ إلى معرفة أنواع الدفاع التي تستعملها العضوية تجاه الأجسام الغريبة و العناصر الفعالة التي تتدخل في كل خط وذلك باستغلال جدول الوثيقة 1 و الممثلة فيما يلي :

* نوع الدفاع الأول (لا نوعي) : ويشمل خطين دفاعيين :

- 1 - الحواجز الدفاعية الطبيعية
- 2 - الرد الالتهابي.

* نوع الدفاع الثاني (نوعي) : ويمثل خط الدفاع الثالث وهو يشمل :

- الرد المناعي الخلطي
- الرد المناعي الخلوي .

النشاط الجزئي 2 :

السؤال : يهدف السؤال إلى دفع التلميذ إلى التعرف على الظواهر التي تصحب حدوث استجابة التهابية من خلال إجراء المقارنة بين أشكال الوثيقة 2 وصولا إلى إيجاد علاقة بين التفاعلات التي تصحب ذلك، أي معرفة بعض التفاعلات الدفاعية التي تبين مراحل الاستجابة الالتهابية والعواقب المترتبة عنها وصولا إلى استخلاص مفهوم الاستجابة اللانوعية.

أما الوثيقة 3 : فهي تبين تفاعلات الاستجابة النوعية (رفض الطعم) بتدخل خلايا لمفاوية أي إستجابة مناعية ذات وساطة خلوية.

يدفع الأستاذ التلاميذ إلى استخلاص سبب رفض الطعم من منطلق المبدأ الأساسي في المناعة والمتمثل في أن خلايا الجسم تتعارف فيما بينها وترفض كل ما هو غريب.

السؤال الأخير في هذا النشاط هو سؤال تركيبى يهدف إلى تمكين التلميذ من اكتساب القدرة على التعبير العلمي الدقيق في نص مختصر معتمدا على ما توصل إليه في هذا النشاط.

النشاط 2 : الذات و اللاذات.

يهدف هذا النشاط إلى تحديد الطبيعة الكيميائية لجزيئات الذات واللاذات وموقعها. وضعية الإنطلاق: يقود الأستاذ التلاميذ للوصول إلى معرفة الجزيئات المكونة للأغشية الهيولية، ومن ثم التعرف على الطبيعة الكيميائية لهذه الجزيئات.

النشاط الجزئي 1:

يهدف إلى التعرف على الطبيعة الكيميائية للجزيئات التي لها القدرة على التعرف على اللاذات وتموضعها انطلاقاً من ملاحظات مجهرية.
السؤال 1: يصل فيه التلميذ إلى أن مناطق التفلور تتمركز على السطح الخارجي للغشاء الهيولي .
السؤال 2: يبين بأن هذه الجزيئات ذات طبيعة بروتينية.

النشاط الجزئي 2:

يهدف إلى تمكين التلميذ من القدرة على ترجمة الرسومات إلى نص علمي.
السؤالين 1 و2: يصل فيهما التلميذ إلى التعرف على ما فوق بنية الغشاء الهيولي حيث يظهر مكون من طبقتين عاتمتين بينهما طبقة نيرة ، ويتركب كيميائياً أساساً من بروتينات بنسبة كبيرة ودم بنسبة أقل .

النشاط الجزئي 3:

يهدف إلى استقصاء المعلومات وإيجاد علاقة بين المعطيات.
السؤال 1: يهدف هذا السؤال إلى تنمية القدرة لدى التلميذ على استعمال تقنيات الملاحظة، حيث يقدم التلميذ وصفاً لكيفية توضع الجزيئات الكيميائية المكونة للغشاء الهيولي انطلاقاً من معطيات شكلية الوثيقة 4.
السؤال 2: يمكن التلميذ من التعرف بدقة على الجزيئات المكونة للسطح الخارجي للغشاء.
السؤال 3: يهدف هذا السؤال إلى تنمية القدرة على الملاحظة، وصولاً إلى استخلاص أهم ميزة للغشاء الهيولي من خلال أدلة تجريبية ممثلة في ميوعة الغشاء وعدم استقرار مكوناته.
السؤال 4: يهدف السؤال إلى إيجاد علاقة بين المعطيات، توظف لتعليل تسمية النموذج الفسيفسيائي المائع.

النشاط الجزئي 4:

يهدف إلى تشخيص علاقة سببية.
السؤالين (1،2) : يهدفان إلى ما يلي:
- وسيلة التعرف على الذات من اللاذات تتمثل في بروتينات سكرية غشائية.
- تعرف الجزيئات المتمثلة في الغليكوبروتينات الموجودة على السطح الخارجي للخلية عند الإنسان ب H L A ونميز فيه نوعين (H L A I) و (H L A II).
سؤال الوثيقة 8: يهدف هذا السؤال إلى تمكين التلميذ من التمييز بين كل من (H L A I) و (H L A II) انطلاقاً من المعلومات المقدمة في شكلية الوثيقة 8 (اعتماداً على عدد ونوعية السلاسل) ومعارفه حول البروتينات.

النشاط الجزئي 5:

يهدف هذا النشاط إلى تنظيم المعطيات والربط بينها لاستخراج العلاقة بين رفض الطعم ومعقد التوافق النسيجي.

السؤال 1: يهدف إلى تمكين التلميذ من الوصول إلى وجود تنوع لمحددات الذات حسب الأفراد إذ تنفرد خلايا العضوية الواحدة و خلايا التوأمان الحقيقيان بنفس محددات الذات ومنه نفس) معقد التوافق النسيجي (C M H)، ما عدا ذلك فإن كل فرد يتميز ب C M H خاص ومخالف عن الأفراد الأخرى .

السؤال 2: يهدف السؤال إلى إيجاد علاقة بين المعطيات فاختلاف معقد التوافق النسيجي بين المانح والمستقبل يؤدي إلى رفض الطعم .

النشاط الجزئي (6):

أ * يهدف إلى إيجاد علاقة بين المعطيات حيث يصل التلميذ في السؤال 1- إلى تحديد منشأ وموقع مورثات C M H التي تقع على الصبغي رقم (6): حيث الموقع (D) به مورثات تشرف على تركيب سلاسل متعدد البيتيد α و β لل (H L A II). أما المناطق (A BC) بها مورثات تشرف على بناء سلسلة متعددة البيتيد α ل (H L A I) أما المورثة التي تشرف على بناء سلسلة متعدد البيتيد B 2M تقع على الصبغي رقم 15. السؤال 2: يهدف إلى إيجاد علاقة بين تنوع جزيئات H L A انطلاقاً من معطيات النشاط حيث يتوصل التلميذ بأن لكل مورثة عدد كبير من الأليلات نظراً للموقع الطرفي لمورثة C M H و بالتالي تنوع كبير في جزيئات H L A.

السؤال 3 : يهدف السؤال إلى استغلال معطيات جديدة ودمجها مع المعرفة المكتسبة. حيث يتوصل التلميذ إلى إضافة معلومة جديدة لتكملة تعريف جزيئات الذات (وهي محددة وراثياً)

السؤال 4 : يهدف السؤال إلى قدرة التلميذ على الشرح و تطبيق المعلومات في موقف معين حيث يتوصل إلى أن كل شخص يتميز ب C M H معين ومنه تنوع كبير في جزيئات H L A حسب كل شخص وبالتالي رفض الطعمة .

*السؤال الإستخلاصي : يهدف السؤال إلى بناء مفهوم الذات انطلاقاً من معطيات النشاط .

النشاط الجزئي (7):

أ * : يهدف إلى تنمية القدرة لدى التلميذ على استخراج معلومات من استغلال معطيات محددة.

السؤال 1: يهدف . لاستخراج المستضدات الغشائية لكل زمرة . حيث الزمرة A لها مستضدات غشائية من نوع A

و الزمرة B لها مستضدات غشائية من نوع B.

و الزمرة AB لها مستضدات غشائية من نوع A B.

و الزمرة O عديمة المستضدات الغشائية .

السؤال 2-: يهدف لتوصيل التلميذ إلى تحديد خصائص كل زمرة: انطلاقاً من المكتسبات السابقة ونتائج الجدول : حيث الزمرة A تختص بوجود جسم مضاد في البلازما من نوع B.

و الزمرة B تختص بوجود جسم مضاد في البلازما من نوع A .

و الزمرة A B تختص بغياب الأجسام المضادة في البلازما.

و الزمرة O تختص بوجود الأجسام المضادة في البلازما من نوع A B.

ب : يهدف إلى إيجاد علاقة بين المعطيات و القدرة على التمثيل التخطيطي .

السؤال 1: يهدف السؤال إلى استخلاص معلومات من خلال المقارنة بين مختلف الزمر الدموية ، حيث أن كل الزمر تشترك في قاعدة سكرية قليلة التعدد ، وصولاً إلى أن اختلاف الزمر يحدده جزء سكري متصل في نهاية القاعدة السكرية .

السؤال 2: يهدف السؤال إلى تنمية القدرة على تمثيل جزيئات السكر قليلة التعدد للزمرة A B ، انطلاقاً من المعلومات المتوصل إليها.

السؤال 3 : يهدف إلى تمكين التلميذ باستغلال معلوماته من إنجاز مخططات انطلاقاً من معطيات النشاط . مثل مخطط لحالات التوافق بين المعطي والمستقبل للدم .

ج : يهدف النشاط إلى تنمية القدرة على تنظيم المعلومات للبرهنة على علاقة .

السؤال 1 : يهدف إلى تنظيم المعلومات انطلاقاً من وثائق النشاط لتحديد المصدر الوراثي للزمر الدموية إذ يتوصل التلميذ إلى أن مصدر الاختلاف بين الزمر الدموية يعود إلى اختلاف في أليلات المورثة التي تقع على الصبغي رقم 9 .

السؤال 2: يهدف إلى أستخراج العلاقة بين المورثة والنمط الظاهري لمختلف الزمر ليصل إلى العلاقة (تنوع المورثات يقابله إختلاف النمط الظاهري ، أي نوع الزمرة)

فالنمط الوراثي للزمرة A : إما أن يكون متماثل العوامل (AA) أو مختلف العوامل (O A)

النمط الوراثي للزمرة B : إما أن يكون متماثل العوامل (B B) أو مختلف العوامل (O B)

ويكون النمط الوراثي للزمرة AB : يخمل العاملين (A ، B)

النمط الوراثي للزمرة O : يكون متماثل العوامل (O O)

النشاط الجزئي 7- *ب : يهدف إلى تنمية القدرة على إستخراج معلومات انطلاقاً من معطيات تجريبية :

السؤال 1 : يهدف إلى إيجاد علاقة بين المعطيات . إذ يتوصل التلميذ للاختلاف الموجود بين الزمرتين ويستنتج بان $Rh +$ يحدد بروتين غشائي نوعي يدعى مستضد D.

السؤال 2 : يهدف إلى تنمية القدرة على استغلال المعلومات للوصول للبرهنة على معطيات علمية . حيث يتوصل التلميذ لحدوث ارتصاص عند معاملة دم عفاف بجسم مضاد ضد D. وغياب الارصاص عند معاملة دم منصف بجسم مضاد ضد D.

السؤال 3: يهدف السؤال إلى القدرة على إستقصاء المكملات بحيث يتوصل التلميذ إلى أن الصبغي رقم 1 يحمل مورثة الريزوس التي تكون سائدة عند بعض الأشخاص وهي تشرف على بناء بروتين غشائي يدعى مستضد D يطاق على الزمرة الدموية للأشخاص الحاملين له ($Rh +$) وزمرة الأشخاص غير الحاملين له ($Rh -$).

السؤال الاستخلاصي : يهدف السؤال إلى القدرة على تنظيم المعلومات السابقة و استغلالها لبناء مفهوم اللذات .

النشاط 3 : الحالة الأولى للدفاع عن العضوية

يهدف النشاط إلى تحديد (مصدر إنتاج الجزيئات الدفاعية وعملها. ثم بنيتها والطبيعة الكيميائية لها) .

وضعية الانطلاق: يدفع الاستاذ التلاميذ إلى البحث عن مصدر إنتاج الجزيئات الدفاعية التي تساهم في اقضاء اللاذات وبنيتها والطبيعة الكيميائية لها.

النشاط الجزئي 1 :

يهدف إلى إستغلال المعطيات في موقف معين إنطلاقا من تحليل نتائج ومعطيات وثائقية.

السؤال 1: يهدف إلى دفع التلميذ إلى معالجة المعلومات بحيث يصل التلميذ إلى مايلي :

* دخول الجسم الغريب (الأنتوكسين الكزازي) إلى عضوية الفأريؤدي إلى تحريضها على إنتاج أجسام مضادة في المصل، فحقن مصل الفأر 1 إلى الفأر 2 أدى إلى حمايته من التوكسين التكرزي .

* ترتبط الأجسام المضادة ارتباطا متكاملا مع نفس الجسم الغريب الذي حرض على إنتاجها من طرف العضوية فمعالجة مصل الفأر 1 بالمسحوق العاطل مع الاناتوكسين الكزازي لم يحمي الفأر 3 من التوكسين الكزازي بعد الترشيح .

السؤال 2: يهدف إلى تدريب التلميذ على فهم و معالجة المعلومات حيث يتوصل إلى أن تشكل الاقواس بين الحفر 1 و2 وبين 1 و6 يعود لتشكل معقدات مناعية .

السؤال 3 : يهدف إلى تدريب التلميذ على الاستنتاج بحيث يتوصل التلميذ إلى أن الجزيئات الدفاعية تمتاز بالنوعية أي (التخصص العالي ، فلكل جسم مضاد بنية مكاملة ومتخصصة لمولد الضد الذي حرض إنتاجه .

السؤال 4: يهدف إلى تنمية القدرة لدى التلميذ على ترجمة التنظيمات الوظيفية إلى رسم تخطيطي، بحيث يصل إلى رسم معقد مناعي (تفاعل جسم مضاد مولد الضد) .

السؤال الاستخلاصي : يهدف إلى إكساب التلميذ القدرة على إنجاز ملخص لنص علمي له علاقة بالموضوع بحيث يلخص التلميذ ما يحدث داخل العضوية عند غزوها بجسم غريب وكيفية تعديله من طرف الجزيئات الدفاعية .

النشاط الجزئي 2 :

يهدف النشاط إلى إستخلاص معلومات انطلاقا من تحليل نتائج

إذ يتوصل التلميذ إلى ما يلي

السؤال 1 : يهدف إلى إنجاز مقارنة بين البروتينات المصلية لشخصين واحد مريض والآخر سليم بحيث يوجد تطابق بين البروتينات المصلية لكلا الشخصين ما عدا δ غلوبولين الذي يكون مرتفع عند الشخص المريض , منه يستخلص بأن الجزيئات الدفاعية هي من نوع δ غلوبولين.

السؤال 2: يهدف إلى قدرة التحكم في وصف التجارب المخبرية .

يتوصل التلميذ إلى وصف لطريقة الكشف عن الجزيئات البروتينية (تفاعل بيري أوتفاعل الأصفرالأحيني مثلا) بلستغلال مصل الشخص المريض والتي تبين أن الجزيئات المفصولة الدفاعية هي ذات طبيعة بروتينية.

النشاط الجزئي 3:

يهدف النشاط إلى تمكين التلميذ من ترجمة رسم إلى نص علمي ، واكسابه القدرة على التمثيل التخطيطي إنطلاقاً من ملاحظة صور وثنائية.

السؤال: يهدف إكساب التلميذ القدرة على التعبير العلمي السليم ذاكراً ما يلي (الشكل العام للجسم المضاد , السلاسل البروتينية الخفيفة والثقيلة , الأجزاء الثابتة والمتغيرة , موقع محدد مواد الضد) ثم يدعم الوصف برسم عليه كافة البيانات .

النشاط 4 : المعقد المناعي

يهدف النشاط إلى التعرف على عمل الأجسام المضادة و مميزاتها .

وضعية الانطلاق : يطرح الأستاذ على التلاميذ اشكالية كيفية تدخل الأجسام المضادة لتعطيل نشاط الأجسام الغريبة داخل العضوية .

النشاط الجزئي 1 :

يهدف إلى بناء مفهوم المعقد المناعي إنطلاقاً من وثائق تجريبية .

السؤال 1 : يهدف إلى استغلال وتطبيق المعلومات حيث يربط بين الاشكال أ، ب، ج بما يقابلها من أرقام 1,2,3 ثم ينجز وصف للمعقد المناعي الذي ينتج من ارتباط الجسم المضاد مع المستضد الذي حرض على إنتاجه.

السؤال 2: يهدف السؤال إلى بناء مفهوم المعقد المناعي أنطلاقاً من المعطيات السابقة .

النشاط الجزئي 2:

يهدف السؤال إلى تطبيق المعلومات في موقف معين: (أي كيفية تشكل المعقد المناعي) .

السؤال 1: يهدف إلى إسترجاع المعلومات بكتابة البيانات المرقمة .

السؤال 2: يهدف إلى إظهار قدرة التلميذ على استغلال المعلومات بحيث يتوصل التلميذ إلى تسمية جزء الجسم المضاد المتدخل في تثبيت المستضد والمتمثل في المنطقة غيرالثابتة والمتخصصة ، التي تمثل منطقة تكامل بينها وبين محدد مولد الضد للجسم الغريب.

السؤال 3 : يهدف لاستخلاص معلومات جديدة يصل فيها التلميذ إلى أنه بفضل التكامل البنيوي بين محدد مولد الضد وموقع التثبيت الموجود على الجسم المضاد ، تتشكل المعقدات المناعية .

السؤال الاستخلاصي : يهدف إلى تنمية قدرة التلميذ على تنظيم المعطيات للبرهنة على علاقة أنطلاقاً من وثائق النشاط حيث يتوصل التلميذ إلى وجود علاقة تكامل بنيوي بين الجسم المضاد والمستضد بفضل البنية المتميزة لكل منهما .

النشاط الجزئي 3 :

أ- يهدف هذا الجزء إلى استخلاص مفهوم ظاهرتي الارتصاص والترسيب باسغلال معطيات تجريبية ، عن طريق مقارنات، اعتمادا على رسومات تفسيرية بهدف الوصول إلى اظهارالفرق بين ظاهرتي الارتصاص والترسيب، وبين الأجسام المضادة و المستضدات ،وذلك أثناء تشكل المعقدات المناعية .

السؤال 1: يهدف إلى تنمية قدرة التلميذ على أنجاز المقارنة بين قطرتي الدم بالعين المجردة التي تبدو متجانسة في غياب الارتصاص و غير متجانسة في وجود الارتصاص ،ويوضح بالمجهر الضوئي مظهر الخلايا، التي تبدو منفردة في غياب الارتصاص ومنتجعة في وجود الارتصاص.

السؤال 2 : يهدف السؤال إلى تنمية قدرة التلميذ على استعمال المعلومات في موقف معين بحث يعتمد على المعلومات التفسيرية ويعلل عدم حدوث الارتصاص عند معاملة قطرة الدم بأجسام مضادة BiAnt لغياب مولد الالتصاق من نوع B على السطح الخارجي لكريات الدم الحمراء .

السؤال 3 : يهدف السؤال تنمية قدرة التلميذ لى ترجمة الرسومات التخطيطية إلى نص علمي وذلك بوصف الارتصاص .

ب- يهدف إلى قياس قدرة التلميذ على تطبيق المعلومات .

السؤال 1 : يهدف السؤال إلى تمكين التلميذ من اختيار المعلومات التي لها علاقة بالموضوع حيث يستخرج الفرق بين الارتصاص و الترسيب

فعندما يكون الجسم الغريب عبارة عن خلية فالظاهرة التي تحدث تسمى بالارتصاص، أما إذا كان عبارة عن جزيئة منحلة فالظاهرة التي تحدث تسمى بالترسيب.

السؤال 2: يهدف السؤال إلى إظهار قدرة التلميذ على تحديد المعلومات التي لها علاقة مع الموضوع . بحيث يتوصل إلى أن الترسيب يكون مع المستضدات المنحلة و الارتصاص يكون مع المستضدات غي المنحلة (الخلايا)

السؤال 3: يهدف السؤال إلى تنمية قدرة التلميذ على تطبيق المعلومات التي لها علاقة بالموضوع . بحيث يتوصل التلميذ انطلاقا من المعلومات السابقة إلى ان التأثيرات المختلفة لاتؤدي إلى الاختفاء الكلي للمستضد لان المعقدات المناعية تعدل من نشاط المستضدات فقط .

ج-1: يهدف هذا الجزء إلى تنمية قدرة التلميذ على الوصف والتمثيل التخطيطي .

سؤال الوثيقة 9: يتوصل فيه التلميذ إلى وصف مراحل البلعمة انطلاقا من رسومات تخطيطية تبين مراحل البلعمة .

السؤال 1: يهدف إلى تنمية قدرة التلميذ على استرجاع المعلومات بوضع البيانات المرقمة انطلاقا من رسومات تخطيطية .

السؤال 2 : يهدف إلى تنمية قدرة على الوصف بحيث يصل التلميذ إلى وصف بعض مراحل البلعمة .

السؤال 3: يهدف إلى تنمية القدرة على إنجاز الرسم التخطيطي انطلاقاً من معارف سابقة , وذلك بتكملة مراحل البلعمة برسم تخطيطي .

السؤال الاستخلاصي : يهدف السؤال إلى إستغلال المعلومات للبرهنة على مقولة بحيث يبرهن التلميذ أن الارتصاص والترسيب يسرعان عمل البالعات في أقتناص عدد أكبر من الستضدات انطلاقاً من المعلومات المكتسبة سابقاً حول المعقدات المناعية .

ج 2: يهدف السؤال إلى تنمية القدرة على ترجمة الرسومات التخطيطية إلى نص علمي:

السؤال 1: يهدف إلى تنمية فكر التلميذ بالتمكن من ترجمة المراحل التي أدت إلى تشكيل القنوات الغشائية إلى نص علمي انطلاقاً من رسومات تخطيطية بحيث يصل التلميذ إلى ان تشكيل القناة الغشائية يمر بمراحل :

- تشكل المعقد المناعي : يؤدي إلى تنشيط عناصر المتممة . وهذا ما يؤدي إلى تشكل معقد الهجوم الغشائي .

- تشكل معقد الهجوم الغشائي: يؤدي إلى تشكل القناة الغشائية .

السؤال 2: يهدف إلى تحديد دور القناة الغشائية الذي يتمثل في دخول الماء وشوارد الاملاح عبر هذه القنوات مؤدياً إلى حدث صدمة حلولية للخلية المستهدفة.

السؤال الاستخلاصي : يهدف إلى إكساب التلميذ القدرة على التعبير العلمي، وذلك بإنجاز خلاصة. بحيث يتوصل التلميذ إلى مايلي : يتم التخلص من المعقدات المناعية من طرف البالعات أما بلعمة المعقد المناعي كلية و إما بلعمة بقايا الخلايا المخربة بعد تخريب المستضد بتدخل عناصر المتممة التي تحدث قناة حلولية في أغشية الخلية المستضدية من طرف M CA .

النشاط 5 : مصدر الأجسام المضادة .

يهدف النشاط إلى إظهار مصدر الأجسام المضادة ومنشأ الخلايا المنتجة للأجسام المضادة مع كيفية الانتقاء النسلي للخلايا للمفاوية LB ,

وضعية الانطلاق : يثير الأستاذ إشكالية مصدر الأجسام المضادة و كيفية الانتقاء النسلي للخلايا للمفاوية LB .

النشاط الجزئي 1 :

يهدف هذا الجزء الى تدريب التلميذ على إيجاد علاقة بين المعطيات و نتائجها من جهة و من جهة أخرى وضع فرضيات و التأكد منها.

السؤال 1 : يهدف إلى تمكين التلميذ من تنمية روح الملاحظة ، باستخراج التغيرات الملاحظة عند الفأرين انطلاقاً من نتائج تجريبية حيث يلاحظ اختلاف في دغلوبيولين الذي يكون مرتفع عند الفأر المحقون GRM ومنخفض عند الفأر الشاهد .

السؤال 2 : يهدف إلى تنمية قدرة التلميذ لتشخيص سببية . إذ يصل التلميذ الى أن GRM ينشط عضوية الفأر ويحثها على إنتاج بروتينات من نوع دغلوبيولين.

السؤال 4: يهدف إلى تطبيق مفهوم الفرضية التفسيرية . حيث يتوصل التلميذ إلى

الفرضية المقترحة فيما يخص الخلية المنتجة للأجسام المضادة والممثلة في الخلايا البلاسمية.

السؤال 5 : يهدف إلى قدرة التلميذ على اختيار المعلومات لتأكيد الفرضية حيث يتوصل التلميذ إلى الاستدلال عن صحة الفرضية و الممثل في غزارة الهيولة و نمو وتطور بعض العضيات المتمثلة في(الشبكة الفعالة -جهاز كولجي - الميتوكوندريات - حويصلات الافراز).

النشاط الجزئي 2 :

(المرحتين 1 و 2) : يهدف النشاط الى اختبار قدرة التلميذ على استغلال المعارف . و ذلك انطلاقا من ملاحظة سريرية و نتائج تجريبية ممثلة بالمرحتين 1 و 2 .

السؤال 1: يهدف إلى فدرة التلميذ على استقصاء المعلومات . حيث يصل التلميذ الى أن النقي الأحمر للعضام هو منشأ الخلايا للمفاوية .

السؤال 2 : يهدف إلى تنمية قدرة التلميذ على أستقصاء معلومات أنطلاقا من تحليل نتائج تجريبية ، حيث يتوصل التلميذ إلى أن الخلايا للمفاوية هي منشأ الأجسام المضادة.

المرحلة 3 : أ - يهدف نشاط هذا الجزء إلى تنمية قدرة التلميذ على استغلال المعلومات التي لها علاقة بالموضوع . حيث يصل التلميذ انطلاقا من النتائج التجريبية المقدمة في وثيقة النشاط إلى تعليل خطوات التجربة .

ب - يهدف نشاط هذا الجزء إلى تنمية قدرة التلميذ على استغلال المعلومات أيضا و تطبيقها في موقف معين .

السؤال 1: يهدف إلى تمكين التلميذ من استغلال المعلومات و ذلك بتعليل المعلومات الواردة في جدول النشاط .

السؤال 2 : يهدف إظهار قدرة الميذ على استخلاص معلومات جديدة و استغلالها في وضعيات محددة بحيث يتوصل التلميذ إلى استخراج معلومة جديدة من الجدول تخص مقر تكاثر الخلايا للمفاوية LB و تمايزها والمتمثل في الاعضاء للمفاوية المحيطة (الطحال والعقد للمفاوية)

السؤال 3 : يهدف إلى تحديد الفرضية الصحيحة انطلاقا من المعلومات المتوصل إليها . والتمثلة في الخلايا البلاسمية .

النشاط الجزئي 3:

أ - يهدف النشاط إلى استغلال المعلومات التي لها علاقة بالموضوع والمتعلقة بالانتقاء النسيلي.

السؤال 1: يهدف إلى اظهار قدرة التلميذ على استرجاع المعلومات بحيث يصل التلميذ إلى أن GRM و GRP يمثلان أجسام غريبة بالنسبة لعضوية الفئران .

السؤال 2 : يهدف إلى اظهار القدرة على إنجاز المقارنة والاستنتاج انطلاقا من وثائق النشاط الجزئي . بحيث يتوصل التلميذ إلى أن تشكل الوريدات في كلا الشكلين رغم

اختلاف الجسم الغريب مع بقاء مجموعة أخرى من الخلايا للمفاوية حرة في كل شكل ,
ومنه يستنتج أن الخلايا للمفاوية LB المتواجدة في الأعضاء المحيطة كثيرة التنوع , و
دخول المستضد هو الذي يساهم في انتقائها.

السؤال 3 : الهدف منه دفع التلميذ إلى اقتراح الفرضيات المناسبة انطلاقاً من نتائج تجريبية
بحيث يتوصل التلميذ لاقتراح فرضية تعلل تشكل الوريدات التي تعود لحدوث تكامل بنيوي
بين محدد مولد الضد المستضد و المستقبلات النوعية التي تقع على أغشية الخلايا
للمفاوية .

السؤال 4 : يهدف إلى تنمية قدرة التلميذ على استغلال المعلومات انطلاقاً من نتائج
تجريبية حيث يتوصل التلميذ إلى تحديد نوع الخلية للمفاوية المشكلة للوريدات والممثلة
في الخلايا للمفاوية من نوع LB ويعلل ذلك انطلاقاً من نتائج المرحلة 3 .

السؤال 5 : يهدف إلى إظهار قدرة التلميذ على استغلال المعلومات والقدرة على الاستنتاج
بحيث يستغل التلميذ المعلومات المبينة بالمرحلة 3 ويعلل النتائج , ثم يستنتج [ان
المستضد هو الذي ينتقي نوع الخلايا للمفاوية و بعد ذلك تتمايز إلى خلايا بلاسمية تنتج
الأضداد.

- ب: يهدف إلى إبراز قدرة التلميذ على استغلال المعلومات و التعبير العلمي السليم .

السؤال 1: يهدف إلى استغلال المعلومات المبينة بالوثيقة ويوضح بان انتخاب لمة الخلايا
للمفاوية يعود لدخول المستضد المسؤول عن انتقاء الخلايا للمفاوية الحاملة لمستقبل
يوافق محدد مولد الضد الموجود عليه .

السؤال 2: يهدف السؤال إلى إستغلال المعلومات المبينة بوثيقة النشاط في توضيح
التحقق من الفرضية السابقة (تشكل الوريدات) الذي يعود فعلاً لحدوث تكامل بنيوي بين
محدد مولد الضد والمستقبل الغشائي للخلية للمفاوية .

السؤال الاستخلاصي : يهدف السؤال إلى تنمية القدرة على التعبير اللغوي العلمي
السليم بحيث يتوصل التلميذ إلى إنجاز خلاصة حول التطورات التي تمر بها الخلايا للمفاوية
LB من لحظة التعرف على المستضد إلى إنتاج الاجسام المضادة معتمداً على خطوات
وثيقة النشاط .

النشاط 6: العناصر الدفاعية في الحالة الثانية (الإستجابة المناعية الخلوية):

يهدف النشاط إلى إظهار العناصر المناعية المتدخلة في الاستجابة المناعية النوعية
الخلوية ومصدرها,

وضعية الانطلاق : يدفع الأستاذ التلاميذ إلى استقصاء المعلومات باستغلال أدلة تجريبية ,
وصولاً إلى إظهار وجود نوع ثاني من الإستجابة المناعية .

السؤال 1: يهدف إلى تطبيق المعلومات وتوظيفها لتفسير ظواهر مناعية , ليصل التلميذ
إلى تفسير أن موت الحيوان ج متعلق بغياب عناصر الحماية في المصل المحقن له ضد BK
في حين تواجد هذه العناصر الوقائية في الحيوانين (أ و ب) بسبب الخلايا للمفاوية LT
المحقونة للحيوان ب , معاملة الحيوان (أ) , ب BCG . السؤال 2 : يهدف إلى تحديد نوع
الاستجابة المناعية ضد السل انطلاقاً من نتائج وثيقة النشاط الممثلة في الاستجابة
المناعية ذات الوساطة الخلوية .

النشاط 7: طرق تأثير اللمفاويات (LT).

وضعية الانطلاق : يقود الاستاذ التلاميذ باجراء نقاش ،إلى طرح إشكالية كيفية التعرف والقضاء على الخلايا المصابة ، انطلاقا من معلوماتهم في النشاط السابق.

النشاط الجزئي 1:

المرحلة 1: يهدف النشاط إلى إيجاد علاقة بين المعطيات :

السؤال 1 : يهدف إلى إستخراج شروط تخريب الخلايا العصبية من طرف LTC، اعتمادا على انجاز مقارنة بين نتائج جدول الوثيقة حيث يتوصل التلميذ إلى أن شروط التخريب والممثلة في:

- أصابة الخلايا .
- الخلايا المصابة والخلايا اللمفاوية (LTC) تنتمي إلى نفس السلالة .
- يجب ان يكون نفس الفيروس الذي حرض تمايز الخلايا اللمفاوية (LTC) في الخلايا المصابة .

السؤال 2: يهدف إلى تطبيق المعلومات التي لها علاقة بالموضوع، بحيث يتوصل التلميذ إلى تأكيد التعرف المزدوج انطلاقا من معلوماته ووثيقة النشاط ، حيق يصل إلى اظهار أن التعرف المزدوج يتم بين الخلايا اللمفاوية السامة (LTC) والخلايا المصابة. أي التعرف على H L AI وعلى محدد مولد الضد في نفس الوقت من طرف LTC. هذا ما يؤدي إلى تخريب الخلايا المصابة فقط .

المرحلة 2: يهدف إلى تنمية القدرة على استقصاء المعلومات و ترجمة الملاحظات المجهرية وباستغلال رسومات تخطيطية إلى نص يستنتج فيه تأثير اللمفاويات (LTC) وآلية عملها.

- السؤال 1: يهدف إلى تنمية قدرة التلميذ على استخراج تأثير LTC على الخلايا المصابة انطلاقا من ترجمة الملاحظة المجهرية المبينة بوثيقة النشاط، إذ يتوصل التلميذ إلى ان الخلية LTC تهاجم الخلية المصابة بأحداث قنات حلولية على غشائها مؤدية إلى تخريبها .
- السؤال 2 يهدف إلى تفسير آلية تخريب الخلايا المصابة من طرف LTC معتمدا على ترجمة الملاحظات المجهرية إلى نص ذاكرة النقاط التلية .

- التعرف المزدوج بين LTC الحاملة لمستقبلات جزيئات H L AI ومحدد مولد الضد الموجودين على الخلية المصابة .

- طرح جزيئات البرفورين من طرف الخلية LTC التي تتوضع على إغشية الخلية المصابة مؤدية إلى تشكيل قناة حلولية يدخل من خلالها الماء و الشوارد فتحدث صدمة حلولية للخلية المصابة .

السؤال الاستخلاصي : يهدف السؤال إلى تطبيق المعلومات في موقف له علاقة بالموضوع حيث يتوصل التلميذ إلى انجاز مقارنة بين نوعي الإستجابة المناعية حول إقصاء اللادات ، معتمدا على المعلومات المكتسبة في كل من المناعة ذات الوساطة الخلوية و المناعة ذات الوساطة الخلوية .

النشاط 8 : مصدر اللمفاويات LT

يهدف النشاط إلى تحديد مصدر ومكان نضج اللمفاويات LT ، وكيف يتم انتخاب نوع الإستجابة المناعية.

وضعية الانطلاق : يقود الاستاذ التلاميذ من خلال المناقشة حول مصدر الخلايا المنتجة للأجسام المضادة إلى التساءل عن مصدر اللمفاويات LT دعمًا للاستجابة المناعية ذات الوساطة الخلوية .

النشاط الجزئي 1 :

يهدف إلى تنمية القدرة على استقصاء المعلومات من مقارنة معطيات تجريبية ثم استخلاص النتائج وصولًا لتفسير ظواهر مناعية.

السؤال 1 : يتوصل التلميذ إلى إستخراج المعلومات ، انطلاقًا من مقارنة نتائج تجريبية مبينة في وثيقة النشاط والتي تتمثل فيما يلي:

- مقرر إنتاج الخلايا اللمفاوية هو نقي الاحمر للعظام .
- مقرر نضج الخلايا اللمفاوية LT هي الغدة السعترية (التيموسية) .
- مقرر نضج الخلايا اللمفاوية (LB) هو النقي الاحمر للعظام .

السؤال 2 : يهدف إلى تطبيق المعلومات المكتسبة في تفسير عدم رفض الطعم المبين بالوثيقة وصولًا أن الفأر المجرد من الغدة التيموسية تنعدم عنده الخلايا اللمفاوية LT المسؤولة عن رفض الطعم .

النشاط الجزئي 2 :

يهدف إلى استقصاء المعلومات التي لها علاقة بالموضوع .

السؤال 1: يهدف إلى تحديد اكتساب الخلايا اللمفاوية لطليعة T كفاءتها المناعية على مستوى الغدة التيموسية انطلاقًا من معطيات تجريبية، أذ يتوصل التلميذ إلى آلية انتقاء الخلايا LT من طرف الغدة التيموسية حيث يتم نضج الخلايا التي تتعرف (H LA I) و (H L AII) وعلى البيبتيدات الذاتية (P) ، أما باقية الخلايا فيتم تخریبها .

السؤال 2: يهدف إلى استغلال المعلومات في تعليل عدم مهاجمة الخلايا اللمفاوية لخلايا الذات ، انطلاقًا من معطيات وثيقة النشاط ، و يعلل هذا بعدم التعرف على بيبتيدات الذات .

النشاط الجزئي 3 :

يهدف إلى استقصاء المعلومات التي لها علاقة بالموضوع .

السؤال 1: يهدف إلى تحديد مع التعليل الخلايا اللمفاوية التي يمكنها التعرف على المستضد البيبتيدي المعروف من طرف الخلية المبينة بشكل ب ، حيث يتوصل التلميذ إلى تحديد نوع الخلية (رقم 4) لوجود تكامل بنيوي بين مستقبلها الغشائي و المستضد البيبتيدي المعروف على خلية شكل ب .

السؤال 2 : يهدف إلى تحديد مصدر الخلايا للمفاوية السامة ومميزاتها انطلاقاً من معطيات الوثيقة حيث يتوصل التلميذ إلى أن مصدر الخلايا للمفاوية هو (LT8) و تمتاز بقدرتها على التعرف على الخلايا المصابة.

السؤال 3 : يهدف إلى تطبيق المعلومات التي لها علاقة بالموضوع إذ يتوصل التلميذ انطلاقاً من المعطيات الوثيقة إلى مايلي :

1- المستضد البيتيدي المعروف مرافقاً لـ (HLA I) هو الذي يساهم في اختيار وانتقاء الخلايا LT8 النوعية (الحاملة لمستقبل المستضد).

2- يتم التعرف المزدوج بين الخلايا للمفاوية LT8 و الخلايا المصابة هذا ما يؤدي إلى تكاثر الخلايا LT8 مشكلة لمة من الخلايا المتماثلة والمنشطة .

النشاط الجزئي 4:

أ - يهدف هذا الجزء إلى استغلال المعلومات التي لها علاقة بالموضوع في تحليل ظواهر مناعية.

السؤال 1 : يهدف إلى استنتاج معلومة انطلاقاً من تحليل نتائج تجريبية حيث يصل التلميذ إلى أن الخلايا للمفاوية LB هي التي تتمايز إلى خلايا منتجة للأجسام المضادة .

السؤال 2 : يهدف السؤال إلى استنتاج نمط تأثير للمفاويات TL على لمفاويات LB انطلاقاً من نتائج تجريبية مبينة بوثيقة النشاط ، إذ يتوصل التلميذ إلى أن نمط التأثير هو تأثير كيميائي ، ويعلل ذلك بزيادة عدد الخلايا المنتجة للأضداد في التجربة 4 رغم انفصال الخلايا للمفاوية بغشاء يمنع نفاذية الخلايا .

السؤال 3 : يهدف إلى تطبيق المعلومات الجديدة في موقف معين . حيث يتوصل التلميذ إلى استخراج معلومة إضافية انطلاقاً من تحليل نتائج تجريبية تخص تأثير للانترلوكين II. الذي يحث للمفاويات LT8 على التكاثر و التمايز .

السؤال 4 : يهدف إلى استغلال المعلومات حيث يتوصل التلميذ إلى تحليل تسمية كل من

(LTh) بالمساعدة و (للانترلوكين II) بالمادة المحفزة .

ب- : يهدف هذا النشاط إلى تدريب التلميذ على إنجاز خلاصات لها علاقة بهدف تعليمي لتحقيق كفاءة مسطرة : تعتمد الخلاصة على تحديد كيفية تحفيز الخلايا LT8 و LB من طرف LTh حيث يتوصل التلميذ إلى أن: الخلايا للمفاوية LTh تفرز مواد كيميائية بواسطتها يتم تنشيط الخلايا للمفاوية LT8 و LB لاحتوائهما على مستقبلات نوعية للانترلوكين II.

- تكاثر الخلايا للمفاوية المنشطة LT8 و LB وتتمايز بعض الخلايا للمفاوية LB إلى خلايا بلازمية تنتج الأجسام المضادة ، وتتمايز بعض الخلايا للمفاوية LT8 إلى خلايا سامة (LTc) .

النشاط الجزئي 5 :

أ - استقصاء المعلومات التي لها علاقة بموضوع النشاط.

السؤال 1: يهدف إلى تنمية قدرة التلميذ على التحليل انطلاقاً من شروط ونتائج تجريبية مبينة بوثائق النشاط .

السؤال 2 : يهدف إلى القدرة على تطبيق المعلومات . إذ يتوصل التلميذ إلى تأكيد النتائج المتحصل عليها في تجربة مار بروك انطلاقاً من مقارنة نتائج التجارب 2 مع 3 من الوثيقة 9 حيث تبين النتائج بان الخلايا للمفاوية المحفزة LB لوحدها تعطي كمية ضئيلة من الاضداد في حين عدد الاضداد يكون مكثف عندما تكون مع (LT4).

السؤال 3: يهدف إلى استغلال المعلومات في موقف معين ، حيث يتوصل التلميذ إلى تحديد الاختلاف بين التجريبتين 3 و4 انطلاقاً من معطيات تجريبية والممثل في غياب المستضد الممثل ب (pNT) في التجربة 4 مع الخلايا للمفاوية LB و البالعات المحسنة سابقاً . وصولاً إلى استنتاج دور البالعات الممثل في عرض محددات مولد الضد عند الإستجابة المناعية .

ب - يهدف النشاط إلى تأكيد المعلومات المتوصل إليها ، ثم استثمارها وتطبيقها في وضيات جديدة (بناء مخطط تحصيلي).

السؤال 1 : يهدف إلى تحديد دور البالعات انطلاقاً من معطيات وثيقة النشاط حيث يتوصل التلميذ إلى الدور الذي تقوم به البالعات الممثل في بلع أي جسم غريب ثم هضمه جزئياً محتفظة بمحدد مولد الضد الذي تعرضه على سطحها الخارجي مرتبطاً ب (H L AI) و (H L AII).

السؤال 2 : يهدف إلى استقصاء المعلومات ، بحيث يتوصل التلميذ إلى معرفة دورمختلف الجزيئات في التعرف على اللادات:

- حيث للانترلوكين I المفرز من طرف البالعات يساهم في اختيار الخلايا للمفاوية المتخصصة للادات ، الذي نفذ للعضوية وبالتالي تبرز هذه الخلايا مستقبلات غشائية للانترلوكين II.

- جزيئات للانترلوكين II المفرز من طرف LT4 ينشط الخلايا للمفاوية فتتكاثر وتتمايز وبالتالي تتشكل لمة من (LTh و LTC والبلاسموسيت) .

السؤال 3 : يهدف السؤال إلى تطبيق المعلومات المكتسبة في شرح الدور المحوري الذي تلعبه LTh في الاستجابتين المناعيتين ، وذلك انطلاقاً من معطيات وثيقة النشاط ,

السؤال 4 : يهدف إلى القدرة على إستغلال المعلومات أحد الشروط الأساسية لحدوث استجابة مناعية ، حيث يتوصل التلميذ إلى أن نمط الاستجابة المناعية (الخلطي أو الخلوي) يكون مرتبط بمحدد مولد الضد .

السؤال الاستخلاصي : يهدف السؤال إلى اكساب التلميذ القدرة على تمثيل التنظيمات الوظيفية برسم تحصيلي يبين فيه التخصص الوظيفي للبروتينات الدفاعية معتمداً على المعلومات المكتسبة من الوحدة .

النشاط 9 : سبب فقدان المناعة المكتسبة

يهدف النشاط إلى التعرف على كيفية إصابة الجهاز المناعي بفيروس (VIH) المتسبب في فقدان المناعة المكتسبة .

وضعية الانطلاق : يلفت الاستاذ انتباه التلاميذ إلى مدى أهمية الجهاز المناعي في الدفاع عن العضوية اتجاه الاجسام الغريبة التي تغزوها، ثم يطرح إشكالية العجز المناعي تجاه فيروس (VIH) ، المتسبب في فقدان المناعة المكتسبة ، والعواقب المترتبة عن ذلك .

النشاط الجزئي 1:

(المرحلة 1) : يهدف النشاط إلى استقصاء المعلومات حول مظهر غشاء الخلية المصابة بالفيروس خلال فترات مختلفة .

السؤال 1: يهدف السؤال إلى استنتاج مميزات غشاء الخلية المصابة بانجاز مقارنة اعتمادا على ملاحظات مجهرية ، حيث يتوصل التلميذ إلى أن الخلايا المصابة يبدو على سطح غشائها تبرعمات غشائية كثيرة . بالنسبة لغشاء الخلية السليمة .

السؤال 2: يهدف إلى قدرة التلميذ على تطبيق المعلومات التي لها علاقة بموضوع النشاط . حيث يشرح التلميذ مظهر الخلية المصابة الذي يعود لتطور الفيروس داخل الخلية ثم خروجه منها بظاهرة الطرح الخلوي

المرحلة 2 : يهدف النشاط إلى استقصاء المعلومات انطلاقا من تحليل نتائج تجريبية. اعتمادا على معطيات وثائق النشاط .

السؤال 1: يهدف إلى اظهار قدرة التلميذ على التحليل والإستنتاج ، حيث يصل التلميذ إلى تحليل نتائج الوثيقة ويستنتج نوع الخلية المصابة والمتمثلة في الخلايا اللمفاوية (LT4)

السؤال 2 : يهدف السؤال إلى استغلال المعلومات التي لها علاقة بموضوع النشاط معتمدا على معطيات وثائقية

حيث يتوصل التلميذ إلى تعليل إستهداف (VIH) للخلايا (LT4)، نتيجة احتوائها على بروتين

غشائي (CD4) الذي يوجد بينه وبين بروتين غشائي للفيروس (gP 120) تكامل بنيوي (قالب له) والذي يمثل أحد مكونات فيروس (VIH) .

النشاط الجزئي 2 :

(المرحلة 1) : يهدف النشاط إلى استقصاء المعلومات التي لها علاقة بموضوع النشاط اعتمادا على معطيات الوثائق.

السؤال 1 : يهدف إلى تحديد المكونات الجزيئية والدعامة الوراثية لفيروس (VIH) ، حيث يتوصل التلميذ من استخراج الجزيئات المكونة لفيروس (VIH) الممثلة :

gP 120 -gP 41 - طبقة فوسفوليبيدية إلخ ، بينما الدعامة الوراثية للفيروس هي ARN.

السؤال 2 : يهدف إلى تحديد دور كل من : gP 120 و ARN الفيروسي وكذا دورانزيم الاستنساخ العكسي في إصابة (LT4) انطلاقاً من تحليل معطيات الوثيقة 6 .

السؤال 3 : يهدف إلى اظهار قدرة التلميذ على ترجمة الرسومات إلى نص علمي سليم ، حيث يتوصل التلميذ إلى انجاز نص حسب المواصفات التالية:

- تلعب الجزيئة gP 120 الدور الرئيسي في إصابة الخلايا للمفاوية (LT4) حيث تثبت على (CD4) الموجود على غشاء الخلية للمفاوية (LT4) وبفضل gP 41 يدخل الفيروس إلى الخلية للمفاوية

- يتحول بعد ذلك الـ ARN إلى ADN فيروسي بفضل أنزيم الإستنساخ العكسي الذي يمتاز به فيروس (VIH)

- بضل أنزيم الإدماج يندمج ADN الفيروسي مع ADN الخلية للمفاوية (LT4) و خلال النشاط الخلوي تتركب المورثات الفيروسية الـ ARN الفيروسي ، إلى جانب الـ ARN الرسول الذي يترجم إلى بروتينات فيروسية . تهاجر مكونات الفيروس نحو غشاء الخلية ، لتتشكل الفروسات وتحرر بالتبرعم نحو الخارج .

المرحلة 2: يهدف النشاط إلى إستخراج مميزات المراحل الثلاثة لتطور فيروس (VIH) عند الإصابة .

السؤال 1 : يهدف السؤال إلى ابراز قدرة التلميذ على انجاز التحليل و الاستخلاص ، حيث يتوصل التلميذ إلى انجاز تحليل مقارن انطلاقاً من النتائج المبينة بوثيقة النشاط ثم يستخلص مايلي

- مرحلة الإصابة الأولية مدتها عدة أسابيع تتميز بظهور أجسام مضادة ضد gP 120 و بتناقص عدد الخلايا للمفاوية (LT4) .

- مرحلة الترقب تمتاز بكثرة وجود الاجسام المضادة لـ gP 120 أي لفيروس (VIH) ، يرافق ذلك تزايد طفيف للخلايا للمفاوية (LT4).

- مرحلة العجز المناعي تتميز بانعدام الخلايا للمفاوية وزيادة شحنة الفيروس .

السؤال 2: يهدف إلى استخراج سبب العجز المناعي الذي يعود أساساً إلى تناقص حاد للخلايا

للمفاوية (LT4)

السؤال 3: يهدف إلى توظيف واستغلال المعلومات حيث يتوصل التلميذ إلى أن فيروس السيدا يصيب أيضا البالعات الكبيرة لاحتواء أغشيتها على بروتين (CD4).

تمارين الوحدة 4 من المجال الأول

التمرين 1 :

يهدف السؤال الاول إلى إسترجاع المعلومات الممثلة في وضع البيئات التي تكون حسب ما يلي: {4- شبكة هيولية فعالة 5- نواة 6- ميتوكوندري 7- هيولة أساسية 8- جهاز كولجي 9- حوصلات كولجية }
يهدف السؤال إلى تطبيق المعلومات لتشخيص علاقة سببية . حيث يتوصل التلميذ إلى تحديد الأعراض التي تبينها الوثائق و تدل على استجابة مناعية نوعية خلطية تعود إلى مايلي:

- انتفاخ العقد اللمفاوية وغناها بالخلايا المبينة بالوثيقة 3 هذا يدل على استجابة مناعية خلطية التي يتم سيرها في العقد اللمفاوية إذ تنشط الخلايا اللمفاوية LB بفضل دخول المستضد فتتكاثر واغلب الخلايا يتحول إلى خلايا بلاسمية المبينة بالوثيقة 3 لانتاج الاجسام المضادة لتوقيف نشاط الجسم الغريب منه تنتفخ العقد . ومايؤكد ذلك الجزئيات البروتينية التي تبينها الوثيقة 2 المرتفعة عند الشخص المريض والممثلة في γ غلوبولين وهو يميز الاجسام المضلدة .

التمرين 2 :

يهدف السؤال 1- لاسترجاع المعلومات بوضع البيئات المرقمة الممثلة فيما يلي : {1 غشاء الخلية المصابة 2- H L AI 3- مستضد بيبيدي (محدد مولد الضد)}

يهدف السؤال إلى إظهار القدرة على التحكم في المعلومات وتطبيقها في وضعيات جيدة و على هذا يمكن شرح الوضعية المطروحة في التمرين حسب مايلي :

عدم تخريب الخلايا الجسمية للشخص ع المصابة بفيروس الزكام من طرف الخلايا اللمفاوية السامة للشخص س الممنع ضد الزكام يعود إلى عدم حدوث التعرف المزدوج لأن الخلية المصابة تنتمي لسلسلة مخالفة لسلسلة الخلية اللمفاوية للشخص س .

التمرين 3 :

يهدف السؤال 1- إلى كيفية استغلال المعلومات وإبراز القدرة على انجاز الرسم التخطيطي حيث :

- جزئيات gp 120 تمثل مستضدات (أي مولدات الضد) بالنسبة للعضوية المصابة التي تنتج أجسام مضادة ضد هذه الجزئيات .

- الرسم : يطلب رسم تخطيطي لبنية الجسم المضاد مع وضع جميع البيئات .

يهدف السؤالان (2 و 3) إلى اختبار المعلومات التي لها علاقة بالموضوع والتي تكون حسب ما يلي :

2- الخلايا المبينة بالوثيقة 1 شكل 1 خلية لمفاوية (LB) ، شكل 2 خلية بلاسمية .

3- العلاقة بين البيئات التي ظهرت في خلية شكل 2 و طبيعتها هي علاقة وظيفية حيث - نمو الشبكة الهيولية يدل على تركيب البروتين .

- تطور جهاز كولجي يدل على نضج البروتين.

- تطور حويصلات الإفراز يدل على الطرح المادة المصنعة

- تطور الميتوكوندريات يدل على الإستعمال الكبير لل ATP.

- تفسير زيادة حجم العقد للمفاوية : راجع لتنشيط الخلايا للمفاوية (LB) وتكاثرها ثم تمايزها لخلايا بلازمية داخل العقد للمفاوية .

يهدف السؤال 1 إلى تشخيص علاقة سببية ،بينما يهدف السؤال 2 ابرازالقدرة على التحكم في المعلومات .

1- نعم نتائج المنحنى تؤكد نوع الإصابة .

- التوضيح : الوثيقة (1) تبين تطور الخلايا للمفاوية (LB) إلى خلايا بلازمية ، بينما تبين الوثيقة (2) تركيز مرتفع للأجسام المضادة ضد gp 120 المميز لـ (VIH) مع الزيادة في الشحنة الفيروسية .

2- مرحلة المرض ك هي مرحلة الإصابة الأولية التي تتميز بظهور الأجسام المضادة ضد gp 120. ثم تفسر النتائج الملاحظة بعد الأسبوع السادس أي تناقص الأجسام المضادة وزيادة الشحنة الفيروسية والخلايا (LTC)

- تفسير طريقة هذا العلاج هو جمع عدد كبير من الفيروسات المنتشرة في دم المصاب بواسطة جزيئات المستقبلات الغشائية المحقونة وهذا ما يمنع تثبيت الفيروس على الخلايا (LT4) وبالتالي عدم إصابتها .

التمرين 4:

يهدف السؤال إلى اظهار قدرة التلميذ على التحليل و استخراج المعلومات .

تحليل النتائج :

تبين الوثيقة 1 مايلي :

في الزمن الأول نلاحظ تجاذب بين الخليتين (الخلية السرطانية والخلية للمفاوية) في الزمن الثاني نلاحظ تحلل الخلية السرطانية من طرف الخلية LTC.

منه نستنتج أن نوع الإستجابة هي إستجابة مناعية خلوية .

التمرين 5:

يهدف السؤال على ابراز القدرة على التحكم في المعلومات التي لها علاقة بالموضوع : والتي تكون حسب ما يلي :

1- ظاهرة الارتصاص تفسر بالتقاء نفس مولد الالتصاق الموجود على غشاء الكريات الدموية الحمراء مع نفس الجسم المضاد .

- الأشخاص الذين لديهم دم متماثل في الخواص هم :

- أ (1 و4) لعدم حدوث ارتصاص بين المصل والكريات الدموية الحمراء .
- ب (2و3 و7) .ج (5و8و10) .د (6 و9)
- أ- يفسر ارتصاص الكريات الحمراء للشخصين (2 و6) من طرف مصل الشخص 5 , بأن مصل الشخص 5 يحتوي على نوعين من الاجسام المضادة ضد A و ضد B أي أجمع في الوقت نفسه نفس مولد الارتصاص مع نفس الجسم المضاد
- ب- مصل الشخص 2 يحتوي فقط على جسم مضاد مكن نوع B و مصل الشخص 6 يحتوي على جسم مضاد من نوع A.
- ج - مصل الشخص 5 يحمل أجسام مضادة من نوع A. و B .
- التعليل : غياب مواد الالتصاق على سطح الكريات الدموية الحمراء , وغياب الارتصاص مع كل الأمصال .
- أما الشخص 1 هو من الزمرة (B A) منه لا يحتوي المصل على أجسام مضادة لا من نوع A ولا من نوع B .
- التعليل : وجود مولدات الالتصاق من نوع A. و B على أغشية الكريات الدموية الحمراء [حدوث الارتصاص مع كل الامصال ماعدا الشخص 4 لانه يماثله .

الجدول

الزمرة O	الزمرة B A	الزمرة B	الزمرة A.	الزمرة / الكريات
منعدمة	A B	B	A	مولد الالتصاق
B و A	منعدمة	A	B	الأجسام المضادة

الدم المناسب لهذا الشخص هو الزمرة O فقط .

التعليل : لان الزمر الأخرى تحتوي على مولدات الالتصاق وعند حقنها لهذا الشخص الذي يحتوي مصله على أجسام مضادة من نوع A. و B يؤدي إلى الارتصاص وهذا خطر على صحته .

التمرين 6 :

تهدف الاسئلة إلى اباز القدرة على استخراج المعلومات انطلاقا من تحليل وثائق :

1- تحليل النتائج

تبين الوثيقة تماثل في كمية البروتينات المصلية عند الشخصين ما عدا δ غلوبولين الذي يكون مرتفع عند المريض .

الاستنتاج : δ غلوبولين هي البروتينات المناعية .

2- يهدف إلى اظهار قدرة التلميذ على التبليغ بالرسم حيث يقوم بانجاز رسم جسمين مضادين كل واحد به مستقبل خاص لمحدد ضد HBe والثاني خاص لمحدد ضد sBe مع وضع البيانات .

1*- تحليل نتائج الوثيقة 4 : تبين الوثيقة غياب الخلايا البلازمية مع الخلايا المزروعة في التجارب (1 و 2 و 3 و 5) ووجودها بكثرة في التجربة 4 .

الاستخلاص : تكاثر و تمايز الخلايا (LB) إلى خلايا بلازمية يتطلب بالعات محسنة من قبل مثل ب1 و خلايا للمفاوية (TL).

2- الدور الذي قامت به الخلايا للمفاوية (ب1) هو تحسيس الخلايا للمفاوية (LB و TL ولم تسطيع البالعات ب2 القيام بذلك لانها غير محسنة أي لم يسبق لها التعرف بالجسم الغريب من قبل .

-التعليل : وجود عدد كبير من الخلايا البلازمية في التجربة 4 وغيابها في التجربة 5

التمرين 7:

يهدف التمرين إلى اظهار قدرة التلميذ على تطبيق المعلومات و ترجمة الملاحظات إلى رسم :

مصير الفيروسات المحقونة في كل فأر هو إثارة الجهاز المناعي لكل فأر وبالتالي إقصائها من طرف الخلايا (CTL) .

1- المعلومة المستخرجة من مقارنة النتائج المحصل عليها مع اللمفاويات المأخوذة من H2k هو تحلل الخلايا من نوع H2k المصابة بنفس الفيروس الذي حرض على إنتاج الخلايا للمفاوية (LTC) فقط .

2- القدرة على ترجمة الملاحظة إلى رسم تخطيطي عليه كافة البيانات و قدرة الخلايا على التعرف المزدوج أو عدم القدرة على التعرف المزدوج .

3- الاستخلاص : الخلايا للمفاوية تستطيع ان تتعرف على الخلايا المصابة ثم تقضي عليها بالتحلل الخلوي عند حدوث التعرف المزدوج .

التمرين 8 :يهدف التمرين إلى إيجاد علاقة منطقية بين المعطيات .

- 1 *مميزات الاستجابة الثانوية مقارنة بالاستجابة الاولى .

- الزمن الضائع قصير جدا بالنسبة للزمن الضائع في الاستجابة الاولى .
- كمية الاجسام المضادة مرتفعة في الاستجابة الثانوية .
- *2 نعم تسمح هذه الخصائص بشرح ملاحظة الطبيب .
- التوضيح : عدم إصابة الاشخاص اللذين تعرضوا من قبل إلى وباء الحصباء يدل على وجود خلايا ذاكرة (احتفاظ المناعة) ضد فيروس الحصباء فبمجرد دخول الفيروس للمرة الثانية تتنبه خلايا الذاكرة فيكون الرد المناعي سريع وكمية الاضداد مرتفعة هذا ما يؤدي إلى إقصاء سريع للفيروسات ومنه الشفاء السريع في حالة الاصابة .

التمرين 9 :

- يهدف إلى ابرازالقدرة على تطبيق المعلومات و انجز التراكيب التجريبية :
- 1- التحليل المقارن : يتساوى تركيز محدد مولد الضد في الوسطين (أ و ب) بعد مدة زمنية في شكل أ .
 - أما في الشكل ب تركيز محدد مولد الضد في الوسط ب يصبح أكبر من تركيزه في الوسط أ ثم يثبت هذا التوزيع الختلف بعد الساعة 3
 - نستنتج أن الاجسام المضادة هي التي تحدد الاختلاف المتباين في تركيز محدد مولد الضد في الشكل ب .
 - 2- تأثير منطقة تشكل المعقدات المناعية على توزيع محددات مولد الضد في شكل ب هو جعل الوسط ب دائما بتركيزمنخفض لمحدد مولد الضد بالنسبة للوسط أ و عند انتهاء الاجسام المضادة الموجودة في الوسط ب بتشكلها للمعقدات المناعية يتساوى تركيز محددات مولدات الضد في الوسطين .
 - 3- ينجز التلميذ رسومات تخطيطية باستغلال معطيات.
 - 4- المنحنى المتحصل عليه هو شكل أ .
 - التعليل : لعدم تشكل المعقدات المناعية في الوسط ب .
 - الخاصية التي تم ابرازها في هذه التجربة هي التخصص الوظيفي للاجسام المضادة التي تمتاز بالتنوع .

جدول تصويب الأخطاء

الصفحة	العنوان	السطر	الخطأ	الصواب
92	النشاط 5 : مصدر الاجسام المضادة	الوثيقة 1	نتائج الهجرة الكهربائية للمصل	تعكس النتائج
97	الحالة الثانية للدفاع عن الضوية	السطر 3	التكرير في كلمة الطريقة	طريقة تأثيرها و مصدرها
107	سبب فقدان المناعة المكتسبة	المدخل	النشاط 8	النشاط 9
121	التمرين 3	السطر 6	حقن عدد كبير من (LT4)	حقن عدد كبير من جزيئات المستقبلات الغشائية المنزوعة من (LT4)
124	التمرين 7	جدول الوثيقة 1	غياب التحلل الخلوي في الخانة 3 من السطر 1 في الجدول	وجود تحلل خلوي

الوحدة 5: دور البروتينات في الإتصال العصبي

- الهدف التعليمي: يتمثل في تحديد دور البروتينات الغشائية في الإتصال العصبي، و كيف يتم الإنتقال من رسالة مشفرة في شكل كمون عمل في الخلية قبل مشبكية إلى رسالة مشفرة على شكل تركيز المبلغ العصبي في الشق المشبكي ثم من جديد إلى رسالة مشفرة في شكل كمون عمل في العصبون بعد مشبكي. كما تهدف الوحدة كذلك إلى دراسة الوظيفة الإدماجية للنظام العصبي وتأثير المخدرات على مستوى المشابك .
تقدم صور الوحدة بعض الجزئيات البروتينية التي تلعب دورا أساسيا في النقل العصبي

كما نلاحظ كذلك صورة تخطيطية لمشابك عصبية وجزئته المبلغ الكيميائي العصبي الذي له

دور في النقل العصبي في مستوى المشابك .

ملاحظة: يمكن للأستاذ أن يقترح وضعية انطلاق أخرى يراها مناسبة مثل :

- صورة لطفل مقعد مصاب بمرض الوهن العضلي ، تستغل هذه الصورة للإشارة أن سبب هذا المرض يعود لمهاجمة الجهاز المناعي لبعض القنوات البروتينية الكيميائية ، ثم التساؤل عن دور مثل هذه الجزئيات البروتينية في نقل النبأ.

النشاط 1: تذكير بالمكتسبات

يهدف هذا النشاط إلى تذكير الطلبة بأهم المفاهيم حول المنعكس العضلي المدروس في السنة الثانية

ليستغل فيما بعد لبناء درسه .

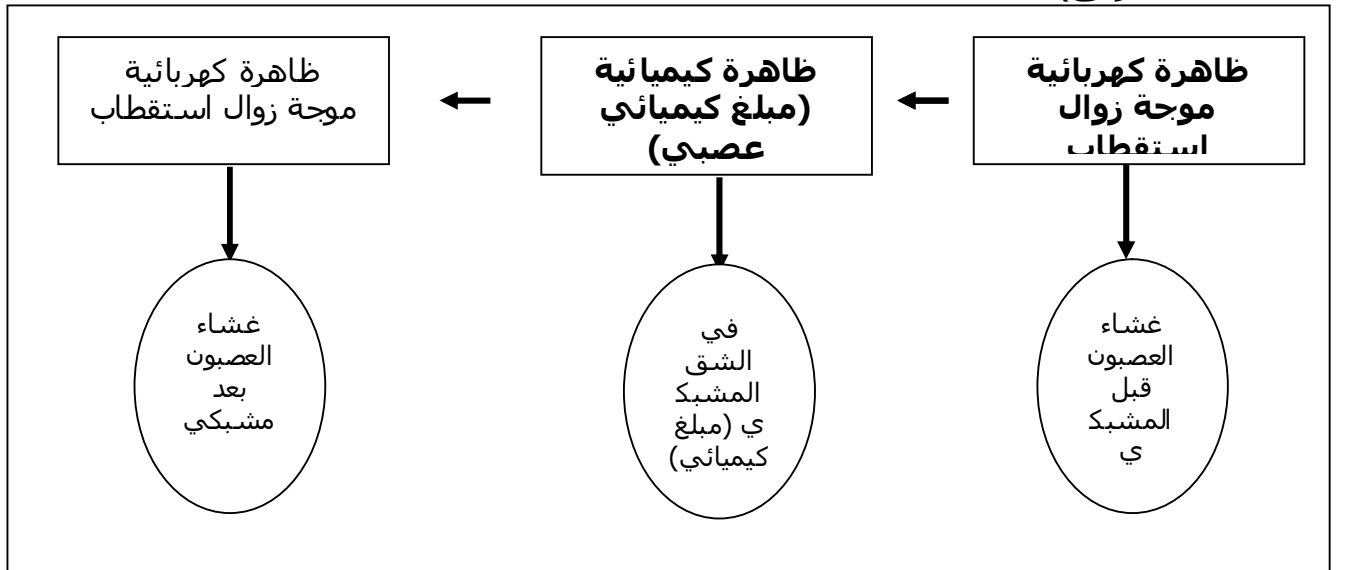
وضعية الإنطلاق : يستغل الأستاذ معلومات السنة الثانية لاختيار وضعية انطلاق مناسبة تساعد الطلبة على جذب انتباههم .

مثلا : إنجاز تجربة المنعكس الأخيلي البسيطة على أحد الطلبة ، ثم استغلال نتائجها

النشاط الجزئي 1:

السؤال 1: يهدف إلي تذكير الطلبة بكمون العمل و بنية المشبك العصبي العضلي و هذا انطلاقا من أشكال الوثيقة 1

السؤال 2: يهدف إلى تمكين الطالب من التحكم في تحديد و ترتيب الظواهر الناتجة من لحظة التنبيه الفعال لليف العصبي القبل مشبكي إلى استجابة العضلة والمتمثلة في (أنظر المخطط المرفق):



السؤال3: يهدف إلى دفع التلميذ على استخلاص أن تسجيل كمون عمل في الخلية بعد مشبكية إثر تنبيه فعال للخلية قبل مشبكية يؤدي إلى تعاقب ظاهرة كهربائية ثم كيميائية ثم كهربائية مرة أخرى .

النشاط الجزئي 2:

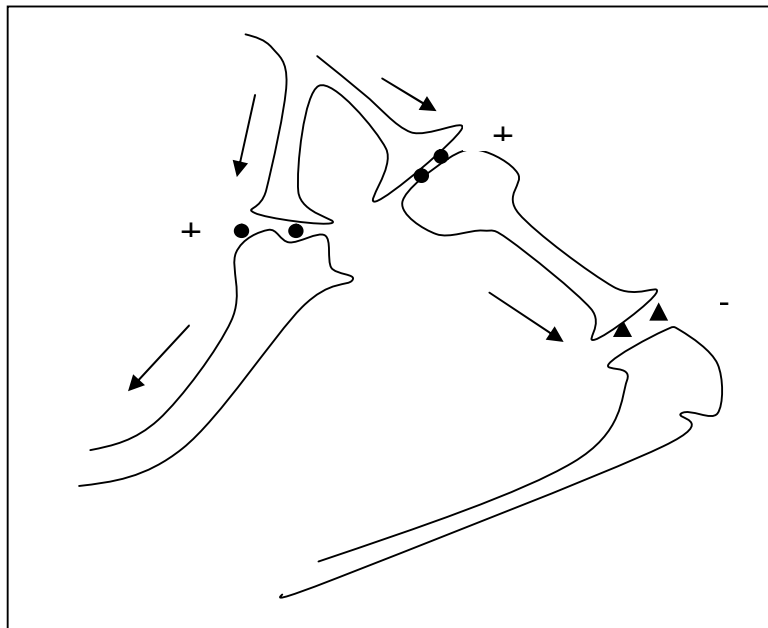
السؤال1: يدفع هذا السؤال لتعويد التلاميذ على توظيف معلوماتهم في السنة الثانية وتمثيل المنحنيات المطلوبة، و هذا بناء على استجابة العضلات في المنعكس الأخيلي ، إذ تتقلص العضلة 1 بينما العضلة 2 لا تتقلص(عضلات متضادة و بالتالي الإشارة إلى العصبون الجامع ودوره التنشيطي في هذا المنعكس).

ملاحظة: ينصح في هذا الجزء التركيز على مسار السيالة العصبية باستغلال الوثيقة قبل التطرق مباشرة للإجابة على الأسئلة ، كما ينصح تذكير الطلبة بالعصبون الجامع الذي نجده في المسار المؤدي إلى العضلة 2.

السؤال 2: لا يجب التوسع في هذا الجزء لأن هناك نشاط خاص به، بل يتم التطرق فقط إلى أن للجهاز العصبي دور في دمج المعلومات العصبية اعتمادا على نتائج التسجيلات (اختلاف استجابة العضلتين 1 و2).

السؤال3 : يهدف إلى تعويد التلميذ على إنجاز جداول تلخيصية حيث في هذه الحالة يضع الطالب في كل خانة من الجدول ما يناسب من لحظة تولد موجة زوال إستقطاب في المغزل للعضلة 1 إلى عودة موجة زوال استقطاب عبر الليف العصبي المحرك إلى نفس العضلة .

السؤال الإستخلاصي : يهدف إلى تعويد التلميذ على تحويل المعلومات العلمية إلى رسم تخطيطي



النشاط 2: آلية النقل المشبكي

الهدف التعليمي: يتمثل في استنتاج دور القنوات المرتبطة بالكيمياء و المرتبطة بالفولطية في نقل الرسالة العصبية باستغلال نتائج تسجيلات (مثل تقنية PATCH-CLAMP) ليتوصل الطالب أن كمون العمل المسجل ناتج عن نبضات التيارات المسجلة نتيجة التدفق الأيوني. وضعية الإنطلاق: يقود الأستاذ التلاميذ إلى استغلال المخطط السابق لجلب انتباههم إلى آلية النقل المشبكي .

النشاط الجزئي 1:

يهدف إلى تعريف الطالب بتقنيات حديثة مثل Patch-Clamp و تقنية فرض الكمون تستغل لتفسير ظواهر عصبية.

أ- على الأستاذ أن يركز في الجزء الأول من هذا النشاط على مبدأ تقنية Patch-Clamp و ذلك باستغلال الطرق الموضحة في الوثيقة 1 و التي من خلالها يتوصل التلميذ لاستخراج أن مبدأ هذه التقنية يسمح ب:

- عزل قناة غشائية واحدة دون فصلها عن الغشاء و دراسة التيارات التي تمر عبرها .
- جعل محتوى الخلية باتصال مع الماصة المجهرية و بالتالي دراسة التيارات التي تمر عبر مختلف القنوات الغشائية .
- عزل جزء من الغشاء الهولي الذي يحتوي على قناة واحدة و دراسة التيارات التي تمر عبرها .

ب- السؤال 1 و 2 : تقود هذه الأسئلة التلميذ إلى التمكن من تقنية فرض كمون معين على جانبي الغشاء حيث يستوجب فرض كمون على جانبي الغشاء إلغاء أو تعديل الكمون الغشائي المقاس وذلك بإرسال تيار كهربائي معين عبر إلكترود المتصل بهيولى الليف العصبي مثال الوثيقة 2: فرض كمون قدره 0 ميلي فولط على جانبي غشاء الليف العصبي يستوجب إرسال كمون +75 ميلي فولط ليلغي الأول المقاس -75 ميلي فولط .

ج: الوثيقة 3

السؤال 1: يهدف لتعويد التلميذ على تحليل منحنيات للوصول إلى :
* أن فرض كمون على جانبي الغشاء يولد نوعين من التيارات الأول داخلي والثاني خارجي .

السؤال 2: يهدف إلى تعويد الطالب على مقارنة نتائج تجريبية للوصول أن التيار الداخلي ناتج عن دخول شوارد Na^+ بينما التيار الخارجي ناتج عن خروج شوارد K^+ .
السؤال 3 : يهدف إلى تمكين التلميذ من التوصل إلى أن التيارات السابقة ناتجة عن قنوات فولطية و هي نوعان خاصة بشوارد الصوديوم وأخرى بشوارد البوتاسيوم .

ج*: الوثيقة 4

السؤال 1: يهدف هذا السؤال إلى تعويد التلميذ على استغلال وثائق لتفسير ظواهر بنص علمي يوضح عمل القنوات المرتبطة بالفولطية انطلاقاً من وصف دقيق لأشكال الوثيقة 4 .

السؤال 2: ينمي هذا السؤال عند الطالب القدرة على المقارنة لإيجاد علاقة تقوده للتوصل إلى أن:

- التيار الداخلي: يعود لدخول شوارد Na^+ بعد انفتاح القنوات المرتبطة بالفولطية .
 Na^+ J
- التيار الخارجي : يعود لخروج شوارد K^+ بعد انفتاح القنوات المرتبطة بالفولطية .
 K^+ J

السؤال التحصيلي:

يهدف إلى ربط علاقة بين كمون العمل والتيارات المسجلة للوصول إلى أن مصدر الكمون هو تيارات داخلية وخارجية لشوارد Na^+ و K^+ ناتجة عن تدخل قنوات مرتبطة بالفولطية. إن تسجيل كمون العمل في الغشاء قبل المشبكي ناتج عن تدفق الشوارد عبر هذه القنوات الفولطية .

د-

السؤال 1: يهدف إلى تعليم الطالب استغلال وثائق (وثيقة 6) و نتائج تجريبية للتوصل إلى تواجد مستقبلات غشائية على مستوى الغشاء بعد المشبكي مما يعلل تمركز الإشعاع .
السؤال 2 : يهدف إلى استغلال نتائج تجريبية للتوصل إلى أن الغشاء بعد مشبكي يحتوي على مستقبلات غشائية للأستيل كولين هي مصدر كمون العمل في الخلية بعد مشبكية .
السؤال 3: يهدف إلى تعويد التلميذ على الربط بين مختلف النتائج التجريبية ومعطيات للوصول إلى أن سبب الشلل يعود لتثيت السم على المستقبلات الكميائية السابقة .
ملاحظة : يمكن استغلال الوثائق المقترحة في هذا النشاط الجزئي و ذلك باقتراح طريقة أخرى يراها الأستاذ أفضل للوصول إلى نفس الهدف .مثلا : طرح إشكالية جديدة متبوعة بفرضيات لتعويد التلميذ على حل إشكاليات و صياغة فرضيات ...
الوثيقة 7.

-يهدف السؤال إلى تدعيم المعرفة التي تم التوصل إليها سابقا، حيث أن تواجد الفلورة في الغشاء بعد المشبكي يدل على تثبت الأجسام المضادة ضد مستقبلات الأستيل كولين ، كما تمكن هذه التقنية (المبينة في الوثيقة 7) بالتحقق من مقر تواجد هذه المستقبلات المتمثل في الغشاء بعد مشبكي.

النشاط الجزئي 2 :

المرحلة 1

يهدف إلى تعويد الطالب على تحليل نتائج تجريبية و الربط بين المعطيات لإيجاد علاقة مفادها : أن سعة التسجيل مرتبطة بشدة التنبيه أو كمية الأستيل كولين المحقون منه: كلما زادت شدة التنبيه زادت سعة التيارات و بما أن حقن كميات متزايدة من الاستيل كولين تؤدي إلى نفس النتائج إذن الأستيل كولين هو المسبب لهذه التيارات في مستوى الغشاء بعد مشبكي.

المرحلة 2.

السؤال 1: يهدف السؤال لتعويد الطالب على استغلال نتائج تجريبية للتوصل إلى أن ظهور الإشعاع الناتج من تدفق شوارد الصوديوم المشعة يعود لتأثير حقن الأستيل كولين.
السؤال 2: يعتبر هذا السؤال أساسي للتوصل إلى أن النبضات (التيارات) المسجلة تعود لتواجد قنوات غشائية خاصة يتحكم في عملها الأستيل كولين لتسمح بتدفق الشوارد عبرها.

النشاط الجزئي 3:

السؤال 1: يهدف هذا السؤال إلى استغلال معارف الطالب حول بنية البروتينات المدروسة سابقا و توظيفها في هذه الحصة للتوصل إلى المعرفة التالية:
- يتكون المستقبل الغشائي للأستيل كولين من خمس تحت وحدات بروتينية تخترق طبقتي

الفوسفوليبيد للغشاء البعد مشبكي ،مكونة في مركزها قنات .

السؤال 2: يهدف لتعويد التلميذ على الملاحظة الدقيقة للوثائق (الشكلين ج 1 و ج 2 من الوثيقة 11) للوصول إلى البنية الدقيقة للمستقبل الغشائي حيث يستحسن التركيز على وجود موقعي تثبيت للأستيل كولين و كذا وجود قنات مغلقة في غياب المبلغ الكيميائي .
النشاط الجزئي 3ب

السؤال 1: يعتبر هذا السؤال كلاسيكي (استرجاع معلومات) ، لكن يمكن للأستاذ عند مراقبة إجابة الطلبة من تحديد مدى تتبعهم لسيرورة الدرس، وذلك بوضعهم للبيانات بشكل صحيح .

السؤالين 2 و3: يهدف إلى تعويد التلميذ على استغلال وثائق للتوصل إلى آلية عمل هذه المستقبلات وذلك بمقارنتها في وجود وغياب الأستيل كولين بالتركيز على حالة القناة، ومنه التوصل إلى أن انفتاح هذه القنوات مرتبط بتثبيت جزيئي الأستيل كولين عليها لذا تدعى بالقنوات الكيميائية أو المبوبة كيميائياً .

السؤال التحصيلي:

يهدف إلى تطبيق المعلومات المكتسبة في موقف معين بحيث يصل التلميذ إلى التمييز بين القنوات الفولطية المتواجدة على مستوى غشاء الخلايا القبل مشبكية والبعد مشبكية وبين القنوات الكيميائية المتواجدة على مستوى غشاء الخلية بعد مشبكية في مستوى المشابك كما يصل كذلك أن عمل القنوات المرتبطة بالفولطية يتحكم فيها تغير الكمون الغشائي بينما يتحكم في عمل القنوات المرتبطة بالكيمياء المبلغ الكيميائي .
ملاحظة: ينجز الرسم بتمثيل مشبك عصبي عضلي يوضع في مستوى الغشاء بعد المشبكي بعض المستقبلات الكيميائية ، ليتم تكملة هذا الرسم تدريجياً حسب تطور الدرس في الحصص القادمة . (يمكن الإستعانة برسومات الحصيلة المعرفية من الكتاب)

النشاط 3: كمون الراحة

الهدف التعليمي: يهدف هذا النشاط إلى بحث الآليات المسؤولة عن مصدر الكمون الغشائي .

وضعية الإنطلاق: بالإعتماد على النشاطات السابقة يقود الأستاذ الطلبة على التساؤل حول مصدر كمون الراحة .

النشاط الجزئي 1 :

الأسئلة 1-2-3-4: تهدف هذه الأسئلة إلى تذكير التلميذ ببدأ عمل جهاز رذ م واستغلال التسجيلات للوصول إلى: -تحديد خواص الليف العصبي .
- توزيع الشحنات على جانبي الغشاء بالإعتماد على التسجيل ب كون النقطة الضوئية عبارة

عن إلكترونات تتجه دائماً نحو القطب الموجب .

-كمون الراحة نتحصل عليه عندما يكون المسرى ق2 داخل الليف و الثاني مرجعي و

بدون تنبيه .

النشاط الجزئي الثاني (المرحلة 1):

السؤال 1: يهدف إلى تعويد التلميذ لاستغلال مقارنة نتائج تحليلية ليستنتج أن الكمون الغشائي

مرتبط بالحالة الفزيولوجية لليف العصبي (حيوية الليف) .

السؤال 2: تمكن نتائج الجدولين بتعليل أن مصدر الكمون الغشائي يعود لتوزيع الشوارد

على جانبي الغشاء .

ملاحظة : يمكن للأستاذ في هذا الجزء التطرق باختصار لنفاذية الشوارد كون المبادلات لا مكان لها في المنهاج (حتى لا يتم الخروج عن الموضوع).

السؤال 3: يهدف هذا السؤال إلى تعويد التلميذ على استغلال نتائج تجريبية مختلفة و متنوعة للوصول أن مصدر الكمون الغشائي في الخلايا الحية (كمون راحة) هو التوزع المتباين للشوارد على جانبي الغشاء .

النشاط الجزئي 2 (المرحلة 2):

السؤالين 1 و 2: تهدف المقارنة إلى تعويد التلميذ على إيجاد علاقة بين معطيات تجريبية و وثائق للتوصل أن عدد القنوات ال K^+ أكثر من قنوات الصوديوم و منه ناقلية شوارد البوتاسيوم أكبر من ناقلية شوارد الصوديوم .

السؤال 3: يهدف هذا السؤال إلى تعليم التلميذ على استخراج معلومات باستغلاله الدقيق للوثائق المقدمة و التوصل إلى كون هذه القنوات تمتاز بما يلي :

- عبارة عن قنوات غشائية تخترق طبقتي الفوسفوليبيد للغشاء.
- مفتوحة باستمرار .
- تسمح بنقل الشوارد حسب تدرج تركيزها .

السؤال 4: المعلومة الإضافية المستنتجة تسمح بالربط بين كمون الراحة و توزع شوارد البوتاسيوم .

النشاط الجزئي 3 :

السؤال 1 : يجب على الأستاذ أن يقود الطالب للوصول من خلال نتائج الملاحظة في س أن ثبات تركيز شوارد الصوديوم يعود لوجود الية تعمل على إخراج عكس تدرج تركيزه .

السؤال 2: يهدف إلى تعويد التلميذ ، حسن استغلال نتائج الملاحظة التجريبية في ع و تحويلها لنص علمي ليتم التأكد ما توصل إليه سابقا أي في 1 .

السؤال 3: يهدف إلى حث التلاميذ على استغلال نتائج تجريبية لاستنتاج الطبيعة الكيميائية للعناصر المسؤولة على نقل الشوارد عكس تدرج التركيز (طبيعة بروتينية) من الشكل أ

السؤال 4: يهدف هذا السؤال إلى دفع الطالب إلى استغلال نتائج تجريبية و استخراج معلومات إضافية حول عمل العناصر السابقة و المتمثلة في :

- * تنقل الشوارد عكس تدرج التركيز .
- * تستهلك الطاقة التي توفرها ال ATP
- * تعمل بالنقل المزدوج (إخراج الصوديوم مرتبط بإدخال البوتاسيوم)

السؤال التحصيلي

يهدف إلى حث التلميذ و تدريبه على تحويل المخطط التحصيلي إلى نص يحوصل فيه المعارف المكتسبة ليتوصل إلى المعرفة التالية :

يعود كمون الراحة إلى التوزع المتباين للشوارد على جانبي الغشاء .
تعمل البروتينات الغشائية على المحافظة على كمون الراحة ، فرغم نفوذ شوارد الصوديوم والبوتاسيوم عبر قنوات الميز البروتينية حسب تدرج تركيزهما لا يختل كمون الراحة لتواجد نوع آخر من البروتينات الغشائية وهي المضخة التي تعمل بالنقل الفعال ويمكن تلخيص عملها كالتالي :

- تثبت 3 شوارد الصوديوم و تنقلها خارج الخلية و تثبت 2 شاردتي البوتاسيوم و تدخلهما داخل الخلية باستهلاك جزيئة ATP.

يسمح عمل المضخة بثبات كمون الراحة .

الرسم التخطيطي : يهدف لتكملة الرسم السابق حيث يمثل فيه قنوات الميز المفتوحة باستمرار + المضخة أما القنوات الفولطية فيمكن تمثيلها مغلقة في هذه الحالة .

النشاط 4: كمون العمل

الهدف التعليمي: يهدف هذا النشاط إلى استغلال نتائج تسجيلات للتوصل أن الكمون العمل المسجل ناتج إما عن قنوات مرتبطة بالفولطية أو قنوات مرتبطة بالكيمياء .

وضعية الإنطلاق: يقود الأستاذ التلاميذ إلى استغلال معطيات النشاط 2 لجلب انتباه الطلبة إلى دور القنوات الفولطية والكيميائية .

النشاط الجزئي 1 (أ):

السؤال 1: يسمح هذا السؤال بتذكير الطالب بكمون الراحة و كمون العمل .

السؤال 2: يهدف تعويد الطالب للربط بين نتائج تجريبية لكمون العمل و حركة الشوارد عبر الغشاء ليصل أن : زوال استقطاب يعود لدخول معتبر لشوارد الصوديوم أما عودة الإستقطاب فيعود أساسا إلى تدفق خارجي للبيوتاسيوم .

السؤال 3: يتوصل الطالب من خلال هذا السؤال إلى استنتاج تدخل نوعين من القنوات المرتبطة بالفولطية أثناء كمون العمل، الأولى خاصة بشوارد الصوديوم والثانية خاصة بشوارد البيوتاسيوم .

النشاط الجزئي 1(ب):

السؤال 1: يهدف لاستغلال نتائج تسجيلات و تحليلها للتوصل أن زوال استقطاب يعود لانفتاح القنوات المرتبطة بالفولطية للصوديوم ودخول هذه الشوارد داخل الخلية .بينما عودة الإستقطاب فيعود لانفتاح القنوات المرتبطة بالفولطية للبيوتاسيوم وتدفق خارجي لهذه الأخيرة .

السؤالين 2 و3: يهدف لربط نتائج تجريبية و الوصول إلى علاقة حيث الإفراط في الإستقطاب يعود إلى تأخر انغلاق القنوات المرتبطة بالفولطية للبيوتاسيوم واستمرار خروجه بينما العودة إلى كمون الراحة يعود إلى تدخل المضخة

النشاط الجزئي 2:

يهدف السؤالين 1-3 و2-3 إلى التوصل أن توليد كمون عمل يتطلب وصول عتبة و انتشار كمون العمل يعود إلى توزع القنوات المرتبطة بالفولطية على طول المحور الاسطوانى (عديم النخاعين) وذلك باستغلال نتائج التسجيل للوثيقة 3. ملاحظة : الرسم المطلوب يمكن الإشارة فقط إلى الالبروتينات الغشائية المدروسة في الوثيقة 3 فقط لأن الرسم التحصيلي سيأتي لاحقا .
النشاط الجزئي الثالث :

المرحلة 1

السؤال 1: يهدف إلى تمكين الطالب من استخراج معلومات من نتائج تجريبية حيث يسمح التسجيلان من التوصل إلى انتقال النبا إلى الخلية بعد مشبكية إثر تنبيه الخلية قبل مشبكية .

السؤال 2: يهدف إلى تمكين التلميذ من استنتاج أنه لا يتولد كمون عمل إلا إذا سجل كمون يساوي أو أعلى من عتبة زوال استقطاب ،يسجل هذا الكمون عند حقن كمية ك4 من الأستيل كولين ..

السؤال 3: يهدف إلى ربط المعطيات بالنتائج التجريبية للوصول أن كمية الأستيل الكولين المحررة تتوقف على شدة التنبيه، وبالتالي الكمون المسجل يعود إلى كمية الأستيل كولين المحررة .(كلما ازدادت شدة التنبيه زادت كمية الأستيل كولين المحررة حتى نصل إلى العتبة)
الوثيقة 6

السؤال 1: يهدف لتعويد التلميذ على استغلال الوثيقة لإيجاد علاقة تربط بين بين سعة الإستجابة مع كمية الأستيل كولين المحررة والمثبتة على المستقبلات الغشائية و بالتالي عدد القنوات الكيميائية المفتوحة .

السؤال 2: كمية الأستيل كولين هي المحددة لسعة الكمون المسجل وهذا الأخير لا ينتشر إلى إذا كان يساوي أو أعلى من العتبة .

المرحلة 2:

تهدف أسئلة هذا الجزء على تعويد التلميذ على المقارنة بين النتائج و استخراج معلومات للتوصل إلى:

من السؤال 1: تمكن المقارنة من استنتاج أن للأستيل كولين تأثير مؤقت في الحالة العادية
السؤال 2: وجود إنزيم يبطل مفعول الأستيل كولين بعد تولد كمون عمل في الخلية بعد
مشبكية .

السؤال 3: يهدف لتدريب التلميذ على استغلال نتائج تجريبية و استغلالها لتفسير ظاهرة
معينة فتسجيل p2 يعود لتثبيت المبلغ الكيميائي العصبي على مواقع التثبيت في الخلية
بعد مشبكية فادى إلى انفتاح القنوات و دخول شوارد الصوديوم ليتولد كمون بعد مشبكي
سعة هذا الأخير تتوقف على كمية المبلغ المثبت أي عدد القنوات المفتوحة ومنه كمية
الشوارد المتدفقة . بعد تولد كمون العمل في الخلية بعد مشبكية يتم إمارة المبلغ
الكيميائي .

السؤال التحصيلي :

ينجز الرسم التخطيطي باستغلال المعلومات الجديدة المتوصل إليها في هذا النشاط
والمكملة للرسم السابق (النشاط السابق).

النشاط الجزئي 4:

أولاً:

السؤال 1: يهدف هذا السؤال إلى تمكين التلميذ من التوصل أنه كلما زادت تواترات كمون
عمل قبل مشبكي كلما زاد كمية شوارد الكالسيوم في الزر المشبكي وهذا باستغلال نتائج
التسجيلات في الوثيقة 8.

السؤال 2: يهدف لتدريب التلميذ على استغلال معطيات علمية و ربطها بنتائج تجريبية
للتوصل إلى علاقة بين وصول كمون العمل إلى نهاية الزر المشبكي و انفتاح القنوات
الفولطية لل Ca^{++} ثم دخول هذه الأخيرة إلى الزر المشبكي .

ثانياً:

تهدف الأسئلة لتدريب التلميذ على إنجاز مقارنات بين نتائج تجريبية و ملاحظات مجهرية
ليتوصل إلى استنتاج و ربط علاقات حيث:

السؤال 1: يتوصل الطالب إلى أن أثناء كمون الراحة لا يتم تحرير الأستيل كولين في
الشق المشبكي .

السؤال 2: يتوصل الطالب إلى أن كمية الأستيل كولين المفرزة في الشق المشبكي
تناسب طرداً مع تواترات كمون العمل في الغشاء قبل المشبكي .

السؤال 3: إن تواترات كمون عمل قبل مشبكي يؤدي إلى التحكم في كمية Ca^{++} الزر
المشبكي نتيجة عدد القنوات الفولطية لل Ca^{++} المتفتحة مما يؤدي إلى تحرير كميات
معينة من الأستيل كولين في الشق المشبكي

السؤال 4: يهدف هذا السؤال إلى التوصل إلى الرسالة العصبية المشفرة في العصبون
القبل مشبكي بتواترات كمون العمل تشفر على مستوى الشق المشبكي بتركيز
الأستيل كولين .

لإنجاز الرسم يستعان بالرسم التحصيلي المقدم في
صفحة 162

النشاط 5: الإدماج العصبي

الهدف التعليمي: يهدف هذا النشاط إلى إظهار أن الكمون العابر للغشاء في مستوى الجزء الإبتدائي للعصبون البعد مشبكي هو محصلة مجموع كمونات بعد مشبكية في حالة بلوغ العتبة المولدة لكمون العمل.

وضعية الإنطلاق: يمكن الإنطلاق من معلومات السنة الثانية حول الإدماج .

النشاط الجزئي 1:

السؤال 1: يهدف هذا السؤال بالتذكير بمفهوم المشبك وبنيته و الذي قد تم الإشارة إليه في النشاط الأول. **التجربة 1:**

السؤالين 1 و 2: تهدف الأسئلة إلى تعويد الطالب على مقارنة نتائج تجريبية و الخروج باستنتاجات كما تمكنه بعض النتائج من تفسير تسجيلات كهربائية :

- حيث يتوصل من المقارنة إلى التفريق بين المشبك التنبهية والتثبيطي وخصائصهما فالأول ينتشر والثاني لاينتشر .

التجربة 2:

السؤال 1: يهدف هذا السؤال أن لكل مشبك من المشبكين السابقين مبلغ خاص به حيث يؤثر الGABA في المشبك ب.

السؤال 2: تستغل النتائج التجريبية من طرف الطالب ليتوصل إلى أن التنبهية يسبب تحرير الGABA و تناقص شوارد الكلور في الشق المشبكي للمشبك ب

السؤال 3: يهدف السؤال لتعويد التلميذ لاستغلال معطيات علمية و نتائج تجريبية لتفسير نتيجة تجريبية برسم تخطيطي حيث تسجيل إفراط في الإستقطاب يعود لتحرير المبلغ GABA في الشق المشبكي ثم تثبته على مستقبلات خاصة و انفتاح القنوات أدى لدخول شوارد الكلور وتسجيل المنحنى ب. (يمكن الإستعانة برسومات الحصيلة المعرفية من الكتاب)

السؤال 4: بعد إنجاز الرسم يصبح الإجابة على هذا السؤال بسيطة حيث يمكن الإستعانة بالرسومات في الصفحتين وثيقة 5 ص 150 والوثيقة 12 ص 137 من الكتاب المدرسي.

النشاط الجزئي الثاني:

السؤال 1: يوجه الأستاذ طلبته للوصول إلى الإجابة الكاملة و التي يجب الإشارة فيها إلى :

- عدد المشابك .

- نوعها من حيث البنية (عصبية-عصبية) و من حيث الوظيفة تنبيهية أو مثبطة.

السؤال 2: قبل الإجابة على هذا السؤال يستحن الإشارة إلى عدد الكمونات التي تصل الخلية بعد مشبكية في نفس الوقت ثم التوصل إلى أن الكمون المسجل يعود لدمج مختلف الكمونات الواردة .

السؤال 3: يهدف هذا السؤال إلى التوصل إلى التفريق بين التجميع الزمني و الفضائي الذي أخذته الطالب في السنة الثانية .

النشاط الجزئي 3(أ):

السؤال 1: تهدف نتائج المقارنة لتعويد الطالب لاستخراج معلومات للتوصل إلى أن تنبيهين متباعدين لا يؤديان إلى توليد كمون عمل في الخلية بعد مشبكية لكن تنبيهين متقاربين في نفس المشبك أو من مشبكين مختلفين يولدان كمون عمل مما يدل على الإدماج و التجميع.

ملاحظة: يستحسن قبل الإجابة على الأسئلة إلى استخراج أنواع المشابك في كل حالة مع التعليل .

النشاط الجزئي 3(ب):

السؤال1: يمكن هذا السؤال المتكرر من ترسيخ ميزة المشبك المنبه والمشبك المثبط. السؤالين 2 و3: يهدفان إلى تدريب الطالب على مقارنة نتائج تجريبية للوصول إلى أن المشبك المثبط يقلل من سعة الكمون البعد المشبكي (أقل من العتبة) وبالتالي لا يتولد كمون عمل في الخلية بعد المشبكية . الوثيقتين 10 و11:

قبل إنجاز الرسم التحصيلي يستحسن استغلال الوثيقتين بطرح أسئلة إضافية لما تقدمه من معلومات متنوعة .

مثلا: 1- تتبع مسار السيالة العصبية من لحظة التنبيه في 1 إلى مدارجل في 4.

2- باستغلال الوثيقة 11 حدد نوع المشبك بين الليف الحسي للعضلة القابضة مع

العصبون الحركي لنفس العضلة ثم بين العصبون الجامع و العصبون الحركي للعضلة الباسطة
علل ؟

الرسم التحصيلي أنظر الحصيلة في الكتاب المدرسي .

النشاط 6: تأثير المخدرات على مستوى المشابك

الهدف التعليمي: يهدف هذا النشاط إلى إظهار تأثير المخدرات على مستوى المشابك
وضعية الإنطلاق: يقود الأستاذ طلبته من خلال مناقشة حول تأثير المخدرات لي طرح سؤال ما
تأثير المخدرات على الجهاز العصبي وبالتحديد في مستوى المشابك .

النشاط الجزئي 1 :

الوثيقة 1

السؤال1: يهدف هذا السؤال إلى تعويد الطالب على دقة الملاحظة ليتوصل إلى أن الألياف
المكونة للعصب الحسي مختلفة في القطر والبنية أي وجود أو غياب غمد النخاعين .
الوثيقة 2

السؤال1: تهدف المقارنة إلى التوصل أن للمورفين تأثير على الكمونات الممثلة بالأحمر و
المسؤولة عن الشعور بالألم فهو يعمل على إلغائها .

السؤال2: يهدف السؤال لتدريب التلميذ على صياغة فرضيات علمية و التحقق منها لاحقا .
يستحسن للإجابة على هذا السؤال أن يذكر الأستاذ بنتائج مقارنة الوثيقة 1. لتستغل
لاستخراج فرضية تتعلق بقطر الألياف...

الوثيقة 3:

السؤالين 1 و2: تمكن المقارنة التلميذ من استنتاج العلاقة بين سرعة السيالة العصبية
وقطرالليف كما تمكن من التحقق من إحدى الفرضيات المقترحة .

يمكن استغلال هذا النشاط الجزئي للإشارة إلى سرعة انتقال السيالة في الألياف ذات
نخاعين وعديمة النخاعين .

السؤال3: يهدف هذا السؤال إلى تبرير استعمال المورفين في المجال الطبي للتخفيف من
الألام عند بعض المرضى

النشاط الجزئي 2 :

المرحلة 1:

السؤال1: يهدف السؤال لتعليم التلميذ على استغلال نتائج تجريبية للتوصل من نتائج
التجارب في جدول الوثيقة 5 من تحديد المشبك المنبه والمشبك المثبط حيث المشبك
ف(1-2) مشبك مثبط بينما ف(1-3) منبه.

السؤال2: يهدف إلى تدريب التلميذ على المقارنة بين نتائج تجريبية و رسومات تخطيطية
للتوصل إلى ربط علاقة حيث المادة P عبارة عن مبلغ كميائي للمشبك المنبه ف(1-3)
المسؤول عن الإحساس بالألم بينما الأنكيفالين مبلغ كميائي للمشبك ف(1-2) و التي
تثبط عمل المشبك السابق .

السؤال3: يتوصل الطالب من المقارنة أن للمورفين نفس تأثير الأنكيفالين .
السؤال4: هذا السؤال يبقى مفتوح ليتمكن الأستاذ من مناقشة طلبته وحثهم على اقتراح فرضيات منطقية

المرحلة2:

تهدف الأسئلة إلى أستغلال وثائق لاستخراج مايلي :

- تتواجد مستقبلات المورفين في المادة الرمادية . الوثيقة6
- لجزيئة الأنكيفالين والمورفين نهايات متماثلة تثبت على نفس المستقبلات الغشائية .
- يستغل المعلومات لتفسير أو تعليل التسجيلات السابقة .

الصفحة	الجزء	السطر	الخطأ	الصواب
132	النشاط2 ج: مصدر الكمون في الغشاء قبل مشبكي	الوثيقة3	Tetraethyl- ammonium مادة مثبطة لانتقال K ⁺	Tetrodotoxine مادة مثبطة لانتقال Na ⁺
132		الوثيقة3	Tetrodotoxine مادة مثبطة لانتقال Na ⁺	Tetraethyl- ammonium مادة مثبطة لانتقال K ⁺
166	التمرين1	22و26	المبين في الشكل2	المبين في الشكل1
167	التمرين2	-	منحنيات الوثيقة 4 غير موجودة في الصفحة 167	منحنيات الوثيقة 4 الموجودة في الصفحة 167 تابعة للتمرين2
170	-	الوثيقة الموجودة على يمين الصفحة الوثيقة الموجودة على يسار الصفحة	الوثيقة2 الوثيقة2	الوثيقة3 الوثيقة4
171	التمرين5	الوثيقة الموجودة في أسفل الصفحة	الوثيقة1	الوثيقة2

ملاحظة:

للتعمق في خطر الإدمان يستحسن تكليف الطلبة ببحث تحدد عناصره وأهدافه بدقة، لتعويد الطلبة على الجدية و تقديم عمل منظم و متقن .
تصويبات الأخطاء التي وردت في دور البروتينات في النقل العصبي

تمارين الوحدة 5 من المجال الأول

التمرين الأول :

1- البيانات : يهدف إلبى استرجاع المعلومات

1- غشاء بعد مشبكي

2- غمد شوان

3- هيولى المحور الأسطوانى

4- غشاء قبل مشبكي

5- هيولى الليف العضلي

6- ليف عضلي

2- المعلومة المستخرجة : تستجيب العضلة (الليف العضلي) إثر تنبيه فعال لللف العصبي المحرك.

. يمكن للأستاذ أن يستثمر هذا السؤال للتوصل إلى عدة معلومات أخرى مثل :

- ينقل الليف العصبي المحرك السيالة العصبية بالإتجاه الناخذ .
- الليف العصبي المحرك قابل للتنبيه وينقل التنبيه بالإتجاه الناخذ نحو الخلية البعد مشبكية .
- إلخ

التجريبتين أوب:

1- تفسير نتائج التجربة أ:- تسجيل كمون عمل في الخلية بعد مشبكية نتيجة حقن الأستيل كولين في الشق المشبكي يدل على أن:

- المشبك المعني كيميائي
- المبلغ الكيميائي في هذا المشبك هو الأستيل كولين - مبلغ منبه -
- يؤثر المبلغ الكيميائي المعني على الخلية بعد مشبكية لاتوائها على مستقبلات غشائية عبارة عن قنوات مبهوبة كميائيا

2- الإستنتاج : يمنع الكورار انتقال النبا من الخلية القبل مشبكية إلى الخلية بعد مشبكية .

ملاحظة : يستحسن اسثمار هذا التمرين من طرف الأستاذ بطرح فرضيات حول منطقة تأثير الكورار قبل التطرق إلى السؤال الثالث للتوصل في النهاية إلى مقر تأثيره ثم إلى بنية جزئية الكورار.

3- رسم يوضح العلاقة بين جزئيات الكورار و البروتينات الغشائية :

3- حدوث الشلل يعود إلى تثبت جزئيات الكورار على القنوات الغشائية المرتبطة بالكيمياء منافسة في ذلك جزئيات الأستيل كولين و بالتالي تمنع انتقال النبا إلى الخلية البعد المشبكية و يصاب الحيوان بالشلل .

التمرين الثاني :

(1)

1- تحليل الجزء س :

- عندما يكون المسرى م1 على السطح يكون فرق الكمون منعدم مما يدل على تماثل شحنات السطح الخارجي لليف العصبي، لكن بمجرد إدخال المسرى في هيولى الليف يسجل الجهاز فرق كمون قدره -60 ميلي فولط.

- استنتاج : الليف العصبي مستقطب .

2- يمثل الجزء ع كمون عمل أحادي الطور .
التعليل : تم الحصول عليه إثر تنبيه فعال و بوجود المسرى م1 داخل الليف بينما م2 مرجعي .

3- تحليل : يمثل المنحنى كمون عمل أحادي الطور
- يقسم المنحنى إلى أجزاء : زمن ضائع ، زوال استقطاب ، عودة الإستقطاب ، إفراط في الإستقطاب ، العودة إلى كمون الراحة .
الإستنتاج : يولد التنبيه الفعال موجة زوال استقطاب .

4- هذا السؤال يعتقد أن الطالب يجب عنه بدون تردد كونه عبارة عن استرجاع لمعلومات تم التطرق إليها في الدرس ، وبالتالي يمكن للأستاذ استغلاله لاستدراك بعض النقاط الغامضة التي لم يستوعبها بعض الطلبة خلال حصة الدرس .
5- طبيعة السيالة العصبية : كهروكيميائية .

(2

1- تحليل المنحنيات : كل المنحنيات تمثل كمون عمل لكن نلاحظ اختلاف في سعة الإستجابة التي يجب التركيز عليها و ربطها بالظروف التجريبية حيث كلما تناقص تركيز شوارد الصوديوم في الوسط الخارجي كلما تناقصت سعة الإستجابة (لتنافس زوال الإستقطاب) .

العلاقة بين الكمون الغشائي و تركيز الشوارد (هنا شوارد الصوديوم) : زوال الإستقطاب يتعلق بشوارد الصوديوم .

3- الرسم : مماثل للرسم الممثل في ص 133 من الكتاب .

التمرين 3:

هذا التمرين يطرح للطالب وضعية جديدة يتعرف عليها ويقارنها بوضعية تعرف عليها من قبل فيستحسن للأستاذ أن يأخذ الفكرة و يطورها كيفما شاء لتدريب التلاميذ على مثل هذه الوضعيات الجديدة .

1- التعرف على المشبكين : الشكل1: مشبك كيميائي . الشكل2: مشبك كهربائي .

البيانات : 1- زر مشبكي . 2- حويصل مشبكي . 3- خلية بعد مشبكية . 4- جزيئات المبلغ الكيميائي المفردة . 5- غشاء قبل مشبكي . 6- حويصل مشبكي حالة إفراز . 7- قنات كيميائية . 8- غشاء بعد مشبكي . 9- أنيبيات . 10- هيولى . 11- ميتوكنجري . 12- مرور الشوارد عبر قنوات الإتصال . 13- قنوات الإتصال .
2- مقارنة بين المشبكين :

المشبك الكيميائي	المشبك الكهربائي
يوجد اتصال بين الغشاء قبل مشبكي وبعده مشبكي . غياب مبلغ كيميائي ...	يوجد فراغ بين الغشاء قبل مشبكي وبعده مشبكي يوجد مبلغ كيميائي ...

الإستنتاج : يوجد استمرارية بين الغشاء قبل مشبكي و بعد المشبكي في المشابك الكهربائية عكس المشابك الكيميائية .

المعلومة المستخلصة : أ- ينتقل النبأ من الخلية قبل مشبكية إلى الخلية بعد مشبكية مباشرة عبر قنوات الإتصال التي تربط بين غشاء الخليتين القبل والبعده مشبكية .

ب- أوجه الاختلاف بين المشبكين تكمن في :
بنوية : -ارتباط الغشاء قبل مشبكي بالغشاء بعد مشبكي في المشبك الكهربائي عبر قنوات .

- وجود فراغ مشبكي في المشبك الكيميائي .
- وظيفة : - ينتقل النبأ في المشبك الكيميائي عن طريق مبلغ كيميائي .
- ينتقل النبأ في المشبك الكهربائي بفضل قنوات الإتصال .

التمرين 4:

-هذا التمرين يطرح وضعية جديدة من الواقع و بطريقة تختلف عن التمارينات الأخرى حيث على الطالب أن يجند كل معارفه لحل هذه الإشكالية المتمثلة في آلية الإدماج العصبي عند الصراصير.

- يستحسن أن يقدم هذا التمرين كوظيفة منزلية ليكون للطالب الحرية الكاملة في استغلال الوثائق بطريقة منهجية و التوصل إلى الحل المرغوب ثم عند الحل يمكن للأستاذ أن يقارن بين مختلف إجابات الطلبة ليعطي لخصصة التمارين صبغة من التنافس العلمي و القدرة على التواصل .

مفاتيح تساعد على الحل :

الوثيقة 1: تبين حشرات الصراصير المعروفة و بالتالي رؤية الصورة تذكر الطالب مباشرة بسلوكها و أماكن تواجدها وكذا سرعة رد فعلها .

الوثيقة 2: تبين الجهاز العصبي للصراصير الذي يتكون من عقد عصبية كما يوضح القرون البطنية التي تحتوي على أعصاب حسية .

إن الإحساس التي تتميز به الصراصير يعود إلى القرون البطنية (الشرجية) عن طريق الأعصاب الحسية المتصلة بالعقدة البطنية .

الوثيقة 3:- تسمح التسجيلات الكهربائية باستنتاج تواجد نوعين من المشابك

*مشابك تنبيهية

* مشابك مثبطة .

- كما تسمح التسجيلات باستنتاج مقر الإدماج العصبي عند الصراصير .

الوثيقة 4: الشكل أ يبين كيف تتصل الألياف الحسية للعصب 1 و العصب 2 بالزوائد الشجرية

للعصبون البعد مشبكي .

الشكل ب يسمح بمقارن المشبك المنبه مع المشبك المثبط .

الخلاصة :بالربط بين المعلومات المختلفة يتوصل الطالب في النهاية أن الإدماج

العصبي يتم في مستوى العقدة العصبية البطنية التي يتم على مستواها تنظيم الغستجابة .

التمرين 5:

إن فكرة التمرين مبنية على ربط الطالب بالواقع المعاش واختير في ذلك الفلفل الحار و دور البروتينات الغشائية في نقل هذا الإحساس .

أجوبة مختصرة :المرحلة 1:

1- الليف A: ليف عصبي ذو نخاعين .

الليف B : ليف عصبي عديم النخاعين .

2- التسجيل 1: يبين أن الشعور بالألم (الحرارة) يعود لتولد سيالتين (من اليسار إلى

اليمين) الأولى سريعة والثانية بطيئة.

3- نعم تؤكد و تعطي معلومات إضافية : حيث التسجيل الأول مسؤولة عنه الألياف ذات

نخاعين بينما التسجيل الثاني مسؤولة عنه الألياف عديمة النخاعين

المرحلة2:

1- المعلومات المستخرجة من المرحتين :

1: - الألياف A وB هي ألياف حسية مسؤولة عن نقل الشعور بالطعم الحار .

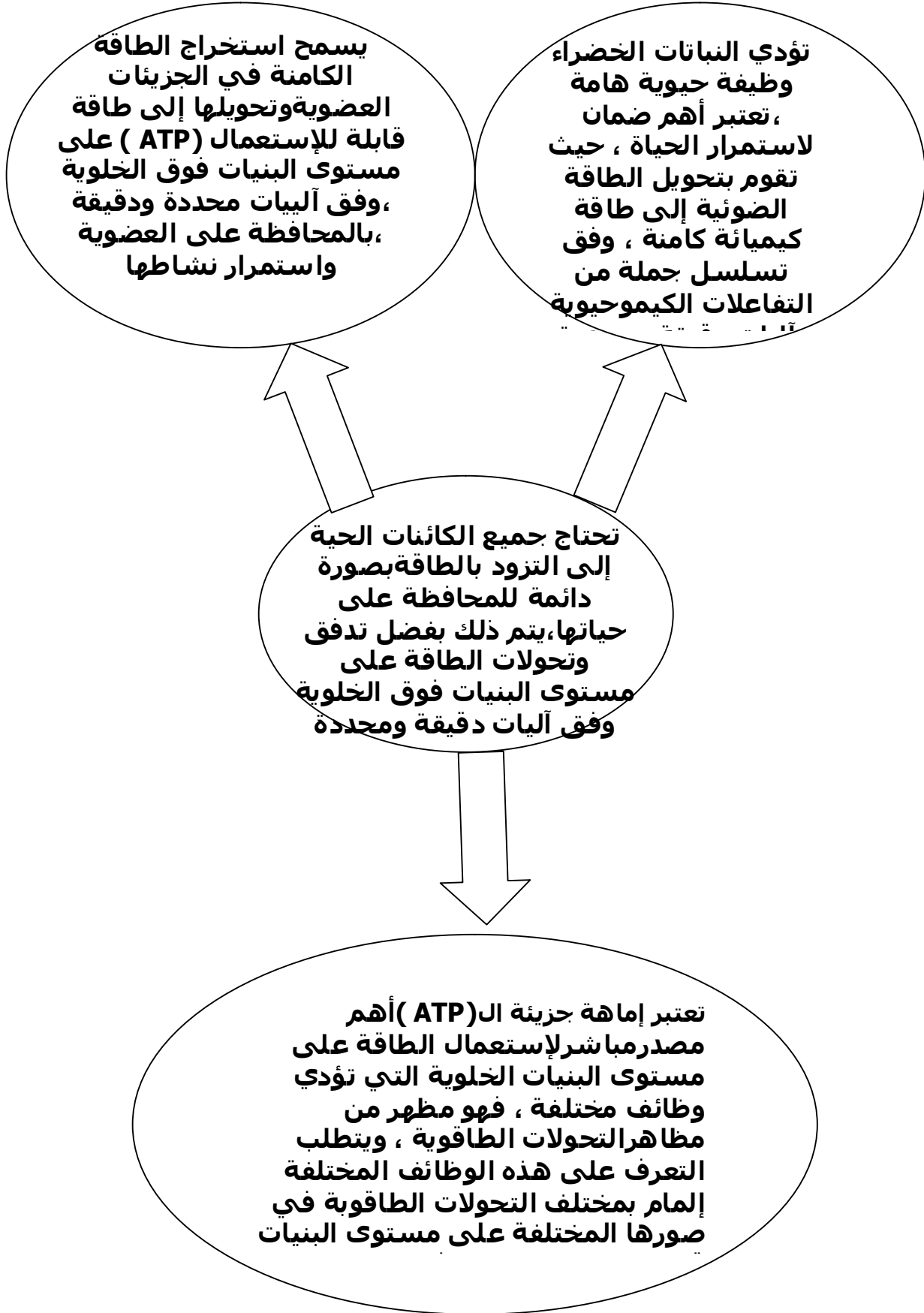
2: - يعود المذاق الحار إلى مادة الكابسيين المتواجدة في الفلفل الحار .

- تحتوي بعض الألياف الحسية على بروتينات غشائية خاصة لها مواقع تثبيت من جهة الهيولى لمادة الكابسيين .

2- مسدر المذاق الحار : يمكن تمثيل ذلك في المخطط التالي :

أكل الفلفل الحار يؤدي إلى تحرير مادة الكابسيين منه، تنفذ هذه المادة عبر الغشاء الهيولي للألياف العصبية الحسية وتتواجد بروتينات غشائية خاصة (VR-1) تثبت جزيئات الكابسيين على مواقع خاصة تؤدي إلى نفوذ الشوارد عبر هذه القنوات (مثل شوارد الصوديوم) فيتولد كمون عمل في هذه الألياف الحسية لتنقل الإحساس بالطعم الحار .

المحتوى المعرفي للمجال (2): التحولات الطاقوية



المجال الثاني: التحولات الطاقوية

مدخل المجال:

صورة المجال : تتضمن الصورة أزهار نبات (كائن ذاتي التغذية) يوفر غذاء (الطاقة) لكائن آخر هو طائر الطنان في وضعية مستقرة بسبب حركة الأجنحة السريع الذي يتطلب طاقة ، وهي وضعية يظهر فيها عدة صور لانتقال الطاقة.

الوحدة الأولى: آليات تحويل الطاقة الضوئية إلى طاقة كيميائية كامنة

مدخل الوحدة: يطرح إشكالية تحويل الطاقة الضوئية في النباتات الخضراء إلى طاقة كيميائية كامنة ومقر حدوثها.

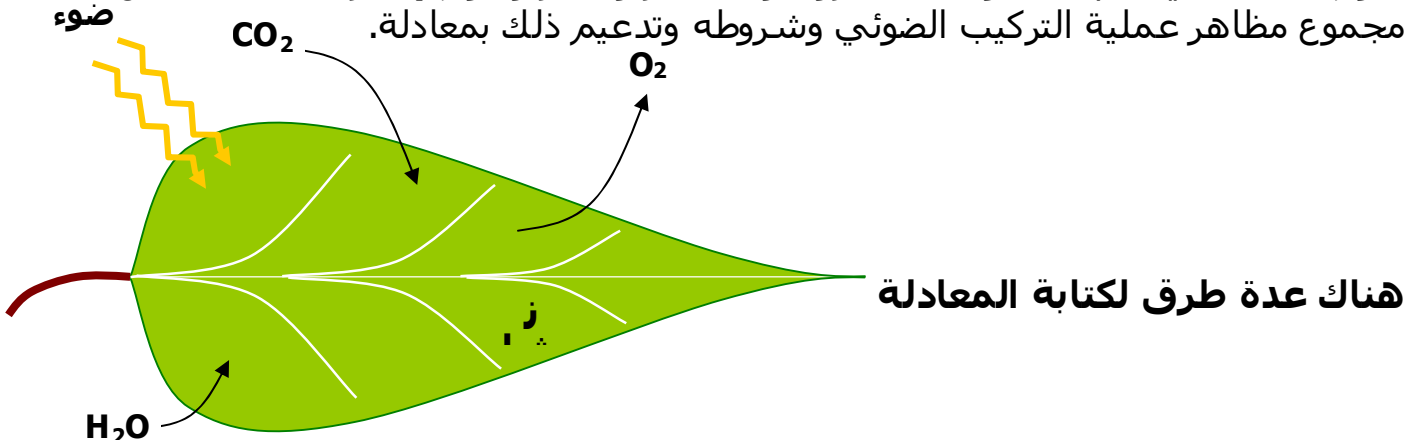
الصورة : توضح خلية نباتية نموذجية وتكبير لجزء مكنها يمثل صانعة خضراء مفتوحة من أعلى لغرض الكشف عن بنيتها الدقيقة للوصول في النهاية إلى اكتشاف آلية حدوث عملية التركيب الضوئي. وكان الهدف من الوحدة هو الدخول والغوص داخل الصانعة الخضراء.

النشاط 1: تذكير بالمكتسبات

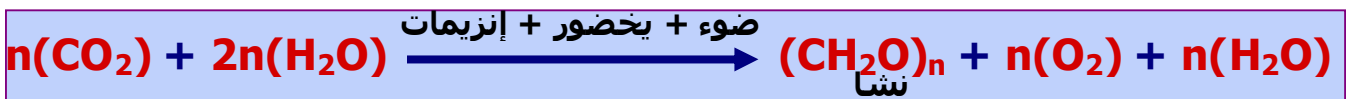

يهدف النشاط إلى التذكير بشروط حدوث عملية التركيب الضوئي.

السؤال 1 : من خلال الوثيقة 1 يصل التلميذ إلى أن اليخضور شرط في تركيب النشا. أما من خلال الوثيقة 2 فيتوصل التلميذ إلى أن الضوء كذلك ضروري ، حيث لا يتم تركيب النشا في الأوراق غير المعرضة للإضاءة رغم احتوائها على اليخضور (أوراق خضراء) وهو المطلوب الوصول إليه من خلال الإجابة على السؤال 2 في الصفحة 176 .

أما من الوثيقة 3 فيتوصل التلميذ إلى استخراج مظاهر التركيب الضوئي وهي انطلاق O_2 واستهلاك (امتصاص) CO_2 . وهو الجواب المراد الوصول إليه للسؤال 3 في الصفحة 176 . يقوم التلميذ في النهاية بحوصلة الشروط والمظاهر والمقر ويقوم بإنجاز مخططا يلخص فيه مجموع مظاهر عملية التركيب الضوئي وشروطه وتدعيم ذلك بمعادلة.



هناك عدة طرق لكتابة المعادلة



النشاط 2 : مقر عملية التركيب الضوئي (مافوق نية الصانعة الخضراء)

يهدف النشاط إلى التعرف على بنية الصانعة الخضراء التي هي مقر حدوث عملية التركيب الضوئي وذلك كخطوة أساسية للوصول إلى فهم آلية عملية التركيب الضوئي.

النشاط الجزئي 1 : من خلال الوثيقة 1 يقوم التلميذ بوصف مظهر الصانعة ويصل من خلال الإجابة على السؤال 2 إلى أن الصانعة مقسمة إلى حجرات مفصولة بأغشية وهي: الفراغ بين الغشائين ، الحشوة وتجويف التيلاكويد (التجويف الداخلي).

في النشاط الجزئي 2 : يقوم التلميذ بمقارنة أهم المكونين للصانعة الخضراء (الحشوة وأغشية التيلاكويد) من حيث التركيب الكيميائي ويصل إلى أنها مختلفة مما يعطي إشارة أولى إلى اختلاف الدور الذي يقوم به كل منهما.

النشاط الجزئي 3 : يهدف إلى التعرف على مكونات غشاء التيلاكويد وطريقة تموضعها في الغشاء.

يقدم التلميذ عند الإجابة على السؤال 1 وصفا لهذه المكونات ويتم التركيز على 3 مكونات رئيسية وهي : الأنظمة الضوئية ، نواقل الإلكترونات ، إنزيم ATP Synthase (الكريات المذبذبة).

ملاحظة : لا يتم التطرق في هذا الجزء إلى الوظيفة التي سوف يتعرف عليها التلميذ من خلال نشاطات أخرى لاحقة.

السؤال 2 يهدف إلى التركيز فقط على بنية الأنظمة الضوئية على أنها معقدات بروتينية كبيرة تحتوي على عد كبير من الصبغات موزعة بطريقة منتظمة داخل المعقد البروتيني. يهدف هذا الجزء كذلك إلى تصحيح مفهوم النظام الضوئي الذي لم يكن واضحا في المنهاج السابق.

النشاط الجزئي 4 : يهدف إلى تحديد طبيعة التفاعلات الكيميائية لعملية التركيب الضوئي من خلال المعادلة الإجمالية.

في السؤال 1 و 2 يتوصل التلميذ أن تفاعلات ظاهرة التركيب الضوئي هي تفاعلات أكسدة وإرجاع. من من خلال الإجابة على السؤال 3 يتوصل التلميذ إلى أن الأكسدة تتم في غشاء التيلاكويد لأنها تتطلب وجود اليخضور بينما يتم الإرجاع في الحشوة.

السؤال 4 يهدف إلى التوصل إلى أن اختلاف دور كل من التيلاكويد والحشوة يعود إلى اختلاف تركيبهما الكيميائي كما تم التعرف على ذلك من خلال معطيات جدول الصفحة 178 .

النشاط الجزئي 5 : يهدف إلى الوصول إلى وجود مرحلتين من عمليتي التركيب الضوئي لكل منهما شروطها ومقرها.

يقوم التلميذ بالتعرف على وجود المرحلتين تدريجيا من خلال الإجابة على الأسئلة المتعلقة بنتائج التجارب الموضحة في الوثيقة 3 .

يهدف السؤال 1 إلى تحديد شروط انطلاق O_2 وهي التيلاكويد (اليخضور) والضوء. في السؤال 2 يتم تحديد شروط حدوث المرحلتين حيث المرحلة (أ) تتطلب كما ذكرنا سابقا الضوء واليخضور وتؤدي إلى انطلاق O_2 من أغشية التيلاكويد بينما تتطلب المرحلة (ب) توفر CO_2 ولا تتطلب الضوء وتؤدي إلى امتصاص CO_2 في الحشوة.

يهدف السؤال 3 إلى اقتراح تسمية للمرحلتين أ و ب . يتم الاعتماد أساسا على شرط الإضاءة للتسمية أي أن المرحلة أ تحتاج للضوء بينما لا تحتاج المرحلة ب إلى الضوء. استعملت في المنهاج السابق تسمية المرحلة الضوئية والمرحلة اللاضوئية وهي التسمية ، لكن هذا المنهاج اعتمد تسمية المرحلة الكيموضوئية والمرحلة الكيموحيوية.

السؤال 4 يهدف إلى التأكيد على أن المرحلة ب لا تحتاج إلى الضوء لكنها تتم في الضوء وإزالة الغموض الذي كان متواجدا أحيانا في أن المرحلة ب تتم في الظلام. حدوث المرحلة ب يمكن اكتشافه من خلال امتصاص CO_2 الذي يتم في غياب الضوء وفي وجوده.

النشاط 3 : تفاعلات المرحلة الكيموضوئية

بعد توصل التلميذ إلى وجود مرحلتين من عملية التركيب الضوئي وأن المرحلة الكيموضوئية تتم على مستوى التيلاكويد ، يتم في هذا النشاط التعرف على شروط عمل التيلاكويد وآلية حدوث هذه المرحلة.

النشاط الجزئي 1 : شروط عمل التيلاكويد

تهدف التجربة 1 إلى إظهار دور مستقبل الإلكترونات في حدوث هذه المرحلة من منطلق أن المرحلة الأولى هي تفاعل أكسدة.

باستعمال التجريب المدعم بالحاسوب وبإضافة مستقبل اصطناعي للإلكترونات يمكن تحديد دور المستقبل في انطلاق O_2 .

السؤال 1 يهدف إلى تحديد تأثير كمية المستقبل على انطلاق O_2 والتي تزداد زيادة كمية المستقبل. يلاحظ التلميذ من خلال نتائج التجربة الموضحة في الوثيقة 1 أن وجود الضوء لوحده كان غير كافيا لانطلاق O_2 . يهدف السؤال 2 إلى دفع التلميذ للاستنتاج أنه حدث تفاعل إرجاع للمستقبل (استقبال إلكترونات) الذي تحول من اللون البني المحمر إلى اللون الأخضر. لكن التفاعل في عملية التركيب الضوئي هو تفاعل أكسدة أدت إلى تحرير الإلكترونات التي قامت بإرجاع المستقبل.

في السؤال 3 يقوم التلميذ باستخلاص شروط انطلاق O_2 وذلك بالاعتماد على نتائج التجربة وهي توفر الإضاءة ومستقبل الإلكترونات.

التجربة 2 تهدف إلى لإظهار تأثير مختلف ألوان الطيف على شدة التركيب الضوئي وربط العلاقة بين الضوء الممتص وانطلاق الأكسجين.

السؤال 1 يهدف إلى تحديد المجالين من الطيف الأكثر تأثيرا والأكثر امتصاصا. أما السؤال الثاني فيهدف إلى الاستنتاج بوجود توافق كلي بين الامتصاص وشدة التركيب الضوئي (أي أن هناك توافق بين طيف الامتصاص وطيف النشاط)

التجربة 3 : تهدف التجربة لتوضيح التأثير المحفز لـ ADP و Pi على شدة التركيب الضوئي التي يتم التعبير عنها عن طريق الأكسجين المنطلق و الزيادة في تركيز ATP .

من خلال السؤال 1 وبعد التحليل المقارن للمنحنين يستنتج التلميذ في السؤال الثاني أن لـ ADP و Pi تأثير محفز للتركيب الضوئي.

د- دور CO_2 في عمل التيلاكويد

هذه التجربة هي جزء من التجربة الموضحة في ص 179 وقد تم إدراجها في هذا الموضوع لهدف توضيح دور CO_2 في عمل التيلاكويد (انطلاق O_2) .

في السؤال 1 يتوصل التلميذ إلى الاستنتاج أن CO_2 غير ضروري لعمل التيلاكويد وذلك لأن انطلاق O_2 يتم في غياب CO_2 .

يهدف السؤال 2 إلى التوصل أن CO₂ ليس شرطاً لعمل التيلاكويد وإنما شرط لعمل الحشوة ، بينما الضوء شرط لحدوث المرحلة أ (انطلاق O₂) وليس شرطاً لحدوث المرحلة ب (تثبيت CO₂) .


النشاط الجزئي 2 :

أ- إظهار مصدر الأكسجين المنطلق :

خطأ في الصياغة: الشروط التجريبية السابقة ؟

الصيغة الصحيحة: في شروط تجريبية مناسبة تسمح بقياس كمية الأكسجين المنطلق تهدف التجربة إلى إظهار مصدر الأكسجين المنطلق وذلك باستعمال العناصر المشعة.

يتوصل التلميذ من خلال النتائج إلى أن مصدر الأكسجين المنطلق هو الماء وليس CO₂ .
ب- تهدف التجربة إلى الوصول إلى تحديد مصدر الإلكترونات التي أرجعت المستقبل.
السؤال 1 يهدف إلى تأكيد أن التفاعل 1 و 2 هي تفاعلات أكسدة وإرجاع. ولتفسير أن التفاعل هو أكسدة تتم مقارنة رقم التكافؤ لشوارد الحديد التي تحولت من الصورة الثنائية Fe²⁺ إلى الصورة الثلاثية Fe³⁺ .
السؤال 3 يؤكد أن مصدر الأكسجين المنطلق هو الماء بعد حدوث عملية أكسدة.
تمثيل التفاعلين يهدف إلى تجزئة التفاعل إلى تفاعلي لتوضيح وجود الإلكترونات التي لا تظهر في التفاعل الإجمالي يمكن مثلاً كتابة المعادلة كالتالي:



ج- دور اليخضور في إرجاع مستقبل الإلكترونات:

يهدف إلى إثبات دور اليخضور وذلك عن طريق طرح إشكالية علمية.
الإشكالية العلمية تتمثل في وجود تناقض بين قاعدة انتقال الإلكترونات في تفاعلات الأكسدة والإرجاع (وهي أن الإلكترونات تنتقل من الكمونات المنخفضة نحو الكمونات المرتفعة) وما تم التوصل إليه سابقاً حول دور الماء كمصدر للإلكترونات.
يتم حل الإشكالية تدريجياً عن طريق إتباع منهجية متدرجة تتمثل في عرض نتائج تجارب بسيطة يحاول التلميذ من خلالها اكتشاف بعض الجوانب التي لم تظهر سابقاً.

تجربة التفلور: تهدف التجربة التي يمكن إجرائها في المختبر إلى تفسير ظهور اللون الأحمر عند تعريض محلول اليخضور الخام للضوء (محلول اليخضور الخام يتم الحصول عليه عن طريق سحق نسيج نباتي أخضر في وجود مذيب عضوي ثم الترشيح)
في السؤال 1 : يقوم التلميذ بتفسير ظهور الضوء الأحمر على أنه ضوء صادر من اليخضور بعد حدوث تهيج بسبب اكتساب الإلكترون لطاقته والانتقال إلى مدار ذو طاقة أعلى.
في السؤال 2 : يتوصل التلميذ أن الإلكترون يعود إلى مداره بينما تفقد الطاقة في شكل حرارة وضوء.

إن اقتراح تجربة التفلور تهدف أساساً إلى تثبيت فكرة اكتساب الصبغات للطاقة وحدث التهيج بانتقال إلكترونات إلى مدار خارجي. لكن التفلور تم على صبغات مستخلصة من نسيج نباتي (صبغات فقد توضعها الطبيعي).

ماذا يحدث في حالة الصبغات المتواجدة ضمن الأنظمة الضوئية التي لم تفقد توضعها الطبيعي (ضمن الأنسجة النباتية)

1- **آلية عمل الأنظمة الضوئية:** من خلال الوثيقة 6 يتوصل التلميذ إلى آلية عمل الأنظمة الضوئية.

السؤال 1 يهدف إلى التأكيد على دور الأصبغة الهوائية في استقبال ثم نقل الطاقة الضوئية وفي السؤال 2 يتوصل التلميذ إلى الفرق الأساسي بين دور الأصبغة الهوائية وأصبغة مركز

التفاعل التي تتم فيها عملية أكسدة (فقد الإلكترون) بعكس الأصبغة الهوائية التي لا تفقد الإلكترونات.

وفي السؤال 3 يتوصل التلميذ إلى سبب تسمية مركز التفاعل من خلال حدوث تفاعل الأكسدة.

الجدول والوثيقة 7 يسمحان للتلميذ من استخلاص معلومات هامة حول الأصبغة الهوائية وأصبغة مركز التفاعل من حيث عدد الأصبغة وأنواعها وطريقة عملها والرموز المستعملة في تسميتها.

الوثيقة 8 تهدف إلى توضيح ما يحدث في أصبغة مركز التفاعل التي تتأكسد عند وصول الطاقة إليها من الأصبغة الهوائية.

في المقارنة يصل التلميذ إلى أن انتقال الطاقة بين الأصبغة الهوائية يتم بدون انتقال الإلكترون (انتقال الطاقة دون الإلكترون) بينما تنتقل الطاقة والإلكترون في مركز التفاعل.

ب - يهدف هذا الجزء من النشاط إلى العودة مرة أخرى إلى المعادلة لتحديد مصدر الإلكترونات بعد تعرف التلميذ على ما يحدث في أصبغة النظام الضوئي.

يصل التلميذ إلى بناء المفهوم الأساسي التالي: مصدر الإلكترونات هو الأنظمة الضوئية وأن انتقال الإلكترونات لا يكون مباشرة من الماء إلى شوارب الحديد.

يتبين للتلميذ من خلال النشاطات والوثائق السابقة أن هناك فقد لإلكترونات الماء وفقد لإلكترونات مركزي التفاعل وهناك استقبال للإلكترونات من طرف المستقبل فما هو تسلسل هذه التفاعلات؟

النشاط الجزئي 3 : يهدف هذا النشاط إلى تحديد تسلسل تفاعلات المرحلة الكيمووضوئية أ- مصير الإلكترونات المتحررة

يهدف هذا الجزء إلى تتبع مصير الإلكترونات التي تتحرر من أصبغة مركز التفاعل بالتطرق إلى دور نواقل الإلكترونات التي تم التعرف عليها من خلال مكونات غشاء التيلاكويد (الصفحة 178).

مصير إلكترونات الماء: يهدف هذا الجزء إلى توضيح ضرورة تعويض الإلكترونات المفقودة لغرض استمرار العملية وبالتالي التساؤل عن مصدر تعويض الإلكترونات المفقودة من مركز تفاعل الأنظمة الضوئية.

من خلال المعادلتين الموضحين في أعلى الصفحة 187 يتبين أن إلكترونات الماء تقوم بتعويض الإلكترونات المفقودة من النظام الضوئي الثاني PSII .

أما من خلال المعادلتين الموضحتين في أسفل الصفحة 187 فيتبين أن إلكترونات PSII تعوض الإلكترونات المفقودة من PSI .

أما المعادلتين في الصفحة 188 فتبينان أن مصير الإلكترونات المفقودة من PSI هو المستقبل الطبيعي للإلكترونات وهو $NADP^+$.

بعد التعرف على مصير ومصدر الإلكترونات يكون التلميذ في وضع يمكنه من التعرف على آلية انتقال الإلكترونات في السلسلة التركيبية الضوئية (أي توظيف المعارف السابقة في إنجاز مخطط وظيفي واحد).

المخططات الموضحة في الوثيقة 10 توضح نفس التسلسل لتفاعلات انتقال الإلكترونات في السلسلة التركيبية الضوئية لكن بطرق مختلفة مع توضيح قيم كمون الأكسدة الإرجاعية التي توضح الآلية الفيزيائية لانتقال الإلكترونات (من الكمونات المنخفضة إلى الكمونات المرتفعة).

في الوثيقة 11 تم تحويل بعض أجزاء المخطط إلى معادلات بسيطة لتوضيح آلية الانتقال وعدد الإلكترونات المنقولة بالإضافة إلى توضيح انتقال الإلكترونات فقط أو الإلكترونات والبروتونات حسب الطبيعة الكيميائية للناقل.

هذه المفاهيم كانت محل غموض في المنهاج السابق ، تتوفر حالياً معلومات أكثر دقة حول طبيعة النواقل وآلية عملها مما يسمح بإنجاز مخططات أكثر دقة من الناحية العلمية.

المعادلة 2 توضح أن الإلكترونات المفقودة من PSII يتم استقبالها من طرف الناقل T_1 الذي يقوم بنقل إلكترونين وبروتونين (ناقل لإلكترونات + بروتونات).
تتم الإشارة إلى أن الناقل T_1 الذي ينقل الإلكترونات والبروتونات يضطر إلى أخذ بروتونات من الحشوة مما يؤدي إلى انخفاض تركيزها في الحشوة.

في المعادلة 3 و4 يلاحظ التلميذ أن انتقال الإلكترونات بين T_1 و T_2 ، حيث أن T_2 لا ينقل البروتونات لذلك يتم تحرير البروتونات نحو الوسط الداخلي ، مما يزيد من تركيزها في الداخل.

المعادلة 5 هي محصلة المعادلتين 3 و 4 .


فقد e^- من النظام الضوئي يكون نتيجة التهيح لاستقباله الطاقة من الأصبغة الهوائية.

2- من مخططات الوثيقة 10 يتمكن التلميذ من استخراج قيم كمون الأكسدة الإرجاعية لكل من T_1 و T_2 والتي تقدر بـ -0.8 و 0.0 تقريباً أي أن الانتقال تم من الكمون المنخفض إلى المرتفع وأن الفرق كان معتبراً .

3- يهدف السؤال إلى استخراج الفرق الأساسي بين T_1 و T_2 في نقل الإلكترونات فقط أو نقل الإلكترونات والبروتونات.

4- يهدف السؤال إلى اكتساب مهارات في كيفية تحويل المخطط إلى معادلات كيميائية بسيطة

مثلاً: المعادلة المولية في السلسلة التركيبية الضوئية تكون على الشكل التالي:



ج- من خلال المخططات الموضحة في الوثيقة 10 صفحة 188 ومن خلال المعادلات الموضحة في الصفحة 189 يتوصل التلميذ إلى وجود تراكم للبروتونات (زيادة في تركيز البروتونات) في التجويف الداخلي.

لذلك يهدف هذا الجزء إلى تحديد مصير البروتونات المتراكمة مع العلم أن تراكمها كان عكس تدرج التركيز وتطلب طاقة (التذكير بمفهوم النقل الفعال الذي يتطلب طاقة وهو ما يكون قد تعرف عليه التلميذ سابقاً في النقل العصبي).

لتوضيح مصير البروتونات المتراكمة يتم استعراض تجربة مشهورة قام بها العالم ياغندورف لإثبات صحة نظرية ميتشل (هذه التجربة تسمى خطأ تجربة ميتشل).

يحتاج التلميذ إلى مساعدته للتعرف على نظرية ميتشل لذلك تم توضيح أساس النظرية في المخطط الموضح في أسفل الصفحة 191 بالإضافة إلى نبذة عن حياة العالم ميتشل.

استغلال نتائج تجربة ياغندورف:


بالرغم من بساطة التجربة فإن التلميذ يمكنه استخراج معلومات كثيرة عند تحليل نتائج التجربة .

يهدف السؤال 1 و 2 إلى التذكير بمفهوم pH وعلاقته بتركيز البروتونات (سلم pH يتناسب عكساً مع تركيز البروتونات). أي أن تركيز البروتونات يكون مرتفعاً في pH المنخفض والعكس صحيح. التفسير الشاردي يرتبط بتركيز شوارد الهيدروجين H^+ .

في السؤال 3 يقوم التلميذ بتفسير التغير pH التجويف من خلال التركيز على دخول البروتونات لأنه زيادة في تركيز البروتونات.

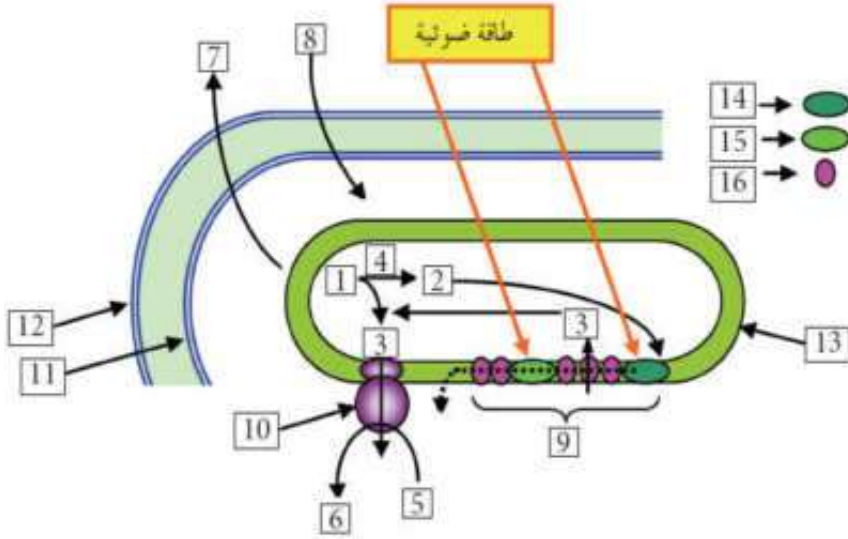
أما السؤال 4 فيهدف إلى توضيح فائدة استعمال قاعدة NaOH التي ترفع من pH الوسط الخارجي وتسمح بإحداث فرق في pH أو فرق في تركيز البروتونات بين داخل وخارج التجويف.

من خلال الإجابة على السؤال 5 يتوصل التلميذ إلى أن تركيب ATP تم بواسطة إنزيم ATP Synthase انطلاقاً من ADP و Pi حيث يقوم الإنزيم بتشكيل رابطة كيميائية بين ADP و Pi باستعمال طاقة تستمد من دخول البروتونات عبر هذه الإنزيم كما توضحه نظرية ميتشل.



المعادلة التي تم فيها تشكيل ATP هي :

في السؤال 6 يستنتج التلميذ شروط تركيب ATP وهي وجود فرق في تركيز البروتونات وتوفير ATP Synthase (الكريّة المذنبة) وكذلك توفر ADP و Pi .



يقوم التلميذ بعد ذلك باسترجاع كل ما اكتسبه من معرف ومفاهيم في المرحلة الكيموضوئية من عملية التركيب الضوئي من خلال إكمال مخطط الوثيقة 13 والإجابة على الأسئلة المرافقة: يكتب التلميذ البيانات

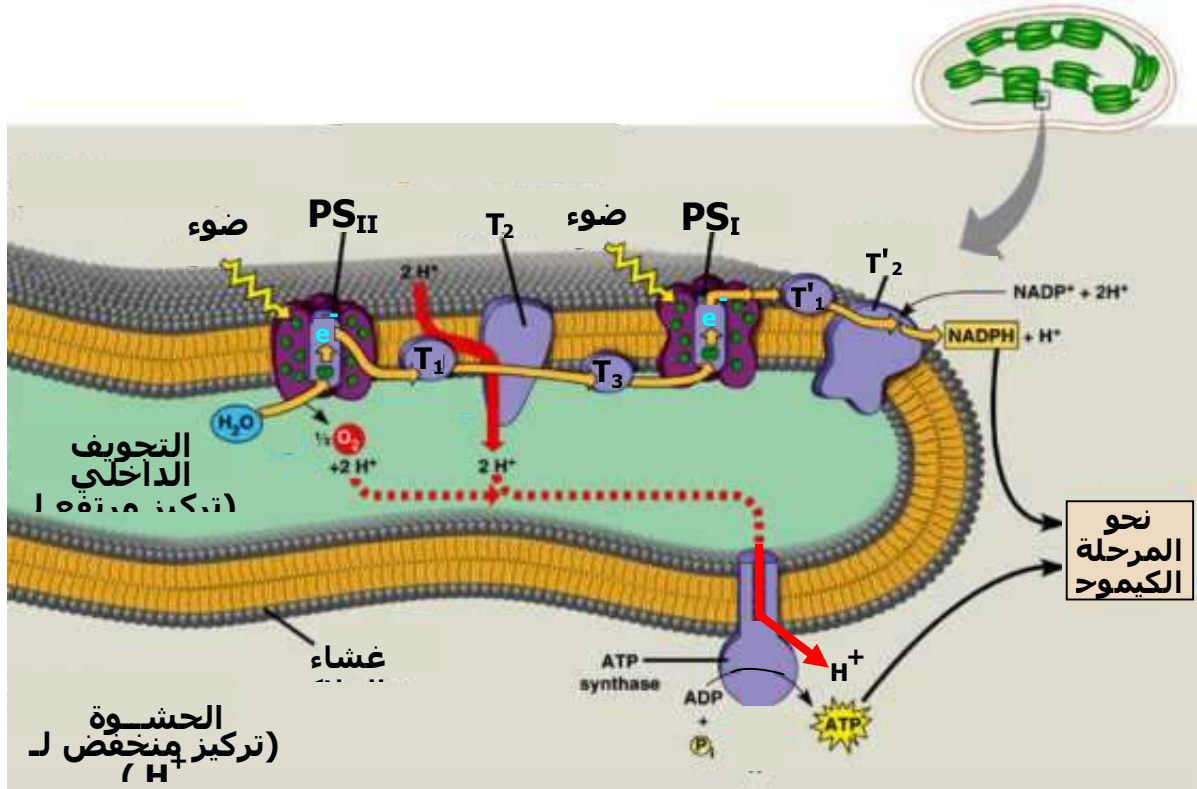
غشاء	=13	السلسلة التركيبية الضوئية	=9	ADP+Pi=5	H ₂ O=1
					التيلكويد
	PSII=14	ATP Synthase=10		ATP=6	2=إلكترونات
	PSI=15	غشاء داخلي=11		O ₂ =7	H ⁺ =3
	16=نواقل	غشاء خارجي=12	CO ₂ =8	(جزء من PSII)	4=إنزيم
					الإلكترونات

يتسخلص نواتج المرحلة الكيموضوئية وهي ATP و H⁺ و NADPH .
العنصرين 14 و 15 يمثلان الأنظمة الضوئية وهي الأنظمة المسؤولة على استقبال وتحويل الطاقة الضوئية في صورة إلكترونات غنية بالطاقة.

إنجاز الرسم التخطيطي الوظيفي يشمل كل المكتسبات التي تم الحصول عليها وهي: أنواع البروتينات الموجودة في أغشية التيلكويد التي تم التعرف عليها سابقاً (عددها ، مواقعها ، شكلها)

دور كل منها في المرحلة الكيموضوئية
دور إنزيم ATP Synthase في تركيب ATP
انتقال الإلكترونات
مصير الإلكترونات المنقولة.
حركة البروتونات عبرغشاء التيلكويد

مثال عن المخطط موجود في الحصيلة المعرفية (يمكن الاستعانة بمخططات أخرى) تم اختيار هذا المخطط لأنه يوفر العديد من المميزات المطلوبة والتي تجعله الأكثر وضوحاً.



النشاط 4 : تفاعلات المرحلة الكيموحيوية

التسمية: التسمية وردت في المنهاج وهي تعوض تسمية المرحلة اللاضوئية في المنهاج السابق.

يهدف هذا النشاط إلى آلية تركيب الجزيئات العضوية (السكريات) من خلال تثبيت جزيئات CO₂. كما يهدف إلى ربط العلاقة بين المرحلتين الكيمووضوئية والكيموحيوية وإظهار التكامل بينهما.

1- **تثبيت غاز CO₂** : يهدف هذا النشاط الجزئي إلى وصف التجربة المشهورة التي قام بها العالم كالفن واستعمل فيها العناصر المشعة وتقنيات مختلفة أخرى (الفصل الكروماتوغرافي ثنائي البعد). سمحت هذه التجربة للعالم كالفن من اكتشاف سلسلة التفاعلات المؤدية إلى تثبيت CO₂ وتركيب السكر في حلقة تسمى باسمه : **حلقة كالفن**.

يهدف السؤال 1 و 2 و 3 إلى لفت انتباه التلميذ إلى أهمية التقنيات المستعملة: فاستعمال CO₂ المشع يسمح بتتبع نواتج تثبيته والمركبات الناتجة من ذلك كما يسمح استعمال الميثانول المغلي إلى توقيف التفاعلات واستخلاص المكونات وذلك بقتل الأشنة بعد فترات زمنية محددة. أما استعمال تقنية التسجيل الكروماتوغرافي ذو البعدين فيسمح بفصل المكونات والتعرف عليها.

السؤال 4 يهدف إلى التعرف على APG كأول مركب يظهر فيه الإشعاع وهو بذلك أول مركب يتم تصنيعه في الدورة.

السؤال 5 يهدف إلى دفع التلميذ لاستغلال نتائج الفصل الكروماتوغرافي حيث: زمن ظهور البقع المشعة يشير إلى ترتيب تشكلها

كمية الإشعاع فيها يدل على تحولها مع الزمن إلى مركبات أخرى.

السؤال 6 يهدف إلى الوصول إلى تحديد مقر حدوث تفاعلات المرحلة الكيموحيوية وهي الحشوة.

السؤال 7 : يهدف إلى استخلاص شروط دمج CO₂ وهي حدوث المرحلة الكيموضوئية وتوفر CO₂

النشاط الجزئي 2 : آلية إدماج غاز CO₂

يهدف هذا النشاط إلى تحديد تسلسل تفاعلات المرحلة الكيموضوية (دمج CO₂) من خلال قياس تركيز المركبات المختلفة التي يظهر فيها الإشعاع في ظروف مختلفة من الضوء والظلام.

السؤال 1 يهدف إلى توضيح دور CO₂ في تغير تراكيز مركبي APG و RuDP . في وجود تركيز ثابت من CO₂ يكون تركيزهما ثابت مما يشير إلى تجديد كل منهما باستمرار (تحويل وإنتاج بنفس الكمية). في غياب CO₂ يرتفع تركيز RuDP مما يشير إلى أنه يتركب لكنه لا يستهلك بينما لا يتم تركيب APG في غياب CO₂ .

تفسير الثبات يدل على تركيب وتحويل بنفس الكمية. أما التزايد فقط فيشير إلى حدوث تركيب دون حدوث تحويل التناقص يشير إلى حدوث التحويل وعدم حدوث التركيب. الشكل 2 : يطرح حالة مختلفة حيث يتم إظهار تأثير الإضاءة على تركيز المركبين السابقين (APG و RuDP) بالإضافة إلى الهكسوزات التي تبين من خلال نتائج التسجيل الكروماتوغرافي في الصفحة 193 أنها تظهر متأخرة ويزداد تركيزها باستمرار. في الضوء تتم عملية التركيب الضوئي ويتم طبيعياً تشكل وتحويل APG و RuDP باستمرار مما يؤدي إلى ثبات تركيزهما.

في الظلام يتم تشكل APG باستمرار ولا يتم تحويله بينما يتم تحويل RuDP ولا يتم تجديده مما يؤدي إلى انخفاض تركيزه .

من خلال كل المعلومات التي تم التوصل إليها من خلال الشكلين 1 و 2 يمكن للتلميذ أن يستخلص أن المركبين يتحولان إلى بعضهما ضمن حلقة يتطلب استمرارها توفر CO₂ والظلام.

يصل التلميذ إلى أن تجديد شروط RuDP يتطلب توفر CO₂ وتوفر الإضاءة .

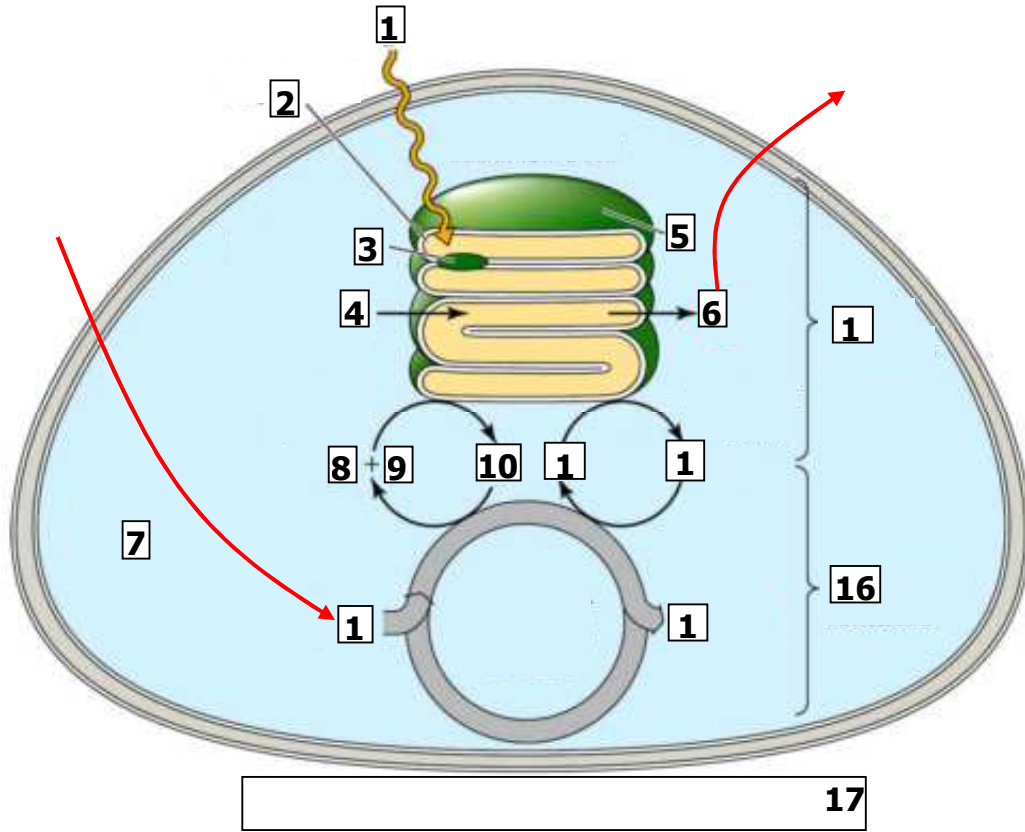
النشاط الجزئي 3 :

يهدف هذا الجزء من النشاط إلى دفع التلميذ نحو استغلال المعلومات الكثيرة المقدمة في مخطط الوثيقة 4 من خلال الإجابة على الأسئلة المطروحة: ففي السؤال 1 يقوم التلميذ بتحديد نوع التفاعلات التي حدثت في 2 و 3 و 5 وهي : فسفرة ، إرجاع ، فسفرة

السؤال 2 يهدف إلى إكساب التلميذ مهارة لرسم الحلقة بطريقة أخرى بحيث يصل إلى تركيب سكر سداسي انطلاقاً من 6 جزيئات CO₂ . في السؤال 3 يقوم التلميذ بحساب الحصيلة الطاقوية (عدد ATP) اللازمة لتركيب سكر سداسي واحد وهي 18 جزيئة.

النشاط الجزئي 4 : يهدف هذا النشاط إلى ربط العلاقة بين مرحلتي التركيب الضوئي (الكيموضوية والكيموضوية) من خلال إظهار التكامل بينهما. تم توضيح هذه العلاقة من خلال مخطط يقوم التلميذ من خلاله بإضافة البيانات اللازمة والإجابة على الأسئلة المرافقة.

في السؤال 1 يضع التلميذ البيانات مكان الأرقام.



CO ₂ = 13	الحشوة = 7	ضوء = 1
سكر = 14	ADP = 8	= 2 غشاء التيلاكويد
المرحلة الكيموضوئية = 15	Pi = 9	= 3 نظام ضوئي
المرحلة الكيموحيوية = 16	ATP = 10	H ₂ O = 4
مخطط يوضح التكامل بين مرحلتي التركيب = 17	NADP+ = 11	= 5 تيلاكويد (كبيس) الضوئي
	NADPH, H+ = 12	= 6 أكسجين

يهدف السؤال 2 إلى التأكيد على أن دور الإضاءة هو حدوث المرحلة الضوئية التي توفر ATP و NADPH, H⁺. لذلك فإن توفيرهما في الظلام يؤدي إلى تثبيت CO₂ دون الحاجة إلى الإضاءة.

يهدف السؤال 3 إلى توضيح الدور غير المباشر لـ CO₂ في انطلاق O₂ حيث يؤثر بطريقة رجعية Feed-back. أي أن تثبيت CO₂ يسمح بتجديد مركبات ADP و Pi و NADP⁺ الضرورية لاستمرار المرحلة الكيموضوئية التي تؤدي إلى انطلاق O₂.

في السؤال 4 يتمكن التلميذ من الربط بين المخطط الموضح في الوثيقة 5 ونتائج التجربة التي تم وصفها في الوثيقة 4 الصفحة 182.

في هذه التجربة لوحظ انطلاق O₂ لفترة قصيرة فقط في غياب CO₂ وقد يعود ذلك إلى توفر كمية من ADP و Pi و NADP⁺ استعملت في المرحلة الكيموضوئية ولكنها لم تتجدد بسبب عدم حدوث المرحلة الكيموحيوية نظرا لغياب CO₂.

تمارين الوحدة 1 من المجال الثاني

تمرين 1 :

يعرض التمرين تجربة مشهورة قام بها العالم انغلمان تم فيها إثبات دور ألوان الطيف المختلفة بطريقة بدائية وفي تحديد شدة التركيب الضوئي. هذه التجربة مكتملة للوثيقة الموجودة في الوثيقة 2 في الصفحة 181 .

السؤال 1 يتوصل التلميذ إلى فكرة استعمال البكتريا كمقياس حيوي (جهاز) لمعرفة تركيز الأكسجين وبالتالي تحديد شدة التركيب الضوئي.
خطأ مطبوعي ص 201 (حلل وليس حل)

في السؤال 2 ومن خلال تحليل نتائج التجربة يتوصل التلميذ إلى أن الأشعة الفعالة في عملية التركيب الضوئي هي الواقعة في المجال البنفسجي -الأزرق وفي الأحمر. وهذه النتائج تتفق مع ما تم التوصل إليه من خلال نتائج الوثيقة 2 في الصفحة 181.

تمرين 2 : هي وضعية إدماج يتم فيها دفع التلميذ إلى اقتراح تفسير هذه الوضعية الحقيقية.

الوضعية تتعلق بتوزع الأشنات حسب العمق والمطلوب إعطاء تفسير لهذه الوضعية انطلاقاً من المعارف المكتسبة خلال هذه الوحدة.

يتم توظيف المعارف المتعلقة بـ: ألون الطيف ، طيف الامتصاص ، الأشعة الضوئية الفعالة في التركيب الضوئي ، دور الأصبغة في امتصاص الأشعة الضوئية.

خطأ في الترقيم لا وجود للوثيقة 3

في السؤال 1 يقوم التلميذ باستغلال نتائج الوثيقة 4 لتحديد الأشعة الضوئية القادرة على اختراق الأعماق وتلك التي لا تستطيع اختراق الأعماق. حيث يصل التلميذ إلى أن الأشعة الحمراء والزرقاء البنفسجية هي التي تختفي أولاً بينما تبقى الخضراء والصفراء. من خلال تحليل نتائج الوثيقة 3 يتوصل التلميذ إلى دور الأصبغة في امتصاص الأشعة الضوئية وأن الأشنات البنية والحمراء تمتص في مجال الضوء الأخضر والأصفر. يقوم التلميذ باستغلال الوثيقتين 2 و 4 معاً .

في النهاية يقوم التلميذ بالربط بين نوع الصبغات ونوع الأشعة التي تصل إلى الأعماق وطيف الامتصاص ليتوصل إلى تفسير سبب عدم تواجد الأشنات الخضراء إلا في أعماق صغيرة لأنها تمتص الأشعة الزرقاء والحمراء التي لا تنفذ إلى الأعماق بينما تتواجد الأشنات البنية والحمراء في أعماق أكبر لأنها تملك صبغات يمكنها امتصاص الضوء الأخضر والأصفر الذي يصل إلى أعماق أكبر.

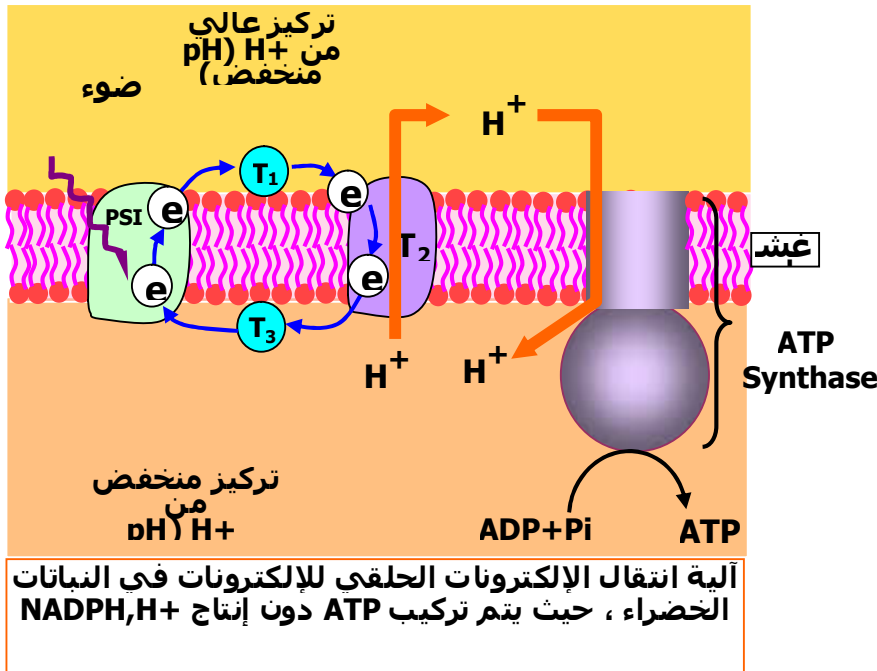
وصول الضوء يعني مصدر الطاقة اللازمة للنمو. وبالتالي التواجد له علاقة بتوفر مصدر الطاقة.

التمرين 3 :

هو تمرين تابع للوحدة الثانية في المجال 1 وقد وضع خطأ عند التصفيف لذا يرجى من الأساتذة إدراجه ضمن قائمة التمارين لهذه الوحدة (العلاقة بين بنية ووظيفة البروتينات)

تمرين 3 : يهدف التمرين إلى تعريف التلميذ بحالة أخرى موجود في الطبيعة يتم فيها تحويل الطاقة الضوئية إلى طاقة كيميائية كامنة عند أحد أنواع البكتيريا ومقارنتها مع الحالة العامة التي تم التعرف عليها أثناء دراستنا للوحدة والمتواجدة في كل النباتات الخضراء.

السؤال 1 يهدف إلى إجراء المقارنة بين الحالتين (الآليتين). عناصر المقارنة تشمل : عدد الأنظمة الضوئية ، عدد نواقل الإلكترونات ، مصدر ومصير الإلكترونات ، طريق تعويض الإلكترونات المفقودة ، تحلل الماء... إلخ. السؤال الثاني يحاول طرح حالة تحدث في النباتات الخضراء في ظروف محددة. يقوم التلميذ في هذه الحالة بإنجاز رسم تخطيطي يوضح فيه طريقة انتقال الإلكترونات ويحاول فيه التوصل إلى فائدة هذه الآلية.



الوحدة الثانية: آليات تحويل الطاقة الكيميائية الكامنة في الجزيئات العضوية إلى ATP

مدخل الوحدة: يطرح النص في مدخل الوحدة ضرورة وجود مصدر للطاقة لكل خلية لغرض القيام بالوظائف المختلفة. ويركز المدخل على الخلايا غير ذاتية التغذية التي تسمتد طاقتها من المواد الغذائية العضوية التي يتم هدمها للحصول على الطاقة القابلة للاستعمال في صورة ATP .

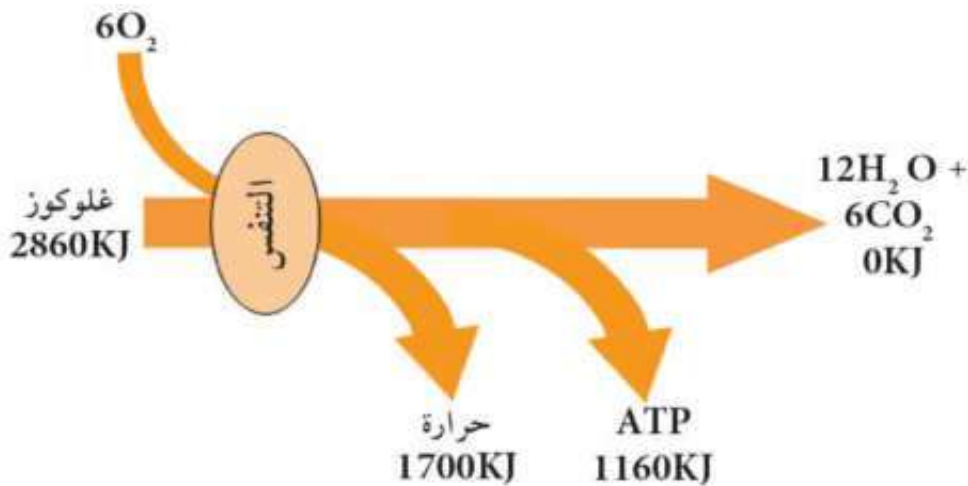
يطرح المدخل الإشكالية الرئيسية في هذه الوحدة وهي آليات تحويل الطاقة الكيميائية الكامنة إلى طاقة قابلة للاستعمال. أما الصورة فتوضح العضوية (المقر) التي يحدث فيها إنتاج الطاقة القابلة للاستعمال وهي الميتوكوندري.

تم تقسيم الوحدة إلى قسمين :
القسم الأول يتطرق إلى آليات تحويل الطاقة الكيميائية الكامنة في الوسط الهوائي
بينما يتطرق القسم الثاني إلى هذا التحويل في الوسط اللاهوائي

النشاط 1 : تذكير بالمكتسبات

يهدف النشاط إلى تذكير التلميذ بمظاهر التنفس وشروط حدوثه. يهدف الجزء الأول من النشاط إلى تذكير التلميذ بالمعادلة الإجمالية لهدم السكر لغرض إنتاج الطاقة عن طريق عملية التنفس. ملاحظة : لم يتم وضع عد الجزيئات في المعادلة الإجمالية لأن الهدف منها هو توضيح المواد الداخلة في التفاعل والنواتج والطاقة دون تحديد نوع الطاقة.

السؤال 1: يهدف السؤال إلى دفع التلميذ إلى استخراج شروط حدوث ظاهرة التنفس أما السؤال الثاني فيهدف إلى دفع التلميذ لاستخلاص مظاهر التنفس وهي: انطلاق CO_2 وإنتاج الطاقة. يقوم التلميذ بعد ذلك بإنجاز مخططا يلخص فيه مجموع ظواهر هدم الجلوكوز على المستوى الخلوي في وجود الأكسجين.



النشاط 2: يهدف إلى

- الكشف عن الأكسدة وبايشير في نفس الوقت إلى وجود الميتوكوندري.
- المشاهدة المجهرية لخلايا الخميرة في الوسطين الهوائي واللاهوائي تسمح بمقارنة بنية الخلايا ثم ربط العلاقة بين وجود الميتوكوندري وحدث الأكسدة والوصول إلى أن الميتوكوندري هي مقر الأكسدة التنفسية.

- 3- يهدف هذا النشاط الجزئي إلى توضيح بنية الميتوكوندري من خلال صورة المجهر الإلكتروني والرسومات التخطيطية التفسيرية المرافقة.
- يهدف السؤال 1 إلى إكساب التلميذ مهارة في التعبير العلمي الدقيق من خلال وصف بنية الميتوكوندري. يصل التلميذ من خلال الوصف إلى أن للميتوكوندري بنية مقسمة إلى حجرات وهي : الفراغ بين الغشائين والمادة الأساسية.
- 4- يهدف الجدول الموضح في الوثيقة 4 إلى توضيح المكونات الكيميائية لكل من الحشوة والأغشية بالإضافة إلى الهيولى. تسمح معطيات الجدول بإجراء المقارنة بين الغشاء الداخلي والخارجي ثم بين الغشاء الداخلي والمادة الأساسية والاستخلاص إلى وجود اختلاف في التركيب الكيميائي. هذا التركيب الكيميائي خاصة من حيث نوع البروتينات يحدد نوع الوظيفة التي يقوم بها كل جزء.
- يتم التركيز على الاختلاف بين الغشاء الداخلي والمادة الأساسية لأنهما الجزئين الأساسيين في عمل الميتوكوندري.
- 5- رقم النشاط الجزئي هو 5 وليس 4 من خلال المعادلة يتوصل التلميذ أن التنفس يشمل تفاعل أكسدة (تفاعل 1) وإرجاع (تفاعل 2) وأن ظاهرة التنفس هي تفاعلات أكسدة إرجاعية.

النشاط 3 : التحلل السكري

- يهدف النشاط إلى التعرف على مادة الأيض (الطاقة الكيميائية الكامنة) التي يتم استعمالها من طرف الميتوكوندري.
- 1- باستعمال التركيب التجريبي المدعم بالحاسوب يتم التعرف على مادة الأيض المستعملة من طرف الميتوكوندري.
- في السؤال 1 وبعد تحليل المنحنى يستنتج التلميذ أن حمض البيروفيك هو مادة الأيض المستعملة من طرف الميتوكوندري لأن التجربة تمت على ميتوكوندري معزولة.
- في التجربة 2 : يتم إثبات حدوث تحولات لسكر الغلوكوز إلى حمض البيروفيك ومصير حمض البيروفيك في الظروف الهوائية واللاهوائية باستعمال سكر غلوكوز مشع.
- من خلال تحليل النتائج الموضحة في الجدولين أ و ب يمكن للتلميذ أن يستخلص أن :
- حمض الغلوكوز يتحول إلى حمض البيروفيك في الهيولى في الحالة أ و ب
 - حمض البيروفيك يدخل إلى الميتوكوندري في الحالة أ فقط
 - حمض البيروفيك يتحول في الميتوكوندري إلى مركبات أخرى
 - حمض البيروفيك يتحول إلى مركبات أخرى في الهيولى في الحالة ب .

A1* = أستيل مرافق الإنزيم أ

A2* = إيثانول

A3* = حمض الليمون أو مركبات أخرى من حلقة كريبس

- الحالة أ تمت في الظروف الهوائية لحدوث هدم الغلوكوز داخل الميتوكوندري بينما تمت الحالة ب في الظروف اللاهوائية.
- يهدف السؤال 3 إلى استخلاص مصير حمض البيروفيك (تحول إلى مشتقات داخل الميتوكوندري في الوسط الهوائي أو مشتقات أخرى في الهيولى في الظروف اللاهوائية). أما المقر فهو الهيولى أو الميتوكوندري.

2- مراحل التحلل السكري

- يهدف مخطط الوثيقة 4 إلى توضيح مراحل حدوث التحلل السكري.
- من خلال الأسئلة يحاول التلميذ استغلال المخطط لاستخراج أهم المعلومات.
- في السؤال 1 يقوم بتمثيل معادلات محددة .

مثلا: المعادلة 1 يمكن تمثيلها كالتالي:



في السؤال 2 يقوم التلميذ بالتعرف على أنواع بعض التفاعلات مثلا: التفاعل 1 و 3 هي تفاعلات حدث فيها إماهة لـ ATP وهي في نفس الوقت فسفرة للسكر. في السؤال 3 : من خلال عد ATP الناتجة والمستهلكة يمكن التوصل إلى أن الحصيلة إيجابية تقدر بـ 2 ATP . في السؤال 4 : تلخيص التحلل السكري في تفاعل واحد يشمل البداية والنهاية وعد ATP و NADH, H^+ .



النشاط 4 : مراحل تحلل حمض البيروفيك (حلقة كريبس)

يهدف هذا النشاط إلى تتبع مراحل هدم حمض البيروفيك داخل المادة الأساسية للميتوكوندري.

- 1- الوثيقة 1 تهدف إلى عرض نتائج تجارب مدعمة بالاسوب توضح المظاهر التي تدل على هدم حمض البيروفيك وهي امتصاص الأوكسجين وطرح CO_2 .
- 2- تهدف المعادلة إلى توضيح المرحلة الأولى من هدم حمض البيروفيك داخل المادة الأساسية للميتوكوندري وهي المرحلة التمهيديّة لحلقة كريبس.
- 3- تهدف الوثيقة 2 إلى توضيح مراحل حلقة كريبس والمرحلة التمهيديّة الموضحة في الوثيقة السابقة. يقوم التلميذ باستخراج المعلومات من خلال دراسة مراحل الحلقة. في السؤال 1 يقوم التلميذ بتصنيف التفاعلات إلى أصناف حسب نوع التفاعل. فمثلا التفاعل 3 يتم فيه عملية نزع كربوكسيل وأكسدة وهو مايسمى بنزع الكربوكسيل التأكسدية $\text{décarboxylation oxydative}$. في السؤال 2 و 3 يقوم التلميذ باستخراج معطيات خاصة بعدد جزيئات CO_2 و المرافقات الإنزيمية انطلاقا من جزيئة غلوكوز واحدة (4 جزيئات CO_2 + 6 جزيئات NADH, H^+ + جزيئتين من FADH_2) في السؤال 4 يقوم التلميذ بتمثيل التفاعل 1 في معادلة إجمالية بسيطة : وهي نفسها المعادلة الموضحة في الصفحة 213 بدون كتابة الصيغ الكيميائية.

يقوم التلميذ في النهاية باستخراج الحصيلة الأولية لعدد ATP و عدد NADH, H^+ وعدد FADH_2 وكذا عدد جزيئات CO_2 لكل من التحلل السكري وحلقة كريبس معا بما في ذلك الخطوة التمهيديّة لحلقة كريبس.

الحصيلة هي : 4 ATP + 10 جزيئات NADH, H^+ و جزيئتين من FADH_2 و 6 جزيئات من CO_2 .

النشاط 5 : الفسفرة التأكسدية

يهدف هذا النشاط إلى توضيح آلية أكسدة المرافقات الإنزيمية واستعمال الطاقة الناتجة من الأكسدة لغرض إنتاج ATP .

1- دور الغشاء الداخلي للميتوكوندري :

تهدف التجربة الأولى إلى إثبات دور كل من الغشاء الداخلي للميتوكوندري والكريات المدنية. يتوصل التلميذ من خلال نتائج التجربة أن نقل الإلكترونات يتم بواسطة مكونات الغشاء لكن تركيب ATP يتم بواسطة الجزء الكروي (F_1) من الإنزيم ATP Synthase عند وجوده ضمن غشاء سليم (في الميتوكوندري أو في حويصلة غشائية). أما التجربة 2 فتوضح ظاهرة انتقال البروتونات H^+ أثناء حدوث التنفس في معلق من الميتوكوندري. كما تثبت دور المركبات التي يمنع تشكل ATP مثل مركب DNP .

في السؤال 1 و 2 : بعد تحليل المنحنى يتوصل التلميذ إلى أن إضافة O_2 يسبب انخفاض pH خارج الميتوكوندرى (زيادة تركيز البروتونات H^+) بينما تعمل مادة DNP على رفع درجة pH خارج الميتوكوندرى مما يشير أنها تساهم في تخفيض تركيز البروتونات H^+ في الخارج. مصدر البروتونات يكون من داخل الميتوكوندرى

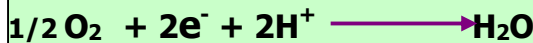
وقع خطأ في السؤال الثاني من الصفحة 215 يحذف الجزء الأخير من السؤال الذي يتعلق بكتابة المعادلة الكيميائية. يضاف هذا الجزء من السؤال إلى الصفحة الموالية 216 في السؤال 5 بعد تحديد المستقبل الأخير للإلكترونات في السلسلة التنفسية

في السؤال 3 : يهدف إلى تفسير الانخفاض والعودة عن طريق نفاذية الغشاء الداخلي وليس الخارجي الذي يتميز بنفاذية لمعظم الجزيئات الصغيرة. يهدف السؤال 4 إلى لفت انتباه التلميذ أن خروج البروتونات سريع وعودته الطبيعية بطيئة لكن إضافة مركب DNP يسرع من دخول H^+ إلى داخل الميتوكوندرى ويعود السبب إلى أن DNP يقوم بإدخال البروتونات بسرعة من الخارج إلى الداخل. التجربة 3 : تهدف التجربة إلى تحديد شروط تركيب ATP وهي فرق تركيز H^+ ووجود الكرية المذنب (إنزيم ATP Synthase) النشاط الجزئي 2 : آلية الفسفرة التأكسدية تهدف الوثيقة 4 إلى توضيح آلية حدوث الفسفرة التأكسدية من خلال عرض رسم تخطيطي وظيفي يحاول التلميذ استغلاله لاستخراج معلومات مهمة حول آلية حدوث العملية.

السؤال 1 : يهدف إلى تحديد الآلية الفيزيائية لانتقال الإلكترونات وهي الآلية التي يكون التلميذ قد تعرف عليها في الكيمياء. من الكمون المنخفض إلى الكمون المرتفع أي وفق تدرج كمون الأكسدة الإرجاعية في السؤال 2 يقوم التلميذ بتفسير لنخفاض pH في التجربة 2 عن طريق الربط بين الوثيقتين 2 و 4 ، حيث يتضح دور نواقل الإلكترونات في إخراج البروتونات. يهدف السؤال 3 إلى تطبيق عددي يقوم به التلميذ لغرض تحديد الفرق في كمون الأكسدة الإرجاعية الذي يحدد مستوى طاقة الإلكترون. التطبيق العددي يتطلب قيم كمون الأكسدة الإرجاعية لـ $NADH, H^+$ والتي تقدر بـ -0.32 فولت و 0.05 فولت تقريبا للناقل T2 مما يؤدي إلى الاستنتاج أن الفرق معتبر ، أي أن هناك انخفاض معتبر في طاقة الإلكترون ويقود إلى التساؤل إلى أين ذهبت هذه الطاقة المفقودة؟

في السؤال 4 يصل التلميذ إلى أن الطاقة تستعمل في إخراج البروتونات عكس تدرج التركيز لأن ذلك يتطلب طاقة. يعتمد التلميذ على مفهوم النقل الفعال الذي تعرف عليه التلميذ في درس النقل العصبي.

في السؤال 5 يقوم التلميذ بتحديد المستقبل الأخير من المخطط وهو الأكسجين الذي يتحول إلى جزيئة ماء H_2O . يضاف إلى هذا السؤال الجزء الذي يتم نقله من الصفحة 215 ويطلب من التلميذ في هذا السؤال كتابة معادلة تشكل الماء انطلاقا من الأكسجين والإلكترونات والبروتونات كالتالي:

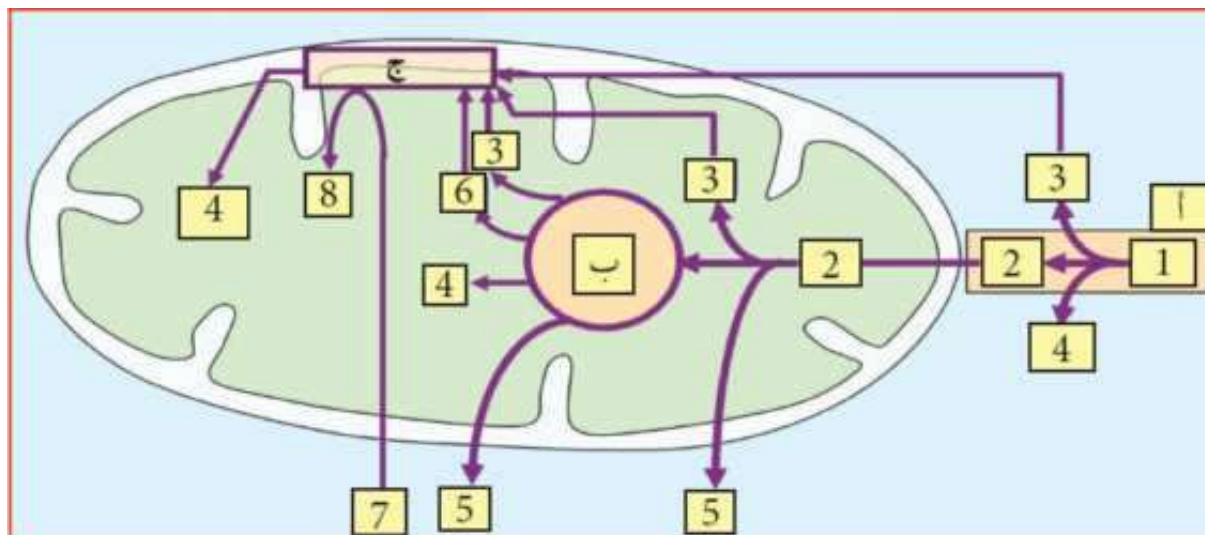


يقوم التلميذ بعد ذلك بحساب حصيلة عدد ATP الناتجة من هدم جزيئة غلوكوز هدمًا كاملاً (يتم حساب حصيلة المراحل الثلاثة)

يمكن للطالب الرجوع إلى الحصيلة الأولية التي تم حسابها بعد حلقة كريبس في الصفحة 214 . حيث يتوصل التلميذ إلى أن الحصيلة الكلية لعدد ATP هي 38 جزيئة. في الوثيقة 5 يحاول التلميذ استخراج المعلومات الخاصة بمراحل التنفس واستعمالها في إكمال المخطط.

بعد وضع العنوان الذي يعبر عن مراحل هدم الجلوكوز (مراحل التنفس) وكتابة البيانات ثم تسمية المراحل أ ، ب ، ثم ج .

يقوم التلميذ بعد ذلك بإنجاز مخطط يلخص فيه الظواهر التي تم التطرق إليها وهي مراحل هدم الجلوكوز في الوسط الهوائي.



التحلل	أ =	التحلل	أ =	التحلل	أ =
السكر	ب =	السكر	ب =	السكر	ب =
حمض البيروفيك	ج =	حمض البيروفيك	ج =	حمض البيروفيك	ج =
NADH, H+	4 =	NADH, H+	4 =	NADH, H+	4 =
التأكسدية	5 =	التأكسدية	5 =	التأكسدية	5 =
CO ₂	6 =	CO ₂	6 =	CO ₂	6 =
O ₂	7 =	O ₂	7 =	O ₂	7 =
FADH ₂	8 =	FADH ₂	8 =	FADH ₂	8 =

النشاط 6 : يمثل الجزء الثاني من هذه الوحدة وهي آليات تحويل الطاقة الكيميائية الكامنة في الوسط اللاهوائي.

يهدف النشاط إلى توضيح طرق أخرى لهدم المادة العضوية لغرض إنتاج الطاقة القابلة للاستعمال في غياب الأكسجين وهو ما يعرف بالتخمير. وقد تم اختيار أحد أنواع التخمير المعروف بالتخمير الكحولي .

النشاط الجزئي 1 : هدم الجلوكوز في غياب الأكسجين

التجربة 1 : تهدف التجربة إلى التعرف على نواتج التخمير الكحولي باستعمال التجريب المدعم بالحاسوب وذلك في وسط يحتوي على الخميرة والجلوكوز.

من خلال تحليل المنحنى الموضح في الوثيقة 1 يستنتج التلميذ نواتج التخمير الكحولي وهي CO₂ وكحول الإيثانول. كما يلاحظ أن هذا الانطلاق لا يحتاج إلى الأكسجين.

في التجربة الموالية يتم قياس كتلة الخميرة من خلال قياس شفافية الوسط . لأن زيادة أعداد خلايا الخميرة نتيجة تكاثرها ونموها يقلل من شفافية الوسط. نمو الخميرة يرتبط بتوفر الطاقة اللازمة لذلك والذي يتم توفيرها من التنفس أو التخمير.

تمارين الوحة 2 من المجال الثاني

التمرين 1 :

يهدف التمرين إلى مقارنة أليتي التخمر والتنفس
السؤال 1 يهدف إلى التوصل من خلال المقارنة إلى أن كتلة الخميرة المتكونة في
الظروف الهوائية تتطلب استعمال كمية أقل من الغلوكوز .
للتأكد من ذلك يتم حساب كمية الغلوكوز اللازمة لإنتاج 1 غ من الخميرة. يمكن كذلك
حساب الزمن اللازم لذلك في الحالتين أو يمكن حساب ما تنتجه الخميرة في 24 ساعة
في الحالتين.

يتم حساب كمية الغلوكوز اللازمة لإنتاج 1 غ من الخميرة في طول مدة التجربة كالتالي:

$$45 \div 0.255 = 176.47 \text{ غ غلوكوز/غ خميرة متشكلة}$$

$$0.098 \div 0.024 = 4.03 \text{ غ غلوكوز/غ خميرة متشكلة}$$

من خلال الحسابات يمكن الاستنتاج أن إنتاج 1 غ من كتلة الخميرة يتطلب صرف طاقة
كبيرة في الظروف اللاهوائية مما قد يشير إلى المردود الطاقي الضعيف مقارنة مع
التنفس.

يمكن حساب كمية الغلوكوز المستهلكة في مدة 24 ساعة في كلا الحالتين:

$$\text{بالنسبة للوسط أ المدة هي 24 ساعة ، } 0.098 \text{ غ غلوكوز/24 ساعة}$$

$$\text{بالنسبة للوسط ب تحسب كالتالي:}$$

$$45 \div 30 = 1.5 \text{ غ غلوكوز/24 ساعة}$$

يلاحظ اختلاف كبير في كمية الغلوكوز المستهلك في الحالتين.

يمكن إضافة أمثلة أخرى من مواضيع البكالوريا مثل الجدول التالي الذي تم الحصول عليه
من خلال تنمية خلايا الخميرة وفق الشروط التجريبية الموضحة في الجدول:

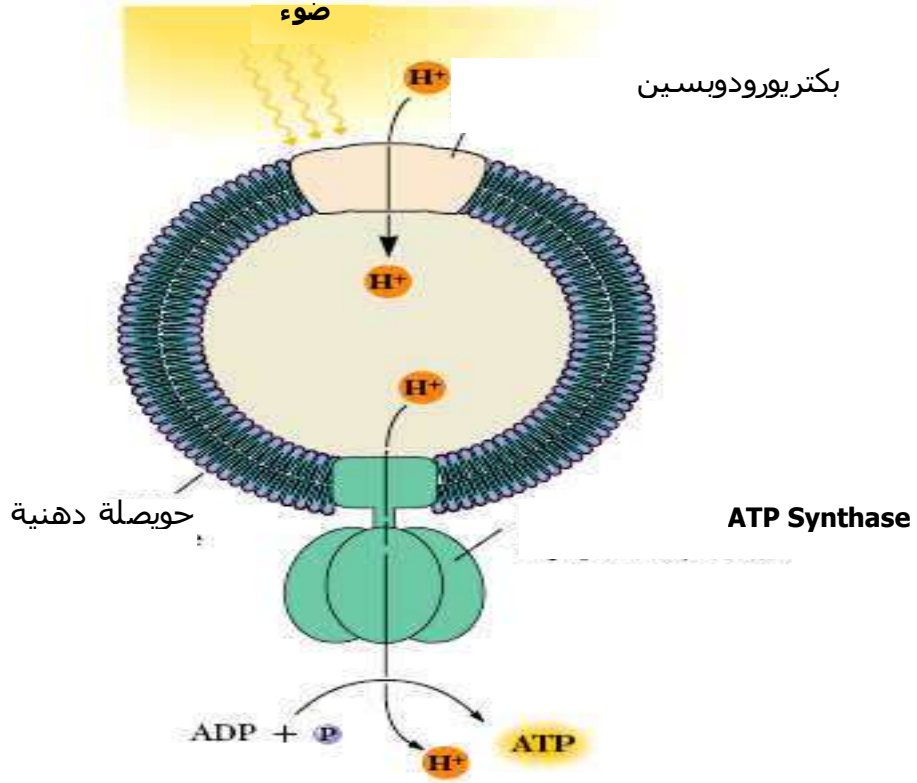
التجار	مدة التجربة (الأيام)	اكسجين الوسط	حجم محلول الخميرة	كمية الغلوكوز في وسط		مردود إنتاج الخميرة المتشكلة
				بداية التجربة	نهاية التجربة	
1	3	عني متوسط	200	10	0.044	
2	9	عني متوسط	3000	150	0.013	
3	19	فقير خالي	3000	150	0.009	
4	90	فقير خالي	3000	150	0.006	

يمكن من
مردود إنتاج الخميرة بدلالة شروط تهوية الوسط في كل تجربة خاصة في التجربة 1 و 4 .
المدة الزمنية اللازمة لإنتاج كمية من الخميرة (النمو).
كمية الغلوكوز المستهلك للوصول إلى إنتاج كمية من الخميرة.

التمرين 2 :

يهدف التمرين إلى تعريف التلميذ بنوع من البكتريا تقوم بإنتاج الطاقة بآلية تختلف عن
الآليات المدروسة ، وهي حالة خاصة تتم في ظروف محددة. اكتشاف هذه البكتريا كان
له أثر إيجابي في تأكيد الفرضية الكيميائية الأسموزية للعالم ميتشل الموضحة في
مخطط الصفحة 191 في الوحدة الأولى من هذا المجال.

السؤال 1 يهدف إلى دفع التلميذ لدراسة الظاهرة وإنجاز رسم تخطيطي عبارة عن
حوصلة غشائية تضم البروتين الأرجواني والإنزيم ATP Synthase



في السؤال 2 : يصل التلميذ إلى أن دور البروتين هو العمل كمضخة لإدخال البروتونات عكس تدرج التركيز لإحداث فرق في التركيز. وهذا الإدخال يتطلب طاقة تستمد في هذه الحالة من الضوء. أي أن البروتين هو مضخة لبروتونات تعمل بالطاقة الضوئية.

السؤال 3 يهدف إلى الوصول إلى أن توفر الأكسجين في التنفس كان لغرض استقبال الإلكترونات القادمة من المرافقات الإنزيمية وانتقالها عبر السلسلة التنفسية ، هذا الانتقال يتسبب في إحداث فرق في تركيز H^+ الذي يستعمل لتكوين ATP . إحداث فرق التركيز في التجربة تم بدون الحاجة إلى الأكسجين لذلك لا يتطلب إنتاج ATP توفر الأكسجين.

السؤال 4 : هذه العملية لا تشبه التخمر وإنما تشبه التنفس في كيفية إنتاج الطاقة القابلة للاستعمال (ATP) لأن التخمر لا يتطلب استعمال الإنزيم ATP Synthase لإنتاج ATP ولا يتطلب تكوين فرق في تركيز البروتونات. لذلك فإن هذه العملية تشبه أكثر إنتاج الطاقة القابلة للاستعمال (ATP) في التنفس.

الوحدة الثالثة: تحويل الطاقة على المستوى ما فوق البنية الخلوية

مدخل الوحدة: يهدف المدخل إلى لفت انتباه التلاميذ إلى أن تحولات الطاقة هي عملية يتم مشاهدتها يوميا في عدة صور منها ما يحدث في السيارة. كما تمثل الصورة مقارنة بين تحويل الطاقة في سيارة وفي خلية حية.

النشاط: التحولات الطاقوية على المستوى الخلوي

يهدف هذا النشاط إلى حوصلة مجمل تحولات الطاقة والمواد داخل خلية يخضورية وأخرى غير يخضورية.

يحاول التلميذ من خلال هذا النشاط توظيف المعارف التي تم اكتسابها في الوجدتين السابقتين لوضع المعلومات المناسبة.

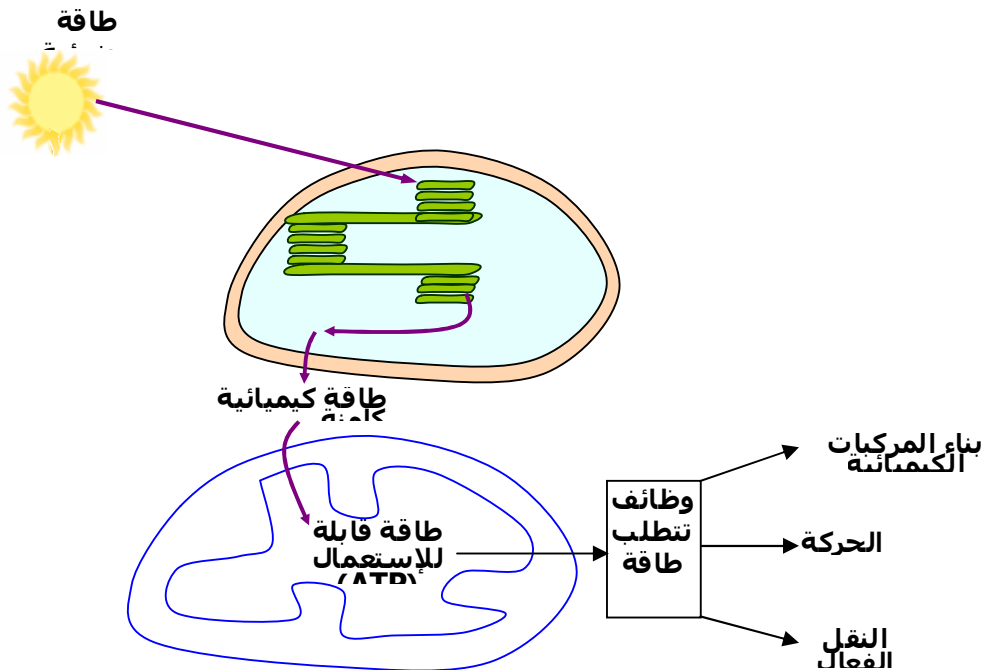
مصدر الطاقة القابلة للاستعمال: يهدف هذا النشاط الجزئي إلى التعرف أكثر على جزيئة ATP من حيث تركيبها الكيميائي وعدد الروابط الغنية بالطاقة ودور ATP كوسيط بين تفاعلات الهدم (التنفس الخلوي) ومختلف الوظائف التي تتطلب استعمال الطاقة.

ب- **بعض استعمالات ATP :** الهدف من عرض الصور هو دفع التلميذ إلى تصنيفها إلى أقسام حسب نوع الوظيفة التي تتطلب الطاقة. هذه الوظائف هي:

- **المحافظة على حرارة الجسم** ويظهر ذلك جليا في المناطق شديد البرودة.
- **الحركة** وهي موضحة في أنواع مختلفة من الكائنات: الأميبا (حيوان أحادي الخلية) والفهد والإنسان خاصة عند الإنسان الذي يقوم بحركات رياضية.
- **النقل الفعال** للمواد عكس تدرج التركيز وقد تم التعرف على أهميته في الوحدة الخامسة في الاتصال العصبي.
- **البناء** والذي يتطلب تدخل إنزيمات تقوم بتكوين روابط جديد وتتطلب طاقة مثل بناء سكر السكروز انطلاق من سكريبين هما الغلوكوز والفركتوز.

إنجاز الرسم التخطيطي:

عناصر الرسم خلية نباتية وأخرى حيوانية توضحان تحولات الطاقة في كل منهما والاستعمالات المختلفة للطاقة بعد ذلك.



تمارين الوحدة 3 من المجال الثاني

تمرين 1 :

ATP أدينوزين ثلاث الفسفات (نيوكليوتيد ثلاثي الفسفات) وهو مركب غني بالطاقة نظرا لاحتواءه على رابطتين ذات طاقة عالية. الطاقة الكيميائية الكامنة: هي الطاقة المخزنة في الروابط الكيميائية والتي تتحرر عند تكسير الرابطة الكيميائية. طاقة قابلة للاستعمال وهي الطاقة التي تستعمل لأداء الوظائف وأهم صورة لها هي جزيئات ATP تدرج التركيز هو فرق التركيز المتكون عبر حاجز وهو عادة غشاء في الأنظمة الحية

التمرين 2:

المقارنة يتم التركيز على أهم الفروق وليس كل الفروق وتبقى القائمة مفتوحة

خلية غير يخرورية	خلية يخرورية
تحول الطاقة الكيميائية الكامنة إلى طاقة قابلة للاستعمال لا تحتوي على الصانعات الخضر	تحول الطاقة الضوئية إلى طاقة كيميائية تحتوي على الصانعات الخضر

التنفس	التخمير
يتم في الظروف الهوائية ينتج طاقة عالية يحدث في معظم أنواع الخلايا	يتم في الظروف اللاهوائية ينتج طاقة منخفضة يحدث في بعض الكائنات وفي بعض الخلايا

ADP	ATP
أدينوزين ثنائي الفسفات رابطة واحدة غنية بالطاقة	أدينوزين ثلاثي الفسفات رابطتين غنيتين بالطاقة

تمرين 3 :

- 1- خطأ
- 2- خطأ
- 3- صحيح
- 4- صحيح

تمرين 4 :

- 1- يتم صرف طاقة للمحافظة على درجة حرارة الجسم وتزداد هذه الطاقة كلما كان الجو باردا لأن حرارة الجسم ثابتة وتساوي 37°م عند الشخص السليم.
- 2- تحتاج الخلايا العصبية إلى ATP بصورة أساسية للمحافظة على ظاهرة الاستقطاب الضرورية لقابلية التنبيه ونقل السيالة العصبية.

3- توفر الطاقة أثناء الاستنساخ والترجمة ضروري خاصة لبناء ARN وتركيب البروتين. في كلا الحالتين يتم تكوين روابط جديدة لتحويل النيوكليوتيدات إلى ARN وتحويل الأحماض الأمينية إلى سلسلة ببتيدية.

إنجاز البحث:

يتم توجيه التلميذ نحو استعمال محركات البحث على شبكة الإنترنت أو الكتب. البحث يعتمد على فكرة التوازن بين الطاقة التي تدخل إلى أجسامنا عن طريق الغذاء والطاقة التي يتم صرفها لغرض أداء الوظائف خاصة منها النشاط العضلي اليومي. عناصر البحث تتركز على:

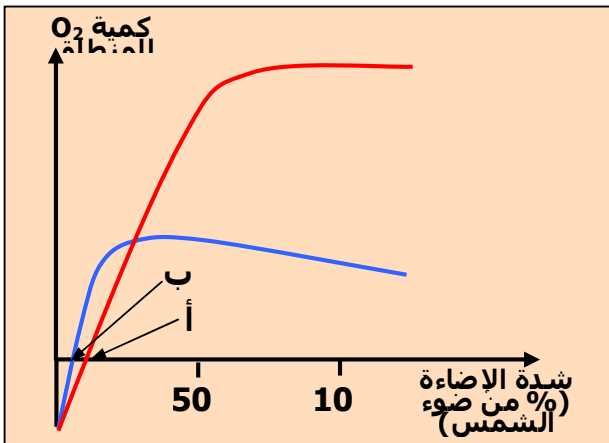
نوع الغذاء والسعرات الحرارية فيه بالإضافة إلى قيمته الغذائية ونوع النشاط الذي يقوم به الفرد يوميا.

الخلل في هذا التوازن يؤدي عادة إلى الزيادة في الوزن وما قد ينتج عن ذلك من أمراض السكر وأمراض الضغط والشرايين والقلب.

أو إلى فقد كبير للوزن مما يتسبب في أمراض سوء التغذية وفقر الدم...

توظيف القدرات:

تمرين 1 : تصحيح للمنحنى (موضع الأسهم غير صحيح في الكتاب)



تمرين 2:

يهدف التمرين إلى طرح وضعية حقيقية إدماجية تتمثل في الفرق بين نباتات الظل والشمس ويتم فيها الربط بين المعارف المكتسبة في التركيب الضوئي والتنفس.

1- يهدف السؤال إلى اختبار قدرة التلميذ على التمييز بين الأكسجين المنطلق (القيم الموجبة) والأكسجين المستهلك (القيم السالبة). أي أنه أثناء النهار يقوم النبات باستهلاك الأكسجين وإنتاج الأكسجين فإذا كانت الكميتان متساويتان يكون الأكسجين المنطلق يساوي الصفر وهو ما تمثله النقطتان أ و ب وتسمى كذلك بنقطة التعويض (تعويض الأكسجين المستهلك بالأكسجين المنطلق)

2- في السؤال الثاني يتم طرح مفهوم نباتات الظل ونباتات الشمس اللذان يتطلبان شدة مختلفة من الضوء وتتأثر نباتات الظل بالإضاءة المرتفعة مما يؤثر سلبا على عملية التركيب الضوئي. لذلك فإن المنحنى بالخط الأزرق يعود لنباتات الظل بينما يعود المنحنى بالخط الأحمر لنباتات الشمس.

3- تحديد الشدة تتم من المنحنى بالإسقاط على محور س . يهدف السؤال إلى لفت الانتباه التلميذ أن النبات قد يستهلك الأكسجين أكثر مما ينتجه مما يعطي قيم انطلاق الأكسجين سالبة. وتحدث هذه الظاهرة أساسا في الليل أو في الضوء الضعيف جدا

تمرين 3:

يهدف التمرين كذلك إلى ربط العلاقة بين عمليتي التركيب الضوئي والتنفس اللتين تمت دراستهما سابقاً.

1- من تحليل المنحنى يخلص التلميذ إلى الاستنتاج أن : في الظلام يتم استهلاك الأكسجين وهو ما يشير إليه انخفاض المنحنيين.

2- في الإضاءة يستمر الانخفاض في الأكسجين المشع لأنه لا يتجدد بينما يرتفع تركيز الأكسجين العادي لأنه يتم تجديده من الوسط عن طريق انطلاق الأكسجين في عملية التركيب الضوئي.

3- في الظلام مرة أخرى

تصويب الأخطاء

183	نفس الشروط التجريبية السابقة	في شروط تجريبية مناسبة
201	تمرين 1 سؤال 2 حل	حلل
202	خطأ في ترقيم الوثائق	وثيقة 4 هي 2 والوثيقة 2 هي 3
203	تمرين 3	تمرين تابع للوحدة 2 من المجال 1
203	تمرين 4 غير مرقم	يرقم ثم يحول إلى الوحدة 2 من المجال 1
225	تم تنمى	تمت تنمية
225	وسط هوائي + محلول غلوكوز	وسط هوائي (أ) + محلول غلوكوز
225	وسط لاهوائي + محلول غلوكوز	وسط لاهوائي (ب) + محلول غلوكوز
233	موقع الأسهم في منحنى التمرين 1	المنحنى مصحح في الدليل

المحتوى المعرفي للمجال (3) : التكتونية العامة

يسمح التعرف على الظواهر الطبيعية الملاحظة على سطح الكرة الأرضية، والمعبرة على النشاط المستمر لباطن الأرض وتسرب الطاقة الداخلية الكامنة نحو الخارج، باقتراح نماذج تفسيرية للحركة الداخلية للأرض ولبنية الكرة الأرضية

تنقسم القشرة الأرضية إلى عشرات الألواح من الصفائح التكتونية، حركاتها دائمة تعبر عن نشاط تكتوني مرتبط أساسا بتسرب الطاقة الداخلية للأرض، تتجسد مظاهرها في حركات تباعد وتقارب للصفائح تسمح هذه الدراسة بإنجاز مخطط شامل لحركة

تعتبر حدود الصفائح التكتونية مناطق نشطة، تنشأ على مستواها تضاريس مميزة، ترتبط أساسا بحركات البناء على مستوى الظهات وسط محيطية، وتجسد أيضا الظواهر المرتبطة بالغوص، تتوج هذه الدراسة بإنجاز مخططات ونماذج لمختلف مراحل تشكل هذه التضاريس

تعتبر دراسة كل من الموجات الزلزالية، والتركيب الكيميائي لكل من القشرة الأرضية والبرنس مؤشرات غير مباشرة للتعرف على بنية الكرة الأرضية، والتي تسمح بالقدرة على نمذجة بنية الكرة الأرضية

المجال الثالث: التكتونية العامة

النص:

تعتبر الظواهر الجيولوجية الملاحظة على سطح الكرة الأرضية الممثلة في تسرب الطاقة الداخلية الكامنة عن النشاط المستمر لباطن الأرض. تمكننا هذه الظواهر من معرفة المكونات الأساسية للمستويات السفلى للأرض من جهة وتفسير مختلف حركات القشرة الأرضية. **الهدف من صور المجال:** تمثل الصور المقترحة مصدر الطاقة الداخلية للأرض والمتمثلة في مستويات الكرة الأرضية وكيفية تسربها نحو خارج الكرة الأرضية من جهة والظواهر الجيولوجية الناتجة عنها كالزلازل والبراكين. ولقد اخترنا في تمثيل ذلك زلزال 21 ماي 2003 بالجزائر وبركان انفجاري من الحزام المحادي للمحيط الهادي والمتمثل في قوس النار.

المكتسبات القبلية:

يذكر الأستاذ التلاميذ بمكتسبات السنة الثالثة متوسط والمتمثلة في دراسة البنية الداخلية للكرة الأرضية، حركات الصفائح التكتونية والظواهر الجيولوجية المرتبطة بهذه الحركات. إن التجزأت التي تحدث على مستوى القشرة الأرضية وتشكل صفائح تتحرك بالنسبة لبعضها البعض ليست وليدة 240 م س، وإنما حدثت منذ المراحل الأولى لتشكل كوكبنا الأرضي. لقد نتج عن الحركة المستمرة للقشرة الأرضية عدة ظواهر جيولوجية مميزة، كتشكل المحيطات والسلاسل الجبلية.

الوحدة 1: النشاط التكتوني للصفائح

النص: يعرف النص الصفيحة التكتونية، وجودها، تقسيماتها وعلاقتها بحدود القارات والمحيطات.

الهدف من صورة الوحدة: تمثل الصورة مجسما لمختلف الصفائح التكتونية المكونة للقشرة الأرضية، أنواع حدودها (متباعدة، متقاربة) وعلاقتها بالزلازل، بالبراكين، بالتضاريس تحت بحرية والسلاسل الجبلية. الآليات المؤدية إلى حركة الصفائح مصادر الطاقة الداخلية كما تمثل الصورة طرق تسربها نحو السطح والعوامل والآليات التي تتدخل في حركتها؟

النشاط 1: تحديد الصفائح التكتونية

وضعية الانطلاق: يهدف النشاط إلى تعريف مفهوم الصفيحة التكتونية وذلك باستغلال خريطة العالم تتوزع عليها الزلازل والبراكين.

النشاط الجزئي 1:

السؤال 1: يهدف السؤال تدريب التلميذ على تنمية تدقيق الملاحظة والاستنتاج، يمكن أن يوجه الأستاذ التلاميذ إلى إنجاز مقارنة بين مناطق توزع الزلازل والبراكين بهدف الوصول إلى تطابق في توزع كل منهما كما يمكن للأستاذ أن يختار نشاط آخر للوصول إلى نفس النتيجة. السؤال 2: يهدف السؤال إلى إيجاد علاقة بين المعطيات لاستخلاص تطابق المناطق الهشة في العالم مع المراكز السطحية للزلازل والبراكين

النشاط الجزئي 2:

يهدف هذا النشاط إلى التعرف على مميزات تضاريس قاع المحيطات والسلاسل الجبلية.

السؤال 1: *يهدف هذا النشاط إلى إيجاد العلاقة بين توزيع البراكين والخنادق والتي تؤدي إلى استخلاص أن المناطق البركانية في وسط المحيط مرتبطة بالسلاسل الجبلية الوسط محيطية (الظهرات) و أن الجزر البركانية تتواجد على مستوى حواف الخنادق البحرية. * كما يهدف هذا الجزء من السؤال إلى إيجاد العلاقة بين توزيع الزلازل الخنادق حيث تتميز المناطق المجاورة للخنادق البحرية وكذا السلاسل الجبلية الحديثة بنشاط زلزالي مميز، يستخلص التلميذ العلاقة بين المناطق الهشة وحدود الصفائح التكتونية.

السؤال 2: يهدف هذا النشاط إلى تنمية قدرة التلميذ على التمثيل التخطيطي

السؤال 3: يهدف السؤال استغلال التلميذ للتمثيل التخطيطي السابق واستنتاج حدود الصفائح التكتونية واستخلاصها أنواعها. من قارية، مشتركة ومحيطية.

السؤال 4: يعلل التلميذ كون داخل الصفائح التكتونية على كونها مناطق هادئة بسبب عدم وجود الزلازل والبراكين.

النشاط 2: حركات الصفائح التكتونية

وضعية الانطلاق: يعاين زحزحة القارات من خلال دراسة العلاقة بين قارتين كانتا في الأصل ملتصقتان.

I-حركات التباعد:

النشاط الجزئي 1:

- 1- يهدف السؤال إلى تنمية دقة الملاحظة عند التلميذ.
- 2- يستعمل التلميذ دقة الملاحظة ويستنتج تطابق الحواف الشرقية لأمريكا الجنوبية والحواف الغربية لإفريقيا.

النشاط الجزئي 2:

يستدرج الأستاذ التلميذ من خلال معاينة حواف قارتي إفريقيا وأمريكا الجنوبية من جهة والصخور القديمة التي يزيد عمرها عن 240 م س من جهة ثانية للوصول إلى أن القارات كانت كتلة واحدة وانشطرت عن بعضها البعض خلال الأزمنة الجيولوجية.

النشاط الجزئي 3:

أ – دراسة المغنطة الأرضية:

السؤال 1: يستسقي التلميذ المعلومات ويصيغ فرضيات وذلك بتحليل وثائق تدل على حركة القشرة المحيطية حيث يدرس بعض المفاهيم الأولية حول الحقل المغناطيسي الأرضي التي تم تناولها في الفيزياء (السنة الثانية ثانوي).

يستنتج التلميذ أن هذا الحقل متغير بدلالة الزمن حيث أن يكون موجبا (يتوافق مع الحقل المغناطيسي الحالي ويكون اتجاهه من الجنوب نحو الشمال) أو سالبا (عكس الحقل المغناطيسي الحالي ويكون اتجاهه من الشمال نحو الجنوب).

تعتمد في تحديد الحقل المغناطيسي المستحاثي على معدن المغنيتيت المتواجد في صخور البازلت المكونة للقشرة المحيطية.

يتكون معدن المغنيتيت من حديد (Fe_3O_4) ويكون على شكل إبر تأخذ اتجاه الحقل المغناطيسي الأرضي عندما تصل درجة حرارة الماغما $570^{\circ}C$ (نقطة توري) حيث يحافظ هذا المعدن على اتجاه الحقل المغناطيسي الأرضي المستحاثي إذ لم يتعرض إلى تسخين عال.

السؤال 2: يستعمل التلميذ تقنية الملاحظة ويستنتج عدم تطابق اتجاه القطب المغناطيسي الأرضي والقطب الجغرافي الأرضي

ب- مغنطة قاع المحيطات:

يطبق التلميذ المفاهيم الفيزيائية المتعلقة بالمغنطة على صخور قاع المحيطات، والمثال المقدم يتعلق بصخور المحيط الأطلسي.

تقع المنطقة المدروسة جنوب مدينة إسلندا على مستوى الظهر وسط محيطية، حيث تم وضع منحنيات لقياس المغنطة المستحاثية (موجبة بالأسود وسالبة بالأبيض) نستنتج من خلال هذه المعطيات ما يلي:

السؤال 1: يستعمل التلميذ تقنية الملاحظة ويستنتج تناوب الأحزمة البيضاء والسوداء، يدل على أن الحقل المغناطيسي الأرضي متغير عبر الزمن.

السؤال 2: يستقصي التلميذ المعلومات ويجد علاقة بين المنحني العادي المأخوذ على جانبي الظهر مع نفس المنحني مقلوب نلاحظ تطابق تام معناه أنه وجد تناظر للمنحنيين. السؤال 3: يصيغ التلميذ فرضيات حول كيفية تشكل قاع المحيط الذي تقسمه أحزمة من الصخور الممغنطة المتماثلة والمتناظرة على جانبي الظهر، وأن عمر هذه الصخور يزداد كلما ابتعدنا عن محور الظهر، ومن خلال ذلك يكون قاع المحيط في توسع مستمر.

ج- تحديد عمر الصخور الرسوبية المكونة لقاع المحيطات:

السؤال 1: ينجز التلميذ تركيب للحوض الرسوبي من خلال المضاهة ويستنتج شكل الحوض الرسوبي على أحد جانبي الظهر، حيث أنه كلما ابتعدنا من محور الظهر كلما زاد سمك الرسوبات.

السؤال 2: يستقصي التلميذ المعلومات ويجد علاقة بين تغير المغنطة شاقوليا و بالعمر، حيث أنه كلما ابتعدنا عن محور الظهر زادت الطبقات الرسوبية و تغيرت المغنطة من جهة وزاد معها عمر الطبقات من جهة أخرى.

السؤال 3: يصيغ التلميذ فرضيات حول غياب الطبقات السفلى في البئرين 2 و 3 الذي يعود إلى عدم توضعها لكونها تشكلت حديثا.

* تفسر كل هذه النتائج التوسع المستمر الملاحظ على مستوى قاع المحيط الأطلسي.

II – حركات التقارب:

يطرح إشكالية عواقب التوسع المحيطي على مستوى الكرة الأرضية ، علما أن حجم القشرة القارية ثابت .

النشاط الجزئي 1:

السؤال 1: يستعمل التلميذ دقة الملاحظة يستنتج من خلال تحليل الوثيقة (أ8) أن كل تباعد على مستوى الظهرات يقابله هدم على مستوى مناطق معينة وتنتج عنه ظاهرة الغوص التي تنشأ عنها مجموعة من التضاريس ممثلة بالأرقام (1، 2، 3) في الوثيقة (ب8).

يدل (1) على اللوح القاري.

يدل (2) على السلسلة الجبلية المحادية لمنطقة الغوص.

يدل (3) على اللوح المحيطي.

السؤال 2: يجد التلميذ علاقة بين مستوى تواجد القشرة المحيطية والقشرة القارية حيث يلاحظ أنه يتشكل خندق بحري عندما تغوص الأولى تحت الثانية.

يقترح التلميذ فرضية تتمثل بمميزات مناطق الغوص، وبعين توزيعا جغرافيا .

السؤال 1: يستعمل التلميذ دقة الملاحظة باستغلال الوثيقة (9) ويحدد موقع بلد السلفادور وخواص هذه المنطقة تكتونيا.

السؤال 2: يستقصي التلميذ معلومات من خلال دراسة الوثائق 9 ، 10 و 11 ويستخلص أن مناطق الغوص تتميز بنشاط زلزالي وبركاني كبيرين.

السؤال 3: يستعمل التلميذ دقة الملاحظة ويستنتج أن الإكوادور تتميز ببراكين انفجارية

السؤال 4: يستعمل التلميذ دقة الملاحظة ويستنتج أن حدود الصفائح تتميز بتوزيع بركاني مهم.

النشاط الجزئي 2:

تعتمد دراسة مخطط بنيوف على توزيع المراكز السطحية للزلازل في مناطق الغوص، حيث يمكن من خلالها استنتاج مستوى دخول الصفيحة الغائصة تحت الصفيحة الطافية. وتحديدًا لهذا المستوى ندرس على سبيل المثال جبال الأنديز (بأمريكا الجنوبية) حيث يدل توزيع المراكز السطحية للزلازل على وجود منطقة نشطة تنطبق مع حدود الألواح التكتونية. السؤال 1: يستقصي التلميذ المعلومات المبينة في الوثيقة 12 ويستنتج أن توزيع المراكز السطحية للزلازل يدل على أحد حدود الصفائح التكتونية. السؤال 2: يستقصي التلميذ المعلومات المبينة في الوثيقة 9 ويتعرف على الألواح. السؤال 3: يستعمل التلميذ دقة الملاحظة في دراسة توزيع المراكز السطحية للزلازل ويستخلص أن المراكز السطحية للزلازل العميقة تكون داخل القارة والمراكز السطحية للزلازل السطحية تكون قريبة من حدود الصفيحة (في البحر)، أي أنه كلما ابتعدنا من حدود الصفيحة كلما زاد عمق بؤر الزلازل. السؤال 4: يستعمل التلميذ دقة الملاحظة في توزيع البؤر الزلزالية ويستنتج أنها تشكل مستوى يمتد انطلاقًا من الحد الفاصل بين اللوح الطافي واللوح الغائص في اتجاه اللوح الطافي.

- يصيغ التلميذ فرضيات وذلك باقتراح تفسيرًا للتخلص من المواد الزائدة التي تنشأ على مستوى مناطق البناء عقب التوسع المحيطي على مستوى الكرة الأرضية ويجب على الإشكالية المطروحة في بداية النشاط

• النشاط 3: الطاقة الداخلية للكرة الأرضية

وضعية الإنطلاق: يذكر الأستاذ التلميذ بالمعارف السابقة المتمثلة في أنواع الصفائح التكتونية وحركتها بالنسبة لبعضها البعض، حيث تكون هذه الحركة تباعدية أو تقاربية. يطرح إشكالية حول تحديد المستوى الذي تتركز عليه الصفائح التكتونية والدافع المؤدي إلى حركتها.

النشاط الجزئي 1:

السؤال 1: يستقصي التلميذ المعلومات ويستخلص من الوثيقة (1) أنواع هذه الصفائح ومختلف الحركات المرتبطة بحدودها، حيث تمثل الأرقام:
(1) : صفيحة محيطية.
(2): ظهرة وسط محيطية (منطقة تباعد).
(3) : نقطة ساخنة (مكان تسرب الطاقة) (4): بركان مرتبط بمنطقة غوص، وهو مكان تسرب الطاقة الداخلية للكرة الأرضية.

السؤال 2: يستعمل التلميذ دقة الملاحظة ويحدد أنواع الصفائح التكتونية.
1- صفيحة قارية.
2- صفيحة مشتركة (قارية أو محيطية).
3- صفيحة محيطية.

السؤال 3: يستعمل التلميذ دقة الملاحظة ويستنتج أن الطاقة الداخلية للأرض يمكنها أن تتسرب انطلاقًا من الظهيرات وسط محيطية على شكل حمم بركانية أو بواسطة المياه الساخنة التي تظهر على سطح الأرض محملة بالمعادن الثمينة.
السؤال 4: يستغل التلميذ المعطيات المبينة في الوثيقة 2 ويستنتج أن الطاقة الداخلية للأرض تزيد بزيادة العمق.

النشاط الجزئي 2:

السؤال 1: نذكر التلميذ ببعض المعارف الأساسية في فهم الطاقة الداخلية للأرض والمتمثلة في منحني الجيوحراري الأرضي المتمثل في الوثيقة (3)، حيث نستنتج من خلاله أن الحرارة الباطنية للأرض تزيد بزيادة العمق.


السؤال 2: يحلل التلميذ جدولتي الوثيقتين (4 و 5) ويستنتج أن التدفق الحراري الأرضي يمكن أن ينتج عن الزيادة في العمق أو عن تحلل العناصر المشعة الموجودة في كل من القشرة القارية والقشرة المحيطية والبرنس الأرضي.

السؤال 3: يحسب التلميذ الطاقة الإجمالية المنبعثة من القشرة الأرضية (قارية + محيطية) = $10^{12} \times 21.3$ ، والطاقة الإجمالية المنبعثة من تحلل العناصر المشعة في كل من القشرة الأرضية والبرنس = $10^{12} \times 6.36$.

تستنتج أن التدفق الحراري الناتج عن صخور القشرة الأرضية أكبر بكثير من التدفق الحراري الناتج عن تفكك العناصر المشعة.

السؤال 4: يستنتج التلميذ أن التدفق الحراري ينتج زيادة درجة الحرارة مع العمق وصعود المواد الحارة من الأعماق نحو السطح.

النشاط الجزئي 3:



ينجز التلميذ تراكيب تجريبية حيث يظهر دور تيارات الحمل في حركة الصفائح التكتونية.

يبين منحني التدرج الحراري (الجيوحراري) الأرضي (الوثيقة 3 عن النشاط السابق) وجود مجموعة من المستويات الأرضية مختلفة من الناحية الفيزيائية وهي: المستوى الأول: يمتد على عشرات الكيلومترات المستوي الثاني: يقع تحت المستوى الأول ويمتد إلى عمق 2900 كلم. المستوى الثالث: يمتد من 2900 كلم إلى 5750 كلم. المستوى الرابع: يمتد من 5750 كلم إلى مركز الأرض (6400 كلم).

بينت الدراسات المباشرة للأرض أن المستوى الأول ذي طبيعة فيزيائية صلبة أما المستوى الثاني فيتكون من صخور صلبة ذات سلوك مطاطي حيث يتشوه بسرعة نوعية تقدر بـ 1سم/ سنة.

الهدف من التجربة المقترحة هو محاكاة تشوهات هذا الجسم الصلب ذي السلوك المطاطي واستنتاج الظواهر الجيولوجية المرتبطة بها. يعود سبب اختيار زيتين العلياً ذات كثافة منخفضة والسفلى ذات كثافة عالية إلى التقرب أكثر من المستوى الأول والثاني للككرة الأرضية.

السؤال 1: يلاحظ التلميذ أن قطعتي الخشب انتقلت في اتجاهين متعاكسين.

السؤال 3: يقدم التلميذ تفسيراً للظاهرة حيث يلاحظ أن الزيت السفلي الثقيلة تمددت بفعل الحرارة ثم صعدت نحو الأعلى وعند ملامستها الوسط الخارجي ازدادت كثافتها فبدأت في الهبوط نحو أسفل الإناء.

السؤال 4: يحلل التلميذ نتائج التجربة حيث يلاحظ أنها تتوافق مع ما يحدث بالنسبة الألواح التكتونية عندما تصعد تيارات الحمل وتصطدم بالمستويات العلياً الباردة فإنها تتحرك في اتجاهين متعاكسين وتنقل معها الصفائح التكتونية.

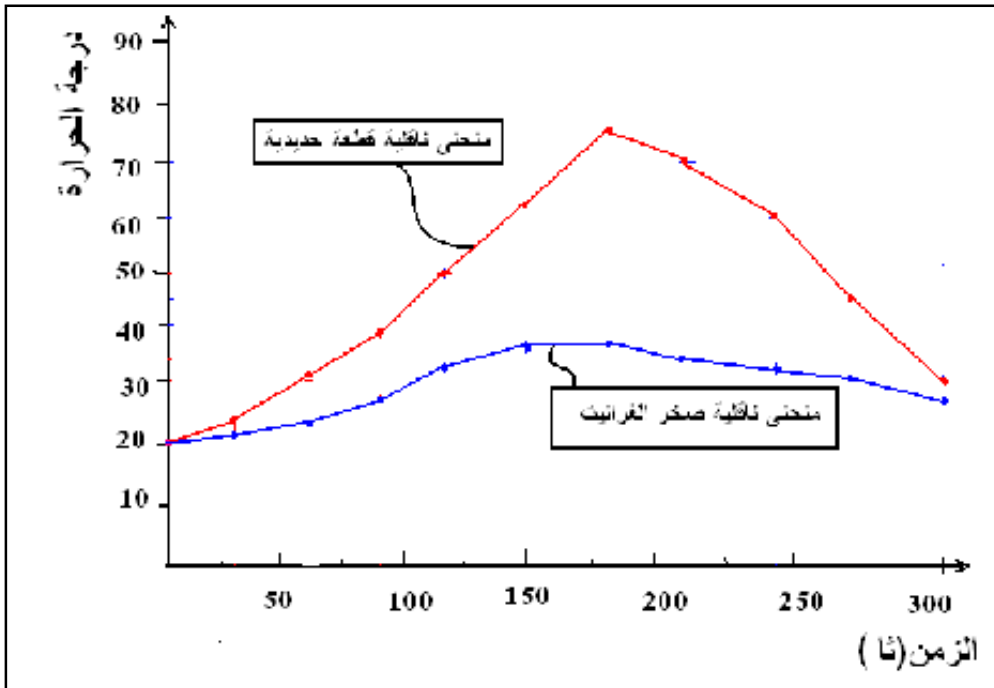
النشاط الجزئي 4:

يمكن تطبيق هذه التجربة على المستوى الثاني للكرة الأرضية حيث تم وضع نماذج بالكمبيوتر موافقا بين الحركات التباعدية وصعود المواد من جهة والحركات التقاربية على مستوى الغوص وهدم (نزول المواد) من جهة ثانية كما هو مبين في الوثائق (8، 9، 10).
 السؤال 1: يستعمل التلميذ دقة الملاحظة حيث يلاحظ الاختلاف في درجة الحرارة بين المستويات السفلى والعليا للبرنس والمؤدي إلى صعود تيارات الحمل على مستوى الظهراء ونزولها على مستوى مناطق الغوص.
 السؤال 2: يستعمل التلميذ دقة الملاحظة حيث يلاحظ تطابق البقع الحمراء والصفراء مع مناطق التدفق الحراري العالي على مستوى الظهراء.
 السؤال 3: يستعمل التلميذ دقة الملاحظة حيث يلاحظ توزع هذه المناطق جغرافيا في وسط المحيط الأطلسي والمحيط الهادي.

النشاط الجزئي 5:

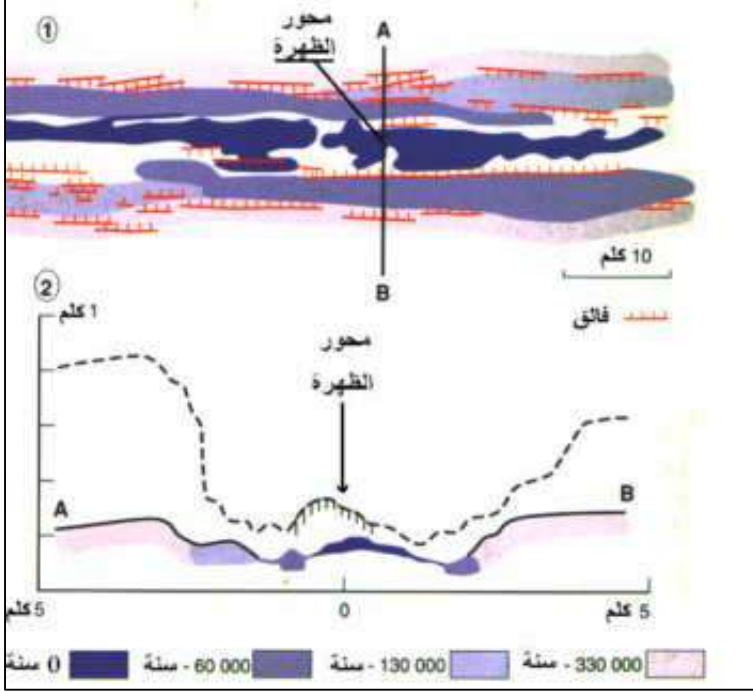
السؤال 3: يقوم التلميذ بتحليل المنحنيين حيث يستنتج أن القطعة الحديدية تكتسب الحرارة بسرعة وتفقدتها بسرعة بينما الصخور تكتسب الحرارة ببطئ وتفقدتها ببطئ.
 السؤال 4: يستقصي التلميذ معلومات حيث يستنتج أن الصخور ناقل سيئ للتدفق الحراري.

الزمن بالثانية											درجة الحرارة
300	270	240	210	180	150	120	090	60	030	0	
30	45	60	70	75	62	50	39	31	25	20	قضيبي حديدي
28	30	32	34	35	31	28	25	22	21	20	صخر ناري أو صخر متحول



تمارين الوحدة 1 من المجال الثالث

التمرين 1:



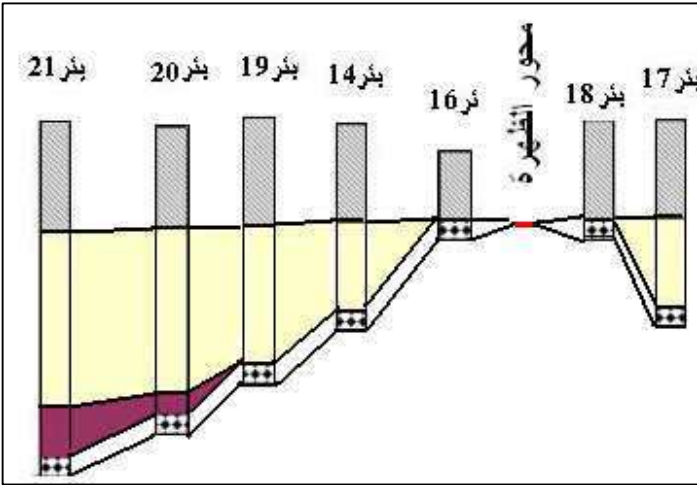
- 1- محور الظهرة ممثل على الخريطة والمقطع.
- 2- تتوزع الصخور البركانية بالتناظر بالنسبة لمحور الرفت حيث يزيد عمرها كلما ابتعدنا منه
- 3- مصدر التراكيب التدريجية المبينة في المقطع A-B هو الفوالق العادية.
- 4- نلاحظ وجود تشابه بين المنحنى AB والمنحنى المأخوذ من ظهرة المحيط الأطلسي، الإختلاف الوحيد هو شكل التضاريس حيث تكون تضاريس المحيط الأطلسي كبيرة بالمقارنة مع تضاريس ظهرة «GLAPAGOS» ويعود هذا إلى الإختلاف في العمر.

التمرين 2:

- 1- تكون آثار الرسوبات القريبة من الظهرة قليلة السمك وغير كاملة وتكون الرسوبات البعيدة عن الظهرة كبيرة السمك وكاملة.
- 2- تكون الرسوبات البعيدة عن الظهرة ذات عمر كبير وتكون الرسوبات القريبة من الظهرة ذات عمر صغير
- 3- تدل مختلف الآبار الموزعة على جانبي الظهرة على توسع قاع المحيط مع مرور الزمن.

التمرين 3:

- 1- انطلاقا من الخريطة ودليلها نستنتج أن الظهرات وسط محيطية تعتبر مناطق تسرب الطاقة بشكل كبير.
 - 2- تعتبر مناطق الغوص أماكن تسرب الطاقة بشكل منخفض.
 - 3- التدفق الحراري = الجيوحراري × ناقلة الحرارة للصخور.
 - 3- الأماكن التي يكون فيها التدفق الحراري أكبر من 0.06 واط/م² هي الظهرات وسط محيطية.
 - 4- الأماكن التي يكون فيها التدفق الحراري أصغر من 0.06 واط/م² هي مناطق الغوص.
- المصادر الأساسية للتدفق الحراري الأرضي هي القشرة الأرضية والبرنس وتنتج عن التدفق الحراري الناتج عن الصخور من جهة والتدفق الحراري الناتج عن تفكك العناصر المشعة التي تدخل في تكوين القشرة والبرنس.



الطاقة المنبعثة(واط)	الطاقة المنبعثة (واط/كلم ³)	الحجم (كلم ³)	
3150×10^9	1700	$10^9 * 4.5$	القشرة القارية
1200×10^9	300	$10^9 * 4$	القشرة المحيطية
21600×10^9	30	$10^9 * 920$	البرنس
0	0	$10^9 * 180$	النواة
$10^{12} * 36.45$	الطاقة الكلية المنبعثة عن تفكك النظائر المشعة بالواط		
$10^{12} \times 62.4$	الطاقة الكلية		

التمرين 4:

تمثل الأرقام المبينة في الرسم ما يلي:

- (1) : ظهرة وسط محيطية
(2): لوح محيطي
(3): قشرة محيطية
(4): خندق بحري.
(5): سلسلة جبلية
(6): نقاط ساخنة.
(7): برنس علوي
(8): منطقة غوص.
(9): فالق تحويلي.

عنوان الرسم: رسم تخطيطي يبين أنواع الألواح التكتونية وحدودها.

التمرين 5:

تمثل الأرقام المبينة في الرسم ما يلي:

- (1) : قشرة محيطية
(2) : ظهرة وسط محيطية
(3): منحنى المغناطيسية المقاسة
(4): .مستوى الصفر
(5): منحنى تفسيري للمغناطيسية
(6): مغناطيسية موجبة
(7): مغناطيسية سالبة.

الوحدة 2: بنية الكرة الأرضية

الهدف التعليمي: يقترح نموذج تفسيري لبنية الكرة الأرضية انطلاقاً من معطيات زلزالية والتركيب الكيميائي للمستويات الداخلية للكرة الأرضية.

النص: بينت مختلف الدراسات أن الكرة الأرضية متمايضة، تتكون من عدة مستويات مختلفة، تختلف من الناحية الكيميائية والفيزيائية.

الصورة: تظهر الصورة مجسم لمختلف المستويات المكونة للكرة الأرضية.

النشاط 1: الموجات الزلزالية.

النشاط الجزئي 1:

السؤال 1: يستقصي التلميذ المعلومات حول تسجيل الموجات الزلزالية وأنواع أجهزة السيسمومتر حيث يلاحظ وجود نوعين: السيسمومتر الأفقي: ينصب وفق اتجاهين متعامدين (س/ج)، (ق/غ). السيسمومتر العمودي.

يعود سبب تركيب السيسمومتر وفق هذه الاتجاهات وذلك لتسجيل الحركات الأفقية التي تكون في اتجاهين والحركات العمودية التي تكون في اتجاه واحد.

السؤال 2: يتعرف التلميذ على مكونات محطة زلزالية التي تتكون من سيسموغراف + يتكون السيسمومتر من مشفر وملتقط بينما يتكون السيسموغراف من سيسمومتر + مضخم ومسجل.

النشاط الجزئي 2:

السؤال 3: يقوم التلميذ بتحليل الوثيقة (4) حيث يلاحظ أن الموجات P تصل الأولى إلى محطة التسجيل الأولى ثم تليها الموجات S ثم تصل بعد ذلك الموجات R + L. كما يلاحظ أن سعة الموجات P أقل من سعة الموجات S وتكون سعة هذه الأخيرة أقل من سعة الموجات L+R.

السؤال 4: يقوم التلميذ بتحليل الوثائق 4 و5 ويستنتج من المنحنيات أنه كلما كانت سعة الموجات صغيرة كانت سرعة الموجات أكبر، وكلما كانت سعة الموجات كبيرة كلما كانت سرعة الموجات أصغر وكلما كانت السعة كبيرة كلما كانت قوة التدمير كبيرة.

السؤال 5: رسم

السؤال 6: يقارن التلميذ بين تسجيلي الوثيقة (5) حيث يلاحظ أن زمن وصول الموجات الزلزالية مختلف حسب المحطات حيث أن الموجات الزلزالية وصلت إلى زمبيا قبل أمريكا ومن هنا نستنتج أن زمن الوصول مرتبط بالمسافة كلما زادت المسافة زاد زمن الوصول.

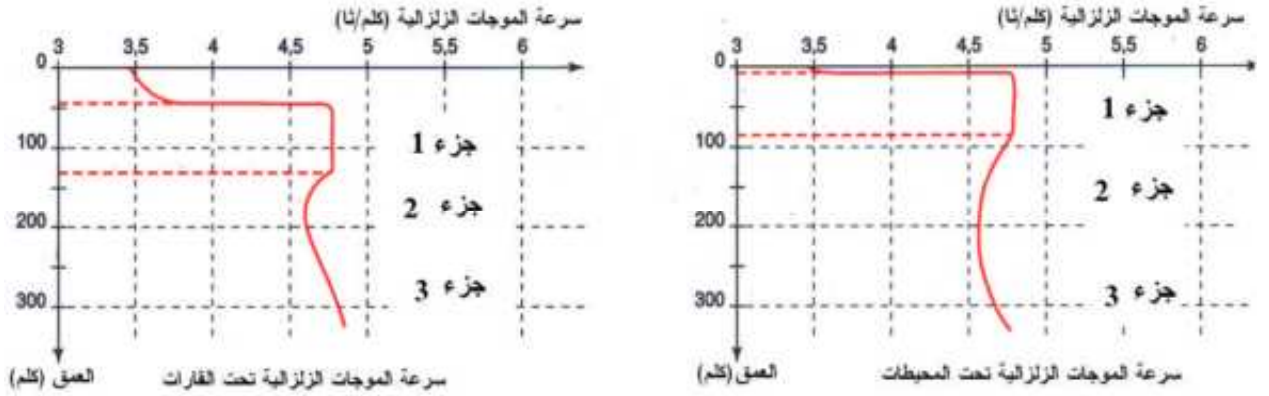
النشاط الجزئي 3:

السؤال 1: يستعمل التلميذ دقة الملاحظة حيث يلاحظ أن الموجات الزلزالية P تنتشر في نفس اتجاه حركة جزيئات المادة بينما تنتشر الموجات S في اتجاه متعامد لحركة جزيئات المادة.

السؤال 5: يستعمل التلميذ دقة الملاحظة ويستنتج من خلال معاينة إنتشار الموجات الزلزالية بإستعمال المبرمج seismicwaves أن هذه الأخيرة غير منتظمة داخل الكرة الأرضية.

تتوافق هذه التذبذب مع التغيرات في سرعة انتشار الموجات الزلزالية الموضحة في الوثيقة (12 ب).

السؤال3: يفسر التلميذ معطيات الوثيقة (13) حيث يستنتج أن الحالة الفيزيائية للمادة في الجزء (1) تختلف عنها في الجزء (2) وتختلف عنها في الجزء (3)، حيث تكون المادة في الجزء (1) صلبة، وفي الجزء (2) انتقالية وفي الجزء (3) مطاطية. باستغلال نتائج المقارنة السابقة نستخلص أن الحالة الفيزيائية للمواد تؤثر في سرعة الموجات الزلزالية



حيث تبين المنحنيات المقترحة ثبات في الجزء 1 وإنخفاض في الجزء (2) وتزايد في الجزء (3).

*يستخلص التلميذ من خلال هذه التغيرات أن سرعة الموجات الزلزالية تتغير بتغير الحالة الفيزيائية للمادة وهذا ما يؤدي إلى ظهور مجموعة من الإنقطاعات داخل الكرة الأرضية. يقع الإنقطاع الأول على عمق أقل من 100 كلم وهو ممثل في الوثيقة (A12) حيث يفصل بين القشرة الأرضية الممثلة بالمستوى الأول والمستوى الثاني الممثل بالبرنس الأرضي. يقع الإنقطاع الثاني على عمق 150 كلم ويفصل بين الجزء الصلب والجزء المطاطي في المستوى الثاني (البرنس)، ويقع الإنقطاع الثالث على عمق 2900 كلم ويفصل بين البرنس والنواة الأرضية.

- تنقسم القشرة الأرضية إلى قارية ومحيطية.
- ينقسم البرنس إلى جزئين علوي وسفلي وينقسم الجزء العلوي إلى برنس ليتوسفيري وبرنس أستينوسفيري.
- وتنقسم النواة إلى جزء خارجي وجزء داخلي.

النشاط2: التركيب الكيميائي لصخور القشرة الأرضية والمعطف (البرنس)

وضعية الانطلاق: يذكر الأستاذ التلميذ بأهم أنواع الصخور المكونة للقشرة الأرضية وأصلها.

النشاط الجزئي 1:

السؤال1: يستعمل التلميذ دقة الملاحظة ويستنتج أن الغرانيت والقاطع يدل على الصخور النارية ويدل الغنايس على الصخور المتحولة كما يدل: الغضار، الكونغلوميرا والحجر الرملي على الصخور الرسوبية.

كما يمكنه من خلال تحليل المجسم استنتاج أهم مراحل تشكل الصخور:

- 1- توضع الطبقات المائلة (السفلي).
- 2- تداخل ناري يؤدي إلى انصهار الصخور المستقبلية ويتشكل الصخور المتحولة.
- 3- تعرية.
- 4- توضع الصخور الرسوبية العليا الأفقية.

النشاط الجزئي 2:

- 1- يتعرف التلميذ على الأماكن التي يمكن إجراء زيارة ميدانية لها وذلك من خلال دراسة الخرائط المقترحة.
- 2- يقوم التلميذ باستعمال تقنيات معينة لتحديد مكان الرحلة وكيفية اقتناء عينات

النشاط الجزئي 3:

- يتعرف التلميذ على خصائص بعض المعادن المكونة للصخور التي ستتم دراستها فيما بعد (3) الدراسة المخبرية
- السؤال 1: يستعمل التلميذ دقة الملاحظة ويستنتج من خلال المقارنة بين التركيب المعدني النسيجي لصخور الغرانيتويد (الغرانيت) البازلت والبيريديوتيت أن الصخور ذات النسيج البلوري (غرانيت + بيريديوتيت) بينما الصخور ذات النسيج الميكروليني (معادن دقيقة + زجاج بركاني).
- السؤال 2: يوظف التلميذ نتائج السؤال السابق ويستنتج أن الغرانيت والبيريديوتيت يبردان ببطء في الأعماق وأن البازلت يبرد بسرعة على السطح.

النشاط الجزئي 4:

- السؤال 1: يحلل التلميذ مختلف أكاسيد الصخور المكونة لكل من الغرانيتويد (الغرانيت)، البازلت والبيريديوتيت ويستنتج أن:
- الغرانيت غني بالسيليس والألمنيوم وفقير بالحديد والمغنيزيوم.
 - البازلت فقير بالسيليس وغني بالألمنيوم، الحديد، المغنيزيوم والكالسيوم.
 - البيريديوتيت: فقير بالسيليس والألمنيوم وغني بالحديد كما هو غني جدا بالمغنيزيوم.
 - يشكل الغرانيتويد المكون من سليكات الألمنيوم (Sial) القشرة القارية.
 - ويشكل البازلت المكون من سليكات المغنيزيوم (SIMA) القشرة المحيطية.
 - يشكل البيريديوتيت المكون من سليكات المغنيزيوم والحديد في البرنس الأرضي.
- السؤال 2: يستنتج التلميذ باستغلال نسب العناصر الكيميائية أن الصخور الغنية بسليكات الألمنيوم فاتحة وأن الصخور الغنية بالمغنيزيوم والحديد عاتمة (البازلت + البيريديوتيت).
- يستنتج باستغلال الخصائص المعدنية أن المعادن الغنية بالسيليس والألومينيوم (كوارتز + الفلسبار + البلاجيوكلاز) تكون القشرة القارية وأن المعادن الغنية بالمغنيزيوم والحديد (الأوليفين + البيروكسين) تكون القشرة المحيطية والبرنس الأرضي.

النشاط 3: نمذجة السنة الداخلية للكرة الأرضية

- وضعية النطلاق:** يستعين التلميذ بالقوانين الفيزيائية كالضوء مثلا لفهم بعض الظواهر الجيولوجية حيث يتم نمذجة انعكاس وانكسار الموجات الزلزالية داخل الكرة الأرضية التي تسمح من تحديد الإنقطاعات الداخلية للكرة الأرضية.

النشاط الجزئي 1 و 2:

- السؤال 1: يستنتج التلميذ قانون انعكاس الضوء: تكون زاوية الورود مساوية لزاوية الإنعكاس عندما ينتشر شعاع الضوء في نفس الوسط .
- يستنتج التلميذ قانون انكسار الضوء: تكون زاوية الانكسار غير مساوية لزاوية الورود عندما ينتشر شعاع الضوء في وسطين مختلفين ويكون القانون كالتالي:
- $$N_1 \sin i = N_2 \sin r$$
- السؤال 2: يستنتج التلميذ مفهوم الانعكاس والانكسار حيث أن كل شعاع ضوئي ينتقل من وسط إلى وسط ثان يتعرض جزء منه إلى انعكاس وينكسر الجزء الآخر داخل الوسط الثاني

السؤال 2: يستعمل التلميذ دقة الملاحظة و يلاحظ أن جزء من شعاع الليزر ينعكس عندما يصطدم بقعر حوض الماء والجزء الآخر يخترق القعر ثم ينكسر وتكون زاوية الإنكسار مختلفة عن زاوية الورود.

النشاط الجزئي 3:

- ينجز التلميذ التركيب التجريبي ثم يقوم بتحليل النتائج:
- السؤال 1: يحلل التلميذ مسار شعاع الليزر في تركيب الوثيقة 4 ويلاحظ أنه يسجل كاملاً عندما يخترق وسط متجانس دون أن ينعكس أو ينكسر.
- السؤال 2: يحلل التلميذ مسار شعاع الليزر في تركيب الوثيقة 5 حيث يلاحظ أن جزء من شعاع الليزر ينعكس وجزء آخر ينكسر وذلك وفق قانون ديكارت.
- كما يلاحظ التلميذ أن شعاع الليزر لم يسجل كله على سطح العلية الكبيرة في الوثيقة 5.
- السؤال 3: يقوم التلميذ بقياس الزاوية المسجلة بين آخر شعاع منعكس ومنبع شعاع الليزر المقدر بـ: 103
- السؤال 4: يقوم التلميذ بقياس الزاوية المسجلة بين أول شعاع منكسر ومنبع شعاع الليزر المقدر بـ: 42.
- 1- يعلل التلميذ غياب شعاع الليزر بين زاوية 103° و 142° إلى الانتقال من وضعية الإنعكاس إلى وضعية الإنكسار ويدل هذا على وجود وسطين مختلفين.

النشاط الجزئي 4:

- السؤال 1: يستغل التلميذ نتائج النمذجة التي بينت اختفاء لأشعة الليزر في حالة وجود وسطين مختلفي القرينة حيث تتشكل منطقة ظل، تتوافق مع الملاحظة التي تتم على مستوى انتشار الموجات الزلزالية (P) أين تختفي هذه الأخيرة على مستوى حزام يقع على بعد 11500 كلم و 14500 كلم من مركز الزلزال.
- السؤال 2: يحلل التلميذ الوثيقة 6 ويعاين التغير المفاجئ على مستوى الموجات (P) على مستوى الإنقطاع الذي يقع على عمق 2900 كلم.
- السؤال 3: يحلل التلميذ الوثيقتين 7 و 8 ويستنتج وجود حزام الظل على الغلاف الخارجي للكرة الأرضية، ومنطقتي ظل في المقطع.

النشاط الجزئي 5:

- السؤال 1: يحلل التلميذ الوثيقة (9) التي تبين سرعة انتشار الموجات الزلزالية (P) في المستويات الداخلية للكرة الأرضية حيث يلاحظ وجود إنقطاعين رئيسيين الأول في 2900 كلم والثاني في 5800 كلم وكما يظهر منحني انتشار الموجات الزلزالية (S) اختفاء بين عمق 2900 كلم و 5800 كلم.
- السؤال 2: يستعمل التلميذ دقة الملاحظة ويستنتج من التحليل أن الكرة الأرضية تتكون من ثلاث طبقات رئيسية
- السؤال 3: بالاستعانة بخاصية انتشار الموجات الزلزالية في الأوساط نستنتج أن البرنس الأرضي له طبيعة فيزيائية صلبة والنواة الخارجية لها طبيعة فيزيائية سائلة والنواة الداخلية لها طبيعة فيزيائية صلبة.
- السؤال 4: نستنتج التلميذ من تحليل الوثيقة (10) عدم تجانس البرنس حيث يظهر منحني سرعة انتشار الموجات الزلزالية (P) تغير على عمق 400 كلم وتغير ثاني على عمق 680 كلم، ويرجع ذلك إلى تغيير المعادن المكونة لهذا المستوى.

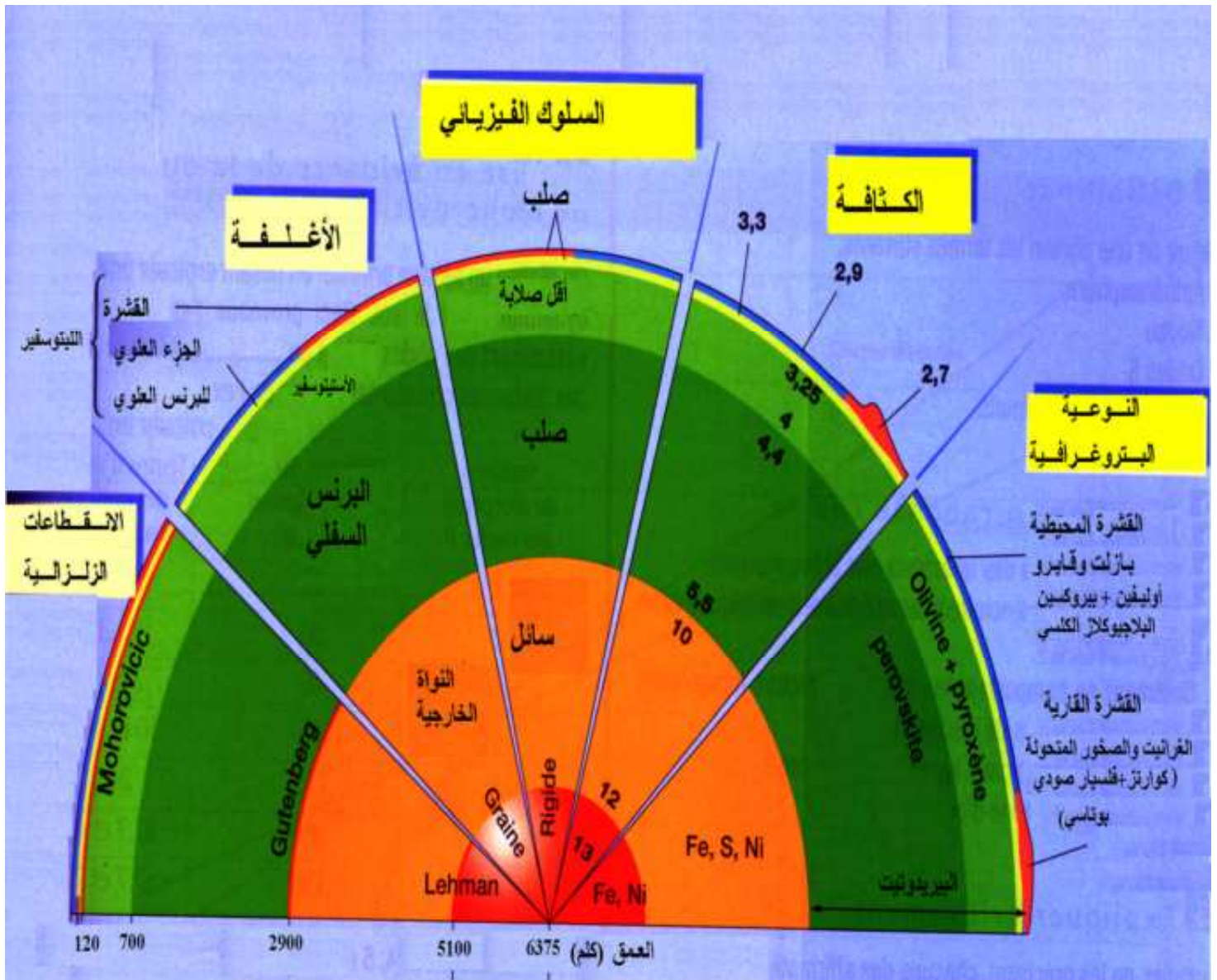
النشاط الجزئي 6:

- السؤال 1: يقوم التلميذ بتحليل العناصر الكيميائية للأرض والنيازك ويستنتج تماثلها وأنهما من نفس الأصل ولكنهما يختلفان في كون الأرض متميزة إلى مجموعة من المستويات وأن الكوندرت (الممثل الأساسي للنيازك) غير متميز.

السؤال 2: يستنتج التلميذ من الوثيقة 12 أن منحني السيلكات والمغنيزيوم يقعان في مجال البرنس وأن منحني الحديد والنيكل يقعان في مجال النواة الأرضية. ويستخلص أن البرنس مكون من سيليكات الحديد والمغنيزيوم وأن النواة تتكون من النيكل والحديد

1- يستنتج التلميذ من خلال 1 و 2 أن البرنس يتكون من مادة عازلة (سيليكات، مغنيزيوم) وأن النواة تتكون من مواد ناقلة (حديد ونيكل)، يتوافق هذا الطرح مع كون النواة الأرضية مولدة للحقل المغناطيسي الأرضي كونها سائلة حيث تنتج عنها تيارات الحمل.

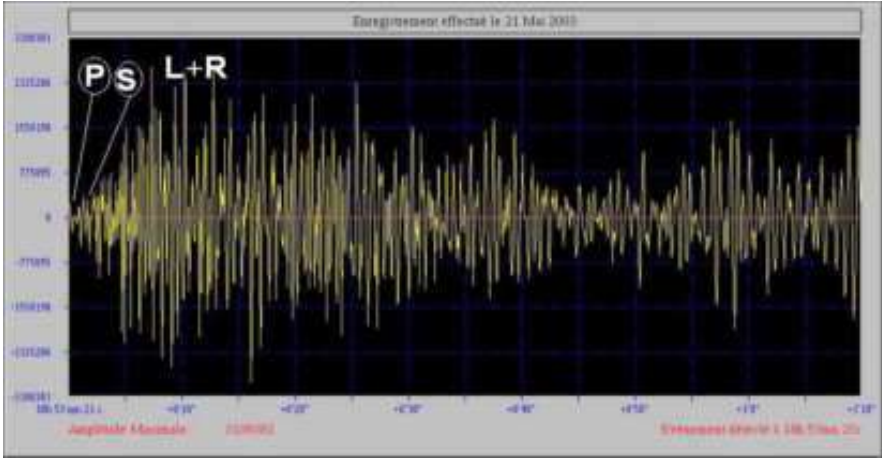
المخطط التحصيلي (الصفحة 279 من الكتاب):



تمارين الوحدة 2 من المجال الثالث

التمرين 1:

1- تعيين الموجات P و S و L+R على الرسم.



2- الزمن الذي استغرقته الموجات الزلزالية للوصول إلى محطة موناكو: 9 د 21 ثا المسافة التي تفصل إمارة موناكو عن بومرداس: 3646.5 كلم.

3- زمن وصول الموجات S إلى محطة موناكو: 15 د 10 ثا.

التمرين 2:

2- سرعة الموجات الزلزالية (P) في المحطتين 1 و 5 هي: 5.71 كلم/ثا.

3- سرعة الموجات (P) في المحطتين 3 و 4 في المحطة 3 هي: 5.55 كلم/ثا و 3.14 كلم/ثا. المحطة 4: 5.6 كلم/ثا و 3.83 كلم/ثا.

4- يتبين من السؤالين 2 و 3 أن الموجات الزلزالية المنعكسة تصل قبل الموجات الزلزالية المنكسرة من جهة وأن الموجات الزلزالية تفقد من سرعتها عندما تغير الوسط.

التمرين 3:

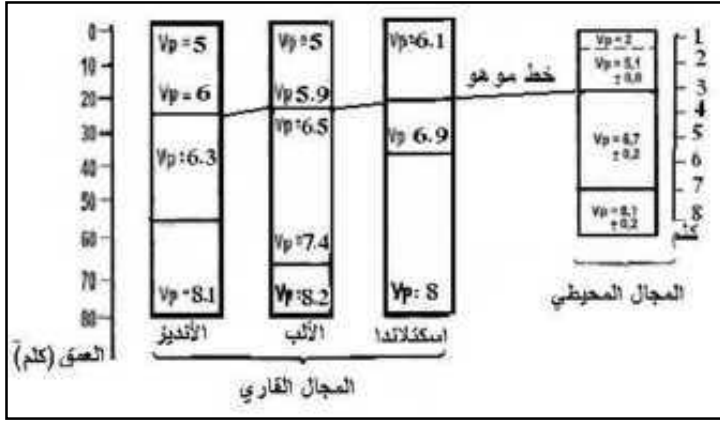
1- يميز منطقة رأس بوقارون صخور حمضية (غرانيتويد) ممثلة أساسا بصخر الغرانيت وصخور فوق قاعدية ممثلة بالبيريدوتيت، ومميز منطقة تاكسنة صخور حمضية (غرانيتويد) ممثلة أساسا بصخر الغرانيت وصخور متحولة كالغنايس وصخور قاعدية كصخر البازلت.

2- الصخر (أ) عبارة عن غرانيت.

الصخر (ب) عبارة عن بازلت. الصخر (ج) عبارة عن بيريدوتي

التمرين 4:

1- تصحيح خط الخانة 2 من الجدول رسوبات متماسكة عوض رسوبات غير متماسكة. نلاحظ أن عمق الموهو في المجال القاري أكبر من عمقه في المجال المحيطي.



أ- المجال المحيطي: نلاحظ أن الصخور الموجودة فوق الإنقطاع عبارة عن بازلت ورسوبات غير متماسكة بينما نجد تحت الإنقطاع صخري الغابرو والبيريديوتيت.

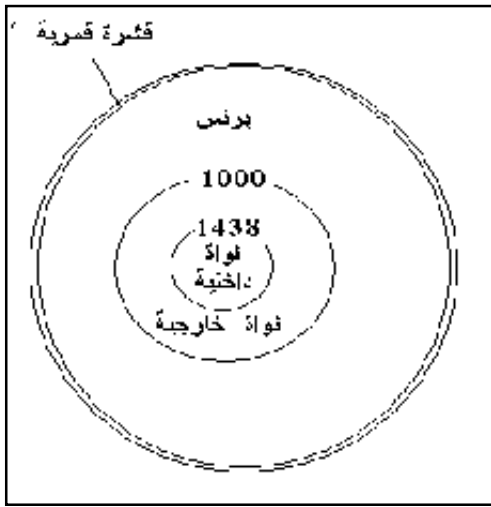
ب- المجال القاري: نلاحظ أن الصخور الموجودة فوق الإنقطاع عبارة عن غرانيت وصخور متحولة بالنسبة لإسكتلندا رسوبات متماسكة، غرانيت وصخور متحولة بالنسبة للألب

ورسوبات متماسكة وجرانيت بالنسبة للأنديز بينما نجد تحت الإنقطاع بيريدوتيت في كل من إسكتلندا والألب والأنديز.

2- يفوق سمك المجال القاري بـ 10 مرات سمك المجال المحيطي ويعود ذلك لكون المجال المحيطي مكان لترقق القشرة الأرضية بينما يعتبر المجال القاري مكان لتضاعفها.

التمرين 5:

- 1- يبين تحليل المنحنيات الزلزالية أن باطن القمر مكون من مجموعة من المستويات ويرجع ذلك لتغير سرعة الموجات الزلزالية بدلالة العمق.
- 2- نلاحظ أنه يوجد تشابه بين مسار الموجات الزلزالية داخل الكرة الأرضية وداخل القمر حيث يتوافق التغير المفاجئ لـ VP وغياب VS في 2900 كلم تحت الأرض مع التباطئ لـ VS داخل القمر.
- 3- يقابل البازلت الأرضي بازلت قمري ويقابل البيريديوتيت الأرضي بيريدوتيت قمري.
- 4- مقطع داخلي في باطن القمر



التمرين:6

1- يمثل الرسم البنية الداخلية للكرة الأرضية.

2- البيانات:

- 1- (الليتوسفير). 2- (الأستينوسفير). 3- (البرنس العلوي).
4- (البرنس السفلي). 5- (انقطاع قوتمبورغ). 6- (النواة الخارجية).
7- (انقطاع ليهمان). 8- (النواة الداخلية). 9- (خندق).
10- (البرنس العلوي). 11- (البرنس السفلي). 12- (صلب).
13- (مطاطي). 14- (سائل). 15- (صلب).
3- سرعة الموجات الزلزالية

الوسط	9	10	11	12	13	14	15
سرعة الموجات الزلزالية بالكلم/ثا	6.24	7.25	7.75	10	8.2	8.5	10.5

4- الحالة الفيزيائية للأوساط هي:

الوسط	9	10	11	12	13	14	15
الحالة الفيزيائية	صلب	صلب	صلب	مطاطي	مطاطي	سائل	صلب

التمرين:7

1- يمثل الرسم: مصادر الطاقة الداخلية للأرض وكيفية تسربها

3- البيانات:(1): الطاقة المتسربة عبرالنقاط الساخنة (2) الطاقة المتسربة عبرالقشرة القارية

(3): الطاقة المتسربة عبر براكين الضهرة (4): الطاقة المتسربة عبر براكين مناطق الغوص

(5): الطاقة المتسربة عبر القشرة المحيطية

3- تمثل الأسهم المبينة في الرسم مختلف مصادرالتدفق الحراري ، حيث تمثل الأسهم السوداء التدفق الحراري الناتج عن الصخور وتمثل الأسهم الحمراء الطاقة الناتجة عن التحلل العناصر المشعة

الوحدة3: النشاط التكتوني والبنيات الجيولوجية المرتبطة به

الهدف التعليمي للوحدة: يتعرف على البنيات الجيولوجية والظواهر المرتبطة بالنشاط التكتوني.

النص: تتميز حدود الصفائح التكتونية بوجود زلازل وبراكين تنتج عن حركات القشر الأرضية التي يمكن أن تكون تباعدية، تقاربية أو إزاحية وتنشأ على مستوى هذه المنطق تضاريس مميزة.

الصورة: تظهر الصورة أنواع حدود الصفائح التكتونية وحركتها بالنسبة لبعضها البعض والتضاريس الناشئة عنها.

النشاط1: الظواهر المرتبطة بالبناء (خصائص الظهرات وسط محيطية)

وضعية الانطلاق: تكون الظهرات وسط محيطية حدود الألواح التكتونية تتميز بحركة معينة، تنشأ عنها تضاريس معينة.

السؤال1: يستعمل التلميذ دقة الملاحظة ويستنتج من خلال تحليل الوثائق الحركة التي تسببت في تشكل الظهرات وسط محيطية والمتمثلة في الحركات التباعدية.

السؤال 2: يضع التلميذ البيانات الملائمة مكان الأرقام:

(1): غرونلاند (2): سلاسل جبلية تحت بحرية.

(3): أمريكا الجنوبية. (4): قارة أوروبا.

(5): ظهرة وسط محيطية. (6): فوالق تحويلية.

(7): قارة إفريقيا. (8): جزيرة بركانية (إسلندا).

السؤال 3: يستعمل التلميذ دقة الملاحظة ويستنتج من خلال تحليل الوثائق مميزات الظهرات وسط محيطية والمتمثلة في سلاسل جبلية تحت بحرية تقسم المحيط إلى نصفين تشكل أحزمة في وسط المحيطات.

النشاط2: المغماتية وتشكل اللوح المحيطي.

وضعية الانطلاق: يظهر النشاط المغماتي المرتبط بالظهرات وعلاقته بتشكيل القشرة المحيطية.

أ) بركنة الظهرة وسط محيطية

السؤال 1: يهدف السؤال إلى تحديد مميزات تتميز الحمم البركانية المنبعثة على مستوى الظهرات وسط محيطية وذلك من خلال تنمية دقة الملاحظة عند التلميذ حيث يستنتج أنه من النمط الطفحي.

السؤال 2: يهدف السؤال إلى استنتاج كيفية الانتقال من الحالة المبينة في الوثيقة (1) إلى الحالة المبينة في الوثيقة (2) والتي تتم بتصلب الماغما.

السؤال 3: يهدف السؤال على تنمية دقة الملاحظة عند التلميذ وذلك بتحديد شكل الحمم البركانية بعد التصلب والتي تكون على شكل وسائد صخرية.

ب) طوبوغرافية قاع المحيط

يعتمد هذا النشاط على تحليل خرائط قاع المحيطات.

السؤال 1: يقوم التلميذ بتحليل الوثيقة واستنتاج مميزات الظهرات وسط محيطية والمتمثلة في وجود سلاسل جبلية تحت بحرية يمكن أن تصل في بعض الأحيان إلى السطح مكونة جزر بركانية كإسلندا.

السؤال 2: يقوم التلميذ بتحليل الوثيقة وذلك باستعمال دقة الملاحظة ويستنتج أن الخسف يكون الجزء المركزي للظهرة

• بنية الظهرات

السؤال 1: يستنتج التلميذ من خلال تحليل الصور واستعمال دقة الملاحظة أن الظهرات تتميز بنوعين من الفوالق وهي:
الفوالق العادية، أهبوطية، موازية لمحور الظهر.
الفوالق التحويلية، متعامدة مع محور الظهر .

السؤال 2: يستنتج التلميذ من خلال تحليل الوثائق أن فالق الوثيقة 6 عادي وأن فالق الوثيقة (7) تحولي يميني.

السؤال 3: يستعمل التلميذ دقة الملاحظة ويستنتج أن الفوالق التحويلية تعمل على تغيير مسار الظهر ودورانها حول الألواح التكتونية والتي يمكن من خلالها معاينة الصخور العميقة.

السؤال 4: انجاز مخطط تمثيلي

السؤال 5: يربط التلميذ بين حركة الفوالق ونشأة الزلازل المميزة للظهرات وسط محيطية من خلال معاينة الوثائق المدروسة.

- يقدم التلميذ تفسيراً لكيفية نشأة السلاسل الجبلية المميزة للظهرات وسط محيطية والتي تنتج عن القذف المستمر للماغما على مستوى الرفت المركزي للظهرات الناتج عن تباعد الألواح التكتونية.

(ج) تسلسل صخور الليتوسفير المحيطي:

تمكن الفوالق التحويلية في معرفة الصخور المكونة للقشرة المحيطية

السؤال 1: يستعمل التلميذ دقة الملاحظة ويستنتج سبب اختيار فالق فيما المعرفة مكونات القشرة المحيطية حيث يسمح بالكشف عن طريق مقطع على الصخور المكونة للقشرة المحيطية.

السؤال 2: يستنتج التلميذ من خلال تحليل الوثيقتين (9) و(9ب) أن القشرة المحيطية غير متجانسة.

السؤال 3: يوضح التلميذ برسم تخطيطي أن القشرة المحيطية تتكون من الأعلى إلى الأسفل من الصخور التالية:

بازلت وسادي

بازلت عروقي

غابرو

بيريدوتيت

النشاط 3: تشكل الصخور المميزة لظهرة وسط محيطية

وضعية الانطلاق: يدرس التلميذ مختلف الصخور المكونة لقاع المحيط و يستنتج بنيتها النسيجية، تركيبها الكيميائي وطريقة انصهار الصخور الناتجة عنها.

أ- دراسة صخور قاع المحيط:

النشاط الجزئي 1:

تتمثل هذه الدراسة في إجراء مقارنة بين الصخور المكونة للقشرة المحيطية والمتمثلة في البازلت، الغابرو والبيريدوتيت.

يعتمد هذا النشاط على تنمية دقة الملاحظة عند التلميذ.

السؤال 1: يعتمد هذا النشاط على تنمية دقة الملاحظة عند التلميذ واستنتاج نسيج البلوري المميز لكل من كل من البيريدوتيت والغابرو والنسيج الميكروليتي المميز البازلت.

السؤال 2: يستغل التلميذ نتيجة المقارنة السابقة ويستنتج أن تبلور البيريدوتيت والغابرو بطيء وتبلور البازلت سريع.
السؤال 3: يستغل التلميذ نتيجة المقارنات السابقة ويستنتج ان تبلور البيريدوتيت والغابرو في الأعماق وتبلور البازلت على السطح.
السؤال 4: يستنتج التلميذ في الأخير أن هذه النتائج تتوافق مع ما تم التوصل إليه من خلال دراسة صخور القشرة المحيطية على مستوى فالق فيما.

النشاط الجزئي 2

ينجز التلميذ تراكيب تجريبية وذلك لتقريب فهم الظواهر الجيولوجية التي تحدث على مستوى الظهرات وسط محيطية
السؤال 1: يقوم التلميذ بتحليل النتائج التجريبية لتبرد مادة الفانيلين الملاحظة بالمجهر المستقطب ويستنتج أن:
الشريحة التي تبردت في الثلجة بلوراتها صغيرة.
الشريحة التي تبردت في الهواء الطلق بلوراتها متوسطة.
الشريحة التي تبردت فوق حمام مائي بلوراتها كبيرة.
السؤال 2: يستخلص التلميذ من التجربة السابقة أنه كلما كانت درجة الحرارة عالية كلما كانت البلورات كبيرة وكلما كانت درجة الحرارة منخفضة كلما كانت البلورات صغيرة.
السؤال 3: يلاحظ التلميذ توافق النتائج المتحصل عليها من النمذجة مع تبلور الصخور المكونة للقشرة المحيطية، حيث يكون تبلور البازلت سريع وتبلور كل من البيريدوتيت والغابرو بطيء.

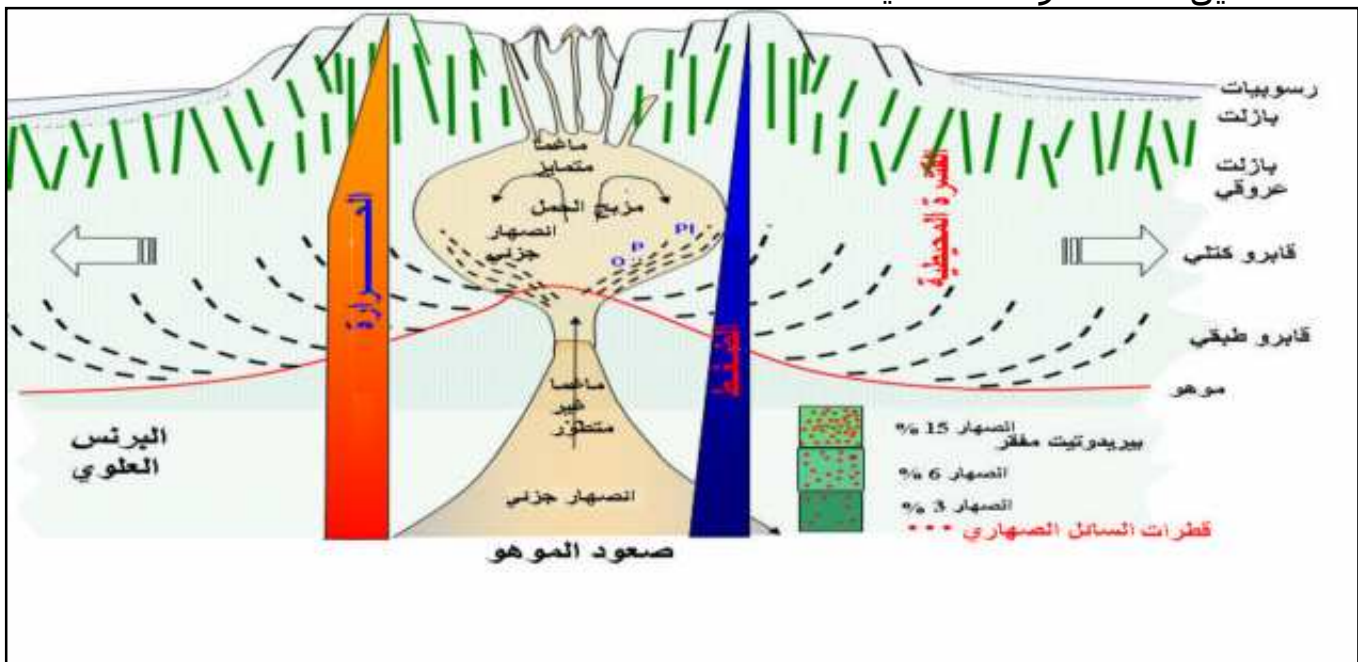
النشاط الجزئي 3

تفسير الاختلاف في التركيب الكيميائي لمختلف الصخور المتكونة على مستوى الظهرات وسط محيطية.
السؤال 1: يحلل التلميذ الجداول ويستنتج أن
صخر البيريدوتيت فقير جدا بالسيليس وغني جدا بالمغنيزيوم.
البازلت والغابرو فقيران بالسيليس وغنيان بالألمنيوم ويحتويان على نسب معتبرة من الحديد، المغنيزيوم والكالسيوم.
السؤال 2: يستنتج التلميذ أن:
البيريدوتيت يحتوي على معدني الأوليفين والبيروكسين فقط وهذا ما يدعم فرضية غني الصخر بالمغنيزيوم (الأوليفين Mg_2SiO_4).
يحتوي الغابرو على نسب عالية من الأوليفين والبلاجيوكلاز ويحتوي البازلت على نسب متساوية من الفلسبار، البلاجيوكلاز والأوليفين ونسبة معتبرة من الزجاج البركاني.
* يستغل التلميذ المعطيات السابقة و يستنتج أن البيريدوتيت صخر فوق قاعدي وأن كل من الغابرو والبازلت صخرين قاعديين.
ب- الانصهار التجريبي للبيريدوتيت:
الهدف من هذا النشاط هو محاولة تفسير ما يحدث على مستوى الظهرات وسط محيطية من عمليات جيولوجية حرارية حركية.
السؤال 1: يحلل التلميذ المنحنى ويستنتج أن البيريدوتيت في الحالة (أ) صلب وفي الحالة (ب) صلب + سائل وفي الحالة (ج) سائل.
السؤال 2: يقدم التلميذ تفسيراً لحالة البيريدوتيت عندما ينتقل من الحالة (1) إلى الحالة (2) حيث أنه ينتقل من الحالة الصلبة إلى الحالة المنصهرة جزئياً وذلك لأنه يخترق المستقيم (Solidus).

السؤال 3: يحدد التلميد العامل المؤثر على انتقال البيريدوتيت من الحالة الصلبة إلى الحالة المنصهرة جزئياً والمتمثل في انخفاض الضغط.
السؤال 4: يدعم التركيب التجريبي للوثيقة (10) والمتمثل في ذوبان مكعب الزبدة بسبب انخفاض الضغط الإنصهار الجزئي للبيريدوتيت تحت الظهرات وسط محيطية. ويستنتج التلميد أن انخفاض الضغط في حرارة ثابتة على مستوى الظهرات يؤدي إلى انصهار الصخور.

النشاط الجزئي 4:

يهدف هذا النشاط إلى تقريب فهم إنصهار البيريدوتيت وذلك باستعمال مواد غذائية تحتوي على دسم وتعريضها للزيادة في درجة الحرارة.
السؤال 1: ينجز التلميد تراكيب تجريبية ثم يلاحظ الأنبوب الأول لم يحدث فيه شيء وأن الأنبوب الثاني والثالث حدث فيهما ذوبان للمواد الدسمة مع ظهور تمايز بين المواد حيث أن المواد الصلبة تجمعت في الأسفل والمواد السائلة تجمعت في الأعلى.
السؤال 2: يلاحظ التلميد حدوث إنصهار جزئي في الأنبوب الثاني والثالث ويعود ذلك لكون Corned-beef مادة غير متجانسة.
السؤال 3: يلاحظ التلميد في الأنبوبين 2 و3 أن المواد الصلبة تجمعت في الأسفل بينما المواد السائلة تجمعت في الأعلى على خلاف الأنبوب 1.
السؤال 4: تتوافق نتائج النمذجة مع ما يحدث على مستوى الظهرات وسط محيطية أين يكون الماغما الناتج عن الإنصهار الجزئي للبيريدوتيت غني بالألمنيوم وفقير بالمغنسيوم ويعود ذلك لكون الأول خفيف يتجمع في المستويات العليا للغرفة المغماتية والثاني ثقيل يتجمع في المستويات السفلى.
• تمثيل نشاط غرفة ماغماتية:



النشاط الجزئي 5:

السؤال 1: يهدف النشاط إلى تنمية قدرات الملاحظة والاستنتاج عند التلميد حيث يظهر من خلال الرسمين أن صخور الحالة (1) متصلبة وصخور الحالة (2) منصهرة جزئياً.
السؤال 2: يستنتج التلميد من خلال تحليل المخطط أن تحول البيريدوتيت من الحالة (1) إلى الحالات (2، 3 و4) يعود إلى انخفاض الضغط في المرحلة الأولى ودرجة الحرارة في المرحلة الثانية.

السؤال 3: يستنتج التلميذ أن الحالة الفيزيائية للبيريدوتيت على يمين solidus تكون منصهرة جزئياً وعلى يسار solidus متصلبة.
السؤال 4: يستنتج التلميذ أن العامل الأكثر تأثيراً في الحالتين 1 و 2 يتمثل في الضغط.
السؤال 5: يلاحظ التلميذ أن البنية النسيجية في الحالة (4) بلورية والحالة (3) ميكروبلتية ويعود ذلك لكون الحالة (4) تمثل تبلور بطيء في باطن الأرض وتمثل الحالة (3) تبلور سريع على السطح.

النشاط الجزئي 6:

يهدف هذا النشاط إلى إستنتاج أهم المراحل التي تمر بها تشكل ظهرة وسط محيطية وذلك إنطلاقاً من خرائط حقيقية لمنطقة معينة كالرفت الإفريقي أين يحدث خسفاً قارياً.
السؤال 1: يهدف السؤال إلى تنمية قدرة الملاحظة عند التلميذ والمتمثلة في الاختلاف في وضعية خط الموهو بين الوثيقتين، حيث يكون أفقياً في الوثيقة (14) ويصعد في الوثيقة (15).

السؤال 2: يهدف السؤال إلى ملاحظة آثار استمرار صعود تيارات الحمل على مستوى منطقة الرفت.

السؤال 3: يقدم التلميذ تفسيراً لصعود خط الموهو والذي يرجع سببه إلى الطاقة المتحررة من تحلل العناصر المشعة الموجودة في البرنس والتي أدت إلى تشكل قبة قشرية.
السؤال 4: يستنتج التلميذ إنطلاقاً من ملاحظة الوثيقة (15) الحركة الناتجة عن هذه العملية والمتمثلة في التباعد.

النشاط الجزئي 7:

الهدف التعليمي: تعتمد هذه النمذجة على تنمية القدرات الحسية والحركية للتلميذ (المهارات اليدوية) كما تسمح لفهم الظواهر الجيولوجية المعقدة.

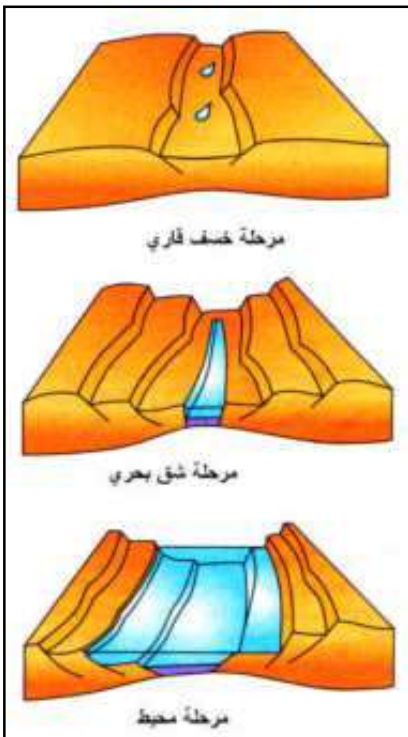
السؤال 1: ينجز التلميذ تراكيب تجريبية ويلاحظ تغيير سمك طبقات الجبس في المرحلتين (3) و (4).

السؤال 2: يلاحظ التلميذ ترقق الطبقات ونشوء تراكيب تتمثل في فوالق عادية * يلخص التلميذ في نص علمي المراحل التي يمر بها تشكل ظهرة وسط محيطية والتي يمكن تلخيصها في **ثلاث مراحل أساسية:**

- مرحلة الرفت ممثلة بخسف القرن الإفريقي
- مرحلة الشق البحري ممثلة بالبحر الأحمر
- مرحلة المحيط ممثلة بالمحيط الأطلسي.
- ينجز التلميذ مخططاً لمختلف مراحل تشكل ظهرة وسط محيطية

النشاط 4: الظواهر المرتبطة بالغوص

وضعية الانطلاق: ينتج عن هدم المواد الناتجة عن زيادة حجم القشرة الأرضية ظواهر جيولوجية تتمثل في البراكين، الزلازل وسلاسل جبلية.



النشاط الجزئي 1:

السؤال: الهدف من هذا النشاط هو التذكير بأهم المكونات لمنطقة الغوص حيث نجد:

- (1) قشرة محيطية.
- (2) برنس أرضي.
- (3) براكين قوس النار.
- (4) قشرة قارية.
- (5) منطقة غوص.

النشاط الجزئي 2:

يهدف هذا النشاط إلى تحديد الظواهر الجيولوجية المميزة لمناطق الغوص إنطلاقاً من وثائق حقيقية (خرائط).

أ) دراسة خريطة زلزالية لمنطقة الأنديز

السؤال 1: يستعمل التلميذ تقنية الملاحظة ويستخرج إنطلاقاً من معاينة الخريطة الزلزالية لأمريكا الجنوبية مناطق توزيع الزلازل والتي تكون حزاماً موازياً لحافتها الغربية.

السؤال 2: يهدف هذا السؤال إلى تدريب على تدقيق الملاحظة واستنتاج من المراكز السطحية للزلازل أن الزلازل العميقة تكون بعيدة عن البحر والزلازل السطحية تكون قريبة من البحر.

السؤال 3: يستنتج التلميذ من خلال معاينة الخريطة الزلزالية لمنطقة الأنديز أنها تتميز بوجود زلازل عميقة.

السؤال 4: يستنتج التلميذ من خلال معاينة التمثيل الثلاثي الأبعاد أن منطقة الأنديز تتميز بوجود سلسلة جبلية

ب) دراسة خريطة بركانية لحواف المحيط الهادي

يمكن تحديد مناطق الغوص اعتماداً على أماكن توزيع البراكين على مستوى مناطق معينة من العالم.

السؤال 1: يهدف السؤال إلى تنمية قدرة الملاحظة والتحليل عند التلميذ حيث يلاحظ أن البراكين تتوزع وفق أحزمة معينة على مستوى الحافة الغربية لأمريكا الجنوبية والشمالية والحافة الغربية لقارة آسيا وتشكل أقواس جزيرية في كل من اليابان والفلبين.

السؤال 2: يستنتج التلميذ من خلال معاينة صور البراكين التي تتميز بالنمط الانفجاري.

• ينجز التلميذ نفاً علمياً يربط فيه بين توزيع أحزمة الزلازل وعمقها والبراكين ونمطها على مستوى مناطق معينة من العالم.

النشاط الجزئي 3:

الهدف من هذا النشاط هو ربط العلاقة بين توزيع مناطق الغوص في العالم مع حدود الصفائح التكتونية وتحديد الصفائح الغائصة والصفائح الطافية.

السؤال 1: يكتشف التلميذ من خلال استعمال تقنية الملاحظة أن مناطق الغوص مرتبطة بالحدود المتقاربة.

السؤال 2: يستخرج من الخريطة أنواع الصفائح المتقاربة (محيطي-قارية ومحيطية - محيطية).

السؤال 3: يستخرج التلميذ من خلال معاينة حدود الصفائح أن هناك صفائح طافية وصفائح غائصة، حيث تكون الصفائح الغائصة أكثر كثافة من الصفائح الطافية.

السؤال 4: يحلل التلميذ الوثائق 10 و يستنتج توزع البؤر الزلزالية والتي تكون وفق مستوى يدعى بمستوى بينيوف ومنه استخراج اللوح الطافي واللوح الغائص.

النشاط 5: اختفاء اللوح المحيطي والظواهر المرتبطة بالغوص

وضعية الانطلاق: ينتج عن عملية الغوص ظواهر جيولوجية تتمثل في إنصهار المواد وتحول الصخور المرتبطة بعملية الغوص.

النشاط الجزئي 1:

يتعرض اللوح المحيطي منذ نشأته على مستوى الظهرات إلى غوصه على مستوى مناطق الهدم إلى تغيرات.

- السؤال 1: يهدف السؤال إلى تدريب التلميذ على دقة الملاحظة حيث يلاحظ أن الموجات الزلزالية "S" تمر مباشرة داخل البرنس في المحطة (أ) بينما تستغرق زمن أطول في المحطة (ج) قبل أن تصل إلى البرنس في المحطة (ج).
- السؤال 2: يستخلص التلميذ من الملاحظة السابقة أن القشرة المحيطية في (أ) قليلة وفي (ج) كبيرة معناه أنها تزداد سمكا كلما ابتعدنا من الظهرة.
- السؤال 3: يلاحظ التلميذ أن هناك توافق بين انتشار الموجات الزلزالية في المحطات الثلاث وزيادة سمك اللوح المحيطي الملاحظ في الوثيقة (3).
- السؤال 4: يحسب التلميذ معدل كثافة اللوح المحيطي في المحطة (أ) $= 3.14$ وفي المحطة (ج) $= 3.26$.
- يستنتج أن كثافة القشرة المحيطية في المحطة (ج) أكبر من كثافة القشرة المحيطية في المحطة (أ).
- نستخلص أنه كلما ابتعد اللوح المحيطي من محور الظهرة كلما زادت كثافته.
- السؤال 5: يستخلص التلميذ أن عملية غوص اللوح المحيطي تحت اللوح القاري ترجع إلى الفرق في الكثافة حيث أن كثافة اللوح المحيطي أكبر من كثافة اللوح القاري.

النشاط الجزئي 2:

- ينشأ على مستوى اللوح الطافي لمناطق الغوص نوعين من الصخور يختلفان باختلاف منشأهما .
- السؤال 1: يهدف السؤال إلى تنمية الملاحظة بالعين المجردة والمقارنة بين البنية البلورية لصخري الغرانوديوريت والأنديزيت حيث يلاحظ التلميذ أن صخر الغرانوديوريت ترى بلوراته بالعين المجردة بينما لا ترى بلورات صخر الأنديزيت.
- السؤال 2: يهدف السؤال إلى التدقيق في الملاحظة المجهرية واستنتاج نسيج صخري الغرانوديوريت والأنديزيت حيث يتكون الغرانوديوريت من بلورات كبيرة ويتكون الأنديزيت من بلورات كبيرة تسبح في خليط من بلورات صغيرة (ميكروليتية وزجاج بركاني).
- نستنتج أن تبلور الغرانوديوريت ببطء بينما تصلب الأنديزيت بسرعة.

النشاط الجزئي 3:

- يمكن تحديد منشأ الصخور بناء على البنية النسيجية.
- السؤال 1: يستنتج التلميذ منشأ الصخور إنطلاقاً من نسيجها حيث يدل التبلور ببطء على منشأ إندساسي (ب) ويدل التصلب بسرعة على منشأ سطحي (أ).
- السؤال 2: إنطلاقاً من تحليل الوثيقة (8) يحدد التلميذ مصدر الماغما المكون لصخري الغرانوديوريت والأنديزيت والذي لا يمكن أن يكون سوى البرنس.

النشاط الجزئي 4:

- تحليل معطيات تتمثل في عناصر كيميائية خاصة بمناطق معينة من القشرة الأرضية واستنتاج مصدر صخورها.
- السؤال 1: يهدف السؤال إلى تنمية قدرة التحليل عند التلميذ حيث يلاحظ أن صخور مناطق الغوص غنية بالسيليس والألمنيوم وأن صخور مناطق البناء (الظهرات) فقيرة بالسيليس وغنية بالحديد و المغنيزيوم.
- السؤال 2: يستنتج التلميذ أن سبب الاختلاف في التركيب الكيميائي بين مناطق البناء ومناطق الغوص يعود لاختلاف نوعية البراكين.

السؤال 3: يعرف التلميذ أن مصدر الماغما على مستوى الظهيرات ناتج عن الإنصهار الجزئي للبيريدوتيت ويستنتج من خلال الوثيقة (8) أن الماغما المؤدي إلى تشكل الغرانوديوريت ناتج عن إنصهار بيريدوتيت البرنس وتجمعه داخل غرفة ماغماتية في القشرة الأرضية أين يتعرض إلى عدوى قشرية (contamination crustale).

النشاط الجزئي 5

تبين من النشاط السابق أن ماغما مناطق الغوص ناتج عن إنصهار جزئي برنس اللوح الطافي، يطرح الأستاذ تساؤل حول سبب هذا الإنصهار الجزئي. لفهم هذه الظاهرة أدرجنا تجربة الإنصهار التجريبي للبيريدوتيت الصلب والبيريدوتيت المميه. السؤال 1: يستنتج التلميذ أن مصدر البيريدوتيت المنصهر على مستوى مناطق الغوص هو برنس اللوح الطافي. السؤال 2: يحلل التلميذ الوثيقة (10) حيث يستنتج أن النقطتين (P_1) و (P_2) تقعان في نفس الظروف الفيزيائية (ضغط وحرارة) وتختلفان في موقعهما بالنسبة لخط Solidus. السؤال 3: يستعمل التلميذ دقة الملاحظة ويستنتج أن النقطة (P_1) في حالة البيريدوتيت المميه تقع في مجال الإنصهار الجزئي وتقع النقطة (P_2) في حالة البيريدوتيت الجاف في مجال البيريدوتيت الصلب، نستنتج أن الماء يلعب دور مساعد للإنصهار الجزئي. السؤال 4: يستخلص التلميذ من الوثيقة 11 أن الماء يعد سببا في الإنصهار الجزئي لجزء من بيريدوتيت اللوح الطافي.

النشاط الجزئي 6

السؤال 1: يهدف السؤال إلى تدقيق ملاحظة بإستغلال الوثيقة (12)، حيث يلاحظ التلميذ أن الصفيحة الغائصة تفقد ماءها تدريجيا. السؤال 2: يستنتج التلميذ أن البرنس الليتوسفيري للوح الطافي يستعيد الماء المفقود من طرف اللوح الغائص. السؤال 3: يعمل الماء على إنصهار جزء من البرنس الليتوسفيري للوح الطافي.

النشاط الجزئي 7

يلاحظ التلميذ التغيرات التي تطرأ على معادن صخور لوح القشرة الغائصة. تتغير البنية النسيجية لصخور القشرة المحيطية عندما تبتعد من مناطق البناء حيث تتبلور زجاج بركاني ويتحول صخر البازلت إلى ميتاغابرو. السؤال 1: يستنتج التلميذ إنطلاقا من المقارنة بين الغابرو والميتاغابرو ظهور معادن جديدة في الميتاغابرو والمتمثلة في الغلوكوفان. السؤال 2: يستنتج التلميذ من خلال المقارنة بين الميتاغابرو والشيبست الأزرق أنه يوجد إختلاف في شكل المعادن (ميتاغابرو معادن كبيرة، الشيبست الأزرق معادن ذات حجوم صغيرة) وكيفية توزيعها. • ظهور معادن جديدة في الشيبست الأزرق كالغرونا. • نسيج المعادن حيث تتوضع معادن الميتاغابرو بشكل عشوائي بينما تأخذ معادن الشيبست الأزرق إتجاه معين يوحي بوجود صخور متحولة تشكلت على إثر تعرض الصخر لضغط عال. السؤال 3: يستنتج التلميذ من خلال مقارنة البنية المعدنية (النسيج) والتركيب المعدني أن معادن الإيكلوجيت كبيرة بالمقارنة مع معادن الشيبست الأزرق، كما نلاحظ غياب الغلوكوفان وظهور الجاديت في الإيكلوجيت. يدل هذا على أن الإيكلوجيت تشكل في ظروف عالية من الضغط والحرارة.

النشاط الجزئي 8:

يستنتج التلميذ مختلف السحن إنطلاقا من التحولات المعدنية للصخور.

السؤال 1: يحلل التلميذ منحني الوثيقة 16 ويلاحظ أن الصخور اللوح الغائص تمر بتحولات تحدث على مستوى مرحلتين أساسيتين:

المرحلة (1): أين تحدث تحولات لمعدن البازلت والغابرو وظهور معادن أخرى مستقرة فيما بينها، حيث يتم الانتقال من سحنة الأومفيبوليت إلى سحنة الشيست الأخضر.

المرحلة (2): أين تحدث تحولات للمعادن الجديدة وذلك بفعل الزيادة في الضغط والحرارة على إثر عملية الغوص حيث يتم الانتقال من سحنة الشيست الأخضر إلى سحنة الشيست الأزرق ثم إلى سحنة الإكلوجيت.

السؤال 2: أ- تمثل المرحلتين 1 و 2 دخول الماء حيث ينتقل الصخر من صخر ناري (غابرو) إلى صخر متحول (ميتاغابرو) تكون فيه المعادن مستقرة فيما بينها (Domaine de stabilité) وتتحصل في هذه الحالة على سحنة الشيست الأخضر.

ب- تمثل المرحلتين 4 و 5 طرد الماء بفعل الزيادة في الضغط ودرجة الحرارة حيث تظهر تدريجيا معادن جديدة.

يمثل الانتقال من المرحلة 2 إلى المرحلة 4 تحول من سحنة الشيست الأخضر الممثلة بمعادن بلاجيوكلاز + كلوريت + أكتينوت إلى سحنة الشيست الأزرق الممثل بمعادن بلاجيوكلاز + غلوكوفان (أومفيبول) + البيروكسين.

ويدل الانتقال من المجال 4، 5 على الزيادة في الضغط والحرارة المؤدية إلى ظهور معادن جديدة كالغرونا والجادييت التي تدل على سحنة الإكلوجيت.

* يأخذ النص العلمي بعين الاعتبار المرحلتين الأساسيتين من جهة والتحولات المعدنية، الصخور الناتجة والسحن المنتجة عنها من جهة الأخرى.

المخطط التحصيلي (الصفحة 315 من الكتاب)

تمثل الأرقام البيانات التالية:

- 1- ميتاغابرو.
- 2- شيست أزرق.
- 3- إكلوجيت.
- 4- إنصهار جزئي للبرنس.
- 5- غرفة ماغماتية.
- 1- أنديزيت (ص.ن.بركاني).

النشاط 6: التضاريس الناجمة عن التصادم

وضعية الإنطلاق: يحدث تصادم الألواح القارية بعد إستهلاك كل اللوح المحيطي في عملية الغوص، يعرض هذا النشاط مرحل تشكل السلسلة المغربية على إثر إختفاء المحيط الذي كان يفصل بين اللوح الأوروبي واللوح الإفريقي وحدث عملية التصادم.

النشاط الجزئي 1:

السؤال 1: الهدف من السؤال هو تنمية دقة الملاحظة عند التلميذ حيث لاحظ تشكل حوض بين اللوح الأفريقي واللوح الأوروبي ممثلا في حوض التيتيس منذ 150 م س ثم يحدث بعد ذلك إنفصال ميكرو قارة الألبوران عن اللوح الأوروبي في 100 م س وفي الأخير تنغلق كل الأحواض الرسوبية في 50 م س

النشاط الجزئي 2:

- الهدف من هذا النشاط هو تنمية دقة الملاحظة بالإعتماد على تحليل مقاطع جيولوجية وإظهار مرحلتين أساسيتين من نشأة السلسلة المغاربية.
- السؤال 1: يحدد التلميذ وضعية القارتين الإفريقية والأوروبية الممثلة بلوح الألبوران ويلاحظ أنهما كانتا متباعدتان.
- السؤال 2: يستنتج التلميذ من الوثيقتين (5) و(6) أن اللوحين قد تقاربا.
- السؤال 3: يستنتج التلميذ في النهاية حركة التصادم وطفو لوح الألبوران فوق اللوح الإفريقي.
- السؤال 4: ينشأ على إثر هذا التصادم والطفو سلاسل جبلية موازية لخط الالتحام.

النشاط الجزئي 3:

- الهدف من هذا النشاط هو معاينة مختلف مكاشف الصخور التي مصدرها ميكرو قارة الألبوران والمتواجدة على مستوى السلسلة المغاربية.
- السؤال 1: يستغل التلميذ معطيات الوثائق 5، 6 و7 حيث يستنتج أن هذه الصخور لها نفس المكونات ويدل ذلك على أن لها نفس المصدر والممثل في ميكرو قارة الألبوران.
- السؤال 2: تتمثل آثار الإصطدام على مستوى السلسلة المغاربية في وجود فالق يفصل بين بقايا لوح ميكرو قارة الألبوران والممثلة أساسا من القبائل الصغرى والقبائل الكبرى والريف المغربي واللوح الإفريقي، يدعى هذا الفالق بالفالق الجبهوي القبائلي والذي يمتد على شمال إفريقيا ويصل إلى جنوب أوروبا.

النشاط 7: شواهد التقلص

- وضعية الإنطلاق:** تتمثل شواهد التقلص في التشوهات الصخرية، الملاحظة على مستوى صخور السلسلة المغاربية و المتمثلة في ظواهر جيولوجية يمكن ملاحظتها بالعين المجرة (صور فوتوغرافية) أو على مستوى خرائط جيولوجية إقليمية أو مقاطع حقيقية منجزة على هذه الخرائط.

النشاط الجزئي 1:

- السؤال 1: يعتمد هذا النشاط على الملاحظة الميدانية الدقيقة المتمثلة في الإنطواءات والكسور التي تظهر على مستوى الطبقات الصخرية.
- السؤال 2: باستغلال مبادئ تطبيق الصخور الرسوبية، يستنتج التلميذ أن هناك قلب للطبقات الرسوبية حيث أن الطبقات القديمة تقع فوق الطبقات الحديثة.
- السؤال 3: باستغلال المجسم الموضح في الوثيقة (3) يقارن التلميذ نوع التشوه الذي حدث في الوثيقة (2) حيث يلاحظ أن هذه الطبقة قد صعدت فوق الطبقة (3) ومن هنا يستنتج أنه حدث فالق عكسي.
- السؤال 4: يلاحظ التلميذ أن الطبقة (2) طفت فوق الطبقة (3) ومنه حدث تقلص للمنطقة.
- السؤال 5: يمثل السهم المبين في الوثيقة (2 ب) انتقال الطبقات الصخرية بفعل الضغط الجانبي المسلط عليها والمتمثل في عملية التصادم.
- السؤال 6: يستنتج التلميذ أن تسمية الصخور المغترية تنطبق على الجهة اليمنى من الوثيقة (2) لأنها إنتقلت من مكان توضعها إلى مكان آخر.

النشاط الجزئي 2:

يدرس التلميذ مقطع شمال جنوب في السلسلة المغاربية ويستخرج منه شواهد التقلص القاري.

السؤال 1: يستعمل التلميذ دقة الملاحظة وستنتج من المقطع عدة أنواع من التشوهات ممثلة في فوالق، طيات وصخور مغترية.

السؤال 2: يلاحظ التلميذ أن النقطة (أ) تمثل طيات معقدة وتمثل النقطة (ب) فوالق عكسية تلعب دور سطح إغتراب (تماس غير عادي Contact anormal).

النشاط الجزئي 3:

الهدف من هذه النمذجة هو محاكاة الظواهر الجيولوجية التي ظهرت خلال ملايين السنين وتقريبها للفهم.

السؤال 1: ينجز التلميذ تراكيب تركيبية ويلاحظ اختلافات على مستوى طبقات الجبس (زيادة في السمك، وتغير الشكل).

السؤال 2: يستنتج التلميذ إنطلاقاً من دقة الملاحظة أن طبقات الجبس الملون قد تشوهت وظهرت على مستواها فوالق وانطواءات.

السؤال 3: يستنتج التلميذ أن الحركة التي أدت إلى ظهور هذه التشوهات تتمثل في التقلص (التقارب).

السؤال 4: يلاحظ التلميذ أن سمك طبقات الجبس في النقطة (س) في الشكل 3 قد أصبح ضعف السمك المبين في الشكل (1) يستنتج أن حدث تضاعف للطبقة.

السؤال 5: يستنتج التلميذ أن النموذج المذكور أعلاه ينطبق مع ما يحدث في حالة التقارب القاري أين تتضاعف القشرة الأرضية.

النشاط الجزئي 4:

دراسة بعض الصخور الناتجة عن التضاعف القشري والتي يمكن إعتبارها من شواهد التقلص.

السؤال 1: الهدف من السؤال هو تدقيق الملاحظة عند التلميذ حيث تظهر على مستوى الصخور تشوهات صخرية وممثلة في فوالق وطيّات مجهرية (Microtectonique) وتناوبات وريقية (صفوف قائمة و صفوف عاتمة).

السؤال 2: يستنتج التلميذ من خلال معاينة شكل المعادن المكونة للصفوف أن هذه الأخيرة تنتج عن فعل الضغط العال.

السؤال 3: يلاحظ التلميذ أن المعادن المكونة للصخر تتوضع على شكل صفوف متناوبة.

السؤال 4: تنتظم معادن الصخور المتحولة وفق شبكات معينة تميز سحن، حيث يدل القرونا على ظروف تكون في ضغط عال وحرارة متوسطة إلى عالية.

• يستنتج التلميذ من خلال دراسة صخر الميغماتيت أن هذه الأخير تشكل نتيجة اندساس صخور كانت في الأصل حمضية أو قاعدية وتكون درجة إنصهار المعادن مختلفة حيث أن البعض منها ينصهر والبعض الآخر يتشوه وينتج عن ذلك صخر الميغماتيت.

النشاط 8: شواهد محيط قديم

وضعية الإنطلاق: تندس صخور القشرة المحيطية ضمن السلسلة المغاربية وتدل على آثار محيط قديم.

النشاط الجزئي 1:

السؤال 1: يستنتج التلميذ من خلال دراسة خريطة تاكسانة ودليلها وجود صخور نارية قاعدية وفوق قاعدية و صخور الفليش التي تتوضع في المنحدر القاري على عمق يفوق 3000 م، تعتبر هذه الصخور أدلة على وجود محيط مستحاثي قديم اندس داخل السلسلة إثر عملية التقارب القاري.

السؤال 2: يلاحظ التلميذ صورة لطبقة من متتالية الفليش ويستنتج أنها تعرضت إلى طي.

السؤال 3: يحسب التلميذ الامتداد الأفقي الحالي للطبقة بعد الطي الموجود في الوثيقة (4) ثم يأخذ خيط وقيسها في الحالة العادية (قبل الطي) ثم يستنتج المسافة التقريبية للتقارب القاري.

النشاط الجزئي 2:

يحلل التلميذ الأعمدة الثلاثة المعروضة في الوثيقة (5) ثم يقارن بينها من ناحية السمك والمكونات.

نوع البازلت	سمك طبقة الغابرو	البيروتيت		أفيوليت
		LOT	HOT	
MORB	كبير		+	عمان
MORB	كبير	+		الألب
MORB	صغير	+		تاكسانة

يلاحظ التلميذ قلة سمك متتالية تاكسانة بالمقارنة مع متتالية الألب وعمان وتشابه في وجود الليروزوليت بين الألب وتاكسانة ويستنتج في الأخير أن متتالية تاكسانة والألب تشكلتا في نفس الحوض وبدعم هذه الفرضية بقرب منطقتين من بعضهما البعض

تمارين الوحدة 3 من المجال الثالث

التمرين 1:

- الزمن 200 م س.: 1- قشرة محيطية، 2- قشرة قارية، 3- برنس.
الزمن 300 م ك.: 1- قارة. 2- تقارب. 3- برنس.
الزمن 100 م ك.: 1- ظهرة وسط محيطية، 2- قشرة محيطية، 3- لوح غائص
4 - لوح طافي 5- برنس.
الزمن 0 م س.: 1- برنس علوي 2- قشرة محيطية 3- قشرة قارية.
4 - رفت 5- موهو 6- برنس.

التمرين 2:

- 1- البيانات: A = قشرة قارية طافية.
B = برنس اللوح الطافي.
C = قشرة محيطية غائصة.
2- يقع R1 على سطح القشرة القارية الطافية و يقع R2 داخل القشرة القارية الطافية.
3- يتشكل R1، R2 إثر انصهار برنس اللوح الطافي فيصعد الماغما ليتجمع في غرفة ماغماتية، يندس جزء منه في القشرة ويصعد جزء منه إلى السطح على شكل براكين.
4- الماغما الذي تشكل منه الصخرين R1، R2، حامضي.
5- R1 = أنديزيت. R2 = غرانوديوريت.

التمرين 3:

- 1- ترتيب المراحل: 1، 3، 2، 5، 4.
2- مراحل التباعد: 2، 3.
- مراحل الغوص: 5.
- مراحل التصادم: 4.
3- الصخور الناتجة عن (2): بازلت، غابرو، بيريدوتيت.
- الصخور الناتجة عن (4): ميغماتيت.
- الصخور الناتجة عن (5): أنديزيت، غرانوديوريت (ل.ط).
- الصخور الناتجة عن (5): شيست أزرق، إكلوجيت (ل.غ).
4- الشواهد الدالة على حركة بانة للجبال:
- سلسلة الأفوليت: تدل على التباعد.
- ميغماتيت: يدل على التصادم.

التمرين 4:

- 2- برنس اللوح الطافي
3- انصهار جزئي لبرنس اللوح الطافي
4- آلية تشكل الصخور الناشئة على مستوى البرنس الطافي لمناطق الغوص.
2- تميه برنس اللوح الطافي.
4- تشكل صخور الغرانوديوريت.

التمرين 5:

- 1- تقع منطقة جيغل وتاكسانة على لوح الألبوران.
2- تدل صخور البازلت الكتلي، الفليش، بييدوتيت، البازلت الوسادي على المرحلة التباعدية.
يدل صخر الميغماتيت على المرحلة التصادمية.
3- الأدلة على وجود تقارب قاري هي: الطيات والقوقال العكسية التي تميز صخور الفليش.
4- تتميز السلسلة المغاربية بثلاث مراحل:
- تباعدية: تتميز بفتح حوض التيتيس بين اللوح الأوروبي واللوح الإفريقي.

- تقاربية : تتميز بغلق الحوض المتشكل بين اللوح الأوروبي واللوح الإفريقي.
- تصادمية: تتميز بالتحام أجزاء من اللوح الأوروبي ممثلة بميكرو قارة الأليوران مع اللوح الإفريقي.

5- تعتبر السلسلة المغاربية جزء من السلسلة الألبية المتشكلة خلال الدور الألبى.

التمرين:6

1-العنوان: آلية تشكل الصخور النارية على مستوى مناطق البناء ومناطق الغوص.
2-البيانات:

1- جزر بركانية (نقاط ساخنة).
2- ظهرة وسط محيطية.

3- بركان اللوح الطافي.
4- منطقة الغوص.

5- لوح محيطي.
6- برنس منصهر جزئيا.

7- برنس مميّه منصهر.
8- البرنس السفلي.

9- برنس.
10- تيارات الحمل.

1- الصخور الناشئة على مستوى مناطق الغوص: الأنديزيت و الغرانوديوريت.

2- الصخور الناشئة على مستوى مناطق البناء: البازلت، الغابرو والبيريدوتيت.

التمرين:5

العنوان: آلية تشكل الماغما على مستوى الظهيرات وسط محيطية.

البيانات: 1-رسوبيات بحرية. 2- قشرة محيطية عليا (بازلت).

3 - قشرة محيطية متوسطة (غابرو). 4- برنس علوي.

5 - برنس علوي منصهر. 6- ماغما متمايز.

7 - غرفة مغماتية.

3-يتشكل الماقما نتيجة صعود البرنس العلوي حيث ينصهر البيريدوتيت جزئيا. تتجمع الصهارة في الغرفة المقماتية أين تتمايز إلى سائل علوي خفيف غني بالمعادن السيليكاتية وبلورات حديدية مغنيزية في الأسفل، يتصلب السائل العلوي مشكلا البازلت وتتصلب البلورات الثقيلة مشكلة على التوالي من الأعلى إلى الأسفل الغابرو والبيريدوتيت.

تصويب الأخطاء

الو حد ة	النشاط	الصفحة	السطر	الخطأ	الصواب
1	2	246	السطر الأول	دراسة مخطط بنيوف	(2) دراسة مخطط بنيوف
1	2	247	السطر الأول	سحت	سمحت
1	3	250	السطر السادس	التيارات	تيارات
1	3	250	السطر الثالث والعشرون	زيادة عنوان	(4) نمذجة حركة تيارات الحمل على مستوى الكرة الأرضية:
1	3	252	السطر الأول	(4) مقارنة بين ناقلية الصخور ونقلية قطعة حديد	(5) مقارنة بين ناقلية الصخور وناقلية الحديد:
2	أستثمر وأوصف معلوماتي	284	السطر الثالث في الجدول	رسوبات غير متماسكة	رسوبات متماسكة
2	أستثمر وأوصف معلوماتي	283	السطر الثاني في التمرين الثالث	أثر	تم إستخراج
2	أستثمر وأوصف معلوماتي	286	السطر السادس في التمرين السادس	ماهي سرعة الموجات الزلزالية	ما هي سرعة الموجات الزلزالية (أ)
3	2	293	السطر الواحد والعشرون	2- وضح برسم	3- وضح برسم
3	2	293	السطر الخامس والعشرون	الوثيقة (8)	الوثيقة (9 ب)
3	3	294	العنوان	تشكل التضاريس المميزة	تشكل الصخور المميزة
3	3	294	السطر الرابع	زيادة عنوان	أ- دراسة صخور قاع المحيط:
3	3	298	السطر العاشر	في الأنابيب الثلاثة بعد ساعة من التسخين.	في الأنابيب الثلاثة.

المجال (2) لشعبة الرياضيات الإنسان وتسيير الكوكب

تعتبر مصادر تلوث الماء
عديدة ومتنوعة و ناتجة
كلها عن نشاطات الإنسان
في شتى المجالات،
الزراعية منها والصناعية.

إن نسبة الغازات الجوية ثابتة، لكن
نشاطات الإنسان أدت إلى إحداث
خلل في هذه النسبة و ذلك
بظهور غازات جديدة ناتجة عن
التطور الصناعي و التي أثرت
سلبا على الغلاف الجوي وبالتالي
أدت إلى تلوثه.

تتميز النظم البيئية بتوازنها
المستمر الناتج عن
التفاعلات القائمة بين
مختلف عناصره، وعلى
الإنسان المحافظة على
هذه العلاقات القائمة حتى

إن الإنسان بتقدمه العلمي
و التكنولوجي قادر على أن
يحافظ على بيئته وذلك
باستعمال مصادر جديدة و
نظيفة للطاقة.

لا شك أن التلوث البيئي بكل
أشكاله يؤثر سلبا على النظم
البيئية بما فيها الإنسان حيث
ينجر عنها أمراض متعددة
كالسرطان وال...

المجال الثاني للشعبة الرياضية: الإنسان وتسيير الكوكب

النص:

يستغل الأستاذ النص في لفت انتباه التلاميذ إلى أن صمام الأمان لضمان حماية البيئة هو بيد الإنسان ، فهو باستغلاله للاعقلاني يسمح بحدوث اختلالات في التوازن البيئي و بالتالي تدمير الكوكب ، بإمكانه أيضا المحافظ عليه وذلك بترشيد متطلباته.

الصورة: تهدف صور المجال إلى إظهار بعض نشاطات الإنسان و تأثيراتها السلبية بالإضافة إلى قدرته على التأثير الإيجابي للحفاظ على التوازن البيئي و مستقبل الكوكب. و ضرورة الحفاظ على بعض الموارد الطبيعية الضرورية للحياة كالماء. فهي توضح إنبعاثات الغازات المسببة للاحتباس الحراري و تأثيرها على طبقة الأوزون مع إمكانية أن يستعمل الإنسان تقنيات نظيفة لتحسين معيشته باللجوء إلى استغلال مصادر أخرى لطاقة نظيفة مثل الطاقة المائية، الهوائية و الشمسية.

الوحدة الأولى : العلاقة بين نشاطات الإنسان و التلوث الجوي

النص: يهدف نص الوحدة إلى استقصاء المعلومات من خلال الوثيقة المركبة ثم إيجاد العلاقات المنطقية بينها والخروج باستنتاج أن التلوث الجوي مرتبط بنشاطات الإنسان. * الهدف التعليمي لهذه الوحدة هو التعرف على مصادر تلوث الجو. توضح صور الوحدة الغازات المنبعثة من مصادر شتى والتي تؤدي إلى تغير في التركيب الكيميائي للجو فينجر عنه تساقط الأمطار الحمضية وتناقص سمك طبقة الأوزون و ظاهرة الاحتباس الحراري.

النشاط 1 - التذكير بالمكتسبات (المحيط والأنظمة)

- يهدف هذا النشاط إلى التذكير بالمكتسبات القبلية حول النظم البيئية والعناصر الحيوية و اللاحوية المكونة لها والقدرة على استرجاع المعارف التي تم التطرق إليها في السنوات السابقة.
- السؤال 1: يهدف هذا السؤال أن يسترجع التلميذ معارفه حول النظم البيئية المختلفة التي قد سبق وأن تعرف عليها في التعليم المتوسط.
- السؤال 2: يهدف السؤال إلى استخراج العناصر الحيوية (وحدة حياتية) و اللاحوية (مدى حيوي جغرافي).
- السؤال الاستخلاصي: يهدف السؤال إلى دفع التلميذ استخلاص النظام البيئي بتعريف مناسب له انطلاقا من معطيات النشاط.

النشاط 2 – مصدر التلوث الجوي.

النص : يهدف النص إلى إظهار أن مصادر تلوث الجو هي نشاطات الإنسان.

النشاط الجزئي 1:

يظهر هذا النشاط التلوث الهوائي في وسطين أحدهما صناعي و الثاني حضري و مصادر هذا التلوث.

السؤال 1: يهدف السؤال من خلال الصور المقدمة للتلميذ أن الغازات المنطلقة ناتجة عن نشاط الإنسان و أهم غاز هو غاز ثاني أكسيد الكربون.

السؤال 2: يستغل التلميذ نفس الصور السابقة ويحاول من خلالها اقتراح تعريفا مختصرا للتلوث، وذلك قصد تنمية قدرات التلاميذ على التعبير العلمي واللغوي الدقيق.
النشاط الجزئي 2

يهدف هذا النشاط الجزئي إلى تنمية قدرات التلاميذ على قراءة الجداول بدقة والمقارنة بين معطياتها ثم الخروج باستنتاجات علمية مفيدة .

السؤال 1: تهدف المقارنة بين التركيب الكيميائي للوسطين باستخراج التلميذ الغازات ثابتة و الغازات غير الثابتة. السؤال 2: يهدف حساب الزيادة بأنها ناتجة عن نشاطات الإنسان.

السؤال 3: يهدف هذا السؤال التركيز على غاز CO2 وتقدير نسبة زيادته في الجو من مجموع الغازات الأخرى.

السؤال 4: يستنتج التلميذ من خلال كل ما سبق أن أحد الغازات المسؤولة عن التلوث الجوي هي غاز CO2.

النشاط 3 – الاحتباس الحراري

النشاط الجزئي 1: يهدف هذا النشاط إلى تعريف مفهوم الاحتباس الحراري انطلاقا من تجربة بسيطة يحاكي بها ما هو موجود في الطبيعة. وذلك بإنجاز نموذج، ثم قياس درجة الحرارة في الحيزين في أزمنة مختلفة وملاحظته لاختلاف درجة الحرارة في الحيزين لاستنتاج دور الغطاء الزجاجي و ما يقابله في الطبيعة و أخيرا يستنتج كيفية حدوث هذه الظاهرة في الطبيعة وأهميتها في تنظيم معدلات درجات الحرارة في الجو.

السؤال 1: يهدف السؤال إلى فتح المجال للتلاميذ للممارسة اليدوية، باستعمال الوسائل المخبرية بسيطة والمتوفرة في المؤسسات التربوية كما يمكن للتلاميذ استغلال قدراتهم ومهاراتهم في انجاز نماذج أخرى تفي بنفس الغرض.

السؤال 2: يهدف هذا السؤال التحسيس بأهمية التجربة و أنها من إنجاز التلميذ وعليه أن يتتبع القياسات حسب معطيات الجدول و تدوينها على مصنفه بدقة، و منه القياس الفعلي لدرجة الحرارة في الحيزين.

السؤال 3: يهدف السؤال إلى وجود اختلاف بين درجات الحرارة المسجلة في الحيزين.

السؤال 4: يهدف السؤال إلى استنتاج دور الغطاء الزجاجي الشفاف في اختلاف درجة الحرارة في الحيزين.

السؤال 5: ثم يحاول التلميذ أن يربط بين العناصر المقدمة له في الوثيقة 1 و ما يقابلها في الطبيعة.

السؤال 6: إيجاد العلاقة السببية في اختلاف درجة الحرارة بين الحيزين.

السؤال 7: يقدم التلميذ تفسيرا لاختلاف درجة الحرارة بين الحيزين ثم يقترح تفسيرا لظاهرة الاحتباس الحراري التي تحدث طبيعيا.

النشاط 4 – الغازات ذات الاحتباس الحراري

يهدف هذا النشاط إلى تحديد المكونات الغازية لطبقات الجو و غازات الاحتباس الحراري و تأثير النشاط الصناعي على زيادة نسبة هذه الغازات في الجو.

النشاط الجزئي 1

السؤال 1: يهدف السؤال إلى تنمية قدرات التلاميذ على قراءة الجداول من جهة و مقارنة نتائجها ثم إيجاد الغازات الجوية المتسببة في ظاهرة الاحتباس الحراري.

- السؤال 2: يستنتج التلميذ دور الغازات وكيفية عملها في ظاهرة الاحتباس الحراري و أهمية هذه الظاهرة في حياة الكائنات الحية.
- السؤال 3: من معلومات التلميذ السابقة يحدد مصادر الغازات الطبيعية المتسببة في ظاهرة الاحتباس الحراري.
- السؤال 4: و بنفس الطريقة يحدد مصادر الغازات الصناعية المتسببة في ظاهرة الاحتباس الحراري.
- النشاط الجزئي 2:
- يهدف هذا النشاط إلى تنمية قدرات التلاميذ على تحليل المنحنيات ومقارنتها وإنجاز خلاصات بتعبير لغوي وعلمي دقيق
- السؤال 1: يهدف هذا السؤال لتحليل المنحنيات و استنتاج سرعة تطور إنتاج الغازات ذات الاحتباس الحراري.
- السؤال 2: يبين التلميذ في هذا السؤال أن بعض الغازات تنتج من قبل 1750 ارتفعت كميتها في الجو بشكل كبير ابتداء من 1950 بينما غازات الهالوكربونات فظهرت في الخمسينات وتطورت بسرعة إلى غاية 2000.
- السؤال 3: يهدف هذا السؤال إلى معرفة نسبة زيادة هذه الغازات في فترات زمنية مختلفة.
- السؤال 4: يذكر التلميذ بالاعتماد على معارفه التطور المفاجئ لكمية الغازات منذ 1950.
- السؤال الاستخلاصي:
- يستنتج التلميذ نسبة زيادة كل غاز في مدة زمنية محددة ومقارنة هذه الزيادة وأي غاز أكثر زيادة في هذه المدة.
- النشاط الجزئي 3:
- يهدف هذا النشاط إلى تنمية قدرات التلاميذ من حيث قراءة الجداول وإيجاد العلاقات المنطقية بين المعطيات قصد الخروج باستنتاجات دقيقة.
- السؤال 1: يهدف هذا السؤال إلى تنمية مهارات التلميذ قصد تحويل معطيات عديدة إلى منحني بياني بدقة.
- السؤال 2: وبعد إنجاز المنحني يستخلص متوسط درجة الحرارة على سطح الكرة الأرضية خلال فترة زمنية محددة.
- النشاط الجزئي 4:
- يهدف هذا النشاط إلى تنمية قدرة التلاميذ على قراءة المنحنيات والمقارنة بينها في نص بأسلوب لغوي وعلمي دقيق.
- السؤال 1: يهدف هذا السؤال إلى إيجاد علاقة سببية بين زيادة نسبة غاز ثاني أكسيد الكربون وارتفاع درجة حرارة الكرة الأرضية في فترات زمنية مختلفة.
- السؤال 2: يعلل نسبة زيادة تركيز غاز ثاني أكسيد الكربون في الفترة ما بين (1940 - 2000).
- السؤال 3: تنمية مهارات التلميذ على إيجاد العلاقة بين زيادة الغازات في الجو وارتفاع درجة الحرارة وظاهرة الاحتباس الحراري.
- السؤال الاستخلاصي:
- يهدف هذا السؤال إلى التعرف على مفهوم الانحراف وتحديد متوسط الانحراف حيث يستنتج من خلاله زيادة درجات الحرارة.
- النشاط الجزئي 5:
- يهدف هذا النشاط إلى إظهار التغيرات البيئية الحقيقية الملحوظة في مناطق مختلفة من العالم وعلاقتها بارتفاع درجة الحرارة. و توعية التلاميذ بخطورة ارتفاع درجة حرارة الكوكب.
- السؤال 1: يستنتج التلميذ الاختلاف الحاصل في كمية الثلوج الموجودة في الصورتين وفي سنوات مختلفة.
- السؤال 2: يربط العلاقة بين ارتفاع درجة الحرارة بسبب الاحتباس الحراري و ذوبان الثلوج.

السؤال 3: يهدف هذا السؤال إلى إيجاد العلاقة السببية بين تغير درجة الحرارة وارتفاع منسوب المياه البحر بدلالة الزمن وأن منسوب مياه البحار في زيادة مستمرة منذ 1940.
السؤال 4: وهو أن ذوبان الجليديات سيؤدي حتما إلى ارتفاع منسوب مياه البحار.
أن أي خلل أو تغير في الظواهر المناخية ينجر عليه العديد من المخاطر لاسيما تكون الأعاصير المدمرة ومثال عن ذلك إعصار كاترينا Catrina الذي ضرب الولايات المتحدة الأمريكية في 28 أوت 2005 حيث اجتاحت مدينة أورليون الجديدة (nouvelle orleans).
النشاط الجزئي 6:

يهدف هذا النشاط إلى توعية حول خطورة هذه الغازات، ويستنتج التلميذ أن خطورة هذه الغازات لا يكمن في نسبتها في الجو فحسب بل في مدة بقائها وتأثيرها فيه.
السؤال 1: يحلل التلميذ المعطيات وذلك بالتعرف على نوعية الغازات ومصادرها المختلفة ومدتها بقائها في الجو.

السؤال 2: إن هذه الغازات هي التي تساهم بشكل أساسي في ظاهرة الاحتباس الحراري و أن مصدرها هو نشاطات الإنسان المختلفة.
السؤال 3: وأن خطورة هذه المواد يكمن في مدة بقائها في الجو وصعوبة التخلص منها في فترات قصيرة.

يمكن لفت انتباه التلاميذ إلى التفكير في استخدام تقنيات جديدة للتخلص من هذه الغازات عن طريق الشبكة المعلوماتية العالمية (Internet).
النشاط الجزئي 7:

أن بعض غازات الاحتباس الحراري قد تتفاعل في الجو مع بخار الماء مشكلة مواد كيميائية ذات طبيعة حمضية والتي تذوب في الماء، وعند سقوط الأمطار تسقط معها هذه المواد مشكلة الأمطار الحمضية.

السؤال 1: يحدد التلميذ بالاعتماد على المعادلات الكيميائية (المواد المتفاعلة) أن مصدرها بعض الظواهر الطبيعية كالبراكين والنشاطات الصناعية التي يقوم بها الإنسان.
السؤال 2: أما نواتج التفاعل فهي عبارة عن مواد كيميائية ذات طبيعة حمضية (حمض الازوت+حمض الكبريت).
أما الوثيقة 12

السؤال 1: فتبين الدول المتسببة في انبعاث مثل هذه الغازات وكميتها.
السؤال 2: إن زيادة نسبة هذه الغازات في الجو يؤدي إلى التلوث الجوي بالغازات السامة واحتمال سقوط أمطار شديدة الحمضية التي تؤثر على درجة حموضة البرك والمستنقعات مما يؤدي إلى موت بعض الكائنات الدقيقة مما يؤدي إلى خلل في السلسلة الغذائية وبالتالي اختلال توازن النظم البيئية.

و الوثيقة 13 : تبين باحث يقيس في درجة حموضة البرك بعد سقوط الأمطار الحمضية الناتجة عن الغازات الملاحظة في التفاعلات الكيميائية السابقة.

أما الوثيقة 14: تظهر تأثير الأمطار الحمضية على الكائنات الحية وكذا بعض المعالم الأثرية.
السؤال 1: إن حموضة الأمطار تؤثر على البيئة فتحدث خللا في السلاسل الغذائية وإضعاف مردود النباتات كما تؤثر مع مرور الوقت على المعالم الأثرية المصنوعة من الرخام خاصة و الصخور الكلسية عامة، فتذهب ملامحها وقد تزول الأشكال المنحوتة على مثل هذه الصخور.

السؤال 2: تؤدي الأمطار الحمضية بتفاعلها مع الكلس الذي يعتبر ملاطا جيدا إلى تفتت حبيبات التربة وتحطم نسيجها مما يؤدي إلى زيادة نفاذيتها و مساميتها للماء، كما تؤدي إلى غسل العناصر الكيميائية الضرورية لنمو النباتات.

أما الوثيقة 15: فتبين خريطة العالم و توزع الأمطار الحمضية الغازات المتسببة فيها..
السؤال 1: إن الأمطار الحمضية مرتبطة بالغازات المتسببة فيها حيث لا نلاحظ هذه الأمطار إلا في الدول الصناعية التي تنبعث منها. وقد تسقط مثل هذه الأمطار في مناطق غير

صناعية لأسباب عديدة نذكر منها:
- يمكن للرياح أن تقود هذه الأمطار إلى دول غير صناعية.
- ثوران البراكين يؤدي إلى انبعاث كميات كبيرة من هذه الغازات و عليه فقد تتسبب في سقوط أمطار حمضية في مناطق وبلدان غير صناعية.
السؤال 2: فسح المجال للتلاميذ للإبحار في عالم الشبكة المعلوماتية من جهة وحثه على الدخول إلى المواقع العلمية ليستقي منها المعارف الضرورية المفيدة حول مصادر و تأثير الأمطار الحمضية.

النشاط 5 – تناقص سمك طبقة الأوزون

يهدف هذا النشاط أولا تحديد منطقة طبقة الأوزون في الغلاف الجوي، سمكها، تطورها، دورها، و أهميتها.

النشاط الجزئي 1:

السؤال 1: يحاول التلميذ من خلال الوثيقتين التعرف على طبقات الغلاف الجوي.

السؤال 2: يحدد مكان طبقة الأوزون في الغلاف الجوي.

السؤال 3: يستخرج من المقال تعريفا لطبقة الأوزون دورها في امتصاص الكثير من الإشعاعات وأهميتها في المحافظة على حياة الكائنات الحية من هذه الإشعاعات.

النشاط الجزئي 2:

أ – الوثيقة 4

السؤال 1: يستنتج من تحليله للمنحنى تناقص سمك طبقة الأوزون بمرور.

السؤال 2: يحدد التأثير الناجم عن تناقص سمك طبقة الأوزون وذلك بظهور ثقب في الطبقة.

ب – تأثير التطور الصناعي على طبقة الأوزون.

السؤال 1: يعتبر أوكسيد الأزوت الأولي مركبا مستنزفا للأوزون لأن تفاعله يتم على شكل حلقة الوثيقة 5.

السؤال 2: يتشكل الكلور الحر من مركبات الكلوروفلوروكربونات تحت تأثير الأشعة فوق البنفسجية. لأن تفاعله يتم في شكل حلقة الوثيقة 6.

السؤال 3: بالفعل إن ذرة كلور واحدة تحطم آلاف الجزيئات من الأوزون، لأن الكلور يتفاعل مع الأوزون فيتشكل أوكسيد الكلور الأحادي الذي يتفاعل مع ذرة الأوكسجين ليتشكل ثنائي الأوكسجين و تتحرر بعد ذلك ذرة الكلور وتدخل في نفس التفاعل السابق.

النشاط الجزئي 3:

تمثل الوثيقة 7 صورة جوية من جهة القطب المتجمد الجنوبي.

السؤال 1: يحدد التلميذ أن تركيز يكون ضعيفا في مستوى القطب المتجمد الجنوبي ويزداد تركيز هذه الطبقة كلما ابتعدنا عنه.

السؤال 2: المنطقة الأقل سمكا هي منطقة المتجمد الجنوبي.

السؤال 3: إن الأشعة فوق البنفسجية تعمل على تحلل غازان الهالوكربونات التي تحرر الكلور الذي يتفاعل مع الأوزون فتقل سمك طبقة الأوزون.

السؤال 4: تتمثل أهمية سمك طبقة الأوزون في الوقاية من الأشعة فوق البنفسجية التي تؤثر على حياة الكائنات الحية.

النشاط الجزئي 4:

السؤال 1: يحلل المعطيات بأن في عام 1979 كان ثقب الأوزون صغيرا مقارنة بالثقب في سنة 1999 يستخلص التلميذ أن سمك الطبقة في تطور مستمر.

السؤال 2: باعتبار أن طبقة الأوزون تعتبر الطبقة الواقية من الإشعاعات فإن استنزافها يؤدي بالضرورة إلى نفاذ الأشعة فوق البنفسجية المصرة بصحة الإنسان و حياة الكائنات الحية.

النشاط الجزئي 5:

يوضح المقال الصحفي تأثير تناقص سمك طبقة الأوزون وتأثيرها على صحة الإنسان، بالإضافة إلى الصور الحية المتعلقة بسرطان الجلد الناتج عن التعرض للأشعة فوق البنفسجية وكذا أمراض العيون، بالإضافة إلى تأثيرات أخرى على الكائنات الحية الحيوانية منها والنباتية.

على الأستاذ توجيه التلاميذ في مثل هذه الحالات إلى البحث في المصادر المختلفة (كتب، مجلات، صحف، انترنت، ...) حتى تكون الرؤيا واضحة لدى التلاميذ للأخطار المحدقة بكوننا بسبب تناقص سمك طبقة الأوزون، ومن ثم اقتراح حلولاً على أسس علمية للحد من تناقص سمك طبقة الأوزون.

الوحدة الثانية : مصادر تلوث الماء

الهدف التعليمي للوحدة النص : يهدف إلى التحسيس بأهمية الماء و مصادر تلوثه

صور الوحدة : تقدم صورة الوحدة مياه طبيعية غير ملوثة وبفضلها تنبعث الحياة كما تظهر صورلميه جارية مدى تعبر عن أهية انتعاش الروح عند تناول كوبا من الماء البارد . بالإضافة الى ذلك تقدم صورة لماء مالوث نتيجة المخلفات الصناعية أو الزراعية وبالتالي خطرذلك على الحياة .

الاشكالية : ما هي النشاطات السلبية التي يقوم بها الانسان و تؤدي إلى تلوث الماء.

النشاط 1: تلوث الماء

يهدف هذا النشاط إلى تحديد المقاييس التي يعتمد عليها في تصنيف المياه .

وضعية الانطلاق : يقود الاستاذ التلاميذ للتوصل إلى أهمية الماء في الحياة و العواقب الوخيمة التي تنجر عن ذلك عند حدوث تلوث للماء، وتعتبر درجة التلوث مقياساً لتصنيف المياه .

النشاط الجزئي الاول:

يهدف إلى استخراج المعلومات من مقارنة نتائج تجريبية حيث يتوصل التلميذ من .

السؤال -1- و -2- إلى أن نسبة السدود ذات المياه المصنفة بالنوعية المتوسطة قليلة جدا بالنسبة

إلى نسبة السدود ذات المياه المصنفة بالنوعية الملوثة والملوثة جدا .

و سبب تلوث أغلبية هذه السدود هو رمي المخلفات الصناعية , بصورة فوضوية وغير مراقبة في الوديان التي تصب في هذه السدود .

النشاط الجزئي 2 :

يهدف هذا الجزء على ابرازقدرة التلميذ على التحليل واستخراج المعلومات .

السؤال (1: يهدف اظهارقدرة التلميذ على التحليل والاستنتاج بحيث يصل التلميذ إلى الاستنتاج التالي : استهلاك العالمي للماء يتزايد سنويا .

السؤال 2 : يهدف إلى اظهار قدرة التلميذ على توظيف المعلومات انطلاقا من معطيات تجريبية . حيث يصل التلميذ إلى استنتاج عواقب التغيرات المتمثلة في ارتفاع نسبة السدود ذات المياه الملوثة هذا يؤول إلى خطورة كبيرة على حياة الانسان .

النشاط 2 : التلوث المرتبط بالنشاط الزراعي

يهدف هذا النشاط إلى تحديد المصادر الزراعية المسببة لتلوث المياه .

وضعية الانطلاق : يلفت الاستاذ انتباه التلاميذ مدى أهمية الماء للحياة على كوكب الارض ، ليصل الى طرح اشكالية امكانية تلوث الماء بتدخل النشاط الزراعي .

النشاط الجزئي الأول:

يهدف إلى تنمية قدرة التلميذ على استقصاء المعلومات انطلاقا من تحليل وثائق .

السؤال 1: يهدف إلى ابراز قدرة التلميذ على التحليل و الاستنتاج

حيث يتوصل التلميذ -إلى وجود تزايد لكمية الاسمدة الازوتية سنويا .

السؤال 2 : يهدف إلى اظهار قدرة التلميذ على استغلال المعلومات حيث يصل التلميذ إلى تعليل استعمال الاسمدة و المبيدات بنسبة عالية انطلاقا من معطيات تجريبية : وهذا يعود لزيادة الكتلة الانتاجية نظرا لزيادة الانفجار الديموغرافي .

النشاط الجزئي الثاني:

يهدف إلى إلى استقصاء المعلومات و تطبيقها في وضعيات جديدة :

السؤال 1 : يهدف إلى ابراز قدرة التلميذ على التحليل والاستنتاج بحيث يتوصل التلميذ إلى تحليل نتائج الجدول و يستنتج أن تركيز النترات يتزايد سنويا .

السؤال 2: يهدف إلى تطبيق المعلومات بحيث يستخلص بأن درجة تلوث المياه الجوفية المبينة في الجدول ملوثة جدا .

السؤال 3-: يهدف إلى إستنتاج تأثير استعمال الاسمدة والمبيدات الكيميائية بنسب متزايدة انطلاقا من معطيات تجريبية بحيث يستنتج أن، استعمال المفرط للاسمدة يؤدي إلى تلوث المياه السطحية والجوفية .

السؤال الاستخلاصي: يهدف إلى ابراز قدرة انجاز التلميذ على انجاز الخلاصات إنطلاقا باستغلال معطيات حيث يصل التلميذ إلى مايلي :

1- مصدر مياه الامطار هي مياه البحار و الوديان المتبخرة .

2- مصير مياه الامطار المتسلقة على المناطق الزراعية هي التسرب في التربة مشكلة مياه جوفية أو تبقى على سطح التربة مشكلة مياه سطحية .

3- مميزات المياه الجوفية والسطحية حسب معطيات المخطط هو التلوث بالاسمدة

4- يمثل تسلسل الارقام(1 -و 2-و 3-و 4-و 5) دورة المياه في الطبيعة .

النشاط 3 التلوث المرتبط بالنشاط الصناعي .

يهدف هذا النشاط إلى كيفية تلوث المياه بالمخلفات الصناعية
وضعية الانطلاق : يطرح الاستاذ اشكالية وجود مصادر أخرى لتلوث الماء كالنشاط الصناعي.

النشاط الجزئي 1 :

يهدف هذا النشاط إلى ابراز قدرة التلميذ على إستقصاء المعلومات التي لها علاقة
بالموضوع .

السؤال 1: يهدف إلى تنمية قدرة التلميذ على التحليل و الاستنتاج فالولايات ذات النفايات
المرتفعة هي الأكثر تلوثا

السؤال 2: يهدف إلى استغلال المعلومات انطلاقا من معطيات الوثيقة إذ يتوصل التلميذ في
لمعرفة الولايات ذات النشاط الصناعي .

النشاط الجزئي 2 :

يهدف إلى اختيار المعلومات التي لها علاقة بالموضوع

السؤال 1: يهدف إلى معرفة .مصدر المياه الملوثة حيث يتوصل التلميذ إلى أن مصدر
المياه الملوثة هي المصانع

السؤال 2: يهدف لتطبيق المعلومة حيث يتوصل التلميذ لمعرفة مصير المياه الملوثة الذي
يتمثل في التجمع في السدود أو التسرب في طبقات الارض حتى تصل إلى المياه الجوفية

السؤال الاستخلاصي :يهدف لدفع التلميذ على تنمية القدرة على إنجاز خلاصة فيما
يخص عواقب المخلفات الصناعية على المياه السطحية و الجوفية انطلاقا من المعلومات
السابقة .

من الوثيقة 4: يتوصل التلميذ من خلال السؤالين 1 و2 إلى استقصاء المعلومات حيث يصل
التلميذ إلى ان مدة تجدد المياه تختلف حسب نوع المستودع .وان التخلص من تلوث
المياه الجوفية يكون صعب جدا و ذلك للمدة الطويلة التي تستغرقها المياه الجوفية كي
تجدد . .

النشاط الجزئي 3 :

يهدف هذا الجزء إلى تطبيق المعلومات في وضعية جديدة حيث يتوصل التلميذ من السؤال
1- التمكن من شرح الكوارث البيئية التي تسببها الحوادث

السؤال الاستخلاصي : . يهدف إلى ابراز قدرة التلميذ على إنجاز خلاصة انطلاقا من
معطيات .

الوثيقة 8 تخص مصادر تلوث الماء وبعد ذلك يقترح حلول لتفادي ذلك لدفع التلميذ على
الابداع الفكري .

تصويب الأخطاء

الصفحة	العنوان	السطر	الخطأ	الصواب
110	وحدات المجال	8	التأثير الإيجابي للإنسان على مستقبل الكوكب	العلاقة بين نشاطات الإنسان والتلوث الجوي
110	وحدات المجال	11	رهانات من أجل بيئة متوازنة	التأثير الإيجابي للإنسان على مستقبل الكوكب
134	السؤال 2	2	الصفحة 132	الصفحة 131
138	الحصيلة المعرفية	النشاط 2 و النشاط 3	بالتلوث الزراعي وبالتلوث الصناعي	بالنشاط الزراعي و النشاط الصناعي

الوحدة3:الحالات الصحية المرتبطة بالتلوث

الهدف التعليمي من الوحدة : تهدف الوحدة إلى دراسة تأثير التلوث على الصحة و الإحتياجات التي يجب اتخاذها .
وضعية الإنطلاق:يمكن أن ينطلق الأستاذ من عرض صور لبعض الأمراض الناتجة عن التلوث ليقود الطلبة إلى التساؤل حول أهم الأمراض الناتجة عن التلوث و كيفية الوقاية منها.

النشاط 1:الأشعة ما فوق البنفسجية .

وضعية الإنطلاق :الهدف التعليمي من النشاط:
الوثيقتين 1و2.

1- مصدر الأشعة ما فوق البنفسجية .

تهدف الأسئلة المطروحة إلى معرفة

1-1 :مصدر الأشعة الصادرة عن الشمس مع التركيز على الأشعة ما فوق البنفسجية .

1-2 :سؤال عام يبين أن الأشعة ما فوق البنفسجية هي التي تقع ما بعد الإشعاعات

البنفسجية المرئية .

1-3 :إن الإستغلال الجيد للوثيقتين يمكن من التوصل إلى أنواع الإشعاعات ما فوق

البنفسجية . UVA-UVB-UVC و طول موجاتها .

2-مفهوم معامل الأشعة ما فوق البنفسجية

الوثيقة:3

3-1+2-3: في هذا الجزء يستحسن للأستاذ أن يقود طلبته إلى أن رغم تباين قيم معامل

UV فإن مدة التعرض لهذه الأشعة هي التي تؤدي إلى الإصابة و أنه كلما كان شدة

المعامل كبيرة كلما كانت المدة صغيرة للإصابة .

العلاقتين 1و2 + الوثيقة 4.ص.141

1-4: يهدف هذا السؤال إلى تمكين الطالب من تطبيق العلاقتين لإيجاد الزمن للإصابة

بالضربة الشمسية حيث العوامل المؤثرة عليه هي من جهة لون البشرة و معامل UV.

زمن التعرض للإصابة عند الشخص ذو جلد عادي :

زمن التعرض للإصابة عند الشخص ذو جلد فاتح:

2-4: يهدف هذا السؤال إلى التوصل إلى مايلي:

أن زمن اللازم للإصابة تؤثر فيه عوامل منها:

• لون البشرة : الفاتحة أكثر تعرضا من غيرها .

• معامل UV

الوثيقتين 5و6:

1-6: يهدف هذا السؤال إلى استخراج العوامل المؤثرة على شدة UV و المتمثلة :

* طبقة الأوزون

* العلو

* زمن التعرض

* الفصل....

النشاط 2:وجود بعض الغازات في الجو .

الهدف التعليمي من النشاط: يهدف هذا النشاط إلى دراسة بعض الأمراض المرتبطة بالتلوث و طرق الوقاية مكنها .

وضعية الإنطلاق : يمكن استغلال وثائق تظهر صور لأشخاص مرضى بأحد أمراض الناتجة

عن التلوث لنقود التلميذ إلى التساؤل ما السبيل للوقاية منها.

استغلال الوثائق :

الوثائق 1-2-3:

تهدف دراسة هذه الوثائق إلى :

- 1-1: التوصل أن المناطق الأكثر عرضة للإصابة هي: الذراعين ،الوجه،العينين
- 2-1: تمكن الوثيقة 1 أن الإشعاعات UVA هي الأكثر اختراقاً للجلد .
- 3-1: تهدف الوثيقة 3 إلى إعطاء حالات حقيقة تظهر من جهة مناطق تأثير الأشعة ومن جهة أخرى بعض الأعراض الناتجة .
- 1-4 و 5-1: يهدف السؤالين إلى تحسيس الطلبة بخطورة التعرض للإشعاعات خاصة أثناء حدوث بعض الظواهر الطبيعية .

الإحتياطات الواجب اتخاذها : - استعمال مراهم واقية

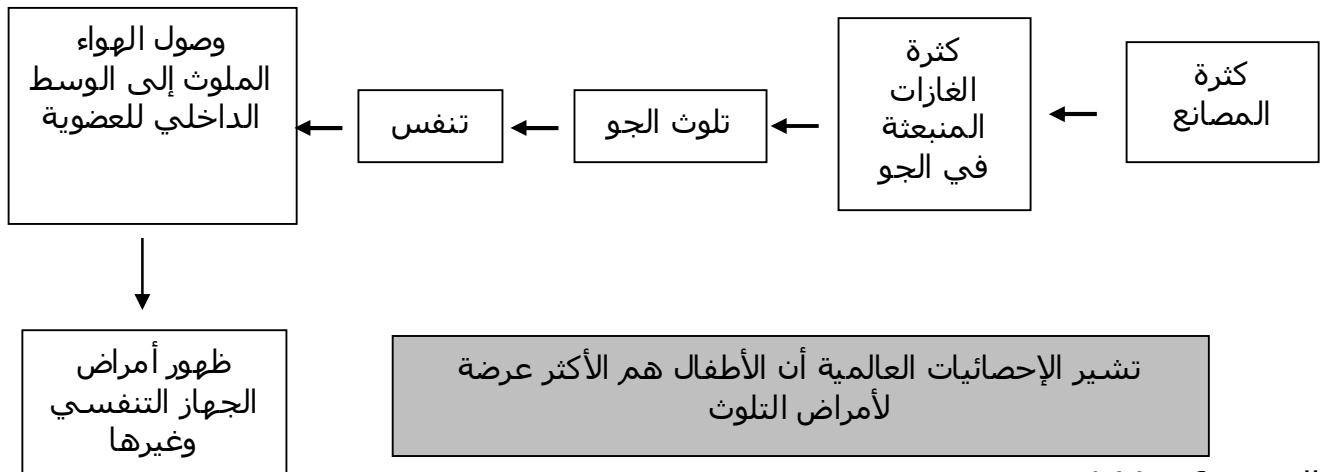
- لباس واق من الإشعاعات .
- وضع نظارات شمسية .
- وضع قبعات واقية
- اجتناب الأشعة في أوقات معينة من اليوم مثل الزوال.....

الوثيقتين 4 و 5:

1-4: يهدف هذا السؤال إلى التوصل أن الوسط الخارجي يؤثر على الحالة الفزيولوجية للعضوية إذ يعتبر الجهاز التنفسي ممر للغازات الملوثة إلى الوسط الداخلي عن طريق استنشاق الهواء.

4

2- تعتبر المصانع مصدر أساسي للغازات الملوثة للجو .
العلاقة :



الوثيقة 6 ص 144

غالبا ما نربط التلوث بالمصانع و المشاريع الكبرى لكن دراسة الوثيقة 6 تبين أن تأثير التدخين على صحة الفرد لا يقل أهمية عن تأثير الملوثات الأخرى .

تمكن دراسة نتائج هذه الوثيقة من :
1-6 و 2-6:

التدخين يسبب ظهور بعض الامراض فالسرطان السيئ للدم و انخفاض درجة الحرارة بينان
تأثير التدخين (النيكوتين) على الأوعية الدموية .
3-6 و 4-6: يمكن استغلال هذان السؤالان لتوعية الطلبة حول ضرر التدخين على الفرد
،على المحيط حيث بينت بعض الدراسات المعطيات التالية :

تعاطي السجائر يؤدي إلى انخفاض مدة الحياة ب:
- 2 إلى سنوات عند تعاطي 10 سجائر يوميا .
- 5 إلى 7 سنوات عند تعاطي 20 سجائر يوميا
- 8 إلى 10 سنوات عند تعاطي 40 سجائر يوميا

ملاحظة : الإحصائيات المقدمة في الصفحة 145 تعطي فكرة عن الأمراض المرتبطة بالتلوث
وبالتالي ينصح الإطلاع على تقارير أخرى لمنظمات عالمية ليأخذ الطالب صورة واضحة عن
خطورة تدهور صحة الإنسان نتيجة تلوث البيئة وبالتالي يساهم في اقتراح حلول و تطبيق
التوجيهات الخاصة بالمحافظة على بيئة نظيفة غير ملوثة .

الوحدة 4 : التأثير الإيجابي للإنسان على مستقبل الكوكب

تهدف الصور الموضحة إلى لفت انتباه التلاميذ أن بعض مصادر الطاقة غير الملوثة للجو بصفة
خاصة و للمحيط بصفة عامة، و المتمثلة في الطاقة الشمسية، المائية و الهوائية، بالإضافة
إلى وجوب الإكثار من التشجير وزيادة المساحات الخضراء التي تعمل على امتصاص غاز
ثاني أكسيد الكربون.

النشاط 1 – رهانات دولية من أجل بيئة متوازنة.

النشاط الجزئي 1

شعورا بالخطر الذي يدهم الإنسان وبيئته قامت الأمم المتحدة باجتماع على مستوى
القمة بمدينة ريو دي جانيرو ب البرازيل سنة 1992 وسمي هذا اللقاء بقمة الأرض وهو
بمثابة دق ناقوس الخطر عن انبعاث بعض الغازات المتسببة في الاحتباس الحراري و ما
ينجر عنه من عواقب وخيمة على الإنسان وبيئته، حيث تلت هذا اللقاء مجموعة من
اللقاءات كلها يتمحور حول الاحتباس الحراري والغازات المتسببة فيه والتقليل من انبعاث
مثل هذه الغازات.

السؤال 1: أهم الغازات المتسببة في ظاهرة الاحتباس الحراري المذكورة هو غاز ثاني
أكسيد الكربون.

السؤال 2: الدول المتسببة في هذا التلوث هي الدول الصناعية وعلى رأسهم الولايات
المتحدة الأمريكية.

السؤال 3: الاقتراحات تتمثل في:

- أ - التقليل من انبعاث الغازات المتسببة في ظاهرة الاحتباس الحراري.
- ب- تطوير مشاريع تعمل بالطاقات المتجددة (الطاقة الشمسية، طاقة الرياح، الطاقة المائية
عن طريق إنشاء السدود).
- ج- زيادة المساحات الخضراء والتشجير التي تساعد على امتصاص غاز ثاني أكسيد
الكربون من الجو.

النشاط 2 - إدخال تكنولوجيات خاصة في الجزائر تستجيب لاتفاقيات كيوتو.

يهدف هذا النشاط لتوضيح مدى اهتمام الجزائر بهذه المشكلة البيئية ومحاولة تفادي الظواهر المتسببة فيها، وعليه لجأت إلى مايلي:

النشاط الجزئي 1

السؤال 1: اختارت الجزائر منطقة الصحراء باعتبارها منطقة تكون فيها مدة بقاء الشمس طويل من جهة وشساعة المنطقة من جهة أخرى وكذلك قلة الغيوم التي تحجبها.
السؤال 2: تتمثل الإيجابيات في أن هذا النوع من الطاقة أنه غير ملوث للبيئة.
النشاط الجزئي 2

كباقي دول العالم عمدت الجزائر إلى وضع مشاريع لحدد من العوامل المؤثرة في البيئة منها :

المشاريع المتعلقة بالنفايات: و ذلك بإنشاء مراكز خاصة لمعالجة و تسيير النفايات المنزلية والصناعية بتقنيات حديثة تسمح بالمحافظة على البيئة والمحيط.

المشاريع المتعلقة بالتلوث الجوي: وذلك بوضع محطات خاصة في المدن الكبيرة لقياس كمية الغازات المطروحة من طرف المصانع والسيارات وتأثيراتها السلبية على الكائنات الحية من جهة والمحيط من جهة أخرى.

المشاريع المتعلقة بالبحث في مجال الموارد المائية: المعالجة والمحافظة على الثروة المائية، السطحية كالبرك، الوديان و المستنقعات وتحديد درجات تلوثها ومعالجة الملوث منها في محطات لتطهير المياه حتى يتم استخدامها في مجالات صناعية وزراعية وتجنب تلويث المياه الباطنية بالملوثات الصناعية والمبيدات الحشرية.

المشاريع المتعلقة بالتربية البيئية: إدخال التربية البيئية والمحافظة على المحيط في المدارس الابتدائية و تحسيس التلاميذ بالمخاطر التي تنجم عن التلوث بشتى أنواعه.
على الأستاذ أن يتطرق لكل المشاريع و لا بأس أن يركز على مناقشة المشاريع التي يراها مناسبة لبيئة التلميذ كالتصحر في المناطق الداخلية للبلاد.

التمارين

يهدف هذا التمرين إلى ربط التلميذ بالواقع و تنمية التربية البيئية عنده، حتى في بيته .. كما ينمي في الطالب دقة الملاحظة ، و الروح النقدية إذ يمكن المساهمة في مناقشات لإيجاد حلول لذا ننصح الأستاذ استغلاله كما ينبغي..

1- يمتاز البيت بكونه غير صحي للأسباب التالية :

- وجود الفرن والسخان في المطبخ الذي لا يحتوي على نافذة ولا أماكن

تهوية خاصة.....مما يؤدي إلى احتباس الحرارة .

2- يهدف هذا السؤال إلى تعويد الطالب على إنجاز مخططات تفسر ظاهرة أو توضح آلية ويستحسن أن يعرض كل تلميذ مخططة المقترح على الطلبة ، وبالمناقشة البناءة يصل الأستاذ مع طلبته على اختيا المخطط الأكثر تعبير أو المتفق عليه بعد المناقشة

3- يفتح هذا السؤال فرصة لتقييم مدى استيعاب الطلبة لموضوع البيئة من خلال الأجوبة التي يقدمونها و على الأستاذ أن يوجه الطلبة في النهاية إلى أن بعض الأمراض تعود إلى وضعية البيت : مثل : * -نقص التهوية أو انعدامها .

*- تدخين بعض أفراد العائلة داخل البيت و بحضور أطفال صغار مما

يجعلهم

عرضة للإصابة خاصة كونهم يقضون كل اليوم في المنزل

التمرين 2:

يعتبر هذا التمرين من تمارينات استرجاع المعلومات المأخوذة في الدرس حيث:

الوثيقة 1:

1- تحليل المنحنيات يمكن الطالب للتوصل إلى استنتاج أن تناقص سمك طبقة الأوزون كان معتبرا في الفترات المعبر عنها باللون الأحمر .

الوثيقة 2:

2- تهدف هذه الوثيقة إلى الإشارة أن سمك طبقة الأوزون تختلف من منطقة لأخرى و تكون سمكها

أقل ما يمكن في القطب .

3- يهدف هذا السؤال إلى تنبيه الطلبة أن المفهوم الدقيق لثقب الأوزون هو المنطقة التي يكون فيها سمك الطبقة أقل ما يمكن .

التمرين 3:

يهدف هذا التمرين إلى حث الطلبة علي تتبع كل المستجدات التي تتعلق بالبيئة بمطالعة كتب مختصة ، و مواقع الأنترنت أو الصحف ..ثم استحضار كل معارفه حول الموضوع لإيجاد تفسير لما يقرؤه حول هذا الموضوع . كما نشير أن هذا التمرين يربط الطالب بمشاكل البيئة الإقليمية والعالمية .

مثال : التقرير المشار إليه. في هذا التمرين استخلص من جريدة الوطن شهر أبريل 2007 .

ملاحظة : يستحسن أن يطلب الأستاذ تلامذته من تحضير التمرين مسبقا في المنزل ليتسنى لهم البحث من جهة و مراجعة دروسهم لأن بعض الأسئلة المطروحة تعتبر حوصلة لما أخذوه في الدرس .

التمرين4:

يهدف هذا التمرين إلى تعويد الطالب على استغلال وثائق و معلومات لشرح ظاهرة معينة .

الوثيقة1:

تمكن الطالب من استخراج أهم الخطوات التي تؤدي إلى تشكل المياه الحمضية من تسرب الغازات إلى الجو أو ترسب بعض النفايات إلى تشكل السحب أو انحلال الترسبات وتشكل المياه الحمضية .

الوثيقة2:

تقدم بعض المعلومات المفيدة لفهم بعض التأثيرات التي تسببها الأمطار الحمضية .

التمرين5:

يهدف هذا التمرين إلى ربط التلميذ بوسطه وتفسير بعض المظاهر فيه .

الوثيقة1:

تبين كيف تؤثر مناطق التفريغ على تلوث المياه الجوفية و السطحية و ذلك بتسرب المواد المنحلة في التربة حتى وصولها إلى المياه الجوفية
بينما تلوث مياه البحر قد يعود إلى وصول مياه الوادي الملوثة أو وصول بعض النفايات
ملاحظة : على الأستاذ أن يستغل السؤال الثاني ليدرس جيدا موضوع الأمراض المرتبطة بتلوث المياه .

التمرين6:

يهدف إلى تنبيه الطلبة إلى خطورة الإشعاعات على البيئة من خلال الوثيقة 2 و كذا بعض الكوارث التي تسبب هلاك الحيوانات من خلال الوثيقة 1.

التمرين7:

إن الوثيقتين 1و2 مأخوذتين من الواقعيؤدي حسن استغلالهما إلى التوصل للتلوث الهوائي الناتج من أدخنة محركات السيارات و إلى التلوث المائي ...
ينجم عن كل تلوث أمراض خاصة المعدية بالنسبة للتلوث المائي أو الأمراض التنفسية بالنسبة للتلوث الهوائي

التمرين8:

يبين أن الأمراض الأكثر تعرضا للضربة الشمسية هي التي تمارس في الهواء الطلق مثل مهنة البستاني أو المنظف..... هذه المهنة تتطلب أخذ بعض الاحتياطات مثل وضع قبعة أو مراهم خاصة

التمرين9:

يتطلب حل هذا التمرين الرجوع إلى اتفاقية كيوتو واستغلال بعض بنودها لحل الإشكالية المطروحة . .