

الاسم : اللقب : المدة : ساعة ونصف

امتحان شهادة التعليم المتوسط في مادة التربية الفنية التشكيلية دورة 2017

الوضعية البسيطة: (12ن)

- السند : صورة لشخصية + لوحة فنية .

س1) فنان تميز أسلوبه بالغرابة عرّف بالفنان . (5 ن) .



- الاسم :
- الجنسية:
- المهنة :
- أسلوبه الفني :

• اختر العنوان الصحيح للوحة (العلاق - الزرافة تحترق) :

س2) يمثل السند لوحة بعنوان نساء هايتي للفنان الفرنسي هنري ماتيس Henri Matisse (4 ن)



أ - سم أسلوب الفنان :

ب - لون اللوحة بألوان صارخة (حارة) فقط .

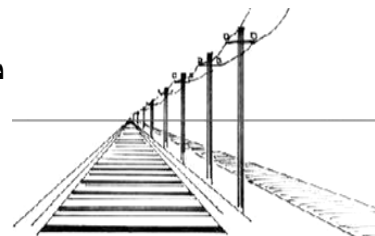
س3) - لاحظ النماذج ثم أجب بكلمة واحدة (3ن).

أ- هذا المشهد العلمي الفني يسمى :

ب - سم نوع الزخرفة :



(ب)



(أ)

ج - هذه تقنية :



(ج)

- الوضعية الإدماجية : (8 ن)

النص :

((الرسم ليس أن نرسم ما نراه ولكن أن نرسم ما نشعر به ونعبر عنه ونشرك فيه الآخرين))


السند :

نموذج للوحة تجريدية .


المهمة المطلوب تنفيذها :

- * إذا كانت الخطوط المنكسرة ترمز إلى الاضطراب والغضب - السند (1)
- 1 - عبّر عن هذا الشعور وذلك بتلوين المساحات بالألوان المناسبة .
 - 2 - استغل الخطوط المنحنية للدلالة عن الهدوء في الفضاء (ال فراغ) الآخر.
 - 3 - لَوّن مساحات العمل الذي أنجزته بألوان تعبّر عن الهدوء .

الخامات : المدور ، نصف دائرة ، أقلام التلوين .



فضاء الرسم



السند (1)

