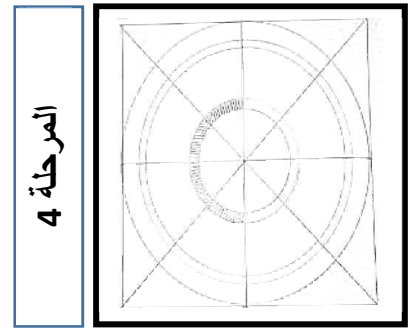

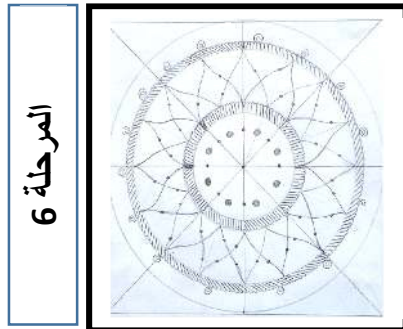
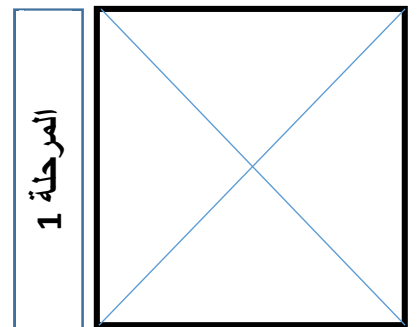
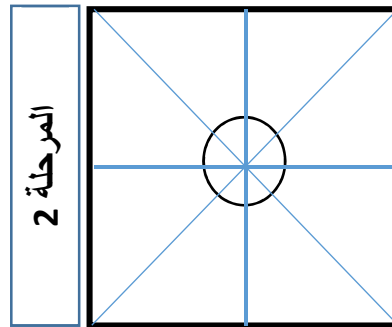
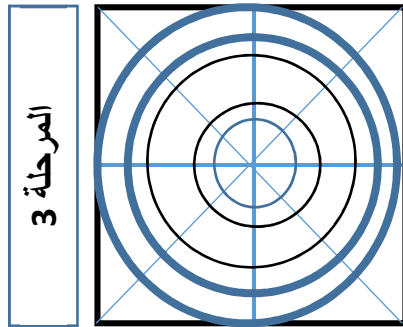


الزخرفة: تعني تزيين عنصر ما (حائط، وعاء، سلة، قماش....) بنموذج زخرفي مثل: مربعات،

مستطيلات، دوائر، أزهار، ورود، أشجار، عصافير، حيوانات

لرسم شكل زخرفي نعتمد على تركيب الأشكال الهندسية (مربع، دائرة، مثلث، مكعب، أسطوانة ...

❖ لاحظ مراحل تشكيل زخرفة هندسية:



الوضعية الأولى (25,8)

- (1) أرسم مربع طول أضلاعه يساوي 16 سنتيمتراً؟
- (2) بعد رسم قطرا المربع، تتشكل زاوية ما نوعها؟
- (3) أفتحُ المدور بطول 3 سنتيمترا، ثم أثبت إبرة المدور على نقطة تقاطع قطرا المربع ، وأرسم دائرة نصف قطرها يساوي 3 سنتيمتر ، كما يوضحه شكل المرحلة الثانية.
- (4) أكمل الرسومات الناقصة في المرحلة الثانية مراعيًا بذلك دقة القياسات؟
- (5) أفتحُ المدور بطول 3,5 سنتيمترا، ثم أثبت إبرة المدور على نقطة تقاطع قطرا المربع ، وأرسم دائرة نصف قطرها يساوي 3,5 سنتيمتر ، كما يوضحه شكل المرحلة الثالثة.
- (6) بنفس الطريقة أرسم دوائر نصف قطرها على الترتيب (6,5 و7 و8) سم كما هو مبين في المرحلة 3 .
- (7) أكمل رسم الزخرفة الهندسية كما هي مبينة في المراحل الرابعة، الخامسة والسادسة؟

الوضعية الثانية (75,1)

- (8) لون الزخرفة المحصل عليها مراعيًا بذلك اللون الجمالي للزخرفة الهندسية؟

الاجابة النموذجية لموضوع الامتحان الثالث للسنة الثالثة ابتدائي 2017

<u>العلامة</u>		<u>عناصر الاجابة</u>	رقم السؤال
<u>كاملة</u>	<u>مجزأة</u>		
<u>0,5</u>	<u>0,5</u>	رسم مربع طول أضلاعه يساوي 16 سنتيمتراً.	1
<u>0,5</u>	<u>0,25 × 2</u>	رسم قطرا المربع	2
<u>0,25</u>	<u>0,25</u>	<u>نوع الزاوية (زاوية قائمة)</u>	2
<u>0,25</u>	<u>0,25</u>	رسم دائرة نصف قطرها يساوي 3 سنتيمتر	3
<u>0,5</u>	<u>0,25 × 2</u>	إكمال الرسومات الناقصة كما في المرحلة الثانية	4
<u>0,5</u>	<u>0,5</u>	رسم دائرة نصف قطرها يساوي 3,5 ستيتمتر	5
<u>0,75</u>	<u>0,5 × 3</u>	سم دوائر نصف قطرها على الترتيب 6,5، 7، 8	6
<u>0,5</u>	<u>0,5</u>	إكمال رسم الزخرفة الهندسية.	7
<u>0,5</u>	<u>0,5</u>	الخطوط الموجودة بين الدائرتين (المرحلة الرابعة).	1-7
<u>2</u>	<u>0,25 × 8</u>	رسم أزهار المرحلة الخامسة	2-7
<u>0,5</u>	<u>0,5</u>	رسم نقاط داخل المثلثات المرحلة الخامسة	3-7
<u>0,5</u>	<u>0,5</u>	الخطوط الموجودة بين الدائرتين المرحلة السادسة	4-7
<u>0,5</u>	<u>0,5</u>	تكملة الأزهار للمرحلة السادسة	5-7
<u>0,5</u>	<u>0,5</u>	تكملة أزهار المرحلة السادسة فوق الدائرة الرابعة للمرحلة السادسة.	6-7
<u>8,25</u>		مجموع الوضعية الأولى	
الوضعية الثانية			
<u>1,75</u>	<u>1,75</u>	تلوين الزخرفة الهندسية	8
$\frac{10}{10}$		مجموع الوضعتين	

وزارة التربية الوطنية

المؤسسة: اختبار الثلاثي:

التلميذ(ة): القسم:

المادة: التاريخ:

أستاذ المادة: بولقرون هلال الرقم:

الرقم:

العلامة النهائية

10

ورقة الاجابة