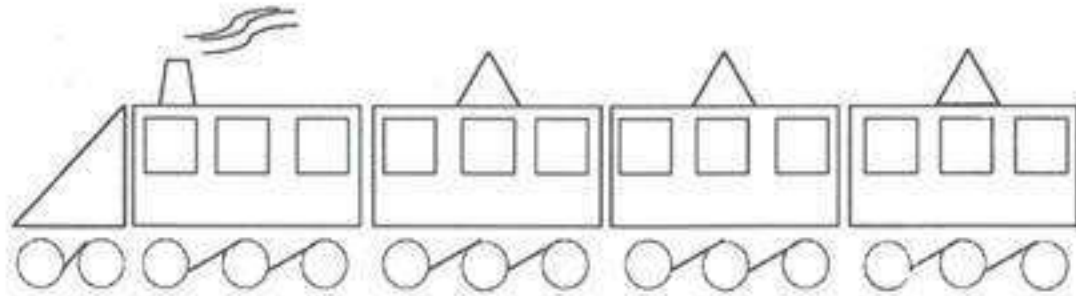


اللقب : .....	10	ابتدائية سماعين دحمان بالمويج	
الاسم : .....		السنة الدراسية : 2016 / 2017	
السلة الثانية ابتدائي	اختبار الفصل الثالث في مادة التربية التشكيلية		

3 نقاط

التمرين الأول



لون : المربعات بالأزرق ، المستطيلات بالأصفر ، الدوائر بالأخضر ، المثلثات بالأحمر .

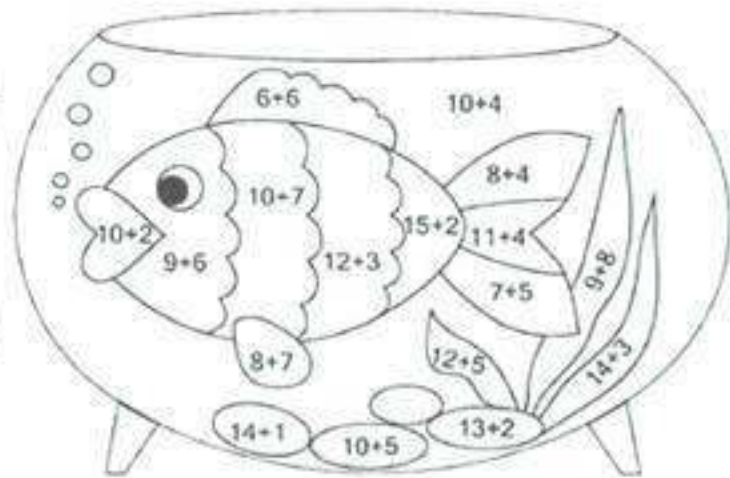
7 نقاط

التمرين الثاني

### أجد المساويات وألون حسب لون الناتج

-14

-12



-17

-15

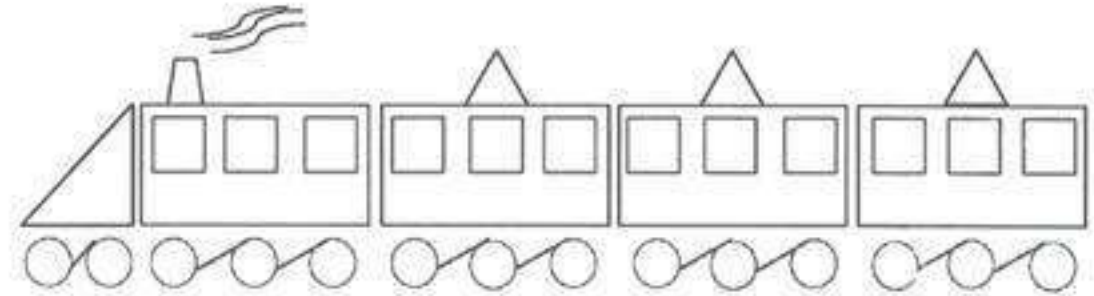
امضاء الولي

x

اللقب : .....	10	ابتدائية سماعين دحمان بالمويج	
الاسم : .....		السنة الدراسية : 2016 / 2017	
السلة الثانية ابتدائي	اختبار الفصل الثالث في مادة التربية التشكيلية		

3 نقاط

التمرين الأول



لون : المربعات بالأزرق ، المستطيلات بالأصفر ، الدوائر بالأخضر ، المثلثات بالأحمر .

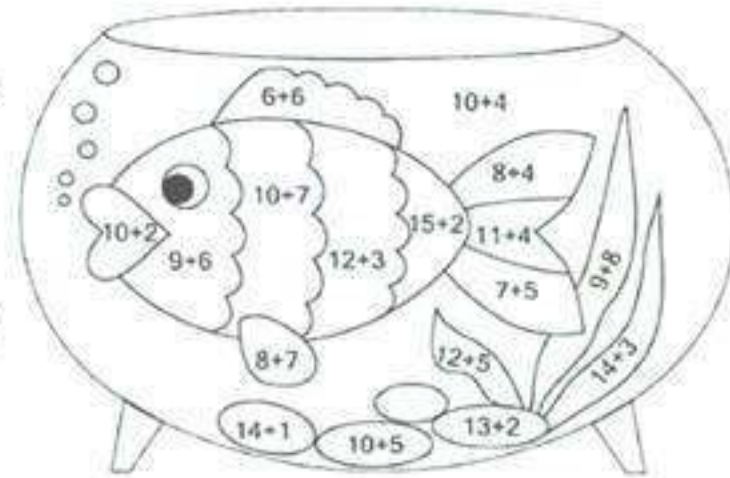
7 نقاط

التمرين الثاني

### أجد المساويات وألون حسب لون الناتج

-14

-12



-17

-15

امضاء الولي

x