

السنة: الأولى ابتدائي


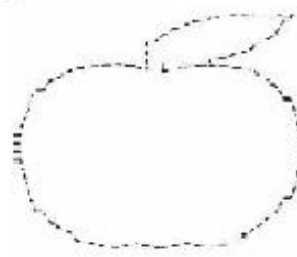

مدرسة: .....

السنة الدراسية: 2023/2022

الاسم واللقب: .....

اختبار الفصل الثاني في مادة التربية التشكيلية

النشاط 1: أكمل رسم الشكل باتباع النقاط ثم لونه بالألوان المناسبة:



النشاط 2: لاحظ الأرقام ثم لون بالألوان المناسبة:

