

تقويم في مادة العلمية





ألاحظ ثم أحوط الوسائل التي تعتمد في تشغيلها على الكهرباء باللون الأزرق (ن2)



ألاحظ ثم أصل كل صاحب مهنة بالأدوات التي يستعملها : (ن2)



أضع علامة × على السلوك الخاطئ : (ن3)



ألون السلوك الصحيح : (ن3)

(ن1.5)



(ن1.5)

