



المستوى: الأولي ابتدائي (1AP) جوان 2015

اختبار الفصل الثالث في مادة التربية العلمية

التمرين الأول: أضع (ص) أمام الإجابة الصحيحة و (خ) أمام الإجابة الخاطئة.

- شروق الشمس حدث يتكرر كل يوم (.....)

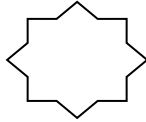
- عيد الأضحى حدث لا يتكرر (.....)

- النهار و الليل معاً يمثلان اليوم (.....)

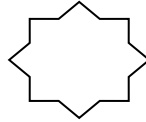
- التلميذ المجتهد لا ينظم وقته (.....)

التمرين الثاني: أرتب وجبات اليوم من 1 إلى 4 .

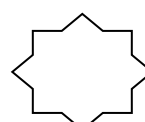
الفطور



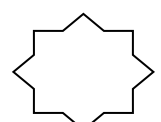
العشاء



اللمجة

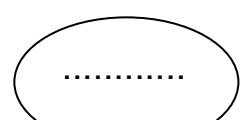
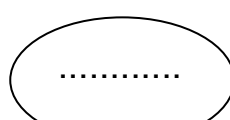
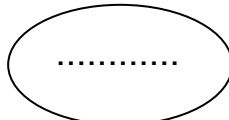
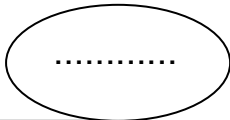



الغداء




التمرين الثالث: أكتب في الإطار المناسب الكلمة المناسبة: (ولود - بيوض) ثم

لون بالأحمر الحيوان المتوحش و بالأصفر الحيوان الأليف :



التمرين الرابع: (1) - أَضَعُ الْكَلِمَةَ الْمُنَاسِبَةَ (شَجَرَةٌ - شُجَيْرَةٌ - عُشْبٌ) .



.....
.....
.....
(2) - أَكْمِلْ وَضَعِ الْبَيِّنَاتِ (سَاقٌ - جُنُورٌ - أَوْرَاقٌ) .



التمرين الخامس: مَوَادُّ التَّنْظِيفِ كَثِيرَةٌ أَذْكَرُ اثْنَيْنِ مِنْهَا :

..... (1)-

..... (2)-

بالتوفيق

الصفحة 2/2

حي قعلول - برج البحري - الجزائر

Web site : www.ets-salim.com /021.87.16.89 :الفاكس : Tel-Fax : 021.87.10.51 :☎

تصحيح اختبار الفصل الثالث في مادة التربية العلمية 1AP

التمرين الأول : أضع (ص) أمام الإجابة الصحيحة و (خ) أمام الإجابة الخاطئة. (2ن)

- شروق الشمس حدث يتكرر كل يوم (...ص...)


- عيد الاضحى حدث لا يتكرر (...خ...)

- النهار و الليل معا يمثلان اليوم (...ص...)


- التلميذ المجتهد لا ينظم وقته (...خ...)

التمرين الثاني : أرتب وجبات اليوم من 1 إلى 4. (2ن)


الفطور




العشاء




اللمجة



الغداء




التمرين الثالث : أكتب في الإطار المناسب الكلمة المناسبة: (ولود – بيوض)
ثم لون بالأحمر الحيوان المتوحش و بالأصفر الحيوان الأليف : (2ن)



...بيوض...



...ولود....



...بيوض..



... ولود...

الصفحة 2/1


حي قعلول - برج البحري - الجزائر

Web site : www.ets-salim.com /021.87.16.89 : الفاكس : 021.87.10.51 : ☎

التمرين الرابع : 1) - أضع الكلمة المناسبة (شجرة - شجيرة - عشب) . (3ن)



.....شجرة.....



.....عشب.....



.....شجيرة.....

2) - أكمل وضع البيانات (ساق - جذور - أوراق) .



أوراق

ساق

جذور

التمرين الخامس : مواد التنظيف كثيرة أذكر إثنين منها (1ن)

(1) -.....الصابون.....

(2) -.....ماء جافيل.....

حي قعلول - برج البحري - الجزائر

Web site : www.ets-salim.com /021.87.16.89 : الفاكس - Tel-Fax : 021.87.10.51 : 