

مستوى : الأولى ابتدائي
الموسم الدراسي: 2016/2017

إمضاء الولي

x

الاسم :
اللقب :



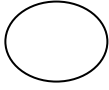
الأستاذة: بوللواح رزيقة
مدرسة : لخضر قوارف

العلامة

اختبار الفصل الثالث في التربية العلمية

السؤال الأول :

- ألاحظ الرسومات التالية وأكتب أسماءها ثم أرتبها حسب الطول :



السؤال الثاني:

صنف الأغذية حسب مصادرها بوضع x في الخانة المناسبة :

الغذاء	حيواني	نباتي
الفواكه والخضر		
الحليب ومشتقاته		
العجائن		
اللحوم والسمك		
البيض		

السؤال الثالث: أضع (ص) أمام الإجابة الصحيحة و(خ) أمام الخاطئة .

الأسد حيوان بيوض () وهو من الحيوانات المتوحشة () .

أقضي معظم أوقاتي في اللعب () ولا أراجع دروسي () .

لا أتكلم أثناء الشرح () وأنجز واجباتي يوميا () .

يتحول الثلج الى ماء عند وضعه في الثلاجة ()

حولنا توجد اجسام سائلة وأخرى صلبة ()