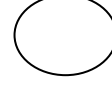

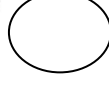

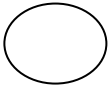


اختبار الفصل الثالث في التربية العلمية

السؤال الأول:

ألاحظ الرسومات التالية وأكتب أسماءها ثم أرتبها حسب الطول :



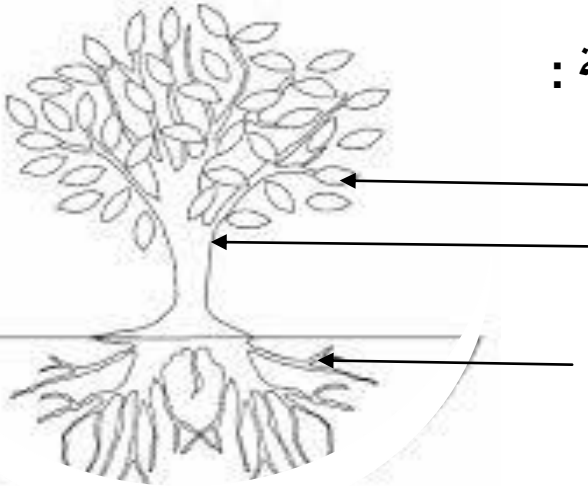
السؤال الثاني:

- أجب بـ«نعم» أو «لا»:

- تحتاج النبتة إلى الماء لنموها .
- يتكون النبات من جذور وساق فقط .
- تنمو النباتات وتزداد في الطول والتفرع .
- نستطيع تصنيف النباتات من حيث الطول .

السؤال الثالث:

أكتب البيانات على الرسم التالي ثم لونه بألوان مناسبة :



السؤال الرابع:

- أحوط الأدوات المدرسية :

