


المادة: التربية العلميّة
المستوى: الأول ابتدائي

الاسم واللقب:
التاريخ: 2024/03/06

اختبار الفصل الثاني

التمرين الأول:

ضع علامة (X) تحت الصورة التي تدلّ على تسارع دقات القلب.



التمرين الثاني:




مدرسة "الرجاء والتفوق" الخاصة

ضع اسم كل حيوان في الخانة المناسبة:
القطة - النمر - الفيل - الجمل - الكلب - الثعلب.

حيوانات متوحشة	حيوانات أليفة
.....
.....
.....

التمرين الثالث:

اربط بين الحيوان وطريقة تكاثره ثم بطبيعة غذائه.

لأحم

عاشب

ولود

بيوض

التمرين الرابع: مدرسة "الرجاء والتفوق" الخاصة

أكمل الفراغات بالكلمات التالية:

(يُنخَفِضُ، يَرْتَفِعُ، أُنْتَفَسُ)

عِنْدَمَا..... يَدْخُلُ الْهَوَاءُ جَسْمِي فَ..... صَدْرِي، وَعِنْدَمَا يَخْرُجُ

الْهَوَاءُ عَبْرَ أَنْفِي وَفَمِي..... صَدْرِي.


المادّة: التَّربِيَةِ الْعِلْمِيَّةِ
المستوى: الأوَّلِي ابتدائي

الاسم واللقب:
التَّاريخ: 2024/03/06

تصحیح اختبار الفصل الثَّاني

التَّمرين الأوَّل:

ضَع عَلامَةً (X) تَحْتَ الصُّورَةِ الَّتِي تَدُلُّ عَلَى تَسَارُعِ دَقَّاتِ الْقَلْبِ.



التَّمرين الثَّاني:

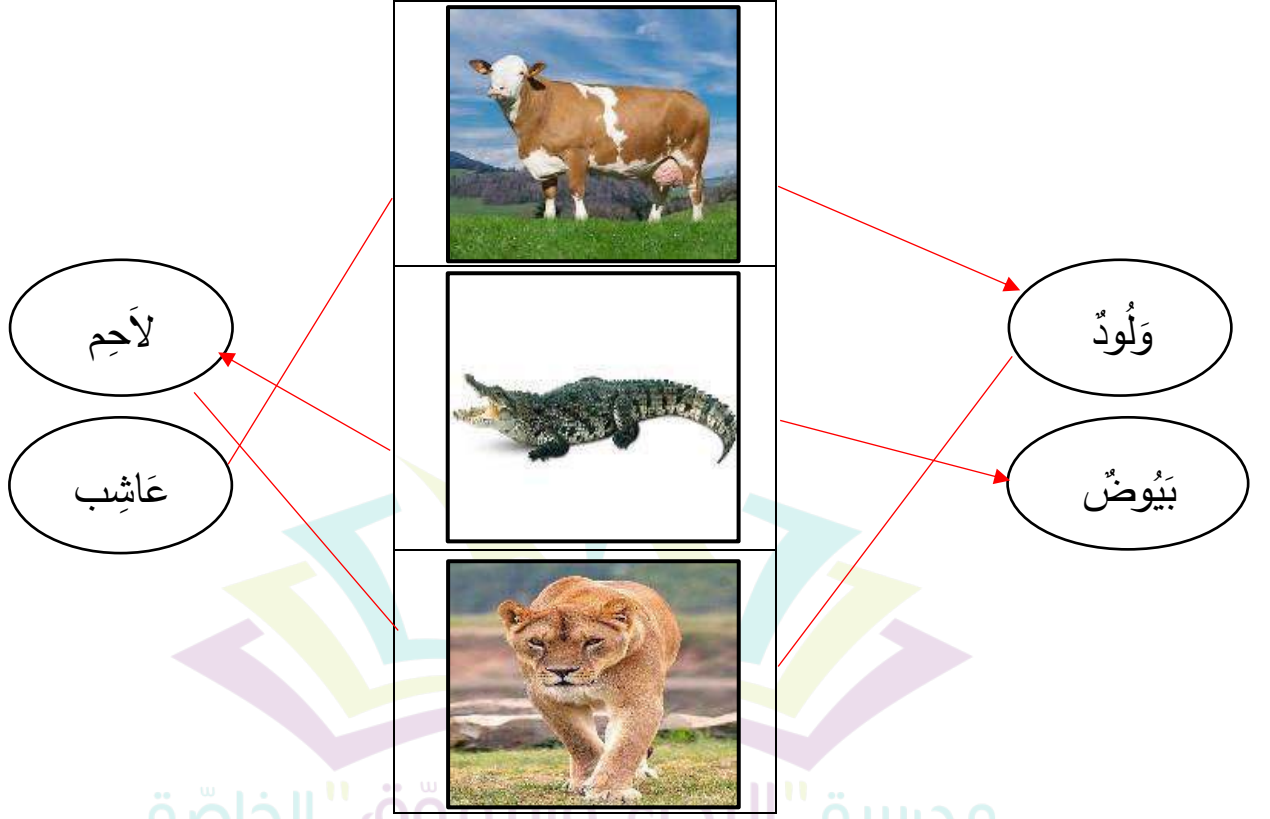
مدرسة "الرجاء والتفوق" الخاصة

ضَع اسْمَ كُلِّ حَيَوَانٍ فِي الْخَانَةِ الْمُنَاسِبَةِ:
القِطَّةُ - النَّمْرُ - الفِيلُ - الجَمَلُ - الكَلْبُ - التَّعَلْبُ.

حَيَوَانَاتٌ مُتَوَحِّشَةٌ	حَيَوَانَاتٌ أَيْفَةٌ
النَّمْرُ	القِطَّةُ
الفِيلُ	الجَمَلُ
التَّعَلْبُ	الكَلْبُ

التمرين الثالث:

اربط بين الحيوان وطريقة تكاثره ثم بطبيعة غذائه.



مدرسة "الربيع والسوق" الخاصة

Ecole Erradja wa Tafaouk
ÉCOLE PRIVÉE

التمرين الرابع:

أكمل الفراغات بالكلمات التالية:

(يُنخَفِضُ، يَرْتَفِعُ، أُنْتَفَسُ)

عِنْدَمَا أُنْتَفَسُ يَدْخُلُ الْهَوَاءُ جَسْمِي فَيَرْتَفِعُ صَدْرِي، وَعِنْدَمَا يَخْرُجُ الْهَوَاءُ عَبْرَ أَنْفِي وَفَمِي يَنْخَفِضُ

صَدْرِي.