

اختبار الفصل الثاني في مادة التربية العلمية

النشاط 1:

اربط كل صورة بالحالة المناسبة:



اللمس

الذوق

الشم

السمع

الرؤية

النشاط 2:

اكتب في الخانة الفارغة (س) إذا كان اسم الجسم سائلاً و (ص) إذا كان الجسم صلباً

.....	العطر	الحليب
.....	المطر	الخبز
.....	الطيشور	الجليد
.....	الحساء	القلم

النشاط 3:


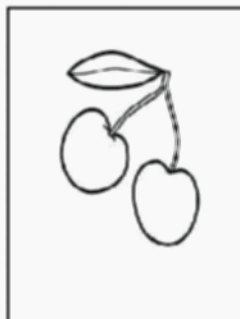
ارتب الأغذية حسب مصدرها في الجدول:

بَيْضٌ - خَبْزٌ - جُبْنٌ - لَحْمٌ - خُضْرٌ - فَوَاكِهٌ

مصدر نباتي	مصدر حيواني

النشاط 4:

أضع علامة (x) تحت الأجسام الصلبة التي تتحول إلى سائلة



.....

.....

.....


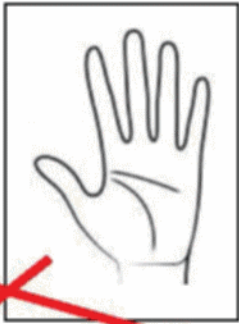

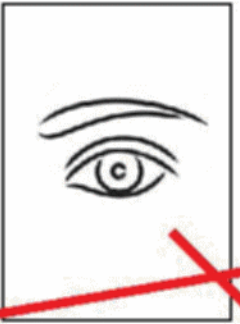

.....

.....

تصحيح اختبار الفصل الثاني في مادة التربية العلمية

النشاط 1: 2,5

اربط كل صورة بالحالة المناسبة:

				
اللمس	الذوق	الشم	السمع	الرؤية

النشاط 2: 2

اكتب في الخانة الفارغة (س) إذا كان اسم الجسم سائلاً و (ص) إذا كان الجسم صلباً

س	العطر	س	الحليب
س	المطر	ص	الخبز
ص	الطباشير	ص	الجلد
س	الحساء	ص	القلم

النشاط 3: 3

ارتب الأغذية حسب مصدرها في الجدول:
بَيْضٌ - خَبْزٌ - جَبْنٌ - لَحْمٌ - خُضْرٌ - فَوَاكِهٌ

مصدر نباتي	مصدر حيواني
خَبْزٌ خُضْرٌ فَوَاكِهٌ	بَيْضٌ لَحْمٌ جَبْنٌ

النشاط 4: 2,5

أضع علامة (x) تحت الأجسام الصلبة التي تتحول إلى سائلة

				
x			x	x